



UNIVERSIDADE FEDERAL DO RIO DE JANEIRO
Concurso de Acesso aos Cursos de Graduação
TESTE DE HABILIDADE ESPECÍFICA

CURSOS: Escultura - Gravura - Pintura - Lic. em Educação Artística
(hab. Artes Plásticas e Desenho)

2 0 0 4

INSTRUÇÕES:

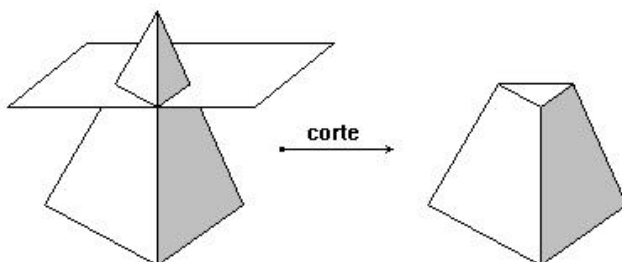
- Você terá quatro horas para fazer este teste;
 - Desenvolva cada questão em uma folha. Trabalhe com cuidado: as folhas não serão substituídas;
 - Escreva o seu número de inscrição nas folhas em branco;
 - Use a técnica de sua preferência e o material previsto no Edital (lápiz 6B (macio), lápis cera, hidrocor, lápis de cor ou pastel (bastão)).
-

Questão 1

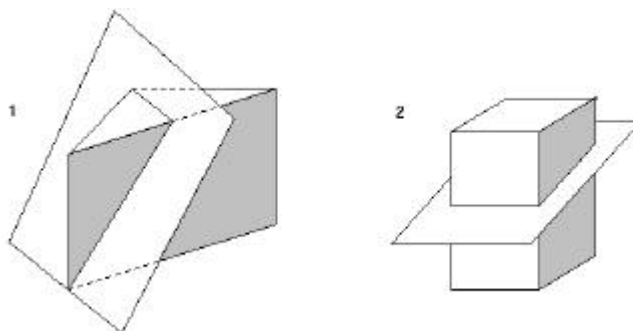
Reproduza o modelo exposto na sala do teste.

Questão 2

Observe o seguinte exemplo:

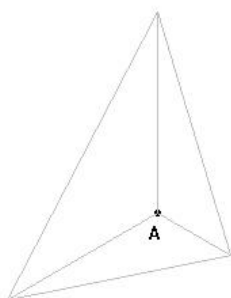


Como no exemplo dado, retire a parte de menor volume a partir do corte feito na peça e represente o sólido resultante:

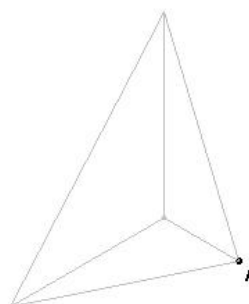
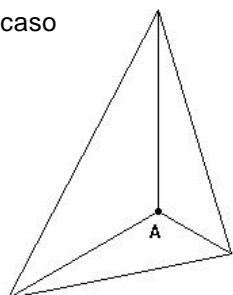


Questão 3

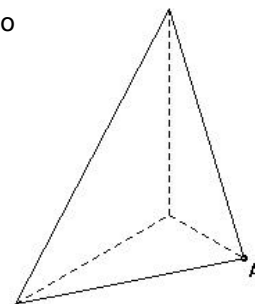
Observe os dois exemplos a seguir. Em cada caso é dado o traçado de uma peça com um de seus vértices (A) assinalado. Supondo que o vértice A da peça representada seja visto por você, pede-se que você reforce as arestas que são visíveis e traceje as que não ficam visíveis. Em cada caso, as respostas corretas estão à direita.



1º caso



2º caso



Na folha de resposta destinada à questão 3 proceda como no exemplo acima e, considerando o ponto (A) assinalado, reforce as arestas que são visíveis e traceje as não visíveis.

QUESTÃO 3 - RESPOSTA:

