

2019

1º Semestre



Módulo Discursivo
História e Geografia

VESTIBULAR FGV

GRADUAÇÃO EM ADMINISTRAÇÃO PÚBLICA – SP

Instruções para as Provas de HISTÓRIA E GEOGRAFIA:

- Confira se seu nome e RG estão corretos.
- Não se esqueça de assinar a capa deste caderno, no local indicado, com caneta azul ou preta.
- A duração total do Módulo Discursivo é de 4h.
- Antes de iniciar a prova, verifique se o caderno contém 5 questões, sendo 2 questões de História e 3 questões de Geografia, e se a impressão está legível.
- Verifique também se a última folha deste caderno contém as imagens ampliadas e em cores das questões 2, 3, 4 e 5.
- As respostas deverão ser redigidas nos espaços destinados a elas, com letra legível e, obrigatoriamente, com caneta de tinta azul ou preta.
- Não se identifique em nenhuma das folhas do corpo deste caderno, pois isso implicará risco de anulação.
- O candidato só poderá deixar definitivamente o local das provas depois de decorridas duas horas de seu início.
- Não haverá substituição deste caderno.
- O candidato é responsável pela devolução deste caderno ao fiscal de sala.
- Adverte-se que o candidato que se recusar a entregar este caderno, dentro do período estabelecido para realização das provas do Módulo Discursivo, terá automaticamente sua prova anulada.

NOME:

IDENTIDADE:

INSCRIÇÃO:

LOCAL:

DATA: 02/12/2018

SALA:

ORDEM:

Assinatura do Candidato: _____

HISTÓRIA

1 Leia o excerto abaixo e depois responda às questões:

É falso incriminar essas entidades abstratas – indistintamente chamadas de Corão ou “Islamismo” – como uma ideologia de combate; esta funciona, de fato, como uma reação dialética às pressões externas sobre sociedades impedidas, desde o século XIX, pelo menos, de produzir sua própria história por seus próprios meios, uma história sua que não seja interrompida, falseada, reorientada pelos desejos das potências estrangeiras e abertamente conquistadoras. Uma dialética da dominação, da agressão política e cultural e do controle geopolítico, de um lado, e da exasperação do sentimento de fraqueza, da humilhação, do atraso, da opressão, da derrota, do outro. Nota-se que esta dialética, apesar de evidente, jamais é interpretada desta forma pelo lado ocidental (...).

Mohammed Arkoun, “Guerra Arbitrária: Islamismo e modernidade”. Le Monde Diplomatique Brasil, abril de 2003.
<http://diplomatie.org.br/islamismo-e-modernidade/> Acesso em 2/8/2018

- A** Aponte dois aspectos do processo de formação do Islã no século VII na Península Arábica.
- B** Explique as características da dominação britânica no mundo islâmico no século XIX.
- C** Identifique os principais interesses econômicos das potências capitalistas no Oriente Médio no século XX.


RESPOSTA**NOTA**

HISTÓRIA

2 Durante o Nazismo, determinadas obras de arte foram definidas como “degeneradas” e censuradas pelas autoridades alemãs do período. Em 1937, em Munique, chegou-se a organizar uma exposição, cujas obras deveriam servir de exemplo negativo da arte que deveria estar de acordo com os ideais de beleza e as concepções ideológicas nazistas.


Observe as duas imagens ao lado.

Imagem 1



Otto Dix, Aleijados de Guerra, nanquim, MOMA, 1920

Imagem 2



Ernst Kirchner, A bailarina, óleo sobre tela, 1914, Museum Folkwang, Essen

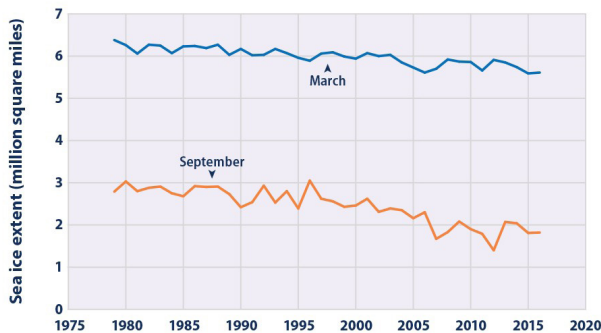
- A Apresente duas características do ideal de beleza artística do nazismo.
- B Aponte, na imagem 1, os motivos que teriam levado os nazistas a classificá-la como arte degenerada.
- C Aponte, na imagem 2, os motivos que teriam levado os nazistas a classificá-la como arte degenerada.

RESPOSTA

| | |
|--|-------------|
| | NOTA |
| | |
| | |
| | |
| | |
| | |
| | |
| | |
| | |
| | |
| | |
| | |
| | |
| | |
| | |
| | |
| | |
| | |
| | |

GEOGRAFIA

3 Observe o gráfico sobre a média mensal da extensão do mar de gelo no Ártico e as fotos de satélite, a seguir.



Fonte: Data source: NSIDC, 2016.


Em janeiro de 2018, um cargueiro russo fez história: concluiu pela primeira vez uma viagem comercial, em pleno inverno, sem usar um quebra-gelo. Com o degelo abrindo novas rotas de navegação, a região ártica, antes ignorada, pode tornar-se a “nova fronteira econômica”, mas, também, palco de tensões globais.

O GLOBO, 17/03/2018

A partir das informações acima,

A relacione a menor extensão da calota polar ártica à ação antrópica;

B apresente dois fatores que motivam as disputas pela “nova fronteira econômica”.

**RESPOSTA**

NOTA

GEOGRAFIA

4

Desde a década de 1960, o avanço acelerado da globalização – ou seja, o mundo visto como um conjunto único de atividades interconectadas que não são estorvadas pelas fronteiras locais – provocou um profundo impacto político e cultural, sobretudo na sua forma atual de um mercado global livre e sem controles.

HOBBSBAWN, Eric. Globalização, democracia e terrorismo.
São Paulo: Companhia das Letras, 2007.



Protestos contra a globalização (Paris, 2011).

A partir do texto e da figura,

A apresente três componentes do processo de globalização;

B explique dois exemplos de funcionamento da globalização financeira;

C analise os impactos da globalização, tendo como referência a afirmação: *Todavia, podemos pensar na construção de um outro mundo, mediante uma globalização mais humana.*

RESPOSTA

| | |
|--|------|
| | NOTA |
| | |
| | |
| | |
| | |
| | |
| | |
| | |
| | |
| | |
| | |
| | |
| | |
| | |

VISTO CORRETOR

GEOGRAFIA

5 Leia o texto e analise o mapa.

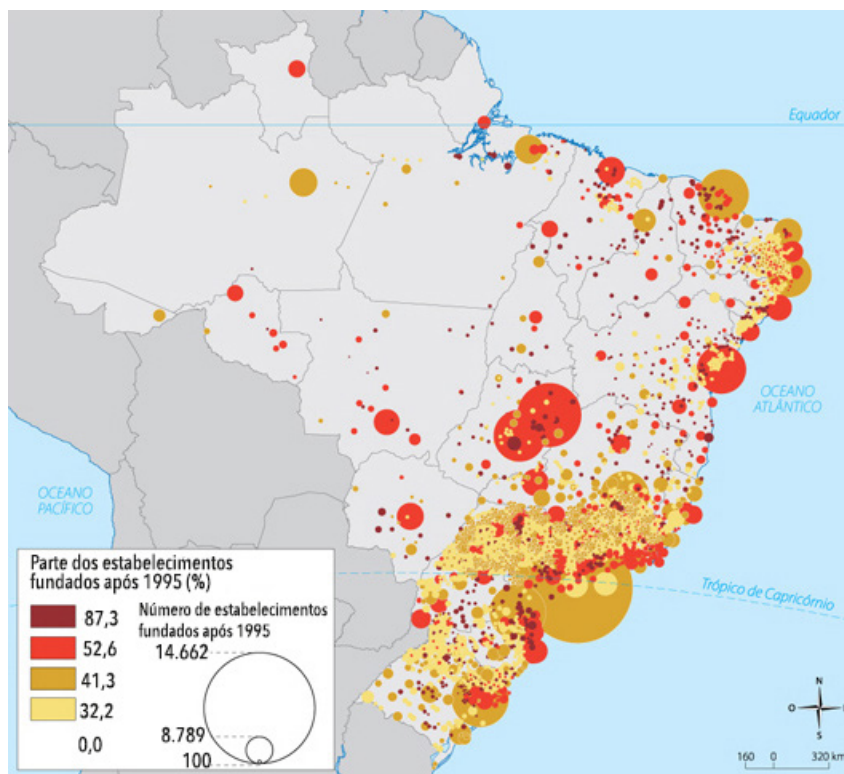
A distribuição espacial da produção industrial no Brasil tem mudado significativamente nas últimas décadas. O resultado mais notável deste processo é um relativo declínio da participação da Região Metropolitana de São Paulo. A partir de 1990, um processo de desconcentração ou polarização reversa está em andamento, apesar de o crescimento estar concentrado em poucos e selecionados polos de crescimento que vêm capturando a maior parte das novas atividades industriais.

A partir do texto e do mapa,

A indique fatores responsáveis pela concentração espacial no "triângulo RJ/BH/SP", até as décadas de 1970/80;

B apresente dois fatores que expliquem o relativo declínio da participação da Região Metropolitana de São Paulo, a partir de 1990;

C explique duas razões para a captura das atividades industriais pelos novos polos de crescimento.



IBGE, 2005.

RESPOSTA

NOTA

VESTIBULAR  FGV

www.fgv.br/processoseletivo

(11) 3799-7711 (São Paulo e grande São Paulo)

0800 770 0423 (demais localidades)


QUESTÃO 02

Imagem 1



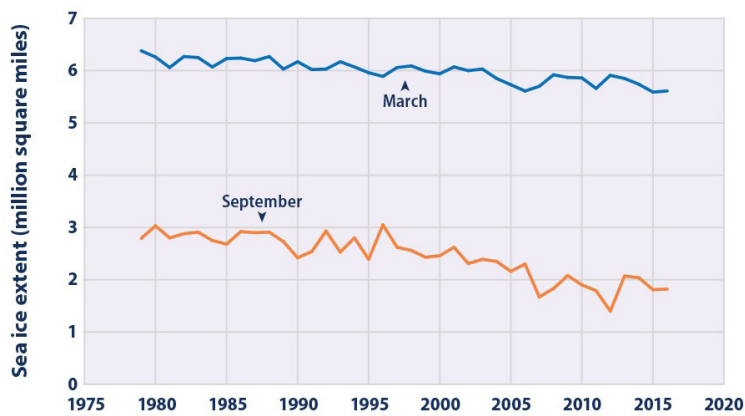
Otto Dix, Aleijados de Guerra, nanquim, MOMA, 1920

Imagem 2



Ernst Kirchner, A bailarina, óleo sobre tela, 1914, Museum Folkwang, Essen

QUESTÃO 03



Fonte: Data source: NSIDC, 2016.



QUESTÃO 04



Protestos contra a globalização (Paris, 2011).

QUESTÃO 05

