

Exercícios com Gabarito de Geografia Ásia - Sudeste Asiático

1) (UFU-2006) A partir da década de 1970, quatro países asiáticos surpreenderam o mundo com uma expressiva industrialização. Devido às características desse processo e à localização de Cingapura, Hong Kong, Coréia do Sul e Taiwan, estes foram denominados Tigres Asiáticos. Recentemente, esses quatro países expandiram sua economia para países vizinhos do Sudeste Asiático, agora denominados de novos Tigres Asiáticos.

Sobre a economia desses países, analise as afirmativas abaixo.

- I. Nos novos Tigres, devido à mão-de-obra extremamente qualificada e barata, foram instaladas indústrias de produtos de informática, microeletrônica, *hardware* e *software*.
 - II. Além dos investimentos dos quatro Tigres Asiáticos, os novos Tigres passaram a fazer parte das redes de negócios de empresas dos Estados Unidos, Japão e de outros países desenvolvidos.
 - III. Para produzir mercadorias sob encomenda, criadas e planejadas em outros lugares do mundo, surgiram milhares de pequenas empresas em cada um desses novos países.
 - IV. As reformas políticas, sociais e econômicas implantadas e o aumento do mercado interno de consumo fortaleceram o desenvolvimento dos novos Tigres.
- Marque a alternativa que apresenta somente afirmativas corretas.
- a) II e III
 - b) I e II
 - c) II e IV
 - d) I, II e III

2) (Cesgranrio-1994) Analise as características a seguir.

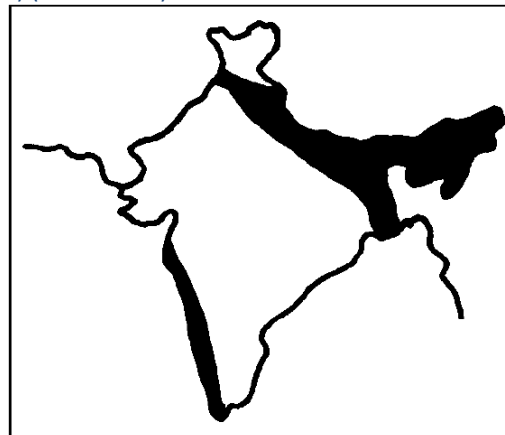
- I - Tem sua produção voltada quase que exclusivamente à rizicultura inundada.
 - II - Baseia-se no trabalho intensivo de grandes contingente de mão-de-obra, que visam à subsistência.
 - III - Utiliza técnicas tradicionais, cuja produtividade consegue, muitas vezes, superar as de outras regiões, onde há o emprego de mecanização e outros expedientes ditos modernos.
 - IV - Demonstra a possibilidade de realização de uma agricultura milenar, compatível com as condições ambientais, sem gerar, portanto, desequilíbrios, como a erosão dos solos.
- Pode-se concluir que essas características se referem à agricultura que se realiza na região:
- a) da Floresta Equatorial Africana.
 - b) do Sudeste Asiático.
 - c) do Meio-Oeste dos E.U.A.
 - d) do Litoral Mediterrâneo Europeu.

e) da Planície Central Australiana.

3) (UECE-2000) Antiga colônia portuguesa até 1975, passando para o domínio da Indonésia, com a desaprovação da ONU, é formada por 800.000 habitantes numa área de 15.000 km². Depois de um vitorioso plebiscito em 30/08/99, as milícias da Indonésia massacraram os nativos, exigindo ação da ONU, com a participação de tropas brasileiras. Identifique essa área de guerra localizada provocada pelo imperialismo:

- a) Ilha de Bornéu, próximo às Filipinas
- b) Timor-leste, ao norte da Austrália
- c) Ilhas de Molucas, cortada pela linha do equador
- d) Ilha de Bali, entre os Oceanos Índico e Pacífico

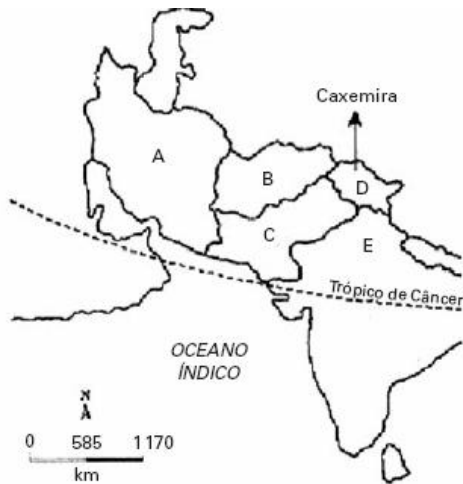
4) (Mack-2001)



As áreas destacadas no mapa da Índia, apresentam os maiores índices de precipitações do país (2000mm/ano). Esse fenômeno explica-se:

- a) pela presença de vegetação florestal, responsável pelo processo de evapotranspiração.
- b) pela proximidade do oceano, responsável pela atuação de massas úmidas.
- c) pela presença de grandes rios e de florestas-galerias.
- d) pelo relevo predominante de planícies de baixas altitudes.
- e) pela presença de barreiras orogênicas que dificultam a penetração de umidade para o interior.

5) (Mack-2006) Com base no mapa abaixo, faça uma análise das afirmações a seguir.



- I. O país **A**, em 2002, foi nominalmente acusado de ser integrante do **eixo do mal** (em conjunto com Coreia do Norte e Iraque), pelo governo dos Estados Unidos, devido à desconfiança de ter realizado investimentos em projetos para produção de armas nucleares.
- II. Com os atentados de 11 de setembro, os Estados Unidos exigiram que o país **B**, por intermédio do Taliban, entregasse Osama Bin Laden, acusado de ser o grande mentor e mandante dos ataques.
- III. Com a independência em 1947 e a saída das tropas francesas, os antigos conflitos entre muçulmanos e hindus vieram à tona. Dessa forma, a Índia colonial foi dividida em dois países: Paquistão (país **C**), com população predominantemente muçulmana, e Índia (país **E**), de maioria hinduísta. Na região fronteiriça do norte, encontramos uma grande tensão entre os dois países pela disputa da Caxemira.
- É correto o que se afirma em:
- apenas.
 - I e II, apenas.
 - II, apenas.
 - III, apenas.
 - I, II e III.

- 6) (UNICAMP-2009) Em 1883, a violenta erupção do vulcão indonésio de Krakatoa riscou do mapa a ilha que o abrigava e deixou em seu rastro 36 mil mortos e uma cratera aberta no fundo do mar. Os efeitos da explosão foram sentidos até na França; barômetros em Bogotá e Washington enlouqueceram; corpos foram dar na costa da África; o estouro foi ouvido na Austrália e na Índia (Simon Winchester. Krakatoa — o dia em que o mundo explodiu. São Paulo: Objetiva, contracapa, 2003).
- Explique por que no sudeste da Ásia, onde se localiza a Indonésia, há ocorrência de vulcões, diferentemente do que ocorre no território brasileiro.
 - Alguns vulcões, como o Krakatoa, são extremamente explosivos, enquanto outros, como o Kilauea, no Havaí, não apresentam fortes explosões. Por que isso ocorre?

- 7) (UFJF-2000) Em 30 de agosto de 1999, com mais de 90% de participação no referendo e 78,5% de votos, o povo

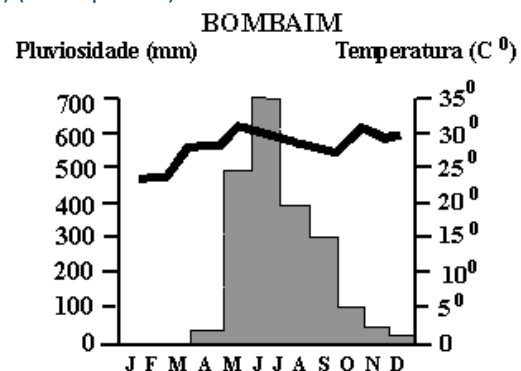
timorense rejeitou a autonomia proposta pela Indonésia, escolhendo, assim, a independência formal.



Fonte: MAGNOLI et al. (1998)

- Sobre este fato é correto afirmar, EXCETO:
- a porção ocidental de Timor, com capital em Kupang, pertence à República da Indonésia. A porção oriental, com capital em Dili, pertencia a Portugal desde 1586; com a Revolução de 25 de abril de 1974, que restaurou a democracia em Portugal, consagrou-se o respeito pelo direito à autodeterminação das colônias portuguesas;
 - a pretexto de proteger seus cidadãos, a Indonésia invade a parte leste da ilha e promove perseguição aos simpatizantes da organização partidária Fretilin; recebe o apoio tácito dos Estados Unidos, que enxergavam a Fretilin como de orientação marxista;
 - as diferenças culturais (religião e língua, principalmente) seriam uma das principais razões que explicam a recusa da integração dos timorenses à Indonésia. Em virtude da luta pela independência e defesa dos direitos humanos, o jornalista Ramos Horta e o bispo D. Nimenes Belo receberam o Nobel da Paz, em 1996;
 - no governo de Suharto, a política externa da Indonésia era pautada na aproximação com os países capitalistas do Ocidente; por isso, a população tornou-se católica, em sua maioria, e almejava a integração de Timor, com a finalidade de eliminar a influência dos muçulmanos, que poderia dificultar a aproximação com o Ocidente.

- 8) (Vunesp-1997)



O gráfico representa a distribuição da temperatura e da pluviosidade em Bombaim, Índia. Fonte: Estienne, Pierre et Godard Climatologie - Paris - 1970

Assinale a alternativa que indica o tipo climático característico da área onde se localiza a referida cidade.

- a) Monçônico.
- b) Semi-árido.
- c) Temperado.
- d) Mediterrâneo.
- e) Equatorial.



9) (FGV-2000) O sistema agrícola denominado Agricultura Irrigada ou de Jardinagem, praticado principalmente no Sudeste da Ásia, apresenta:

- a) rizicultura nos vales dos rios e encostas / mão-de-obra numerosa / grande subdivisão das pequenas propriedades / cuidados manuais com solo e plantas.
- b) monocultura do chá nas planícies fluviais / mecanização / grande subdivisão das pequenas propriedades / seleção de sementes e mudas.
- c) rizicultura nos vales dos rios e encostas / mecanização / seleção de sementes e mudas / produção para o mercado externo.
- d) plantação de seringueiras nas planícies e encostas / mão-de-obra numerosa / grandes propriedades / produção para o mercado externo.
- e) monocultura do chá nas planícies fluviais / pequena mecanização / grandes propriedades / produção para o mercado interno e externo.

10) (Vunesp-2000) O sistema de jardinagem, também chamado de agricultura de quinta, caracteriza o Sudeste Asiático e é considerado intensivo, mesmo sem o uso de modernas tecnologias. Cada agricultor conta com uma pequena área para o plantio, principalmente de arroz, dedicando-se a ele integralmente. Dois fatores associados caracterizam esse sistema:

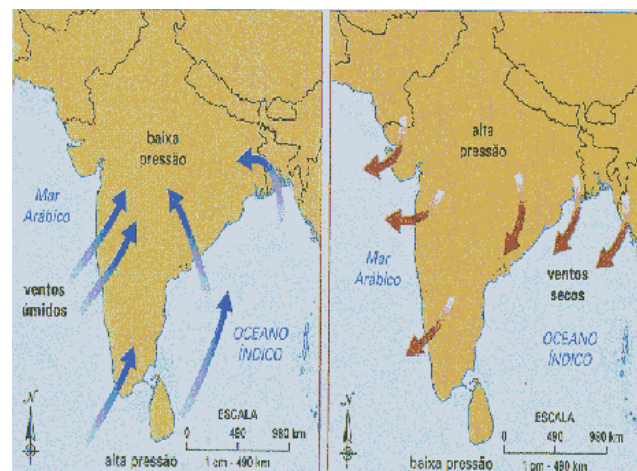
- A) mão-de-obra escassa; relevo de montanha.
- B) excesso de mão-de-obra; escassez de espaço para plantio.
- C) plantio em curvas de nível; mão-de-obra especializada.
- D) cooperativismo agrícola; lucratividade.
- E) abundância de espaço para cultivo; fazendas comunitárias.

11) (UFSCar-2001) Observe a paisagem para responder à questão.

Assinale a alternativa que identifica, corretamente, a área e o uso do solo apresentado na paisagem.

- A) Centro-Norte da Europa / cultivo de trigo.
- B) Norte da África / cultivo de milho.
- C) Oeste da América do Sul / cultivo de soja.
- D) Leste e Nordeste da Rússia / cultivo de trigo.
- E) Sul e Sudeste da Ásia / cultivo de arroz.

12) (UFJF-1999) Observe as figuras:



Fonte: Adaptado de The great world atlas. New York, American Map Corporation, 1989. Apud MOREIRA, Igor. Construindo o espaço do homem 1. São Paulo: Ática, 1998.

Elas representam, respectivamente:

- a) I: monções de verão; II: monções de inverno;
- b) I: ação das massas tropicais do Índico durante a primavera; II: ação das massas subtropicais do Índico no outono;
- c) I: ventos alísios de sudeste; II: ventos alísios de noroeste;
- d) I: brisa diurna; II: brisa noturna.

13) (UFSCar-2003) Observe o mapa



O país destacado no mapa viveu cinco séculos de domínio português e mais 25 anos de ocupação indonésia, até a sua independência, definida por plebiscito, em 1999. Após essa data, esteve sob intervenção da ONU, que realizou a administração provisória do país durante dois anos, obrigando a Indonésia a acatar a autonomia política da nova república. Esses fatos demonstram que

- a) o confronto entre Portugal e Indonésia para manter o domínio sobre esse país exigiu que a ONU interviesse para garantir a opção socialista escolhida no plebiscito.
- b) permaneceram interesses colonialistas, durante o século XX, mesmo que organismos supra-nacionais, como a ONU, tenham sido criados para garantir a autonomia política.
- c) países pequenos e atrasados, quando obtêm independência política, sempre ficam sob tutela da ONU, que tem como principal objetivo ensiná-los a se auto-governar.
- d) organismos supra-nacionais, como a ONU, defendem a permanência de relações do tipo colonial, desde que essas relações não impliquem em conflitos internacionais.
- e) a ONU foi criada quando predominavam relações coloniais, para defender o fim dessas relações entre as nações, auxiliando a independência das colônias.

14) (UEMG-2006) Os chamados “Tigres Asiáticos” são pequenos países industrializados do Extremo Oriente, exportadores de produtos eletrônicos e brinquedos, que atingiram elevados níveis de industrialização, na segunda metade do século XX.

São fatores econômicos que favoreceram o desenvolvimento alcançado por esses países,

EXCETO:

- a) Investimento de capital estrangeiro, principalmente alemão e japonês.
- b) Exploração da força de trabalho, relativamente barata.
- c) Modelo econômico que enfatiza o “equilíbrio” social e a hierarquia.
- d) Economias voltadas fundamentalmente para o mercado externo.

15) (Mack-2004) País localizado na costa leste da península da Indochina, no sudeste da Ásia, seu território é coberto por florestas tropicais e por planícies alagadas nos deltas dos Rios Vermelho e Mekong, onde há extensas plantações de arroz, que o fazem o segundo maior exportador do mundo. Há também o cultivo de café, cacau, pimenta, cana-de-açúcar e seringueira para a obtenção do látex.

Na década de 70, o país foi oficialmente reunificado, sob o regime comunista, aliado da ex-U.R.S.S..Atualmente, o governo adota uma política que combina liberalização econômica ao regime de partido único; porém, o país vive com seqüelas dos bombardeios norte-americanos com desfolhantes químicos “agente laranja”, que destruíram grandes áreas agrícolas e de florestas, ainda não recuperadas, e das minas terrestres não detonadas. O texto anterior identifica qual país asiático?

- a) Cambodja.
- b) Indonésia.
- c) Coréia.
- d) Vietnã.
- e) Laos.

16) (UFSCar-2002) Relacione as duas colunas, que dizem respeito ao Sul da Ásia.

1. Ventos que provocam chuvas e inundações no verão.	() Mianmar.
2. Antigo Ceilão, fica numa ilha ao sul da Índia.	() Bangladesh.
3. Chamava-se Birmânia até o final dos anos 1980.	() Paquistão.
4. O segundo país muçulmano em população fica ao sul do Afeganistão e a oeste da Índia.	() Monções.
5. País com território montanhoso, localiza-se entre a China e a Índia.	() Sri Lanka.
6. Era uma parte do Paquistão e tornou-se independente em 1971.	() Butão.

A ordem correta da numeração da coluna da direita, de cima para baixo, é

- (A) 2, 3, 5, 1, 4 e 6.
- (B) 2, 6, 4, 1, 3 e 5.
- (C) 3, 4, 6, 1, 5 e 2.
- (D) 3, 6, 4, 1, 2 e 5.
- (E) 4, 2, 3, 5, 6 e 1.

17) (Fatec-1995) Relacione os chamados "Tigres Asiáticos" com os itens a seguir:

1. Indonésia, Índia, Laos e China.
2. Área de influência dos capitais japoneses.
3. Subdesenvolvimento com base industrial.
4. Área de influência dos capitais norte-americanos.
5. Taiwan, Coréia do Sul, Cingapura e Hong-Kong.
6. Subdesenvolvimento com base agrária.
7. Área de influência dos capitais ingleses.
8. Desenvolvimento auto-centrado.
9. Vietnã, Irã, Afeganistão e Paquistão.

Na caracterização dos chamados "Tigres Asiáticos" os itens pertinentes são:

- a) 1, 6 e 7.
- b) 5, 6 e 7.
- c) 4, 8 e 9.
- d) 2, 3 e 9.
- e) 2, 3 e 5.

18) (Fuvest-2001) Sobre o modelo de industrialização implementado em países do Sudeste Asiático, como Coréia do Sul e Taiwan e o adotado em países da América Latina, como a Argentina, o Brasil e o México, pode-se afirmar que:

- a) nos países do Sudeste Asiático, a participação de capital estrangeiro impediu o desenvolvimento de tecnologia local, ao passo que, nos países latino-americanos, ela promoveu esse desenvolvimento.
- b) nos dois casos, não houve participação do Estado na criação de infra-estrutura necessária à industrialização.
- c) nos países do Sudeste Asiático, a organização dos trabalhadores, em sindicatos livres, encareceu o produto final, ao passo que, nos países latino-americanos, a ausência dessa organização tornou os produtos mais competitivos.
- d) nos dois casos, houve importante participação de capital japonês, responsável pelo desenvolvimento tecnológico nessas regiões.
- e) nos países do Sudeste Asiático, a produção industrial visou à exportação, ao passo que, nos países latino-americanos, a produção objetivou o mercado interno.

19) (PUC - SP-2006)



Uma das 36 gravuras da série Fuji, elaboradas entre 1823 e 1829, mostra um tsunami

Fonte: Wikipédia

Um **tsunami** (do japonês, *onda de porto*) é uma onda (ou uma série delas) que ocorre após perturbações abruptas que deslocam verticalmente a coluna de água.

Sabe-se que esse fenômeno pode ser ocasionado

- A) por derretimento abrupto de gelo das calotas polares.
- B) por movimentos sísmicos na crosta oceânica.
- C) pelo aquecimento rápido da atmosfera provocado pelo efeito estufa.
- D) pelo aquecimento de águas oceânicas profundas.
- E) pela posição da Lua em relação à Terra, alterando o fluxo das marés.

GABARITO

1) Alternativa: A

2) Alternativa: B

3) Alternativa: B

4) Alternativa: E

5) Alternativa: B

6) a) O sudeste da Ásia localiza-se na região de contato da Placa Indiana com a Placa do Pacífico. O atrito entre essas placas origina uma zona de alta instabilidade onde

ocorrem numerosos e intensos terremotos, maremotos e erupções vulcânicas. O Brasil, ao contrário, localiza-se no meio da Placa Sul-americana, zona de relativa estabilidade.

b) Os vulcões podem expelir magma bastante ácido, com elevada percentagem de sílica e com solidificação rápida (pouco fluida), o que leva à obstrução de suas chaminés e os torna explosivos, como o Krakatoa. Ao contrário, os vulcões como o Kilauea têm magma básico, com pouca sílica, o que permite que a lava escorra rapidamente e se espalhe, criando vulcões mais baixos e menos explosivos.

7) Alternativa: D

8) Alternativa: A

9) Alternativa: A

10) Alternativa: B

11) Alternativa: E

12) Alternativa: A

13) Alternativa: B

14) Alternativa: A

15) Alternativa: D

16) Alternativa: B

17) Alternativa: E

18) Alternativa: E

19) Alternativa: B