

América do Norte

G1144 - (Espcex) O continente americano estende-se desde as tundras canadenses até o Cabo Horn, na Terra do Fogo. Sua imensa variedade de paisagens comporta sociedades altamente diferenciadas. Sobre esse grande conjunto, é correto afirmar que:

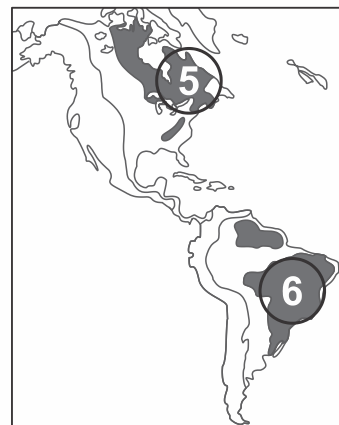
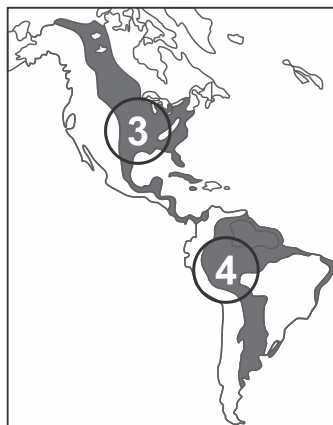
- I. A costa ocidental apresenta extensos dobramentos modernos, como os Andes e as Montanhas Rochosas, e faz parte do Anel ou Círculo de Fogo do Pacífico.
- II. A porção oriental continental, tanto da América do Norte quanto da América do Sul, é marcada por estruturas geológicas antigas e de grande estabilidade.

- III. A condição bioceânica caracteriza todos os países da América Anglo-Saxônica e da América Central ístmica.
- IV. É o único continente que possui terras em todas as zonas climáticas.

Assinale a alternativa que apresenta todas as afirmativas corretas, dentre as listadas acima.

- a) I e II
- b) I e III
- c) I e IV
- d) II e III
- e) III e IV

G1145 - (Upf) Observe os mapas que seguem.

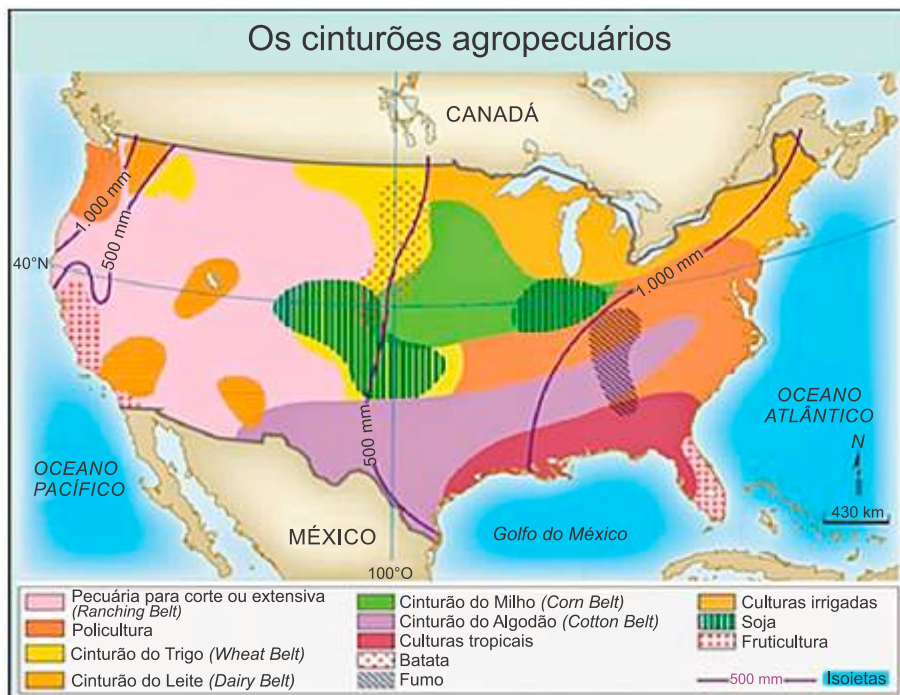


(Fonte: FERREIRA, Graça Maria. *Geografia em mapas*. São Paulo: Moderna, 2002, p.8. Adaptado)

Assinale a alternativa que faz a **correta** relação com as regiões marcadas e com as informações correspondentes.

- a) A Planície Platina (4) forma uma depressão entre os planaltos das Guianas e o Brasileiro e guarda a maior reserva de águas subterrâneas da América, o Aquífero Guarani.
- b) As Montanhas Rochosas (1) impedem a passagem das massas de ar oceânicas, provocando chuvas na vertente oeste e aridez na parte leste.
- c) O Escudo das Guianas (6) é formado por dobramentos modernos, com elevações muito acentuadas, e vive um processo de vulcanismo intenso.
- d) A cordilheira dos Andes (2) se desenvolve no sentido norte-sul, ao longo do Oceano Pacífico, formada por rochas cristalinas antigas e rica em minério de ferro.
- e) Na América do Norte, os maciços antigos (1) e os dobramentos modernos (5) margeiam uma extensa planície sedimentar (3), onde se localiza a capital, Washington.

G1146 - (Cftrj) Analise o mapa:



Fonte: <http://pt.slideshare.net>. Acesso: 15 de setembro de 2016.

Uma característica que confere elevada produtividade às atividades econômicas expressas no mapa consiste em:

- Utilização de pequenas propriedades.
- Emprego abundante de mão de obra.
- Práticas sustentáveis de produção.
- Intenso uso de tecnologia.

G1147 - (Fmp) Considere o texto a seguir.

Estados Unidos e China entraram ontem com recursos na Organização Mundial do Comércio (OMC) contra tarifas adotadas no contexto da guerra comercial iniciada após o presidente americano, Donald Trump, decidir sobretaxar as importações provenientes da China. O Ministério do Comércio da China informou ter entrado com uma reclamação na OMC em relação à lista de tarifas propostas por Washington sobre US\$ 34 bilhões de importações chinesas e americanas. Também ontem, os EUA entraram com cinco ações de disputa separadas na OMC questionando as medidas retaliatórias adotadas por China, União Europeia, Canadá, México, Turquia.

Guerra Comercial: Estados Unidos e China vão à OMC contra taxas. *O Globo* 17 jul. 2018, Rio de Janeiro, Economia, p. 10.

Adaptado.

Essa guerra comercial tem como causa principal a sobretaxação de qual setor produtivo?

- Siderúrgico
- Aeronáutico
- Informático
- Automobilístico
- Eletrônico

G1148 - (Imed) Desde o terremoto de 1985, em que mais de 10.000 pessoas perderam a vida, o México sofreu em torno de dez sismos de uma magnitude igual ou superior a do que aconteceu em setembro de 2017. Com exceção de um ocorrido na Baixa Califórnia (nordeste do país) em 2010, todos se produziram na faixa sudoeste e central, em Estados como Michoacán, Guerrero e Oaxaca.

Diante disso, marque a alternativa correta a respeito da grande concentração de terremotos no México:

- A grande concentração de sismos no México pode ser explicada pelo fato de a maior parte do país estar sobre o extremo sudoeste da placa norte-americana, que na faixa sudoeste e central se encontra com a placa de Cocos.
- Os terremotos no México podem ser explicados devido às mudanças climáticas geradas pelo aquecimento global, as quais geram impactos na crosta terrestre e aumentam os processos de subducção.
- O México possui grande número de sismos por causa das correntes marítimas, cujos movimentos alteram a estabilidade das placas tectônicas e, conseqüentemente, intensificam a ocorrência de terremotos.

d) Não há explicação científica para o número elevado e a intensidade de terremotos no território mexicano, pois a situação geológica do país é similar à do Brasil, país que não possui sismos significativos ao longo de sua área.

e) A teoria das placas tectônicas é a mais aceita para explicar os terremotos no México e em outros países. Essa teoria também explica a grande concentração de petróleo em território mexicano, o que fez do país, em 2016, o maior prospectador dessa fonte de energia da América Latina.

G1149 - (Famerp) A Embraer, terceira maior fabricante de aviões comerciais do mundo, anunciou que vai estabelecer equipes no Vale do Silício, nos Estados Unidos. A Embraer não é a primeira fabricante de aviões a se estabelecer nessa região. Em 2015, a Airbus contratou um ex-executivo do Google para dirigir seus negócios no Vale do Silício.

(<https://economia.uol.com.br>, 14.03.2017. Adaptado.)

O Vale do Silício, importante cenário produtivo mundial, destaca-se por concentrar

- empresas de alta tecnologia.
- indústrias siderúrgicas.
- empresas de tecnologia militar.
- indústrias de monitoramento por radar.
- agências de pesquisas espaciais.

G1150 - (Uece) Escreva V ou F, conforme seja verdadeiro ou falso o que se diz a seguir sobre a geografia humana dos Estados Unidos.

() Apesar de o país ser uma potência mundial, sua supremacia, que segue absoluta no campo militar, revela certa debilidade em âmbito político e econômico.

() A composição étnica da população dos Estados Unidos experimenta grandes mudanças, como pode ser observado na Califórnia, que atualmente tem mais habitantes de origem hispânica do que brancos não latinos.

() Após os atentados de 11 de setembro de 2001, os valores de liberdade da sociedade estadunidense se fortaleceram, fazendo com que as agências de segurança reduzissem suas ações de espionagem e de violação da privacidade do cidadão.

() Após a crise financeira de 2008, mudou-se consideravelmente a política econômica dos Estados Unidos, com fortes restrições aos que causaram as instabilidades no mercado de hipotecas.

Está correta, de cima para baixo, a seguinte sequência:

- F, V, V, V.
- V, V, F, F.
- V, F, F, F.
- F, F, V, V.

G1151 - (Uerj)

POPULAÇÃO DOS ESTADOS UNIDOS (% por ano)			
Grupos	2000	2010	2050
Branco	69,1	65,0	47,0
Latinos	12,5	15,0	29,0
Negros	12,1	13,0	13,0
Asiáticos	3,7	4,0	9,0
Outros	2,6	3,0	2,0

Adaptado de OLIC, N. B. *Caleidoscópios geopolíticos*. São Paulo: Moderna, 2014.

A partir da análise da tabela, uma importante mudança em processo na demografia estadunidense e a respectiva causa associada ao grupo populacional atingido são:

- redução de brancos – alta taxa de mortalidade
- crescimento de negros – diminuição da emigração
- elevação de latinos – maiores índices de imigração
- aumento de asiáticos – grande contingente de refugiados

G1152 - (Uepg) (Adaptada) Sobre a industrialização e a economia dos EUA, leia as proposições a seguir.

I) Os EUA possuem pouco destaque na II Revolução Industrial, pois tiveram participação nula na produção dos primeiros motores à combustão.

II) O Sul dos EUA é ligado aos cinturões agrícolas, não possuindo destaque na produção industrial tecnológica.

III) *Rust belt* foi um termo cunhado para se referir à decadência em um período da industrialização da tradicional e antiga região Nordeste do país.

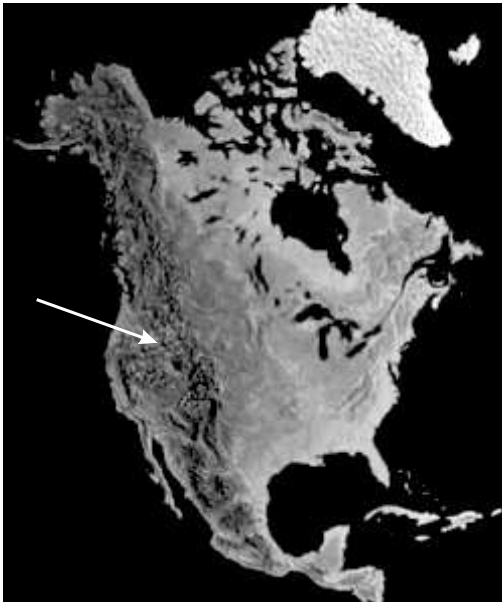
IV) A Oeste, há concentração de indústrias de alta tecnologia, com destaque para o tecnopolo do Vale do Silício.

V) O Noroeste dos EUA não possui sedes de multinacionais, pois é uma região baseada no extrativismo mineral e vegetal nas montanhas de Washington e Oregon.

Estão corretas apenas as proposições:

- I e IV.
- II e V.
- II e III.
- III e IV.
- I e V.

G1153 - (Upe-ssa)



Fonte: www.gettyimages.pt

No mapa acima, uma seta aponta para um importante compartimento regional de relevo existente no continente destacado. Esse compartimento influenciou, consideravelmente, as condições climáticas regionais, a formação e o uso dos solos e a distribuição dos biomas. A que compartimento de relevo estamos nos referindo?

- a) Montanhas Apalachianas
- b) Escudo Norte-americano
- c) Montanhas Rochosas
- d) Escudo Canadense
- e) Planície Central

G1154 - (Ifce) O México possui importantes reservas de petróleo e gás natural concentradas

- a) na Serra Madre Ocidental.
- b) nas planícies litorâneas do Oceano Pacífico.
- c) nas planícies litorâneas do Golfo do México.
- d) no planalto Mexicano.
- e) na península da Califórnia.

G1155 - (Unesp) Ao promover a livre circulação de mercadorias e serviços entre Estados Unidos, Canadá e México, o Acordo de Livre – Comércio da América do Norte ratificou as chamadas maquiladoras, caracterizadas como

- a) indústrias estadunidenses em território mexicano, que realizam a montagem de produtos através da exploração de mão de obra.
- b) parques tecnológicos estadunidenses em regiões de fronteira mexicana, que priorizam o desenvolvimento industrial regional via compartilhamento dos meios de produção.

- c) indústrias mexicanas em território estadunidense, que produzem bens de consumo por meio de parcerias para o desenvolvimento produtivo.
- d) universidades técnicas mexicanas em território canadense, que investem na qualificação profissional via intercâmbio de trabalhadores.
- e) empresas canadenses em território estadunidense, que objetivam a prestação solidária de serviços essenciais às cidades mexicanas.

G1156 - (Fatec) A escolha de um local para a instalação de uma planta industrial não é aleatória. Essa escolha, geralmente, recai sobre um lugar que ofereça mais rentabilidade para o empreendimento. Cada empresa avalia os elementos mais importantes para tomar a decisão. Esses elementos são chamados de fatores locais e variam dependendo do tipo de indústria.

As empresas que produzem tecnologia vestível procuram se instalar nos chamados tecnopolos como o Vale do Silício nos Estados Unidos que, além de outras vantagens, oferecem

- a) mão de obra barata e contiguidade às redes bancárias, comerciais e hospitalares.
- b) proximidade de universidades e centros de pesquisa e de tecnologia.
- c) amplo mercado consumidor e grande quantidade de matéria-prima.
- d) energia abundante e barata e informalidade da mão de obra.
- e) incentivos fiscais e legislação ambiental deficiente.

G1157 - (Espcex) Logo após a Segunda Guerra Mundial, a estrutura econômica regional norte-americana sofreu um profundo rearranjo resultante da perda de dinamismo industrial do *Manufacturing Belt*. Os novos investimentos promoveram concentração de indústrias no Oeste e no Sul dos Estados Unidos.

Entre os fatores que contribuíram para o redirecionamento dos investimentos para o Oeste e para o Sul dos Estados Unidos, nesse período, podemos destacar

- I. a limitada disponibilidade de ferro e carvão mineral nas jazidas da região do *Manufacturing Belt*, minerais estes indispensáveis à indústria siderúrgica.
- II. o interesse comercial pela bacia do Pacífico, haja vista a reconstrução econômica do Japão nesse período.
- III. a produção crescente de petróleo no Golfo do México.
- IV. a grande disponibilidade de matéria-prima pesada nessas novas regiões, fundamental para a expansão da

indústria de alta tecnologia, fortemente dependente de tais fontes.

V. a possibilidade de redução dos custos com a força de trabalho, uma vez que as novas empresas estariam distantes dos sindicatos operários do *Manufacturing Belt*.

Assinale a alternativa em que todas as afirmativas estão corretas.

- a) I e III
- b) III e IV
- c) I, II e IV
- d) I, III e V
- e) II, III e V

G1158 - (Mackenzie) Observe o mapa a seguir.

Cinturões Agrícolas nos Estados Unidos



Assinale a alternativa que indica, respectivamente, as atividades agrícolas tradicionalmente praticadas nos espaços assinalados no mapa com os números 1, 2 e 3.

- a) 1 - Cotton Belt (algodão), 2 - Corn Belt (milho), 3 - Wheat Belt (trigo).
- b) 1 - Wheat Belt (trigo), 2 - Cotton Belt (algodão), 3 - Sun Belt (frutas).
- c) 1 - Corn Belt (milho), 2 - Dairy Belt (sorgo), 3 - Wheat Belt (trigo).
- d) 1 - Dairy Belt (sorgo), 2 - Corn Belt (milho), 3 - Cotton Belt (algodão).
- e) 1 - Rice Belt (arroz), 2 - Dairy Belt (sorgo), 3 - Corn Belt (milho).

G1159 - (Udesc) A região onde se concentra a indústria de tecnologia de ponta, nos Estados Unidos, é:

- a) Costa Leste
- b) Grandes Lagos
- c) Golfo do México
- d) Costa Oeste
- e) Vale do Mississipi-Missouri

G1160 - (Utfpr) Assinale a alternativa correta sobre o Continente Americano.

- a) A América Latina é assim chamada principalmente porque seus países foram colônias de povoamento.
- b) Os climas árido e semiárido predominam nas áreas centrais das Américas, pois não há influência dos oceanos na atmosfera.
- c) O Índice de Desenvolvimento Humano (IDH) tem pouca variação entre as terras das latitudes norte e sul.
- d) As maiores cidades das Américas situam-se longe do litoral, fruto do desenvolvimento colonialista.
- e) O relevo das Américas tem características semelhantes, sendo que a porção oeste sempre tem montanhas e vulcões.

G1161 - (Espm) No passado, conhecida como “capital mundial do automóvel”, atualmente,

- a) San Francisco converteu-se em importante centro tecnológico junto ao Vale do Silício e é centro irradiador da informática mundial.
- b) Boston tornou-se importante centro financeiro sendo considerada a capital da megalópole de Was-Bos.
- c) Seattle consagra-se como o centro tecnológico e aeronáutico norte-americano.
- d) Detroit é a melhor expressão do declínio industrial do *Rust Belt* e foi apelidada de *Ghost Town*.
- e) Los Angeles confirma a posição de centro tecnológico da Costa Oeste, além da biotecnologia, atividades intrínsecas a essa região conhecida como *Sun Belt*.

G1162 - (Fatec) Leia um trecho do texto *Espaço para duas pernas*, do jornalista Ruy Castro.

Parece mentira: Detroit, a cidade-símbolo da cultura do automóvel, quebrou. Deve US\$ 20 bilhões, que não tem como pagar, e, de lá, saem agora apenas 5% dos carros montados nos EUA. Sua população passou de 1,8 milhão para 700 mil, dos quais 40% vivem abaixo da linha da pobreza. Além disso, é hoje a cidade mais violenta do país.

As justificativas apontadas são as crises econômicas e a concorrência da Ásia. Mas há também um fator que me toca mais: o declínio da dita cultura – a do automóvel. Segundo pesquisas, 20% dos jovens americanos hoje, entre 20 e 24 anos, não têm carteira de habilitação. Se essa idade cair para 18 anos, o número sobe para 40%. Isso num país em que, até há pouco, o carro era mais importante para um adolescente do que jogar beisebol ou beijar a coleguinha de classe. Era como se a identidade do indivíduo estivesse atrelada a uma máquina e, sem esta, ele não existisse.

Claro que, nos países novos-ricos e grotões mais atrasados, a obsessão pelo carro continua.

(Folha de S. Paulo, 29.07.2013. Adaptado)

Assinale a alternativa em que a relação entre causa e consequência corresponde, corretamente, às ideias expostas pelo autor.

- a) Detroit deve 20 bilhões de dólares e parte da população vive em extrema pobreza, o que tem levado países novos-ricos e grotões mais atrasados a persistirem na obsessão pelo automóvel.
- b) A população de Detroit passou de 1,8 milhão para 700 mil habitantes, o que levou a cidade a se tornar a mais violenta dos Estados Unidos.
- c) O mercado automobilístico dos EUA tem sofrido as interferências da economia instável e da concorrência asiática, o que levou Detroit, cidade-símbolo do automóvel, a ser hoje uma cidade falida.
- d) Pesquisas entre americanos de 18 anos mostram que 40% desses jovens não se interessam por carro, o que levou o número de jovens entre 20 e 24 anos, interessados por automóveis, a uma diminuição de 20%.
- e) Muitas pessoas ainda associam a própria identidade à posse de um veículo, o que tem levado ao declínio da cultura do automóvel nos EUA.

G1163 - (Espcex) Sobre o desenvolvimento industrial dos Estados Unidos, leia as afirmativas abaixo:

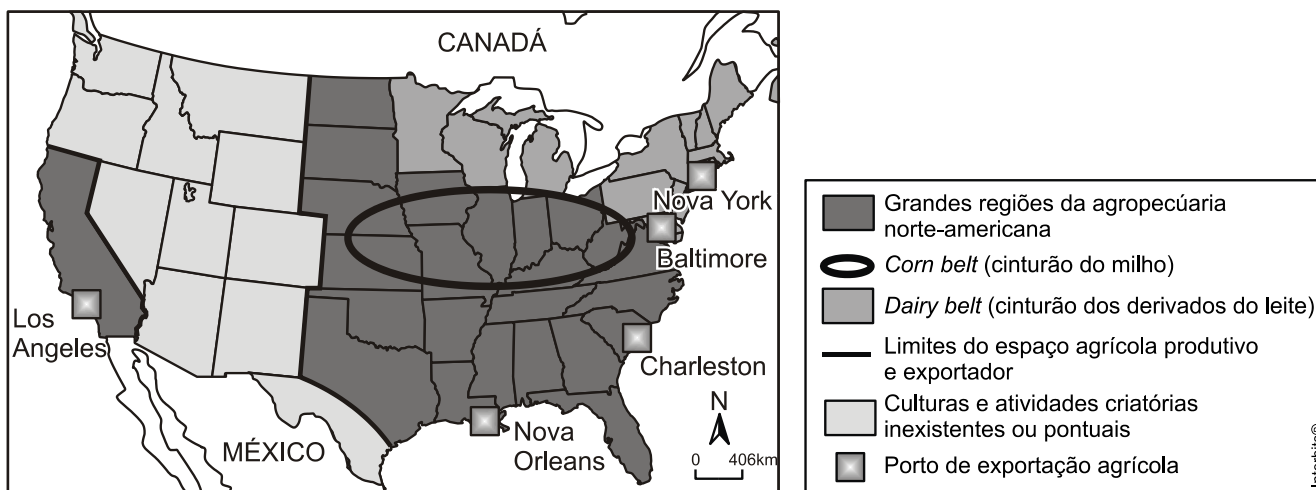
- I. O sudeste iniciou o processo industrial do País impulsionado pelos importantes centros comerciais e bancários daquela região e pela mão de obra imigrante de origem europeia;
- II. Com o fim da guerra civil, o eixo industrial se deslocou do sudeste para o nordeste do País, impulsionando o crescimento de importantes centros urbanos como o de Nova York;
- III. No nordeste e na região dos Grandes Lagos, desenvolveram-se as indústrias de bens de produção, baseadas no carvão e no minério de ferro, e nasceu a indústria automobilística;
- IV. Após a Segunda Guerra Mundial, o sul e o oeste do País passaram a receber crescentes investimentos industriais também atraídos pelos campos petrolíferos do Golfo do México e da Califórnia.

Assinale a alternativa que apresenta todas as afirmativas corretas.

- a) I e II
- b) I e III
- c) II e III
- d) II e IV
- e) III e IV

G1164 - (Uerj)

Espaço agropecuário norte-americano no início do século XXI



A agricultura norte-americana é organizada de acordo com o modelo empresarial, o que torna o espaço agropecuário do país fortemente vinculado à lógica econômica. O principal fator locacional que explica a posição do Dairy Belt é a presença de:

- a) sistema universitário desenvolvido
- b) mercado consumidor urbano expressivo
- c) rede de transporte propícia à exportação
- d) topografia plana favorável à mecanização

G1165 - (Espm) Sobre a regionalização territorial do país abaixo, é correto afirmar:



a) No sudeste, na Flórida, está a megalópole de San-San, a maior do continente e uma das mais importantes do mundo.

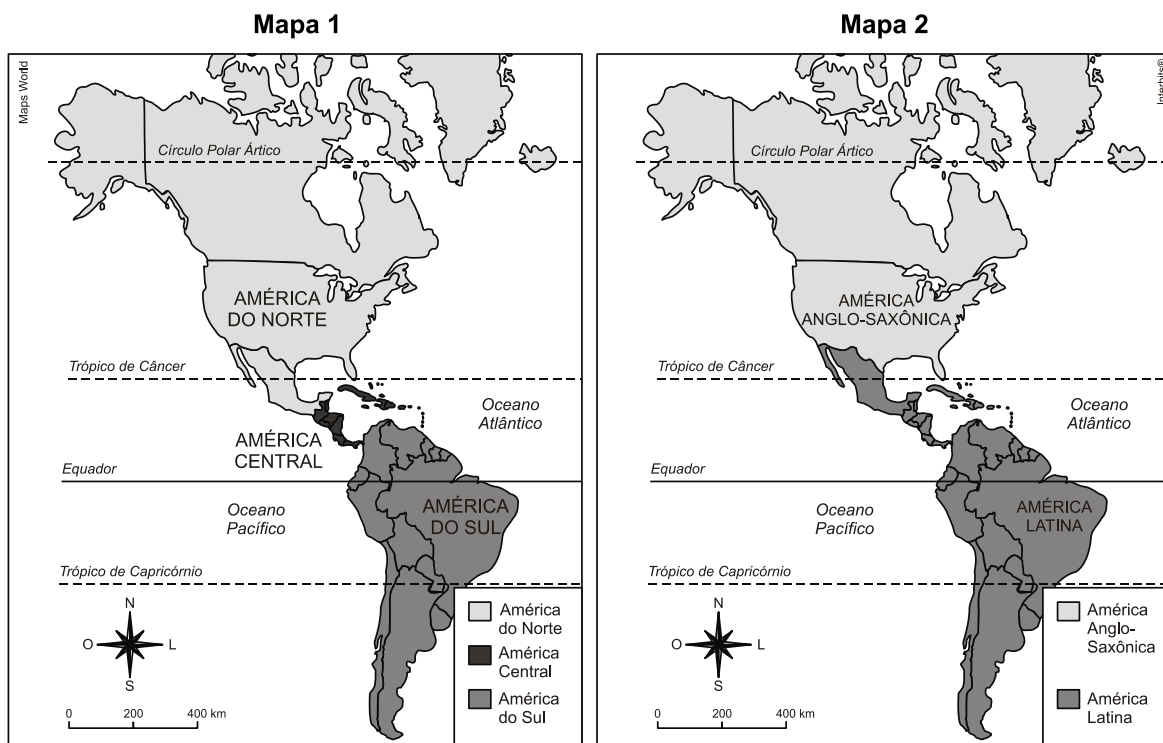
b) Desde a região dos Grandes Lagos até Seattle no extremo oeste, acompanhando toda a franja fronteira com o vizinho do norte, desponta o Sun Belt, importante cinturão agrícola que abastece ambos os países.

c) No estado sulista, terceiro mais rico do país, encontra-se a tradicional indústria petroquímica, associada à ocorrência de petróleo, além do importante setor da biotecnologia.

d) Chipits é uma importante megalópole na porção meridional e seu crescimento está relacionado à vanguarda tecnológica do Vale do Silício.

e) O amplo desenvolvimento industrial e tecnológico junto à porção central do país, deslocou a agricultura para outras áreas, tornando esta uma atividade secundária e retirando o país da posição de grande potência agrícola mundial.

G1166 - (Ufrn) Os mapas a seguir apresentam duas formas de regionalização do continente americano.



MARTINS, D. et al. *Geografia: Sociedade e cotidiano*, v. 3. São Paulo: Educacional, 2010, p. 81. [Adaptado]

Considerando que a regionalização do espaço geográfico se realiza a partir de diferentes critérios, a divisão regional desse continente representada no

- a) mapa 2 está definida a partir de aspectos físico-ambientais.
- b) mapa 1 está baseada em elementos político-territoriais.
- c) mapa 1 está definida a partir de aspectos socioeconômicos.
- d) mapa 2 está baseada em elementos histórico-culturais.

G1167 - (Ifce) São as principais características do Vale do Silício, nos Estados Unidos:

a) localizado no oeste dos Estados Unidos, próximo a importantes centros de pesquisa, forma um complexo industrial com destaque para os ramos típicos da Terceira Revolução Industrial.

b) também conhecido por cinturão (*belt*), constitui-se na principal área produtora de cereais dos Estados Unidos, sobretudo de milho e trigo, além de pecuária intensiva.

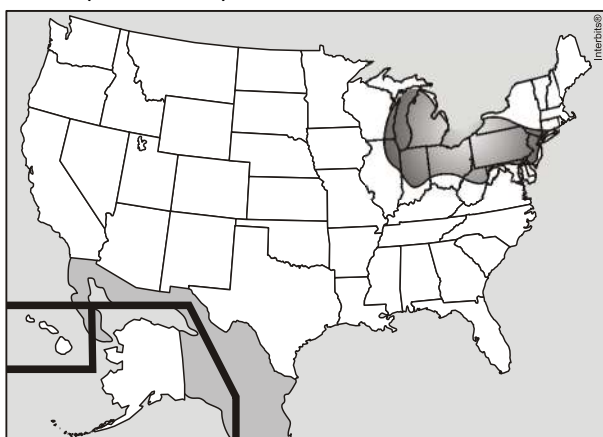
c) formado por erosão glacial, constitui-se numa área de preservação permanente, onde se destacam as

faias, as sequoias e as bétulas, espécies típicas da floresta boreal.

d) localizado no nordeste dos Estados Unidos, constitui-se numa área de antiga concentração industrial, destacando-se as indústrias de bens de produção pela abundância de matérias-primas, energia e mão de obra e pela facilidade de transporte.

e) é uma das principais áreas de extração mineral, sobretudo de silício, cobre e ferro, altamente prejudicada pela degradação do meio ambiente.

G1168 - (Mackenzie)



Considerando o mapa dos EUA, assinale a alternativa que corresponde à melhor descrição para a área destacada no mapa.

a) Trata-se do Cinturão da Ferrugem americano, região dos EUA de economia baseada na indústria pesada e de manufatura, cujo nome é uma ironia referente à degradação da área e ao grande número de galpões industriais abandonados.

b) Refere-se à Cotton belt, especializada no cultivo do algodão, de ocorrência tradicional no sul, por ser uma região mais quente.

c) Trata-se do Vale do Silício, que abrange várias cidades do estado da Califórnia e sul de São Francisco, estendendo-se até os subúrbios de San José.

d) A região é notória pelo cultivo da laranja, mas também se destaca no turismo. Apresenta clima subtropical com temperaturas mais altas do que o padrão nacional. Possui uma sofisticada infraestrutura e um grande número de parques de diversões temáticos que atraem visitantes de todo o país e de outros lugares do mundo.

e) A indústria dessa região tem a peculiaridade de se destacar em setores de altíssima tecnologia, sobretudo, aeroespacial e de computação. Está muito próxima ao Canadá e tem, como destaque, a cidade de Seattle.

G1169 - (Espcex) “O poder imenso dos Estados Unidos é, antes de tudo, multidimensional [...]. Isto significa que a influência global norte-americana estende-se por todos os setores da vida das nações, nas suas relações internacionais e internas.”

(Magnoli, D. *Geografia para o Ensino Médio*, 2012. p.513).

Sobre a economia norte-americana, suas relações e influências no mercado global, podemos afirmar que

I. o Canadá é, atualmente, um dos maiores parceiros comerciais dos Estados Unidos, que absorvem a maior parte das exportações canadenses.

II. o mercado consumidor norte-americano funciona como um dos principais dinamismos da economia global e contribui, decisivamente, para expansão da indústria asiática.

III. atualmente, o Japão figura como o maior investidor no mercado financeiro norte-americano, utilizando os títulos do Tesouro dos Estados Unidos como principal veículo de aplicação de suas vastas reservas monetárias.

IV. a criação do Acordo de Livre-Comércio das Américas (NAFTA) e os consequentes investimentos feitos pelos Estados Unidos no México revelam que o principal objetivo do bloco é facilitar a circulação de riquezas e de pessoas entre os dois países.

V. as significativas remessas de lucro, por parte das empresas norte-americanas no exterior, para suas sedes, não vêm garantindo o equilíbrio nas contas externas dos Estados Unidos.

Assinale a alternativa que apresenta todas as afirmativas corretas.

- a) I, III e IV
- b) II, III e V
- c) II, IV e V
- d) II, III e IV
- e) I, II e V

G1170 - (Ufes) Sobre a economia do Canadá, podemos afirmar:

I - É fortemente dependente dos Estados Unidos em relação aos fluxos de capitais, tecnologia e mercadorias.

II - Muito prejudicada pela Segunda Guerra Mundial e fracamente industrializada, equilibra na sua balança comercial com exportações de gêneros alimentícios.

III - Dinâmica e forte, tem na produção de papel e celulose uma posição de destaque que coloca o Canadá como o maior produtor mundial do gênero.

IV - Tem no alumínio seu grande destaque na área metalúrgica, embora a matéria-prima (a bauxita) necessite ser quase que totalmente importada da Jamaica e do Suriname.

V - Não utiliza técnicas modernas na agropecuária, o que faz com que essa atividade se torne altamente improdutiva.

São CORRETAS as afirmativas

- a) I, II e IV.
- b) I, III e IV.
- c) I, IV e V.
- d) II, IV e V.
- e) III, IV e V.

G1171 - (Udesc) O México e os Estados Unidos são vizinhos com problemas. Sobre esta relação de vizinhança é correto afirmar, exceto:

a) O México foi uma das primeiras vítimas do nascente imperialismo norte-americano do século XIX. Explorando as instabilidades internas do México, os Estados Unidos conquistaram 1 milhão de km² de territórios originalmente mexicanos. Esses territórios

correspondem aos atuais estados do Texas, Arizona, Novo México e Califórnia.

b) Os problemas existentes entre México e Estados Unidos foram resolvidos recentemente com a eleição de Barack Obama, que flexibilizou, por meio de leis, a entrada dos mexicanos nos Estados Unidos.

c) A maioria dos norte-americanos tende a menosprezar, ser indiferente ou simplesmente ignorar os ressentimentos históricos mexicanos. A imagem passada pelo cinema norte-americano a respeito dos mexicanos é geralmente depreciativa.

d) O México pode se tornar um problema geopolítico para os Estados Unidos, se as falhas políticas e econômicas do regime mexicano acirrarem os sentimentos anti norte americanos.

e) Os mexicanos buscam postos de trabalho nos Estados Unidos, o que aumenta muito o fluxo migratório legal e ilegal para o país americano.

notas