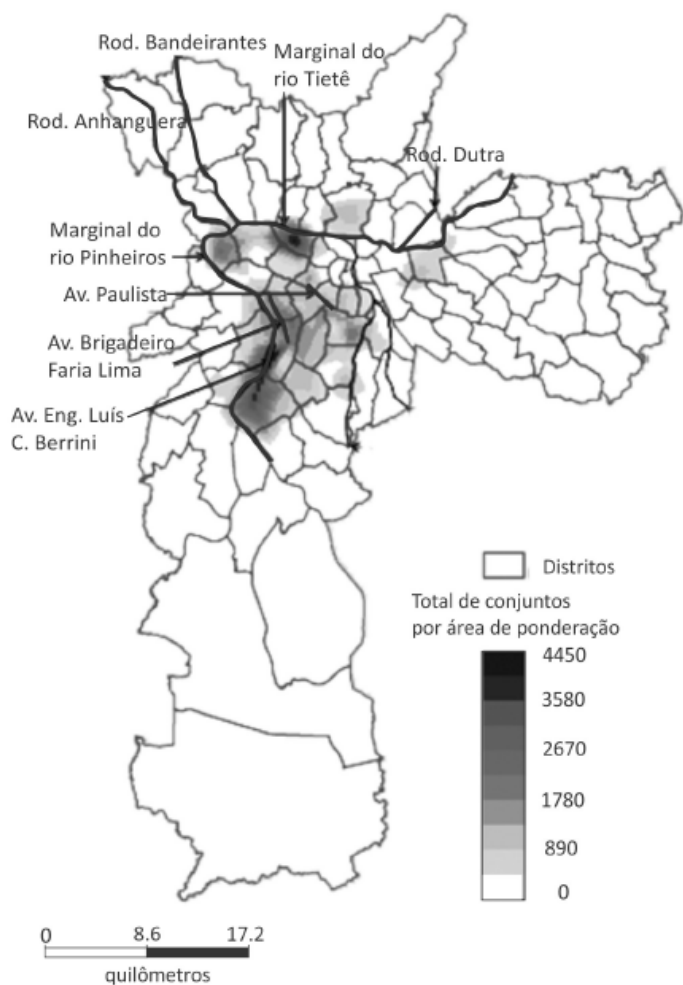


QUESTÃO 01|

A metropolização de São Paulo foi induzida pela industrialização no século XX. Nas últimas décadas, o deslocamento de parte da indústria da metrópole e o crescimento do setor terciário avançado revelam a primazia do capital financeiro, que se articula com o setor imobiliário e produz, por exemplo, os edifícios corporativos, sede deste terciário.

Carlos, A.F.A. São Paulo: do capital industrial ao capital financeiro. In: Carlos, A.F.A. e Oliveira. A.U. **Geografias de São Paulo: a metrópole do século XXI.** São Paulo. Adaptado.

Conjuntos comerciais verticais lançados no município de São Paulo de 1992 a 2015



Empresa Brasileira de Estudos de Patrimônio: **Embraesp.** 2015. Adaptado.

Com base no texto e no mapa, é correto afirmar que

- A** o crescimento do terciário avançado indica o aumento de estabelecimentos industriais, ambos dispersos em São Paulo.
- B** a produção industrial em São Paulo está concentrada nas áreas centrais, o que induziu a proliferação de edifícios corporativos.
- C** os edifícios corporativos concentram a produção de manufaturados e, em São Paulo, estão concentrados nas áreas de maior densidade populacional.

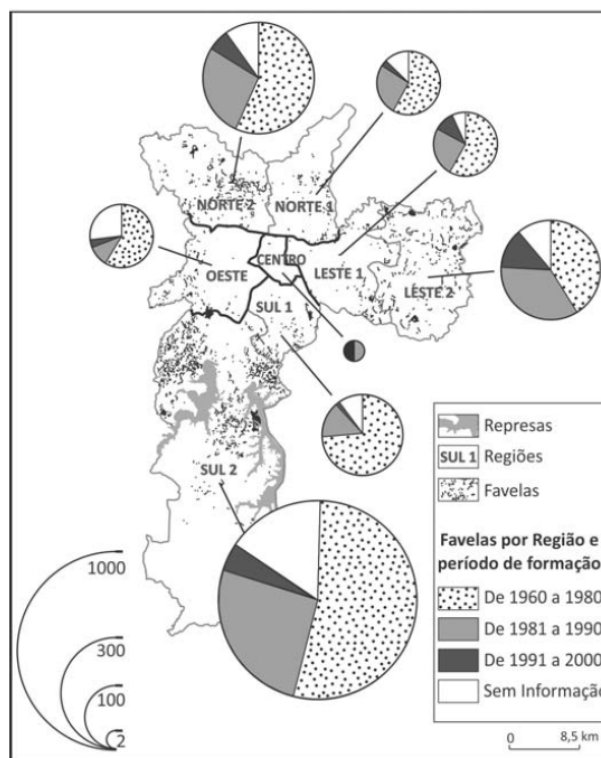
- D** o setor terciário avançado ocupa os edifícios corporativos e está concentrado em poucos distritos da metrópole de São Paulo no momento atual.
- E** a desconcentração industrial em São Paulo foi acompanhada da dispersão do setor terciário avançado.

QUESTÃO 02|

Em 1948, quando começaram a demolir as casas térreas para construir os edifícios, nós, os pobres, que residíamos nas habitações coletivas, fomos despejados e ficamos residindo debaixo das pontes. É por isso que eu denomino a favela como o quarto de despejo de uma cidade.

Carolina Maria de Jesus, escritora e moradora da Favela do Canindé, nos anos 1950. **Quarto de despejo.** Adaptado.

Favelas no município de São Paulo



PMSP, Município em Mapas, 2006. Adaptado.

Levando em conta o texto e o mapa, considere as seguintes afirmações:

- I. O custo da moradia em áreas mais valorizadas e a desigualdade social são fatores que explicam a grande concentração do número de favelas nas áreas periféricas do sul e do norte do município, de 1960 a 1980.
- II. A favela é definida como uma forma de moradia precária devido à existência de elevadas taxas de analfabetismo e baixos índices de desenvolvimento humano de sua população, fatores predominantes na região central da cidade até 1980.
- III. Em todas as regiões do município, o maior crescimento do número de favelas se deu de 1981 a 1990, em função da saída e do fechamento de indústrias e da crise econômica que levaram ao desemprego.

Está correto o que se afirma em

- A** I, apenas.
- B** II, apenas.
- C** I e III, apenas.
- D** II e III, apenas.
- E** I, II e III.

QUESTÃO 03|

O processo de industrialização que se efetivou em São Paulo a partir do início do século XX foi o indutor do processo de metropolização. A partir do final dos anos 1950, a concentração da estrutura produtiva e a centralização do capital em São Paulo foram acompanhadas de uma urbanização contraditória que, ao mesmo tempo, absorvia as modernidades possíveis e expulsava para as periferias imensa quantidade de pessoas que, na impossibilidade de viver o urbano, contraditoriamente, potencializavam a sua expansão. Assim, de 1960 a 1980, a expansão da metrópole caracterizou-se também pela intensa expansão de sua área construída, marcadamente fragmentada e hierarquizada.

Esse processo se constituiu em um ciclo da expansão capitalista em São Paulo marcada por sua periferização.

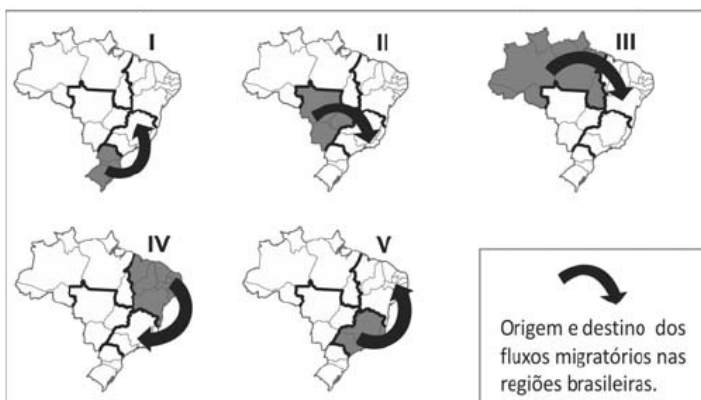
Isabel Alvarez. **Projetos Urbanos:** alianças e conflitos na reprodução da metrópole. Disponível em: <http://gesp.fflch.usp.br/sites/gesp.fflch.usp.br/files/02611.pdf>. Acessado em 10/08/2015. Adaptado.

Com base no texto e em seus conhecimentos, é correto afirmar:

- A** O processo que levou à formação da metrópole paulistana foi dual, pois, ao trazer modernidade, trouxe também segregação social.
- B** A cidade de São Paulo, no período entre o final da Segunda Guerra Mundial e os anos de 1980, conheceu um processo intenso de desconcentração industrial.
- C** A periferia de São Paulo continua tendo, nos dias de hoje, um papel fundamental de eliminar a fragmentação e a hierarquização espacial.
- D** A periferização, em São Paulo, cresceu com ritmo acelerado até os anos de 1980, e, a partir daí, estagnou, devido à retração de investimentos na metrópole.
- E** A expansão da área construída da metrópole, na década de 1960, permitiu, ao mesmo tempo, ampliar a mancha urbana e eliminar a fragmentação espacial.

QUESTÃO 04| Observe os mapas.

Migração entre as regiões brasileiras (2004 – 2009)



IBGE/OESP, 16/07/2011.

Dentre as seguintes alternativas, a única que apresenta a principal causa para o correspondente fluxo migratório é:

- A** I: procura por postos de trabalho formais no setor primário.
- B** II: necessidade de mão de obra rural, devido ao avanço do cultivo do arroz.
- C** III: necessidade de mão de obra no cultivo da soja no Ceará e em Pernambuco.
- D** IV: procura por postos de trabalho no setor aeroespacial.
- E** V: migração de retorno.

QUESTÃO 05|

São objetivos do Plano Diretor – SP: promover melhor aproveitamento do solo nas proximidades do sistema estrutural de transporte coletivo com aumento na densidade construtiva, demográfica, habitacional e de atividades urbanas; incrementar a oferta de comércio, serviços e emprego em áreas pobres da periferia; ampliar a oferta de habitações de interesse social nas proximidades do sistema estrutural de transporte coletivo.

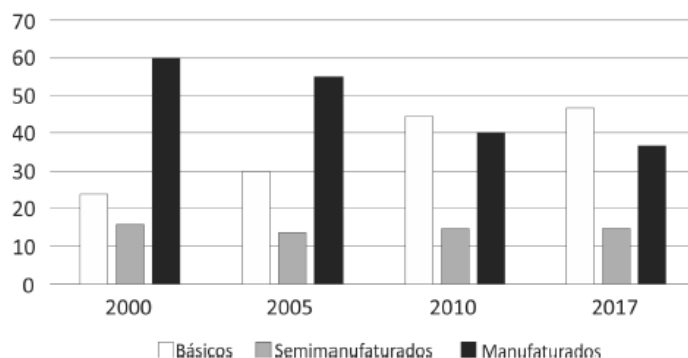
Diário Oficial. Cidade de São Paulo, 01/08/2014. Adaptado.

É correto afirmar que tais medidas visam a

- A** estimular a aproximação espacial entre moradia, emprego e serviços na cidade.
- B** inibir a verticalização em áreas próximas a vias de circulação e nas periferias.
- C** reduzir a densidade demográfica em áreas próximas ao sistema estrutural de transporte coletivo.
- D** coibir a distribuição espacial do setor terciário em áreas pobres da periferia.
- E** restringir a concentração espacial de habitações de interesse social a áreas periféricas da cidade.

QUESTÃO 06|

Exportação brasileiras por valor agregado (%)



MDIC - www.mdic.gov.br. Adaptado.

Com base no gráfico referente à pauta das exportações brasileiras, é correto afirmar que, no período analisado, houve

- A** ampliação do setor secundário, especialmente de bens de capital intermediários.
- B** consolidação do Brasil como exportador de alta tecnologia, cujo percentual vem se ampliando na pauta de exportações brasileiras.

- C** fortalecimento do setor primário e declínio do setor de maior valor agregado.
- D** maior peso do setor primário, pela primeira vez na história econômica brasileira.
- E** diminuição da agroindústria nas exportações e aumento do peso dos bens manufaturados.

QUESTÃO 07| Em julho de 2016, a Unesco reconheceu o conjunto da Pampulha, situado em Belo Horizonte (MG), como patrimônio cultural da humanidade, em função de sua importância como exemplar de arquitetura moderna. No Brasil, há outros exemplos de patrimônio da humanidade reconhecidos pela Unesco.

O patrimônio da humanidade situado no Brasil, cuja localização, bioma e importância estão corretamente identificados, é:

	Patrimônio	Localização	Bioma	Importância
a)	Parque Nacional do Iguaçu	Paraná	Pampa	Sítio arqueológico (pintura rupestre)
b)	Parque Nacional de Monte Pascoal	Pernambuco	Caatinga	Sítio natural científico
c)	Centro Histórico de Diamantina	Goiás	Pampa	Arquitetura colonial/barroca
d)	Parque Nacional Serra da Capivara	Piauí	Caatinga	Sítio arqueológico (pintura rupestre)
e)	Ruínas de São Miguel das Missões	Santa Catarina	Cerrado	Arquitetura colonial/barroca

QUESTÃO 08|

É preocupante a detecção de resíduos de agrotóxicos no planalto mato_grossense [Planaltos e Chapada dos Parecis], onde nascem o rio Paraguai e parte de seus afluentes, cujos cursos dirigem-se para a Planície do Pantanal. Em termos ecológicos, o efeito crônico da contaminação, mesmo sob baixas concentrações, implica efeitos na saúde e no ambiente a médio e longo prazos, como a diminuição do potencial biológico de espécies animais e vegetais.

Dossiê Abrasco – Associação Brasileira de Saúde Coletiva, Rio de Janeiro/São Paulo: EPSJV/Expressão Popular, 2012. Adaptado.

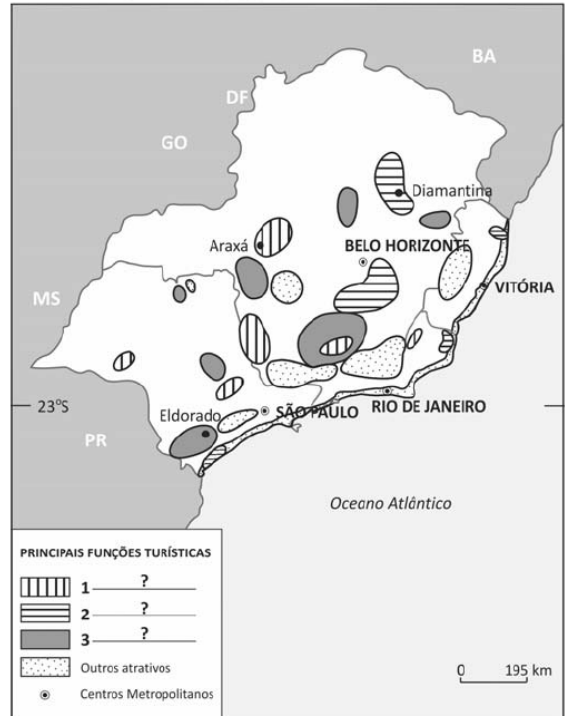
Com base no texto e em seus conhecimentos, é correto afirmar:

- A** No Mato Grosso do Sul, prevalece a criação de caprinos nas chapadas, ocasionando a contaminação dos lençóis freáticos por resíduos de agrotóxicos.
- B** No Mato Grosso, ocorre grande utilização de agrotóxicos, em virtude, principalmente, da quantidade de soja, milho e algodão nele cultivada.
- C** Em Goiás, com o avanço do cultivo da laranja transgênica voltada para exportação, aumentou a contaminação a montante do rio Cuiabá.

- D** No Mato Grosso, estado em que há a maior área de silvicultura do país, há predominância da pulverização aérea de agrotóxicos sobre as florestas cultivadas.
- E** No Mato Grosso do Sul, um dos maiores produtores de feijão, trigo e maçã do país, verifica-se significativa contaminação do solo por resíduos de agrotóxicos.

QUESTÃO 09| Observe o mapa.

Brasil – região sudeste – turismo e lazer

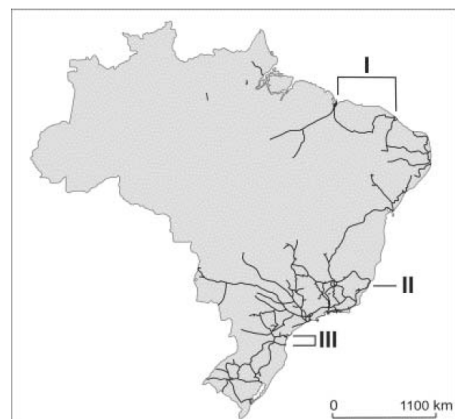


IBGE, 2012. Adaptado.

Identifique a alternativa que completa corretamente a legenda do mapa. Identifique a alternativa que completa corretamente a legenda do mapa.

	1	2	3
a)	Histórico-cultural	Ecoturismo	Hidromineral
b)	Ecoturismo	Histórico-cultural	Hidromineral
c)	Hidromineral	Ecoturismo	Histórico-cultural
d)	Ecoturismo	Hidromineral	Histórico-cultural
e)	Hidromineral	Histórico-cultural	Ecoturismo

QUESTÃO 10| Observe o mapa da Malha Ferroviária do Brasil.



www.brasil.gov.br/infograficos/ferrovias/view. Acessado em junho de 2012.

Com respeito às áreas indicadas no mapa acima, assinale a alternativa que relaciona corretamente sistemas logísticos e produtos de exportação.

	I	II	III
a)	Portos de Belém e de São Luís: minério de ferro, papel e celulose.	Portos do Rio de Janeiro e de Niterói: trigo e fertilizantes.	Portos de Paranaguá e de Itajaí: soja e carnes (congeladas).
b)	Portos de São Luís e de Natal: pescados e carvão mineral.	Portos de Tubarão e de Vitória: minério de ferro, papel e celulose.	Portos de São Francisco do Sul e de Florianópolis: minério de ferro, papel e celulose.
c)	Portos de Itaqui e de Pecém: minério de ferro, manganês e frutas.	Portos de Tubarão e de Vitória: minério de ferro, papel e celulose.	Portos de Paranaguá e de Itajaí: soja e carnes (congeladas).
d)	Portos de Belém e de São Luís: minério de ferro, papel e celulose.	Portos do Rio de Janeiro e de Niterói: pescados e carvão mineral.	Portos de São Francisco do Sul e de Florianópolis: minério de ferro, papel e celulose.
e)	Portos de Itaqui e de Pecém: minério de ferro, manganês e frutas.	Portos de Tubarão e do Rio de Janeiro: soja e carnes (congeladas).	Portos de Paranaguá e de Itajaí: trigo e fertilizantes.

QUESTÃO 11|

Indigenous people in Brazil seek out cities, end up in slums

RIO DE JANEIRO – The dancers shake seed-filled maracas and raise their voices in song, conjuring an ancient spirit that vibrates above the traffic roaring from a nearby expressway and the beat of funk music blasting from a neighbor's loudspeaker.

In this Brazilian favela, the indigenous people are struggling to keep some of their traditions alive that, besides providing a sense of community, helps them endure the discrimination they face in the city. Forced out of their native lands by deforestation, miners and farmers, nearly one in four Brazilian Indians nowadays live in urban areas and an estimated 22,000 of them now call the crowded favelas their home.

Life in the slums, despite its difficulties, has its advantages. "The slums are the one place in the city where you have the kind of solidarity we Indians have in the villages." said a Pataxó woman who lives in Rio de Janeiro's Maré Complex.

(Adaptado de Associated Press, Indigenous people in Brazil seek out cities, end up in slums, Daily-mail, 16/09/2014.)

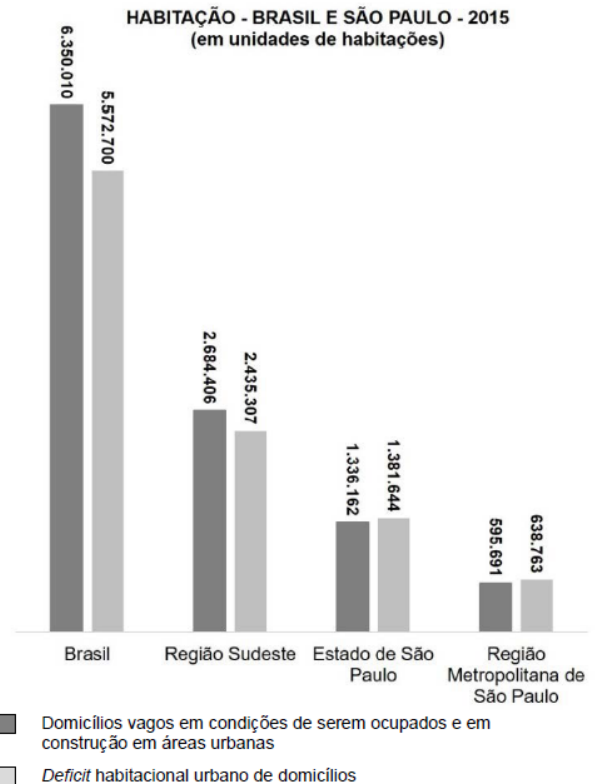
Assinale a alternativa que indica corretamente os fenômenos geográficos mencionados no texto a respeito das populações indígenas.

- A) Migração urbano-rural, segregação socioespacial urbana, preservação socioambiental.
- B) Segregação socioespacial urbana, migração rural-urbana, impacto socioambiental.
- C) Inclusão socioespacial urbana, impacto socioambiental, migração urbano-rural.
- D) Preservação socioambiental, inclusão socioespacial urbana, migração rural-urbana.

QUESTÃO 12|

Habitação — Brasil e São Paulo — 2015

(em unidades de habitações)



(Fonte: Deficit Habitacional no Brasil, 2015. Belo Horizonte: Fundação João Pinheiro, 2018.)

Com base em seus conhecimentos e nos dados do gráfico, assinale a alternativa correta.

- A) O *deficit* habitacional no Brasil vem sendo enfrentado com a construção de novos domicílios, o que tem resolvido satisfatoriamente a questão da moradia.
- B) Os dados do gráfico confirmam que, em qualquer área do território brasileiro, há mais domicílios vagos em condições de serem ocupados que *deficit* habitacional.
- C) É muito provável que todas as classes sociais moradoras nas cidades no Brasil sejam igualmente atingidas pelo fenômeno urbano de *deficit* habitacional.
- D) A correlação entre domicílios vagos e *deficit* habitacional explica-se, em grande medida, pela especulação imobiliária, que mantém imóveis fechados.

Questão 13|

Rua da Liberdade – São Paulo-SP – 1937



(Disponível em <http://www.ims.com.br/ims/artista/colecao/claude-levistrauss/obra/1995>.)

Pobre alimária

O cavalo e a carroça
Estavam atravancados no trilho
E como o motorneiro se impacientasse
Porque levava os advogados para os escritórios
Desatravancaram o veículo
E o animal disparou
Mas o lesto carroceiro
Trepou na boleia
E castigou o fugitivo atrelado
Com um grandioso chicote

(Oswald de Andrade, *Pau Brasil*. São Paulo: Globo, 2003, p.159.)

A imagem e o poema revelam a dinâmica do espaço na cidade de São Paulo na primeira metade do século XX. Qual alternativa abaixo formula corretamente essa dinâmica?

- A** Trata-se da ascensão de um moderno mundo urbano, onde coexistiam harmonicamente diferentes temporalidades, funções urbanas, sistemas técnicos e formas de trabalho, viabilizando-se, desse modo, a coesão entre o espaço da cidade e o tecido social.
- B** Trata-se de um espaço agrário e acomodado, num período em que a urbanização não tinha se estabelecido, mas que abrigava em seu interstício alguns vetores da modernização industrial.
- C** Trata-se de um espaço onde coexistiam distintas temporalidades: uma atrelada ao ritmo lento de um passado agrário e, outra, atrelada ao ritmo acelerado que caracteriza a modernidade urbana.
- D** Trata-se de uma paisagem urbana e uma divisão do trabalho típicas do período colonial, pois a metropolização é um processo desencadeado a partir da segunda metade do século XX.

QUESTÃO 14| Considerando as atuais características demográficas da população indígena brasileira, assinale a alternativa correta.

- A** Ainda existem etnias indígenas isoladas no interior da Amazônia, vivendo em grandes aldeias, com predominância de idosos, e desenvolvendo roças para o autoconsumo.
- B** A atual população indígena brasileira supera, em contingente e em etnias, os habitantes nativos encontrados no início da colonização no século XVI.
- C** Enquanto a população indígena do centro-sul obteve crescimento demográfico, a população habitante da Amazônica apresentou forte redução de contingente.
- D** Verifica-se a tendência de reversão da curva demográfica, tendo em vista o crescimento atual da população indígena no país, sendo que a maior parcela desse contingente vive em áreas rurais.

QUESTÃO 15|

O processo contemporâneo de metropolização do espaço e a grande metamorfose que vem ocorrendo em algumas metrópoles têm significado mudanças territoriais expressivas. Há intensificação e multiplicidade de fluxos de pessoas, mercadorias e informações, bem como crescimento do número de cidades conurbadas, onde não se distingue muito bem, na continuidade da imensa área construída, o limite municipal de cada uma delas. Tanto em São Paulo, por exemplo, como na Cidade do México, em Buenos Aires ou em Santiago, vamos encontrar a manifestação desse momento mais avançado da urbanização.

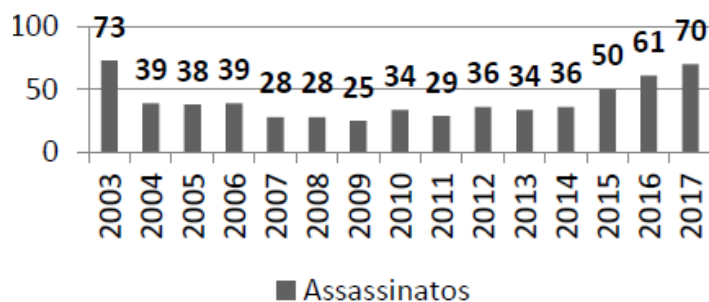
(Adaptado de Sandra Lencioni, A metamorfose de São Paulo: o anúncio de um novo mundo de aglomerações difusas. *Revista Paranaense de Desenvolvimento*, Curitiba, n.120, p. 133-148, jan./jun., 2011.)

Tendo em vista a metrópole contemporânea, é correto afirmar que se trata de uma

- A** única aglomeração, mas dispersa e fragmentada, onde fluxos imateriais regem um conjunto diferenciado de lugares.
- B** única aglomeração, pois é compacta e coesa, onde fluxos imateriais regem um conjunto diferenciado de lugares.
- C** metrópole compacta e coesa, organizada exclusivamente por uma estrutura hierárquica de fluxos imateriais.
- D** metrópole dispersa e fragmentada, organizada exclusivamente por uma estrutura hierárquica de fluxos materiais.

QUESTÃO 16| O gráfico a seguir mostra que o Brasil tem registrado, nos últimos anos, crescimento da violência no campo. Assinale a alternativa que indica corretamente o que vem motivando esse fenômeno e em que região tem predominado esse tipo de ocorrência.

Assassinatos de trabalhadores rurais no Brasil – 2003-2017



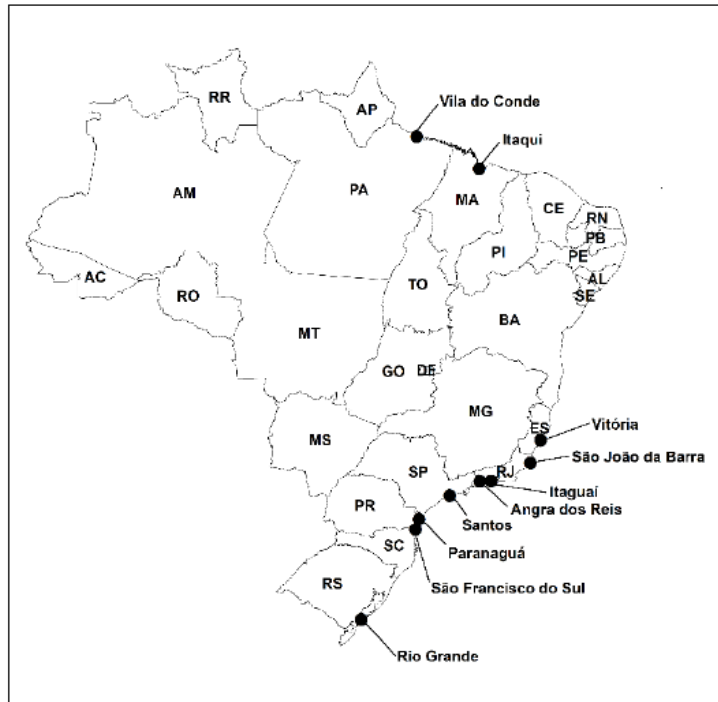
(Fonte: Centro de Documentação Dom Tomás Balduino – CPT.)

- A** A expulsão de agricultores familiares pelo avanço das culturas da cana-de-açúcar e do algodão tem gerado conflitos entre pequenos e grandes proprietários de terra; região Centro-Oeste.
- B** A fragmentação da propriedade em áreas de colonização dirigida e a disputa pela posse da terra entre herdeiros vêm produzindo violência agrária; região Norte.
- C** A rivalidade entre trabalhadores rurais e criadores extensivos de gado bovino no Pantanal e nas chapadas mato-grossenses tem resultado em violência agrária; região Centro-Oeste.

- Ⓓ A disputa pela terra envolvendo grileiros contra posseiros em áreas de expansão de monocultivos e de projetos de exploração mineral e madeira tem gerado violência; região Norte.

QUESTÃO 17|

10 PORTOS BRASILEIROS QUE MAIS EXPORTARAM PARA O MUNDO EM 2017



(Adaptado de ANTAQ, 2018. Disponível em <http://antag.gov.br/Portal/pdf/PortosOrganizados.pdf>. Acessado em 20/08/2018.)

Considerando o mapa anterior e seus conhecimentos sobre o mercado externo brasileiro, componente fundamental da economia nacional, assinale a alternativa que associa corretamente um porto brasileiro, a principal mercadoria exportada e seu destino.

- Ⓐ Angra dos Reis: soja *in natura*, destinada primordialmente ao mercado do leste europeu.
- Ⓑ Vitória: automóveis, destinados primordialmente ao mercado do Oriente Médio.
- Ⓒ Itaquí: minério de ferro, destinado primordialmente ao mercado asiático.
- Ⓓ Vila do Conde: motocicletas, destinadas primordialmente ao mercado africano.

QUESTÃO 18|



Fonte: Embrapa CNPQIA

(Fonte: Fabio R. Marin e Daniel S. P. Nassif "Mudanças climáticas e a cana-deaçúcar no Brasil: fisiologia, conjuntura e cenário futuro". *Revista Brasileira de Engenharia Agrícola e Ambiental*. v. 17, n 2, 2013, p. 233.)

A figura acima indica a distribuição de usinas sucroenergéticas no Brasil em 2010. Essas usinas provocaram aumento da produção de vinhaça, resíduo pastoso e malcheiroso resultante da destilação do caldo de cana-de-açúcar fermentado.

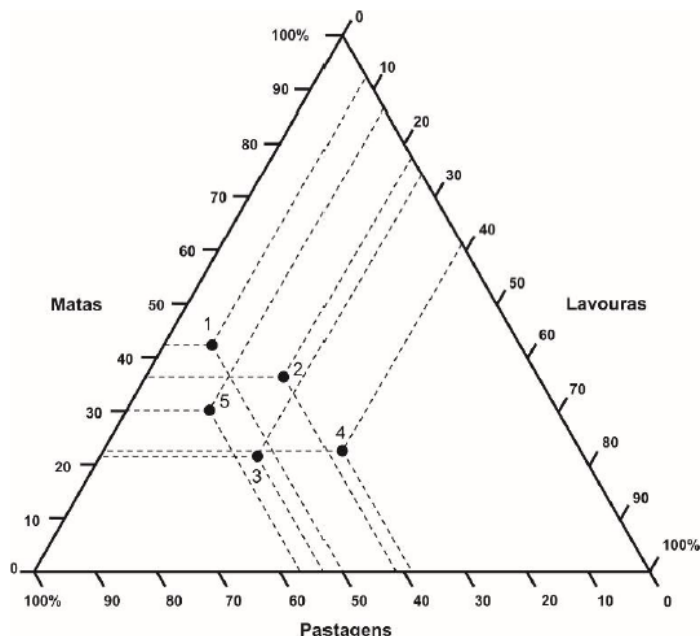
Assinale a alternativa correta.

- A** No Centro-Oeste, as usinas estão concentradas em áreas anteriormente ocupadas pelo Cerrado; quando a vinhaça atinge os rios, ocorre aumento na quantidade de micro-organismos nocivos aos peixes.
- B** O processamento da cana no Sudeste está concentrado no Vale do Paraíba; a vinhaça é rica em compostos sulfurados, leva à contaminação ambiental e não serve como fertilizante.
- C** As usinas do Nordeste concentram-se no Agreste; a vinhaça é rica em matéria orgânica e pode ser utilizada como adubo para o solo.
- D** Na região Norte há poucas usinas, situadas apenas nas Terras Altas amazônicas; a vinhaça é rica em matéria orgânica, mas o processo de destilação elimina seus nutrientes.

QUESTÃO 19| Assinale a alternativa correta sobre a presença de agrotóxicos e de sementes transgênicas na agricultura brasileira.

- A** O uso de agrotóxicos e sementes transgênicas associa-se à busca de maior produtividade, sobretudo em áreas de fronteira agrícola.
- B** As sementes transgênicas e o uso de agrotóxicos adequados ampliaram o interesse de países da União Europeia pelos produtos agrícolas brasileiros.
- C** O uso de agrotóxicos no Brasil reduziu a necessidade de aproveitamento das sementes transgênicas nos cultivos agrícolas de grãos no país.
- D** Por ser signatário de acordos internacionais, o Brasil reduziu o uso de agrotóxicos e sementes transgênicas em áreas próximas a mananciais.

QUESTÃO 20|



O gráfico triangular acima apresenta a estrutura de utilização das terras dos estabelecimentos agropecuários em cada região brasileira (dados do último Censo Agropecuário do IBGE, Instituto Brasileiro de Geografia e Estatística, de 2006).

(Adaptado de Marcelo Martinelli, *Mapas, gráficos e redes*. Elabore você mesmo. São Paulo: Oficina de Textos, 2014, p. 56.)

Cada ponto representa uma região brasileira. Identifique cada região:

- A** 1 Norte; 2 Nordeste; 3 Sudeste; 4 Sul; 5 Centro-Oeste.
- B** 1 Sudeste; 2 Centro-Oeste; 3 Sul; 4 Norte; 5 Nordeste.
- C** 1 Nordeste; 2 Sul; 3 Centro-Oeste; 4 Sudeste; 5 Norte.
- D** 1 Centro-Oeste; 2 Sudeste; 3 Norte; 4 Nordeste; 5 Sul.

QUESTÃO 21| A imagem abaixo mostra a prática de plantio direto na palhada.



(<http://aprendizruralbatatais2013manha.blogspot.com.br/2013/06/plantio-direto.html>.)

Sobre esta prática, é correto afirmar:

- A** É uma prática conservacionista, em que há a incorporação dos restos vegetais de uma cultura no próximo plantio, procurando melhorar as características químicas e físicas do solo.
- B** É uma prática conservacionista, em que há a incorporação dos restos vegetais de uma cultura no próximo plantio, procurando melhorar unicamente as características químicas do solo.
- C** É uma prática conservacionista, em que há a incorporação dos restos vegetais de uma cultura no próximo plantio, procurando melhorar unicamente as características físicas do solo.
- D** Apesar de diminuir os processos erosivos provocados pelo escoamento superficial da água, a prática não evita o uso de queimadas esporádicas e não aumenta a fertilidade química do solo.

QUESTÃO 22|

A observação do canavial fornece, numa primeira impressão, a imagem de um mar de cana, um todo homogêneo no qual se distribuem os trabalhadores. Essa visão se desfaz quando se analisa o processo de trabalho. Na medida em que se penetra no interior das relações de produção, descortina-se um universo submerso, pilar básico de uma estrutura de dominação.

(Adaptado de Maria Aparecida de Moraes Silva, *Errantes do fim do século*. São Paulo: Fundação Editora da Unesp, 1999.)

A respeito das relações de trabalho nas fazendas de cana-de-açúcar em várias regiões do Brasil, é correto afirmar que:

- A** A elevada mecanização da lavoura e as exigências das leis trabalhistas levam os antigos cortadores de cana a serem empregados nos setores de produção no interior das usinas de álcool e de açúcar.
- B** A expansão dos canaviais e o aumento da produção de álcool e de açúcar permitem que os trabalhadores permaneçam empregados durante todo o ano, reduzindo o trabalho sazonal.
- C** As usinas eliminam os pagamentos dos trabalhadores por produtividade no corte da cana, e, com isso, os ganhos salariais passam a ser computados apenas pelos dias trabalhados.
- D** Os trabalhadores são migrantes sazonais que se deslocam para o trabalho manual nos canaviais e retornam para suas antigas regiões após a colheita, dedicando-se a atividades de subsistência.

GABARITO

01 D	07 D	13 C	19 A
02 A	08 B	14 D	20 A
03 A	09 E	15 A	21 A
04 E	10 C	16 D	22 D
05 A	11 B	17 C	
06 C	12 D	18 A	

RASCUNHO