

Exercícios Dissertativos

1. (2000) Considerando os dados da tabela abaixo, analise a dinâmica da indústria de veículos no Brasil. Justifique as variações no total de empregados nesse ramo industrial.

**Brasil - Indústria de veículos - Produção, Exportação e Empregos 1970 - 1997
(números absolutos)**

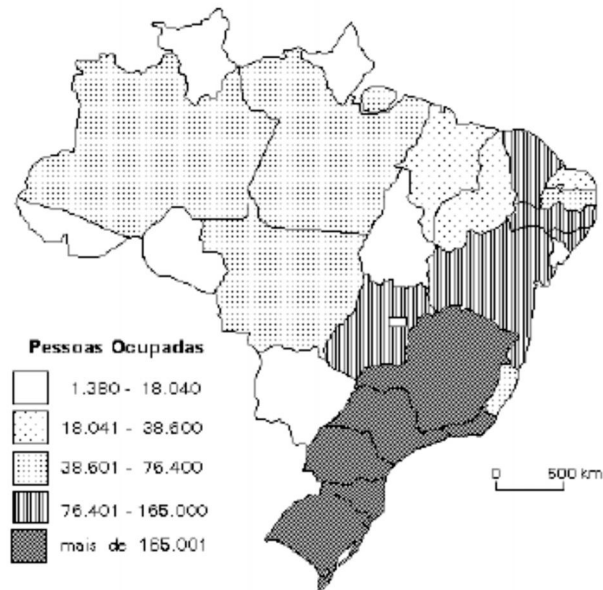
Ano	Produção (em unidades)	Exportação (em unidades)	Total de Empregados
1970	416.089	409	65.902
1980	1.165.174	157.085	133.683
1990	914.466	187.311	117.396
1997	2.069.703	416.872	106.985

(Fonte: Anuário Estatístico da ANFAVEA: 1998)

2. (2001) Analise as características das bacias hidrográficas dos rios São Francisco e Amazonas, relacionando-as ao
- (a) processo de povoamento.
 - (b) desenvolvimento de atividades econômicas do setor primário.

3. (2001)

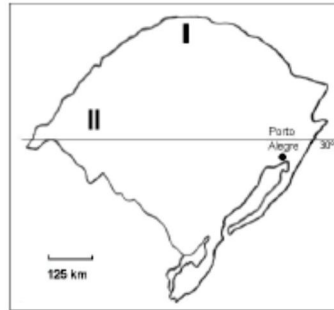
INDÚSTRIA DE TRANSFORMAÇÃO - 1996



Fonte: BIM, CD-ROM, IBGE, 2000.

- (a) Que Estados apresentam menor concentração de pessoas ocupadas na indústria de transformação? Justifique sua resposta.
- (b) Apresente duas justificativas que expliquem a maior concentração de pessoas ocupadas na indústria de transformação em quase todos os Estados das regiões Sudeste e Sul do País.

4. (2002) Explique o povoamento e o modelo agrícola das regiões I e II do Rio Grande do Sul.



Fonte: Adap. Heidrich, 1998.

-
5. (2002) As nações de grande extensão territorial têm nas hidrovias e ferrovias o centro de seus sistemas de transportes. No caso brasileiro, a ênfase é dada ao sistema rodoviário, responsável por 96% do movimento de passageiros e por 63% do transporte de carga.

- (a) Explique a predominância do transporte rodoviário no Brasil.
(b) Qual a região de maior densidade viária e de maior fluxo de transporte considerando as cinco grandes regiões do IBGE? Justifique.

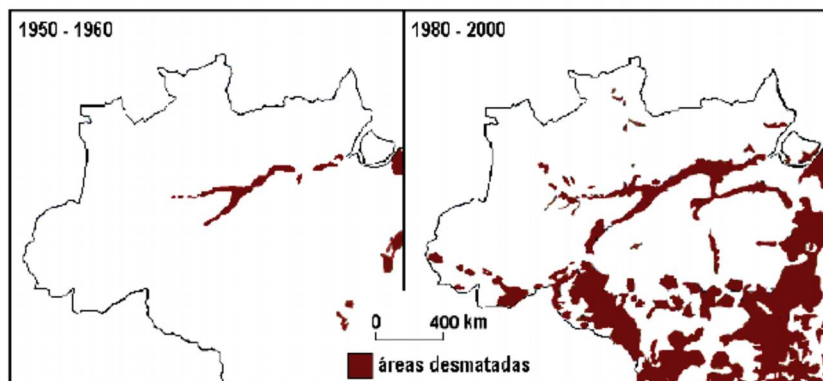
-
6. (2003) A exploração dos recursos naturais ocupa posição de destaque na Região Norte do país. Aponte e explique uma característica da mineração de ferro relacionada

- (a) à atividade econômica.
(b) aos impactos ambientais que acarreta.

-
7. (2004) O processo de globalização econômica e financeira envolve, de diferentes formas, vários países. Com base nessa afirmação:

- (a) Aponte uma característica positiva e outra negativa desse processo em relação ao Brasil.
(b) Explique-as.
-

8. (2005) Observe os mapas:



Fonte: IBGE, 2003

- (a) Descreva o avanço do desmatamento no período de 1950-2000, destacando as atividades econômicas predominantes.
- (b) Analise a participação do estado nesse processo, utilizando-se de exemplos.

9. (2006) Observe o mapa.

Foco original da febre aftosa no Brasil.
(segundo semestre de 2005)



- (a) Identifique o estado da federação brasileira em que apareceu recentemente o foco original da aftosa. Indique e explique duas possíveis causas do aparecimento desse foco.
- (b) Aponte conseqüências sócio-econômicas, uma interna e outra externa, que tenham resultado dessa ocorrência. Fundamente sua resposta.

10. (2007)

Estado de SP fica com peso menor no setor

A Pesquisa Industrial Anual do IBGE confirma a continuidade do processo de desconcentração regional da indústria no Brasil. O peso da indústria paulista caiu de 46,4% em 2000 para 42,5% em 2003. São Paulo, porém, ainda está bem à frente do segundo colocado - Minas Gerais, com 10%.

Em contrapartida ao desempenho de São Paulo, ganharam espaço, na estrutura industrial do país, Rio de Janeiro (por causa do petróleo), Paraná, Bahia, Amazonas, Goiás e Pará.

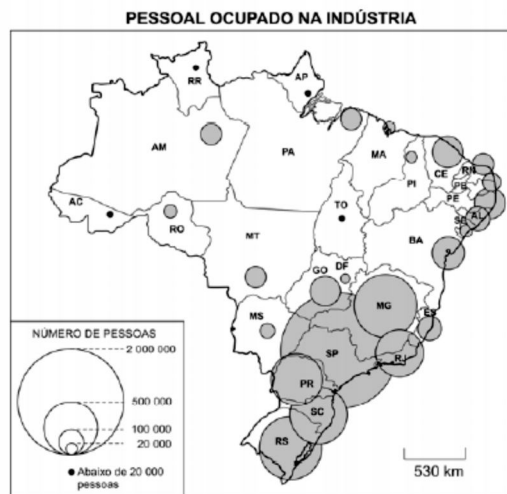
Fonte: **Adaptado de Folha de S. Paulo**, 22/06/2005.

- (a) Cite e explique dois motivos do processo de desconcentração mencionado no texto.
- (b) Identifique e explique um fenômeno geográfico decorrente da desconcentração industrial.

11. (2009) O processo de desconcentração industrial no Brasil vem sendo apontado como um dos responsáveis pelos altos índices de desemprego verificados em algumas áreas metropolitanas. Ao mesmo tempo, o setor terciário tem sido, reconhecidamente, o grande empregador no atual estágio de desenvolvimento da economia brasileira. Com base nessas informações e em seus conhecimentos,

- (a) cite e analise duas causas possíveis dessa desconcentração industrial;
- (b) explique por que o setor terciário tornou-se o maior empregador do país.

12. (2010)

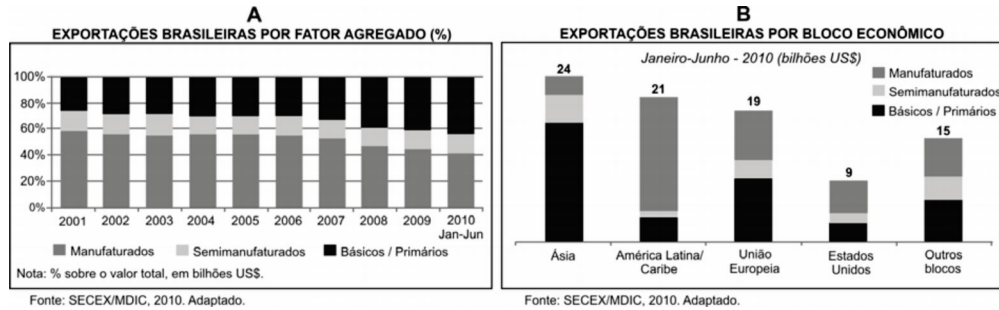


Fonte: Simielli, **Geoatlas**, 2009.

Com base no mapa acima e em seus conhecimentos,

- (a) identifique o tipo de indústria predominante na região Nordeste, considerando sua capacidade geradora de emprego.
- (b) caracterize o parque industrial da região Sudeste. Considere, na sua análise, a presença da indústria de ponta de alta tecnologia nessa região e sua capacidade geradora de emprego.

13. (2011) Observe os gráficos abaixo sobre as exportações brasileiras.



- (a) Com base no gráfico A e em seus conhecimentos, analise e explique as exportações brasileiras entre 2001 e 2010.
- (b) Compare as exportações brasileiras para a América Latina/Caribe e para a União Europeia (gráfico B). Explique as diferenças encontradas.

14. (2015)

A Convenção das Nações Unidas sobre Direito do Mar estabelece as linhas de base a partir das quais passam a ser contados o mar territorial, a zona contígua, a zona econômica exclusiva e o limite exterior da plataforma continental, bem como os critérios para o delineamento do limite exterior da plataforma.

www.marinha.mil.br. Acesso em 30/10/2014.
Adaptado.

Com base nessa Convenção, da qual o Brasil é signatário, o governo brasileiro propôs às Nações Unidas a ampliação do limite exterior de sua plataforma continental para até 350 milhas náuticas (648 km), o que resultaria em uma área total com cerca de 4,4 milhões de quilômetros quadrados, a qual vem sendo chamada pela Marinha do Brasil de “Amazônia Azul”.

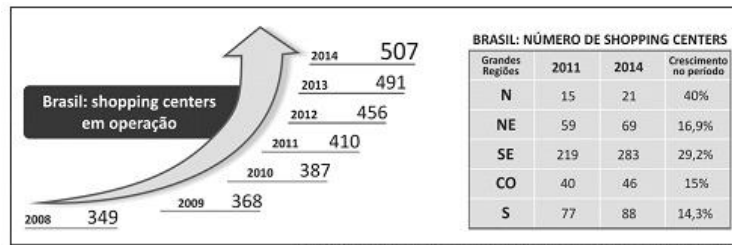


www.marinha.mil.br. Acesso em 30/10/2014. Adaptado.

Considerando o mapa e seus conhecimentos,

- (a) explique a importância geoestratégica da delimitação de áreas/zonas marítimas para as nações litorâneas;
- (b) identifique e explique duas razões da importância econômica da chamada Amazônia Azul para o Brasil.

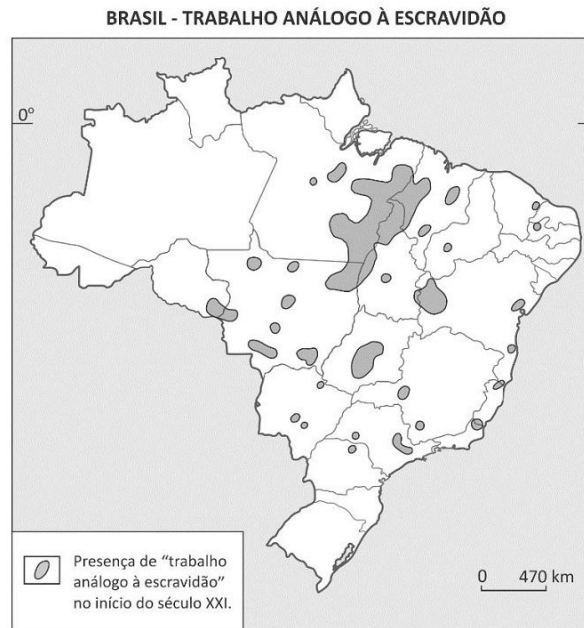
15. (2015)



Com base nas informações acima e em seus conhecimentos, identifique

- dois fatores responsáveis pelo crescimento do número de shopping centers no Brasil entre 2008 e 2014.
- duas tendências da distribuição geográfica dos shopping centers pelas diferentes regiões brasileiras, considerando o crescimento no período 2011-2014. Justifique sua resposta.

16. (2016) Observe o mapa a seguir.

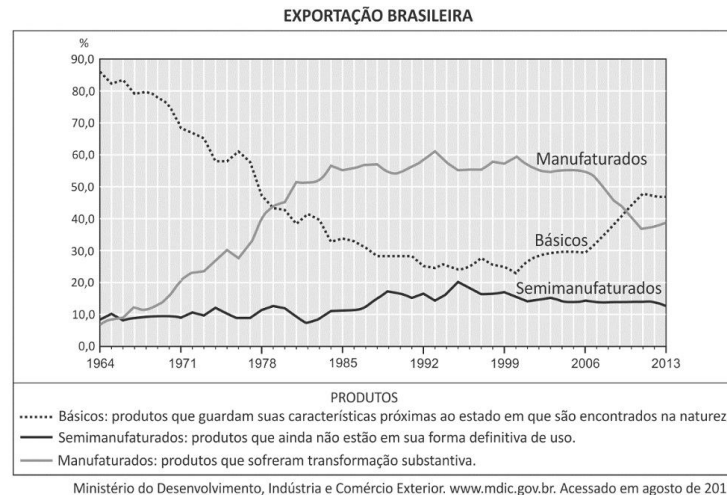


Théry et al., Atlas do Trabalho Escravo no Brasil, 2009. Adaptado.

Considere o "trabalho análogo à escravidão" no meio rural brasileiro.

- Indique dois elementos que caracterizam essa condição de trabalho. Explique.
- Identifique as três Regiões Administrativas do país em que há maior área de concentração desse fenômeno e indique duas atividades significativas nas quais os trabalhadores, submetidos a essa condição, estão inseridos.
- Descreva uma das formas de arregimentação de pessoas para essa condição de trabalho.

17. (2016) Observe o gráfico a seguir.



- (a) Analise o comportamento da pauta de exportações brasileiras no período de 1964 a 2013, interpretando as principais alterações verificadas.
- (b) A China, na atualidade, é o país que mais compra produtos brasileiros. Indique dois dos principais produtos brasileiros exportados para esse país e explique dois motivos para essa importação.
-