	<b>HPLUS</b>		
	Aluno(a):	Matrícula:	
Data:	Turma:	Nenhum:	
Professor(a):	Disciplina:	Nota:	

## SEMANA ZERO - GEOGRAFIA 06/02/2023

**Questão 1** **UFPR**  
O conceito de “cidade global” surgiu nos anos 1980 para o estudo das relações entre os processos de globalização e de urbanização.

Sobre esse tema, é correto afirmar:

- (a) As metrópoles classificadas como cidades globais são aquelas que apresentam grande relevância como centros financeiros, de serviços modernos e como sedes de empresas multinacionais.
- (b) As metrópoles de países subdesenvolvidos tornam-se cidades globais quando suas populações superam 10 milhões de habitantes, pois assim os mercados dessas metrópoles alcançam relevância no comércio mundial.
- (c) A globalização da economia tornou os territórios nacionais interdependentes e pacificou as relações entre países, de modo que as capitais nacionais perderam proeminência para os grandes centros econômicos.
- (d) As cidades globais formam uma rede que concentra a maior parte da produção industrial do mundo, o que lhes confere proeminência no comércio internacional de produtos.
- (e) O processo de urbanização completou-se na Europa antes do que nos demais continentes, razão pela qual as metrópoles europeias não atingem o mínimo de 10 milhões de habitantes necessários para serem classificadas como cidades globais.

**Questão 2** **UECE**  
No que concerne às principais características que definem a geografia regional do Brasil, assinale a afirmação verdadeira.

- (a) A vasta extensão de suas chapadas, a pobreza mineral e em nutrientes do solo e a diversidade e complexidade de seus ecossistemas fazem com que a região Centro-Oeste ainda seja um ambiente relativamente intocável, com destacada preservação do seu bioma original.
- (b) No Brasil, com exceção das Regiões Sul e Sudeste, todas as demais regiões recebem vultosos benefícios do programa do Governo Federal denominado Bolsa Família, o que se deve à redefinição dos fluxos migratórios de retorno no sentido Centro-Periferia do Território Nacional.
- (c) O rápido desenvolvimento da Região Sudeste do Brasil provocou uma desconcentração da sua atividade industrial, tornando estados como São Paulo e Rio de Janeiro grandes centros financeiros e de serviços, porém sem expressão produtiva industrial.
- (d) Muitas transformações ocorreram na região Nordeste, em especial o desenvolvimento da atividade industrial, o crescimento de importantes áreas metropolitanas e a expansão da fronteira agrícola, com o cultivo da soja na região denominada Matopiba – Maranhão, Tocantins, Piauí e Bahia – e da fruticultura em áreas de agricultura irrigada.

**Questão 3** **UECE**  
Leia atentamente o seguinte excerto:

“O foguetório, que durou até o começo da madrugada, chamou a atenção dos moradores e pôde ser observado de comunidades circunvizinhas, como os bairros Manoel Sátiro e Novo Mondubim. [...] A reportagem apurou que a comemoração teria sido promovida por uma facção de origem carioca que atua em

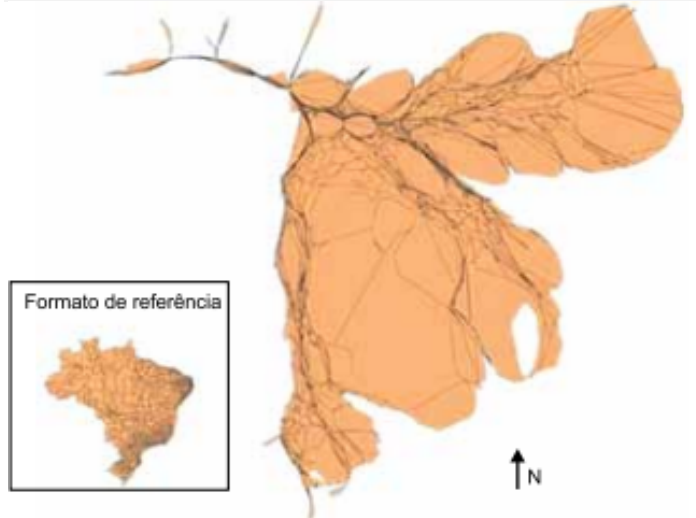
Fortaleza e Região Metropolitana. Com o disparo dos rojões, o grupo quis sinalizar para os moradores do Parque São José que assumiu o controle definitivo da área, cujo domínio pertenceria a uma facção inimiga proveniente de São Paulo”.

Facção faz queima de fogos para comemorar. O Povo, 23 de out. de 2021.

O conceito geográfico que adequadamente expressa as disputas de poder no espaço urbano é denominado

- (a) território.
- (b) domínio.
- (c) espaço vital.
- (d) área.

**Questão 4** **CUSC**

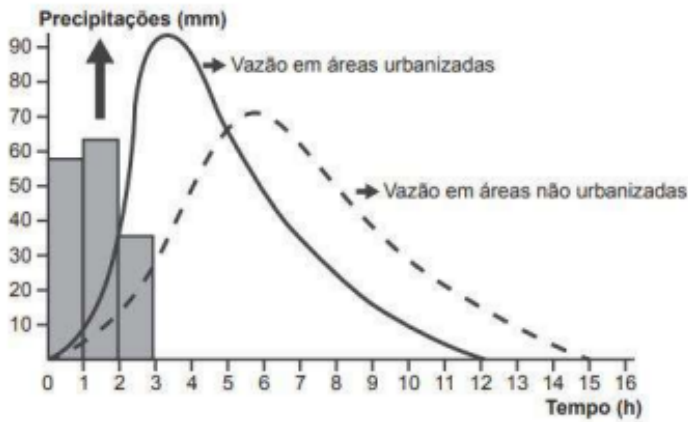


(Hervé Théry e Neli Aparecida de Mello-Théry. Disparidades e dinâmicas do território brasileiro. XV EGAL, 2015. Adaptado.)

A representação cartográfica do território brasileiro apresentada tem como tema a

- (a) geração de energia eólica.
- (b) densidade demográfica.
- (c) participação no PIB industrial.
- (d) extensão de gasodutos.
- (e) produção agropecuária.

**Questão 5** **UVV**



A dinâmica hidrológica não é espacialmente homogênea.

Disponível em: <http://biologiasur.org>. Acesso em: 26/07/2021.

(Adaptações)

Com base na imagem, no texto acima e nos seus conhecimentos, marque a opção correta:

- (a) A impermeabilização do solo significa ganho da capacidade de absorção da água pelo solo.
- (b) O tempo de vazão em áreas não urbanizadas é menor do que o tempo de vazão em áreas urbanizadas.
- (c) A impermeabilização do solo significa ganho da capacidade de absorção da água pelo solo apenas nas áreas urbanas.
- (d) As áreas urbanas apresentam maior impermeabilização do solo do que as áreas rurais.
- (e) A vazão em áreas não urbanizadas não é influenciada pelo percentual de vias asfaltadas.

#### Questão 6

UECE

Leia atentamente a seguinte descrição de um conceito geográfico:

“É um conjunto de formas que, em um dado período, revela as heranças que representam as relações espacializadas entre homem e natureza, ou sociedade e espaço. Dotada de aspectos naturais e culturais do mundo, revela os aspectos perceptíveis do espaço geográfico possíveis de serem percebidos, contemplados e conhecidos a partir dos órgãos dos sentidos”.

O enunciado acima descreve o conceito geográfico de

- (a) lugar.
- (b) meio.
- (c) território.
- (d) paisagem.

#### Questão 7

FGV-RJ

O Ministério da Economia é uma instituição recente na História do Brasil. Ele foi implementado em 2019 como resultado da fusão dos antigos ministérios da Fazenda, do Planejamento, Desenvolvimento e Gestão e do Ministério do Trabalho, entre outros. O Ministério da Economia é responsável pelo fomento e execução da política econômica nacional, atuando através de um conjunto de órgãos.

A respeito do funcionamento e das atribuições dos órgãos que integram o atual Ministério da Economia, analise as afirmações a seguir e assinale (V) para a verdadeira e (F) para a falsa.

- ( ) A Casa da Moeda é uma empresa estatal responsável pela emissão de papel-moeda de forma segura com o propósito de promover a confiabilidade na circulação, identificação e rastreabilidade do dinheiro impresso.
- ( ) O Banco Nacional de Desenvolvimento Econômico e Social (BNDES) é um banco comercial que efetua empréstimos a países em desenvolvimento financiando projetos de infraestrutura e estreitando as relações com o Brasil.
- ( ) O Conselho Monetário Nacional tem como principal responsabilidade a formulação da política monetária e de crédito do sistema financeiro brasileiro.

As afirmações são, na ordem apresentada, respectivamente,

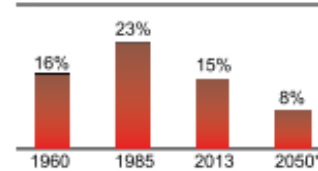
- (a) V – F – V.
- (b) V – V – F.
- (c) F – V – F.
- (d) F – V – V.
- (e) V – V – V.

#### Questão 8

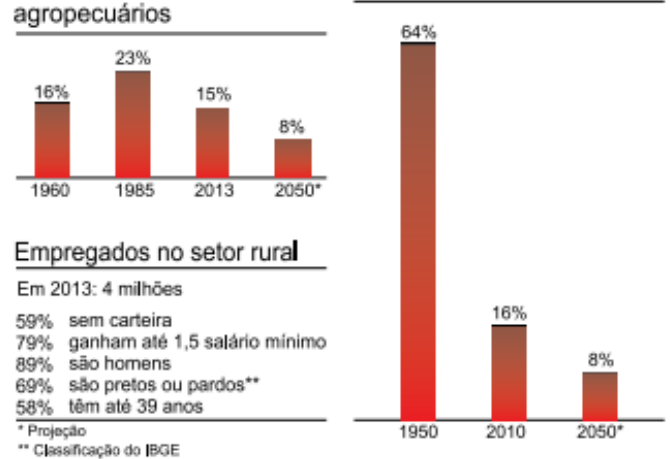
UEA - SIS

Analise os gráficos.

Trabalhadores em estabelecimentos agropecuários



População no setor rural



(Vitor Nuzzi. [www.redebrasilatual.com.br](http://www.redebrasilatual.com.br), 20.12.2014.)

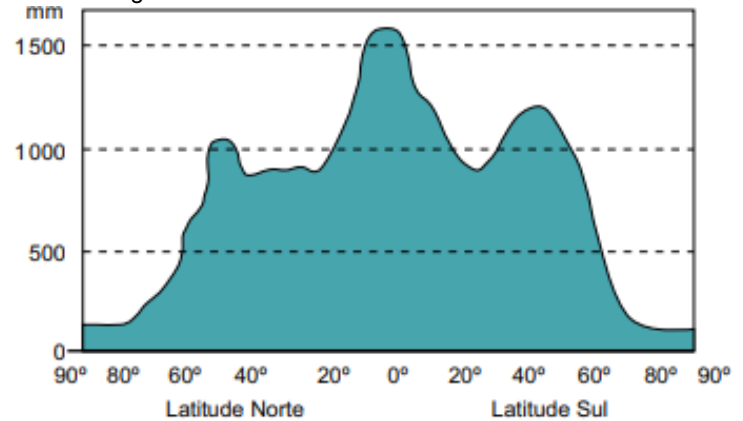
A tendência analisada nos gráficos é consequência

- (a) da reduzida captação de investimentos do agronegócio.
- (b) das transformações impulsionadas pela Revolução Verde.
- (c) da ampliação da concorrência internacional no setor primário.
- (d) da redução do uso de maquinários agrícolas nas grandes propriedades.
- (e) da baixa produtividade das pequenas propriedades rurais.

#### Questão 9

UEA - SIS

Observe o gráfico



(Fillipe T. P. Torres. *Introdução à hidrogeografia*, 2012.)

A distribuição das precipitações mostradas no gráfico está relacionada

- (a) à cobertura vegetal de porte herbáceo.
- (b) às barreiras orográficas nos litorais.
- (c) à intensa reflexividade das superfícies.
- (d) à ressurgência das correntes marítimas.
- (e) à diferença de pressão atmosférica

#### Questão 10

ENEM PPL

A partir da década de 1990, parte significativa da agricultura brasileira sofreu grandes transformações com a adoção de novas tecnologias de informação, menor intervenção estatal e maior regulação das empresas mundiais de insumos e comércio agrícola. Trata-se da emergência de uma agricultura científica e globalizada. FEDERICO, S. Agricultura científica globalizada e fronteira agrícola no mundo moderno. Disponível em: [www.confins.revues.org](http://www.confins.revues.org).

No campo brasileiro, as transformações descritas no texto tiveram como efeito o(a)

a) primazia do cultivo orgânico.

- b) superação do modelo exportador.
- c) valorização de saberes tradicionais.
- d) abrandamento dos conflitos violentos.
- e) fortalecimento de atividades monocultoras.