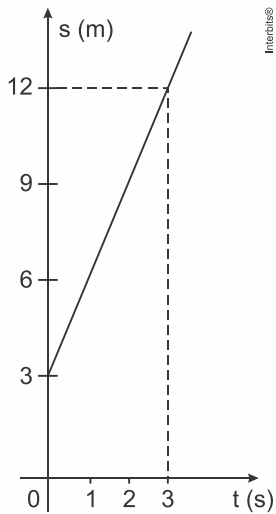


1. (Espcex (Aman) 2020) Considere um objeto que se desloca em movimento retilíneo uniforme durante 10 s. O desenho abaixo representa o gráfico do espaço em função do tempo.



Desenho ilustrativo - fora de escala

O espaço do objeto no instante $t = 10$ s, em metros, é

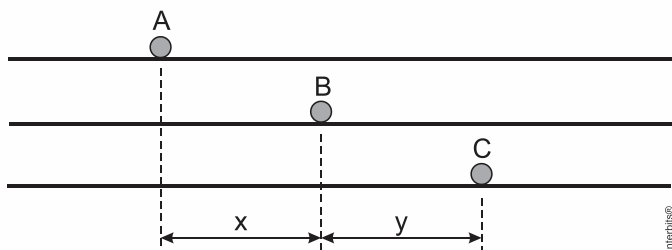
- a) 25 m.
- b) 30 m.
- c) 33 m.
- d) 36 m.
- e) 40 m.

TEXTO PARA A PRÓXIMA QUESTÃO:

Nas questões a seguir, quando necessário, use:

- Aceleração da gravidade: $g = 10 \text{ m/s}^2$;
- Calor específico da água: $c = 1,0 \text{ cal/g } ^\circ\text{C}$;
- $\sin 45^\circ = \cos 45^\circ = \sqrt{2}/2$.

2. (Epcar (Afa) 2019) Três partículas, A, B e C, movimentam-se, com velocidades constantes, ao longo de uma mesma direção. No instante inicial, $t_0 = 0$, a distância entre A e B vale x , e entre B e C vale y , conforme indica a figura a seguir.



Em $t = 2$ s, a partícula A cruza com a partícula B. Em $t = 3$ s, a partícula A cruza com a partícula C. A partícula C alcançará a partícula B no instante dado pela relação

- a) $\frac{6y}{2y - x}$
- b) $\frac{6(y - x)}{2y - 3x}$
- c) $\frac{y - x}{3x}$
- d) $\frac{3y}{y - x}$

3. (Espcex (Aman) 2017) Um trem de 150 m de comprimento se desloca com velocidade escalar constante de 16 m/s. Esse trem atravessa um túnel e leva 50 s desde a entrada até a saída completa de dentro dele. O comprimento do túnel é de:

- a) 500 m
- b) 650 m
- c) 800 m
- d) 950 m
- e) 1.100 m

TEXTO PARA A PRÓXIMA QUESTÃO:

Se necessário, use

aceleração da gravidade: $g = 10 \text{ m/s}^2$

densidade da água: $d = 1,0 \text{ kg/L}$

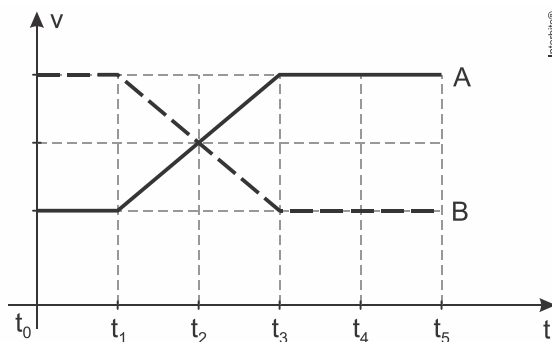
calor específico da água: $c = 1 \text{ cal/g}^\circ\text{C}$

$1 \text{ cal} = 4 \text{ J}$

constante eletrostática: $k = 9,0 \cdot 10^9 \text{ N} \cdot \text{m}^2 / \text{C}^2$

constante universal dos gases perfeitos: $R = 8 \text{ J/mol} \cdot \text{K}$


4. (Epcar (Afa) 2016) Dois móveis, A e B, partindo juntos de uma mesma posição, porém com velocidades diferentes, que variam conforme o gráfico abaixo, irão se encontrar novamente em um determinado instante.



Considerando que os intervalos de tempo $t_1 - t_0$, $t_2 - t_1$, $t_3 - t_2$, $t_4 - t_3$ e $t_5 - t_4$ são todos iguais, os móveis A e B novamente se encontrarão no instante

- a) t_4
- b) t_5
- c) t_2
- d) t_3

5. (Espcex (Aman) 2012) Um avião bombardeiro deve interceptar um comboio que transporta armamentos inimigos quando este atingir um ponto A, onde as trajetórias do avião e do comboio se cruzarão. O comboio partirá de um ponto B, às 8 h, com uma velocidade constante igual a 40 km/h, e percorrerá uma distância de 60 km para atingir o ponto A. O avião partirá de um ponto C, com velocidade constante igual a 400 km/h, e percorrerá uma distância de 300 km até atingir o ponto A. Consideramos o avião e o comboio como partículas descrevendo trajetórias retilíneas. Os pontos A, B e C estão representados no desenho abaixo.



Para conseguir interceptar o comboio no ponto A, o avião deverá iniciar o seu voo a partir do ponto C às:

- a) 8 h e 15 min.
- b) 8 h e 30 min.
- c) 8 h e 45 min.
- d) 9 h e 50 min.
- e) 9 h e 15 min.

6. (Epcar (Afa) 2011) Dois automóveis A e B encontram-se estacionados paralelamente ao marco zero de uma estrada. Em um dado instante, o automóvel A parte, movimentando-se com velocidade escalar constante $V_A = 80$ km/h. Depois de certo intervalo de tempo, Δt , o automóvel B parte no encalço de A com velocidade escalar constante $V_B = 100$ km/h. Após 2 h de viagem, o motorista de A verifica que B se encontra 10 km atrás e conclui que o intervalo Δt , em que o motorista B ainda permaneceu estacionado, em horas, é igual a

- a) 0,25
- b) 0,50
- c) 1,00
- d) 4,00

Fábrica



Gabarito:

Resposta da questão 1:

[C]

Cálculo da velocidade do objeto:

$$v = \frac{\Delta s}{\Delta t} = \frac{12 - 3}{3 - 0} \Rightarrow v = 3 \text{ m/s}$$

Equação horária do espaço:

$$s(t) = s_0 + vt \Rightarrow s(t) = 3 + 3t$$

Portanto:

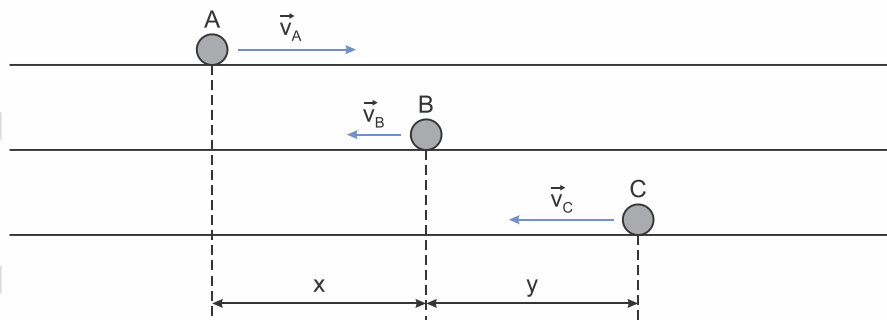
$$s(10) = 3 + 3 \cdot 10$$

$$\therefore s(10) = 33 \text{ m}$$

Resposta da questão 2:

[A]

Para os encontros ocorrerem como citado no enunciado, a partícula A deve estar se movimentando para a direita (sentido considerado positivo) enquanto as partículas B e C movimentem-se em sentido contrário (negativo) sendo que o módulo da velocidade de C é maior que B.



No tempo zero, as equações horárias das partículas são dadas por:

Partícula A:	Partícula B:	Partícula C:
$s_A = v_A t$	$s_B = x - v_B t$	$s_C = x + y - v_C t$

Nos encontros, as posições são iguais, assim:

Em 2 s, A encontra-se com B :

$$s_A = s_B$$

$$v_A t = x - v_B t$$

$$2v_A = x - 2v_B$$

$$v_A + v_B = \frac{x}{2}$$

$$v_B = \frac{x}{2} - v_A \quad (1)$$

Em 3 s, A encontra-se com C :

$$s_A = s_C$$

$$v_A t = x + y - v_C t$$

$$3v_A = x + y - 3v_C$$

$$3(v_A + v_C) = x + y$$

$$v_C = \frac{x+y}{3} - v_A \quad (2)$$

Tempo de encontro entre C e B :

$$s_B = s_C$$

$$x - v_B t = x + y - v_C t$$

$$(v_C - v_B)t = y$$

$$t = \frac{y}{v_C - v_B} \quad (3)$$

Substituindo-se as equações (1) e (2) na equação (3), finalmente temos:

$$t = \frac{y}{\frac{x+y}{3} - v_A - \left(\frac{x}{2} - v_A\right)}$$

$$t = \frac{y}{\frac{x+y}{3} - \frac{x}{2}}$$

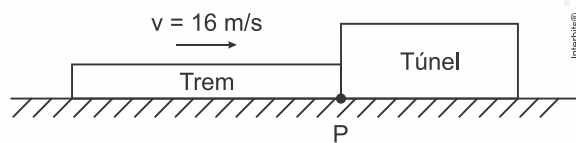
$$t = \frac{y}{\frac{2x+2y-3x}{6}}$$

$$t = \frac{6y}{2y-x}$$

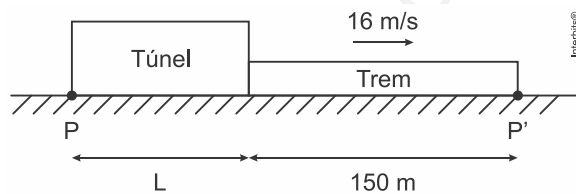
Resposta da questão 3:

[B]

Situação 1: Trem iniciando a estrada ao túnel.



Situação 2: Trem finalizando a travessia do túnel.



O deslocamento total do trem durante a travessia foi tal que:

$$\Delta S = PP' = L + 150 \quad (1)$$

Como a velocidade do trem é constante, então:

$$v = \frac{\Delta S}{\Delta t} = \Delta S = v \cdot \Delta t \quad (2)$$

Substituindo-se a equação (1) na equação (2), tem-se que:

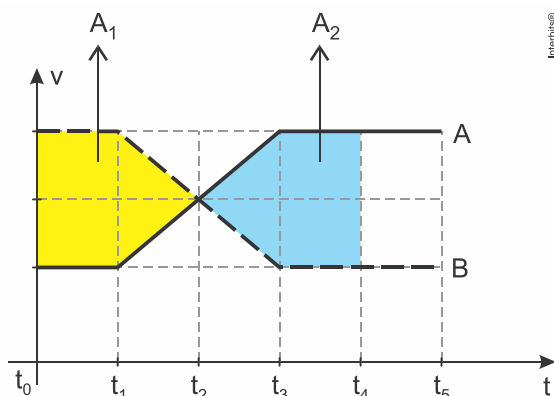
$$L + 150 = v \cdot \Delta t \Rightarrow L = v \cdot \Delta t - 150 \quad (3)$$

Substituindo-se os valores dos parâmetros conhecidos na equação (3), tem-se que:

$$L = v \cdot \Delta t - 150 = 16 \times 50 - 150 = 800 - 150 = \boxed{650 \text{ m}}$$

Resposta da questão 4:

[A]



O móvel B começa com maior velocidade em relação ao móvel A inicialmente e, portanto como a distância percorrida representa a área sob a curva $v \times t$, a área pintada de amarelo representa a vantagem percorrida por B em relação à A até o momento t_2 quando as velocidades dos dois móveis passam a ser iguais (área A_1), a partir do qual com o móvel B desacelerando e o móvel A acelerando com o mesmo módulo. Como os móveis acabam invertendo as velocidades, agora é o móvel A que começa a percorrer maior distância com o tempo e a área pintada de azul representa a vantagem de A em relação à B (área A_2).

Para que os dois móveis se encontrem novamente estas áreas devem ser iguais, portanto o encontro se dá no tempo t_4 .

Resposta da questão 5:

[C]

Como o comboio partirá do ponto B, às 8 h, com uma velocidade constante igual a 40 km/h, e percorrerá uma distância de 60 km para atingir o ponto A, temos:

- tempo de viagem do comboio: $V = \frac{\Delta S}{\Delta t} \rightarrow 40 = \frac{60}{\Delta t} \rightarrow \Delta t = 1,5h$

$$t = 8 + 1,5 = 9,5h \rightarrow t = 9h30min$$

Conclusão: o comboio chega ao ponto A às 9h30min.

Como o avião partirá de um ponto C, com velocidade constante igual a 400 km/h, e percorrerá uma distância de 300 km até atingir o ponto A, temos:

- tempo de viagem do avião: $V = \frac{\Delta S}{\Delta t} \rightarrow 400 = \frac{300}{\Delta t} \rightarrow \Delta t = 0,75h \rightarrow \Delta t = 45min$

Para conseguir interceptar o comboio no ponto A, o avião deverá chegar ao ponto juntamente com o comboio, às 9h30min, ou seja: $9h30min - 45min = 8h45min$

Conclusão: o avião deverá sair do ponto C às 8h45min, para chegar junto com o comboio no ponto A, às 9h30min.

Resposta da questão 6:

[B]

Dados: $v_A = 80 \text{ km/h}$; $v_B = 100 \text{ km/h}$; $D = 10 \text{ km}$; $t_A = 2 \text{ h}$.

Como ambos são movimentos uniformes, considerando a origem no ponto de partida, temos:

$$\begin{cases} S_A = v_A t_A \Rightarrow S_A = 80t_A \\ S_B = v_B t_B \Rightarrow S_B = 100t_B \end{cases}$$

Após 2 h ($t_A = 2 \text{ h}$) a distância entre os dois automóveis é 10 km, estando B atrás. Então:

$$S_A - S_B = 10 \Rightarrow 80t_A - 100t_B = 10 \Rightarrow 80(2) - 100t_B = 10 \Rightarrow 150 = 100t_B \Rightarrow t_B = 1,5 \text{ h.}$$

Mas:

$$\Delta t = t_A - t_B = 2 - 1,5 \Rightarrow \Delta t = 0,5 \text{ h.}$$

Fábrica

D