



**Estratégia**  
CONCURSOS

**Aula 11**

**Matemática III p/ Escola de Sargentos das Armas (EsSA) Com  
videoaulas - Pós-Edital**

Italo Marinho Sá Barreto

# Aula 11: Esferas.

## Sumário

<b>1 – Esferas</b>	<b>3</b>
1.1 – Definição e elementos básicos .....	3
1.2 – Áreas e volumes em uma esfera .....	6
1.3 – GABARITO .....	18



E aqui estamos, jovem. Finalizando o nosso extenso e completo curso de geometria! Foi, como a expressão inglesa diz, *quite a journey*, uma grande jornada! Mas eventualmente chegamos a um fim, e essa é a nossa última aula.

Antes de discursar um pouco sobre ela, gostaria de te informar o prazer que é estar escrevendo diretamente para você. desde o início, meu objetivo foi trazer conhecimento com pitadas lúdicas e, acima de tudo, com a didática que pudesse atravessar o seu intelecto de forma suave.

Em alguns momentos isso se mostrou impossível, dada a complexidade do tema, e é por isso que escolhi colocar tantos exercícios. Fazer e refazer os exercícios é chave para o seu contínuo processo de aprendizagem. Não se sinta mal ou inferior por não conseguir fazer exercícios. Mesmo que nesse andar ainda sejam a maioria. A gradação aqui não é linear, é exponencial, então, quando menos esperar, suas listas já serão bem entendidas muito além de uma mera metade. Você está no caminho certo, jovem, e eu te garanto a completude de nosso conteúdo!

Pois bem, finalizaremos com *nossa aula mais curta*. Esferas é um assunto rápido e sucinto, felizmente não lhe trará problemas maiores. Falaremos sobre a sua definição, volume, área e sobre secções não-equatoriais. E será, essencialmente isso que falaremos hoje. Como disse, um assunto bem curto.

Meu jovem querido, é, repito, um grande prazer ter estado aqui com você, e não se esqueça que nosso contato continua: use e abuse do nosso fórum de dúvidas, entre em contato direto se quiser, enfim. Estou à disposição. Um grande abraço para você e fique na paz! Bons estudos!





DISPONÍVEL	CONTEÚDO
Aula 00	<i>Fundamentos da Geometria Plana: elementos primitivos, axiomas e postulados. Ângulos: definição, elementos, notações, unidades de medida, classificação, ângulos consecutivos, ângulos adjacentes, bissetriz de um ângulo, ângulos opostos pelo vértice, retas paralelas cortadas por transversais. Triângulos: definição, elementos, relações angulares, condição de existência, classificação, cevianas, pontos notáveis, base média, congruência.</i>
Aula 01	<i>Teorema de Tales, semelhança de triângulos e teorema das bissetrizes. Relações métricas no triângulo retângulo. Polígonos: definição, elementos, nomenclatura, polígonos côncavos, polígonos convexos, classificação, relações angulares e número de diagonais.</i>
Aula 02	<i>Quadriláteros notáveis: definição, elementos, relações angulares, classificação, base média e mediana de Euler.</i>
Aula 03	<i>Polígonos regulares: Polígonos regulares inscritos e polígonos regulares circunscritos. Circunferência: definição de circunferência e de círculo, elementos, posições relativas, ângulos na circunferência, quadriláteros inscritíveis, teorema de Pitot, e potência de ponto.</i>
Aula 04	<i>Trigonometria: razões trigonométricas no triângulo retângulo, trigonometria num triângulo qualquer (Lei dos senos e dos cossenos)</i>
Aula 05	<i>Circunferência trigonométrica, operações com arcos (adição, subtração e arco duplo) e funções trigonométricas.</i>
Aula 06	<i>REVISIONAL ESTRATÉGICO</i>
Aula 07	<i>Áreas de figuras planas.</i>
Aula 08	<i>Introdução à Geometria Espacial: poliedros.</i>
Aula 09	<i>Prismas: definição, elementos, classificação, planificação, áreas, volume e casos especiais: cubos e paralelepípedos. Cilindros: definição, elementos, classificação, planificação, áreas e volume.</i>
Aula 10	<i>Pirâmides: definição, elementos, classificação, relações métricas na pirâmide, áreas e volume. Cones: definição, elementos, classificação, relação métricas no cone, áreas e volume.</i>
Aula 11	<i>Esferas: definição, elementos, secção esférica, área da superfície esférica e volume. Troncos.</i>
Aula 12	<i>REVISIONAL ESTRATÉGICO</i>



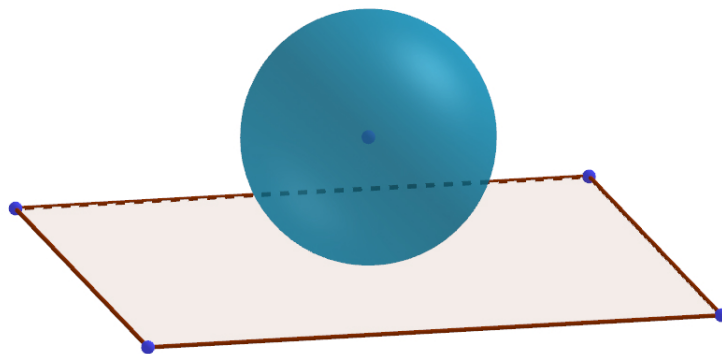
## 1.0- ESFERAS

### 1.1- DEFINIÇÃO E ELEMENTOS BÁSICOS

#### Definição

Tudo começa quando consideramos um ponto  $C$  qualquer, no espaço. Imagine esse ponto, como algo flutuando pelo espaço. Agora, considere uma distância qualquer, a qual chamarei de  $R$ . Por fim, considere todos os pontos que possuem uma distância  $R$  do ponto  $C$ . O conjunto de todos esses pontos do espaço é o que chamamos de **esfera centrada em  $C$** .

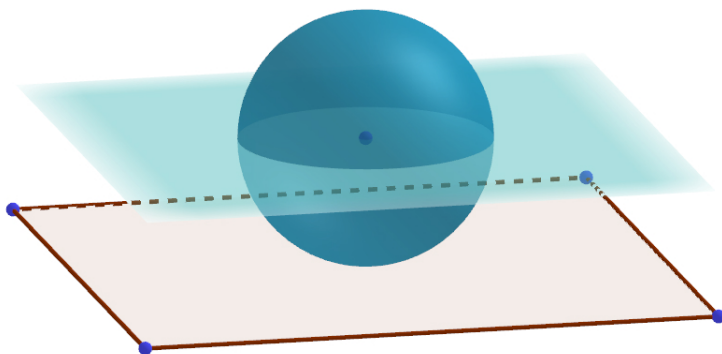
Vejamos uma imagem de uma esfera como tal:



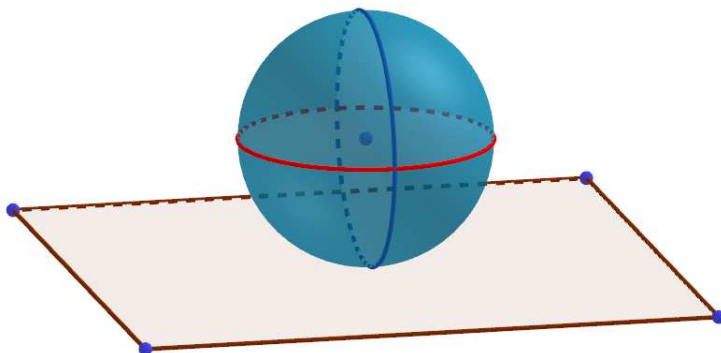
Os elementos mais importantes de uma esfera são, portanto: seu centro e o seu raio. Perceba que a distância de qualquer ponto da superfície esférica até o seu centro será sempre igual ao seu raio.

#### Secções meridionais e equatoriais

Considere uma secção plana que contenha o centro de uma esfera, como a seguir:



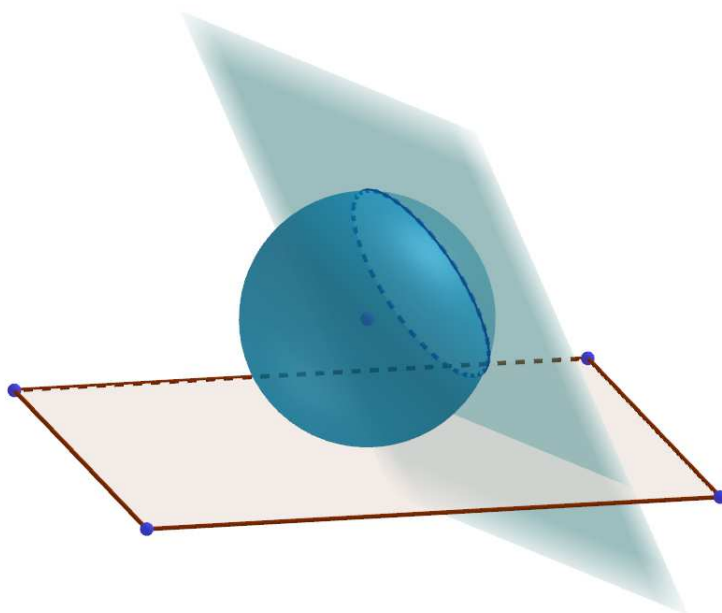
Dessa secção, podemos destacar dois círculos: o azul e o avermelhado. O círculo avermelhado, contido no plano, é, sob a perspectiva que enxergamos a esfera, o que chamamos de uma **secção equatorial da esfera**. Alguns textos chamam esse círculo de **equador** da esfera.



Já o círculo azulado é o que chamamos de uma **secção meridional da esfera**.

### Secções não-meridionais

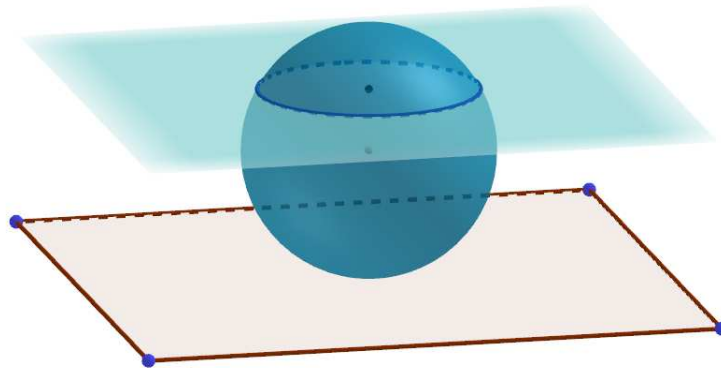
Uma secção será dita não-meridional quando não contiver o centro da esfera. Veja abaixo um exemplo de secção plana não-meridional:



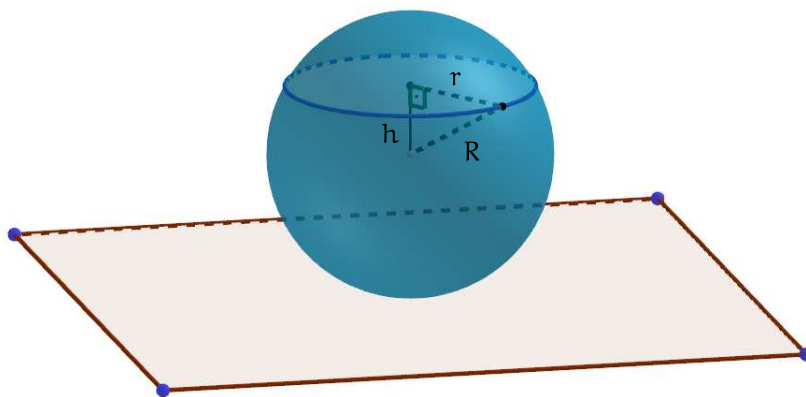
Segue um fato importante sobre secções quaisquer em esferas:

Toda e qualquer secção esférica plana será circular.

Isso significa que sempre que cortarmos uma esfera o formato do corte será circular, isto é, a interseção do plano de corte com a esfera. Veja abaixo mais um exemplo de corte circular:



Suponha que esse corte tenha sido feito a uma distância  $h$  do centro dessa esfera de raio  $R$ . Suponha também que o círculo da secção tenha raio  $r$ , da seguinte forma:



Pelo teorema de Pitágoras, podemos concluir que:

$$R^2 = h^2 + r^2.$$



*Até aqui até que está mais ou menos fácil...*

Sim, coruja, e acredita que já estamos praticamente acabando o conteúdo de esferas? Pois é, como eu disse, é um conteúdo rápido e sucinto. Mas tome cuidado. Há um certo aspecto de esferas que pode trazer grandes dificuldades: inscrição e circunscrição. Veremos mais sobre esses conceitos no decorrer dos exercícios. Agora, vamos aos

conceitos de volume e superfície. Sigamos, então?

## 1.2- ÁREAS E VOLUMES EM UMA ESFERA

### Superfície esférica

Superfície esférica é a “casca” que cobre a esfera. Trata-se de sua fronteira, é aquilo que delimita a esfera em si. Podemos calcular a área da superfície  $S$  de uma esfera de raio  $R$  a partir da expressão abaixo:

$$S = 4\pi R^2.$$

Não demonstrarei essa expressão, por fugir os propósitos dessa aula, assim como também não demonstrarei a expressão que calcula o volume.

### Volume de uma esfera

Dada uma esfera de raio  $R$ , podemos calcular o seu volume  $V$  a partir da seguinte expressão:

$$V = \frac{4\pi R^3}{3}.$$





■■■(EEAR-2001) QUESTÃO 1\_\_\_\_\_

Um plano secciona uma esfera, determinando um círculo de raio igual à distância do plano ao centro da esfera. Sendo  $36\pi\text{cm}^2$  a área do círculo, o volume da esfera, em  $\text{cm}^3$ , é:

- (a)  $228\sqrt{2}\pi$
- (b)  $576\sqrt{2}\pi$
- (c)  $288\pi$
- (d)  $576\pi$

■■■(EEAR-2001) QUESTÃO 2\_\_\_\_\_

Ao seccionar uma esfera, um plano determina um círculo de raio 16 cm. Se a distância do plano ao centro da esfera é de 12 cm, então o raio da esfera, em cm, vale

- (a) 20
- (b) 28
- (c) 30
- (d) 38

■■■(EEAR-2002) QUESTÃO 3\_\_\_\_\_

Se um cilindro reto está circunscrito a uma esfera de raio R, então a razão entre a área da superfície esférica e a área total do cilindro é

- (a) 1
- (b)  $\frac{1}{2}$
- (c)  $\frac{2}{3}$





(d)  $\frac{4}{5}$

#### ■■■(EEAR-2003) QUESTÃO 4

---

Se um cubo está inscrito em uma esfera de  $\sqrt{3}$  m de raio, então o volume do cubo, em  $m^3$ , é igual a

- (a) 8
- (b) 27
- (c)  $12\sqrt{3}$
- (d)  $24\sqrt{3}$

#### ■■■(EEAR-2005) QUESTÃO 5

---

Considere as afirmações:

- I- A esfera é um sólido gerado pela rotação de uma semicircunferência em torno de seu diâmetro.
- II- A esfera é um sólido gerado pela rotação de um semicírculo em torno de seu diâmetro.
- III- Nem toda secção plana de uma esfera é um círculo.
- IV- Toda secção plana de uma esfera é um círculo.

São FALSAS as afirmações

- (a) I e IV.
- (b) I e III.
- (c) II e III.
- (d) II e IV

#### ■■■(EEAR-2006) QUESTÃO 6

---

Uma esfera tem  $36\pi m^3$  de volume. A medida de sua superfície, em  $m^2$ , e

- (a)  $72\pi$
- (b)  $56\pi$
- (c)  $48\pi$
- (d)  $36\pi$



### ■■■(EEAR-2007) QUESTÃO 7

Um reservatório, com volume igual a  $144\pi\text{m}^3$ , tem a forma de uma semi-esfera. Para aumentar seu volume em  $342\pi\text{m}^3$ , é preciso aumentar o raio do reservatório em

- (a) 12m.
- (b) 9m.
- (c) 6m.
- (d) 3m.

### ■■■(EEAR-2008) QUESTÃO 8

Uma esfera tem  $9\pi\text{cm}^2$  de área. Para que a área passe a  $100\pi\text{cm}^2$ , o raio deve ter sua medida aumentada em

- (a)  $\frac{70}{9}\%$
- (b)  $\frac{70}{3}\%$
- (c)  $\frac{700}{9}\%$
- (d)  $\frac{700}{3}\%$

### ■■■(EEAR-2008) QUESTÃO 9

Considere duas esferas: a primeira com  $16\pi\text{cm}^2$  de área, e a segunda com raio igual a  $\frac{5}{2}$  do raio da primeira. A área da segunda esfera, em  $\text{cm}^2$ , é

- (a)  $100\pi$ .
- (b)  $50\pi$ .
- (c)  $40\pi$ .
- (d)  $20\pi$ .

### ■■■(EEAR-2008) QUESTÃO 10

Uma esfera tem  $100\pi\text{cm}^2$  de área. Se diminuirmos o raio dessa esfera em  $t\text{cm}$ , sua área passa a ser  $64\pi\text{cm}^2$ . Logo, o valor de  $t$  é

- (a) 4.
- (b) 3.



- (c) 2.
- (d) 1.

### ■■■(EEAR-2011) QUESTÃO 11

---

A cuba de uma pia tem a forma de uma semi-esfera de 3dm de raio. A capacidade dessa cuba é \_\_\_\_  $\pi$  litros.

- (a) 12.
- (b) 14.
- (c) 16.
- (d) 18.

### ■■■(EEAR-2012) QUESTÃO 12

---

Uma Escola de Samba carregou, em um de seus carros alegóricos, uma imensa esfera de 5m de raio. O pintor da Escola disse que gastou 10 litros de tinta para pintar cada  $157\text{m}^2$  da superfície da esfera. Considerando  $\pi = 3,14$ , o número de litros de tinta que foram gastos para pintar toda a superfície da esfera foi

- (a) 16.
- (b) 18.
- (c) 20.
- (d) 22.

### ■■■(EEAR-2014) QUESTÃO 13

---

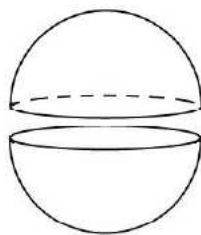
Considerando  $\pi = 3$ , utilizando  $108\text{cm}^3$  de chumbo pode-se construir uma esfera de \_\_\_\_ cm de diâmetro.

- (a) 7
- (b) 6
- (c) 5
- (d) 4



■■■(EEAR-2015) QUESTÃO 14

Uma esfera de raio  $R = 3$  cm foi cortada ao meio, gerando duas semi-esferas.

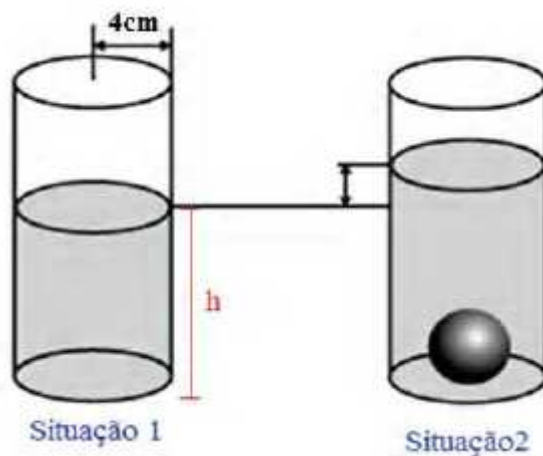


A área da superfície de cada semi-esfera é  $\_\_\_ \pi \text{cm}^2$ .

- (a) 20
- (b) 22
- (c) 25
- (d) 27

■■■(EEAR-2016) QUESTÃO 15

Na ilustração a seguir, são apresentadas duas situações.



Na primeira, o cilindro contém um líquido que atinge uma altura  $h$ . Inserindo-se uma esfera de 3 cm de raio nesse mesmo cilindro, o nível do líquido aumenta, conforme situação 2. O novo volume, determinado pelo líquido somado à esfera, totaliza  $588 \text{cm}^3$ . Considerando  $\pi = 3$  e o raio da base do cilindro igual a 4 cm, a medida da altura  $h$  corresponde a  $\_\_\_ \text{cm}$ .

- (a)  $h = 8$
- (b)  $h = 10$
- (c)  $h = 16$



(d)  $h = 32$

### ■■■(EEAR-2016) QUESTÃO 16

Uma esfera inscrita em um cubo de diagonal  $2\sqrt{3}$  m tem o volume igual a

- (a)  $\frac{\pi}{3} \text{ m}^3$
- (b)  $\frac{2\pi}{3} \text{ m}^3$
- (c)  $\frac{4\pi}{3} \text{ m}^3$
- (d)  $\frac{32\pi}{3} \text{ m}^3$

### ■■■(EEAR-2017) QUESTÃO 17

Considere um recipiente em forma de cubo, completamente cheio de água. Se três esferas metálicas de 1 cm de raio forem colocadas dentro do recipiente, o volume de água que será derramado será de  $\_\_\_ \pi \text{ cm}^3$ .

- (a) 3
- (b) 4
- (c) 5
- (d) 6

### ■■■(EEAR-2017) QUESTÃO 18

Um escultor irá pintar completamente a superfície de uma esfera de 6 m de diâmetro, utilizando uma tinta que, para essa superfície, rende  $3 \text{ m}^2$  por litro. Para essa tarefa, o escultor gastará, no mínimo,  $\_\_\_$  litros de tinta. (Considere  $\pi = 3$ )

- (a) 18
- (b) 24
- (c) 36
- (d) 48

### ■■■(EEAR-2017) QUESTÃO 19

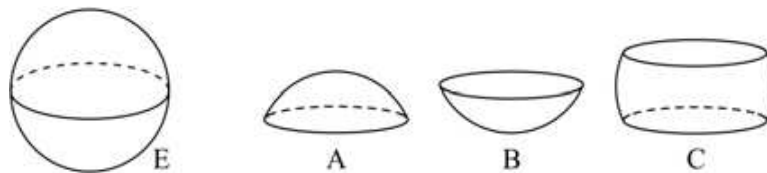
Uma esfera está inscrita num cilindro equilátero cuja área lateral mede  $16\pi \text{ cm}^2$ . O volume da esfera inscrita é



- (a)  $8\pi$
- (b)  $16\pi$
- (c)  $\frac{32}{3}\pi$
- (d)  $\frac{256}{3}\pi$

### ■■■(EEAR-2018) QUESTÃO 20

Uma esfera E foi dividida em 3 partes: A, B e C, como mostra o desenho.



Se os volumes dessas partes são tais que:  $V(A) = V(B) = \frac{V(C)}{2}$  e  $V(C) = 486\pi\text{cm}^3$ , então o raio da esfera é \_\_\_\_ cm.

- (a) 8
- (b) 9
- (c) 10
- (d) 12

### ■■■(ESPCEX-2001) QUESTÃO 21

Denomina-se rolamento a um dispositivo mecânico constituído por dois anéis em forma de casca cilíndrica e um conjunto de esferas.

Desejando obter o volume de uma das esferas de aço que compõe o rolamento dado na figura 1, sem desmontá-lo, e não dispondo de todos os instrumentos necessários para executar as medições, um estudante executou os seguintes procedimentos:

- a. Com os instrumentos de que dispunha, mediu o anel interno, em forma de casca cilíndrica, obtendo 3,46 cm para o diâmetro interno, 4 cm para o diâmetro externo e 1 cm para altura;
- b. Repetiu as operações para o anel externo, anotou as medidas e calculou o volume, obtendo  $3,8\text{cm}^3$ ;
- c. Lembrando o princípio de Arquimedes, que afirma que o volume de um objeto imerso num recipiente com líquido corresponde à variação do volume do líquido, colocou água numa proveta graduada em  $\text{cm}^3$ , conforme a figura 2, mergulhou o rolamento na água e obteve a leitura indicada na figura 3.



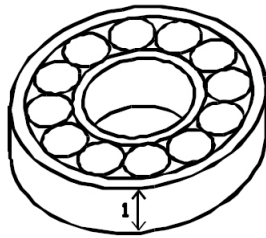


FIGURA 1

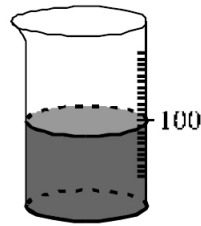


FIGURA 2

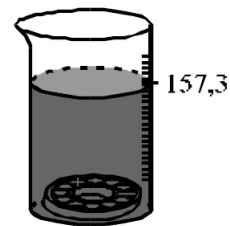


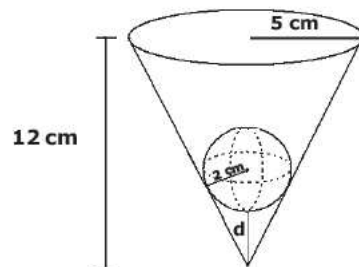
FIGURA 3

Nessas condições pode-se afirmar que o valor que mais se aproxima do volume de cada esfera, em  $\text{cm}^3$ , é (aproximações aceitas:  $1,73^2 \approx 3$ ,  $3,46^2 \approx 12$ ,  $\pi \approx 3,1$ ):

- (a) 3,4
- (b) 4,6
- (c) 3,8
- (d) 4,2
- (e) 5,0

■ ■ ■ (ESPCEX-2008) QUESTÃO 22

Uma esfera de 2 cm de raio é colocada no interior de um vaso cônico, conforme a figura a seguir.



Desenho Fora de Escala

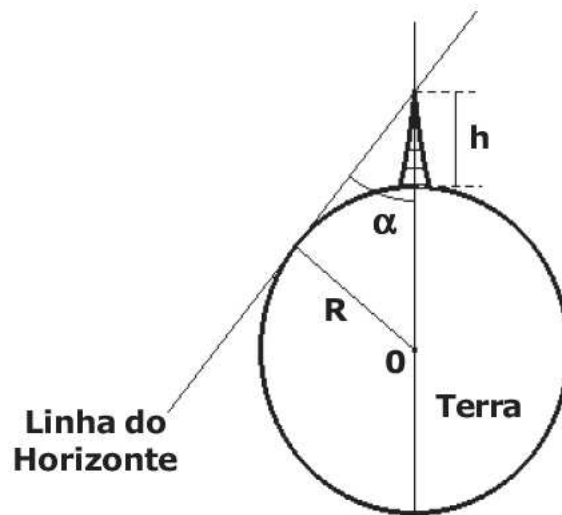
O vaso tem 12 cm de altura e sua abertura é uma circunferência com 5 cm de raio. Nessas condições, a menor distância ( $d$ ) entre a esfera e o vértice do cone é

- (a) 3,0 cm
- (b) 3,2 cm
- (c) 3,4 cm
- (d) 3,6 cm
- (e) 3,8 cm



■ ■ ■ (ESPCEX-2012) QUESTÃO 23

Em uma das primeiras tentativas de determinar a medida do raio da Terra, os matemáticos da antiguidade observavam, do alto de uma torre ou montanha de altura conhecida, o ângulo sob o qual se avistava o horizonte, tangente à Terra, considerada esférica, conforme mostra a figura.



Segundo esse raciocínio, o raio terrestre em função do ângulo  $\alpha$  é dado por:

- (a)  $R = \frac{\text{sen}(\alpha h)}{1 - \text{sen } \alpha}$
- (b)  $R = \frac{h \text{sen } \alpha}{1 - \text{sen } \alpha}$
- (c)  $R = \frac{h \text{sen } \alpha}{\text{sen } \alpha - 1}$
- (d)  $R = \frac{1 - \text{sen } \alpha}{h \text{sen } \alpha}$
- (e)  $R = \frac{1 + \text{sen } \alpha}{h \text{sen } \alpha}$

■ ■ ■ (ESPCEX-2013) QUESTÃO 24

Considere que uma laranja tem a forma de uma esfera de raio 4 cm, composta de 12 gomos exatamente iguais. A superfície total de cada gomo mede:

- (a)  $\frac{4^3 \pi}{3} \text{ cm}^2$
- (b)  $\frac{4^3 \pi}{9} \text{ cm}^2$
- (c)  $\frac{4^2 \pi}{3} \text{ cm}^2$
- (d)  $\frac{4^2 \pi}{9} \text{ cm}^2$





(e)  $4^3\pi\text{cm}^2$

■ ■ ■ (ESPCEX-2014) QUESTÃO 25

Um cone de revolução tem altura 4cm e está circunscrito a uma esfera de raio 1 cm. O volume desse cone (em  $\text{cm}^3$ ) é igual a

- (a)  $\frac{1}{3}\pi$
- (b)  $\frac{2}{3}\pi$
- (c)  $\frac{4}{3}\pi$
- (d)  $\frac{8}{3}\pi$
- (e)  $3\pi$

■ ■ ■ (ESPCEX-2015) QUESTÃO 26

Um recipiente cilíndrico, cujo raio da base tem medida R, contém água até uma certa altura. Uma esfera de aço é mergulhada nesse recipiente ficando totalmente submersa, sem haver transbordamento de água. Se a altura da água subiu  $\frac{9}{16}R$ , então o raio da esfera mede

- (a)  $\frac{2}{3}R$
- (b)  $\frac{3}{4}R$
- (c)  $\frac{4}{9}R$
- (d)  $\frac{1}{3}R$
- (e)  $\frac{9}{16}R$

■ ■ ■ (ESPCEX-2017) QUESTÃO 27

A angioplastia é um procedimento médico caracterizado pela inserção de um cateter em uma veia ou artéria com o enchimento de um pequeno balão esférico localizado na ponta desse cateter. Considerando que, num procedimento de angioplastia, o raio inicial do balão seja desprezível e aumente a uma taxa constante de 0,5 mm/s até que o volume seja igual a  $500\text{mm}^3$ , então o tempo, em segundos, que o balão leva para atingir esse volume é

- (a) 10



- (b)  $10^3 \sqrt{\frac{5}{\pi}}$
- (c)  $10^3 \sqrt{\frac{2}{\pi}}$
- (d)  $10^3 \sqrt{\pi}$
- (e)  $10^3 \sqrt{\frac{3}{\pi}}$

**■■■(ESPCEX-2018) QUESTÃO 28**

---

O volume de uma esfera inscrita em um cubo com volume  $216\text{cm}^3$  é igual a

- (a)  $38\pi\text{cm}^3$
- (b)  $36\pi\text{cm}^3$
- (c)  $34\pi\text{cm}^3$
- (d)  $32\pi\text{cm}^3$
- (e)  $30\pi\text{cm}^3$



### 1.3- GABARITO

**Q. 1:** B

**Q. 2:** A

**Q. 3:** C

**Q. 4:** A

**Q. 5:** B

**Q. 6:** D

**Q. 7:** D

**Q. 8:** D

**Q. 9:** A

**Q. 10:** D

**Q. 11:** D

**Q. 12:** C

**Q. 13:** B

**Q. 14:** D

**Q. 15:** B

**Q. 16:** C

**Q. 17:** B

**Q. 18:** C

**Q. 19:** C

**Q. 20:** B

**Q. 21:** D

**Q. 22:** B

**Q. 23:** B

**Q. 24:** A

**Q. 25:** D

**Q. 26:** B

**Q. 27:** E

**Q. 28:** B

