

Exercícios Dissertativos

- (2000) Ao longo da década de 1990, ocorreram conflitos armados na Iugoslávia e na Indonésia.
  - Identifique, em cada um desses países, um dos conflitos ocorridos e analise os interesses em jogo.
  - Comente a atuação da ONU em cada um dos conflitos apontados na resposta ao item a.

---

- (2001) Grandes eventos esportivos atraem a atenção de muita gente e por isso acabam sendo palco de manifestações políticas. Nos Jogos Olímpicos de Sidney (2000), não foi diferente quando a Coreia do Norte e a Coreia do Sul desfilaram juntas na abertura, gerando um dos momentos de maior emoção do espetáculo.
  - Compare os dois países quanto à economia e à política.
  - Explique o significado do desfile conjunto desses 2 países no contexto político atual.

---

- (2003) Analise o mapa.



- Por que Israel recebeu um grande volume de investimentos militares dos Estados Unidos neste período?
- Aponte e explique uma característica atual das relações entre os Estados Unidos e Israel.

---

- (2003)
  - Discorra sobre duas características que demonstram o potencial de influência da União Européia no mundo contemporâneo.
  - Cite e explique duas dificuldades para inserção da União Européia como potência militar no sistema internacional.

---

5. (2004) No livro *Xogun* (James Clavel, 1986), ficção ambientada no século XVI, existe uma passagem na qual o navegador inglês Blackthorne, recém-chegado ao Japão, fez um mapa-mundi na areia, tentando explicar ao líder Toranaga o lugar de onde veio, o caminho que percorreu, cruzando o Oceano Atlântico, passando pelo extremo sul do continente americano, cruzando o Oceano Pacífico, até chegar à ilha do Japão. Blackthorne conta a Toranaga que conseguiu um **portulano** português, uma espécie de **mapa secreto**, para poder passar pelo estreito de Magalhães. Toranaga quis continuar a conversa, pois ficou impressionado com a importância dos portulanos e com o tamanho diminuto do Japão. Percebeu imediatamente que Blackthorne tinha informações interessantes a ele.

Inspirando-se na passagem relatada,

- (a) explique como a localização geográfica continua sendo conhecimento estratégico para a geopolítica contemporânea.  
(b) associe o texto e a explicação à situação atual da Palestina.
- 

6. (2005) Nas últimas décadas, em Davos, na Suíça, vem ocorrendo anualmente um dos mais importantes eventos sobre a economia mundial. Participam dele especialistas, empresários e governantes que se dedicam a discussão e proposição de metas econômico-financeiras para o planeta. No final da década de 1990, diversas entidades não-governamentais de vários países associaram-se para se contrapor às resoluções de Davos, criando um outro tipo de evento global, que também vem sendo realizado anualmente desde 2001.

- (a) Identifique os eventos citados.  
(b) Caracterize o evento de contraposição mencionado quanto a seus objetivos e participantes.
- 

7. (2005)



Em setembro de 2004, a tomada de uma escola em Ossétia do Norte, na cidade de Beslan, por terroristas tchetchenos, e a violenta reação russa provocaram centenas de mortes e feridos além de uma grande indignação mundial.

Explique o conflito da Tchetchênia, contextualizando geograficamente seu território (aspectos físicos e sócioeconômicos).

---

8. (2006) Qual é o papel da ONU


- (a) na resolução de conflitos sócio-econômicos mundiais? Dê um exemplo.
- (b) no controle da expansão do uso da tecnologia nuclear? Dê um exemplo.

9. (2006) Responda a partir do gráfico:



- (a) Qual desses países teve mais gastos militares em relação ao PIB, em 2003? Justifique.
- (b) Qual país repassou mais recursos, em relação ao PIB, a países pobres em 2003? Justifique.
- (c) Relacione a busca de paz mundial aos dados da tabela.

10. (2007)

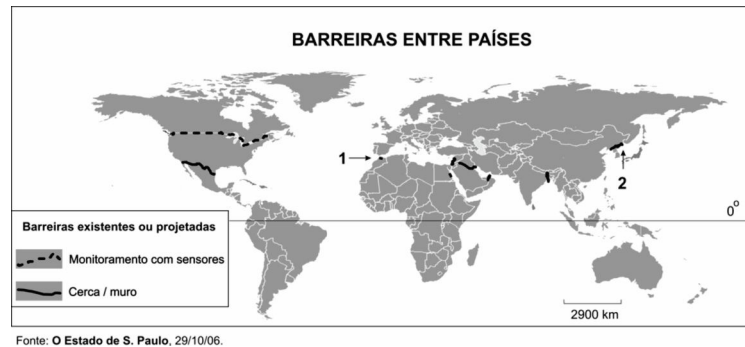


Fonte: Adaptado de Cadernos Le Monde Diplomatique, jan. 2002.

Com base na charge, apresente

- (a) dois aspectos da realidade contemporânea que atentam contra a soberania dos estados-nacionais. Justifique.
- (b) um aspecto em que a soberania dos estados-nacionais seja exercida efetivamente sobre seu próprio território. Justifique.

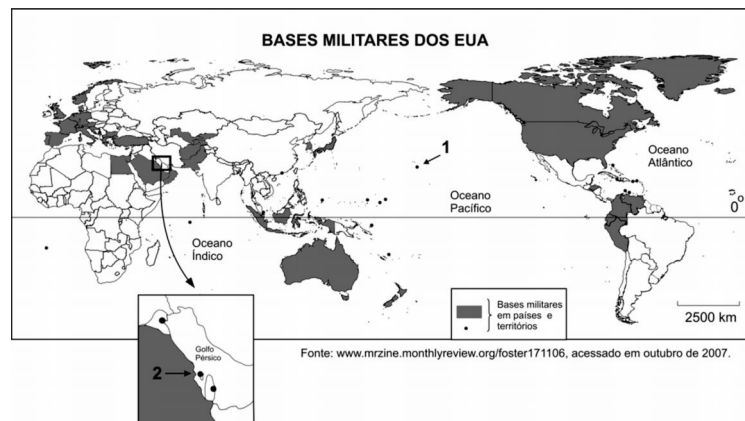
11. (2008)



O mapa acima representa a distribuição, pelo mundo, das principais barreiras entre países.

Identifique as barreiras 1 e 2 e analise criticamente os problemas fronteiriços correspondentes, considerando os países envolvidos.

12. (2008)



Segundo estimativas, após 11 de setembro de 2001, quando ocorreram os atentados às Torres Gêmeas e ao Pentágono, os EUA aumentaram em cerca de 20% sua presença militar ao redor do mundo. Estimase também que por volta de 300 mil soldados estejam em bases militares americanas em mais de 140 países.

Considerando o mapa acima,

- (a) identifique os locais indicados pelos números 1 e 2.
- (b) cite e explique ao menos um motivo para a manutenção, pelos EUA, de bases militares em cada um dos locais citados no item a.

13. (2008) Com referência à biodiversidade, existem no mundo 17 países classificados como “megadiversos”. Dentre eles, destacam-se: Tailândia, Indonésia, Gabão, Congo, Colômbia e Brasil. Considerando as relações entre biodiversidade, economia e geopolítica,
- (a) explique, utilizando-se de dois argumentos, por que a biodiversidade tornou-se um elemento importante, do ponto de vista econômico, no mundo atual.
  - (b) esclareça, utilizando-se de dois argumentos, a importância geopolítica da Amazônia.
- 

14. (2009)



Fonte: Simielli, *Geoatlas*, 2007. Adaptado.

O conflito envolvendo Geórgia e Rússia, aprofundado em 2008, foi marcado por ampla repercussão internacional. Outros conflitos, envolvendo países da ex-União Soviética, também ocorreram.

- (a) Explique a relação entre o fim da União Soviética e a proliferação de movimentos separatistas na região.
  - (b) Explique como a Rússia reagiu ao movimento pela independência da Ossétia do Sul e aponte as razões que motivaram essa reação.
  - (c) Cite outro exemplo de movimento separatista recente nessa região.
-

15. (2009)

**ORIGEM E DESTINO DE POPULAÇÕES DE REFUGIADOS EM 2004**

Pais / lugar de origem	Principais países de destino	Total
Afganistão	Paquistão / Irã / Alemanha / Países Baixos / Reino Unido	2.084.900
República Democrática do Congo	Tanzânia / Zâmbia / Congo / Burundi / Ruanda	462.200
Somália	Quênia / Iêmen / EUA / Reino Unido / Djibuti	389.300
Palestina	Arábia Saudita / Egito / Iraque / Líbia / Argélia	350.600
Iraque	Irã / Alemanha / Países Baixos / Reino Unido / Suécia	311.800

Fonte: www.acnur.org.br. Acessado em setembro de 2008. Adaptado.

Conforme a ONU - Organização das Nações Unidas, o número de refugiados tem crescido nos últimos anos.

Em relação a esse fenômeno:

- (a) Cite duas causas principais desses deslocamentos, explicando, ao menos, uma delas.
- (b) Faça uma análise crítica do caso afegão, considerando os respectivos países de destino.

16. (2013)

**IMPORTANTES ÁREAS DE CONFLITO NA AMÉRICA DO SUL**



Messias da Costa, 2007. Disponível em www.confins.revues.org. Acessado em outubro de 2012. Adaptado.

No mapa estão assinaladas importantes áreas de conflito envolvendo países da América do Sul. Com base no mapa e em seus conhecimentos,

- (a) identifique e explique o principal tipo de conflito existente nas duas regiões assinaladas com a letra **A**;
- (b) identifique e explique o principal tipo de conflito existente nas duas regiões assinaladas com a letra **B**.

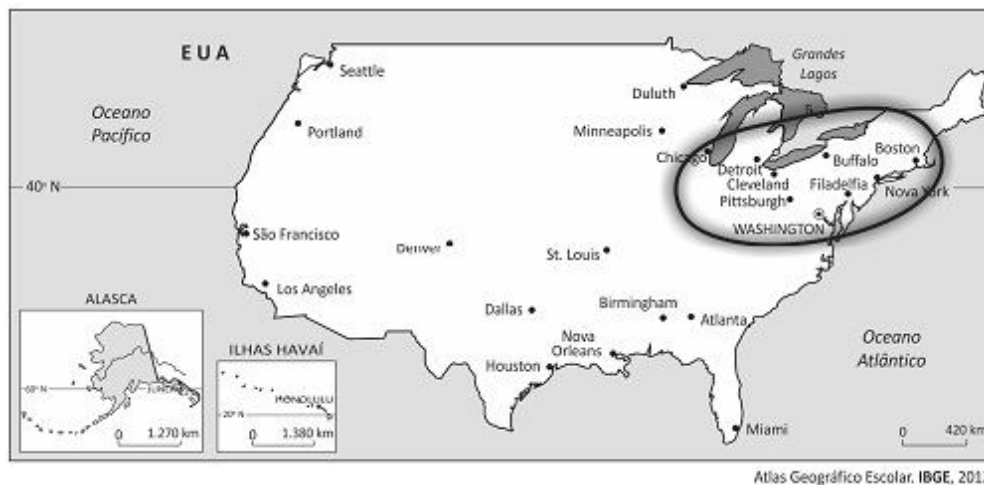
17. (2014) A Coreia do Sul e a Coreia do Norte têm populações com a mesma composição étnica, mas modelos políticos e econômicos contrastantes.



Com base nas informações acima e em seus conhecimentos,

- descreva o processo de divisão política que levou à formação desses dois países situados na península da Coreia, caracterizando seus respectivos regimes políticos;
- explique qual é a posição de cada um desses países em relação à questão nuclear atual;
- explique a situação atual de cada um desses dois países, no contexto das exportações mundiais. Justifique com exemplos.

18. (2015) Observe o mapa.



Com base no mapa e em seus conhecimentos sobre os EUA,

- aponte duas razões da importância geopolítica desse país, na atualidade, considerando sua localização e dimensão territorial;
- explique a importância econômica, para esse país, da região circundada no mapa, considerando os recursos naturais e os aspectos humanos.