

TEXTO PARA A PRÓXIMA QUESTÃO:

Leia o excerto para responder à(s) questão(ões) a seguir.

Dado que o Presidente eleito Donald Trump articulou uma visão coerente dos assuntos externos, parece que os Estados Unidos devem rejeitar a maioria das políticas do período pós-1945. Para Trump, a OTAN é um mau negócio, a corrida nuclear é algo bom, o presidente russo Vladimir Putin é um colega admirável, os grandes negócios vantajosos apenas para nós, norte-americanos, devem substituir o livre-comércio.

Com seu estilo peculiar, Trump está forçando uma pergunta que, provavelmente, deveria ter sido levantada há 25 anos: os Estados Unidos devem ser uma potência global, que mantenha a ordem mundial – inclusive com o uso de armas, o que Theodore Roosevelt chamou, como todos sabem, de *Big Stick*?

Curiosamente, a morte da União Soviética e o fim da Guerra Fria não provocaram imediatamente esse debate. Na década de 1990, manter um papel de liderança global para os Estados Unidos parecia barato – afinal, outras nações pagaram pela Guerra do Golfo Pérsico de 1991. Nesse conflito e nas sucessivas intervenções norte-americanas na antiga Iugoslávia, os custos e as perdas foram baixos. Então, no início dos anos 2000, os americanos foram compreensivelmente absorvidos pelas consequências do 11 de setembro e pelas guerras e ataques terroristas que se seguiram. Agora, para melhor ou para pior, o debate está nas nossas mãos.

Eliot Cohen. “Should the U.S. still carry a ‘big stick’?”. www.latimes.com, 18.01.2017. Adaptado.

1. (Unesp 2017) A chamada “política do *Big Stick*”, desenvolvida pelo presidente norte-americano Theodore Roosevelt, manifestou-se por meio
 - a) do respeito ao princípio da autonomia e da independência dos povos nativos do continente americano.
 - b) dos estímulos financeiros à recuperação econômica dos países latino-americanos, após a depressão econômica de 1929.
 - c) das contínuas intervenções diretas e indiretas em assuntos internos dos países latino-americanos.
 - d) da elevação das taxas alfandegárias na entrada de mercadorias europeias nos Estados Unidos, após a crise de 1929.
 - e) da repressão às manifestações por direitos civis nos Estados Unidos da década de 1960.

2. (Enem (Libras) 2017) Os guaranis encontram-se hoje distribuídos pela Bolívia, Paraguai, Uruguai, Brasil e Argentina. A condição de guarani remete diretamente para a ideia de pertencimento e para as relações de parentesco. Daí a importância da concepção de território como espaço de comunicação. Eles têm parentes nos diversos países e seguem se visitando regularmente. Os guaranis seguem com noções e conceitos próprios de fronteira, uma ideia mais sociológica e ideológica, que inclui, exclui e define quem pertence e quem não pertence a determinado grupo social.

O dilema das fronteiras na trajetória guarani. Entrevista especial com Antônio Brand. Disponível em: www.ihuonline.unisinos.br. Acesso em: 15 ago. 2013 (adaptado).

De acordo com o texto, o processo de demarcação das terras reivindicadas por esse povo enfrenta como dificuldade o(a)

- a) valor de desapropriação das áreas legalizadas.
- b) engajamento de jovens na luta pela reforma agrária.

- c) escassez de zonas cultiváveis nas regiões contíguas.
- d) tensão entre identidade coletiva e normatizações das nações limítrofes.
- e) contradição entre sustento extrativista e desmatamento das florestas tropicais.

3. (Unisc 2017) "Cerca de 13 milhões dos 34 milhões de eleitores foram às urnas para a consulta popular. Do total, 50,22% votaram contra o acordo de paz e 49,77% a favor do documento. A votação ocorreu sem violência e com grande abstenção de eleitores devido às fortes chuvas que atingiram várias regiões do país... Apenas 37% participaram do plebiscito. Desta maneira, foi dada a última palavra sobre o acordo histórico que colocaria fim no conflito armado. Com a vitória do não, o governo fica impedido de pôr em prática as medidas previstas no documento. A decisão deixa em aberto o processo de paz e, na prática, poderia significar a continuidade da guerra no país."

www.cartacapital.com.br, publicado em 03/10/2016, acessado em 03/10/2016

São diversas as regiões de conflitos armados no mundo e alguns duram mais que décadas. Recentemente um país latino-americano empreendeu um grande processo para estabelecer a paz interna, que culminaria com a deposição de armas por grupos rebeldes e uma série de medidas de anistia e realocação dos seus integrantes. Fazia parte deste processo um plebiscito no qual a população referendaria o acordo que, segundo reportagem acima, foi rejeitado pela mesma.

Exigir-se-á novas estratégias para que se alcance a paz tão perseguida por um longo tempo. Conforme a reportagem e o enunciado acima, que país e que grupos estiveram no centro destas tratativas no ano corrente?

- a) México e o Exército Zapatista.
- b) Venezuela e os Comitês Populares Bolivarianos.
- c) México e as Milícias de Auto Defesa.
- d) Colômbia, as FARC e o ELN.
- e) Nenhuma das alternativas anteriores está correta.

4. (Unesp 2019) A construção da Usina Hidrelétrica de Itaipu durante os anos 1970 e 1980
- a) contribuiu para a queda do regime cívico-militar brasileiro, depois que a imprensa denunciou grandes desvios de verbas da obra.
 - b) assegurou a autonomia energética definitiva de Argentina e Paraguai, países que participaram do projeto e se beneficiaram com sua execução.
 - c) permitiu o restabelecimento das relações diplomáticas entre Argentina, Brasil e Paraguai, rompidas desde a Guerra do Paraguai.
 - d) proporcionou a consolidação das hegemonias argentina e brasileira no comércio e no controle político da região do Rio da Prata.
 - e) foi uma iniciativa conjunta dos governos militares do Brasil e do Paraguai, que teve forte impacto geoestratégico na região do Rio da Prata.

5. (G1 - cftrj 2019)

Eclusas de Miraflores



O **Canal do Panamá** já tem mais de 100 anos de funcionamento, foi inaugurado em 1914 e ampliado em 2016 para receber navios ainda maiores com capacidade para 14.000 containers. Para se ter uma ideia, em 2017, passaram 13.548 navios pelo canal, somando mais de 403,8 milhões de toneladas em carga.

Fonte: <http://www.viagensecaminhos.com/2018/06/canal-do-panamá.html>. Acesso em 24 de setembro de 2018.

Ele é uma das maiores obras de engenharia do mundo, um canal artificial de aproximadamente 80 km que permite a passagem de grandes navios:

- a) ininterruptamente durante poucas horas.
- b) encurtando o caminho entre o Atlântico e o Pacífico.
- c) onerando o preço da viagem devido ao custo do pedágio.
- d) advindos do oriente médio em direção à China.

6. (G1 - cps 2019) A República do Suriname localiza-se no norte da América do Sul e faz fronteira com a Guiana, com a Guiana Francesa e com o Brasil. Conta com uma área de aproximadamente 163.820 km² e uma população de aproximadamente 560.000 habitantes. Sua capital é a cidade de Paramaribo.

Sobre esse país é correto afirmar que

- a) foi a única colônia europeia na América a não adotar mão de obra escrava.
- b) era colônia holandesa e tornou-se um país independente em meados da década de 1970.
- c) sua língua oficial é o inglês, mas o espanhol é bastante utilizado, assim como alguns dialetos locais.
- d) é banhado pelo Oceano Pacífico e seu relevo é marcado pela existência da Cordilheira dos Andes, que corta o país de norte a sul.
- e) seu principal produto de exportação é a banana, o que torna sua economia estável devido às pequenas variações no mercado de *commodities*.

7. (Unesp 2019) O presidente da Colômbia anunciou, em 25.05.2018, que o país ingressará em um bloco de cooperação militar. O país, que não possui vínculo histórico ou geográfico com o bloco, será o primeiro da América Latina a tornar-se membro. Esse bloco consiste em um sistema de defesa coletiva, em que os participantes estão de acordo em defender qualquer um de seus integrantes que seja atacado por forças externas ao seu país. Liderado por Washington, o bloco recebe vultosos recursos para cuidar dos objetivos militares dos Estados Unidos.

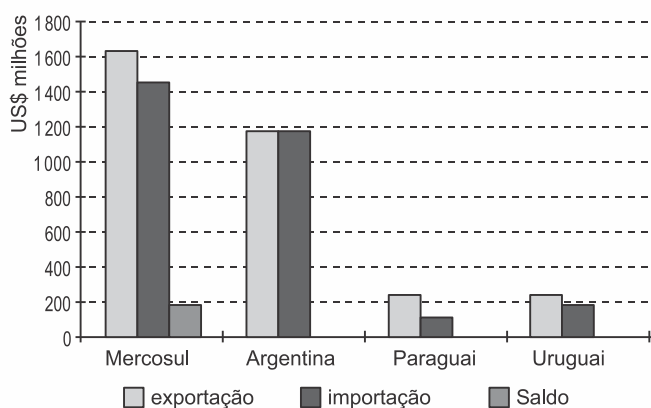
(www.operamundi.com.br. Adaptado.)

De acordo com o excerto, a Colômbia, na condição de país parceiro, passou a integrar

- o Grupo dos Oito.
- o Pacto de Varsóvia.
- o Tratado de Não-Proliferação Nuclear.
- a Comunidade dos Estados Independentes.
- a Organização do Tratado do Atlântico Norte.

8. (Espm 2018) Interpretando o gráfico a seguir podemos constatar que:

Balança Comercial do Brasil com o Mercosul e bilateralmente com os demais Estados-membros (outubro de 2014)



Fonte: Ministério do Desenvolvimento, Indústria e comércio exterior. Balança comercial Mercosul 2014. Disponível em: <<http://www.mdic.gov.br/sitio/interna.php?area5&menurefr=2081>>.

- o Brasil apresenta superavit em relação ao Mercosul.
- a Argentina apresenta superavit em relação ao Mercosul.
- o Paraguai apresenta déficit em relação ao Mercosul.
- o Brasil apresenta déficit em relação ao Paraguai.
- o Uruguai apresenta superavit em relação ao Brasil.

9. (Ufrgs 2018) O Índice de Gini, instrumento para medir o grau de concentração de renda em determinado grupo, aponta a diferença entre os rendimentos dos mais pobres e dos mais ricos.

Observe o quadro com o valor desse índice para quatro países latino-americanos.

País	A	B	C	D
Índice Gini	0,515	0,427	0,608	0,416

Fonte: <<http://databank.worldbank.org/data/reports.aspx?source=2&series=SI.POV.GINI&country=>>>.

Acesso em: 4 out. 2017.

Os países A, B, C e D são, respectivamente,
a) Brasil, Argentina, Haiti e Uruguai.

- b) Brasil, Cuba, Bolívia e Haiti.
- c) Colômbia, Argentina, Brasil e Chile.
- d) México, Haiti, Colômbia e Argentina.
- e) Paraguai, México, Uruguai e Argentina.

10. (Unesp 2018) Em 03.04.2017, o jornal *El País* publicou matéria que pode ser assim resumida:

Os países _____ não têm poder político sobre os demais Estados Partes, mas possuem ferramentas para tentar reconduzir a situação de um membro, caso esse se afaste dos princípios do Tratado de Assunção, assinado em 1991. Nessa perspectiva, insere-se a aplicação da cláusula democrática do bloco sobre a _____, em função da crise política, institucional, social, de abastecimento e econômica que atravessa o país.

As lacunas do excerto devem ser preenchidas por

- a) do Nafta – Argentina.
- b) do Mercosul – Bolívia.
- c) da ALADI – Venezuela.
- d) da ALADI – Bolívia.
- e) do Mercosul – Venezuela.

11. (Ufjf 2018) Analise o infográfico que revela alguns dados sociais e nos remete aos treze anos de Missão de Paz da ONU no Haiti.

Fim da Missão de Paz da ONU no Haiti

Brasil mandou 37 mil militares ao país em 13 anos



Fonte: Cia World Factbook e Google Maps



Infográfico elaborado em: 20/06/2017

Disponível em: <<https://g1.globo.com/mundo/noticia/missao-de-paz-no-haiti-veja-altos-e-baixos-nos-13-anos-de-presenca-militar-brasileira.ghtml>>. Acesso em: 20/09/2017.

De acordo com os dados apresentados, é correto afirmar que

- o Haiti ainda se caracteriza como um país subdesenvolvido.
- a missão da ONU favoreceu muito o país a ponto de torná-lo desenvolvido.
- o Haiti conseguiu atingir índices de alfabetização semelhantes aos do Brasil.
- o acesso à internet alcança índices semelhantes aos dos países do Mercosul.
- a Previdência Social é uma preocupação para a maioria da população do Haiti.

12. (Upf 2018) Fugindo da crise, milhares de venezuelanos cruzam a fronteira de países vizinhos na esperança de encontrar melhores condições de vida. Sobre o tema, é **correto** afirmar:

- A crise recente da Venezuela foi provocada pelo esgotamento das jazidas de petróleo, causando desemprego em massa e consequente imigração.
- A elevada procura de imigrantes venezuelanos pelo território brasileiro resulta do recente fechamento de fronteiras entre Venezuela e Peru.
- O elevado número de imigrantes venezuelanos que ingressam no país levou o governo brasileiro a estabelecer medidas rígidas de contenção a partir de janeiro de 2018, por considerar esgotadas as possibilidades de acolhimento.
- Desde o início do movimento migratório, a maior parte dos imigrantes venezuelanos dirige-se diretamente a Manaus, polo econômico da região, onde são maiores as perspectivas de emprego.
- Os venezuelanos que ingressam no Brasil se estabelecem, em sua maioria, em Boa Vista, Roraima, o que aumenta significativamente a população desse município, impactando negativamente a segurança e os serviços da cidade.

13. (G1 - ifpe 2018)



LATUFF, Carlos. Disponível em: <<http://prestesaressurgir.blogspot.com.br/2013/05/cartas-de-geisel-videla-mostram-elos-da.html>>. Acesso: 10 out. 2017.

O texto faz referência aos países do Cone Sul (Argentina, Paraguai, Uruguai, Chile e Brasil) e à C.I.A. (*Central Intelligence Agency*) dos Estados Unidos. Ao elaborar o texto, o chargista brasileiro Carlos Latuff fazia alusão

- ao crescimento econômico da América do Sul em contraste com a violência no continente.
- ao apoio de países da América do Sul à Revolução Cubana.
- ao acordo do MERCOSUL e à pobreza no continente sul-americano.
- à participação da C.I.A. e de países sul-americanos na invasão à Baía dos Porcos, em Cuba.
- à Operação Condor e às ditaduras militares na América do Sul.

14. (Mackenzie 2018) Observe o infográfico e analise as afirmativas relacionadas à atual crise econômica da Venezuela.

Em busca de comida

Venezuelanos viajam ao Brasil para comprar mantimentos



Infográfico elaborado em: 18/07/2016

<http://g1.globo.com/rr/roraima/noticia/2016/07/crise-na-venezuela-provoca-corrída-por-alimentos-na-fronteira-de-roraima.html>

- I. A escassez de alimentos básicos, bem como de diversos outros produtos na Venezuela tem provocado um intenso fluxo de venezuelanos em direção ao norte do Brasil nos últimos anos.
- II. O agravamento da crise econômica na Venezuela tem aumentado significativamente também as solicitações de refúgio, especialmente no estado de Roraima.
- III. Forte opositor do chavismo, o presidente venezuelano, Nicolás Maduro, atribui à escassez de recursos energéticos fósseis a culpa pela severa crise econômica de seu país.
- IV. Nicolás Maduro convocou no dia 01 de maio de 2017 uma Assembleia Nacional Constituinte, com o objetivo de reescrever a Constituição. Ele defende seu plano argumentando que é a solução diante da crise, mas seus opositores afirmam que se trata, na realidade, de uma forma de ele se perpetuar no poder e de dissolver órgãos como a Assembleia Nacional que representa o Poder Legislativo e a Procuradoria Geral.

Estão corretas as afirmativas

- a) I e II, apenas.
- b) II e III, apenas.
- c) I e III, apenas.
- d) I, II e IV, apenas.
- e) I, II, III e IV.

15. (Upe-ssa 1 2018) “A onda de protestos contra o Governo já completou um mês, resultando na morte de 35 pessoas e deixando outras 717 feridas. Os dados, contabilizados até quinta-feira, dia 4 de maio, pelo Ministério Público, mostram um aumento significativo na violência policial. Até o momento, não é possível prever um fim próximo do conflito, porque o Executivo está promovendo uma Assembleia Nacional Constituinte para criar uma Carta Magna sob medida e evitar as eleições.”

Fonte: Jornal *El Pais*, edição de 5 de maio de 2017, com modificações. Adaptado.

No mapa, o país que apresenta o problema geográfico atual, referido na notícia transcrita, está indicado por um dos numerais.



Assinale a alternativa cujo numeral representa esse país.

- a) 1
- b) 2
- c) 3
- d) 4
- e) 5

16. (Uefs 2018) Leia o trecho da entrevista de Rubens Ricupero a Patrícia Campos Mello.

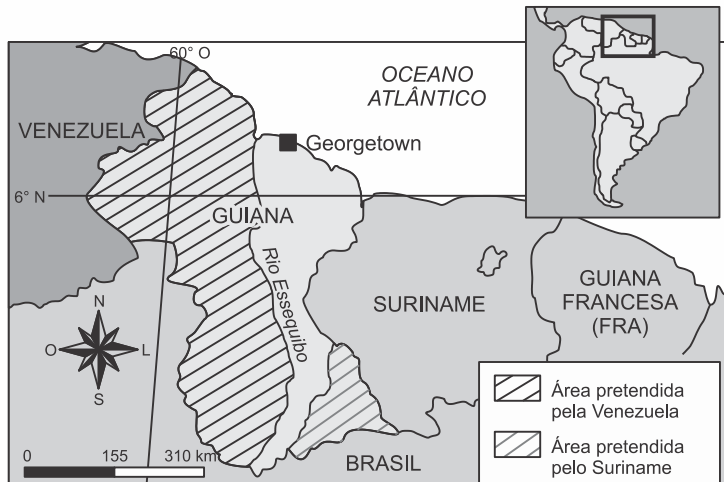
Os EUA, depois do fim da Guerra Fria e após os ataques [terroristas] de 11 de setembro de 2001, passaram a ter uma agenda em que não há espaço para América Latina. [...] Uma vez eliminada a ameaça comunista, para os americanos, o que se passa aqui não incomoda muito. Até mesmo a Venezuela – eles prefeririam que fosse um país a favor dos EUA, mas podem conviver com isso.

(“Ninguém mais quer sair na fotografia com o Brasil”. *Folha de S.Paulo*, 26.09.2017.)

O trecho da entrevista refere-se às relações políticas entre Estados americanos no momento atual, em que a América Latina

- a) forja o ideal de um pan-americanismo militar e econômico.
- b) se une em torno de ideais comuns anti-imperialistas.
- c) continua, como no passado, irrelevante na política internacional.
- d) lidera as nações do hemisfério sul no combate à penúria social.
- e) perde o peso estratégico com o esfacelamento do bloco socialista.

17. (G1 - cftmg 2018) O cartograma abaixo refere-se às fronteiras em litígio da América do Sul.



Fonte: ATLANTE geográfico metodico De Agostini 2015. Novara: Istituto Geografico De Agostini, 2015. p. 165 (adaptado).

Nesse contexto, a situação geopolítica representada revela que existe

- desacordo na localização da divisa.
- falta de demarcação entre os países.
- separação de povos da mesma origem étnica e cultural.
- limite territorial vigente desconhecido internacionalmente.

18. (Espm 2018) O país destacado vive profunda crise política. Sua geografia é caracterizada por:



- Configurar-se como país andino e amazônico, ser o maior exportador mundial de café e conviver com o narcotráfico e guerrilhas em seu território.
- Apresentar uma população basicamente indígena e ser grande exportador mundial de banana, além de deter grandes reservas petrolíferas.

- c) Ser um país platino, detentor de grandes reservas de cobre e pioneiro no modelo neoliberal na América Latina.
- d) Ser simultaneamente um país andino e amazônico e apresentar grandes reservas mundiais de petróleo.
- e) Ser um país andino e deter grandes reservas de estanho e gás natural.

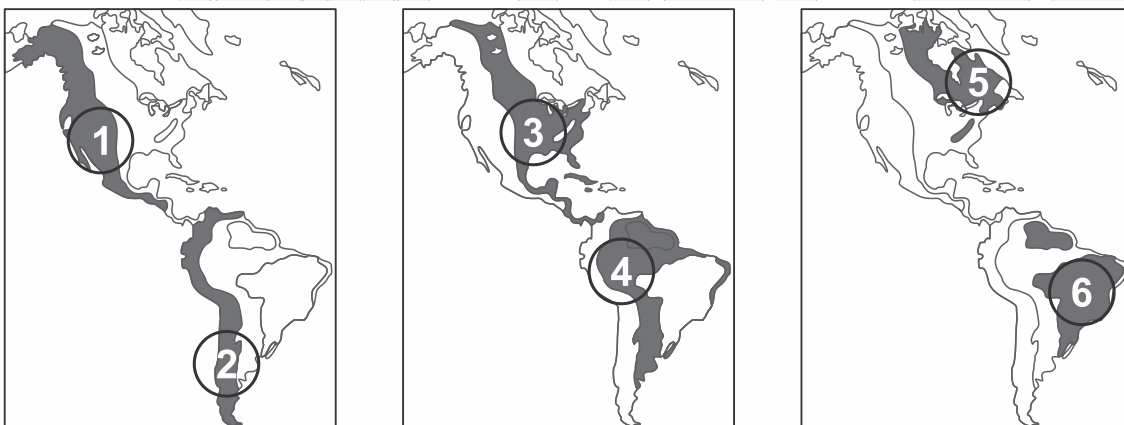
19. (Enem 2017) O terremoto de 8,8 na escala Richter que atingiu a costa oeste do Chile, em fevereiro, provocou mudanças significativas no mapa da região. Segundo uma análise preliminar, toda a cidade de Concepción se deslocou pelo menos três metros para a oeste, enquanto Santiago, mais próxima do local do evento, deslocou-se quase 30 centímetros para a oeste-sudoeste. As cidades de Valparaíso, no Chile, e Mendoza, na Argentina, também tiveram suas posições alteradas significativamente (13,4 centímetros e 8,8 centímetros, respectivamente).

Revista InfoGNSS, Curitiba, ano 6, n. 31, 2010.

No texto, destaca-se um tipo de evento geológico frequente em determinadas partes da superfície terrestre. Esses eventos estão concentrados em

- a) áreas vulcânicas, onde o material magmático se eleva, formando cordilheiras.
- b) faixas costeiras, onde o assoalho oceânico recebe sedimentos, provocando *tsunamis*.
- c) estreitas faixas de intensidade sísmica, no contato das placas tectônicas, próximas a dobramentos modernos.
- d) escudos cristalinos, onde as rochas são submetidas aos processos de intemperismo, com alterações bruscas de temperatura.
- e) áreas de bacias sedimentares antigas, localizadas no centro das placas tectônicas, em regiões conhecidas como pontos quentes.

20. (Upf 2017) Observe os mapas que seguem.



(Fonte: FERREIRA, Graça Maria. *Geografia em mapas*. São Paulo: Moderna, 2002, p.8. Adaptado)

Assinale a alternativa que faz a **correta** relação com as regiões marcadas e com as informações correspondentes.

- a) A Planície Platina (4) forma uma depressão entre os planaltos das Guianas e o Brasileiro e guarda a maior reserva de águas subterrâneas da América, o Aquífero Guarani.
- b) As Montanhas Rochosas (1) impedem a passagem das massas de ar oceânicas, provocando chuvas na vertente oeste e aridez na parte leste.
- c) O Escudo das Guianas (6) é formado por dobramentos modernos, com elevações muito acentuadas, e vive um processo de vulcanismo intenso.

- d) A cordilheira dos Andes (2) se desenvolve no sentido norte-sul, ao longo do oceano Pacífico, formada por rochas cristalinas antigas e rica em minério de ferro.
- e) Na América do Norte, os maciços antigos (1) e os dobramentos modernos (5) margeiam uma extensa planície sedimentar (3), onde se localiza a capital, Washington.

21. (Mackenzie 2017) “O Peru é um dos grandes produtores mundiais de pescado. Suas costas apresentam alta piscosidade, fato explicado pela enorme quantidade de nutrientes – plânctons. Essa alta piscosidade é decorrente do fenômeno da ressurgência que ocorre em seu litoral, permanecendo sob efeito de uma corrente marítima fria que se origina no sul da América do Sul e se desloca no sentido norte, em uma linha paralela ao litoral chileno e peruano.”

Fonte: MORAES, PAULO. Geografia Geral e do Brasil, 2011, p. 148. (adaptado)

Identifique a alternativa que contempla, corretamente, a importante corrente marítima citada no texto.

- a) Corrente do Pacífico Sul.
b) Corrente de Humboldt.
c) Corrente das Falklands.
d) Corrente de Benguela.
e) Corrente do Atlântico Sul.

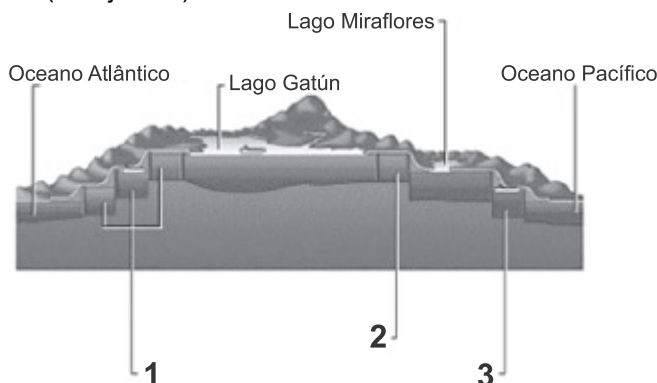
22. (Enem 2017) México, Colômbia, Peru e Chile decidiram seguir um caminho mais curto para a integração regional. Os quatro países, em meados de 2012, criaram a Aliança do Pacífico e eliminaram, em 2013, as tarifas aduaneiras de 90% do total de produtos comercializados entre suas fronteiras.

OLIVEIRA, E. Aliança do Pacífico se fortalece e Mercosul fica à sua sombra. *O Globo*, 24 fev. 2013 (adaptado).

O acordo descrito no texto teve como objetivo econômico para os países-membros

- a) promover a livre circulação de trabalhadores.
b) fomentar a competitividade no mercado externo.
c) restringir investimentos de empresas multinacionais.
d) adotar medidas cambiais para subsidiar o setor agrícola.
e) reduzir a fiscalização alfandegária para incentivar o consumo.

23. (Pucrj 2017)



Disponível em: <<http://engenhariacivildiar.com/2015/12/02/o-canal-do-panama>>. Acesso em: 15 set. 2016.

O Canal do Panamá, uma obra de engenharia iniciada na década de 1880 e finalizada no início

do século XX, ainda hoje é um trajeto fundamental para o comércio mercante internacional.

Para o cruzamento do continente centro-americano através do canal (do Pacífico para o Atlântico e vice-versa), é importante o controle dos pontos 1, 2 e 3, que são:

- a) rios encaixados em vales e desviados para os lagos artificiais.
- b) lagos artificiais controlados por grandes barragens hidroelétricas.
- c) eclusas que nivelam a água do trajeto por um sistema de comportas.
- d) barragens de concreto para a água dos oceanos trazidas pelas marés.
- e) comportas naturais alargadas pela engenharia por encachoeiramento.

24. (Unisinos 2017) A América Latina apresenta uma enorme diversidade ambiental, sociocultural e étnico-racial.

São elementos dessa América:

- a) a estabilidade política, sem golpes de estado, sempre calcada no respeito ao *habeas corpus* e na liberdade política, sem presença de militares no poder.
- b) o aumento progressivo da escolarização, a diminuição da mortalidade infantil, o aumento da expectativa de vida, a intensificação da luta por direitos de mulheres, negros, indígenas.
- c) a supressão total da tortura política e a diminuição da população carcerária em vista do sucesso da política repressiva contra as drogas e armas.
- d) a crescente diversificação da economia representada na diminuição do percentual do agronegócio e do setor financeiro no Produto Interno Bruto.
- e) o aumento exponencial da participação da indústria, especialmente nos últimos 15 anos, iniciando assim, um processo de reindustrialização do Continente.

25. (Upe-ssa 3 2017) A América Central é integrada por uma área continental e outra área insular, separadas pelo mar das Antilhas ou mar do Caribe. A área continental se constitui em um grande istmo, que a une aos blocos da América do Norte e da América do Sul.

Sobre os aspectos físico-geográficos e geoeconômicos dessa área, é correto afirmar que

1. a maior parte da área continental é dominada pelo clima tropical, mas, devido ao fator relevo, há variações climáticas, daí a presença de climas com baixas temperaturas, nos cumes das montanhas.
2. vários países da América Central, em face da forte influência da URSS, adotaram o modelo político e econômico socialista, como foi o caso de Cuba, Nicarágua, Guatemala e El Salvador.
3. na parte insular dessa região, percebe-se que há uma dependência econômica considerável de várias ilhas ao Reino Unido, à França e à Holanda.
4. na parte continental da América Central, o México se destaca economicamente, sobretudo na exploração de petróleo e de turismo, o qual apresenta o maior PIB da região.
5. Cuba adotou o regime de Partido Único com a ascensão ao poder de um grupo de guerrilheiros no ano de 1970 que acarretou um expressivo crescimento econômico do país. Na ocasião, foram abolidas as liberdades democráticas, e criou-se um grave conflito político-militar com os Estados Unidos.

Está CORRETO o que se afirma em

- a) 1 e 3, apenas.
- b) 2 e 4, apenas.
- c) 1, 3 e 4, apenas.
- d) 2, 3 e 5, apenas.
- e) 1, 2, 3, 4 e 5.

26. (Ufpr 2017) Sobre o conceito de fronteira e sua problemática no contexto brasileiro e sul-americano, é correto afirmar:

- a) A formação geográfica e social semelhante dos países da América do Sul proporciona a construção de políticas e acordos fronteiriços coesos e convergentes entre os países que a compõem.
- b) Os investimentos em estruturas físicas, a exemplo de ferrovias e hidrovias, além de tratados como o MERCOSUL e o Pacto Andino, propiciaram a integração dos países sul-americanos, abrindo as fronteiras entre eles.
- c) A palavra *fronteira* teve seu conceito modificado com o advento da globalização, sendo hoje usada para compreender relações de abertura entre Estados Nacionais, como no caso dos pactos econômicos sul-americanos.
- d) Nos países da América do Sul, as relações transfronteiriças, como a circulação de pessoas, capitais, mercadorias e serviços, são, atualmente, subordinadas à política de segurança de cada estado nacional.
- e) *Fronteira* remete a espaços peculiares, onde se defrontam comunidades político-geográficas diferentes, e se caracteriza por interações e conflitos de múltiplas ordens.

27. (Upe-ssa 1 2017) Identifique, no mapa ilustrativo a seguir, o país a que se refere o texto e que se constitui em um dos problemas geográficos da atualidade.



TERRA
NEGRA
HUMANAS E ATUALIDADES

www.geografiaparatodos.com.br

A escassez de produtos básicos é “a ponta do iceberg”, diz economista. A queda do preço do petróleo prejudicou o modelo econômico do governo. A imagem de uma longa fila de pessoas esperando para comprar pão e outros alimentos diante de uma padaria nas proximidades da capital, às escuras, por causa dos apagões de energia, é um dos retratos de uma grave crise política e econômica, que atinge aquele país e levou o presidente a decretar “Estado de Emergência Econômica”.

Adaptado de <http://g1.globo.com/>, acesso em 20-06-2016.

O país está indicado na alternativa

- a) 1.
- b) 2.
- c) 3.
- d) 4.

e) 5.

28. (Enem PPL 2017) “As recentes crises entre o Brasil e a Argentina mostram o esgotamento do modelo mercantilista no Mercosul”, afirma o diretor-geral do Instituto Brasileiro de Relações Internacionais (Ibri). A imposição argentina de cotas para produtos brasileiros, como os de linha branca, e a ameaça de adoção de salvaguardas comerciais indicam que o Mercosul foi construído sobre bases equivocadas. Segundo o diretor, a noção de que é possível exportar “sem limites” para um determinado parceiro comercial representa uma mentalidade “fenícia”, ou seja, uma visão comercial de curto prazo.

JULIBONI, M. Disponível em: <http://exame.abril.com.br>. Acesso em: 7 dez. 2012 (adaptado).

Nas últimas décadas foram adotadas várias medidas que objetivavam pôr fim às desconfianças mútuas existentes entre o Brasil e a Argentina. Os conflitos no interior do bloco têm se intensificado, como na relação analisada, caracterizada pela

- a) saturação dos produtos industriais brasileiros, que o mercado argentino tem demonstrado.
- b) adoção de barreiras por parte da Argentina, que intenciona proteger o seu setor industrial.
- c) tendência de equilíbrio no comércio entre os dois países, que indica estabilidade no curto prazo.
- d) política de importação da Argentina, que demonstra interesse em buscar outros parceiros comerciais.
- e) estratégia da indústria brasileira, que buscou acompanhar as demandas do mercado consumidor argentino.

29. (Udesc 2017) O Tratado de Assunção, com vistas a criar o Mercado Comum do Sul (MERCOSUL) foi assinado entre Argentina, Brasil, Paraguai e Uruguai, em 26 de março de 1991. Os objetivos principais do Tratado de Assunção são: A integração dos Estados Partes por meio da livre circulação de bens, serviços e fatores produtivos, do estabelecimento de uma Tarifa Externa Comum (TEC), da adoção de uma política comercial comum, da coordenação de políticas macroeconômicas e setoriais, e da harmonização de legislações nas áreas pertinentes.

Com relação ao MERCOSUL, assinale a alternativa **incorreta**.

- a) O MERCOSUL não possui código aduaneiro comum, apesar de a tarifa externa comum ser um dos seus objetivos iniciais.
- b) Todos os países da América do Sul participam do MERCOSUL, seja como Estado Parte, seja como Estado Associado.
- c) Em 2012, o MERCOSUL passou pela primeira ampliação desde sua criação, com o ingresso definitivo da Venezuela como Estado Parte.
- d) Guiana e Suriname foram os últimos países a fazer parte do MERCOSUL como Estados Associados, em 2013.
- e) Com mais de 310 milhões de barris em reservas certificados pela OPEP (Organização dos Países Exportadores de Petróleo), o MERCOSUL possui a maior reserva de petróleo do mundo, apresentando-se como um dos principais potenciais energéticos do planeta.

30. (G1 - utfpr 2017) Entre as várias caracterizações regionais do continente americano, assinale a alternativa correta sobre a América Andina.

- a) Contém o Chile e as regiões banhadas pelo rio da Prata que passa pelo Uruguai.
- b) Faz fronteira com o Círculo Polar Antártico e contém o Oceano Atlântico.
- c) Estende-se do Chile até as terras áridas do território mexicano do Pacífico.
- d) Faz fronteira ao norte com as Antilhas e é banhada apenas pelo Atlântico.
- e) Faz fronteira com a América Central e contém parte da Floresta Amazônica.

31. (Famema 2017) O diagnóstico é do economista Víctor Álvarez, ex-ministro de Indústrias Básicas do governo Hugo Chávez: “A crise econômica, social e política que está sofrendo o

país neste momento é uma nova expressão de esgotamento de um modelo que se impôs na Venezuela há mais de um século”.

www.cartacapital.com.br. Adaptado.

Considerando o cenário econômico e geopolítico da Venezuela, é correto afirmar que o modelo citado no excerto se baseia

- a) no extrativismo mineral, com a intensa exploração de petróleo.
- b) na industrialização nacional, com a total substituição das importações.
- c) no extrativismo vegetal, com a valorização das especificidades genéticas da região.
- d) na inovação industrial, com o financiamento de polos de pesquisa avançada.
- e) na agricultura de exportação, com o compromisso de abastecer os países latinos.

32. (Uece 2017) Entre 2000 e 2014, o crescimento médio da América Latina foi de 3,3%. O Brasil, representando cerca de 38% do Produto Interno Bruto – PIB – da região em 2014, teve o mesmo crescimento médio. Observando as taxas de crescimento desde o início dos anos 2000, após baixo crescimento no início do período, houve anos de crescimento relativamente alto [...].

IBGE. *Síntese dos indicadores sociais*. Uma análise das condições de vida da população brasileira. Rio de Janeiro. 2015. p. 80.

Quando há condição de crescimento econômico dos países, geralmente, também há variação dos índices econômicos e sociais desses países. Considerando o trecho do documento do IBGE, acima, pode-se concluir acertadamente que entre os anos 2000 e 2014

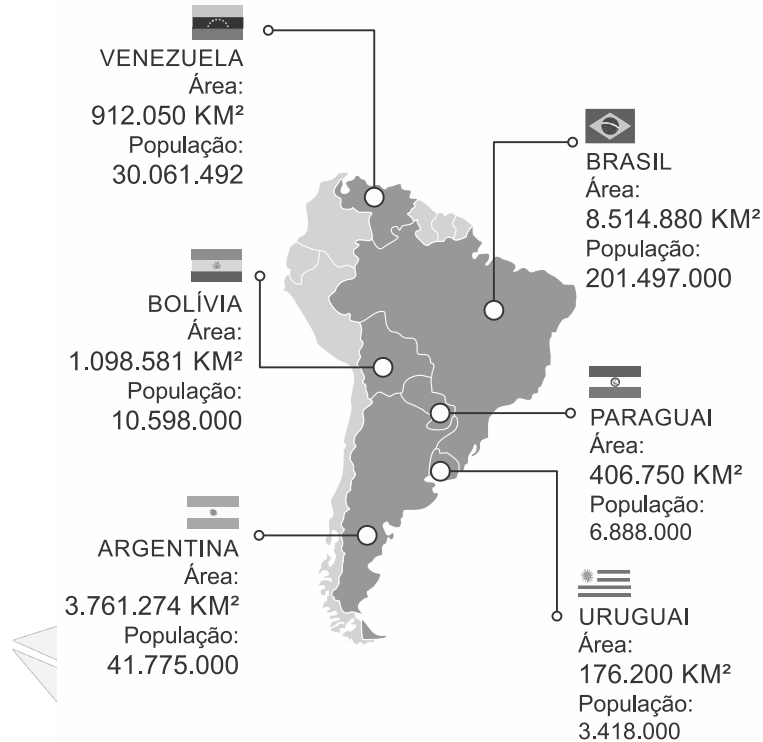
- a) a economia de alguns países da América Latina cresceu, mas no Brasil houve um significativo aumento do desemprego.
- b) a desigualdade de rendimentos mostrou queda com diminuição do índice de Gini.
- c) ocorreu um processo de desindustrialização no Brasil, com o fechamento de indústrias e fábricas.
- d) a instabilidade política e as oscilações da economia global levaram o Brasil a uma das maiores recessões de sua história.

33. (G1 - utfpr 2016) A industrialização do continente americano não ocorreu ao mesmo tempo e da mesma forma em suas regiões. A esse respeito assinale a alternativa correta.

- a) Na América Andina, as indústrias são mais desenvolvidas que na América Platina.
- b) As regiões situadas ao norte do Brasil industrializaram-se junto com a Argentina.
- c) Na América do Norte, as regiões perto do Atlântico se industrializaram primeiro.
- d) As indústrias da América Central produzem apenas para os Estados Unidos.
- e) No Brasil, as indústrias encontram-se uniformemente distribuídas pelo país.

34. (Ufpa 2016) Observe a figura.

MERCOSUL



Fonte: <http://www.brasil.gov.br/governo/2015/07/mercosul-24-anos-de-luta-pela-integracao-regional>.

Sabendo-se que a formação de blocos econômicos surge num contexto de fortalecimento das economias regionais, pode-se afirmar, com base no gráfico apresentado, que a cooperação tem como objetivo:

- consolidar a hegemonia dos países historicamente mais industrializados.
- estimular a circulação de mão de obra para atender às empresas com tecnologia de ponta.
- eliminar as tarifas cobradas para as transações comerciais entre os países membros.
- padronizar o consumo entre os diversos povos que ocupam o espaço sul-americano.
- promover a entrada de produtos vindos de fora do bloco para tornar o mercado mais competitivo.

35. (G1 - ifsp 2016) Considere o texto e imagem a seguir:



Fonte: Disponível em: <<http://g1.globo.com/mundo/noticia/2015/07/o-que-ainda-impede-a-aproximacao-entre-eua-e-cuba.html>> Acesso em 28 out. 2015.

No dia 17 de Dezembro de 2014, os presidentes Raul Castro de Cuba e Barack Obama dos Estados Unidos, discursaram em seus respectivos países e anunciaram novas medidas que seriam adotadas em sua política internacional. Sendo assim, é correto o que se afirma em:

- I. A retomada das relações diplomáticas de ambos os países com abertura de embaixadas em Havana e Washington.
 - II. Mesmo com a retomada das relações entre ambos, o embargo econômico a Cuba continuará em vigor.
 - III. Ambos anunciaram que estenderão suas rivalidades e travaram uma nova modalidade de Guerra Fria.
 - IV. Ambos os países contaram com o apoio e esforços do Papa Francisco e Nicolás Maduro presidente da Venezuela.
 - V. Cuba e Estados Unidos não mantinham relações diplomáticas desde 1961, trata-se de uma reaproximação histórica que foi elogiado pelos dois presidentes devido à habilidade do Papa Francisco nas negociações.
- a) Somente II e III são corretas.
 - b) Somente I e V são corretas.
 - c) Somente I, II e V são corretas.
 - d) Somente I e IV são corretas.
 - e) Somente II, IV e V são corretas.

36. (Uff-pism 3 2016)



¹ UM SÉCULO UNINDO O MUNDO
² ANOS

Disponível em: <<http://migre.me/s8NzA>>. Acesso em: 14 nov. 2015.

Essa imagem destaca o centenário de uma via de navegação interoceânica importante para o

comércio marítimo mundial, que atualmente está sendo ampliada para acomodar uma nova geração de navios porta-contêineres, que transportam de 5 mil a 8 mil contêineres. Essa via é o

- a) Canal de Suez.
- b) Canal da Mancha.
- c) Canal do Panamá.
- d) Cabo das Tormentas.
- e) Cabo da Boa Esperança.

37. (Fgvjr 2016) Os governos dos Estados Unidos da América (EUA) e de Cuba tornaram públicas, em 17 de dezembro de 2014, suas intenções de reaproximação diplomática. Desde então, algumas medidas foram tomadas para concretizar essa reaproximação. Assinale a alternativa que indica uma dessas medidas.

- a) A retirada de Cuba da lista americana de países patrocinadores do terrorismo.
- b) A libertação de todos os presos políticos em Cuba.
- c) O fim do embargo econômico norte-americano a Cuba.
- d) A repatriação das propriedades norte-americanas confiscadas pelo governo cubano na revolução de 1962.
- e) O fechamento da prisão da Baía de Guantánamo, na ilha de Cuba.

38. (G1 - ifce 2016) Analise os itens a seguir sobre o desenvolvimento industrial e econômico da América Latina.

- I. As multinacionais ingressaram na América Latina a partir do século XX devido às condições favoráveis como mão de obra, matéria-prima, mercado consumidor e isenção de impostos.
- II. As multinacionais dominam vários ramos industriais como agropecuário, mineralógico, siderúrgico, metalúrgico e eletroeletrônico. Esse processo favoreceu o surgimento de empresas genuinamente nacionais.
- III. Os países latinos possuem, em sua maioria, dívidas contraídas no processo de descolonização. Os mesmos encontram dificuldades em pagar tais dívidas, principalmente porque são produtores primários.
- IV. A maioria dos países latinos sempre conviveu com inflação, que corresponde a aumentos constantes nos produtos e taxas de juros bastante elevadas.

Sobre os itens supracitados, é **correto** afirmar-se que

- a) I, II e IV são verdadeiros.
- b) todos são verdadeiros.
- c) I, II e III são verdadeiros.
- d) apenas II e IV são verdadeiros.
- e) I, III e IV são verdadeiros.

39. (Pucrs 2016) Após décadas de isolamento político e econômico frente aos países capitalistas, o governo de Cuba, liderado por Raul Castro, irmão do ditador Fidel Castro, sinaliza um novo período de transformações a partir de 2016. Essas mudanças se tornaram evidentes com a visita de Barack Obama, representante do histórico rival geopolítico, os Estados Unidos.

Dentro desse contexto, é **INCORRETO** afirmar que

- a) o governo de Cuba irá flexibilizar serviços como viagens e telecomunicações.
- b) os EUA irão manter a base militar de Guantánamo no extremo leste da ilha de Cuba, apesar das solicitações de fechamento por parte do governo de Havana.
- c) houve uma imediata articulação econômica entre os dois países, com encerramento gradual do embargo econômico.
- d) as relações diplomáticas foram retomadas, com a reabertura das embaixadas, tanto em Havana quanto em Washington.

e) o governo de Cuba admite uma mudança para um sistema democrático; entretanto, exige o reconhecimento, por parte dos EUA, de uma democracia popular e participativa.

40. (Ufu 2016) **Governo cubano lançará internet de banda larga em dois bairros de Havana**

O governo cubano anunciou na noite deste domingo (31/01/2016) que está lançando um serviço de internet de banda larga em dois bairros de Havana como parte de um projeto piloto que visa levar às casas o acesso à rede. [...]. O acesso público à internet por banda larga só começou em Cuba no ano passado, com a abertura de pontos de wi-fi públicos que custam US\$ 2 por hora. O valor equivale a cerca de um décimo do salário médio mensal em Cuba.

Disponível em: <<http://www1.folha.uol.com.br/mundo/2016/02/1735959-governo-cubano-lancara-internet-de-banda-larga-em-dois-bairros-de-havana.shtml>> Acesso em: 12 de jan. 2016.

O atraso na expansão da tecnologia de banda larga em Havana tem como causa principal o(a)

- a) rígido controle estatal sobre os meios de comunicação, que impõe restrições em relação ao acesso aos serviços não controlados pelo governo.
- b) embargo econômico imposto pelos Estados Unidos, que gera dificuldades na criação de tecnologias de comunicação pelos cubanos.
- c) desinteresse de empresas de comunicação localizadas fora de Cuba, em expandir suas atividades na Ilha.
- d) falta de mercado consumidor para esse produto, causada por aspectos financeiros e culturais.

41. (Upf 2016) Depois de mais de meio século de ruptura em decorrência dos novos arranjos da Guerra Fria, Cuba e Estados Unidos deram importante passo para o avanço das relações diplomáticas entre os dois países, com a reabertura das embaixadas nas suas capitais.

Analise as afirmativas que têm relação com o acontecimento.

- I. O rompimento das relações diplomáticas entre Estados Unidos e Cuba ocorreu no contexto da Guerra Fria, a partir da política nacionalista adotada por Fidel Castro e seus seguidores, que rendeu o desagrado dos Estados Unidos e o apoio da União Soviética.
- II. A reabertura das embaixadas entre Estados Unidos e Cuba significa o restabelecimento das relações diplomáticas entre os dois países.
- III. O regime pró-soviético instalado em Cuba e a Crise dos Mísseis elevaram as tensões entre EUA e Cuba, culminando com a expulsão deste país da OEA e seu isolamento diplomático pelos países americanos.
- IV. A reabertura das embaixadas e o restabelecimento diplomático entre Cuba e Estados Unidos provocaram, no mesmo ato, a declaração do fim do embargo econômico contra a ilha caribenha e a desocupação de Guantánamo.

É **correto** apenas o que se afirma em:

- a) I, II e III.
- b) I e II.
- c) II e IV.
- d) II, III e IV.
- e) III e IV.

42. (G1 - ifce 2016) Sobre a economia latino-americana, leia atentamente os itens abaixo.

- I. Os países latino-americanos mais ricos são Brasil, México, Peru e Venezuela. Considerados emergentes, a economia destes países corresponde a, aproximadamente, 75% do PIB dos

países da América Latina.

- II. Os países latino-americanos são países dependentes da exportação de commodities agrícolas e minerais. Brasil, Argentina, México e Chile se destacam também na produção e exportação de manufaturados, pois possuem uma boa base industrial.
- III. Nos demais países latino-americanos, principalmente da América Central, predominam indústrias de beneficiamento de produtos primários para exportação.
- IV. Um dos fatores que criam sérias dificuldades ao desenvolvimento econômico e à integração social da América Latina é a relativa carência de vias de transporte em boas condições de uso.

Marque a alternativa que contém os itens **verdadeiros**.

- a) Somente II, III e IV.
- b) Somente I e III.
- c) Somente I, II e IV.
- d) Somente I, III e IV.
- e) I, II, III e IV.

43. (Fuvest 2016) Há dois lados na divisão internacional do trabalho [DIT]: um em que alguns países especializam-se em ganhar, e outro em que se especializaram em perder. Nossa comarca do mundo, que hoje chamamos de América Latina, foi precoce: especializou-se em perder desde os remotos tempos em que os europeus do Renascimento se abalçaram pelo mar e fincaram os dentes em sua garganta. Passaram os séculos, e a América Latina aperfeiçoou suas funções. Este já não é o reino das maravilhas, onde a realidade derrotava a fábula e a imaginação era humilhada pelos troféus das conquistas, as jazidas de ouro e as montanhas de prata. Mas a região continua trabalhando como um serviçal. Continua existindo a serviço de necessidades alheias, como fonte e reserva de petróleo e ferro, cobre e carne, frutas e café, matérias-primas e alimentos, destinados aos países ricos que ganham, consumindo-os, muito mais do que a América Latina ganha produzindo-os.

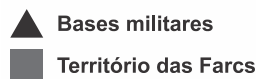
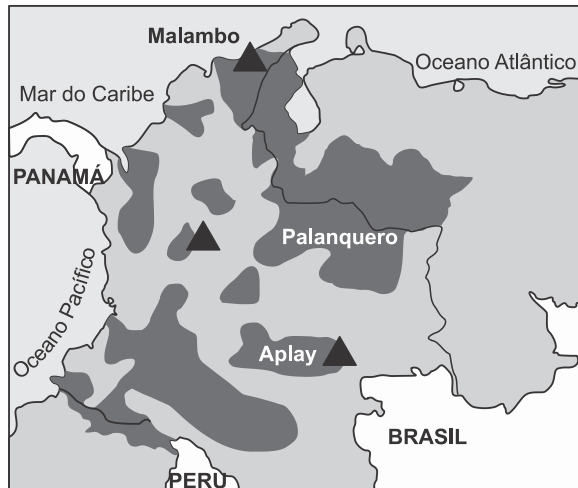
Eduardo Galeano. *As Veias Abertas da América Latina*. Rio de Janeiro: Paz e Terra, 1981.
Adaptado.

Sobre a atual Divisão Internacional do Trabalho (DIT), no que diz respeito à mineração na América Latina, é correto afirmar:

- a) O México é o país com maior produção de carvão, cuja exportação é controlada por capital canadense. Para tal situação, o padrão de dominação Norte/Sul na DIT, mencionado pelo autor, é praticado no mesmo continente.
- b) A Colômbia ocupa o primeiro lugar na produção mundial de manganês, por meio de empresas privatizadas nos dois últimos governos bolivarianos, o que realça sua posição no cenário econômico internacional, rompendo a dominação Norte/Sul.
- c) O Chile destaca-se pela extração de cobre, principalmente na sua porção centro-norte, que é, em parte, explorado por empresas transnacionais, o que reitera o padrão da DIT mencionado pelo autor.
- d) A Bolívia destaca-se como um dos maiores produtores de ferro da América Latina, e, recentemente, o controle de sua produção passou a ser feito por Conselhos Indígenas. Essa autonomia do País permitiu o rompimento da dominação estadunidense.
- e) O Uruguai é o principal produtor mundial de prata, e o controle de sua extração é feito por empresas transnacionais. Nesse caso, mantém-se o padrão da inserção do país na DIT mencionada pelo autor.

44. (Uemg 2016) **EUA alegam combater terrorismo para justificar presença militar na América do Sul.**

EUA alegam combater no quintal das Farc



<http://br.images.search.yahoo.com/23/10/2015>.

Desde seus processos de independência, duas nações alternam momentos de conflito e de cooperação bilateral. A partir da década de 1980, com o aumento do tráfico de drogas e combustíveis, os problemas voltaram a ser frequentes. Atualmente, esses países estão em conflito territorial por domínio da região na fronteira.

<http://www.jb.com.br/internacional/noticias/2015/09/02/venezuela-amplia-estado-de-excecao-na-fronteira-com-colombia/>

Com base nas informações obtidas acima, é **CORRETO** concluir que os países citados no conflito são:

- Venezuela e Colômbia - a atual crise culminou com o fechamento da fronteira entre esses países e o acesso terrestre ficou fechado por tempo indeterminado.
- Argentina e Uruguai - o elemento chave é a rejeição de um grupo vizinho argentino a uma fábrica de celulose no Uruguai, expressada pelo bloqueio de uma das pontes internacionais que une os dois países.
- Brasil e Paraguai - os embates contra os agricultores brasileiros residentes no Paraguai, que são denunciados pelos impactos nas comunidades locais ou pelo mal uso de agrotóxicos.
- Colômbia e Peru - a controvérsia originada no ataque colombiano a um acampamento das FARC (Forças Armadas Revolucionárias Colombianas) em solo peruano.

45. (Fgv 2016) O país passa por uma grave crise econômica caracterizada por uma inflação galopante, câmbio descontrolado e sérios problemas de desabastecimento de bens e produtos básicos.

As filas passaram a fazer parte do cotidiano do país. Falta de leite a farinha de milho – base da receita da arepa, um dos principais alimentos da dieta desse país –, de fralda descartável a pasta de dente, de material escolar a medicamentos.

Há, certamente, mais de uma razão para explicar o índice de desabastecimento, que atinge 75% dos produtos monitorados pelo governo, e é quase certo também que ele exercerá uma influência decisiva nas próximas eleições parlamentares.


Há controle oficial de preços, ameaça a setores produtivos, falta de incentivo à indústria, desconfiança do mercado, ausência de crédito e uma série de questões que afetam as



produções de bens e produtos. Nenhum grande país produtor de petróleo sentiu o impacto da fortíssima queda das cotações tanto quanto esse país, onde o petróleo responde por 96% das exportações.

O texto retrata a situação crítica

- a) da Argentina.
- b) do Iraque.
- c) da Líbia.
- d) do México.
- e) da Venezuela.



TERRA
NEGRA
HUMANAS E ATUALIDADES

Gabarito:

Resposta da questão 1:

[C]

[Resposta do ponto de vista da disciplina de História]

A política do “grande porrete” aplicava ampla intervenção norte-americana em assuntos políticos, econômicos e sociais em praticamente todos os países latino-americanos. Na verdade, a interferência norte-americana na América Latina já existia antes dessa política e continuou a existir depois dela.

[Resposta do ponto de vista da disciplina de Geografia]

No final do século XIX e início do século XX, a política do “*Big Stick*” (“grande porrete”) praticada pelo ex-presidente dos Estados Unidos, Theodore Roosevelt, consistia na intervenção indireta e direta nos países da América Latina e Caribe para garantir os interesses geopolíticos e econômicos norte-americanos. São exemplos de prática imperialista, intervenções em países como República Dominicana, Haiti e Cuba. Desta época foi o estímulo a independência do Panamá em relação a Colômbia, que possibilitou a construção do Canal do Panamá pelos Estados Unidos, concluído em 1913.

Resposta da questão 2:

[D]

[Resposta do ponto de vista da disciplina de Geografia]

A alternativa [D] está correta porque o texto expõe o aspecto dúbio do conceito de território, contrapondo-se a fronteira política × a fronteira definida pela nação guarani. As alternativas seguintes são incorretas porque não fazem menção ao tema do texto.

[Resposta do ponto de vista da disciplina de Sociologia]

A noção de identidade utilizada pelos guaranis não se limita às fronteiras nacionais. Assim, o processo de demarcação de suas terras se torna mais complexo do que aquele enfrentado por outros grupos indígenas.

Resposta da questão 3:

[D]

[Resposta do ponto de vista da disciplina de Sociologia]

O país em questão é a Colômbia, que no ano de 2016 tentou aprovar, em plebiscito, um acordo de paz com as FARC e com o ELN, organizações armadas que alimentam a guerrilha no país. Apesar da derrota política na ocasião, outro acordo de paz foi feito entre novembro e dezembro do mesmo ano, no sentido de tentar encerrar essa violência histórica.

[Resposta do ponto de vista da disciplina de Geografia]

Na Colômbia, chamou a atenção, a maioria dos eleitores votarem contra o processo de paz entre o governo e as guerrilhas. A previsão anterior – meios de comunicação e analistas – era favorável ao processo de paz, assim, o resultado foi classificado como parte do fenômeno conhecido como “pós-verdade”. Posteriormente, o presidente Juan Manuel Santos ganhou o Nobel da Paz (2016), o que deu estímulo à continuidade das negociações de paz. A Colômbia vive um conflito desde a década de 1960 entre o governo e guerrilhas de esquerda como as FARC (Forças Armadas Revolucionárias da Colômbia) e ELN (Exército de Libertação Nacional). Também atuam paramilitares de direita, a UAC (Unidades de Autodefesa da Colômbia).

Resposta da questão 4:

[E]

A alternativa [E] está correta porque a Usina Hidrelétrica de Itaipu foi uma iniciativa dos governos Brasil – Paraguai garantindo a geração de energia para a região de maior dinamismo econômico do Brasil. As alternativas incorretas são: [A], porque em décadas de ditadura militar, não havia liberdade de imprensa para transparência ou denúncias do governo; [B], [C] e [D], porque a Argentina não participou do projeto.

Resposta da questão 5:

[B]

O Panamá tornou-se independente da Colômbia em 1903 com o apoio geopolítico dos Estados Unidos com o objetivo de viabilizar a construção do Canal do Panamá, que facilita a navegação entre o Atlântico e o Pacífico, sendo importante hidrovia até a atualidade. O canal foi inaugurado em 1913 e teve administração dos Estados Unidos até 1999. A partir de então, passou para a administração do governo do Panamá e recentemente sofreu obras de ampliação.

Resposta da questão 6:

[B]

O Suriname é uma ex-colônia holandesa no norte da América do Sul. O país é caracterizado pela diversidade étnica e religiosa. Entre as etnias, negros, marrons (quilombolas), indígenas, brancos, chineses, indianos e javaneses. A maior parte do país é recoberto de floresta amazônica. Entre os produtos de exportação destacam-se as commodities minerais e agrícolas como ouro, bauxita, petróleo, arroz e banana.

Resposta da questão 7:

[E]

A alternativa [E] está correta porque a Colômbia passa a integrar a OTAN como parceiro global, sendo o único da América Latina nessa condição. As alternativas seguintes são incorretas porque não correspondem ao enunciado.

Resposta da questão 8:

[A]

O Mercosul foi criado em 1991 pelo Tratado de Assunção. Desde então, aumentou bastante o fluxo comercial entre os países membros. Os membros plenos do bloco adotam a união aduaneira, são: Brasil, Argentina, Paraguai e Uruguai. Para o Brasil, o Mercosul é vantajoso, uma vez que apresenta superavit comercial com os demais membros, ou seja, exportações superam importações. A América Latina, incluindo o Mercosul, é importante importadora de produtos industrializados brasileiros.

Resposta da questão 9:

[A]

O Índice de Gini é o principal indicador que mede a desigualdade social na distribuição da renda. Quanto mais próximo a 1, mais desigual. Quanto mais próximo a 0, menos desigual. O Brasil é um dos países com pior distribuição de renda do mundo. Na América Latina, o Uruguai destaca-se como um dos países menos desiguais no contexto regional.

Resposta da questão 10:

[E]

A alternativa [E] está correta porque o bloco econômico criado pelo Tratado de Assunção é o Mercosul, do qual, a Venezuela na condição de Estado parte desde 2012, sofre suspensão em

2017 sob a justificativa de romper a ordem democrática estabelecida pelo Protocolo de Ushuaia.

Resposta da questão 11:

[A]

A alternativa [A] está correta porque os dados indicam um país com ausência de infraestrutura, alta taxa de fecundidade e indicadores humanos crônicos, características de um país subdesenvolvido marginal. As alternativas incorretas são: [B], porque não ocorreu o desenvolvimento do país; [C], porque os índices brasileiros são maiores; [D], porque os índices do Mercosul são maiores; [E], porque não existe sistema de seguridade no Haiti.

Resposta da questão 12:

[E]

Os imigrantes econômicos e refugiados venezuelanos entram no Brasil fugindo da crise econômica, social e política na Venezuela. Ingressam no território brasileiro pelo estado de Roraima, principalmente pelo município de Pacaraima. Roraima é o estado menos populoso e com menor densidade demográfica do Brasil, assim apresenta infraestrutura e serviços sociais modestos para acomodar os imigrantes. Os imigrantes se concentram na capital, Boa Vista, e também em Manaus (AM). O governo brasileiro adotou uma política de interiorização dos imigrantes venezuelanos, transferindo famílias para outros estados, principalmente do Sudeste.

Resposta da questão 13:

[E]

A alternativa [E] está correta porque a Operação Condor foi uma aliança entre os regimes militares da América do Sul e a CIA dos Estados Unidos coordenando ações para consolidar o poder das ditaduras que afastavam a possibilidade de movimentos de esquerda e/ou de caráter socialista. As alternativas seguintes são incorretas porque não indicam a natureza das ações da Operação Condor.

Resposta da questão 14:

[D]

As afirmativas [I], [II] e [IV] estão corretas porque a forte recessão econômica e a instabilidade política da Venezuela instaladas desde a década de 2000, geram crise de desabastecimento e intenso fluxo migratório direcionadas para as áreas brasileiras fronteiriças à Venezuela. Diante da crise política, Nicolas Maduro cria uma nova estrutura administrativa por meio da Assembleia Constituinte, legando a ele o monopólio do poder sobre o país. A afirmativa [III] está incorreta porque Nicolas Maduro é sucessor e não opositor de Hugo Chaves.

Resposta da questão 15:

[E]

A alternativa [E] está correta porque a Venezuela é o país cuja instabilidade política tem se ampliado em razão das políticas ditatoriais de Nicolas Maduro. As alternativas seguintes são incorretas porque Colômbia (1), Peru (2), Suriname (3) e Bolívia (4), não apresentam o quadro descrito no enunciado.

Resposta da questão 16:

[E]

A alternativa [E] está correta porque a dissolução do bloco socialista invalida as agendas produzidas pelos Estados Unidos para a América Latina – Aliança para o Progresso, Política de Contra Insurgência, Doutrina de Segurança Nacional – no período da Guerra Fria, resultando em seu desinteresse sobre o subcontinente. As alternativas incorretas são: [A], porque descreve uma tendência do subcontinente no período da Guerra Fria; [B], porque o pós socialismo cria a tendência ao neoliberalismo e não ao combate anti-imperialista; [C], porque a atenção estadunidense ao subcontinente no período da Guerra Fria demonstra sua relevância; [D], porque o texto não faz referência à políticas de combate à pobreza.

Resposta da questão 17:

[A]

A alternativa [A] está correta porque por ser uma área de litígio, a demarcação das fronteiras está sendo questionada. As alternativas incorretas são: [B], porque a presença das fronteiras indica a demarcação entre os países; [C], porque as fronteiras não são artificiais não havendo, portanto, separação da nação entre os países; [D], porque as fronteiras estabelecidas são reconhecidas internacionalmente.

Resposta da questão 18:

[D]

A Venezuela é um país banhado pelo Mar do Caribe e caracterizado por três principais domínios ambientais, a Amazônia (sul), os Lhamos (região central) e Cordilheira dos Andes (oeste). O país é grande exportador de petróleo e apresenta grandes reservas, uma vez que apresenta bacias sedimentares expressivas (região do Lago Maracaibo e bacia do Orinoco). O país atravessa grave crise econômica devido a queda dos preços do petróleo em período recente e má gestão governamental. Também apresenta crise política (tendência autoritária do governo de Nicolas Maduro e afastamento do Mercosul devido a violação do Tratado de Ushuaia) e social (elevação da pobreza e de fluxos migratórios para os países vizinhos).

Resposta da questão 19:

[C]

A alternativa [C] está correta porque a propagação de ondas sísmicas tem sua origem em áreas de bordas de placas tectônicas a exemplo da localização do Chile na Cordilheira dos Andes. As alternativas incorretas são: [A], porque as cordilheiras são formadas por dobramentos da crosta e a afirmativa descreve os vulcões; [B], porque tsunamis são formados pela propagação de ondas sísmicas que deslocam grandes volumes de águas oceânicas; [D] e [E], porque abalos sísmicos ocorrem em áreas de dobramentos modernos nas bordas das placas.

Resposta da questão 20:

[B]

A alternativa [B] está correta porque as Rochosas são responsáveis pelas chuvas orográficas na porção ocidental da América do Norte. As alternativas incorretas são: [A], porque (4) é uma área de bacia sedimentar; [C], porque (6) são maciços antigos; [D], porque (2) são dobramentos modernos; [E], porque (1) são dobramentos modernos e (5) são maciços antigos.

Resposta da questão 21:

[B]

A afirmativa [B] está correta porque descreve corretamente a ação e localização da Corrente de Humboldt. As afirmativas incorretas são: [A], porque a corrente de Humboldt é uma das correntes marítimas classificadas como Pacífico Sul; [C], porque a corrente de Falklands banha

a costa oriental da América no Atlântico; [D], porque a corrente de Benguela banha a costa ocidental da África; [E], porque a corrente do Atlântico Sul corta o Atlântico.

Resposta da questão 22:

[B]

A alternativa [B] está correta porque a Aliança do Pacífico é um bloco econômico criado em 2012 com o objetivo de fortalecer a economia dos países membros por meio da integração com vistas a enfrentar a expansão do Mercosul e das importações asiáticas na América do Sul e, portanto, fomentar a competitividade de seus integrantes no mercado externo. As alternativas incorretas são: [A], porque o bloco não promove a circulação de mão de obra e seu objetivo não é esse; [C], porque o fortalecimento da economia dos países membros estimula o IDE (investimentos estrangeiros diretos); [D], porque o objetivo não é o subsídio agrícola; [E], porque o estabelecimento do livre comércio não significa reduzir fiscalização aduaneira.

Resposta da questão 23:

[C]

Para viabilizar o funcionamento de hidrovias em rios com desníveis topográficos ou de hidrelétricas, bem como a implantação de canais interoceânicos como o canal do Panamá (entre o Pacífico e Atlântico), é preciso superar barreiras de relevo como as diferenças de altitude. Assim, é fundamental a construção de eclusas, dispositivos que permitem que embarcações tenham acesso a partes mais elevadas e partes mais baixas com um engenhoso sistema de comportas.

Resposta da questão 24:

[B]

A partir da década de 2000, muitos países da América Latina apresentaram crescimento econômico impulsionado pela elevação dos preços das commodities no mercado internacional e estímulos ao crescimento dos mercados internos. Em vários, ocorreu uma queda da pobreza e aumento da classe média estimulados pelos Estados Nacionais. Os indicadores sociais melhoraram, a exemplo da queda da mortalidade infantil, aumento da expectativa de vida e elevação da escolaridade. Todavia, permanecem desigualdades sociais e étnicas profundas. Nos últimos anos, crises econômicas estão influenciando negativamente os indicadores socioeconômicos em países como Venezuela, Brasil e Argentina.

Resposta da questão 25:

[A]

- [1] CORRETO. A América Central está inserida na zona tropical e, portanto, tem o predomínio de climas tropicais cujas temperaturas são amenizadas em face da elevada altitude de algumas porções do território.
- [2] INCORRETO. Cuba é o único país socialista da América Central.
- [3] CORRETO. Parte das ilhas que compõe as Antilhas da América Central são possessões ou tuteladas de antigas metrópoles europeias.
- [4] INCORRETO. O México não faz parte da América Central.
- [5] INCORRETO. A revolução socialista se tornou vitoriosa em 1959.

Resposta da questão 26:

[E]

A alternativa [E] está correta, porque o conceito de fronteira sugere a individualização do espaço por meio de diferentes critérios. As alternativas incorretas são: [A], porque os países da América do Sul apresentam expressivas diferenças no tocante à sua formação; [B], porque

embora os países sul-americanos tenham construído maior aproximação comercial nas últimas décadas, tal fato não foi suficiente para abrir as fronteiras entre eles; [C], porque embora com a globalização as fronteiras tenham se tornado, em alguns casos, mais flexíveis, o conceito ainda é o mesmo; [D], porque países com tratados de livre comércio monitoram suas fronteiras de forma conjunta.

Resposta da questão 27:

[E]

A alternativa [E] está correta porque o texto faz referência à grave crise de desabastecimento a qual a Venezuela – país identificado com o número 5 – está submetida. As alternativas seguintes estão incorretas porque os países identificados com os números 1, 2, 3 e 4 são, respectivamente, Guiana, Colômbia, Bolívia e Peru, e não correspondem ao contexto do texto.

Resposta da questão 28:

[B]

A criação de blocos econômicos como o Mercosul na América Latina a partir da década de 1990 intensificou o comércio entre os países membros. O princípio inicial é que o bloco seja uma zona de livre comércio sem taxas de importação. Com o Tratado de Ouro Preto (1994), o Mercosul se transformou numa união aduaneira parcial com tarifas mais altas no comércio com países de fora do bloco. Todavia, o bloco apresenta problemas como divergências comerciais entre os membros, a exemplo de medidas protecionistas como a imposição de barreiras contra a entrada de produtos industrializados brasileiros pela Argentina.

Resposta da questão 29:

[A]

O Mercosul é uma união aduaneira parcial a partir do Tratado de Ouro Preto (1994). Isto é, a maioria dos produtos circulam livremente entre os membros plenos, a exemplo do Brasil, Argentina, Paraguai e Uruguai. No comércio com países de fora do bloco, as tarifas são unificadas conforme o produto.

Resposta da questão 30:

[E]

A América Andina é formada pelos países que apresentam em parte de seus territórios, a Cordilheira dos Andes. Todavia, estes países apresentam outros domínios morfoclimáticos e fitogeográficos. Peru, Bolívia, Colômbia, Venezuela e Equador também apresentam trechos importantes de Floresta Amazônica. A América Andina se conecta com a América Central, uma vez que a Colômbia faz fronteira com o Panamá.

Resposta da questão 31:

[A]

A alternativa [A] está correta porque a base econômica da Venezuela é a exploração do petróleo, produto cujo preço foi fortemente desvalorizado com a crise do mercado imobiliário dos EUA em 2008 resultando em recessão no país, fato que, somado à gestão centralizadora de Chávez, agravou a iminente crise da Venezuela. As alternativas seguintes são incorretas porque as atividades citadas são inexpressivas ou pouco participativas nas exportações venezuelanas.

Resposta da questão 32:

[B]

Na década de 2000, países da América Latina como o Brasil tiveram um crescimento de PIB um pouco mais elevado do que a média da década de 1990. Entre as causas, a elevação do valor das commodities de exportação (petróleo, ferro, cobre, soja, açúcar, etc.) no mercado internacional. No Brasil, houve queda do desemprego, elevação de salários, adoção de programas sociais e crescimento da classe média, fenômenos que reduziram um pouco a concentração de renda. Assim, o índice de Gini sofreu redução, isto é, diminuiu a desigualdade. Todavia, com a crise econômica a partir de 2014, pobreza, desigualdade e desemprego voltaram a crescer.

Resposta da questão 33:

[C]

Como mencionado corretamente na alternativa [C], a industrialização na América do Norte, em especial nos Estados Unidos e Canadá, ocorreu inicialmente na costa voltada ao Atlântico respectivamente nas porções nordeste e sudeste. Estão incorretas as alternativas: [A], porque a América Platina, em especial a Argentina, apresenta maior ritmos de industrialização que a América Andina; [B], porque a região sudeste sofreu um processo de industrialização no mesmo contexto histórico que a Argentina; [D], porque as indústrias na América Central não possuem grande representatividade que justifique a relevância do comércio exterior; [E], porque a distribuição industrial no Brasil é irregular.

Resposta da questão 34:

[C]

Um bloco econômico como o Mercosul tem o objetivo de intensificar o comércio entre os países membros. Para isso, é preciso criar uma zona de livre comércio com a diminuição e eliminação progressiva das tarifas de importação que tornam os produtos importados mais caros. No Mercosul, parte dos produtos dos países integrantes circulam sem tarifas.

Resposta da questão 35:

[C]

Os itens incorretos são: III (nos últimos anos, Estados Unidos e Cuba realizam uma aproximação diplomática e econômica, apesar das divergências históricas e políticas) e IV (o Vaticano, sob liderança do Papa Francisco, foi importante na aproximação entre EUA e Cuba; o governo de Nicolás Maduro, da Venezuela, é crítico da influência excessiva dos EUA na América Latina).

Resposta da questão 36:

[C]

Como mencionado corretamente na alternativa [C], as informações remetem ao Canal do Panamá, via de especial importância para o comércio mundial entre o eixo Pacífico e o eixo Atlântico. Estão incorretas as alternativas seguintes porque não correspondem às indicações do enunciado.

Resposta da questão 37:

[A]

Como mencionado corretamente na alternativa [A], o descongelamento das relações diplomáticas entre Estados Unidos e Cuba levou à retirada de Cuba da lista de apoiadores do terrorismo internacional. Estão incorretas as alternativas seguintes porque não correspondem às medidas anunciadas pelos países.

Resposta da questão 38:

[E]

O item incorreto é o II, uma vez que, empresas transnacionais foram atraídas para países da América Latina para diversos setores da economia ao longo do tempo. O interesse são os novos mercados consumidores, maior lucratividade (incentivos fiscais e mão de obra barata) e facilidades para exportação. Porém, este processo resultou em ampliação da dependência das economias latino-americanas em relação às companhias estrangeiras.

Resposta da questão 39:

[E]

A alternativa [E] está incorreta porque, embora os dois países tenham acelerado o descongelamento de suas relações diplomáticas, Cuba não assumiu o compromisso de uma abertura política que leve ao fim da longínqua ditadura. As demais alternativas são corretas porque a reaproximação entre os países descongela as relações diplomáticas permitindo a reabertura das embaixadas e amplia as possibilidades de negócios embora o embargo não tenha se encerrado.

Resposta da questão 40:

[A]

Como mencionado corretamente na alternativa [A], a ditadura política coloca toda a infraestrutura e economia do país sob o controle do governo que, perante uma expressiva crise econômica após o fim da ajuda financeira soviética, não consegue alavancar capital para a modernização da estrutura produtiva do país e não permite a privatização do setor. Estão incorretas as alternativas: [B], porque a tecnologia será absorvida e não criada pelos cubanos; [C] e [D], porque há mercado em Cuba e, portanto, interesse das empresas.

Resposta da questão 41:

[A]

- I. CORRETO: O rompimento das relações entre os dois países ocorreu em razão da vitória da revolução socialista em Cuba e sua aproximação com a ex-URSS.
- II. CORRETO: A retomada do funcionamento das embaixadas dos países indica o descongelamento da diplomacia entre eles.
- III. CORRETO: As sanções adotadas contra Cuba no período da revolução foram a expulsão do país da OEA e o embargo econômico contra a ilha.
- IV. INCORRETO: Guantánamo continua sob poder dos Estados Unidos e o embargo econômico se posterga até o momento (2016).

Resposta da questão 42:

[A]

[I] Incorreto. Os principais países emergentes da América Latina são Brasil, México e Argentina, seguidos do Chile e da Colômbia. O Peru é um país subdesenvolvido, ainda apresenta uma economia muito dependente das exportações de commodities minerais e pescado. A Venezuela é um país exportador de petróleo, pouco industrializado e que apresenta uma grave crise econômica, social e política.

Resposta da questão 43:

[C]

Como mencionado corretamente na alternativa [C], a grande produção e exportação de cobre no Chile comprova a citação de Galeano, de que a América Latina posterga sua função de fornecedor de matéria-prima para a economia mundial. Estão incorretas as alternativas: [A] e [B], porque o México e a Colômbia se destacam na produção de petróleo; [D], porque a Bolívia

se destaca na produção de carvão mineral, petróleo e manganês; [E], porque a economia do Uruguai está assentada na produção agropecuária.

Resposta da questão 44:

[A]

A Colômbia atravessa um conflito interno entre o governo e guerrilhas de esquerda como as FARC (Forças Armadas Revolucionárias da Colômbia). O narcotráfico (produção de cocaína) é importante para a economia do país, apesar da retórica de combate feita pelo governo. O governo é de direita, sendo apoiado pelos Estados Unidos. A Venezuela apresenta um governo de esquerda e crítico da influência dos Estados Unidos na América Latina. Portanto, Colômbia e Venezuela, apesar de serem importantes parceiros comerciais, apresentam divergências geopolíticas relevantes e vários conflitos na zona de fronteira nos últimos anos devido à atuação da guerrilha, contrabandistas e imigrantes.

Resposta da questão 45:

[E]

A Venezuela atravessa uma grave crise política decorrente de conflitos entre o governo (esquerda radical com tendência autoritária, liderado por Nicolás Maduro, com apoio dos militares e parte da população pobre) e oposição (liderada pelas classes média e alta, além de corporações de mídia). O país também atravessa uma grave crise econômica decorrente da queda vertiginosa dos preços do petróleo no mercado internacional, má gestão, elevada inflação e desabastecimento de produtos básicos. O quadro social se agravou com o aumento da pobreza, da fome e do número de refugiados em direção aos países vizinhos como o Brasil.

