



Exercícios Dissertativos

1. (2002) “A Espanha enfrentou no final de semana uma das maiores avalanches de imigrantes ilegais em toda a sua história. Em 48 horas, foram interceptadas cerca de 800 pessoas que chegaram à costa do país em barcos ou botes infláveis. A maioria é composta por marroquinos e subsaarianos”.

Fonte: Folha de S. Paulo, 21/08/01.

A partir do texto, responda:

- (a) Que características geográficas facilitam o ingresso ilegal em território espanhol a partir do Marrocos?
 - (b) Que razões levam as populações marroquina e subsaariana a deixar seus países de origem e que motivos as atraem para a Espanha?
-

2. (2007)

SPANGLISH

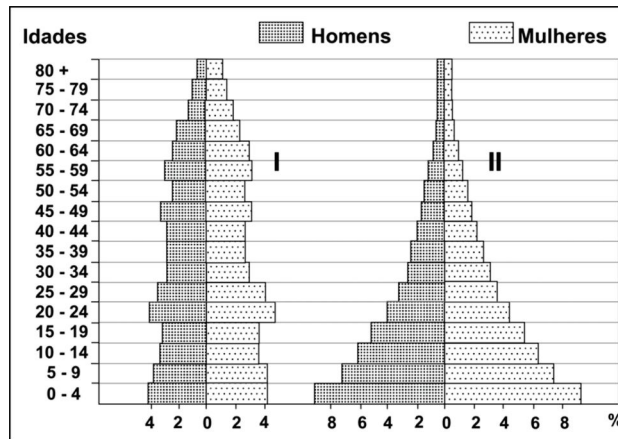
O diário “El País” de 02/10/2000 publicou uma entrevista com Ilan Stavans, escritor e filólogo mexicano, autor do primeiro dicionário de spanglish, uma língua com origens nos subúrbios hispânicos de Miami, Los Angeles e Nova Iorque. Com cerca de 6000 palavras, esta língua nasceu do choque do Espanhol com o Inglês e é, segundo aquele filólogo, “uma nova maneira de ser hispânico nos Estados Unidos”. A entrevista termina com uma lista de algumas palavras a incluir no dicionário; por ex., *culísimo* = muito frio (do inglês cool).

Fonte: Lexicon, **Vocabulário de Filosofia**, (<http://ocanto.esenviseu.net/lexs.htm>).

Com base no texto,

- (a) explique qual é o fenômeno geográfico responsável por essa fusão de línguas, nos EUA.
 - (b) cite e explique uma consequência possível desse fenômeno geográfico.
-

3. (2009)

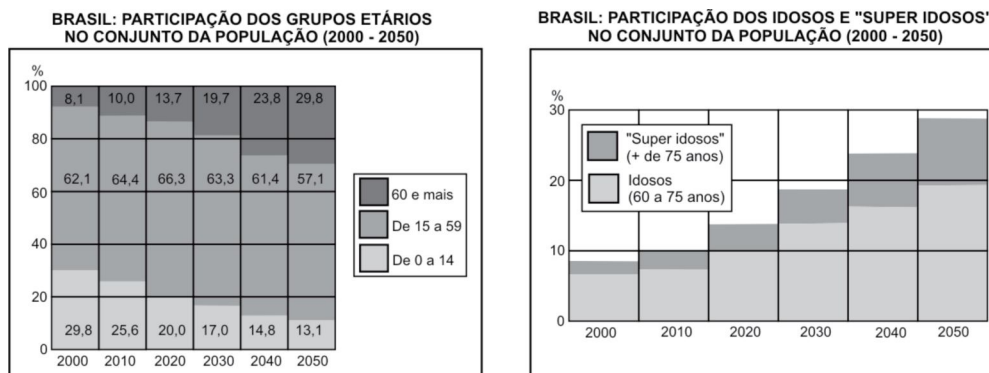


Fonte: www.census.gov/ipc/www/idb/. Acessado em outubro de 2008. Adaptado.

As pirâmides etárias acima representam dois modelos de estrutura demográfica de diferentes grupos de países.

- (a) Caracterize cada uma dessas pirâmides quanto às taxas de natalidade e à expectativa de vida.
- (b) Quais são as condições de desenvolvimento de países representados pela pirâmide etária I? Analise essa pirâmide, considerando aspectos econômicos, sociais e migratórios do grupo de países hipoteticamente representados.

4. (2012)

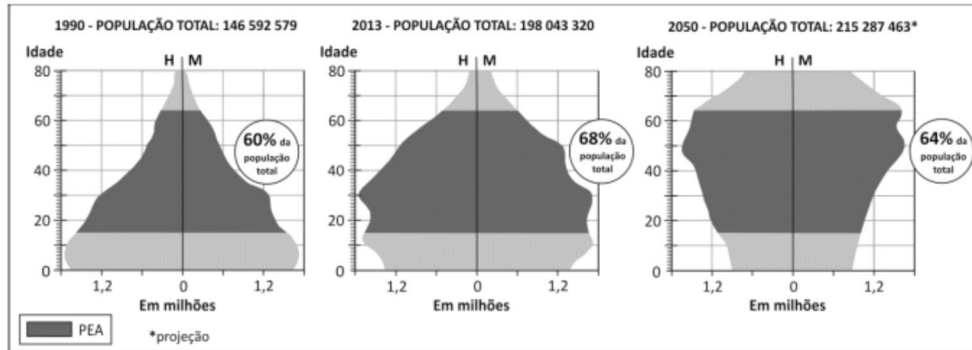


IBGE, 2010 e Boletim *Mundo*, abril, 2011. Adaptado.

Com base nos gráficos e em seus conhecimentos,

- (a) caracterize o processo de transição demográfica em curso no Brasil;
- (b) cite e explique dois possíveis impactos da transição demográfica brasileira sobre políticas públicas.

5. (2014) Os gráficos abaixo representam a composição da população brasileira, por sexo e idade, nos anos de 1990 e 2013, bem como sua projeção para 2050. Observe que, para cada ano, está destacado o percentual da população economicamente ativa (PEA).



www.ibge.gov.br. Acessado em 20/08/2013. Adaptado.

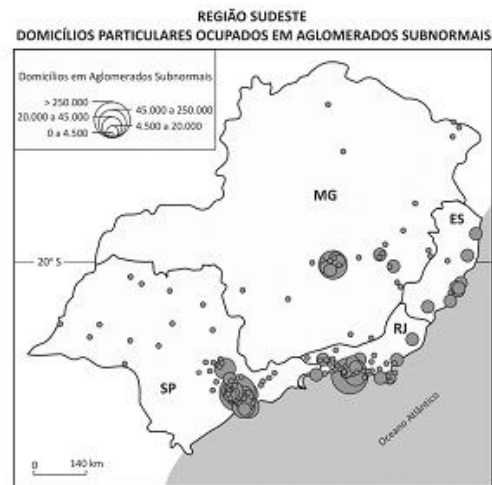
Com base nas informações acima e em seus conhecimentos, atenda ao que se pede.

- Na atualidade, o Brasil encontra-se no período denominado “janela demográfica”. Caracterize esse período.
- Análise a pirâmide etária de 2050 e cite duas medidas que poderão ser tomadas pelo governo brasileiro para garantir o bem-estar da população nesse contexto demográfico. Explique.

6. (2015)

Segundo o IBGE, aglomerado subnormal “é um conjunto constituído de, no mínimo, 51 unidades habitacionais (barracos, casas, etc.) carentes, em sua maioria, de serviços públicos essenciais. O conceito de aglomerado subnormal foi utilizado pela primeira vez no Censo Demográfico 1991. Possui certo grau de generalização, de forma a abarcar a diversidade de assentamentos existentes no País, conhecidos como: favela, invasão, grota, baixada, comunidade, vila, ressaca, mocambo, palafita, entre outros”.

Aglomerados subnormais. IBGE, 2011.
Adaptado.



Censo Demográfico 2010. Aglomerados subnormais. IBGE, 2011.

Com base no texto e no mapa,

- identifique duas características dos aglomerados subnormais, sendo uma relativa à questão fundiária e outra ao padrão de urbanização;
- explique a concentração espacial dos aglomerados subnormais na região Sudeste e o processo que levou a essa concentração.