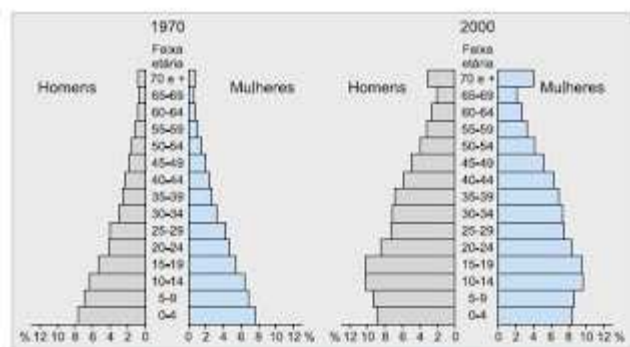


01. (FGV - adaptada) As características demográficas de um país são dinâmicas e alteram-se ao longo da história, segundo diferentes contextos socioeconômicos. Recentemente, o IBGE identificou algumas mudanças no perfil da população brasileira, entre as quais, a diminuição da população masculina em relação à feminina nas regiões metropolitanas e, por outro lado, o aumento da população masculina em relação à feminina em alguns estados das Regiões Norte e Centro-Oeste, além de um envelhecimento geral da população. Assinale a alternativa que melhor explique pelo menos uma dessas alterações.

- a) O envelhecimento da população explica-se pela baixa qualidade de vida de que dispõe o povo brasileiro, em média.
- b) Nas Regiões Norte e Centro-Oeste, as más condições de vida afetam principalmente mulheres e crianças, o que explica o aumento proporcional da população masculina.
- c) A violência nas regiões metropolitanas envolve mais a população masculina, o que ajuda a explicar a diminuição proporcional dessa população em relação à feminina nessas regiões.
- d) O aumento da população feminina nas regiões metropolitanas explica-se pelo êxodo rural, ou seja, a busca de trabalho nas frentes agrícolas pela população masculina.


02. (FEI-SP) Observe atentamente as pirâmides etárias da população brasileira que se encontram a seguir:



UOL – Atlas geográfico do Brasil – Editora Melhoramentos

- a) a primeira pirâmide populacional é típica de um país em desenvolvimento – maioria da população é jovem –, já a segunda aponta para um país subdesenvolvido, onde as altas taxas de mortalidade infantil fazem com que a população mais jovem “encolha”.
- b) as melhores condições de vida no campo geraram um aumento de expectativa de vida da população, mas não tiveram impacto sobre as elevadas taxas de natalidade, que matém ainda o país como predominantemente jovem.
- c) as pirâmides mostram que o Brasil, ao longo dos trinta anos que se passaram, efetuou a chamada transição demográfica, apresentando um envelhecimento de sua população.
- d) devido ao elevado número de jovens do país as alterações ocorridas na distribuição etária da população brasileira ao longo desses trinta anos não provocaram impacto algum na economia brasileira.
- e) não existem alterações substanciais na distribuição da população brasileira, já que a taxa de natalidade se manteve constante ao longo do período.

03. (UFT) Observe os gráficos abaixo:

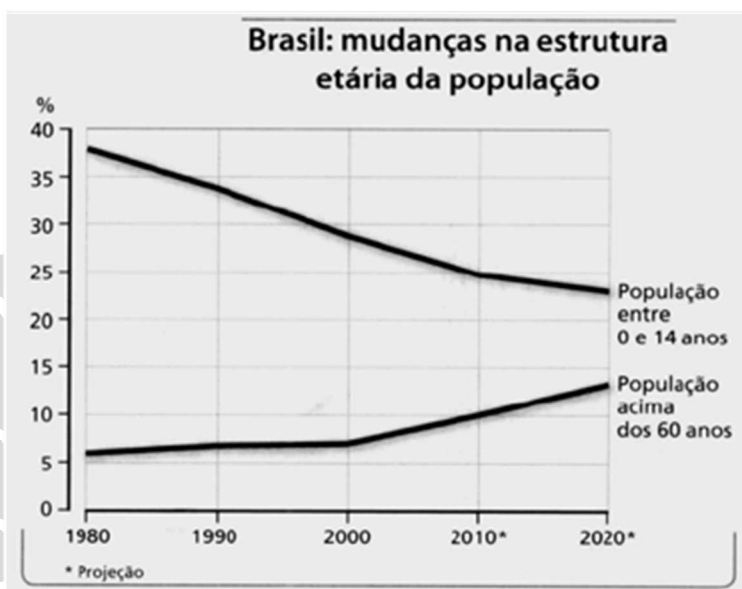


Os gráficos acima dizem respeito às pirâmides etárias brasileiras organizadas de acordo com os dados divulgados nos censos de 1980 e 2000 realizados pelo IBGE. Na comparação, observa-se que a base da pirâmide etária da população brasileira está se tornando cada vez mais estreita e o ápice mais largo. Verifica-se também que o corpo está cada vez maior, o que reflete a diminuição das taxas de crescimento vegetativo, o que provocou uma mudança no perfil da pirâmide etária brasileira nessa comparação entre 1980 e 2000. A respeito da análise das pirâmides etárias apresentadas acima, é CORRETO afirmar que

- a) a análise das pirâmides etárias permite verificar a composição etária de uma população e seu reflexo na estrutura da População Economicamente Ativa (PEA), a qual é formada por pessoas que exercem atividades remuneradas.
- b) a análise das pirâmides etárias servem como subsídios para a elaboração de políticas previdenciárias e influencia diretamente em questões que dizem respeito à concessão de benefícios, na medida em que diminui o número de pessoas aposentadas.
- c) a análise das pirâmides etárias subsidia o Estado na elaboração de políticas públicas nas áreas de educação, saúde, saneamento e cultura, de modo que possam ser elaboradas ações que atendam às expectativas de uma população cada vez mais jovem.
- d) a análise das pirâmides etárias permite verificar a composição da população feminina brasileira e serve como subsídio para a elaboração de políticas públicas de gênero para uma população feminina cada vez mais jovem.

e) a análise das pirâmides etárias auxilia o Estado na elaboração de programas sociais que objetivam a inclusão social e a distribuição de renda na intenção de corrigir as distorções do crescimento desigual entre a população brasileira.

04. (UEPB)



A estrutura etária da população tem reflexos importantes na economia de um país. Logo, a tendência dos grupos etários representados no gráfico nos leva à reflexão de que:

I – Em 1980, 38% da população tinham entre 0 a 14 anos de idade, em 2000 esse percentual cai para 29%, e, de acordo com as projeções do IBGE, em 2020 as crianças e jovens menores de 14 anos serão apenas 23% da população do país.

II – A participação relativa de idosos na população total vem aumentando significativamente. Em 1980, as pessoas com mais de 60 anos de idade representavam apenas 6%; em 2000 já perfaziam 7% e em 2020 totalizarão 13%.


III – As estatísticas oficiais afirmam que em 2006, 97% da população entre 7 a 14 anos frequentavam a escola. Como a população, nessa faixa etária, tende a diminuir em termos relativos e a permanecer estável em termos absolutos, não será necessário ampliar o número de vagas já existentes nas escolas fundamentais e sim melhorar a universalização do ensino médio e a qualidade das escolas, em todos os níveis.

IV – A projeção nos mostra que nas próximas décadas haverá um acelerado crescimento da população de idosos, resultante do aumento da expectativa de vida. Essas alterações no padrão demográfico brasileiro agravam a crise estrutural do sistema de previdência social no Brasil, mas, por outro lado, aumentam de maneira significativa a importância dos idosos no mercado de consumo (casas de repouso, atividades recreativas, educação continuada na área de informática, ensino de línguas estrangeiras e uma boa pedida para a indústria do turismo).

Estão corretas:

- a) Apenas as proposições II e III
- b) Apenas as proposições I e II
- c) Todas as proposições
- d) Apenas as proposições II e IV
- e) Apenas as proposições I e IV

05. (UEPB) Considerando que as pirâmides são gráficos que representam a estrutura de uma população distribuída por faixa de idade e sexos, observe as pirâmides 1, 2 e 3 e assinale com V ou com F as proposições, conforme sejam respectivamente Verdadeiras ou Falsas em relação à interpretação das mesmas.



- ( ) A base larga da pirâmide 1 indica uma alta expectativa de vida, que corresponde no geral aos países subdesenvolvidos, era a pirâmide típica do Brasil até o censo de 1980.
- ( ) A pirâmide 2 indica que o país apresenta uma elevação da expectativa de vida e que a população passa por um processo de envelhecimento. Assemelha-se à pirâmide que o Brasil começa a esboçar a partir dos anos 1990.
- ( ) A pirâmide 3 indica que o país apresenta uma baixa taxa de natalidade ao lado de uma baixa expectativa de vida, é a pirâmide típica dos países de economia emergente, a exemplo do Brasil e da Índia.
- ( ) A pirâmide 1 indica que o país necessita fazer altos investimentos em educação e saúde para qualificar sua mão-de-obra jovem enquanto que a pirâmide 3 indica que o país enfrenta altos gastos com aposentadorias, assistência social e carência de mão-de-obra nativa.

A sequência correta das assertivas é

- a) F V F V
- b) V F V F
- c) V V V V
- d) F F F F
- e) F F V V

**Gabarito:**

- 01. C
- 02. C
- 03. A
- 04. C
- 05. A

