

**Exercício 1**

(Uerj 2018) A empresa-rede pode realizar uma integração horizontal quando as diferentes unidades de produção fabricam produtos finais que constituem a essência do fluxo entre unidades que estão localizadas em países diferentes. Trata-se, na realidade, de uma especialização por produto. Um exemplo é a organização da Toyota no sudeste asiático, cuja distribuição de unidades de produção entre Tailândia, Malásia, Filipinas e Indonésia gera intenso fluxo intracorporativo.

Adaptado de PIRES DO RIO, G. A espacialidade da economia: superfícies, fluxos e redes. *In*: CASTRO, I. e outros. *Olhares geográficos: modos de ver e viver o espaço*. Rio de Janeiro: Bertrand Brasil, 2012.

O sucesso da estratégia empresarial descrita depende da seguinte característica econômica entre os países participantes:

- a) reduzidos índices de tarifas aduaneiras
- b) eficientes sistemas de proteção laboral
- c) elevados níveis de desenvolvimento tecnológico
- d) semelhantes magnitudes de mercados consumidores

Exercício 2

TEXTO PARA A PRÓXIMA QUESTÃO:

O poder criativo da imperfeição

Já escrevi sobre como nossas teorias científicas sobre o mundo são aproximações de uma realidade que podemos compreender apenas em parte. ¹Nossos instrumentos de pesquisa, que tanto ampliam nossa visão de mundo, têm necessariamente limites de precisão. Não há dúvida de que Galileu, com seu telescópio, viu mais longe do que todos antes dele. Também não há dúvida de que hoje vemos muito mais longe do que Galileu poderia ter sonhado em 1610. E certamente, em cem anos, nossa visão cósmica terá sido ampliada de forma imprevisível.

No avanço do conhecimento científico, vemos um conceito que tem um papel essencial: simetria. Já desde os tempos de Platão, ²há a noção de que existe uma linguagem secreta da natureza, uma matemática por trás da ordem que observamos.

Platão – e, com ele, muitos matemáticos até hoje – acreditava que os conceitos matemáticos existiam em uma espécie de dimensão paralela, acessível apenas através da razão. Nesse caso, os teoremas da matemática (como o famoso teorema de Pitágoras) existem como verdades absolutas, que a mente humana, ao menos as mais aptas, pode ocasionalmente descobrir. Para os platônicos, ³a matemática é uma descoberta, e não uma invenção humana.

Ao menos no que diz respeito às forças que agem nas partículas fundamentais da matéria, a busca por uma teoria final da natureza é a encarnação moderna do sonho platônico de um

código secreto da natureza. As teorias de unificação, como são chamadas, visam justamente a isso, formular todas as forças como manifestações de uma única, com sua simetria abrangendo as demais.

Culturalmente, é difícil não traçar uma linha entre as fés monoteístas e a busca por uma unidade da natureza nas ciências. Esse sonho, porém, é impossível de ser realizado.

Primeiro, porque nossas teorias são sempre temporárias, passíveis de ajustes e revisões futuras. Não existe uma teoria que possamos dizer final, pois ⁴nossas explicações mudam de acordo com o conhecimento acumulado que temos das coisas. Um século atrás, um elétron era algo muito diferente do que é hoje. Em cem anos, será algo muito diferente outra vez. Não podemos saber se as forças que conhecemos hoje são as únicas que existem.

Segundo, porque nossas teorias e as simetrias que detectamos nos padrões regulares da natureza são em geral aproximações. Não existe uma perfeição no mundo, apenas em nossas mentes. De fato, quando analisamos com calma as “unificações” da física, vemos que são aproximações que funcionam apenas dentro de certas condições.

O que encontramos são assimetrias, imperfeições que surgem desde as descrições das propriedades da matéria até as das moléculas que determinam a vida, as proteínas e os ácidos nucleicos (RNA e DNA). Por trás da riqueza que vemos nas formas materiais, encontramos a força criativa das imperfeições.

MARCELO GLEISER

Adaptado de *Folha de São Paulo*, 25/08/2013.

(Uerj 2018) O mapa milenar chinês “Yu Gong” fazia uma divisão esquemática de todo o mundo em cinco zonas retilíneas, organizadas de acordo com os quatro pontos cardeais baseados nos ventos. A civilização encontra-se no núcleo da imagem, destacando o domínio imperial. O grau de barbárie aumenta a cada quadrado que se afasta desse núcleo: governantes tributários, as regiões fronteiriças, os bárbaros “aliados” e, finalmente, a zona selvagem, sem cultura, que incluía a Europa.

Adaptado de BROTTON, J. *Uma história do mundo em doze mapas*.

Rio de Janeiro: Zahar, 2014.

Tal como as teorias científicas, as concepções de mundo expressas através da cartografia também são aproximações passíveis de ajustes e revisões.

No texto, a descrição do referencial utilizado para a criação de um mapa milenar chinês aponta para o seguinte aspecto, igualmente presente em documentos cartográficos de outras culturas:

- a) atraso técnico da elaboração
- b) fundamento místico da orientação

- c) interesse econômico da delimitação
- d) caráter etnocêntrico da representação

Exercício 3

TEXTO PARA A PRÓXIMA QUESTÃO:

Lucy caiu da árvore

Conta a lenda que, na noite de 24 de novembro de 1974, as estrelas brilhavam na beira do rio Awash, no interior da Etiópia. Um gravador K7 repetia a música dos Beatles “Lucy in the Sky with Diamonds”. Inspirados, os paleontólogos decidiram que a fêmea AL 288-1, cujo esqueleto havia sido escavado naquela tarde, seria apelidada carinhosamente de Lucy. Lucy tinha 1,10 m e pesava 30 kg. Altura e peso de um chimpanzé. ¹Mas não se iluda, Lucy não pertence à linhagem que deu origem aos macacos modernos. Ela já andava ereta sobre os membros inferiores. Lucy pertence à linhagem que deu origem ao animal que escreve esta crônica e ao animal que a está lendo, eu e você.

Os ossos foram datados. Lucy morreu 3,2 milhões de anos atrás. Ela viveu 2 milhões de anos antes do aparecimento dos primeiros animais do nosso gênero, o *Homo habilis*. A enormidade de 3 milhões de anos separa Lucy dos mais antigos esqueletos de nossa espécie, o *Homo sapiens*, que surgiu no planeta faz meros 200 mil anos. Lucy, da espécie *Australopithecus afarensis*, é uma representante das muitas espécies que existiram na época em que a linhagem que deu origem aos homens modernos se separou da que deu origem aos macacos modernos. ²Lucy já foi chamada de elo perdido, o ponto de bifurcação que nos separou dos nossos parentes mais próximos.

Uma das principais dúvidas sobre a vida de Lucy é a seguinte: ela já era um animal terrestre, como nós, ou ainda subia em árvores? ³Muitos ossos de Lucy foram encontrados quebrados, seus fragmentos espalhados pelo chão. Até agora, se acreditava que isso se devia ao processo de fossilização e às diversas forças às quais esses ossos haviam sido submetidos. Mas os cientistas resolveram estudar em detalhes as fraturas.

As fraturas, principalmente no braço, são de compressão, aquela que ocorre quando caímos de um local alto e apoiamos os membros para amortecer a queda. Nesse caso, a força é exercida ao longo do eixo maior do osso, causando um tipo de fratura que é exatamente o encontrado em Lucy. Usando raciocínios como esse, os cientistas foram capazes de explicar todas as fraturas a partir da hipótese de que Lucy caiu do alto de uma árvore de pé, se inclinou para frente e amortizou a queda com o braço.

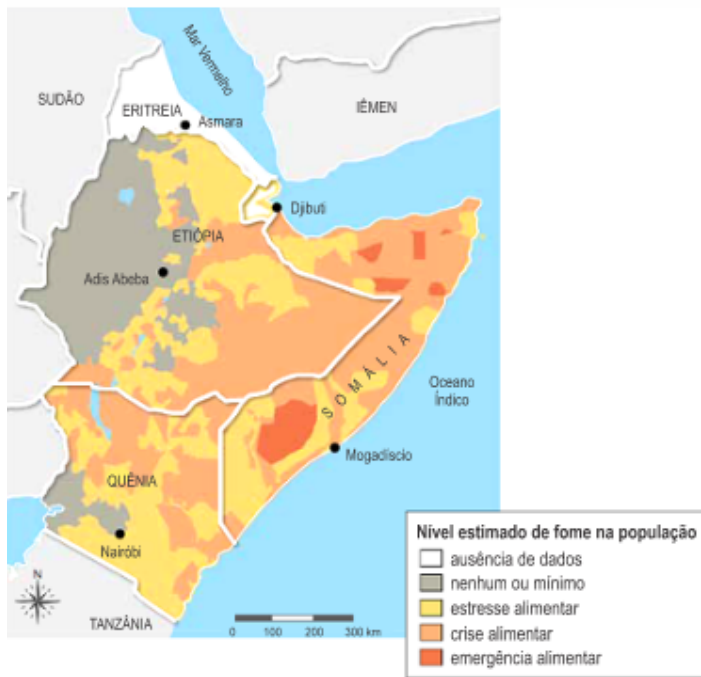
⁴Uma queda de 20 a 30 metros e Lucy atingiria o solo a 60 km/h, o suficiente para matar uma pessoa e causar esse tipo de fratura. Como existiam árvores dessa altura onde Lucy vivia e muitos chimpanzés sobem até 150 metros para comer, uma queda como essa é fácil de imaginar.

A conclusão é que Lucy morreu ao cair da árvore. E se caiu era porque estava lá em cima. E se estava lá em cima era porque sabia subir. Enfim, sugere que Lucy habitava árvores.

Mas na minha mente ficou uma dúvida. Quando criança, eu subia em árvores. E era por não sermos grandes escaladores de árvores que eu e meus amigos vivíamos caindo, alguns quebrando braços e pernas. Será que Lucy morreu exatamente por tentar fazer algo que já não era natural para sua espécie?

(Uerj 2018)

SITUAÇÃO ALIMENTAR NO CHIFRE DA ÁFRICA



Adaptado de *usaid.gov*, maio/2017.

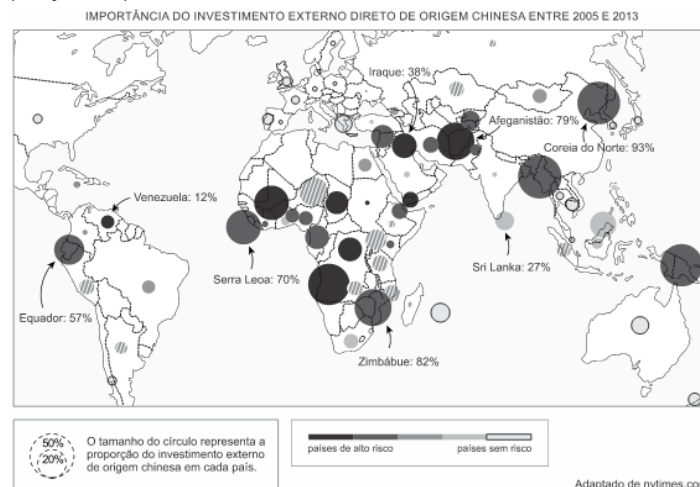
O fóssil de Lucy foi encontrado em uma das margens do rio Awash, no interior da Etiópia, porção continental conhecida como “Chifre da África”, marcada por problemas sociais graves.

O problema social representado no mapa tem como explicação:

- a) desavenças políticas entre potências globais que restringem as ações de ajuda e apoio
- b) conflitos bélicos entre grupos locais que desestruturam as redes de produção e circulação
- c) intervenção militar das alianças regionais que limitam as iniciativas de empresas e governos
- d) tamanho reduzido dos imóveis rurais que inviabilizam as atividades de agricultura e pecuária

Exercício 4

(Uerj 2017)



Adaptado de *nytimes.com*.

As agências de classificação de risco avaliam a maior ou menor possibilidade de prejuízo que cada país oferece aos investidores, principalmente em função do grau de estabilidade política e econômica desses mesmos países.

Com base no mapa, é possível reconhecer que a China tem grande peso como investidor em dois grupos de países classificados como de alto risco. O primeiro grupo é o dos aliados políticos, como o Irã e a Coreia do Norte. Já o segundo grupo inclui as nações nas quais os chineses possuem um forte interesse comercial.

Um fator econômico prioritário que justifica esse interesse comercial é:

- a) incentivo à indústria local
- b) desenvolvimento de tecnologia
- c) acesso ao mercado consumidor
- d) suprimento de matérias-primas

Exercício 5

(Uerj 2017) O governo chinês anunciou, nesta quinta-feira, que decidiu pôr fim à política do filho único. Por mais de três décadas, impediu-se que casais tivessem mais de uma criança, o que causou impacto na sociedade e na economia do país. Segundo a agência de notícias estatal Xinhua, o Partido Comunista determinou que, agora, os casais poderão ter dois filhos.

Adaptado de bbc.com, 29/10/2015.

A principal justificativa para a decisão do governo chinês está apontada em:

- a) ampliar o poder de consumo do mercado
- b) reduzir o custo da mão de obra da indústria
- c) viabilizar a proposta de democratização do estado
- d) retardar o processo de envelhecimento da população

Exercício 6

(Uerj 2017) Um dos fatores que impulsionaram a tecnologia da informação foi o sucesso dos profissionais indianos nos Estados Unidos, principalmente no Vale do Silício. A saída de estudantes indianos gerou um intenso debate dentro da Índia: emigrantes eram acusados de usarem a excelente educação recebida gratuitamente do governo para impulsionar suas carreiras sem dar nada de volta ao país. O grosso da emigração indiana hoje vai para os EUA, Austrália, Canadá e Nova Zelândia.

Adaptado de COSTA, F. *Os indianos*. São Paulo: Contexto, 2015.

Apesar da crítica relatada no texto, a economia indiana também se beneficiou com a emigração de profissionais indianos qualificados.

Para a Índia, uma consequência positiva desse processo demográfico tem sido:

- a) barateamento da mão de obra local
- b) recebimento de remessas financeiras
- c) diminuição dos índices de desemprego
- d) ampliação das exportações da indústria

Exercício 7

(Uerj 2017) Os refugiados são pessoas que escaparam de conflitos armados ou perseguições. Com frequência, sua situação é tão perigosa e intolerável que devem cruzar fronteiras internacionais para buscar segurança nos países mais próximos e então se tornar um “refugiado” reconhecido internacionalmente, com acesso à assistência dos Estados, da ACNUR (Agência da ONU para Refugiados) e de outras organizações.

ADRIAN EDWARDS

Adaptado de acnur.org, outubro/2015.

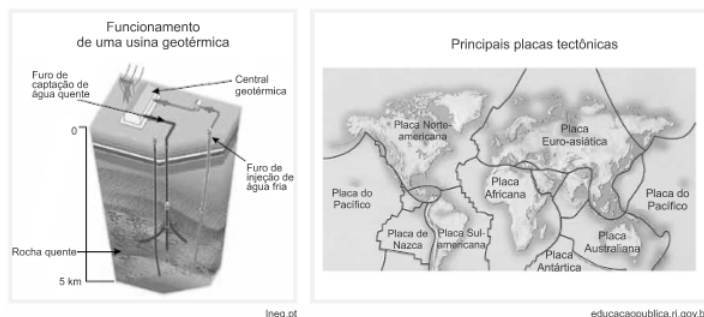
O conceito de refugiado, apresentado no texto, está diretamente associado aos problemas políticos e econômicos que afetam diversos países na atualidade.

Nos últimos anos, a região de origem que tem contribuído com o maior número de refugiados em direção a países da União Europeia é:

- a) Leste Europeu
- b) Oriente Médio
- c) Extremo Oriente
- d) Península Balcânica

Exercício 8

(Uerj 2016) As usinas geotérmicas são uma forma alternativa de geração de energia elétrica por utilizarem as elevadas temperaturas do próprio subsolo em algumas regiões. Considere as informações do esquema e do mapa a seguir:



O país cuja localização espacial proporciona condições ideais para amplo aproveitamento da energia geotérmica é:

- a) Islândia
- b) Nigéria
- c) Uruguai
- d) Austrália

Exercício 9

(G1 - ifsul 2015) “Constitui-se no maior país do mundo em extensão longitudinal. Ao todo, 11¹¹ fusos horários e mais de 10 mil quilômetros separam a região oeste do extremo leste. Assim, quando é meio-dia na capital, Moscou, já são 9 horas da noite nas cidades do extremo leste.”

Adaptado de: LUCCI, E. A; BRANCO, A. L; MENDONÇA, C. *Território e Sociedade no Mundo Globalizado*. São Paulo: Ed. Saraiva, 2010, p. 33.

A qual país o texto faz referência?

- a) Rússia.
- b) Ucrânia.

- c) Lituânia.
- d) Moldávia.

Exercício 10

(Fgv 2016) Um dos mais sérios problemas com o qual a Europa se defronta hoje em dia é a questão migratória. Não que isso seja novidade: ao longo de todo o século XX, a Europa sempre se viu às voltas com grupos que saíam do continente, ou para ele se dirigiam. Porém, atualmente, a migração se tornou uma questão traumática. O mapa a seguir, intitulado “Rotas de Fuga”, mostra os caminhos que os migrantes adotam.



(O Estado de S.Paulo, 23 abr. 2015)

A partir desse mapa, é correto afirmar que

- a) os imigrantes vêm exclusivamente da África.
- b) apenas a África Saariana é responsável pelo contingente de imigrantes que a Europa recebe.
- c) o Oriente Médio, a África Saariana e a África Subsaariana colaboram para o fluxo migratório.
- d) os emigrantes negros evitam atravessar o Deserto do Saara para chegar à Europa Mediterrânea.
- e) o “Chifre da África” fica fora da oferta de imigrantes para a Europa.

Exercício 11

(G1 - ifsul 2016) Observe o mapa abaixo:



(GARCIA, H.C. e CARAVELLO, T.M. Geografia Geral. Ed. Scipione.)

O país que está indicado pelo número 5 é

- a) a Botsuana.
- b) o Marrocos.
- c) a África do Sul.
- d) o Moçambique.

Exercício 12

(Cefet MG 2014) A questão refere-se à imagem abaixo.



Fonte: FERREIRA, Graça Maria Lemos. Atlas geográfico: espaço mundial. São Paulo: Moderna, 2010. (Adaptado)

A produção descentralizada de drogas e a dinâmica dos fluxos estabelecidos têm como consequência a (o)

- a) incremento da demanda do comércio local.
- b) ampliação do alcance das forças legais de contenção.
- c) pressão dos governos da região pela legalização dos entorpecentes.
- d) ratificação de acordos cooperativos entre os principais fornecedores.
- e) intensificação do comércio ilegal do produto para outros continentes.

Exercício 13

(Unesp 2018) Em 03.04.2017, o jornal *El País* publicou matéria que pode ser assim resumida:

Os países _____ não têm poder político sobre os demais Estados Partes, mas possuem ferramentas para tentar reconduzir a situação de um membro, caso esse se afaste dos princípios do Tratado de Assunção, assinado em 1991. Nessa perspectiva, insere-se a aplicação da cláusula democrática do bloco sobre a _____, em função da crise política, institucional, social, de abastecimento e econômica que atravessa o país.

As lacunas do excerto devem ser preenchidas por

- a) do Nafta – Argentina.
- b) do Mercosul – Bolívia.
- c) da ALADI – Venezuela.
- d) da ALADI – Bolívia.
- e) do Mercosul – Venezuela.

Exercício 14

(G1 - ifsul 2015)



Adaptado de: ATUAL EDITORA. *Mapas mudos para atividades escolares.* São Paulo, Atual, 1971, p. 41.

De acordo com o mapa, o continente representado é o

- a) Asiático.
- b) Africano.
- c) Europeu.
- d) Americano.

Exercício 15

(Fgv 2005) Pela primeira vez, este país participa, em Washington, de uma reunião de ministros das finanças do Grupo dos Sete (Japão, Estados Unidos, Alemanha, França, Canadá, Itália, Reino Unido), sinal de que o crescimento ininterrupto de sua economia, nas últimas décadas, superou o distanciamento vigente na ordem mundial bipolar.

Fonte: adaptado de "Le Monde Diplomatique", 2004.

O texto destaca o seguinte país:

- a) Índia: antiga produtora de especiarias, atualmente, uma das capitais do cinema e com alta taxa de exportação de produtos alimentares.
- b) Rússia: a retomada da indústria armamentista tem contribuído para acelerar o crescimento econômico.
- c) Portugal: seu crescimento recente deve-se à consolidação do comércio com emergentes (Macau, Goa) e ex-socialistas (Moçambique).
- d) China: nova "oficina do mundo", cuja economia se inclui entre as maiores do cenário internacional contemporâneo.
- e) Polônia: beneficiada pela adesão à União Europeia, lidera a pauta de exportações entre as ex-repúblicas socialistas do Leste Europeu.

Exercício 16

(Fac. Albert Einstein - Medicina 2016) Leia:

"Vejam os franceses. É o caso típico de um país que acreditou poder absorver a migração. Porém, por um lado, impôs logo aos migrantes a ética da República; e, por outro, arrumou-os nos bairros remotos. É muito raro encontrar um migrante a viver ao lado de Notre-Dame. Por que é que um muçulmano em França se torna fundamentalista? Acha que isso aconteceria se vivesse num apartamento perto de Notre-Dame? A sua integração não foi completa (...). A migração em longo prazo pode produzir integração, mas em curto prazo não (...)"

(Problema da Europa é ser governada por burocratas, diz Umberto Eco. In <http://jornalggn.com.br/noticia/problema-daeuropa-e-ser-governada-por-burocratas-diz-umberto-eco>, acesso 17/09/2015)

Esse é um trecho de uma resposta do escritor Umberto Eco sobre a difícil questão dos imigrantes e refugiados estrangeiros na Europa. No caso de seu comentário, ele se refere ao

- a) fenômeno do impossível convívio social entre identidades culturais tão distintas como a dos franceses e a dos muçulmanos imigrantes, pois esses, em ambiente estranho, tendem ao fundamentalismo.
- b) problema insolúvel da imigração atual para a Europa, visto a desqualificação profissional dos imigrantes para se integrarem no processo econômico e também a incompatibilidade cultural desses com as regras do mundo do trabalho ocidental.
- c) problema da segregação urbana nas cidades francesas, que dificulta a integração dos novos imigrantes no quadro social nacional e os mantém isolados, vinculados apenas às suas identidades culturais de origem.

d) fenômeno da inadaptação cultural dos imigrantes de origem oriental à cultura ocidental, pois eles fogem para a França, mas mostram-se intolerantes com a vida urbana nas cidades, e por isso isolam-se.

Exercício 17

(G1 - ifpe 2016) Observe atentamente o texto a seguir.

Comissão da ONU pede que refugiados sírios não sejam expulsos

Uma comissão da ONU denunciou, nesta quinta-feira (3), o fracasso da comunidade internacional em proteger os refugiados sírios e pediu aos países que não os expulsem nesse momento em que estão afluindo em grande número para a Europa.

A comissão de investigação da ONU sobre as violações dos direitos humanos na Síria não obteve a autorização de Damasco para entrar no país, mas recolheu milhares de testemunhos de vítimas, documentos e fotos usados em seu relatório.

Reportagem do G1 de 03/09/2015. Disponível em:

<<http://g1.globo.com/mundo/noticia/2015/09/comissao-da-onu-pede-que-refugiados-sirios-nao-sejam-expulsos.html>>. Acesso em: 22 set. 2015.

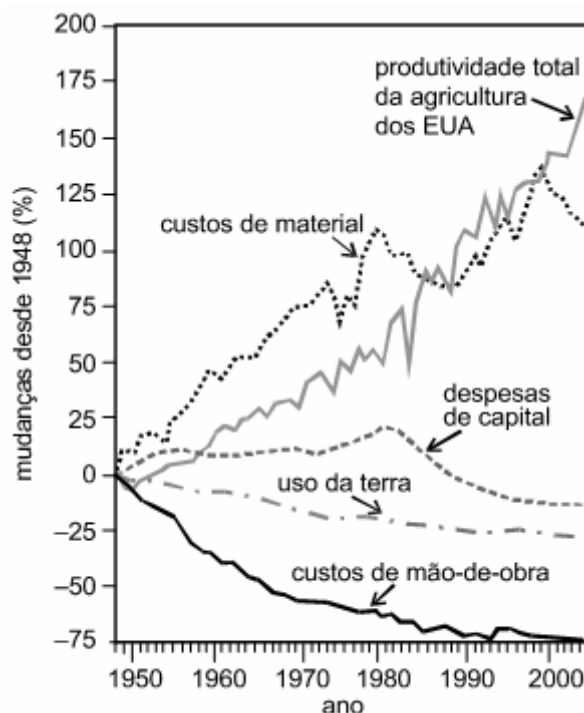
Sobre a crise internacional observada na atualidade, podemos afirmar que

- a) segundo a ONU, crimes de guerra vêm sendo cometidos no território sírio, entretanto as evidências apontam apenas para as ações cometidas pelo governo.
- b) os sírios estão sendo expulsos do seu território devido à ditadura implantada pelo então presidente Bashar al-Assad.
- c) o grupo autointitulado Estado Islâmico tomou o governo de Damasco e está expulsando todo o grupo Sunita residente na Síria.
- d) todos os países da Europa se encontram preocupados com a situação dos refugiados sírios e estão dispostos a abrigá-los em seus territórios.
- e) os sírios estão fugindo da guerra civil que se instalou no seu país desde 2011, a qual começou com protestos populares e progrediu para uma violenta luta armada.

Exercício 18

Aumento de produtividade

Nos últimos 60 anos, verificou-se grande aumento da produtividade agrícola nos Estados Unidos da América (EUA). Isso se deveu a diversos fatores, tais como expansão do uso de fertilizantes e pesticidas, biotecnologia e maquinário especializado. O gráfico a seguir apresenta dados referentes à agricultura desse país, no período compreendido entre 1948 e 2004.



Scientific American Brasil, jun./2007, p. 19 (com adaptações).

23. (Enem 2007) Com base nas informações anteriores, pode-se considerar fator relevante para o aumento da produtividade na agricultura estadunidense, no período de 1948 a 2004,

- a) o aumento do uso da terra.
- b) a redução dos custos de material.
- c) a redução do uso de agrotóxicos.
- d) o aumento da oferta de empregos.
- e) o aumento do uso de tecnologias.

Exercício 19

(Upe-ssa 3 2017) Observe a charge a seguir:



www.google.com.br, 2016.

Com base na situação geopolítica apresentada na charge, é CORRETO afirmar que se trata

- a) da separação britânica da Organização do Tratado do Atlântico Norte (OTAN), que é uma organização gerada em 1949, no contexto da Guerra Fria, a qual unia, em pacto militar, os países integrantes do bloco europeu.
- b) do "Brexit", ou seja, a saída do Reino Unido da União Europeia, que é o maior bloco econômico do mundo, conhecido pela livre circulação de bens, pessoas e mercadorias e pela adoção de uma moeda única.

c) do livre comércio, estabelecido no Pacto de Varsóvia entre a Inglaterra e a Itália, que tem como objetivo geopolítico gerenciar acordos comerciais, tendo como parâmetro a globalização da economia europeia.

d) da fuga do Reino Unido da Rodada de Doha que tem como objetivo principal a diminuição das barreiras comerciais e do protecionismo comercial, focando o livre comércio para as nações em processo de desenvolvimento econômico na Europa.

e) da saída da Inglaterra da União Europeia, bloco econômico, que se formou para unir os países europeus que já faziam parte da OTAN. Foi criado com o objetivo de evitar que mais guerras acontecessem entre a Itália e os países do norte da Europa e, ainda, como forma de recuperar a economia da crise mundial de 1929.

Exercício 20

(G1 - ifce 2012) São as principais características do Vale do Silício, nos Estados Unidos:

a) localizado no oeste dos Estados Unidos, próximo a importantes centros de pesquisa, forma um complexo industrial com destaque para os ramos típicos da Terceira Revolução Industrial.

b) também conhecido por cinturão (*belt*), constitui-se na principal área produtora de cereais dos Estados Unidos, sobretudo de milho e trigo, além de pecuária intensiva.

c) formado por erosão glacial, constitui-se numa área de preservação permanente, onde se destacam as faias, as sequoias e as bétulas, espécies típicas da floresta boreal.

d) localizado no nordeste dos Estados Unidos, constitui-se numa área de antiga concentração industrial, destacando-se as indústrias de bens de produção pela abundância de matérias-primas, energia e mão de obra e pela facilidade de transporte.

e) é uma das principais áreas de extração mineral, sobretudo de silício, cobre e ferro, altamente prejudicada pela degradação do meio ambiente.

Exercício 21

(Uerj 2020)



Adaptado de billingsgazette.com, 05/01/2016.

Entre 2014 e 2017, derrotar o Estado Islâmico (ISIS) foi uma das prioridades da política externa dos Estados Unidos. Ao final de 2017, o ISIS foi considerado militarmente derrotado, perdendo o controle de praticamente todos os territórios que havia conquistado na Síria e no Iraque.

A charge aponta a existência de uma incoerência entre os seguintes aspectos da política externa estadunidense no Oriente

Médio:

- a) alinhamento étnico e liberdade religiosa
- b) fundamento ideológico e interesse econômico
- c) conservadorismo social e protagonismo ambiental
- d) multilateralismo diplomático e unilateralismo bélico

Exercício 22

(G1 - ifal 2017) Nos últimos anos, tem sido comum reportagens sobre a onda de refugiados na Europa, que fogem de seus países devido à crescente miséria, fome e as guerras civis que parecem infundáveis. Esses graves problemas vêm atingindo milhares de cidadãos africanos e asiáticos, que arriscam a vida em travessias perigosas pelo Mar Mediterrâneo em busca de sobrevivência. Vejamos algumas manchetes publicadas pelo jornal *El País*, sobre a questão dos refugiados:

CRISE DOS REFUGIADOS NA EUROPA

“Quase 3.000 imigrantes morreram este ano no Mediterrâneo”.

El País, 22/07/2016.

“França constrói muro junto à ‘selva’ de Calais para impedir acesso de imigrantes”.

El País, 08/09/2016.

País asiático em guerra civil desde 2011 e governado por Bashar al-Assad, é o que mais tem contribuído para o aumento de refugiados na Europa. Esse país é a

- a) Turquia
- b) Iraque
- c) Coreia do Norte
- d) Síria
- e) Israel

Exercício 23

(Ufpa 2016) Considere as informações do texto e da figura.

Texto I

Percebemos uma nítida oposição entre uma África onde se situa uma das mais famosas (talvez até a mais popular) civilização de todos os tempos, o Egito, e as regiões restantes do continente, compreendendo os desertos (Saara e Kalahari), as latitudes equatoriais (Senegal a Angola), as das florestas (bacia do Zaire) e o sul.

LANGER, J. Civilizações Perdidas no Continente Negro: o imaginário arqueológico sobre a África. *Mneme. Revista de Humanidades*. V. 07. N. 14, fev/mar 2005 – Semestral. p. 53.

Adaptado.

Texto II



Fonte: https://www.pinterest.com/pin/32299322304340181/?from_navigate=true. Acessado em 10/04/2016.

Os dados sobre o continente africano apresentados no texto e na figura enfatizam

- sua diversidade cultural e físico-biológica.
- seus conflitos tribais e a degradação ambiental.
- a tradição dos ancestrais e o potencial turístico do local.
- sua superioridade econômica e o perigo do mundo tropical.
- o histórico de escravidão e a exploração dos seus recursos naturais.

Exercício 24

(Ufjf-pism 2 2016) O ano de 2014 testemunhou o dramático aumento do deslocamento forçado em todo o mundo causado por guerras e conflitos, registrando níveis sem precedentes na história recente. (...) em 2013, o Alto Comissariado das Nações Unidas para os Refugiados (ACNUR) anunciou que os deslocamentos forçados afetavam 51,2 milhões de pessoas, o número mais alto desde a Segunda Guerra Mundial. Doze meses depois, a cifra chegou a impressionantes 59,5 milhões de pessoas, um aumento de 8,3 milhões de pessoas forçadas a fugir. (...) A Síria é o país que gerou o maior número tanto de deslocados internos (7,6 milhões de pessoas) quanto de refugiados (3,8 milhões). Em seguida estão Afeganistão (2,59 milhões de refugiados) e Somália (1,1 milhão de refugiados).

Disponível em:

<<http://www.acnur.org/t3/portugues/recursos/estatisticas/>>.

Acesso em: 22 out. 2015.

Qual a causa dos deslocamentos internos e forçados nos países em destaque?

- Na Síria, os deslocados internos marcham em direção aos territórios dominados por paquistaneses.
- Na Somália, a facção do Estado Islâmico controla grande parte do país, expulsando os milicianos.

- No Afeganistão, os deslocados internos migram para o norte em busca de emprego na mineração.
- Os refugiados da Síria fugiram, principalmente, em função da guerra civil que tenta derrubar Assad.
- Os refugiados deixaram o Afeganistão devido à intensificação do recrutamento para o serviço militar.

Exercício 25

(Udesc 2015) A República do Haiti é um pequeno país, que possui cerca de 10 milhões de habitantes, dos quais a grande maioria é negra. A língua oficial é o francês e o crioulo, e a capital chama-se Porto Príncipe. O quadro social do país é bastante precário, em 2014 os jornais noticiaram a busca dos haitianos por trabalho no Brasil. Assinale a alternativa que contém o nome do continente onde o Haiti se localiza.

- América do Norte
- América Central
- Ásia
- América do Sul
- África

Exercício 26

(G1 - ifce 2012) A China, como resultado de uma política industrial implantada por Deng Xiaoping, no início dos anos de 1980, é o país que mais cresce no mundo. Nas últimas décadas, a China tem ocupado horários nobres na mídia. Esse arsenal de dados sobre a China nos informa que

- a China é um país totalmente agrícola e sua economia não tem apresentado nenhuma forma de crescimento nos últimos anos.
- a China continua sendo governada pela dinastia Manchu, que centraliza todas as decisões nas mãos do imperador.
- a China sofreu uma profunda abertura econômica e procura a expansão de seus mercados, vendendo produtos baratos.
- as reformas econômicas pelas quais tem passado o governo chinês têm criado um entrave para a entrada do capital estrangeiro no país.
- o processo de abertura econômica não estimula a iniciativa privada, já que, no sistema planejado da economia, este é um direito que se estende a todos.

Exercício 27

(Unesp 2014) **Catalunha de mãos dadas**

Imagine uma corrente humana formada por pessoas que dão as mãos em uma extensão de 400 quilômetros. Cidadãos da Catalunha não só imaginaram como a colocaram em prática nesta quarta-feira [11.09.2013], em que se celebra a Diada, uma espécie de dia do orgulho catalão, por ser a data que relembra a batalha, no século 18, de Barcelona com tropas da monarquia espanhola. O 11 de setembro catalão é celebrado anualmente com atos oficiais e passeatas, mas tem sido nos últimos anos o ponto nevrálgico do pleito dessa região.

(<http://luisabelchior.blogfolha.uol.com.br>. Adaptado.)

Sobre a Catalunha, é correto afirmar que se trata de

- uma região autônoma e que reivindica sua integração ao território nacional espanhol, acompanhada de plena participação

na vida política e econômica da Espanha.

b) uma região com identidade cultural própria e que reivindica total autonomia política e administrativa em relação à Espanha.

c) uma região pobre, com identidade cultural espanhola, mas que exige sua autonomia administrativa como forma de se proteger da atual crise econômica que assola a Espanha.

d) uma ex-colônia espanhola, que reivindica sua autonomia administrativa, mas com direitos de influenciar na vida política e econômica da Espanha.

e) um país autônomo, com território e governo nacionais próprios e que almeja integrar-se à Espanha para poder participar definitivamente da União Europeia.

Exercício 28

(Ufpr 2019) “No período de 2009 a 2014, a economia de Cuba apresentou baixo crescimento do PIB e do PIB per capita, além de déficit fiscal em quase todos os anos. São evidências de uma profunda crise estrutural ocasionada por deficiências internas e influências externas que limitam fortemente o desempenho da economia, o desenvolvimento e a melhora da qualidade de vida da população”

(Rodríguez, 2016).

Sobre Cuba, levando em consideração os dados apresentados e os conhecimentos de geografia, é correto afirmar:

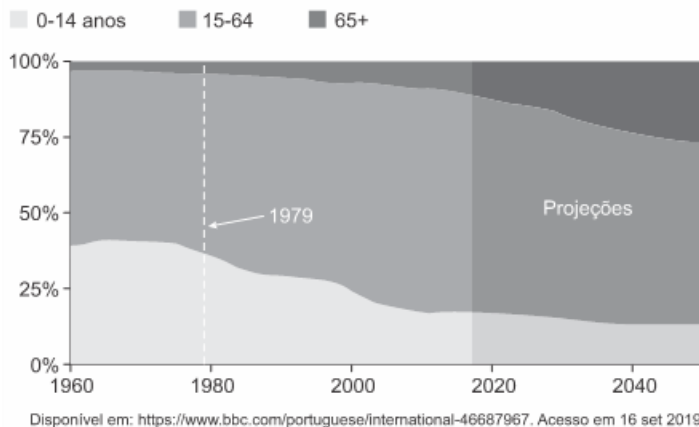
- a) A crise mundial iniciada em 2008 estancou o processo de desenvolvimento acelerado que a economia cubana vinha alcançando desde 1992, quando o fim da URSS livrou Cuba da interferência soviética.
- b) O baixo ritmo de crescimento do PIB é compensado pelas políticas de distribuição de renda adotadas no país, que contribuem para elevar a renda média da população.
- c) A participação popular na elaboração e execução de políticas públicas é um dos fatores estruturais responsáveis pelo déficit fiscal persistente, na medida em que pressiona os gastos sociais para cima.
- d) A crise internacional de 2008, o bloqueio econômico dos EUA e as deficiências do modelo de economia planejada são fatores externos e internos que contribuem para o baixo dinamismo econômico.
- e) As altas taxas de crescimento demográfico são um fator interno que contribui para o baixo crescimento do PIB per capita.

Exercício 29

(G1 - cftjr 2020)

A população da China por faixa etária

Proporção da população total (1960-2050)



A mudança das características da população chinesa, representada no gráfico, projeta a tendência futura de:

- a) Confirmação da explosão demográfica.
- b) Aumento do crescimento vegetativo.
- c) Agravamento da mortalidade infantil.
- d) Envelhecimento da sociedade local.

Exercício 30

(Fgv 2009) **PROVÍNCIA RUSSA TEM FERIADO PARA CASAIS PROCRIAREM**

O governador de uma das províncias da Rússia Ocidental instituiu a data de 12 de setembro para incentivar os casais a pensar em procriação em um dia livre do trabalho.

www.noticias.uol.com.br (acesso em 12.09.2008)

Esse tipo de iniciativa evidencia:

- a) a questão demográfica alarmante da Rússia, que apresenta uma taxa de natalidade muito baixa e registra, atualmente, um crescimento natural negativo.
- b) a necessidade de o governo russo demonstrar a superioridade étnica dos eslavos frente a grupos étnicos minoritários, como os tchetchenos.
- c) o esforço do Estado para associar o crescimento demográfico com o econômico, pois ambos ainda se ressentem do período de transição política.
- d) a preocupação geopolítica russa com os grandes espaços vazios a serem povoados, principalmente, nas áreas de fronteira com os outros países da CEI.
- e) a nova política demográfica do governo russo, voltada para recuperar a posição que tinha até o final da década de 1980, de país populoso.

Exercício 31

(Uerj 2020) **MEDITERRÂNEO É O MAIOR CEMITÉRIO DA EUROPA HOJE**

Trata-se de um grave problema: as próprias leis da União Europeia e as convenções internacionais afirmam que os fugitivos salvos não podem ser levados de volta ao porto de embarque de onde escaparam da guerra, do terrorismo e da fome. Mas, ainda assim, todos os dias, dezenas de pessoas morrem durante a tentativa de atingir a Europa. Hoje, o Mediterrâneo virou o maior cemitério da Europa. Nós conhecemos apenas o número de

vítimas que foram registradas através de fotos, posição e data. Contudo, para cada vítima divulgada oficialmente há um morto que nem aparece nas estatísticas. Vivemos uma situação absurda. A África é saqueada pelos países ocidentais, que depois não querem ver de perto o efeito de sua política. Os países europeus fecham suas fronteiras e ignoram que essas vítimas vão morrer justamente tentando fugir da situação que eles criaram.

CLAUS PETER REISCH Adaptado de gazetaonline.com.br, julho/2018.

Em julho de 2018, Claus Peter Reisch, comandante do navio Lifeline, ficou sete dias no mar Mediterrâneo com 233 migrantes a bordo aguardando autorização para desembarcar em países europeus.

No que se refere às relações entre países africanos e governos europeus, a avaliação de Reisch para a crise migratória atual expressa a contradição entre os seguintes fatores:

- a) integração global e localismo étnico
- b) herança imperialista e nacionalismo xenófobo
- c) crise demográfica e modernização econômica
- d) dinamização comercial e desqualificação laboral

Exercício 32

(Ufsm 1999) Assinale a alternativa que contempla as principais características do Vale do Silício (Silicon Valley), nos EUA.

- a) Formado pela erosão glacial, constitui-se numa área de preservação permanente onde se destacam as faias, sequóias e bétulas, espécies típicas da floresta boreal.
- b) É uma das principais áreas de extração mineral, sobretudo de silício, cobre e ferro, altamente prejudicada pela degradação do meio ambiente.
- c) Também conhecido por cinturão agrícola (belt's), constitui-se na principal área produtora de cereais dos EUA, sobretudo de milho e trigo, além da pecuária intensiva.
- d) Localizado no nordeste dos EUA, constitui-se numa área de antiga concentração industrial, destacando-se as indústrias de bens de produção pela abundância de matérias-primas, energia e mão de obra e pela facilidade de transporte.
- e) Localizado no oeste dos EUA, próximo a importantes centros de pesquisa, forma um complexo industrial com destaque para os ramos típicos da 3ª Revolução Industrial.

Exercício 33

(Espm 2015) Observe o mapa abaixo:



Em novembro de 2014 está previsto um referendo na região assinalada que irá encaminhar:

- a) a possibilidade de independência da Catalunha, antigo sonho dos habitantes dessa região espanhola.
- b) a autonomia do povo basco que se sente aliado da participação política no país.
- c) a deposição das armas do IRA que anunciou recentemente a renúncia à luta armada depois de mais de um século de resistência.
- d) a retirada da Espanha da União Europeia após uma década de grave crise econômica que elevou sobremaneira a taxa de desemprego no país.
- e) a nacionalização do estreito de Gibraltar, antiga rixa entre espanhóis e britânicos pelo controle da estratégica passagem entre o Atlântico e o Mediterrâneo.

Exercício 34

(Enem 2ª aplicação 2010) Um fenômeno importante que vem ocorrendo nas últimas quatro décadas é o baixo crescimento populacional na Europa, principalmente em alguns países como Alemanha e Áustria, onde houve uma brusca queda na taxa de natalidade. Esse fenômeno é especialmente preocupante pelo fato de a maioria desses países já ter chegado a um índice inferior ao "nível de renovação da população", estimado em 2,1 filhos por mulher. A diminuição da natalidade europeia tem várias causas, algumas de caráter demográfico, outras de caráter cultural e socioeconômico.

OLIVEIRA, P. S. *Introdução à sociologia*. São Paulo: Ática, 2004 (adaptado).

As tendências populacionais nesses países estão relacionadas a uma transformação

- a) na estrutura familiar dessas sociedades, impactada por mudanças nos projetos de vida das novas gerações.
- b) no comportamento das mulheres mais jovens, que têm imposto seus planos de maternidade aos homens.
- c) no número de casamentos, que cresceu nos últimos anos, reforçando a estrutura familiar tradicional.
- d) no fornecimento de pensões de aposentadoria, em queda diante de uma população de maioria jovem.
- e) na taxa de mortalidade infantil europeia, em contínua ascensão, decorrente de pandemias na primeira infância.

Exercício 35

(Unesp 2017) Na década passada, a demanda por determinadas mercadorias aumentou muito, puxada, principalmente, pelo crescimento acelerado da China. Isso influenciou os preços, que ficaram mais altos e favoreceu os países produtores. Foi um período de bom crescimento do PIB brasileiro, mesmo com a crise mundial de 2008. A atual queda em seus preços globais começou com a desaceleração da China, por volta de 2011. O país asiático vive um processo de transição para um novo modelo econômico, que valoriza o mercado interno em detrimento da produção industrial para exportação.

www.nexojornal.com.br. Adaptado.

De grande importância para a economia brasileira, as mercadorias, negociadas globalmente, a que o excerto se refere correspondem a

- a) bens de produção.
- b) microcondutores.
- c) commodities.
- d) insumos agropecuários.
- e) veículos.

Exercício 36

(Ufpr 2018) Em mais de 1.100 km na fronteira dos EUA com o México já existe um muro. Ele passa pelos desertos de sedimentos de Sonora, onde os cactos crescem como tubos de órgão. Mais a leste, pesadas estruturas de aço em forma de X cortam os quilômetros de planície com capim queimado pelo sol, como marcadores de campo de batalha. No Texas, os postes pintados de vermelho que formam partes da cerca na fronteira são frios, duros e ásperos ao toque. Em Tijuana, duas cercas – uma antiga, outra mais recente – mergulham até o oceano, onde as ondas corroem o metal.

(Fonte: AHMED, Azam; MANNY Fernandes; VILLEGAS, Paulina.

Um muro entre nós: a vida na fronteira entre os EUA e o México.

Disponível em: <<https://www.uol/noticias/especiais/nyt-fronteira-eua-e-mexico.htm#tematico-1?cmpid=>>. Acessado em 01.08.2017.

Em relação às fronteiras e ao exemplo citado, é correto afirmar:

- a) Apesar de processos de abertura terem propiciado questionamentos das fronteiras dos Estados Nacionais, elas continuam como fator forte de separação entre essas unidades políticas.
- b) Com a globalização, discursos de caráter xenofóbico e ameaças à segurança, emprego e renda perderam sua força histórica na regulação do Estado Nação em relação às suas fronteiras.
- c) O fechamento ou abertura de fronteiras, bem como a sua intensidade, é dependente das políticas globais norteadas pelas resoluções da ONU (Organização das Nações Unidas).
- d) A construção do muro separando o México dos EUA é justificada pelos EUA em vista das políticas antiterrorismo postas em prática por esse país.
- e) No período contemporâneo, exemplos como o Brexit e as cooperações oriundas da construção dos blocos econômicos

revelam uma diminuição, em escala global, da tensão entre abertura e fechamento de fronteiras.

Exercício 37

(Ufjf-pism 3 2016)



¹ UM SÉCULO UNINDO O MUNDO
² ANOS

Disponível em: <<http://migre.me/s8NzA>>. Acesso em: 14 nov. 2015.

Essa imagem destaca o centenário de uma via de navegação interoceânica importante para o comércio marítimo mundial, que atualmente está sendo ampliada para acomodar uma nova geração de navios porta-contêineres, que transportam de 5 mil a 8 mil contêineres. Essa via é o

- a) Canal de Suez.
- b) Canal da Mancha.
- c) Canal do Panamá.
- d) Cabo das Tormentas.
- e) Cabo da Boa Esperança.

Exercício 38

(Imed 2018) Leia o fragmento textual abaixo.

“Certa noite, um barco pescador afunda no norte da Noruega, sete membros da tripulação morrem afogados, na manhã seguinte o incidente é notícia em todos os jornais, e é considerado um mistério... Sozinho eu assisto àquilo, num dia qualquer de primavera, acho, pois meu pai está cuidando do jardim. Fixo o olhar na superfície do mar, sem ouvir o que diz o repórter, e de repente emerge o contorno de um rosto”.

Fonte: KNAUSGARD, Carl Ove. *A morte do pai: minha luta*. 2ª ed. São Paulo: Companhia das Letras, 2015, p. 11.

A partir de seus conhecimentos de Geografia e do fragmento textual acima, marque a alternativa correta:

- a) O autor faz referência a um “barco pescador” que “afunda no norte da Noruega”, uma das regiões da Terra localizadas na Antártica, a qual é marcada pelas baixas latitudes e que apresenta vegetação tundra.
- b) A “primavera”, mencionada no texto, inicia durante um dos dois solstícios anuais pelos quais a Terra passa, sendo a estação do ano com os dias mais longos na Noruega, mas não no Brasil.
- c) A “Noruega”, país citado no fragmento textual, está localizada na Península da Escandinávia, possui o melhor Índice de Desenvolvimento Humano (IDH) do mundo e destaca-se na prospecção de petróleo no Mar do Norte.
- d) O fato de o autor descrever um “barco pescador” no “norte da Noruega” não corresponde a uma possibilidade plausível, pois o

clima polar dessa região inviabiliza qualquer possibilidade de pesca comercial no país.

e) A Noruega, país mencionado no texto, é membro permanente do Conselho de Segurança da ONU, tendo, portanto, poder de veto nas decisões que envolvem tal órgão.

Exercício 39

(Fgv 2015) A existência nacional da Libéria está “seriamente ameaçada” pelo vírus mortal do Ebola, que está “se espalhando como fogo e devorando tudo em seu caminho”, disse o ministro da Defesa do país ao Conselho de Segurança da Organização das Nações Unidas (ONU) nesta terça-feira (09/09/2014).

<http://exame.abril.com.br/mundo/noticias/ebola-ameaca-seriamente-a-existencia-da-liberia-diz-ministro>

Sobre esse tema, é correto afirmar:

- a) A epidemia está presente em países como Libéria, Guiné e Serra Leoa, mas a Organização Mundial de Saúde (OMS) declarou que se trata de um problema da região e que não há risco de disseminação internacional.
- b) Na Libéria, os efeitos da atual epidemia de Ebola se fazem sentir não apenas na infraestrutura do sistema de saúde, já sobrecarregada, mas também na segurança pública e no conjunto da economia.
- c) Contrariando recomendações da Organização Mundial de Saúde (OMS), a Libéria se recusou a estabelecer áreas de quarentena e a impor toque de recolher, fato que aumenta as possibilidades de contaminação.
- d) Por causa da epidemia, a Organização Mundial de Saúde (OMS) recomendou a suspensão de viagens aéreas para a Libéria e demais países afetados, mesmo de aviões de carga que levem alimentos e remédios.
- e) Apesar da epidemia, nenhum país africano fechou fronteiras ou adotou restrições comerciais com as áreas atingidas, seguindo orientações da União Africana (UA).

Exercício 40

(Uerj 2021) Piñera pede “perdão” e anuncia medidas para conter protestos no Chile

O presidente chileno, Sebastián Piñera, prometeu aumentar a aposentadoria, melhorar o atendimento de saúde e aplicar impostos aos que ganham mais, uma tentativa de acalmar uma onda de distúrbios e protestos contra a desigualdade que vem sacudindo um dos países mais estáveis da América Latina. Entre as medidas anunciadas, está o aumento imediato das pensões e elevações adicionais dentro de dois anos, assim como melhorias nas aposentadorias da classe média, das mulheres e de idosos deficientes. O presidente propôs ainda a criação de seguros para conter os gastos de saúde das famílias, um aumento de 16% no salário mínimo e um mecanismo para frear a alta recente das tarifas elétricas.

NATALIA MIRANDA E FABIÁN CAMBERO
Adaptado de noticias.uol.com.br, 23/10/2019.

As medidas anunciadas pelo presidente chileno para conter os intensos e duradouros protestos de 2019 apontam para um programa de reconfiguração do país baseado na ampliação da:

- a) proteção social estatal
- b) política econômica liberal
- c) atividade empresarial do governo
- d) dimensão clientelista do caudilhismo

Exercício 41

(Famerp 2017) Nos últimos anos, monumentos têm sido alvos de protestos em vários países africanos. Na capital da Namíbia, Windhoek, a estátua equestre de um soldado alemão foi removida do espaço público. A mudança do nome de escolas e de outras instituições públicas, de praças, de ruas e de avenidas também faz parte desse movimento cívico que mobiliza a memória e a história coletiva em várias cidades do continente africano.

www.cartaeducao.com.br, 18.08.2015. Adaptado.

O movimento cívico abordado no excerto remete, geopoliticamente,

- a) ao feudalismo.
- b) à comuna popular.
- c) à Guerra Fria.
- d) ao desenvolvimentismo.
- e) à colonização europeia.

Exercício 42

(Uece 2017) O Mundo está em movimento! Dinâmicas que demarcam o cruzamento entre ordem e desordem mundial produzem territórios e redes cada vez mais fluidos, servindo tanto para unir como para fragmentar recortes espaciais da geopolítica internacional. Considerando os recentes fatos que simbolizam as mudanças anunciadas, assinale a afirmação verdadeira.

- a) O Brexit, isto é, a decisão do Reino Unido de deixar a União Europeia, é uma vitória dos políticos progressistas e liberais britânicos, que nunca aceitaram o projeto de integração regional em que os países europeus concordam em transferir poderes soberanos das instituições nacionais para um conjunto de instituições supranacionais.
- b) O triunfo de Donald Trump nas eleições presidenciais dos Estados Unidos significa, igualmente, a vitória do neoliberalismo fundado sob os princípios do livre comércio, da globalização produtiva e do mercado financeiro desregulamentado.
- c) O conflito entre os diversos agentes políticos e econômicos que reproduzem a guerra civil na Síria, demonstra que, para além das relações entre redes e instituições “tradicionais”, surgem múltiplas redes “ilegais” ou clandestinas que tornam mais complexa a geopolítica internacional.
- d) A Rússia, um histórico agente da geopolítica mundial, alterou suas estratégias militares e não mais se coloca como uma potência capaz de interferir nos rumos dos conflitos internacionais.

Exercício 43

(Unesp 2016) Ao promover a livre circulação de mercadorias e serviços entre Estados Unidos, Canadá e México, o Acordo de Livre – Comércio da América do Norte ratificou as chamadas maquiladoras, caracterizadas como

a) indústrias estadunidenses em território mexicano, que realizam a montagem de produtos através da exploração de mão de obra.

b) parques tecnológicos estadunidenses em regiões de fronteira mexicana, que priorizam o desenvolvimento industrial regional via compartilhamento dos meios de produção.

c) indústrias mexicanas em território estadunidense, que produzem bens de consumo por meio de parcerias para o desenvolvimento produtivo.

d) universidades técnicas mexicanas em território canadense, que investem na qualificação profissional via intercâmbio de trabalhadores.

e) empresas canadenses em território estadunidense, que objetivam a prestação solidária de serviços essenciais às cidades mexicanas.

Exercício 44

(Ebmsp 2017) O atentado em série mudou o mundo – da geopolítica às relações pessoais. A reação americana envolveu a deflagração de duas guerras – com o Afeganistão e com o Iraque – e uma caçada de quase dez anos pelo saudita Osama Bin Laden, responsável pelos ataques. Quando Bin Laden foi localizado e morto, as liberdades civis e os direitos humanos estavam comprometidos em nome da segurança.

ATAQUE terrorista contra as torres gêmeas em 2001.

Disponível em: <<http://istoe.com.br>>. Acesso em: 26 set. 2016.

Dentre os efeitos, para a política internacional, do ataque às torres gêmeas do World Trade Center em Nova York, pode-se destacar

a) A intervenção dos países árabes em Israel, por considerarem aquele país responsável pelo desequilíbrio nas relações comerciais do Mediterrâneo.

b) As ações da chamada Primavera Árabe, dirigidas contra os países petrolíferos da Península Arábica e do mar da Arábia.

c) O fortalecimento de governos autoritários em países do leste europeu especialmente a Grécia e a Áustria.

d) A desagregação do Iraque e as disputas étnicas e políticas internas, permitindo a proliferação de grupos rebeldes e de terroristas, a exemplo do chamado Estado Islâmico.

e) As sucessivas guerras do Yom Kippur, travadas pelo Estado de Israel contra o Estado Palestino e os países asiáticos, na disputa por um acesso ao mar Mediterrâneo.

Exercício 45

(G1 - cps 2015) O leste europeu é um celeiro de grandes bailarinos. Dentre eles, podemos citar Vaslav Nijinsky, nascido na Ucrânia, Rudolf Nureyev, nascido na Rússia e Mikhail Baryshnikov, nascido na Letônia.

Em um determinado período do século XX, os três países citados fizeram parte

a) do Mercado Comum Europeu (MCE), bloco que deu origem a atual União Europeia.

b) da União das Repúblicas Socialistas Soviéticas (URSS), que se desintegrou em 1991.

c) da Organização do Tratado do Atlântico Norte (OTAN), que existe até os dias de hoje.

d) do bloco de países capitalistas do leste europeu (CEI), que integravam a antiga Iugoslávia.

e) do Movimento dos Países Não Alinhados (MNA), que propunha uma terceira via econômica.

Exercício 46

TEXTO PARA A PRÓXIMA QUESTÃO:

Vários estudiosos consideram que nenhum país do mundo é tão social, cultural e economicamente ligado ao milho quanto o México. Para começar, ele surgiu por lá. Há cerca de nove mil anos, povos que moravam onde hoje fica o México encontraram uma versão primitiva do milho, com uma espiga de uns 2,5 centímetros, e começaram a cultivá-lo. Até hoje, esse é um dos principais plantios do país.

No México, além do milho amarelo, que estamos acostumados a consumir no Brasil, podemos encontrar milhos de outras cores. Há o branco, que é muito comum, e também variedades vermelhas, azuis e pretas, por exemplo.

O maior número de variedades de milho no mundo se encontra no México: são 64 tipos (sendo 59 nativos do país) dentre as 220 variedades existentes em toda a América Latina. E o mais interessante é que, enquanto em outros países americanos as espécies primitivas desse cereal são consideradas “reliquias”, no México muitas delas continuam sendo usadas no dia a dia.

O México tem o maior consumo *per capita* de milho no mundo: são 63 kg anuais, contra uma média de 18 kg no Brasil, por exemplo. Em algumas comunidades, estima-se que esse alimento sozinho ofereça cerca de 70% das calorias e 50% das proteínas consumidas diariamente pela população.

Cerca de 75% da composição desse cereal é amido, substância muito usada pela indústria alimentícia e em produtos tão variados quanto resinas para a pintura de carros, sabão, pasta de dentes e plásticos biodegradáveis.

A glicose que vem do amido também é usada como meio de cultura de bactérias que produzem a penicilina e para revestir comprimidos, por exemplo.

Recentemente, pesquisadores descobriram que a jornada histórica do milho até chegar à versão atual foi mais complexa do que se imaginava, passando inclusive pelo Brasil. Seja como for, o certo é que, sem o trabalho humano, o milho provavelmente não existiria hoje. Isso decorre das características da planta que dificultam muito que ela espalhe suas sementes espontaneamente. Afinal, elas ficam bem presas à espiga e cobertas por folhas resistentes. Assim, os seres humanos são muito importantes para fazer com que o milho se reproduza de forma significativa. Isso, de certa forma, torna o vínculo entre homem e planta ainda mais forte.

Para algumas civilizações, no entanto, o laço é tão forte que é basicamente uma coisa só. Os maias, por exemplo, acreditavam que o homem veio do milho. No *Popol Vuh*, livro mais importante da mitologia Maia, encontra-se o seguinte: “De milho amarelo e milho branco se fez sua carne”. Existe, também, o mito de que o milho teria sido criado a partir das unhas do deus Cintéotl. Até

hoje, muitos povos indígenas mexicanos consideram o milho uma divindade e dão a ele um caráter sagrado. Afinal, é dele que depende, em grande parte, a subsistência dessas comunidades. O grão é considerado precioso por assegurar a continuidade do ciclo da vida.

Mais recentemente, a luta dos indígenas mexicanos tem sido contra o cultivo de milho transgênico, que apesar de ser proibido, vem acontecendo há décadas. Usado para aumentar a produtividade e a resistência a pragas e a inseticidas, entre outros fins, o cereal transgênico provoca o desaparecimento de espécies nativas, além de prejudicar a agricultura familiar. Portanto, a forte relação com o milho vai muito além da planta em si, e além do próprio México. Ela traz também uma mensagem universal: nós, seres humanos, fazemos parte da terra. Dela dependemos, e dela devemos cuidar.

<<https://tinyurl.com/y4y2a8hr>> Acesso em: 03.10.2019.

Adaptado.

(G1 - cps 2020) De acordo com o texto, é correto afirmar que

- a) a atual luta dos indígenas mexicanos é pelo direito de utilizar sementes transgênicas de milho em larga escala para poder aumentar ainda mais a produção desse grão.
- b) a relação do povo mexicano com o milho é histórica, uma vez que esse grão é cultivado desde a época dos antigos povos que habitavam a região onde hoje se localiza o México.
- c) o Brasil é o país que mais consome milho no mundo, uma vez que esse grão foi encontrado em abundância pelos portugueses que aqui aportaram no século XVI.
- d) a dispersão das sementes de milho pela América Latina só foi possível em função da ação dos ventos que espalharam as sementes desse grão para todo o continente americano.
- e) o povo maia tinha no milho um deus cristão, responsável pela eliminação da fome e pela manutenção da vida desse povo, que conviveu em harmonia com os colonizadores espanhóis.

Exercício 47

(Upf 2014) Pela sua extensão e posição, a América do Sul apresenta uma variedade de paisagens naturais. É característica natural da América do Sul a existência de:

- a) áreas sujeitas a abalos sísmicos nas porções setentrional e oriental.
- b) rios que drenam a vertente do Pacífico mais caudalosos e extensos do que aqueles que deságuam no Atlântico.
- c) vegetação de pradarias na porção norte e de coníferas no sul.
- d) maciços antigos no centro-leste; planícies sedimentares no centro, dobramentos modernos no extremo oeste.
- e) clima temperado úmido no norte; clima desértico quente no oeste e clima tropical no sul.

Exercício 48

(Acafe 2020) O termo Tigres Asiáticos faz alusão a países ou áreas que se industrializaram, ao longo do século XX, com estratégias de grande competitividade no mercado internacional. Dentro da denominação existem os Tigres Asiáticos (primeira geração) e os Novos Tigres Asiáticos. Assinale a alternativa que contém apenas Tigres Asiáticos de primeira geração.

- a) Cingapura, Malásia e Coreia do Sul.
- b) Coreia do Sul, Taiwan e Hong Kong.
- c) Tailândia, Coreia do Sul e Cingapura.
- d) Hong Kong, Taiwan e Filipinas.

Exercício 49

(Mackenzie 2020) *China vê política do filho único como ineficaz e planeja liberação total*

País tem um crescente problema de escassez de mão de obra devido ao rápido envelhecimento da população. Há dois anos, a China deu o histórico passo de acabar com a política do filho único e permitir que todos os casais do país tivessem dois filhos, mas a medida não parece ter bastado para resolver seus problemas demográficos, o que levou o governo a estudar o fim de qualquer restrição familiar.

Por mais paradoxal que possa parecer, a China, país mais populoso do mundo, com quase 1,4 bilhão de pessoas, tem um crescente problema de escassez de mão de obra devido ao rápido envelhecimento da população. O governo esperava amenizar a questão com a mudança de 2016, mas a medida não teve o sucesso esperado.

[...] Para ampliar o alerta, em julho as autoridades divulgaram um dado preocupante. Após um crescimento da taxa de natalidade no país em 2016, coincidindo com o fim da “política do filho único”, o número de crianças nascidas no país caiu em 630 mil em 2017.

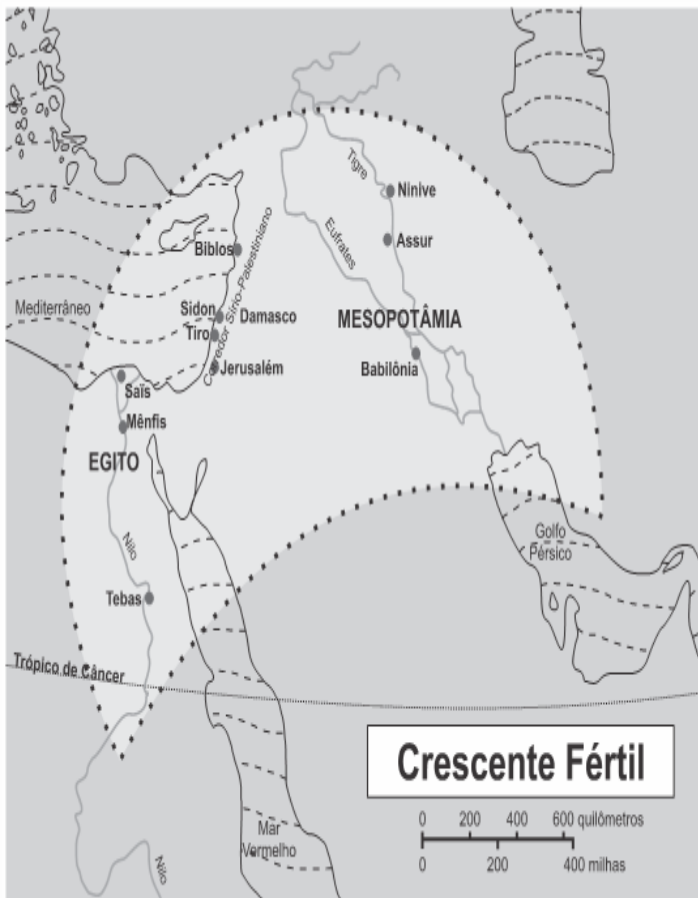
Disponível em: <<https://veja.abril.com.br/mundo/china-ve-politica-do-filho-unico-comoineficaz-e-planeja-liberacao-total/>> Por EFE access_time18 ago 2018 (Último acesso – 10 de novembro de 2019)

A política do filho único mencionada no artigo jornalístico pode ser, corretamente, associada aos conceitos da Teoria Populacional

- a) Ecomalthusiana.
- b) Reformista.
- c) Neomalthusiana.
- d) Transformadora.
- e) Possibilista.

Exercício 50

(G1 - cps 2016) A região representada no mapa, com o desenho que se assemelha a uma lua crescente, é conhecida como *Crescente Fértil*. Nessa área, formaram-se as primeiras sociedades humanas que deixaram registros escritos de suas atividades, há milhares de anos. Esse nome foi atribuído à região, por estudiosos da História e da Arqueologia, somente muitos séculos depois.



<<http://tinyurl.com/qa8ag29>> Acesso em: 24.10.2015. Original colorido.

Assinale a alternativa que explica corretamente por que esse nome foi atribuído à região demarcada.

- A fertilidade do solo da região demarcada cresceu e atingiu outras regiões, favorecendo a amizade nas relações entre as populações.
- Símbolo do Islã, a lua crescente representa a importância dessa religião na formação das civilizações assíria, persa, egípcia e mesopotâmica.
- Abrangendo partes dos continentes europeu e africano, a região recebeu esse nome em razão das altas taxas de fertilidade das populações locais.
- A lua crescente faz referência ao culto monoteísta desse astro, religião predominante entre os povos daquela região na Antiguidade, com exceção dos hebreus.
- O solo da região era bastante fértil por conta dos grandes rios, o que favoreceu o desenvolvimento da agricultura, importante para as sociedades humanas.

Exercício 51

(Ufrgs 2011) A final da Copa do Mundo FIFA de 2010 deu-se entre dois países europeus: Espanha e Países Baixos (também conhecido como Holanda).

Com relação a cada um desses países, considere as afirmações abaixo.

- É integrante da União Europeia.
- Adota como moeda única o euro.
- O regime político adotado é o de República Parlamentarista.
- A maior parte de seu PIB é de origem agropecuária e industrial.

São válidas para ambos os países somente as afirmações

- 1 e 2.

- 1 e 3.
- 2 e 3.
- 2 e 4.
- 3 e 4.

Exercício 52

(G1 - cftmg 2017) Leia o fragmento a seguir:

Os britânicos, em plebiscito, decidiram sair da União Europeia. Em uma votação acirrada, 51,9% dos britânicos votaram pela saída contra 48,1%. O processo de saída não ocorre de imediato e deve durar dois anos.

Disponível em: <<http://www.brasil.gov.br/economia-e-emprego/2016/06/para-bc-saidado-reino-unido-da-uniao-europeia-tera-impacto-pequeno-no-brasil>>. Acesso em 06 set. 2016.

São fatores que justificam o resultado do plebiscito no Reino Unido, **EXCETO** o(a)

- desejo de intensificação do rigor das políticas de imigração.
- intuito da redução das taxas de exportação para fora do bloco.
- interesse dos britânicos na adoção do Euro como moeda oficial.
- cessão do envio de remessas para compor o orçamento europeu.

Exercício 53

(Espm 2018) Leia o texto:

A chanceler alemã, Angela Merkel, e o socialdemocrata Martin Schulz participaram neste domingo (3/9) do único debate televisivo antes das eleições de 24/9. Eles disputam o governo do país mais populoso da União Europeia em meio à crise migratória.

(<https://www.publico.pt/2017/09/03/mundo/noticia/debate-merkelschulz>)

Quanto ao tema da crise migratória e a conjuntura política alemã é correto assinalar:

- como chanceler, Angela Merkel fechou as fronteiras alemãs aos migrantes;
- Angela Merkel confrontou o governo da Hungria, pelo apoio húngaro ao acolhimento de migrantes;
- Angela Merkel liderou no âmbito da União Europeia uma campanha de hostilidade aos migrantes;
- ao adotar uma política de portas abertas, como ficou conhecida, o governo Merkel permitiu a entrada de quase um milhão de migrantes em 2015;
- a política para os migrantes, praticada pelo governo Merkel, foi entusiasticamente apoiada pelo partido AfD (Alternativa para a Alemanha) de direita.

Exercício 54

(Fgv 2016) A charge, publicada em 2007 por um jornal inglês, ironiza a inserção da China na economia internacional.



Congress of the Chinese Communists - 17 Oct 2007
<http://www.globecartoon.com/>

A mensagem veiculada pela charge

- a) indica a abertura da interface litorânea ao investimento de capital externo, graças à criação de zonas econômicas especiais, e o fechamento da fronteira continental, ameaçada por movimentos separatistas.
- b) representa a adoção pelo governo chinês do chamado socialismo de mercado, no qual são mantidas as instituições políticas centralizadas, mas se adotam, no plano econômico, princípios da economia de mercado.
- c) mostra a dualidade da economia chinesa, em que a aceitação do capital externo na modernização da economia urbano-industrial contrasta com a estrutura fundiária, ainda marcada pelos princípios socialistas.
- d) identifica a ruptura do modelo socialista, graças à adoção dos princípios liberais, tanto no plano econômico – sociedades por ações – quanto no político-pluralismo partidário e alternância de poder.
- e) apresenta a nova configuração da política chinesa, na qual todos os cidadãos deliberam, como acionistas, sobre as decisões políticas e o planejamento econômico do país.

Exercício 55

(G1 - ifsp 2012) Observe o mapa.

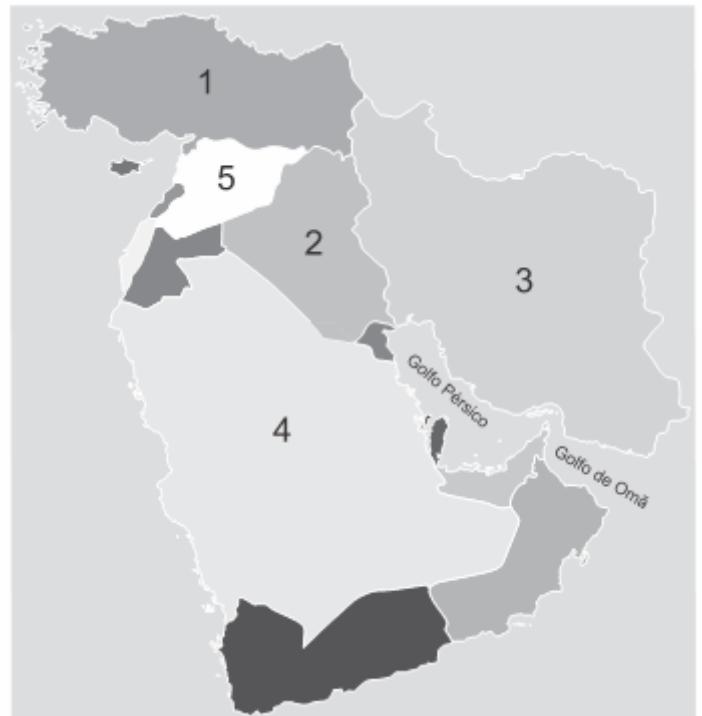


O mapa dos Estados Unidos tem como tema as áreas

- a) de agricultura irrigada (*dry farming*).
- b) industriais.
- c) de exploração de petróleo.
- d) com baixa densidade demográfica.
- e) de pecuária intensiva.

Exercício 56

(Espm 2019) País persa no Oriente Médio, rico em petróleo e com pretensões nucleares. Está representado com o número:



- a) 1: Síria.
- b) 2: Turquia.
- c) 3: Irã.
- d) 4: Iraque.
- e) 5: Arábia Saudita.

Exercício 57

(G1 - ifce 2014) Possui uma economia com forte presença na extração mineral, especialmente o cobre. Tem um território bastante peculiar: estreito no sentido leste-oeste e extenso no sentido norte-sul. Tem uma das mais baixas taxas de analfabetismo da América latina, além de ser uma das economias mais estáveis e industrializadas da região, sendo chamado de “Tigre Latino-Americano”. Estamos nos referindo a(o):

- a) Argentina.
- b) Chile.
- c) Uruguai.
- d) México.
- e) Venezuela.

Exercício 58

(Fac. Albert Einstein - Medicina 2019) O Irã voltou a usar sua melhor arma na histórica disputa com os Estados Unidos. Não estamos falando de seu polêmico programa nuclear, tampouco de sua famosa Guarda Revolucionária, muito menos da controversa Força de Resistência Basij. Desta vez, trata-se de um acidente geográfico em sua costa: o Estreito de Ormuz.

(www.bbc.com, 06.08.2018. Adaptado.)

Estreito de Ormuz



(<http://revistaepoca.globo.com>. Adaptado.)

O Estreito de Ormuz possui importância geopolítica porque

- a) compreende uma das principais rotas de exportação de petróleo.
- b) configura a porta de saída de refugiados do Oriente Médio para a Europa.
- c) constitui uma centralidade logística à infraestrutura de comunicação com o ocidente.
- d) corresponde à localização ideal para a instalação de bases espaciais.
- e) abrange áreas privilegiadas para a exploração de minerais metálicos.

Exercício 59

(Ufpr 2006) O alto preço da terra eleva exponencialmente os custos de produção da agricultura japonesa, que só sobrevive à custa de vultosos subsídios. No Japão, os agricultores competem ferozmente com a indústria por cada palmo de terreno, e os investimentos em infraestrutura são onerados pelo alto custo das desapropriações.

(Adaptado de: MAGNOLI, D.; ARAÚJO, R. "A nova geografia: estudos de geografia geral". São Paulo: Moderna, 1991, p. 150.)

Acerca disso, considere as seguintes afirmativas:

- I. O relevo montanhoso, a condição insular do país e a elevada população japonesa são causas da escassez de terrenos mencionada.
- II. As elevadas taxas de fecundidade próprias das zonas rurais fazem multiplicar a população em torno da megalópole de Tóquio, contribuindo para a escassez de terrenos.
- III. A política de subsídios agrícolas praticada pelo governo japonês tem custos indiretos bastante elevados, devido ao território exíguo e muito povoado.
- IV. A alta concentração fundiária do país é uma das causas do problema descrito, já que os latifúndios são pouco produtivos e demandam grandes extensões de terra para a produção de alimentos.

Assinale a alternativa correta.

- a) Somente as afirmativas III e IV são verdadeiras.
- b) Somente as afirmativas II e III são verdadeiras.
- c) Somente as afirmativas I e IV são verdadeiras.
- d) Somente as afirmativas I e III são verdadeiras.
- e) Somente as afirmativas II e IV são verdadeiras.

Exercício 60

(Unisinos 2016) "A crise dos refugiados que chegam à Europa divide europeus sobre a forma de gerir o fluxo de deslocados, em sua maioria fugitivos da Síria. Após a comoção causada pela imagem do menino sírio Aylan Kurdi morto às margens do Mar Egeu, o grande número de refugiados que chegaram à Europa e o uso de novas rotas além do Mediterrâneo levaram a União Europeia (UE) e a ONU a exigir soluções para o drama humanitário"

(Zero Hora, Porto Alegre, 5 de setembro de 2015. p. 6.

Adaptação.)

Imediatamente após este trágico acontecimento – apenas um entre tantos outros menos visíveis –, dois países europeus anunciaram iniciativa conjunta para "organizar a recepção dos refugiados e uma distribuição equitativa das famílias na Europa". Entre estes países, está o mais rico da Europa hoje, o qual prevê receber cerca de 800 mil pedidos de asilo em 2015. Qual é esse país?

- a) Alemanha.
- b) França.
- c) Reino Unido.
- d) Suécia.
- e) Itália.

Exercício 61

(Imed 2018) Um dos assuntos mais comentados de 2017, a transferência de Neymar do Barcelona para o Paris Saint-Germain (PSG) movimentou os noticiários econômico e esportivo. A respeito do tema, leia o fragmento da matéria abaixo:

O Paris Saint-Germain (PSG) acertou, após mais de duas semanas de idas e vindas, o pagamento de 222 milhões de euros (821 milhões de reais) ao Barcelona pela multa rescisória de Neymar e confirmou a contratação do atacante brasileiro. Neymar assinou contrato com o PSG até 30 de junho de 2022, antes do início da Copa do Mundo do Catar. O jogador de 25 anos foi apresentado nesta sexta-feira, 4 de agosto, em Paris, no estádio Parc des Princes. Trata-se da contratação mais cara da história do futebol [...]

Fonte:

https://brasil.elpais.com/brasil/2017/08/03/deportes/1501793043_8838

Acesso em: 02 de outubro de 2017.

Sobre as equipes que se envolveram na transação mencionada na matéria e suas respectivas regiões, marque a alternativa correta:

- a) Neymar deixou o Barcelona, equipe espanhola localizada no País Basco, região com histórico separatista em relação à

Espanha, inclusive com a ação do grupo terrorista ETA (Pátria Basca e Liberdade).

b) O PSG, equipe comprada por um fundo de investimentos norte-americano, tem sua sede na parte sul da França, área conhecida como Costa Azul, marcada pela maior concentração industrial da França, o que explica os grandes valores envolvidos na transação do jogador Neymar.

c) O Barcelona está sediado na cidade de mesmo nome, que faz parte da Catalunha, região responsável por aproximadamente 20% do PIB da Espanha e que também concentra a mais expressiva produção industrial do país.

d) O PSG tem sua sede no norte da França, região importante pelo turismo ligado ao vinho, bem como pela grande fronteira que possui com Portugal.

e) Na Catalunha, região espanhola em que está a sede do Barcelona, há plena integração cultural com o resto da Espanha, por isso, desde o século XIX, não existe qualquer movimento separatista em seu território.

Exercício 62

(Udesc 2012) Em relação à localização das indústrias italianas, é correto afirmar:

a) Existe uma concentração no Norte do país decorrente do renascimento comercial e urbano, que facilitou a concentração de capitais e o aumento da população urbana.

b) Desenvolveu-se, sobretudo nos arredores de Roma, em função do enorme crescimento da cidade e do porto de Roma.

c) Concentrou-se na região de Nápoles, que agrupa também boa parte do turismo e da produção de gás natural, usado pelas indústrias.

d) A indústria italiana se localiza nas regiões da Sicília e da Sardenha, em função da facilidade de comércio, mão de obra e matérias primas.

e) O Sul da Itália é mais industrializado, contrastando com o Norte, mais agrícola e menos densamente povoado.

Exercício 63

(G1 - utfpr 2014) A porção do continente sul americano denominada América Platina é assim chamada por conter os rios formadores da _____, estando situada na parte _____ daquele continente.

Apenas os estados _____ do Brasil fazem parte dessa área cujo relevo apresenta _____.

Assinale a alternativa que preenche corretamente as lacunas acima.

a) Bacia do Rio Uruguai – central – do Centro Oeste – depressões alagadas.

b) Bacia do Rio Paraná – sul – do Centro Oeste – extensas planícies alagadas.

c) Bacia do Rio Amazonas – norte – da região Norte – montanhas e depressões.

d) Bacia do Rio da Prata – sul – da região Sul – planícies, planaltos e cordilheiras.

e) Bacia do Rio Paraguai – central – setentrionais – montanhas e planícies.

Exercício 64

(G1 - ifsul 2017) “[...] faixa situada ao sul do Saara cujas características transitam entre as do deserto e as da savana. É ocupada predominantemente por populações que praticam atividades econômicas rudimentares”.

CONTI, José Bueno. *Clima e Meio Ambiente*. São Paulo: Atual, 1998. p. 67.

A região geográfica descrita no texto recebe o nome de

a) Nilo.

b) Sahel.

c) Magreb.

d) Kalahari.

Exercício 65

(Mackenzie 2017) Observe o mapa a seguir.



De acordo com os números indicados, assinale a alternativa que contenha apenas afirmativas corretas.

I. O país número 1 se destaca no mundo pela maior produção de aço ao longo do vale do rio Reno. Atualmente este país busca estreitar ainda mais sua integração com a União Europeia.

II. O país número 2 possui o maior parque industrial da Europa. Trata-se do maior produtor de carvão mineral do continente e do segundo maior produtor de aço. Apresenta pouca participação na indústria automobilística mundial.

III. O país número 3 possui o maior parque industrial da Europa, notadamente ao longo do rio Reno. A sua economia e o seu elevado padrão social os tornam atrativo para imigrantes na Europa, o que tem sido tema de acalorados debates políticos com manifestações de intolerância e ódio.

IV. O país número 4 tem forte dependência das exportações de petróleo e gás natural. Por essa razão, apresentou significativo crescimento econômico até o ano de 2008. Pela queda dos preços desses produtos sua economia passou a registrar menor vigor.

a) I, II e III

b) I e II

c) II e III

d) III e IV

e) II e IV

Exercício 66

(Mackenzie 2019) Observe o mapa e leia as informações sobre os países europeus I, II e III.



I. Apesar dos incipientes sinais de recuperação econômica, este país apresenta uma das maiores taxas de desemprego juvenil da Europa, próxima a 40%.

II. A educação básica neste país é considerada uma das melhores do mundo. Igualdade de gênero, inovação e baixa percepção de corrupção também são marcas de seu desenvolvimento social.

III. Uma polêmica reforma judicial, impulsionada pelo governo, que força a aposentadoria de mais de um terço dos juizes da Suprema Corte, gerou inúmeros protestos neste país em julho deste ano.

Assinale a alternativa que identifica corretamente os países I, II e III.

- a) I – Grécia; II – Finlândia; III – Polônia.
- b) I – Albânia; II – Suécia; III – Alemanha.
- c) I – Bulgária; II – Noruega; III – Ucrânia.
- d) I – Macedônia; II – Islândia; III – Eslováquia.
- e) I – Croácia; II – Dinamarca; III – Moldávia.

Exercício 67

(Fuvest 2020) Dois eventos marcaram a diplomacia brasileira em relação ao Oriente Médio no início de 2019. Um deles foi o voto contra a resolução da ONU que pedia a desocupação militar das Colinas de Golã e sua devolução à Síria. Outro evento foi o anúncio de transferência da embaixada brasileira de Tel Aviv para Jerusalém, mesmo não tendo sido levada adiante até setembro de 2019. Em relação a esses eventos, é correto afirmar que eles representam

- a) I. uma aproximação do Brasil em relação à posição dos EUA.
II. um potencial distanciamento do Brasil em relação à posição da maioria dos países do Conselho de Segurança da ONU.

- b) I. um distanciamento do Brasil em relação à posição da Palestina e uma aproximação em relação ao conjunto de países árabes.
II. uma potencial aproximação do Brasil em relação à posição da maioria dos países do Conselho de Segurança da ONU.

- c) I. um distanciamento do Brasil em relação à posição de Israel e uma aproximação em relação aos palestinos.
II. um potencial distanciamento do Brasil em relação à posição da maioria dos países do Conselho de Segurança da ONU.

- d) I. um distanciamento do Brasil em relação à posição dos EUA.
II. uma potencial aproximação do Brasil em relação à posição da maioria dos países do Conselho de Segurança da ONU.

- e) I. uma aproximação do Brasil em relação à posição da Síria.
II. um potencial distanciamento do Brasil em relação à posição da maioria dos países do Conselho de Segurança da ONU.

Exercício 68

(Ufu 2005) Considere a figura a seguir:



Adaptado de: BARELA, J.E. O massacre dos inocentes. "Veja". São Paulo, ed. 1837, nº 36, 8 set. 2004, p. 112.

A região ilustrada na figura apresentada trata-se

- a) dos Urais, onde ocorrem conflitos entre russos ocidentais pelo retorno do sistema socialista à Rússia.

b) da Sibéria, onde se localizam as principais áreas produtoras de minério de ferro e carvão que alimentam o complexo siderúrgico russo.

c) da Mesopotâmia, onde as tropas estadunidenses enfrentam a resistência dos rebeldes iraquianos, desde a deposição de Sadam Hussein.

d) do Cáucaso, onde atualmente ocorrem conflitos relacionados à oposição de grupos nacionalistas islâmicos ao domínio russo da região.

Exercício 69

(Mackenzie 2017)



O país Geórgia está localizado em uma região montanhosa e faz fronteiras com outro país, onde movimentos separatistas são fortemente reprimidos. A região montanhosa e o país referido, de acordo com o mapa são

- a) Atlas, Eslovênia.
- b) Pirineus, Turquia.
- c) Pamir, Grécia.
- d) Cáucaso, Rússia.
- e) Urais, Áustria.

Exercício 70

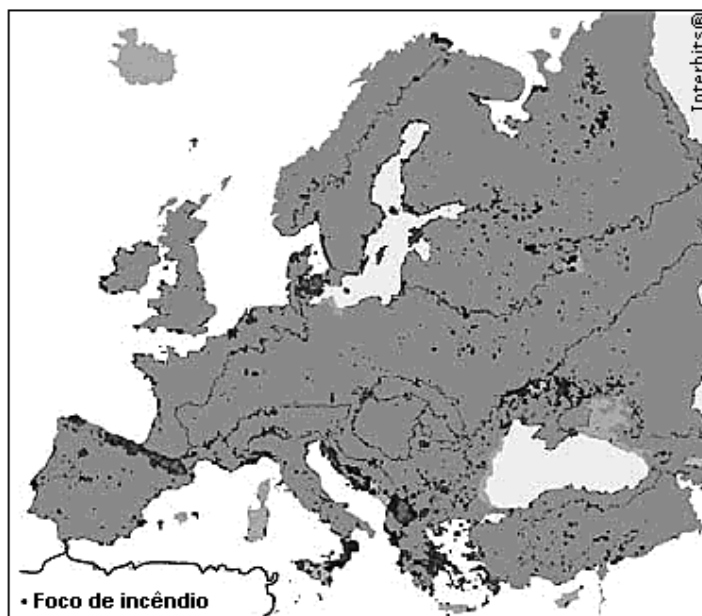
(Fgv 2013) De acordo com a Eurostat, agência oficial de estatísticas da União Europeia (UE), em julho de 2012, a média de desemprego entre os países da Zona do Euro foi de 11,3% da população ativa, atingindo um total de 18 milhões de pessoas. Sobre o desemprego nos países que compõem a zona do Euro, é correto afirmar:

- a) As taxas de desemprego tendem a ser maiores nos países que apresentam custos de produção mais elevados, tais como a Áustria e a Holanda.
- b) As taxas de desemprego tendem a ser menores entre os jovens de 15 a 24 anos, já que eles recém-ingressaram no mercado de trabalho.
- c) Na Espanha e na Grécia, países fortemente atingidos pela crise econômica, mais de 1/5 da população ativa está desempregada.
- d) A elevação do desemprego na região resulta da adoção de tecnologias pouco intensivas em mão de obra, pois contrasta com os sucessivos aumentos da produção industrial registrados na região desde o início de 2012.
- e) Ainda que continuem elevadas, as taxas de desemprego registradas em julho de 2012 são menores do que as registradas no mesmo período de 2011, quando os países da região estavam em plena crise econômica.

Exercício 71

(G1 - cftmg 2011)

Os incêndios na Europa



Disponível em: < <http://www.cordilleracantabrica.org/spip.php?article242> >. Acesso em 18 ago. 2010. (adaptado)

A partir da análise desse mapa, e correto afirmar que

- a) os ventos úmidos provenientes do sul são ineficientes para reduzir os focos de incêndios florestais.
- b) o verão seco da região mais atingida favorece o aumento dos incêndios nesse período do ano.
- c) o foco de queimadas no extremo oeste da Europa esta relacionada ao grau de urbanização verificado nessa região.
- d) a vegetação florestal resinosa da porção meridional do continente e propensa aos incêndios em períodos de estiagem.

Exercício 72

(G1 - cftrj 2014) A China apresenta uma população em torno de 1,35 bilhões de habitantes, segundo último censo. No mesmo levantamento, foi constatado que houve um aumento do número de idosos e a redução da quantidade de mulheres.

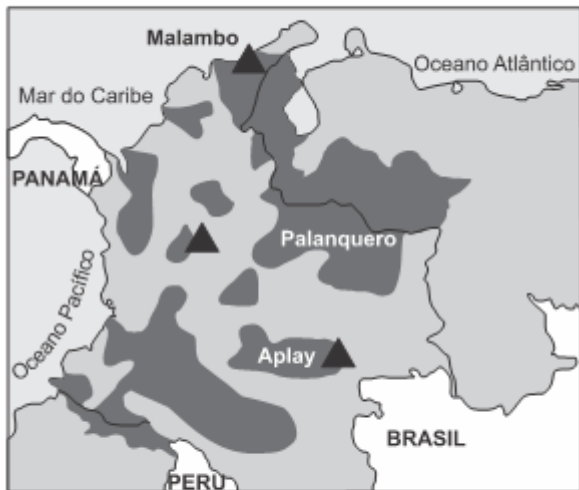
Em relação às mudanças da população chinesa, é correto afirmar que:

- a) O acelerado crescimento vegetativo resulta de uma estratégia do governo para manter a evolução econômica através da disponibilidade de uma mão de obra barata.
- b) O número de mulheres sofreu diminuição devido ao aborto induzido de meninas, o que está relacionado à questão cultural, já que são os filhos homens responsáveis pelos pais na velhice.
- c) O envelhecimento populacional da China é preocupante, o que tem levado o governo a criar medidas para promover a renovação da população adulta, como o incentivo a imigração.
- d) O predomínio da população rural explica o maior percentual de homens na estrutura populacional, já que as atividades econômicas do setor são consideradas como as mais pesadas.

Exercício 73

(Uemg 2016) EUA alegam combater terrorismo para justificar presença militar na América do Sul.

EUA alegam combater no quintal das Farc



- ▲ Bases militares
- Território das Farc

<http://br.images.search.yahoo.com/23/10/2015>.

Desde seus processos de independência, duas nações alternam momentos de conflito e de cooperação bilateral. A partir da década de 1980, com o aumento do tráfico de drogas e combustíveis, os problemas voltaram a ser frequentes. Atualmente, esses países estão em conflito territorial por domínio da região na fronteira.

<http://www.jb.com.br/internacional/noticias/2015/09/02/venezuela-amplia-estado-de-excecao-na-fronteira-com-colombia/>

Com base nas informações obtidas acima, é **CORRETO** concluir que os países citados no conflito são:

- a) Venezuela e Colômbia - a atual crise culminou com o fechamento da fronteira entre esses países e o acesso terrestre ficou fechado por tempo indeterminado.
- b) Argentina e Uruguai - o elemento chave é a rejeição de um grupo vizinho argentino a uma fábrica de celulose no Uruguai, expressada pelo bloqueio de uma das pontes internacionais que une os dois países.
- c) Brasil e Paraguai - os embates contra os agricultores brasileiros residentes no Paraguai, que são denunciados pelos impactos nas comunidades locais ou pelo mal uso de agrotóxicos.
- d) Colômbia e Peru - a controvérsia originada no ataque colombiano a um acampamento das FARC (Forças Armadas Revolucionárias Colombianas) em solo peruano.

Exercício 74

(Uerj 2009) Cresce a proporção de latinos nos EUA. Já se sabe que a população latina está mudando a face dos Estados Unidos, e os números confirmam: a cada 30 segundos nasce no país uma pessoa dessa origem. Os latinos são 14,2% da população, 40,5 milhões de pessoas. De acordo com os dados do censo americano, os latinos representam o segmento mais jovem.

PILAR MARRERO. Adaptado de <http://politicainternacional-jorge.blogspot.com>

O texto faz referência ao aumento da proporção de hispânicos na população estadunidense.

Além da imigração elevada, esse aumento é consequência direta do seguinte aspecto demográfico característico desse grupo:

- a) estrutura etária associada a altas taxas de natalidade
- b) taxa de emigração marcada por percentual elevado de idosos
- c) população economicamente ativa concentrada nas áreas rurais
- d) altas taxas de mortalidade masculina gerada por condições precárias de trabalho

Exercício 75

(G1 - cftce 2006) As extensas áreas de agricultura mecanizada nos Estados Unidos se associam:

- a) aos terrenos alagados da Flórida, com climas subtropicais úmidos e solos aluviais arenosos.
- b) às encostas orientais das montanhas Rochosas, com clima temperado continental e solos pouco férteis.
- c) ao vale do Rio São Lourenço, com clima temperado oceânico e solos férteis.
- d) aos planaltos da bacia do Colorado com climas semiáridos e solos de baixa fertilidade.
- e) aos terrenos planos da bacia do Mississipi-Missouri, com clima temperado continental e solos de boa fertilidade.

Exercício 76

(Ulbra 2016) Os conflitos internacionais nos últimos anos se apresentam através de complexas relações e situações políticas. Nesse cenário de desagregação política, podemos citar a região do Oriente Médio, que se mostra numa situação instável e complexa desde a eclosão da Primavera Árabe. Nesse sentido, quais afirmações estão corretas?

- I. A ocupação militar dos EUA, no Iraque, objetivou a queda do ditador Saddam Hussein, mas permitiu as disputas políticas internas no país, criando tensão entre grupos rivais.
- II. A Síria está no meio de uma guerra civil, evento devastador, criando um número crescente de refugiados e proliferando grupos rebeldes contrários ao chefe de estado Bashar al-Assad.
- III. A queda do ditador Muammar Kadafi no governo da Líbia gerou uma disputa entre milícias armadas, a busca do controle do poder na região e a exploração de recursos naturais.
- IV. A expansão do estado islâmico representa uma grande ameaça, principalmente, por apresentar algumas características, como, por exemplo, as execuções em massas e a destruição de monumentos históricos.

- a) I e III.
- b) I e IV.
- c) I, II e IV.
- d) II, III e IV.
- e) I, II, III e IV.

Exercício 77

(Uece 2007) A posição do Japão no sistema mundial vem assumindo notável proeminência, com especial destaque no período que se segue à Segunda Guerra Mundial. Isto significa dizer que a presença japonesa pelo mundo afora se traduz, mais explicitamente, pela crescente conquista de fatias do mercado internacional.

Marque a opção FALSA a respeito da realidade japonesa.

a) O Japão teria tudo para ser apenas mais um arquipélago do oceano Pacífico, compondo um arco montanhoso e vulcânico, não fossem alguns traços que lhe conferem uma individualização em seu contexto sócio-espacial, ligada a seu caráter de potência industrial; sua capacidade de incorporar inovações ocidentais, partindo por vias autônomas para uma revolução tecnológica e uma interpenetração entre tradição e modernidade que permite falar numa "versão japonesa" de desenvolvimento.

b) Apesar do destaque no desenvolvimento econômico, o Japão enfrenta grandes adversidades naturais, reveladas pela grande distância que separa a costa japonesa do setor continental mais próximo; pelas dificuldades climáticas vinculadas a um regime monçônico e por uma instabilidade geológica expressiva.

c) A história econômica japonesa é marcada por dois momentos cruciais: o primeiro deles reporta-se à Restauração ou Revolução Meiji, ainda no século XIX, e o segundo está ligado ao período do "Milagre" Japonês, já depois da Segunda Guerra Mundial.

d) O processo de modernização no Japão, gerador de uma realidade urbano-industrial, desenvolveu a produtividade de todos os setores da economia, com destaque para a indústria de alta tecnologia e para a agricultura moderna de frutas, responsáveis pela exportação dos produtos japoneses mais consumidos nos mercados europeu e norte-americano.

Exercício 78

(Espcex (Aman) 2019) “Desde o início da década de 1980, a China tem sido a economia que mais cresce no mundo, a uma taxa média de 10% ao ano [...]. Como consequência desse impressionante crescimento, entre 1980 e 2010 o PIB chinês aumentou 2.810% e se tornou o segundo maior do planeta.”

SENE, Eustáquio & MOREIRA, J.C. *Geografia Geral e do Brasil: Espaço Geográfico e Globalização (2)*. 2ª ed. São Paulo: Moderna, 2012, p.199.

Dentre os fatores associados a esse avanço econômico podem-se destacar:

I. a presença de enormes reservas de minérios e combustíveis fósseis no subsolo chinês que concede ao País autossuficiência em termos de matéria-prima e fontes de energia e o caracteriza como grande exportador mundial de petróleo.

II. o modelo de economia planejada que, promovendo crescimento econômico com equilibrada distribuição de renda, amplia o mercado consumidor interno chinês, um dos mais gigantescos do mundo, e elimina as desigualdades sociais.

III. a liberalização econômica e os baixos custos da mão de obra, principal fator de competitividade da indústria chinesa, têm sido fundamentais para o crescimento econômico do País.

IV. o esforço chinês em atrair indústrias intensivas em capital para as chamadas zonas de desenvolvimento econômico e tecnológico, fazendo com que nas últimas décadas o País esteja entre os maiores receptores de investimentos produtivos do mundo.

Assinale a alternativa em que todas as afirmativas estão corretas.

a) I e II

b) I e III

c) I e IV

d) II e III

e) III e IV

Exercício 79

(G1 - ifal 2018) A doutrina da dissuasão nuclear, que passa por um teste na atual crise entre **Estados Unidos** e **Coreia do Norte**, nasceu na Guerra Fria, quando as duas potências da época afirmavam que qualquer ataque teria represálias apocalípticas.

Esse possível conflito envolve diretamente alguns países, entre eles:

a) Rússia, China, Japão, Austrália e Nova Zelândia.

b) China, Japão, Singapura, Indonésia e Rússia.

c) Coreia do Sul, China, Japão, EUA e Coreia do Norte.

d) Japão, Coreia do Norte, Rússia, Síria e Coreia do Sul.

e) Coreia do Norte, EUA, China, Malásia e Japão.

Exercício 80

(G1 - ifce 2016) O México possui importantes reservas de petróleo e gás natural concentradas

a) na Serra Madre Ocidental.

b) nas planícies litorâneas do Oceano Pacífico.

c) nas planícies litorâneas do Golfo do México.

d) no planalto Mexicano.

e) na península da Califórnia.

Exercício 81

(Uel 2011) Com base nos conhecimentos acerca dos países denominados “Tigres Asiáticos”, considere as afirmativas a seguir.

I. A denominação “Tigres Asiáticos” refere-se ao modo agressivo com que estes países protegeram suas economias dos investimentos estrangeiros.

II. Os Tigres Asiáticos fecharam as relações econômicas exteriores e optaram por nacionalizar os meios de produção de bens e serviços.

III. O modelo econômico adotado pelos Tigres Asiáticos é essencialmente exportador, com uma política de baixos impostos, investimentos em tecnologia e educação.

IV. Hong Kong, Cingapura, Coreia do Sul e Taiwan têm em comum o acelerado desenvolvimento econômico, industrial e tecnológico apresentado a partir de 1970.

Assinale a alternativa correta.

a) Somente as afirmativas I e II são corretas.

b) Somente as afirmativas I e III são corretas.

c) Somente as afirmativas III e IV são corretas.

d) Somente as afirmativas I, II e IV são corretas.

e) Somente as afirmativas II, III e IV são corretas.

Exercício 82

(Fac. Pequeno Príncipe - Medici 2020) Leia o texto a seguir.

A China, principal produtor mundial de aço e alumínio, é acusada de praticar dumping para se desfazer de seu enorme excedente de produção.

O primeiro-ministro canadense, Justin Trudeau, acusou a China, nesta segunda-feira (12/03/2018), de inundar o mercado mundial de alumínio e aço baratos, o que considera: "Concorrência desleal". O gigante asiático também está no alvo do presidente americano Donald Trump, que anunciou tarifas aduaneiras pesadas sobre as importações desses dois metais.

Folha de S. Paulo. Disponível em: <<https://bit.ly/33LlcA6>>. Acesso em: 07/08/19. (com adaptações).

No comércio exterior, dumping

- a) é um acordo entre empresas concorrentes que combinam preços entre si para diminuir a concorrência.
- b) ocorre quando uma única empresa domina a oferta de determinado produto ou serviço.
- c) significa a venda de produtos a um preço muito abaixo do que é praticado pelo mercado.
- d) representa o conjunto de empresas que domina determinado setor da economia ou produto.
- e) é o controle de todas as etapas da produção, desde a extração da matéria-prima até a distribuição das mercadorias.

Exercício 83

(G1 - ifsul 2019) "A designação de Tigres [Tigres Asiáticos] foi estabelecida por analogia com os atributos do animal, pela velocidade com que cresceram economicamente, ao se industrializar, e pela agressividade na política de exportações".

SAMPAIO, Fernando dos Santos. *Para viver juntos: Geografia* (9º ano). São Paulo: Edições SM, 2015. p. 164

Em que região do continente asiático estão localizados os Tigres Asiáticos?

- a) Ásia Central.
- b) Oriente Médio.
- c) Extremo Oriente.
- d) Sudeste Asiático.

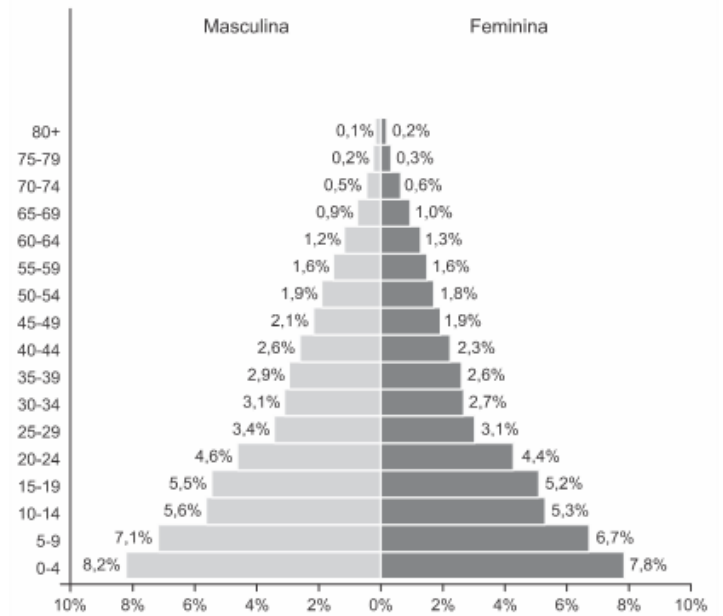
Exercício 84

(Upf 2017) Em decisão de grande repercussão mundial, o Reino Unido opta pela saída da União Europeia. Sobre esse fato, é correto afirmar:

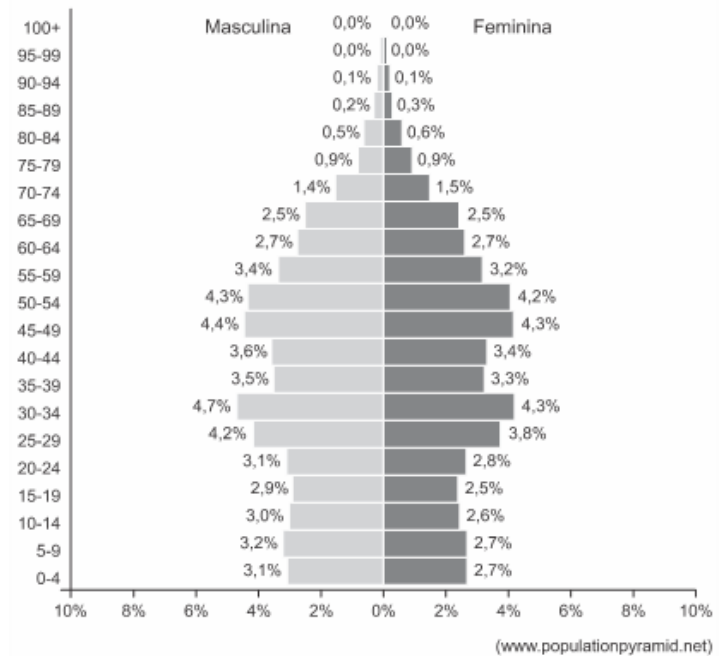
- a) A saída do Reino Unido da União Europeia foi uma resposta direta e imediata ao ingresso de países do Leste Europeu no último ano.
- b) A Escócia foi submetida, recentemente, a dois plebiscitos: em 2014, optou por permanecer no Reino Unido e, em 2016, por retirar-se da União Europeia.
- c) O Reino Unido é formado por Inglaterra, País de Gales, Escócia e Irlanda do Norte.
- d) A partir da Comunidade Econômica Europeia, a União Europeia foi significativamente ampliada, completando 28 países no final do século XX.
- e) A consequência imediata da saída do Reino Unido da União Europeia é o abandono do espaço de livre circulação e da utilização do Euro como moeda. e) A consequência imediata da saída do Reino Unido da União Europeia é o abandono do espaço de livre circulação e da utilização do Euro como moeda.

Exercício 85
(Fgv 2020)

População da China, 1972



População da China, 2019



A mudança observada na pirâmide etária da China revela que

- a) o aumento da expectativa de vida, associado a melhores condições de vida da população, diminui a razão de dependência do país.
- b) a redução da taxa de natalidade, incentivada pelo governo até 2015, prejudica o desenvolvimento da economia e o sistema de aposentadorias.
- c) a redução da taxa de natalidade, consequência da emigração, estimula a redução do crescimento econômico do país.
- d) a redução da população adulta, consequência da política do filho único, estimula o desenvolvimento de políticas públicas que buscam melhorar as condições de vida.
- e) a redução da população adulta, resultado do estímulo à migração, aumenta a razão de dependência do país.

Exercício 86

(Mackenzie 2014) Observe o mapa.



O país representado no mapa é a China. A área em destaque corresponde

- a) ao Tibete que apresenta movimentos separatistas, os quais preocupam as autoridades chinesas.
- b) à China de Noroeste que possui uma população majoritariamente islâmica e que não se identifica etnicamente com a população da China, de maioria Han.
- c) às Planícies orientais, regiões prejudicadas pela política demográfica de controle de natalidade, que se diferenciam pelo menor nível de industrialização do país.
- d) à Mongólia Interior, área de climas muito úmidos e quentes, que favorecem o cultivo de gêneros como o trigo e a soja.
- e) à Manchúria, região de climas temperados, solos férteis, produção de trigo e importantes jazidas de carvão.

Exercício 87

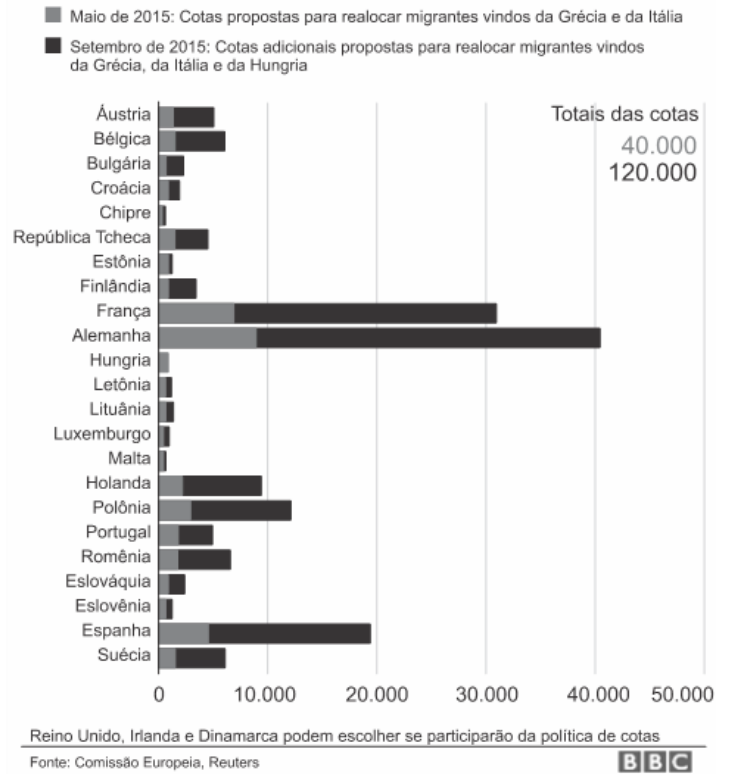
(Ufpe 2008) O Canadá teve forjadas a Geografia e a História, basicamente, ao longo dos 570 km do vale do rio São Lourenço, onde se situam algumas das mais importantes cidades daquele país, como Quebec, Ottawa, Toronto e Montreal. Com relação a este país da América do Norte, é correto afirmar que seu principal problema geopolítico:

- a) são os conflitos étnicos verificados na parte meridional do país.
- b) são os conflitos de migrantes canadenses com autoridades de fronteira dos Estados Unidos, ao sul.
- c) são as tentativas de separatismo, por parte de uma das mais importantes regiões, a província de Quebec.
- d) é a diferença de idiomas e de etnias existentes no país.
- e) é a ocorrência de grandes depósitos de ferro e carvão mineral, que despertaram a cobiça de grandes multinacionais dos Estados Unidos e da Europa.

Exercício 88

(Usf 2016) Analise o gráfico.

Número de migrantes que os países da UE podem receber, segundo as cotas



A União Europeia propõe cotas de refugiados para países-membros

Proposta da Comissão Europeia estabelece a divisão dos refugiados entre os países do bloco europeu.

A intenção é aliviar a pressão dos países na costa do Mar Mediterrâneo que recebem o maior contingente de imigrantes. Entre os critérios para a distribuição dos imigrantes entre os países europeus, estão

- a) a relação de colonização entre os séculos XIX e XX.
- b) a faixa etária e o gênero conforme demonstrado no gráfico.
- c) o nível de escolaridade semelhante aos países de destino.
- d) o tamanho da população e o PIB.
- e) semelhanças étnicas entre os imigrantes e os países de destino.

Exercício 89

(Fatec 2015) A escolha de um local para a instalação de uma planta industrial não é aleatória. Essa escolha, geralmente, recai sobre um lugar que ofereça mais rentabilidade para o empreendimento. Cada empresa avalia os elementos mais importantes para tomar a decisão. Esses elementos são chamados de fatores locais e variam dependendo do tipo de indústria.

As empresas que produzem tecnologia vestível procuram se instalar nos chamados tecnopolos como o Vale do Silício nos Estados Unidos que, além de outras vantagens, oferecem

- a) mão de obra barata e contiguidade às redes bancárias, comerciais e hospitalares.
- b) proximidade de universidades e centros de pesquisa e de tecnologia.

c) amplo mercado consumidor e grande quantidade de matéria-prima.

d) energia abundante e barata e informalidade da mão de obra.

e) incentivos fiscais e legislação ambiental deficiente.

Exercício 90

(Upe-ssa 1 2017) Identifique, no mapa ilustrativo a seguir, o país a que se refere o texto e que se constitui em um dos problemas geográficos da atualidade.



www.geografiaparatodos.com.br

A escassez de produtos básicos é “a ponta do iceberg”, diz economista. A queda do preço do petróleo prejudicou o modelo econômico do governo. A imagem de uma longa fila de pessoas esperando para comprar pão e outros alimentos diante de uma padaria nas proximidades da capital, às escuras, por causa dos apagões de energia, é um dos retratos de uma grave crise política e econômica, que atinge aquele país e levou o presidente a decretar “Estado de Emergência Econômica”.

Adaptado de <http://g1.globo.com/>, acesso em 20-06-2016.

O país está indicado na alternativa

- a) 1.
- b) 2.
- c) 3.
- d) 4.
- e) 5.

Exercício 91

(Upe-ssa 1 2018) “A onda de protestos contra o Governo já completou um mês, resultando na morte de 35 pessoas e deixando outras 717 feridas. Os dados, contabilizados até quinta-feira, dia 4 de maio, pelo Ministério Público, mostram um aumento significativo na violência policial. Até o momento, não é possível prever um fim próximo do conflito, porque o Executivo está promovendo uma Assembleia Nacional Constituinte para criar uma Carta Magna sob medida e evitar as eleições.”

Fonte: Jornal *El Pais*, edição de 5 de maio de 2017, com modificações. Adaptado.

No mapa, o país que apresenta o problema geográfico atual, referido na notícia transcrita, está indicado por um dos numerais.



Assinale a alternativa cujo numeral representa esse país.

- a) 1
- b) 2
- c) 3
- d) 4
- e) 5

Exercício 92

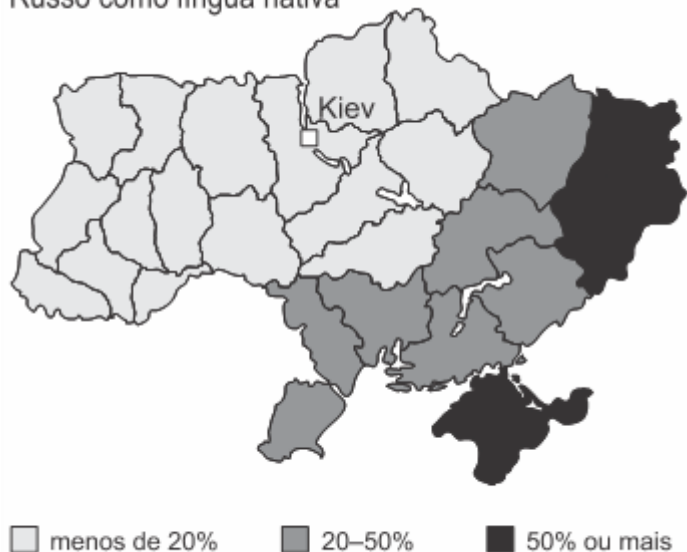
(G1 - ifce 2016) Sobre a economia chinesa é **correto** afirmar-se que

- a) as Zonas Econômicas Especiais (ZEEs) são áreas do território chinês destinadas à atuação do capital estrangeiro para instalação de indústrias voltadas à exportação.
- b) as Zonas Econômicas Especiais (ZEEs) são áreas do território chinês destinadas à atuação do capital estatal para instalação de indústrias voltadas à exportação.
- c) um problema a ser enfrentado pela China, apesar de todo o crescimento econômico alcançado pelo país, é a pobreza, sobretudo nas áreas urbanas.
- d) um problema enfrentado pela China é a carência de recursos naturais que torna necessária a importação de toda a matéria-prima utilizada.
- e) mesmo com grande crescimento econômico e forte expansão industrial, a China vem mantendo uma exemplar sustentabilidade ambiental.

Exercício 93

(Espm 2015) Em relação à crise político-territorial entre Ucrânia e Rússia, podemos afirmar que

Russo como língua nativa



- a) A Rússia é contrária a saída da Ucrânia da União Europeia.
- b) A porção ocidental da Ucrânia é majoritariamente russa e desejosa de ingressar na União Europeia.
- c) A Rússia pretende instalar ogivas nucleares na Crimeia e a Ucrânia é contra.
- d) A porção leste da Ucrânia é área de atuação de separatistas russos.
- e) As grandes jazidas de petróleo da parte ocidental da Ucrânia, onde reside a maioria da população russa, é o fator de tensão maior.

Exercício 94

(Fuvest 2017) Cada vez mais pessoas fogem da guerra, do terror e da miséria econômica que assolam algumas nações do Oriente Médio e da África. Elas arriscam suas vidas para chegar à Europa. Segundo estimativas da Agência da ONU para Refugiados, até novembro de 2015, mais de 850 mil refugiados e imigrantes haviam chegado por mar à Europa naquele ano.

Garton Ash, Timothy. Europa e a volta dos muros. *O Estado de S. Paulo*, 29/11/2015. Adaptado.

Sobre a questão dos refugiados, no final de 2015, considere as três afirmações seguintes:

- I. A criação de fronteiras políticas no continente africano, resultantes da partilha colonial, incrementou os conflitos étnicos, corroborando o elevado número de refugiados, como nos casos do Sudão e Sudão do Sul.
- II. Além das mortes em conflito armado, da intensificação da pobreza e da insegurança alimentar, a guerra civil na Síria levou um contingente expressivo de refugiados para a Europa.
- III. A política do apartheid teve grande influência na Nigéria, país de origem do maior número de refugiados do continente africano, em decorrência desse movimento separatista.

Está correto o que se afirma em

- a) I, apenas.
- b) I e II, apenas.
- c) III, apenas.

- d) II e III, apenas.
- e) I, II e III.

Exercício 95

(Ufpr 2018) Em mais de 1.000 km na fronteira dos EUA com o México já existe um muro. Ele passa pelos desertos de sedimentos de Sonora, onde os cactos crescem como tubos de órgão. Mais a leste, pesadas estruturas de aço em forma de X cortam os quilômetros de planície com capim queimado pelo sol, como marcadores de campo de batalha. No Texas, os postes pintados de vermelho que formam partes da cerca na fronteira são frios, duros e ásperos ao toque. Em Tijuana, duas cercas – uma antiga, outra mais recente – mergulham até o oceano, onde as ondas corroem o metal.

(Fonte: AHMED, Azam; MANNY Fernandes; VILLEGAS, Paulina. Um muro entre nós: a vida na fronteira entre os EUA e o México. Disponível em: <<https://www.uol/noticias/especiais/hyt-fronteira-eua-e-mexico.htm#tematico-1?cmpid=>>. Acessado em 01.08.2017.

Em relação às fronteiras e ao exemplo citado, é correto afirmar:

- a) Apesar de processos de abertura terem propiciado questionamentos das fronteiras dos Estados Nacionais, elas continuam como fator forte de separação entre essas unidades políticas.
- b) Com a globalização, discursos de caráter xenofóbico e ameaças à segurança, emprego e renda perderam sua força histórica na regulação do Estado Nação em relação às suas fronteiras.
- c) O fechamento ou abertura de fronteiras, bem como a sua intensidade, é dependente das políticas globais norteadas pelas resoluções da ONU (Organização das Nações Unidas).
- d) A construção do muro separando o México dos EUA é justificada pelos EUA em vista das políticas antiterrorismo postas em prática por esse país.
- e) No período contemporâneo, exemplos como o Brexit e as cooperações oriundas da construção dos blocos econômicos revelam uma diminuição, em escala global, da tensão entre abertura e fechamento de fronteiras.

Exercício 96

(Espm 2018) O país destacado vive profunda crise política. Sua geografia é caracterizada por:



- a) Configurar-se como país andino e amazônico, ser o maior exportador mundial de café e conviver com o narcotráfico e guerrilhas em seu território.
- b) Apresentar uma população basicamente indígena e ser grande exportador mundial de banana, além de deter grandes reservas petrolíferas.
- c) Ser um país platino, detentor de grandes reservas de cobre e pioneiro no modelo neoliberal na América Latina.
- d) Ser simultaneamente um país andino e amazônico e apresentar grandes reservas mundiais de petróleo.
- e) Ser um país andino e deter grandes reservas de estanho e gás natural.

Exercício 97

(Enem digital 2020) Entenda a crise na Ucrânia

O presidente da Rússia, Vladimir Putin, e dois líderes da Crimeia assinaram, em março de 2014, um acordo para tornar a República Autônoma parte da Rússia. O tratado foi assinado dois dias após o povo da Crimeia aprovar em um referendo a separação da Ucrânia e a reunificação com a Rússia. A votação foi condenada por Kiev e pela comunidade internacional, que a considera ilegítima.

Disponível em: <http://g1.globo.com>. Acesso em: 28 out. 2014 (adaptado).

A justificativa para o acordo descrito fundamentava-se na ideia de

- a) espaço vital.
- b) limite fronteiro.
- c) estrutura bipolar.
- d) identificação cultural.
- e) autonomia econômica.

Exercício 98

(Mackenzie 2015) Observe o mapa a seguir.



As letras A, B e C identificam três diferentes territórios onde foram observadas manifestações separatistas ao longo do ano de 2014. Em dois desses territórios a questão separatista foi discutida politicamente, segundo as leis de seus Estados. Em um deles foram registrados conflitos e a influência de outros países. A esse respeito, assinale a alternativa correta.

- a) As letras A e C correspondem à Escócia e a Flandres, onde os Estados do Reino Unido e da Holanda permitem a discussão política do separatismo. A letra B corresponde à porção oriental da Ucrânia, onde o Estado enfrenta separatistas apoiados pela Rússia.
- b) As letras A e B correspondem à Valônia e ao País de Gales, onde a negociação política da Holanda e do Reino Unido discutem o separatismo. A letra C identifica a Crimeia, território ucraniano que foi incorporado pela Rússia após o uso de forças militares.
- c) As letras B e C identificam os territórios do país Basco e a Crimeia, onde os Estados da Espanha e da Rússia permitem as manifestações separatistas. A letra A corresponde à Irlanda do Norte, onde o Reino Unido sufocou separatistas católicos no conflito conhecido como “Domingo Sangrento”.
- d) As letras A e C identificam Escócia e Catalunha, com a condução política das discussões separatistas pelos Estados do Reino Unido e da Espanha. A letra B corresponde ao leste da Ucrânia, onde as forças armadas do país reprimem os separatistas apoiados pela Rússia.
- e) As letras A e C correspondem a região dos separatistas da Irlanda do Norte e Flandres, que negociam com os Estados do Reino Unido e da Bélgica. A letra B indica a Chechênia, território onde o separatismo é violentamente reprimido pelas forças armadas da Rússia.

Exercício 99

(Udesc 2015) Analise as proposições em relação ao continente africano.

1.
 - I. No relevo predominam os planaltos em escudos antigos.
 - II. O Norte do continente tem grandes restrições para o uso agrícola em razão da presença de um enorme deserto.
 - III. As florestas se concentram na região equatorial do continente.
 - IV. A população se concentra nas zonas litorâneas do continente.

Assinale a alternativa **correta**.

- a) Somente as afirmativas III e IV são verdadeiras.
- b) Somente as afirmativas I e II são verdadeiras.
- c) Somente as afirmativas I e III são verdadeiras.
- d) Somente a afirmativa IV é verdadeira.
- e) Todas afirmativas são verdadeiras.

Exercício 100

(Ufpr 2020) Em 1º de julho de 1997, Hong Kong, uma ex-colônia britânica, passou a fazer parte da China, sob o acordo “um país, dois sistemas”, que assegura certa autonomia ao território de cerca de 7,4 milhões de habitantes. Considerada uma Região Administrativa Especial, Hong Kong possui seu próprio sistema de leis, diversos partidos políticos e direitos essenciais garantidos. A respeito do assunto, considere as seguintes afirmativas:

1. Hong Kong foi cedida ao Reino Unido em 1842, após a Primeira Guerra do Ópio, quando se tornou uma colônia britânica.
2. Pelo acordo, ficou assegurado que nenhuma alteração poderá ser feita no sistema de governo de Hong Kong e em seu estilo de vida até o ano de 2047.
3. O governo central chinês tem afirmado de maneira recorrente sua jurisdição sobre Hong Kong, mas evitando atritos políticos entre os dois sistemas.
4. O passaporte utilizado pelos habitantes das duas regiões é o mesmo, porém o cidadão honconguês possui visto livre em vários países.

Assinale a alternativa correta.

- a) Somente a afirmativa 3 é verdadeira.
- b) Somente as afirmativas 1 e 2 são verdadeiras.
- c) Somente as afirmativas 1 e 4 são verdadeiras.
- d) Somente as afirmativas 2, 3 e 4 são verdadeiras.
- e) As afirmativas 1, 2, 3 e 4 são verdadeiras.

Exercício 101

(Espm 2014) No passado, conhecida como “capital mundial do automóvel”, atualmente,

- a) San Francisco converteu-se em importante centro tecnológico junto ao Vale do Silício e é centro irradiador da informática mundial.
- b) Boston tornou-se importante centro financeiro sendo considerada a capital da megalópole de Was-Bos.
- c) Seattle consagra-se como o centro tecnológico e aeronáutico norte-americano.
- d) Detroit é a melhor expressão do declínio industrial do *Rust Belt* e foi apelidada de *Ghost Town*.
- e) Los Angeles confirma a posição de centro tecnológico da Costa Oeste, além da biotecnologia, atividades intrínsecas a essa região conhecida como *Sun Belt*.

Exercício 102

(Espm 2015) Principal mercado para os produtos industrializados brasileiros enfrenta uma profunda crise que parece não ter fim. Resultado: pioram as perspectivas de exportação de manufaturados de alto valor agregado...

A matéria refere-se à (ao):

- a) China
- b) Estados Unidos
- c) Alemanha
- d) Argentina
- e) África do Sul

Exercício 103

(Mackenzie 2012) **Rússia: Moscou bate recorde de natalidade**

Segundo informação da vice-prefeita e responsável pela política social da capital, Liudmila Shvetsova, em agosto deste ano foram registrados em Moscou 12 mil nascimentos – um evento a ser comemorado no momento em que a Rússia, preocupada com o decréscimo de sua população, faz campanhas de natalidade. Ainda de acordo com Shvetsova, em Moscou a natalidade está crescendo e a mortalidade diminuindo, resultado que tranquiliza a vice-prefeita, ela mesma incentivadora e participante de campanhas pelo aumento da população nacional.

<http://www.diariodarussia.com.br>

Relacionadas à notícia dada, considere as afirmações I, II e III.

- I. O envolvimento do país em conflitos na região do Cáucaso, como na Chechênia, Daguestão, Iguchétia e Estônia, foi responsável por um expressivo aumento nos índices de mortalidade do país, equivalente ao que ocorreu na Segunda Guerra Mundial.
- II. A baixa natalidade, comum a diversos países europeus, é um fator que preocupa as autoridades do país em relação à sustentabilidade do sistema previdenciário e à reposição de mão de obra.
- III. Além da questão socioeconômica, há questões étnico-religiosas, pois muitos russos se preocupam com o maior ritmo de crescimento demográfico entre minorias com religião islâmica, o que poderia acentuar conflitos e tensões já existentes no país.

Dessa forma,

- a) apenas I e II estão corretas.
- b) apenas II e III estão corretas.
- c) apenas I e III estão corretas.
- d) I, II e III estão corretas.
- e) apenas I está correta.

Exercício 104

(Uepb 2014) Observe a charge abaixo.



ALVERGA, Carlos Frederico. Tribuna da Imprensa. <Disponível in: heliofernandes.com.br.>

Ela satiriza:

- A política de austeridade imposta pela Comissão Europeia, pelo Fundo Monetário Internacional e pelo Banco Central Europeu aos países endividados da zona do euro.
- A proibição das touradas na região da Catalunha, atividade que gera milhares de empregos e bilhões de euros, num momento em que a Espanha atravessa uma forte crise econômica.
- A polêmica e milenar tradição das touradas, que remonta ao império romano e persiste na cultura espanhola, apesar dos protestos dos ativistas contrários a tais espetáculos de crueldade.
- A preocupação dos líderes europeus com crise econômica atingindo a Espanha e a Itália, países que estão entre as maiores economias da zona do euro.
- A situação de desemprego que atinge a união europeia, com maior ferocidade na Grécia e na Espanha, países que atingem as maiores taxas, com aproximadamente um quarto de suas populações desempregadas.

Exercício 105

(Fgv 2020) Hong Kong é uma anomalia histórica. Não só por causa de suas ruas dedicadas à monarquia britânica, povoadas de rostos asiáticos, ou suas famosas construções verticais; mas porque Hong Kong é uma Região Administrativa Especial da China, aberta e moderna, apesar de ser controlada pelo regime chinês, um dos países mais poderosos do mundo. As 11 semanas de protestos ilustram o choque entre dois sistemas políticos, um confronto que cresce sob a ameaça de uma intervenção militar de Pequim.

(Jaime Santirso. "Protestos em Hong Kong aumentam a tensão com a China". <http://brasil.elpais.com>, 19.08.2019. Adaptado.)

De acordo com a notícia, pode-se afirmar que

- os hongcongueses almejam tornar Hong Kong independente da China, conforme acordo estabelecido em 1984, quando o governo britânico, após 156 anos, devolveu a ilha aos chineses.
- os protestos tiveram início após os 30 anos do Massacre da praça da Paz Celestial para pressionar o governo de Pequim a esclarecer as mortes e os desaparecidos no massacre.
- a população de Hong Kong reivindica redução de impostos sobre os investimentos estrangeiros estabelecidos pelo governo da China.
- os protestos iniciados em Hong Kong têm sua raiz em 2014 com a Revolução dos guarda-chuvas, e reivindicam direitos e

liberdades diante do controle autoritário da China.

e) os protestos conhecidos como *Occupy Central* são contrários à resolução chinesa de que os nomes dos candidatos a governador de Hong Kong seriam indicados pelo governo da China.

Exercício 106

(G1 - ifsul 2017) Desde o início da guerra civil na Síria, em março de 2011, o conflito cresceu a ponto de se transformar em uma complexa situação em que todos parecem lutar entre si. Forças leais ao presidente Bashar Al-Assad, rebeldes, extremistas muçulmanos e potências estrangeiras são peças de um intrincado jogo.

Nesse jogo, quem realmente sofre é a sociedade civil que vê suas casas, escolas e hospitais serem destruídos e seus familiares e amigos serem mortos.

Para amenizar o sofrimento dos civis e de militantes de oposição que estão sitiados na cidade de Aleppo, está sendo sugerida uma ação pela ONU que constaria da

- criação de corredores humanitários que permitam a saída de milhares de pessoas e a entrada de alimentos e medicamentos para a cidade.
- elaboração de um acordo de cessar fogo para que os civis possam ser retirados da cidade por organismos internacionais.
- colaboração de diversos países, principalmente a Rússia, na tentativa de colocar um fim no conflito.
- formação de uma frente ampla de países como Estados Unidos, Alemanha e Japão na tentativa de depor o presidente Bashar Al-Assad.

Exercício 107

(Unicamp 2015) Um país da Europa Ocidental encontra-se envolvido em discussões internas sobre separatismo entre as suas duas principais regiões: Flandres, ao norte, e Valônia, ao Sul. Qual é esse país?

- Ucrânia.
- Suíça.
- Bélgica.
- Espanha.

Exercício 108

(Mackenzie 2017) **CHEGADA DE REFUGIADOS À ALEMANHA CAI PARA 280 MIL EM 2016**

A Alemanha registrou uma brusca queda na entrada de migrantes em busca de asilo em 2016, segundo dados apresentados pelo governo nesta semana. Foram 280 mil pessoas, contra as quase 900 mil do ano anterior.

FOLHA DE SÃO PAULO, www.folha1.uol.com.br, 12.01.2017. Acessado em 12.03.2017.

Com relação à realidade exposta na reportagem, considere as seguintes afirmações:

- Concomitantemente à queda do número de entradas, houve aumento da rejeição aos refugiados.

II. Um dos fatores responsáveis pela redução apontada na reportagem é o acordo estabelecido entre a União Europeia e a Turquia para controlar o fluxo rumo ao território do bloco econômico.

III. Síria e Afeganistão estão entre os principais países de origem dos refugiados que se dirigiram à Alemanha.

IV. A “política de portas abertas” promovida pela chanceler Angela Merkel aumentou significativamente sua popularidade, tanto na Alemanha, quanto no restante do território europeu.

É correto o que se afirma em

- a) I, apenas.
- b) I e II, apenas.
- c) II e III, apenas.
- d) I, II e III, apenas.
- e) I, II, III e IV.

Exercício 109

TEXTO PARA A PRÓXIMA QUESTÃO:

Observe a imagem e leia o texto, para responder à(s) questão(ões).



Amoreira africana.
<https://www.google.com.br>

O Comissário apertou-lhe mais a mão, querendo transmitir-lhe o sopro de vida. Mas a vida de Sem Medo esvaía-se para o solo do Mayombe, misturando-se às folhas em decomposição.

[...]

Mas o Comissário não ouviu o que o Comandante disse. Os lábios já mal se moviam.

A amoreira gigante à sua frente. O tronco destaca-se do sincretismo da mata, mas se eu percorrer com os olhos o tronco para cima, a folhagem dele mistura-se à folhagem geral e é de novo o sincretismo. Só o tronco se destaca, se individualiza. Tal é o Mayombe, os gigantes só o são em parte, ao nível do tronco, o resto confunde-se na massa. Tal o homem. As impressões visuais são menos nítidas e a mancha verde predominante faz esbater progressivamente a claridade do tronco da amoreira gigante. As manchas verdes são cada vez mais sobrepostas, mas, num sobressalto, o tronco da amoreira ainda se afirma, debatendo-se. Tal é a vida.

[...]

Os olhos de Sem Medo ficaram abertos, contemplando o tronco já invisível do gigante que para sempre desaparecera no seu elemento verde.

Pepetela, *Mayombe*.

(Fuvest 2017) *Mayombe* refere-se a uma região montanhosa em Angola, dominada por floresta pluvial densa, rica em árvores de grande porte, e localizada em área de baixa latitude (4°40'S).

Levando em conta essas características geográficas e vegetacionais, é correto afirmar que


- a) esse tipo de vegetação predomina na maior parte do continente africano, circundando áreas de savana e deserto.
- b) se trata da única floresta pluvial sobre áreas montanhosas, pois esse tipo de floresta não ocorre em outras áreas do mundo.
- c) a vegetação da região é semelhante à da floresta encontrada, no Brasil, na mesma faixa latitudinal.
- d) nessa mesma faixa latitudinal, no Brasil, há regiões áridas, de altas altitudes, em que predominam ervas rasteiras.
- e) tais florestas pluviais só ocorrem no hemisfério sul, devido ao regime de chuvas e às altas temperaturas nesse hemisfério, onde ocupam todo tipo de relevo.

Exercício 110

(Acafe 2015) Leia atentamente as afirmações a seguir, considerando o mapa da América do Sul.



Fonte: ALMEIDA, Lúcia M. A. de; RIGOLIN, Tércio. *Fronteiras da globalização: o espaço brasileiro: natureza e trabalho* – 2.ed – São Paulo: Ática, 2013. (adaptado)

I. As fronteiras terrestres limitam-se territorialmente com os países da América do Sul, exceção ao Chile e ao Equador e, dentro da política de soberania e segurança nacionais, destaca-se o conceito de Faixa de Fronteira que compreende uma extensão interna de cerca de  de largura ao longo dessas fronteiras terrestres, de vital importância à Soberania Nacional.

II. O estado de Santa Catarina, em destaque no mapa, está localizado na região subtropical, cujas latitudes são menores que

a do Trópico de Capricórnio, nº 2, e faz limite a leste com a Argentina, nº 3, país recém saído do MERCOSUL .

III. A tropicalidade, característica da maior parte do Brasil, abarca terras no hemisfério Sul, entre o Trópico de Capricórnio, nº 2, e o Equador, nº 1, e um percentual pequeno de terras no hemisfério norte.

IV. A letra A indica a região de clima subtropical do sul do Brasil com atuação dominante de duas massas de ar: a Tropical continental, quente e úmida, e a Polar atlântica, cuja influência no inverno provoca ondas de frio e formação de geada, podendo ocorrer neve nas áreas de maior altitude.

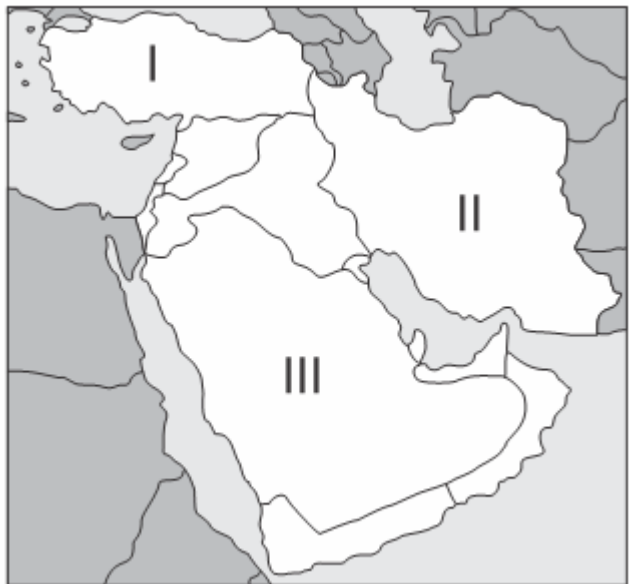
V. Santa Catarina e o Rio Grande do Sul, este com o nº 4, são estados que já produzem energia eólica a partir de aerogeradores, como é o caso de Água Doce e Bom Jardim da Serra, no primeiro estado e Osório no segundo.

Todas as afirmações corretas estão em:

- a) I - II - III
- b) I - III - V
- c) II - IV - V
- d) IV - V

Exercício 111

(Mackenzie 2018) Considerando o mapa e as informações a seguir, marque a opção que identifica corretamente os países I, II e III.



I. Em 2016, houve uma tentativa de golpe militar neste país, que resultou em mais de 250 mortos e grande quantidade de militares presos.

II. A liderança suprema deste país é exercida pelo aiatolá Ali Khamenei e a presidência por Hassan Rohani, reeleito em 2017.

III. É um dos maiores produtores de petróleo do mundo e abriga a cidade de Meca, sagrada para os muçulmanos.

- a) I – Síria, II – Iraque, III – Irã.
- b) I – Jordânia, II – Iêmen, III – Síria.
- c) I – Turquia, II – Irã, III - Arábia Saudita.
- d) I – Iraque, II – Arábia Saudita, III – Kuwait.

e) I – Afeganistão, II – Iraque, III – Israel.

Exercício 112

(Unesp 2016) Os espaços à margem da economia mundial são igualmente pouco integrados regionalmente, e a desintegração nacional limita a integração. O comércio intrarregional africano se situa em torno de 10% do que é movimentado e é polarizado em alguns países. Fora a África do Sul, cinco países representam três quartos das exportações intra-africanas.

(Philippe Hugon. *Geopolítica da África*, 2009.)

A inexpressividade do comércio intrarregional africano deve-se, em parte,

- a) ao acesso exclusivo a matérias-primas importadas e ao baixo mercado consumidor.
- b) à pouca diversificação das estruturas produtivas e às divergências socioculturais.
- c) à manutenção das colônias europeias e à obrigatoriedade da exportação.
- d) às fronteiras flexíveis e à generalização de economias não monetarizadas.
- e) aos altos custos no transporte de mercadorias e à ausência de centros urbanos.

Exercício 113

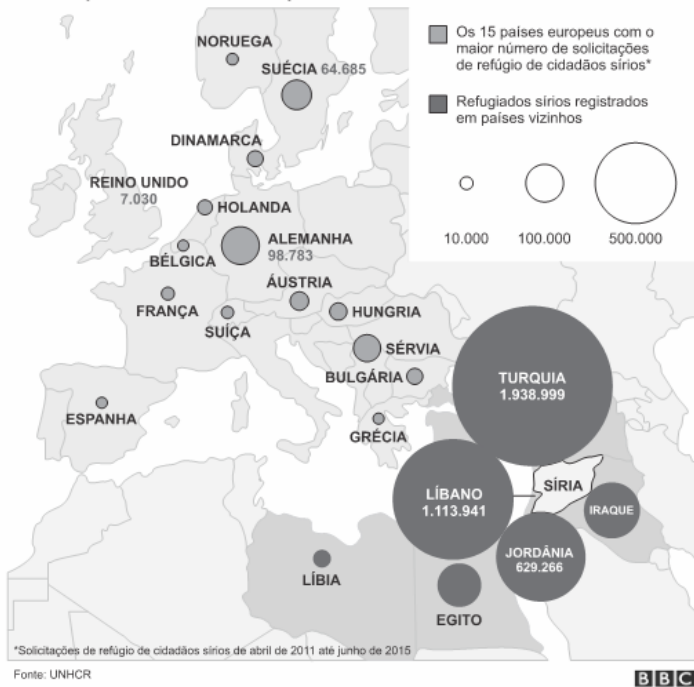
(Upf 2017) Além de apresentar uma multiplicidade de culturas e etnias, o continente africano exibe, também, significativos contrastes naturais e socioeconômicos. Sobre as características que marcaram/marcam o continente africano, é correto afirmar que

- a) o continente africano caracteriza-se por um relevo predominantemente sedimentar no Norte e por maciços cristalinos no Sul, além de apresentar um contorno retilíneo do seu litoral, facilitando a ocorrência de portos marítimos.
- b) a partir dos primeiros anos do século XXI, a África passou a receber investimentos da crescente economia asiática, especialmente da chinesa, que apostou, principalmente, nos recursos minerais e energéticos africanos.
- c) a porção meridional da África é um conjunto de países com características histórica e culturais que refletem a religião islâmica e a língua árabe e uma crescente economia voltada para o mercado interno.
- d) o processo de urbanização da África só está ocorrendo no século XXI, de forma ordenada, mas lenta, pois só em 2015 o continente atingiu equilíbrio numérico entre a população urbana e a população rural.
- e) a região de altas latitudes é marcada por clima equatorial e escassez de chuvas, além de extensas florestas preservadas.

Exercício 114

(Acafe 2018) Observe o mapa a seguir.

Sírios em países vizinhos e na Europa



Disponível em: <http://www.bbc.com/portuguese/noticias/2015/09/150910_vizinhos_refugiados_ik>. Acesso em: 30 Abr. 2018.

A questão dos refugiados sírios tem tomado destaque na atualidade. Sobre isso, marque V para as afirmações verdadeiras e F para as falsas e assinale a alternativa com a sequência correta.

- () Apesar dos países desenvolvidos serem os mais preparados para receber refugiados, o principal destino dos que fogem de conflitos e guerras têm sido os países em desenvolvimento.
- () A imagem da crise que emocionou o mundo – a foto do corpo de Alan Kurdi, um menino de 3 anos – ocorreu nas praias do país que mais abriga refugiados sírios em seu território: a Turquia.
- () Parte dos políticos europeus tentam classificar os sírios como migrantes que teriam saído de seus países por motivos econômicos e não como refugiados de guerra ou de conflitos. A diferença na aplicação entre os conceitos visa isentar seus países de implementar políticas de asilo a essas pessoas.
- () O Estado Islâmico tem sido um dos principais recebedores de refugiados sírios que não conseguem entrar legalmente na Europa.
- () Os sírios não transpõem as fronteiras de seu país antes de receberem a autorização de entrada nos países que os refugiarão.

- a) V – V – V – F – F
- b) V – F – V – F – F
- c) F – V – F – F – V
- d) F – V – V – V – F

Exercício 115

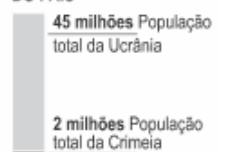
(Ufjf-pism 3 2017) A disputa entre a Rússia e a Ucrânia pelo controle da Crimeia se agravou em fevereiro de 2014. No início de março, após a queda do então presidente ucraniano Victor Ianukovici, Moscou enviou tropas para a República Autônoma da Crimeia através do Mar Negro. Em 16 de março, a sua população aprovou por referendo a sua independência da Ucrânia, não reconhecida pelos EUA e pela União Europeia. No dia seguinte, o presidente russo, Vladimir Putin, assinou decreto reconhecendo a independência da península.



GRUPOS ÉTNICOS QUE VIVEM NA CRIMEIA, EM %



POPULAÇÃO TOTAL DO PAÍS



*População original muçulmana da região, de fala turca

Fontes: BBC, CIA Factbook, ONU
 Disponível em: <<http://www1.folha.uol.com.br/mundo/2014/03/1422015-entenda-porque-ucrania-e-russia-brigam-pelo-controle-da-crimea.shtml>>. Acesso em 10/Out/2016. (Adaptado)



Fontes: agências de notícias, Graphic News e East European Gas Analysis
 Disponível em: <<http://www1.folha.uol.com.br/mundo/2014/06/1471046-russia-corta-provisao-de-gas-a-ucrania.shtml>>. Acesso em 15/Out/2016. (Adaptado)

Sobre a península da Crimeia, pode-se afirmar que:

- I. é uma região estratégica para a Rússia, pois lhe fornece acesso ao Mar Negro, facilitando o controle do canal que liga o Mar Negro ao Mar de Azov.
- II. cerca das 2 milhões de pessoas que residem na península da Crimeia, mais da metade se considera de origem russa e, inclusive, fala russo no dia a dia.
- III. cerca de 1/3 das exportações russas de gás à União Europeia passam pela Crimeia, e a Europa importa da Rússia cerca de um terço do gás que consome.

Assinale a opção CORRETA:

- a) somente a alternativa I.
- b) somente a alternativa II.
- c) somente a alternativa III.
- d) somente as alternativas I e II.

e) somente as alternativas II e III.

Exercício 116

(Unesp 2009) Observe o mapa.



Utilizando seus conhecimentos geográficos, assinale a alternativa que indica o estado destacado no mapa e o tipo de clima que favorece a grande ocorrência de incêndios florestais em determinada época do ano.

- a) Flórida; clima subtropical, com verões quentes e secos e invernos amenos.
- b) Texas; clima tropical, com invernos secos e verões quentes e chuvosos.
- c) Oregon; clima mediterrâneo, com invernos secos e verões chuvosos.
- d) Nevada; clima temperado, com invernos rigorosos e verões extremamente secos e quentes.
- e) Califórnia; clima mediterrâneo, com verões quentes e secos e invernos chuvosos.

Exercício 117

(Upf 2018) Relacione os países assinalados no mapa às informações que seguem.



(Disponível em: <https://www.google.com.br/search?q=mapa+da+america+do+sul&sa=X&tbn=isch&img>. Acesso em 23 ago. 2017)

() É banhado pelo mar das Antilhas. Um dos principais produtores mundiais de petróleo, vive uma severa crise de ordem

econômica, política, social e institucional, que evidencia privação de liberdade, protestos, desabastecimento.

- () Seu relevo é marcado por grandes elevações a oeste. Um dos países fundadores do Mercosul, sediou, recentemente (julho/2017), reunião desse organismo, na qual o Brasil assumiu a presidência temporária do Mercosul.
- () Grande produtor de café, esmeraldas e carvão mineral. Após um período de mais de meio século de conflito armado, iniciou recentemente um acordo de paz com poderoso grupo armado, visando pôr fim à guerrilha interna.
- () Tem forte influência indígena, na composição étnica e nos idiomas falados. O Acre pertenceu a esse país até o início do século XX. O Brasil é comprador de gás natural desse país. O seu IDH é dos mais baixos entre os sul-americanos.

A sequência **correta** de preenchimento dos parênteses, de cima para baixo, é

- a) 5 – 2 – 3 – 4.
- b) 5 – 1 – 2 – 4.
- c) 6 – 1 – 5 – 3.
- d) 4 – 2 – 5 – 3.
- e) 1 – 6 – 3 – 5.

Exercício 118

(Fgv 2016) No continente europeu, a lógica das economias nacionais presidiu a implantação da atividade industrial. Ao longo do século XIX, grandes aglomerações industriais se desenvolveram, na maioria das vezes, polarizadas pela presença de complexos siderúrgicos. (...) A integração econômica definida pelo Tratado de Maastricht promoveu uma profunda reestruturação espacial da indústria europeia.

(Adaptado de TERRA, Lygia e outros. *Conexões*. Ed. Moderna. São Paulo, 2010).

Sobre as mudanças observadas na organização espacial da indústria europeia, analise as afirmações a seguir.

- I. Os complexos siderúrgicos tendem a se deslocar para as áreas que enfrentam um processo de desindustrialização, com o objetivo de valorizar seus fatores internos.
- II. As empresas tendem a traçar novas estratégias locais, visando a atender às necessidades de um mercado consumidor multinacional.
- III. As empresas de capital intensivo surgidas nas últimas décadas tendem a renovar as bacias carboníferas, graças às possibilidades de geração de energia renovável.

Está correto apenas o que se afirma em

- a) I.
- b) III.
- c) I e II.
- d) II.
- e) II e III.

Exercício 119

(G1 - ifce 2016) Sobre a população do continente europeu, é **correto** afirmar que

- a) os vazios demográficos ocorrem no sul da Europa, fator provocado pelo clima.
- b) está concentrada principalmente na parte setentrional do continente.
- c) as regiões mais povoadas do continente se encontram na Europa centro-oriental.
- d) apesar de a Rússia ser o país mais populoso, apresenta uma população relativa baixa, resultado do enorme território.
- e) o país que possui a mais alta população absoluta é a Holanda.

Exercício 120

(G1 - ifba 2018) Leia o trecho da reportagem que segue:

União Europeia e Grécia viram as costas para refugiados que chegam às Ilhas Gregas

Milhares de refugiados chegando às ilhas de Aegean, na Grécia, estão sendo recepcionados por um sistema disfuncional e condições de vida desumanas, de acordo com a organização humanitária internacional Médicos Sem Fronteiras (MSF). A Grécia e a União Europeia (EU) precisam melhorar urgentemente as condições de vida para os refugiados, imigrantes e requerentes de asilo, e oferecer assistência médica adequada e proteção. De acordo com autoridades, mais de 14 mil pessoas, das quais mais de 90% fugiram da guerra na Síria, submeteram-se a jornadas perigosas em pequenas embarcações no mar Aegean, da Turquia às ilhas Dodecanese, em busca de proteção. Com poucas instalações adequadas para recebê-los, muitos refugiados viram-se forçados a dormir no frio, na chuva e ao relento ou em postos policiais superlotados, por vezes por dias seguidos, enquanto aguardavam para serem transferidos para a principal ilha da Grécia.

Médicos Sem Fronteiras. Disponível em: <<http://www.msf.org.br/noticias/uniao-europeia-e-grecia-viram-costas-para-refugiados-que-chegam-ilhas-gregas>>. Acessado em 31/07/2017.

A questão da imigração síria tornou-se um dos temas mais fortes e polêmicos dentro e fora da União Europeia, expondo não somente a devastadora crise humanitária no pequeno país do Oriente Médio, mas também a crise de humanidade que vive a própria Europa em meio ao crescimento da xenofobia.

Sobre esse quadro internacional e suas repercussões, analise as afirmações que seguem:

- I. A crise na Síria, desencadeada a partir da desestabilização do governo do ditador Bashar Al Assad por grupos rebeldes, agravou-se ainda mais com o surgimento do grupo extremista Estado Islâmico.
- II. Enquanto alguns países europeus veem nos sírios a possibilidade de ampliar a sua força de trabalho, outros temem o aumento da vulnerabilidade do continente à ataques de extremistas islâmicos.
- III. A maioria dos países-membros da União Europeia é favorável à ampliação do abrigo aos imigrantes, desde que os mesmos

aceitem algumas condições, como continuar os estudos e se converter ao cristianismo.

IV. Interesses conflitantes de outros países fora da União Europeia, como Estados Unidos e Rússia, dificultam o combate ao Estado Islâmico e a estabilização política e social da Síria.

Com base em seus conhecimentos e interpretação das questões levantadas, marque a alternativa que aponta para as afirmações corretas:

- a) I e II, apenas
- b) II e III apenas
- c) I, III e IV
- d) I, II e III
- e) I, II e IV

Exercício 121

(Uece 2017) Observe o seguinte enunciado:

“Naquele ano, em 2014, a família viajou de férias para a Turquia, e o grande assunto ali era a guerra civil na vizinha Síria. Naquele verão, o foco estava sobre um homem com aparência austera falando para as massas: Abu Bakr al-Baghdadi, que se proclamava líder, ou califa, de um grupo chamado ‘Estado Islâmico’. Para muitos, o surgimento desse grupo era apenas mais um capítulo de uma guerra civil que parecia interminável”.

Meu filho me deu um colar de diamantes e depois se juntou ao Estado Islâmico. Por Dominic Casciani, BBC.
Disponível em: <http://g1.globo.com/mundo/noticia/meufilho-me-deu-um-colar-de-diamantes-e-depois-se-juntouao-estado-islamico.ghtml>

Os grupos extremistas ainda espalham o horror da violência e da intolerância pelo mundo. Atente ao que se diz a seguir sobre esses grupos:

- I. O Estado Islâmico possui o mesmo ideal de Guerra Santa de outros terroristas, como a Al-Qaeda, tendo dentre os seus objetivos a expansão do modelo teocrático radical islâmico pelo mundo.
- II. O Boko Haram é um grupo terrorista que tem forte atuação na Nigéria e regiões vizinhas, destacando-se como um dos grupos extremistas mais violentos.
- III. O Estado de Israel considera o Hamas como sendo uma organização terrorista e um braço político do Islã.

Está correto o que se afirma em

- a) I e II apenas.
- b) II e III apenas.
- c) I e III apenas.
- d) I, II e III.

Exercício 122

(Upe-ssa 3 2018) Observe a imagem de satélite a seguir:



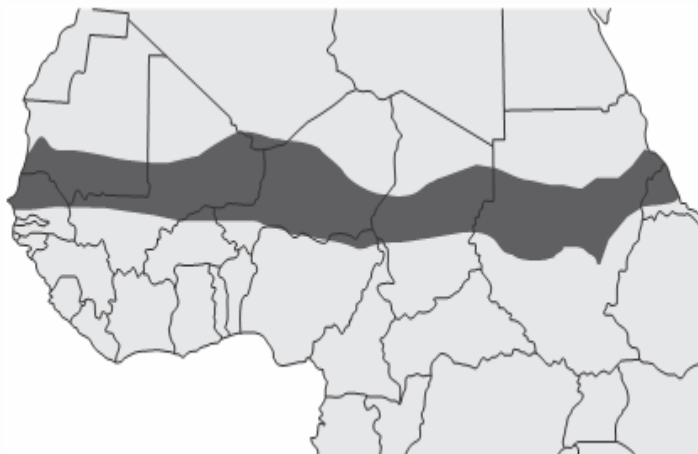
Fonte: <http://www.geografiaparatodos.com.br/>

A área apresentada corresponde à seguinte zona térmica da Terra:

- a) Polar Norte.
- b) Polar Sul.
- c) Temperada Norte.
- d) Tropical Setentrional.
- e) Temperada Sul.

Exercício 123

(Mackenzie 2017)



Fonte do mapa <http://crisisgroup.org/africa>

A respeito da área destacada no mapa da África Setentrional, julgue as afirmações a seguir:

- I. Corresponde à região do Sahel. Apresenta baixos níveis pluviométricos anuais e vegetações típicas de Estepes.
- II. Essa extensa faixa territorial enfrenta conflitos tribais históricos e pobreza extrema. As populações locais dedicam-se à economia primário-extrativista e agropecuária de subsistência.
- III. Atualmente passa por um processo de desertificação devido ao mau uso do solo, prolongadas estiagens e ao intenso desmatamento.
- IV. Nas últimas décadas, é possível verificar considerável recuperação nos índices de Desenvolvimento Humano nos países

que compõem o Chifre da África como: Etiópia, Somália, Chade, Gabão, Malauí e Djibuti.

Estão corretas

- a) I e II, apenas.
- b) II e III, apenas.
- c) III e IV, apenas.
- d) I, II e III, apenas.
- e) I, II, III e IV.

Exercício 124

(Fatec 2015) O Japão é um dos países mais industrializados do mundo. Esse país passou por momentos de abertura e fechamento de suas fronteiras, chegando a ficar quase 200 anos isolado. Quando reabriu os portos, no século XIX, teve início o seu processo de industrialização, que contou com importantes investimentos estatais em educação, preparando mão de obra barata e disciplinada. Os investimentos também ocorreram no setor de infraestrutura, principalmente em portos e vias de circulação.

Outro fator do processo de industrialização do Japão foram os *zaibatsu*, que tinham grande influência sobre o governo e obtinham diversas vantagens.

Sobre os *zaibatsu*, podemos afirmar corretamente que eram

- a) Tigres Asiáticos que alavancaram a industrialização do Japão no pós Primeira Guerra Mundial até a década de 1970, quando migraram para a Coreia do Sul, Taiwan, Cingapura e Hong Kong.
- b) empresas europeias de grande porte que, para conseguir maiores lucros, dominaram o processo de industrialização do Japão, desde a assinatura do Tratado de Kanagawa até a década de 1960.
- c) grupos industriais e financeiros que se organizaram como conglomerados, atingindo grande tamanho e poder na economia japonesa entre a Era Meiji (1868-1912) e o final da Segunda Guerra Mundial.
- d) pequenos industriais que foram favorecidos com a instituição da “lei das indústrias”, durante o governo do Conselho Supremo das Potências Aliadas, comandado pelo general Douglas MacArthur, que durou até 1952.
- e) membros do partido nacionalista japonês que incentivaram o desenvolvimento endógeno da economia ao assinar, no fim do século XIX, a emenda Sakoku, que proibia a instalação de empresas estrangeiras no país.

Exercício 125

(Espcex (Aman) 2017) “A África libertou-se do jugo colonial, mas ainda não conseguiu erguer *Estados nacionais verdadeiros*. Esse é o desafio político que as sociedades africanas enfrentam atualmente. Sua superação é condição indispensável para a estabilidade política e o desenvolvimento econômico. [...]”

Magnoli, Demétrio. *Geografia para o Ensino Médio*, 2012, p. 652-653, grifo nosso.

As dificuldades que muitos países africanos enfrentam para se constituírem em “Estados nacionais verdadeiros”, estão relacionadas

I. às secas prolongadas e às inundações, que, por si só, já explicam as frequentes crises de abastecimento alimentar, que desencadeiam crises políticas e econômicas e solapam o Estado nacional.

II. à incapacidade que o governo de diversos países tem em tributar o conjunto da sociedade, e, em certos casos, à dificuldade de controlar de fato as vastas regiões do território do país, por estarem sob o domínio de milícias armadas local que ignoram o poder central.

III. à influência do neocolonialismo, que, em muitos casos, grandes potências, ainda exercem sobre Estados africanos, por meio da ajuda financeira, da cooperação militar e, sobretudo, por meio de tratados especiais de comércio, que desfavorecem a economia nacional.

IV. à incapacidade dos nativos africanos de respeitarem as diferenças etnorreligiosas entre si e de se autogovernarem sem a presença política dos colonizadores europeus, apesar da existência, atualmente, de um país capaz de assumir o papel de liderança política no continente, como é o caso de Angola.

V. ao descompasso entre as territorialidades produzidas pela colonização e as territorialidades locais no contexto interno dos países africanos, que definiu fronteiras que não necessariamente mantêm relação com a distribuição étnica ou linguística de suas populações.

Assinale a alternativa que apresenta todas as afirmativas corretas.

- a) I, II e III
- b) I, III e IV
- c) II, III e V
- d) I, IV e V
- e) II, IV e V

Exercício 126

(Ufrgs 2002) A República da Irlanda e a Irlanda do Norte estão localizadas na ilha da Irlanda, situada a oeste da ilha da Grã-Bretanha. A Irlanda do Norte é citada com frequência na mídia internacional devido à violência que envolve paramilitares unionistas e grupos armados católicos.

Associe os territórios citados na coluna 1 com as cinco características da coluna 2.

Coluna 1

- 1 - República da Irlanda
- 2 - Irlanda do Norte

Coluna 2

- () É conhecida por Ulster.
- () Tem maioria católica.
- () Pertence ao Reino Unido.
- () Tem maioria protestante.
- () É conhecida por Eire.

A sequência numérica correta, na coluna da direita, de cima para baixo, é

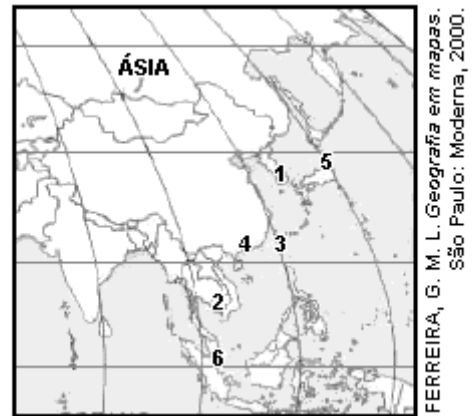
- a) 1 - 1 - 2 - 2 - 1.
- b) 1 - 2 - 1 - 1 - 2.

- c) 2 - 1 - 2 - 2 - 1.
- d) 2 - 2 - 1 - 1 - 1.
- e) 2 - 1 - 1 - 2 - 1.

Exercício 127

(Ufpel 2006) Os países Coreia do Sul, Cingapura e Taiwan, além da Região Administrativa de Hong Kong na China, compõem os chamados "Tigres Asiáticos". Coreia do Sul e Taiwan possuem uma economia diversificada. Hong Kong, por sua vez, apresenta uma base econômica constituída pelo setor portuário e pelos bancos. Já Cingapura possui um dos portos mais movimentados do mundo e um forte setor financeiro, além de, um importante setor de indústrias petroquímicas.

Observe o mapa a seguir:

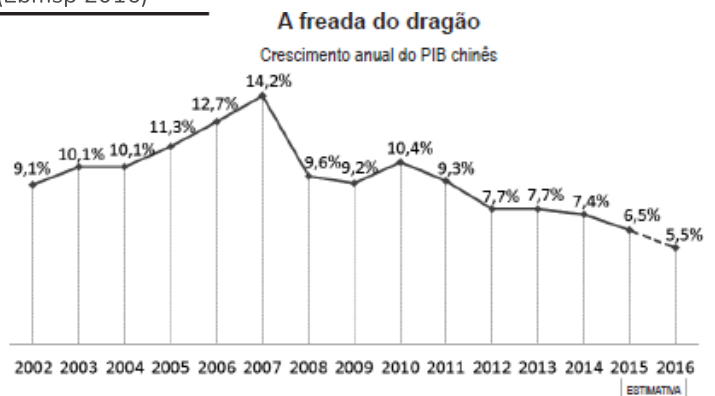


Com base nos textos acima e em seus conhecimentos, assinale a alternativa que apresenta a numeração correta em relação à localização dos Tigres Asiáticos

- a) Coreia do Sul (1), Taiwan (3), Hong Kong (4) e Cingapura (6).
- b) Coreia do Sul (1), Taiwan (2), Hong Kong (3) e Cingapura (4).
- c) Coreia do Sul (5), Taiwan (6), Hong Kong (2) e Cingapura (1).
- d) Coreia do Sul (3), Taiwan (4), Hong Kong (2) e Cingapura (1).
- e) Coreia do Sul (5), Taiwan (6), Hong Kong (4) e Cingapura (6).

Exercício 128

(Ebmsp 2016)



Na manhã de segunda-feira, 31 de agosto de 2015, sem nenhuma causa específica evidente, as ações chinesas entraram em parafuso. No fim do dia, a Bolsa de Xangai despencou 8,5%. A queda repercutiu em todo o mundo. Na Europa, nos Estados Unidos e no Brasil, o princípio de pânico desencadeou um movimento de manada na venda apressada de ações. Há algumas semanas, os sinais de uma freada mais acentuada do

que o previsto na economia vinham causando oscilações intensas no mercado financeiro chinês.

SAKATE, Marcelo. A China assusta. *Veja*. São Paulo: Abril, e. 2441, a. 48, n.35, 2 set. 2015, p. 62-67. Adaptado.

Considerando-se as informações do texto, o gráfico e os conhecimentos sobre a economia chinesa e o mercado mundial, pode-se afirmar:

- a) A valorização da moeda chinesa e a falta de transparência na divulgação de informações sobre a economia indicam que a China vive uma crise sem precedência.
- b) A importância da China pode ser explicada pela sua economia já que é a maior investidora em pesquisa e desenvolvimento.
- c) O alto poder aquisitivo da população, tanto urbana quanto rural, e o grande mercado interno explicam por que a China é a locomotiva da economia mundial.
- d) Os limitados recursos naturais e o aumento nos preços das commodities no mercado internacional explicam a atual crise no sistema financeiro.
- e) A insegurança sobre a situação da economia chinesa potencializa as incertezas tanto dos investidores quanto do mundo das finanças, já que significa risco e volatilidade.

Exercício 129

(Fgv 2018) O Parlamento da Catalunha aprovou nesta quarta-feira (06.09.17) a convocação de um plebiscito para 1º de outubro de 2017, apesar de que o Tribunal Constitucional da Espanha deva derrubar a medida. A expectativa é de nova retaliação das autoridades centrais espanholas aos políticos catalães.

(www.folha.uol.com.br. Adaptado)

Considerando conhecimentos acerca das questões políticas europeias, é correto afirmar que o plebiscito convocado na Catalunha objetiva aprovar sua

- a) independência do País Basco.
- b) saída da União Europeia.
- c) unificação à Espanha.
- d) independência da Espanha.
- e) unificação ao País Basco.

Exercício 130

(Ufrgs 2005) A partir de 2004, o Brasil passou a integrar a missão de paz da Organização das Nações Unidas (ONU) no Haiti, uma das nações mais pobres do planeta. Em relação a esse país, são feitas as seguintes afirmações:

- I. O Haiti ocupa parte da ilha de Hispaniola, no mar do Caribe, e faz fronteira com a República Dominicana.
- II. Os violentos confrontos que ocorreram no país em 2004 estão associados à declaração de sua independência em relação à França, obtida recentemente.
- III. Apesar de seu Índice de Desenvolvimento Humano (IDH) ser baixo, ele é superior à média dos países da América Central.

Quais estão corretas?

- a) Apenas I.

- b) Apenas II.
- c) Apenas III.
- d) Apenas I e II.
- e) Apenas I e III.

Exercício 131

(G1 - cps 2019) A República do Suriname localiza-se no norte da América do Sul e faz fronteira com a Guiana, com a Guiana Francesa e com o Brasil. Conta com uma área de aproximadamente 163.820 km² e uma população de aproximadamente 560.000 habitantes. Sua capital é a cidade de Paramaribo.

Sobre esse país é correto afirmar que

- a) foi a única colônia europeia na América a não adotar mão de obra escrava.
- b) era colônia holandesa e tornou-se um país independente em meados da década de 1970.
- c) sua língua oficial é o inglês, mas o espanhol é bastante utilizado, assim como alguns dialetos locais.
- d) é banhado pelo Oceano Pacífico e seu relevo é marcado pela existência da Cordilheira dos Andes, que corta o país de norte a sul.
- e) seu principal produto de exportação é a banana, o que torna sua economia estável devido às pequenas variações no mercado de *commodities*.

Exercício 132

(Unesp 2017) Depois de autorizar a expansão dos assentamentos em Jerusalém Oriental, Israel aprovou a construção de 2.500 casas na Cisjordânia.

www.brasil.elpais.com, 24.01.2017. Adaptado.

O Conselho de Segurança da ONU exigiu que Israel parasse de construir casas na Cisjordânia, incluindo Jerusalém Oriental. O argumento é que os assentamentos "colocam em risco a viabilidade da solução de dois Estados".

www.cartacapital.com.br, 02.02.2017. Adaptado.

O atrito entre Israel e o Conselho de Segurança da ONU deve-se ao fato de

- a) Cisjordânia e Jerusalém Oriental serem territórios palestinos tomados por Israel na Guerra dos Seis Dias.
- b) Cisjordânia e Jerusalém Oriental estabelecerem planos de ocupação com ideais socialistas no Oriente Médio.
- c) Israel ter mantido a ocupação dos territórios, em desrespeito ao acordo de paz de Yom Kipur.
- d) Israel consolidar a segregação entre hutus e tutsis, com a criação de assentamentos em regiões periféricas.
- e) Cisjordânia e Jerusalém Oriental receberem refugiados ossétios, apesar do apoio israelense aos georgianos.

Exercício 133

(G1 - ifce 2016) Analise os itens a seguir sobre o desenvolvimento industrial e econômico da América Latina.

- I. As multinacionais ingressaram na América Latina a partir do século XX devido às condições favoráveis como mão de obra, matéria-prima, mercado consumidor e isenção de impostos.

II. As multinacionais dominam vários ramos industriais como agropecuário, mineralógico, siderúrgico, metalúrgico e eletroeletrônico. Esse processo favoreceu o surgimento de empresas genuinamente nacionais.

III. Os países latinos possuem, em sua maioria, dívidas contraídas no processo de descolonização. Os mesmos encontram dificuldades em pagar tais dívidas, principalmente porque são produtores primários.

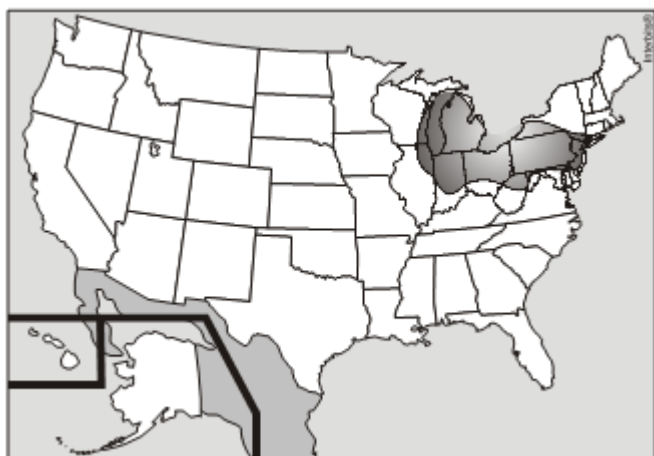
IV. A maioria dos países latinos sempre conviveu com inflação, que corresponde a aumentos constantes nos produtos e taxas de juros bastante elevadas.

Sobre os itens supracitados, é correto afirmar-se que

- a) I, II e IV são verdadeiros.
- b) todos são verdadeiros.
- c) I, II e III são verdadeiros.
- d) apenas II e IV são verdadeiros.
- e) I, III e IV são verdadeiros.

Exercício 134

(Mackenzie 2011)



Considerando o mapa dos EUA, assinale a alternativa que corresponde à melhor descrição para a área destacada no mapa.

- a) Trata-se do Cinturão da Ferrugem americano, região dos EUA de economia baseada na indústria pesada e de manufatura, cujo nome é uma ironia referente à degradação da área e ao grande número de galpões industriais abandonados.
- b) Refere-se à Cotton belt, especializada no cultivo do algodão, de ocorrência tradicional no sul, por ser uma região mais quente.
- c) Trata-se do Vale do Silício, que abrange várias cidades do estado da Califórnia e sul de São Francisco, estendendo-se até os subúrbios de San José.
- d) A região é notória pelo cultivo da laranja, mas também se destaca no turismo. Apresenta clima subtropical com temperaturas mais altas do que o padrão nacional. Possui uma sofisticada infraestrutura e um grande número de parques de diversões temáticos que atraem visitantes de todo o país e de outros lugares do mundo.
- e) A indústria dessa região tem a peculiaridade de se destacar em setores de altíssima tecnologia, sobretudo, aeroespacial e de computação. Está muito próxima ao Canadá e tem, como destaque, a cidade de Seattle.

Exercício 135

<https://www.biologiatotal.com.br/medio/geografia/exercicios/volta-ao-mundo/ex.-1-uerj-2018-japao-china-e-tigres-asiaticos>

(Unisc 2017) Uma polêmica na internet envolvendo a defesa da imigração de “*jihadistas*” para o Brasil levou o Ministério da Justiça a determinar nesta sexta-feira (06/11/2015) o afastamento da empresa terceirizada, responsável pela moderação dos comentários publicados pela pasta em redes sociais, informou o governo federal.

O comentário foi feito em um *post* da campanha Imigração, lançada há cerca de um mês pelo Ministério da Justiça para combater a xenofobia e defender a tolerância e o respeito dos brasileiros em relação aos imigrantes que têm chegado ao país.

Em resposta a uma mensagem publicada por um internauta na página do Ministério no *Facebook*, a empresa especializada em mídias sociais que fazia a moderação do conteúdo publicou que os *jihadistas*, “assim como qualquer outro povo”, vêm ao Brasil para “trazer mais progresso ao país”.

<http://g1.globo.com/politica/noticia/2015/11/ministerio-da-justica-afasta-empresa-apos-polemica-so-re-jihadistas.html>

Com relação ao exposto, é **incorreto** afirmar que

- a) *jihadistas* são grupos radicais que lutam para instalar o Estado Islâmico na Síria e em outros países muçulmanos.
- b) *jihadistas* entendem que a luta violenta é necessária para erradicar obstáculos para a restauração da lei de Deus na Terra e para defender a comunidade muçulmana, conhecida como *umma*, contra infiéis e apóstatas (pessoas que deixaram a religião).
- c) os *jihadistas* dividem o mundo em “reino do islã” (dar al-Islam), terras sob a lei muçulmana, e o “reino da guerra” (dar al-harb), terras que não seguem a lei muçulmana e onde, em determinadas circunstâncias, a guerra em defesa da fé pode ser aprovada.
- d) grupos *jihadistas* buscam estabelecer Estados Islâmicos em seus respectivos países de origem, como o Boko Haram na Nigéria e o Movimento Islâmico do Uzbequistão.
- e) o Estado Islâmico prevê a total separação entre religião (o islamismo) e estado (Estado Islâmico).

Exercício 136

(Fmc 2020) Considere o texto sobre um projeto chinês.

China e o projeto estratégico mais importante da história

O projeto da China, denominado “Iniciativa do Cinturão e a Rota da Seda”, é o plano mais ambicioso em matéria de integração econômica e comercial que jamais se concebeu na história da humanidade. Esta magna obra, no imaginário chinês, se assemelha e se lhe dá a mesma dimensão da Grande Muralha e do Grande Canal que muitos séculos depois de construídos continuam sendo expressão do esplendor e da majestade da civilização e cultura chinesa. A obra é composta pelo Cinturão Econômico da Rota da Seda Terrestre e da Rota da Seda Marítima do século XXI. A sustentação histórica do projeto está alicerçada no espírito da antiga Rota da Seda, que permitiu promover “a paz e a cooperação, a abertura e a inclusão, o aprendizado e benefícios mútuos” para todos os países e, por isso, deve ser continuado no futuro através de uma moderna rede transnacional que conecte a China com o mundo, mediante o desenvolvimento em comum de todos os países envolvidos.

Disponível em:

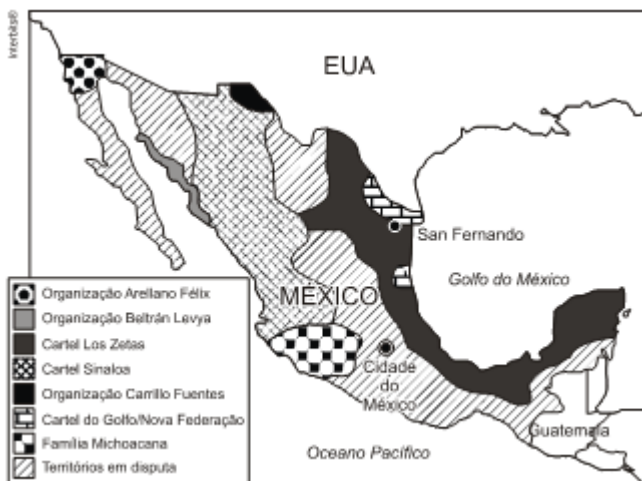
<https://dialogosdosul.operamundi.uol.com.br/china/52482/china-e-o-projeto-estrategico-mais-importante-da-historia>. Acesso em: 17 out. 2019.

O principal objetivo desse projeto chinês é

- a) substituir o Japão no Acordo Transpacífico de Cooperação Econômica.
- b) fortalecer a dominação chinesa sobre os países islâmicos da Ásia Oriental.
- c) organizar um espaço que permita a comunicação direta entre China e Europa.
- d) criar uma plataforma de comércio que fortaleça a hegemonia dos Estados Unidos.
- e) reinserir a seda como insumo principal da indústria têxtil mundial.

Exercício 137

(Espm 2011) A violência no México tem levado alguns analistas a considerá-lo um “narco-Estado” e em função dessa realidade, Cidade Juarez já é considerada “o lugar mais perigoso do mundo” segundo estudos. Com base nessa informação, no mapa abaixo sobre os principais cartéis da droga e em seus conhecimentos, é possível afirmar que:



- a) O cartel La Familia Michoacana atua junto à área de maior prospecção de petróleo mexicano.
- b) A organização Arellano Felix atua junto ao principal entreposto migratório do país, a cidade de Tijuana.
- c) O cartel do Golfo atua junto ao maior polo industrial mexicano.
- d) A organização Carrillo Fuentes atua junto à área de cultivo de cana-de-açúcar.
- e) O cartel Zetas atua junto às áreas mais inóspitas do México.

Exercício 138

(Fgv 2015) Por meio das doze zonas francas, como a Zonamérica, o país ganhou competitividade em relação aos dois vizinhos da fronteira. As vantagens fiscais levaram multinacionais da Europa, dos EUA e da Ásia a colocarem nessas zonas francas seus pontos de escoamento para os demais países da região.

Essas empresas encontraram nesse país uma alternativa às rígidas restrições à importação na Argentina e aos gargalos portuários no Brasil, mesmo sendo o mercado brasileiro o principal cliente para a maioria.

Na Zonamérica só há empresas de serviços. O forte das atividades concentra-se nas áreas de logística, *call centers*,

tecnologia da informação e serviços financeiros.

Entre a longa lista de vantagens oferecidas pelo país, estão: elevado IDH, segurança, democracia, mão de obra bilíngue e qualificada, baixas posições em problemas como corrupção e liberdade no uso de moedas diferentes.

(Valor Econômico, 23.08. 2014. Adaptado)

O texto refere-se

- a) à Venezuela.
- b) à Colômbia.
- c) ao Peru.
- d) ao Paraguai.
- e) ao Uruguai.

Exercício 139

(Uepb 2013) Associe a Coluna 1, em que estão indicadas algumas das montanhas mais importantes da Europa, às suas localizações e algumas características, descritas na Coluna 2.

Coluna 1

- (1) Pirineus
- (2) Urais
- (3) Alpes
- (4) Cáucaso
- (5) Cárpatos

Coluna 2

- () Montanhas de formação recente, que ficam entre o mar Negro e o mar Cáspio, abrigam climas responsáveis pela presença de florestas, mas também de estepes e povos étnica e culturalmente muito diversos.
- () Cordilheira considerada uma fronteira natural entre a Península Ibérica e a França, na qual se encontra localizado o pequeno principado de Andorra.
- () Dobramentos modernos de maior destaque na Europa, ocupam a região central deste continente, com grande destaque nos territórios suíço e austríaco.
- () Relevo de formação recente que se alonga pelos territórios dos países denominados de leste europeu, tais como Polônia, Eslováquia, Hungria e Romênia.
- () Maciço antigo, localizado na Rússia, considerado como a fronteira física entre a Europa e a Ásia.

Assinale a sequência correta da enumeração.

- a) 1 – 5 – 2 – 4 – 3
- b) 5 – 1 – 3 – 4 – 2
- c) 4 – 2 – 3 – 1 – 5
- d) 2 – 3 – 4 – 5 – 1
- e) 4 – 1 – 3 – 5 – 2

Exercício 140

(Espcex (Aman) 2020) China e Índia são dois gigantes que possuem inúmeras semelhanças, como, por exemplo, o fato de serem os países mais populosos do mundo e fazerem parte dos chamados BRICS. Apesar disso, guardam inúmeras características que os diferenciam entre si.

Sobre as diferenças entre esses dois gigantes, podemos citar os fatos de que, enquanto:

I. a Índia baseia sua matriz energética no petróleo e na energia nuclear, a China prioriza o gás natural e o carvão mineral.

II. a China implantou um rígido programa de controle de natalidade, a Índia não tem demonstrado a mesma preocupação ao longo das últimas décadas.

III. a China dispõe de uma maior diversidade cultural, a Índia possui uma cultura milenar, o que lhe garante maior homogeneidade étnica e linguística.

IV. o modelo econômico chinês privilegiou a produção industrial, a Índia está se convertendo numa economia de serviços, na qual se destacam setores como tecnologia da informação e biotecnologia.

Assinale a alternativa que apresenta todas as afirmativas corretas, dentre as listadas acima.

- a) I e II
- b) I e III
- c) II e III
- d) II e IV
- e) I e IV

Exercício 141

(Unioeste 2019) A Copa do Mundo de 2018 despertou a atenção para o país-sede, a Rússia, de dimensão continental e que apresenta inúmeros aspectos geográficos instigantes. Sobre a geografia russa e temas relacionados, analise as proposições abaixo:

I. A Rússia é o maior país do mundo em dimensão territorial. Em função da área que abrange, apresenta diversos tipos de vegetação, tais como a tundra, a floresta boreal, as estepes, dentre outros.

II. A ampla faixa latitudinal que a Rússia ocupa resulta em diferentes fusos horários, em que se considera uma hora a cada 15° de latitude. Dessa forma, enquanto são 8 horas da manhã em Moscou, no extremo norte serão 9 horas do mesmo dia.

III. O Volga é um dos mais importantes rios da Rússia e, assim como outros sistemas fluviais do mundo, é utilizado para diversos fins tais como navegação, geração de energia elétrica e também sofre com diferentes tipos de impactos ambientais.

IV. O extenso território da Rússia favorece a diversidade das atividades agropecuárias. No extremo norte do país, onde há a vegetação de tundra, ocorrem solos férteis em função do degelo e da presença de matéria orgânica decomposta, o que faz dessa região a principal produtora de grãos.

V. A Rússia é um país que possui províncias ricas em petróleo e gás. A maior parte dos oleodutos e gasodutos estão na parte ocidental e abastecem a Rússia assim como outros países da Europa.

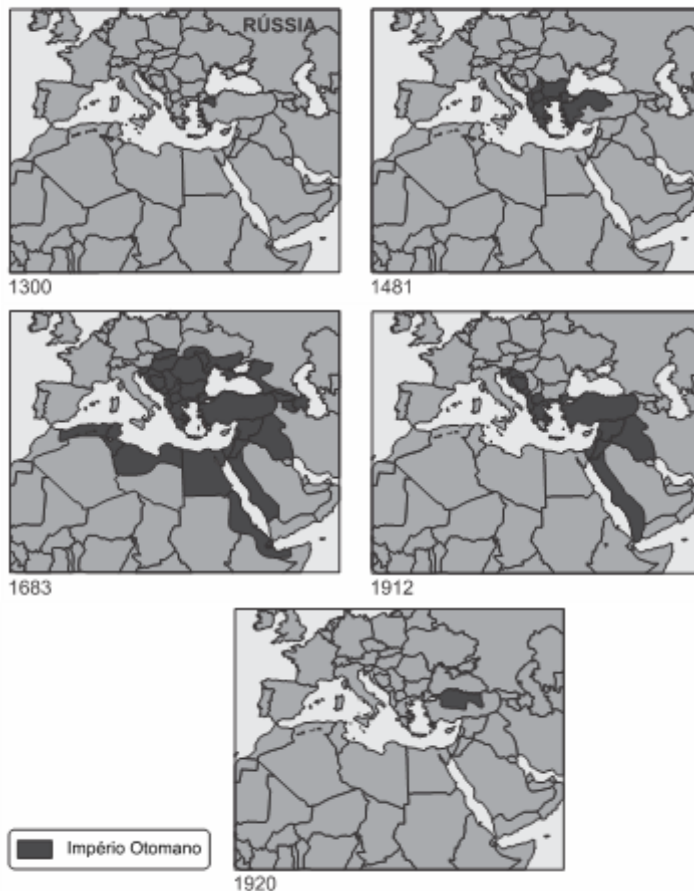
Sobre os enunciados acima, assinale a alternativa que apresente os itens CORRETOS.

- a) Estão corretas as alternativas I, III e V.
- b) Estão corretas as alternativas III e IV.
- c) Estão corretas as alternativas I, II e III.
- d) Estão corretas as alternativas I, II e V.
- e) Estão corretas as alternativas II e IV.

Exercício 142

(Fgv 2016) Os mapas a seguir mostram, em destaque, a evolução do Império Otomano, que, ao se desfazer na década de 1910, permitiu o surgimento de algumas nações, enquanto outros territórios que lhe pertenciam passaram para o controle colonial de algumas nações imperialistas europeias. Alguns povos tentaram a independência e foram massacrados pelo exército turco. Em um desses massacres, morreram aproximadamente 1,5 milhão de pessoas.

Evolução do Império Otomano



(Folha de S.Paulo, 24 abr. 2015)

Em 2015, comemorou-se o centenário de um desses massacres, que se refere ao povo

- a) russo, em função da Guerra da Crimeia.
- b) palestino, que desejava criar seu país no atual Estado de Israel.
- c) curdo, que lutava por sua independência da Turquia.
- d) armênio, que acabou constituindo seu país dentro da antiga URSS.
- e) checheno, que desejava se integrar à antiga URSS.

Exercício 143

(G1 - ifce 2016) Sobre a economia latino-americana, leia atentamente os itens abaixo.

I. Os países latino-americanos mais ricos são Brasil, México, Peru e Venezuela. Considerados emergentes, a economia destes países corresponde a, aproximadamente, _____ do PIB dos países da América Latina.

II. Os países latino-americanos são países dependentes da exportação de commodities agrícolas e minerais. Brasil, Argentina, México e Chile se destacam também na produção e exportação de manufaturados, pois possuem uma boa base industrial.

III. Nos demais países latino-americanos, principalmente da América Central, predominam indústrias de beneficiamento de produtos primários para exportação.

IV. Um dos fatores que criam sérias dificuldades ao desenvolvimento econômico e à integração social da América Latina é a relativa carência de vias de transporte em boas condições de uso.

Marque a alternativa que contém os itens verdadeiros.

- a) Somente II, III e IV.
- b) Somente I e III.
- c) Somente I, II e IV.
- d) Somente I, III e IV.
- e) I, II, III e IV.

Exercício 144

(Ebmsp 2017) Durante décadas, do ponto de vista ideológico, na América Latina e no mundo, existiam duas opções que sintetizavam esquerda e direita. Neste contexto, Cuba implantou o Socialismo, enquanto outros países consolidavam o Capitalismo. Entretanto, às vezes, a sociedade anda mais depressa do que ideias estabelecidas.

Sobre essa realidade e suas implicações, pode-se afirmar:

- a) A globalização e o neoliberalismo passaram a ser plataforma da esquerda populista, representando um avanço na organização do espaço geográfico mundial.
- b) O eurocentrismo intensificou-se e a criação do euro impôs ao mundo a moeda mais valorizada no mercado internacional.
- c) Angela Merkel, que foi caricaturada como nazista, no auge da crise da Grécia, hoje, por ter aberto as portas da Alemanha para grande parte dos refugiados e imigrantes, virou inimiga da direita.
- d) Vladimir Putin, partindo do princípio de que é inimigo dos Estados Unidos, conquistou a confiança da sociedade mundial, tornando-se, atualmente, o político com maior credibilidade.
- e) A esquerda continua a acreditar em uma sociedade igualitária e, cada vez mais, o Socialismo é implantado na África e na América Latina.

Exercício 145

(Ufjf-pism 3 2015) Leia a história em quadrinhos abaixo.



MSF – Médicos Sem Fronteiras Disponível em: <<http://migre.me/ly9ejr>>. Acesso em: 7 set. 2014.

Esses quadrinhos, criados por Guy Delisle, retratam cenas do cotidiano de:

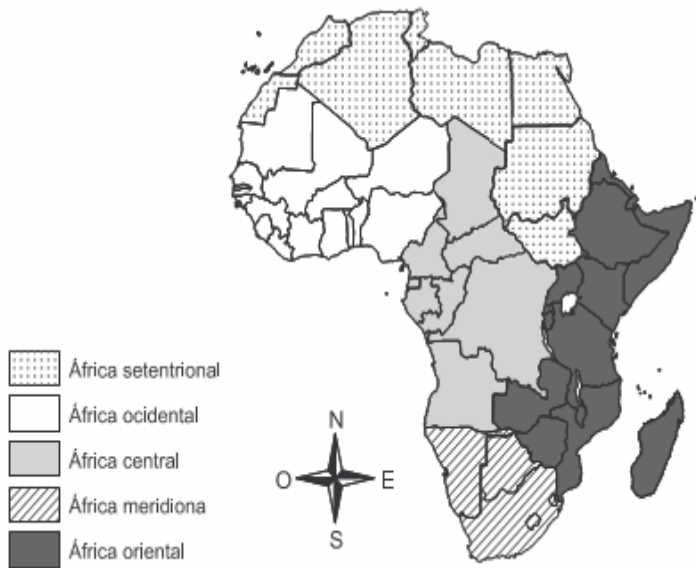
- a) Bagdá, onde o MSF presta socorro às vítimas da guerra civil.
- b) Cabul, que apresenta arquitetura típica de cidades europeias.
- c) Damasco, dominada por grupos fundamentalistas xintoístas.
- d) Istambul, dominada por uma grande população muçulmana.
- e) Jerusalém, onde o espaço terciário é diferenciado pela cultura.

Exercício 146

(Espm 2015) Leia a matéria e observe o mapa de regionalização africana.

Após décadas de um suposto controle do vírus ebola, em agosto passado, a Organização Mundial da Saúde (OMS) declarou a nova epidemia como uma emergência pública internacional. Este é o surto mais longo desde a sua descoberta, em 1976.

Revista *Espaço Aberto* USP, nº 167. USP. São Paulo, COSEAS? USP < 2014.



A região mais atingida pela epidemia retratada na matéria é:

- a) África setentrional.
- b) África ocidental.
- c) África central.
- d) África meridional.
- e) África oriental.

Exercício 147

(Fuvest 2022) A escassez global de semicondutores continua a ter estranhas repercussões, sobretudo do ponto de vista geopolítico. Há um ano as indústrias lutam para se abastecer com chips eletrônicos que equipam aparelhos do dia a dia, de computadores a torradeiras, passando pelas máquinas de lavar e consoles de videogames. O episódio atual, no entanto, surge em um contexto marcado por um questionamento geral a respeito dos benefícios da globalização e do declínio da atividade industrial no Ocidente.

Evgeny Morozov. "Devemos temer um colapso eletrônico?". *Le Monde Diplomatique Brasil*, agosto/2021. Adaptado.

O texto refere-se a uma questão geopolítica contemporânea: a disputa pelos semicondutores na indústria mundial. Sobre esse assunto, indique a alternativa correta:

- a) A produção de semicondutores está concentrada no sudeste asiático, nos países da 1ª e 2ª geração dos Tigres Asiáticos, tais como Taiwan, Coreia do Sul, Cingapura e Indonésia.
- b) Nos últimos 20 anos, EUA e Europa vêm perdendo destaque na produção de semicondutores em decorrência da queda acentuada de investimentos em pesquisa e inovação.
- c) A crise da falta de semicondutores revela um dos efeitos negativos da globalização: a independência da cadeia produtiva em escala mundial, pouco suscetível a desequilíbrios de oferta e demanda.
- d) A Nova Divisão Internacional do Trabalho indica o predomínio geoeconômico dos países do sudeste asiático, principais produtores de semicondutores, que têm ampliado, através da China, sua participação nesse setor desde sua democratização.
- e) A escassez de semicondutores é resultado de uma interrupção momentânea da produção, em especial no sudeste asiático,

devido à falta de matéria-prima, que é o início da cadeia produtiva.

Exercício 148

(Espm 2018) Tradicional área siderúrgica alemã que, após presenciar a exploração à exaustão de suas reservas carboníferas, está se convertendo em importante polo turístico. Trata-se do (da):

- a) Vale do Elba.
- b) Vale do Danúbio.
- c) Vale do Ruhr.
- d) Saxônia oriental.
- e) Região da Alsácia.

Exercício 149

(Uerj simulado 2018)



Capa da edição comemorativa de *A noviça rebelde*.

Um dos aspectos mais cativantes de *A noviça rebelde* é o fato, relativamente pouco conhecido, de que a história é baseada no que realmente aconteceu com a família von Trapp. É uma versão alterada, mas o conceito, o pano de fundo, está todo lá: uma noviça vai cuidar dos filhos de um aristocrata austríaco logo antes da guerra, se apaixona pelos filhos e pelo patriarca, eles se tornam cantores e saem da Áustria juntos, pois o patriarca, um oficial da marinha, não concorda com a anexação da Áustria pela Alemanha nazista, conhecida como Anschluss e ocorrida em 1938.

Adaptado de planocritico.com.

Na trama do filme *A noviça rebelde*, a fuga da família resulta de uma alteração geopolítica no continente europeu, mencionada no texto.

Essa alteração foi justificada pela Alemanha na época sob a seguinte alegação:

- a) limitação do espaço vital
- b) obtenção de matéria-prima
- c) submissão das raças inferiores
- d) integração dos povos germânicos

Exercício 150

(Fgv 2018) Observe a imagem.



“Eu vou construir para você um irmão”, diz uma bolha de pensamento ao lado do retrato de Trump, enquanto ele coloca sua mão em uma imagem de uma parede, composta por placas de concreto de 26 pés de altura. Devido às ambições do presidente Trump de construir um muro ao longo da fronteira entre os EUA e o México, o artista, então, considerou apropriado que Trump esteja presente no muro mais controverso do mundo – um exemplo para ele do tipo de muro fronteiro que quer construir.

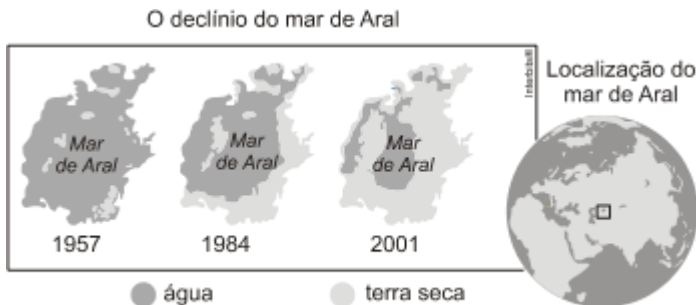
(www.washingtonpost.com. Adaptado)

A partir da imagem, do excerto e de conhecimentos sobre a geopolítica mundial, é correto afirmar que o “muro mais controverso do mundo” em que Trump foi retratado separa

- a) Israel da Síria.
- b) Egito de Gaza.
- c) Israel da Cisjordânia.
- d) Cisjordânia de Gaza.
- e) Líbano da Síria.

Exercício 151

(Unesp 2011)



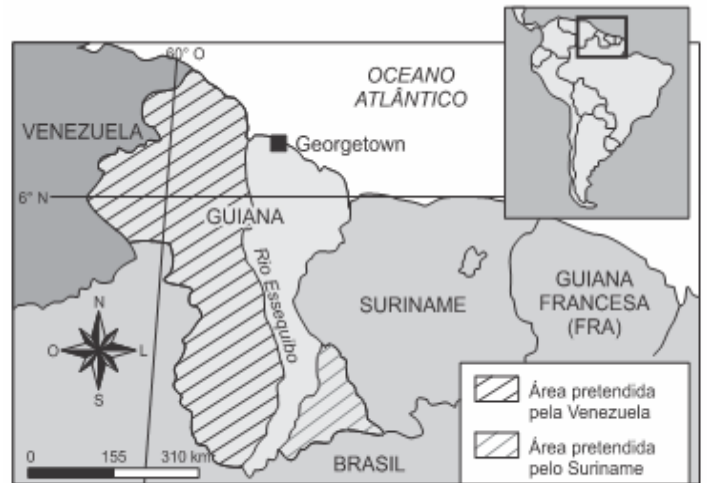
Desde 1957 o mar de Aral, localizado entre o Cazaquistão e o Uzbequistão, teve uma redução de 50% de área e de mais 66% de volume, em boa parte por causa do desvio dos rios Amu Darya e Syr Darya para prover

- a) a indústria pesada.
- b) o setor terciário.
- c) a irrigação de lavouras.

- d) a zona urbana.
- e) o complexo industrial.

Exercício 152

(G1 - cftmg 2018) O cartograma abaixo refere-se às fronteiras em litígio da América do Sul.



Fonte: ATLANTE geográfico metódico De Agostini 2015. Novara: Instituto Geográfico De Agostini, 2015. p. 165 (adaptado).

Nesse contexto, a situação geopolítica representada revela que existe

- a) desacordo na localização da divisa.
- b) falta de demarcação entre os países.
- c) separação de povos da mesma origem étnica e cultural.
- d) limite territorial vigente desconhecido internacionalmente.

Exercício 153

(Mackenzie 2019) Embora os incêndios florestais sejam bastante comuns no verão de Portugal, a extensão e a gravidade dos danos em 2017 foram inéditas: 115 mortos e ao menos 5.000 km² atingidos, mais que o triplo da superfície do município de São Paulo. Causou surpresa que os dois principais incêndios tenham acontecido no outono e na primavera.

[...] Os prejuízos materiais foram de cerca de 1 bilhão de euros (cerca de R\$ 4 bilhões), segundo o secretário de Estado do Desenvolvimento e Coesão, Nelson de Souza. E tudo indica que esse tipo de catástrofe pode se tornar mais frequente.

MIRANDA, Giuliana e ALMEIDA, Lalo. Tempestades de fogo mataram 115 portugueses em 2017. *Folha de São Paulo*. 08 mai.

2018. Disponível em: <<https://arte.folha.uol.com.br/ciencia/2018/crise-do-clima/portugal/tempestades-de-fogo-mataram-115-portuguesesem-2017/>> Acesso em: 21 set. 2018.

Com base na reportagem acima e em seus conhecimentos sobre o assunto, assinale a alternativa correta.

- a) Os especialistas, em sua totalidade, dissociam o aumento dos incêndios florestais em Portugal do aquecimento global.
- b) De acordo com as autoridades portuguesas, o principal fator responsável pelo aumento dos incêndios florestais é o ecoturismo, em expansão no país.
- c) O aumento do número de incêndios florestais em Portugal era considerado improvável, devido ao significativo aumento dos índices pluviométricos no país, nas últimas décadas.
- d) De acordo com o INE – Instituto Nacional de Estatística, o expressivo aumento do número de bombeiros em Portugal, nas

duas últimas décadas, contribuiu para o rápido controle dos incêndios.

e) Um dos fatores responsáveis pelo aumento dos incêndios florestais em Portugal é a substituição de espécies nativas por pinheiros e eucaliptos, que oferecem retorno financeiro mais rápido, mas são mais propensas ao fogo.

Exercício 154

(Udesc 2016) Entre os países europeus listados abaixo, assinale a alternativa que apresenta associação correta de suas características.

- a) Noruega: país insular, de clima temperado oceânico.
- b) Itália: país banhado pelo oceano Atlântico, com forte presença da agricultura na economia.
- c) Suíça: país montanhoso e sem litoral.
- d) Grécia: país banhado pelo mar Mediterrâneo, um dos países mais ricos do continente europeu.
- e) Hungria: país do leste europeu, ingressou na União Europeia em 1973.

Exercício 155

(Fgv 2015) A África tem sido palco de inúmeros problemas sociais e econômicos nos últimos anos. Observe o mapa a seguir:



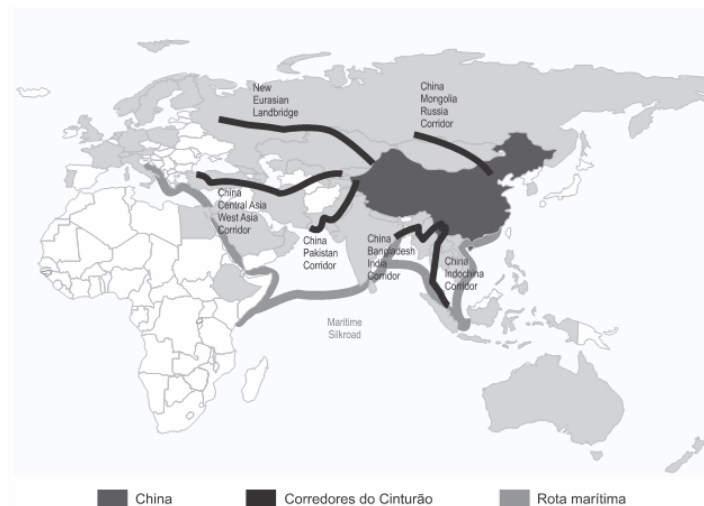
A respeito das áreas assinaladas no mapa, é correto afirmar que

- a) a área 1 indica os países Guiné, Serra Leoa e Libéria, onde o surto do ebola continua a se proliferar de maneira alarmante, colocando, segundo a OMS, um sério risco para a segurança sanitária global.
- b) a área 2 assinala a Nigéria, o país mais populoso da África, onde encontra-se a maior população muçulmana em guerra, lutando pelo separatismo entre sunitas e xiitas.
- c) a área 3 indica o país República Democrática do Congo, onde durante a guerra, teve origem a doença ebola, a partir de morcegos frugívoros encontrados nas cavernas do deserto do Calaari.
- d) a área 4 assinala o Egito, onde a queda do governo do Hamas provocou a expansão rápida do califado ISIS.
- e) a área 5 indica a África do Sul, que apresenta IDH muito elevado, destacando-se pela crescente urbanização e pelo parque

industrial, que permitiram sua entrada no bloco da Aliança do Pacífico.

Exercício 156

(Fgv 2020) O governo chinês, com a **Iniciativa do Cinturão e da Rota** (*Belt and Road Initiative - BRI*), prevê uma mega conexão de portos, ferrovias, estradas e aeroportos para alavancar os negócios da China com a Ásia, Europa, Oriente Médio e África. A iniciativa tem duas partes principais: o Cinturão (*Belt*), formado por uma série de corredores terrestres que ligam a China à Europa, via Ásia Central e Oriente Médio, e a “Rota da Seda do Século XXI” (*Road*), o corredor marítimo que liga a costa sul da China ao leste da África e ao Mediterrâneo. Sobre a *Iniciativa do Cinturão* e da Rota, analise o mapa a seguir.



Com base no mapa, analise as afirmações a seguir.

- I. O BRI deve consolidar o protagonismo chinês nas relações internacionais e alterar as dinâmicas geopolíticas, incrementando seu *soft power* nos espaços euro-afro-asiáticos.
- II. O Cinturão, por um lado, deve impulsionar o desenvolvimento das províncias do oeste chinês e, por outro, pode tornar dependente os países que receberam investimentos em infraestrutura física e digital.
- III. A Rota deve estabelecer novas interconectividades entre a China e os países banhados pelo Índico, cujos recursos naturais são estratégicos para manter o crescimento econômico chinês.

Está correto o que se afirma em

- a) I, II e III.
- b) I e II, apenas.
- c) I, apenas.
- d) II e III, apenas.
- e) I e III, apenas.

Exercício 157

(Udesc 2015) A região onde se concentra a indústria de tecnologia de ponta, nos Estados Unidos, é:

- a) Costa Leste
- b) Grandes Lagos
- c) Golfo do México
- d) Costa Oeste
- e) Vale do Mississipi-Missouri

Exercício 158

(Udesc 2012) O México e os Estados Unidos são vizinhos com problemas. Sobre esta relação de vizinhança é correto afirmar, exceto:

- a) O México foi uma das primeiras vítimas do nascente imperialismo norte-americano do século XIX. Explorando as instabilidades internas do México, os Estados Unidos conquistaram 1 milhão de km² de territórios originalmente mexicanos. Esses territórios correspondem aos atuais estados do Texas, Arizona, Novo México e Califórnia.
- b) Os problemas existentes entre México e Estados Unidos foram resolvidos recentemente com a eleição de Barack Obama, que flexibilizou, por meio de leis, a entrada dos mexicanos nos Estados Unidos.
- c) A maioria dos norte-americanos tende a menosprezar, ser indiferente ou simplesmente ignorar os ressentimentos históricos mexicanos. A imagem passada pelo cinema norte-americano a respeito dos mexicanos é geralmente depreciativa.
- d) O México pode se tornar um problema geopolítico para os Estados Unidos, se as falhas políticas e econômicas do regime mexicano acirrare os sentimentos antinorte americanos.
- e) Os mexicanos buscam postos de trabalho nos Estados Unidos, o que aumenta muito o fluxo migratório legal e ilegal para o país americano.

Exercício 159

(Ufpr 2021) A China representa oportunidades ímpares para o agronegócio brasileiro. Sua enorme população e o crescimento da renda dos chineses demandam, continuamente, mais alimentos, tanto em quantidade quanto em qualidade. A respeito da agricultura chinesa e das possibilidades de o agronegócio brasileiro manter-se atuante no mercado chinês, considere as seguintes afirmativas:

1. Se por um lado o governo brasileiro precisa conhecer bem as transformações em andamento na política e na sociedade chinesas no que tange à criação de oportunidades para o agronegócio brasileiro, por outro lado o governo do Brasil necessita investir internamente em infraestrutura para tornar o país mais competitivo no mercado chinês de *commodities*.
2. Dado o enorme consumo de uma população superior a 1,4 bilhão de pessoas associado ao fato de uma agricultura com produção insuficiente para abastecer as demandas internas, a China necessita importar soja, arroz, milho e trigo, podendo beneficiar-se do agronegócio brasileiro.
3. Diferentemente do Brasil, boa parte das terras chinesas são inaproveitáveis para a agricultura, devido à declividade do relevo, ao clima inadequado e a processos de desertificação, assim como à degradação de terras aráveis e sua contaminação decorrente do uso excessivo de insumos, exigindo novas práticas ambientalmente adequadas.
4. Desde 2009, a China é considerada o maior parceiro comercial do Brasil, e a parceria entre ambos já é vista como parceria global, em que o agronegócio é um dos pilares da relação bilateral, demandando a cooperação em ciência e tecnologia agropecuária.

Assinale a alternativa correta.

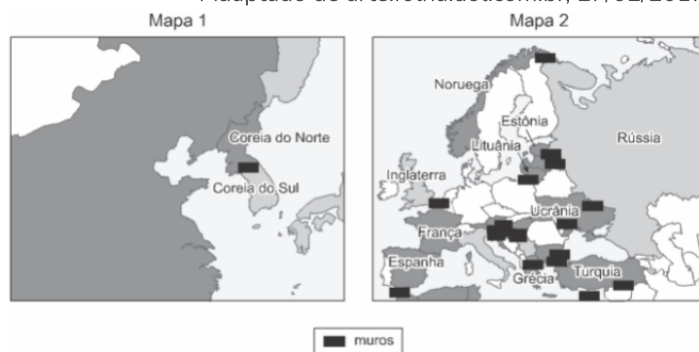
- a) Somente a afirmativa 2 é verdadeira.
- b) Somente as afirmativas 1 e 3 são verdadeiras.
- c) Somente as afirmativas 2 e 4 são verdadeiras.
- d) Somente as afirmativas 1, 3 e 4 são verdadeiras.
- e) As afirmativas 1, 2, 3 e 4 são verdadeiras.

Exercício 160

(Uerj 2020) **UM MUNDO DE MUROS: AS BARREIRAS QUE NOS DIVIDEM**

Um mundo cada vez mais interconectado tem erguido muros e cercas para bloquear aqueles que considera indesejáveis. Das 17 barreiras físicas existentes em 2001 passamos para 70 hoje. Alguns separam fronteiras. Outros dividem a mesma população. Alguns freiam refugiados. Outros escondem a pobreza. Ou o medo. Ou a guerra. Ou a desigualdade. Ou a mudança climática.

Adaptado de arte.folha.uol.com.br, 27/02/2017.



Adaptado de folha.uol.com.br, setembro/2017.

Os objetivos prioritários para a construção das barreiras físicas apresentadas nos mapas 1 e 2 são, respectivamente:

- a) estratégia militar e política demográfica
- b) rivalidade étnica e polarização ideológica
- c) antagonismo comercial e restrição religiosa
- d) isolamento econômico e segurança ambiental

Exercício 161

(Uerj 2020) **PUTIN INAUGURA PONTE ENTRE RÚSSIA E CRIMEIA**



O presidente russo, Vladimir Putin, inaugurou em maio de 2018 o trecho rodoviário de nova ponte que liga a Rússia continental à Península da Crimeia, anexada à Rússia em 2014. A Crimeia, uma ex-república autônoma que integrava a Ucrânia, foi anexada pela Rússia durante uma grave crise que culminou num conflito entre forças leais ao governo ucraniano e milícias separatistas apoiadas

por Moscou. A Ucrânia denunciou a construção como uma flagrante violação das leis internacionais. Putin dirigiu um enorme caminhão Kamaz, de fabricação russa, pelos 19 quilômetros da ponte sobre o estreito de Kerch. Em discurso, o presidente exaltou a construção da ponte de 3,6 bilhões de dólares como um feito histórico e prometeu novas obras de infraestrutura na península.

Adaptado de dw.com.

A ponte mencionada indica mudanças no processo de anexação da Crimeia à jurisdição do governo russo, na atualidade.

Tendo como base o mapa da Crimeia e as informações da reportagem, observa-se que a construção da ponte se insere em um projeto russo para promoção de:

- a) homogeneização política
- b) modernização financeira
- c) centralização cultural
- d) integração territorial

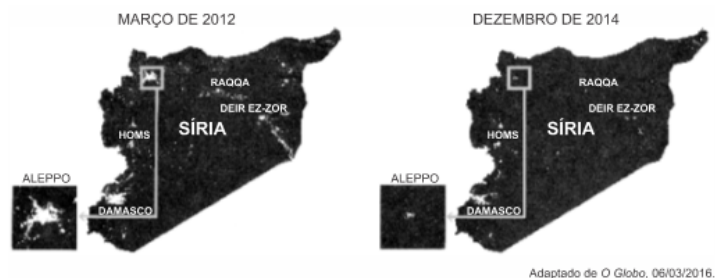
Exercício 162

(Ufpr 2017) Sobre o conceito de fronteira e sua problemática no contexto brasileiro e sul-americano, é correto afirmar:

- a) A formação geográfica e social semelhante dos países da América do Sul proporciona a construção de políticas e acordos fronteiriços coesos e convergentes entre os países que a compõem.
- b) Os investimentos em estruturas físicas, a exemplo de ferrovias e hidrovias, além de tratados como o MERCOSUL e o Pacto Andino, propiciaram a integração dos países sul-americanos, abrindo as fronteiras entre eles.
- c) A palavra *fronteira* teve seu conceito modificado com o advento da globalização, sendo hoje usada para compreender relações de abertura entre Estados Nacionais, como no caso dos pactos econômicos sul-americanos.
- d) Nos países da América do Sul, as relações transfronteiriças, como a circulação de pessoas, capitais, mercadorias e serviços, são, atualmente, subordinadas à política de segurança de cada estado nacional.
- e) *Fronteira* remete a espaços peculiares, onde se defrontam comunidades político-geográficas diferentes, e se caracteriza por interações e conflitos de múltiplas ordens.

Exercício 163

(Uerj 2018) Compare as imagens noturnas, obtidas através de satélite de sensoriamento remoto, que mostram a luminosidade dos principais núcleos de povoamento da Síria:



Considerando o contexto sírio no período indicado nas imagens, uma explicação para a mudança no padrão de distribuição espacial da população é:

- a) redução da expectativa de vida
- b) elevação da taxa de emigração
- c) aumento da insalubridade urbana
- d) diminuição do índice de fecundidade

Exercício 164

(Uerj 2017) A rota até os Jihadistas

Componentes produzidos por 51 empresas caem em poder do Estado Islâmico

Mais de 50 empresas de 20 países, entre elas uma brasileira, foram identificadas na cadeia de suprimentos dos dispositivos explosivos improvisados usados pelo Estado Islâmico em centenas de atentados terroristas. Além de mercadorias controladas, itens tão simples quanto ligas de alumínio, celulares ou fertilizantes, que podem parecer inofensivos à primeira vista, estariam na lista dos mais de 700 componentes encontrados em um levantamento realizado ao longo de 20 meses pelo Instituto de Pesquisa de Conflito Armado.



VIVIAN OSWALD
Adaptado de O Globo, 26/02/2016.

A estratégia de ação do Estado Islâmico mencionada na reportagem apresenta semelhança com a seguinte prática das corporações empresariais contemporâneas:

- a) padronização das tecnologias
- b) incorporação dos fornecedores
- c) desterritorialização da produção
- d) superexploração da mão de obra

Exercício 165

(Uerj 2016)

Portos com maior movimentação de contêineres em 2012



O diâmetro de cada círculo é proporcional à quantidade anual de contêineres movimentados em cada porto.

Adaptado de cdn1.vox-cdn.com.

Os contêineres são grandes caixas metálicas utilizadas para o transporte de mercadorias. O fluxo de contêineres dos portos mais movimentados do mundo, observado no mapa, é explicado por uma tendência da economia mundial nas últimas décadas. Essa tendência está apresentada em:

- a) ampliação da rede de telecomunicações
- b) redução do comércio de matérias-primas
- c) concentração do consumo de mercadorias
- d) terceirização da produção de bens industriais

Exercício 166

(G1 - ifce 2016) O Sahel (que significa 'costa' ou 'fronteira') é uma região da África que separa o deserto do Saara das áreas tropicais do sul. Compreende parte do Senegal, Mauritânia, Mali, Chade, Nigéria, Níger, Sudão e Etiópia. Nessa região predomina o tipo de vegetação

- a) mediterrânea.
- b) estepes.
- c) floresta equatorial.
- d) floresta tropical.
- e) savanas.

Exercício 167

(G1 - ifce 2016) Sobre o continente africano, é **correto** afirmar-se que

- a) teve sua exploração iniciada em meados do século XIX, predominantemente por empresas asiáticas que utilizam mão de obra local e empregam equipamentos modernos para a realização dessa atividade.
- b) é rico em minérios e fontes de energia como petróleo, ouro, zinco, urânio, ferro, chumbo, níquel, diamantes, prata, entre outros.
- c) a sua exploração quase sempre favorece apenas os países que a praticam, que instalaram portos e ferrovias para beneficiar as nações africanas.
- d) o campo das indústrias não é o mais moderno e consiste basicamente em indústrias que trabalham com a matéria prima importada.
- e) consiste em um continente subdesenvolvido com alguns de seus países industrializados e outros ainda vivendo exclusivamente de atividades comerciais.

Exercício 168

(Ufg 2009) A geopolítica é uma disciplina que estuda os conflitos dos Estados nações e procura compreender, no mundo contemporâneo, a diversidade que se reflete em situações complexas e geradoras de guerras. Uma dessas situações é o interesse estratégico da Rússia em relação ao território da Geórgia, que tem criado tensões no Cáucaso com o objetivo de

- a) controlar um antigo Estado-membro da Comunidade de Estados Independentes (CEI), que possui grande potencial militar e nuclear.
- b) facilitar o deslocamento de suas exportações em direção ao Irã, que é um país aliado na produção de tecnologia nuclear.
- c) obter o controle de Nagorno Karabach, região autônoma da Geórgia, que luta por sua independência.
- d) garantir o escoamento seguro de óleo e gás, que atravessam o território georgiano por meio de oleoduto e gasoduto, até o Mar

Negro.

e) manter sob domínio russo um território favorável à importação de petróleo pela via do Mar Cáspio.

Exercício 169

(Espm 2015) O Canal do Panamá, que liga o Oceano Atlântico (através do Mar do Caribe) ao Oceano Pacífico, completa em 2014 cem anos.

Em 1878, o francês Ferdinand de Lesseps, construtor do Canal de Suez, obteve da Colômbia, a quem a região pertencia naquela época, permissão para realizar a obra. Os trabalhos foram iniciados em 1880 e foram interrompidos quatro anos depois pela falência da empresa construtora.

O presidente dos EUA, Theodore Roosevelt, demonstrou interesse, em 1903, em terminar o projeto. Como o Senado colombiano se opunha ao projeto, os norte-americanos instigaram o movimento de independência do Panamá contra a Colômbia.

Com a independência do Panamá, o governo panamenho concedeu aos EUA o direito de completar a obra e controlar a zona do canal e os lucros gerados.

O Canal do Panamá atualmente funciona sob o controle:

- a) dos EUA;
- b) do Panamá;
- c) da Colômbia;
- d) de parceria EUA – Panamá;
- e) de parceria EUA – Panamá – Colômbia.

Exercício 170

(Ufrgs 2020) Considere as seguintes afirmações a respeito das relações entre os Estados Unidos da América e a China.

- I. As duas potências mundiais estão em crescente clima de tensão a partir da postura de disputa comercial adotada pelo atual governo norte-americano.
- II. As duas nações apresentam matrizes energéticas distintas, com os Estados Unidos da América baseados em matriz de carvão e com a China baseada em matriz hidrelétrica.
- III. Os dois apresentam postura semelhante nas negociações internacionais sobre mudanças climáticas, definidas em termos do interesse desenvolvimentista dos países, embora a China seja o maior emissor de gases de efeito estufa do mundo, ultrapassando os Estados Unidos da América.

Quais estão corretas?

- a) Apenas I.
- b) Apenas II.
- c) Apenas I e III.
- d) Apenas II e III.
- e) I, II e III.

Exercício 171

(Mackenzie 2015) **Escócia rejeita em plebiscito separação do Reino Unido**

“A Escócia votou para continuar como parte do Reino Unido, rejeitando a independência em plebiscito realizado na quinta-feira. A apuração das urnas nas 32 regiões administrativas

escocesa foi concluída na manhã desta sexta-feira. O “Não” (contra a independência) obteve 2.001.926 de votos, contra 1.617.989 do “Sim”. Em percentuais, a vitória foi de 55,3% contra 44,7%. Comparecimento nas urnas foi recorde e a contagem atravessou a madrugada na Escócia.”

Atualizado em 19 de setembro, 2014 - 03:54 (Brasília) 06:54 GMT Fonte:

http://www.bbc.co.uk/portuguese/noticias/2014/09/140912_escocia-plebiscito_nb.shtml

Levando-se em conta a notícia dada e seus conhecimentos, analise as afirmações que seguem.

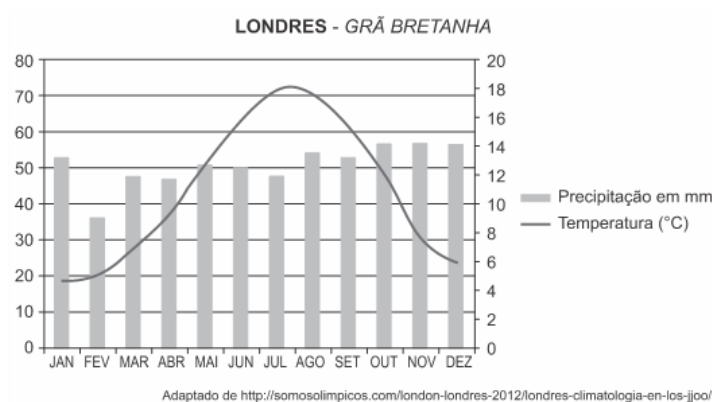
- I. A Escócia está localizada no norte da Grã – Bretanha onde predominam as Terras Altas (Highlands), importante cadeia montanhosa do Reino Unido.
- II. Os movimentos populares pleiteando a independência da Escócia iniciaram no final do século XX, após a descoberta de extensas jazidas petrolíferas no Mar da Irlanda em sua costa oeste.
- III. O Reino Unido compreende as três nações que ocupam a ilha da Grã-Bretanha - Inglaterra, Escócia e País de Gales como também sua vizinha Irlanda (Eire e Ulster) que comungam interesses políticos e religiosos.
- IV. A economia escocesa é baseada na alta produção têxtil e agrícola, uma vez que Edimburgo e Glasgow são as cidades mais industrializadas da nação. Destaca-se, ainda, na tradicional produção de destilados.

Estão corretas apenas as alternativas

- a) I e II.
- b) II e III.
- c) I e III.
- d) III e IV.
- e) I e IV.

Exercício 172

(Mackenzie 2018) O climograma abaixo corresponde a que tipo de clima?



Assinale a alternativa correta.

- a) Clima Mediterrâneo.
- b) Clima Subpolar.
- c) Clima Temperado Oceânico.
- d) Clima Tropical Litorâneo.

e) Clima Temperado Continental.

Exercício 173

(Espcex (Aman) 2013) Sobre o desenvolvimento industrial dos Estados Unidos, leia as afirmativas abaixo:

- I. O sudeste iniciou o processo industrial do País impulsionado pelos importantes centros comerciais e bancários daquela região e pela mão de obra imigrante de origem europeia;
- II. Com o fim da guerra civil, o eixo industrial se deslocou do sudeste para o nordeste do País, impulsionando o crescimento de importantes centros urbanos como o de Nova York;
- III. No nordeste e na região dos Grandes Lagos, desenvolveram-se as indústrias de bens de produção, baseadas no carvão e no minério de ferro, e nasceu a indústria automobilística;
- IV. Após a Segunda Guerra Mundial, o sul e o oeste do País passaram a receber crescentes investimentos industriais também atraídos pelos campos petrolíferos do Golfo do México e da Califórnia.

Assinale a alternativa que apresenta todas as afirmativas corretas.

- a) I e II
- b) I e III
- c) II e III
- d) II e IV
- e) III e IV

Exercício 174

(G1 - cftrj 2017) O Sahel significa “costa” ou “fronteira”. É uma faixa de 500 km a 700 km de largura, em média, e 5.400 km de extensão, situada na África Subsaariana, entre o Saara, ao norte, e a savana, ao sul; e entre o oceano Atlântico, a oeste, e o Mar Vermelho, a leste. Trata-se de uma região fitogeográfica com estepes, vegetação complexa e algumas xerófilas que recebe uma precipitação entre 150 e 300 mm por ano. Pode, portanto pensar-se que a agricultura no Sahel está condenada ao fracasso. No entanto, a região é protegida por um cinturão verde constituído por uma flora altamente diversificada, que a protege dos ventos do Saara. Por outro lado, o Sahel tem sido atingido por longos períodos de seca que aumenta a situação de fome.

Fonte: www.biomania.com.br. Acesso: 15 de setembro de 2016.

A descrição dessa região está caracterizada na seguinte imagem:



a)

<http://kingofwallpapers.com>



<http://meioambiente.culturamix.com>

b)



<http://www.todoestudo.com.br>

c)



<https://africafortheworld.wordpress.com>

d)

Exercício 175

(G1 - utfpr 2013) Apesar da importância econômica dos “Tigres Asiáticos”, o Sudeste da Ásia ainda registra grande população rural e baixos índices de desenvolvimento humano. Os “novos Tigres Asiáticos”, no entanto, tentam mudar essa realidade. Assinale a única alternativa que explica corretamente esse processo econômico em curso na região.

- a) Investem na produção de maquinofaturas para exportação.
- b) A tecnologia da indústria é fornecida pelos Estados locais.
- c) O motor da economia na região é a agricultura de exportação.
- d) A base desse processo é a exploração de petróleo e ferro.
- e) O crescimento econômico deve-se a emergência da Índia.

Exercício 176

(Uel 2008) Observe a figura a seguir



"Navio encalhado no chão estéril e salino que um dia constituiu o fundo do mar. Há poucas décadas navegavam nesse mesmo local, em busca de grandes cardumes. Agora estão condenados a apodrecer progressivamente sob o clima regional árido."

(TAMDJIAN, J. O. e MENDES, I. L. "Geografia geral e do Brasil: Estudos para a compreensão do espaço". São Paulo: FTD. 2004, p. 571.)

Com base na figura e nos conhecimentos sobre o tema, é correto afirmar:

I. O Mar de Aral teve a sua área reduzida de 66.900 km² em 1960, para 31.938 km² em 1994 e para 25.287 km² em 2000, provocada pela redução drástica da vazão de seus principais tributários, os rios Amurdarya e o Syrdarya, com desvio das suas águas para atender o megaprojeto governamental estabelecido para a expansão e aumento da produção de algodão irrigado, nos países Casaquistão, Tagiquistão e Uzbequistão.

II. Problemas relacionados com megaprojetos como as transposições para agricultura de irrigação, demonstram que as imprudências do controle estatal centralizado no uso dos recursos hídricos e no planejamento regional, com estudos duvidosos, afetam não só os recursos hídricos de grandes áreas da região, mas um conjunto complexo de economias regionais e condições sociais.

III. Na ex-União Soviética, foi implementado um megaprojeto governamental para a construção de canais para desviar as águas do rio Volga. O canal Volga-Tchograi, para desviar as águas para agricultura irrigada na região de Calmíquia e Stavropol. O segundo canal, Volga-Don 2, para desviar as águas para atender a demanda das áreas irrigadas na região entre os rios Don e Kuban. O governo não considerou que o Mar Cáspio e o rio Volga compõem um mesmo sistema natural, integrado.

IV. O Mar Morto perdeu um terço da sua superfície, em grande parte por causa da exploração excessiva do seu afluente, o rio Jordão. Além da evaporação natural, ultimamente mais de 90% das águas que antes fluíam para o Jordão já foram capturadas e desviadas. 60% desviadas por Israel em 1960, e o restante por barragens construídas pela Síria e pelo canal jordaniano do Rei Abdulá. Agora, com a conclusão da Unity Dam, o Jordão poderá secar completamente nos próximos verões.

Assinale a alternativa que contém todas as afirmativas corretas.

- a) I e II.
- b) I e III.
- c) II e IV.
- d) I, III e IV.
- e) II, III e IV.

Exercício 177

(Espm 2019) A história de desentendimentos entre Rússia e Ucrânia no mar de Azov, onde fica o estreito de Kerch, vem de muito antes da revolução que derrubou o então presidente ucraniano Viktor Yanukovich e abriu uma crise sem precedentes entre os dois países, em 2014. No fim do ano de 2018, em um perigoso incidente, três navios da marinha da Ucrânia entraram

em águas territoriais russas e realizaram manobras, sendo então atacados pela frota russa.

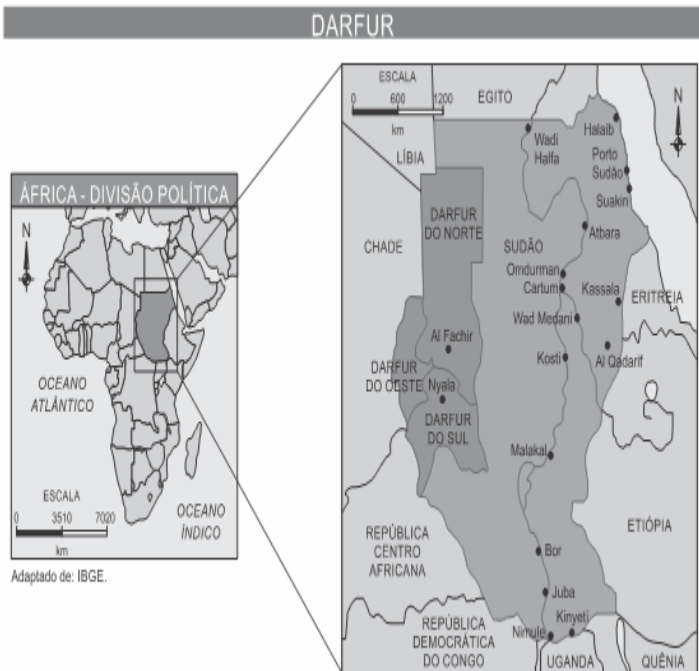
Fonte: (<https://www.bbc.com/portuguese/internacional/2018/11/28>)

Sobre a tensa relação entre Rússia e Ucrânia e a crise envolvendo os dois países, é correto assinalar que:

- a) a Ucrânia acusa a Rússia de tentar ocupar o Mar de Azov e prejudicar sua economia, negando acesso a portos importantes que escoam 25% das exportações do país;
- b) a Rússia ameaça anexar a Crimeia, o que incita o nacionalismo ucraniano;
- c) o governo ucraniano, pró-Rússia, do presidente Petro Poroshenko, passou a enfrentar grandes manifestações antirussas;
- d) a região de Donetsk, no leste da Ucrânia, foi oficialmente anexada pela Rússia em 2014;
- e) a Ucrânia é integrante plena da OTAN e a tensão envolvendo sua relação com a Rússia pode produzir um grande conflito.

Exercício 178

(Uern 2015)



Em 2008, mais de 300 mil pessoas foram obrigadas a deixar suas casas em *Darfur*, no Sudão. A região composta por dois estados passa por uma crise humanitária em meio à guerra civil, que está relacionada ao seguinte fator:

- a) A existência de uma milícia que tem como missão eliminar as outras etnias.
- b) A construção de fronteiras artificiais no continente africano motivada pelo imperialismo europeu.
- c) A existência de petróleo, em *Darfur* do Norte, e a forte pressão chinesa para a separação e autonomia da região.
- d) A influência da primavera árabe sobre a região que levou à divisão da população em dois grupos: xiitas e sunitas.

Exercício 179

(Unicamp 2018)



Ao percorrer a Ferrovia Transiberiana, de Moscou a Vladivostok, em uma extensão de 9.289 km, atravessamos diferentes unidades do relevo russo:

- a) Montes Urais, Planície Russa, Planalto da Anatólia e Planalto Central Siberiano.
- b) Planalto do Decã, Planalto Central Siberiano, Montes Urais e Planície Russa.
- c) Planalto Central Siberiano, Planície Russa, Montes Urais e Planalto dos Bálcãs.
- d) Planície Russa, Montes Urais, Planalto Central Siberiano e Planalto de Aldan.

Exercício 180

(G1 - cfrj 2013) A atividade industrial dos Estados Unidos é de grande importância; responde por cerca de 23% da produção total da indústria mundial. Essa produção industrial teve papel de grande importância nas modificações do espaço norte-americano. Assinale a opção que apresenta uma afirmativa CORRETA sobre a dinâmica industrial dos Estados Unidos.

- a) A atividade industrial foi iniciada na costa do Pacífico, em razão do aproveitamento de condições naturais e históricas favoráveis ao seu desenvolvimento.
- b) O nordeste dos Estados Unidos vem aumentando de forma expressiva sua participação na produção industrial norte-americana.
- c) O crescimento da atividade industrial da costa oeste resultou da instalação de um forte setor siderúrgico, aproveitando os recursos minerais encontrados na região.
- d) A descoberta e exploração de imensas reservas de petróleo, sobretudo no Texas e no Golfo do México, favoreceram o crescimento industrial do sul.

Exercício 181

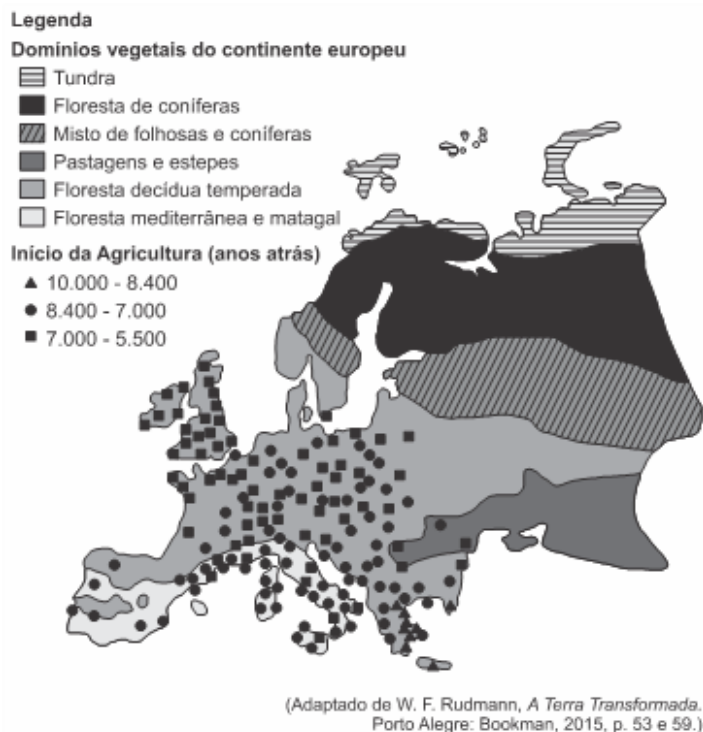
(Unioeste 2017) Econômicas, sociais, militares, sanitárias, ambientais, políticas, religiosas, as razões que levam as pessoas a deixar seu país de origem são numerosas. Migrante legal ou ilegal, refugiado ou requerente de asilo, essas mobilidades humanas, independente da forma que elas tomam e do *status* jurídico que elas dão lugar, desenham hoje um mundo em movimento onde as fronteiras se distendem e perdem uma parte de sua função. Mas, a mobilidade humana tem gerado preocupações e amplos debates políticos, econômicos e religiosos. Nas últimas décadas, uma das respostas aos problemas colocados pelos movimentos migratórios tem sido a construção de muros fronteiriços.

Sobre a construção de tais muros, assinale a alternativa INCORRETA.

- a) Os muros fronteiriços, provisórios ou permanentes, eficazes ou inoperantes, elétricos ou em concreto, retornam atualmente como uma ferramenta geopolítica.
- b) O muro de concreto construído sobre os Pirineus, em meados de 2015, na fronteira entre a Espanha e a França, não é apenas um muro de separação entre dois Estados nacionais. É, sobretudo, uma barreira de contenção dos intensos fluxos migratórios oriundos da África, que entram na Espanha por Ceuta (cidade autônoma da Espanha no território do Marrocos) e se dirigem para a França, desde as duas últimas décadas do século XX.
- c) Atualmente, os muros fronteiriços têm vocação de separar populações e de ser uma barreira física entre comunidades.
- d) Os muros, as barreiras ou as cercas, pouco importa seu nome, são, por conseguinte, uma lógica de segurança dos territórios e se justificam – porém não se legitimam – na vontade de proteger as pessoas ou de tornar impossível a entrada de outros grupos sociais em determinados países ou regiões da escala mundial.
- e) Antes de tomarem a forma material e de se constituírem em concreto ou arame farpado, os muros se erguem antes de tudo nas cabeças ou mentes, notadamente como o produto da análise segundo a qual a segurança e a proteção não podem ser asseguradas senão pelo fechamento estrito dos territórios.

Exercício 182

(Unicamp 2019) O mapa a seguir registra parte do processo de substituição dos domínios vegetais do continente europeu pela agricultura sedentarizada ao longo dos últimos 10 mil anos.



A análise do mapa permite concluir que:

- a) As pastagens e as estepes foram os domínios mais devastados pela implantação da agricultura, em função da fertilidade do seu solo em épocas de degelo, o que favoreceu a produtividade de grande escala.
- b) Não é possível identificar grandes transformações nas condições naturais dos domínios de vegetação europeus em

função do processo de sedentarização das sociedades humanas.

- c) O desenvolvimento de lavouras na Europa durante o Neolítico foi base para a transformação de domínios vegetais naturais, o que significa que o desmatamento é uma prática milenar.
- d) As áreas que hoje correspondem aos países da Península Ibérica, ao Reino Unido e à Irlanda foram as pioneiras no desenvolvimento de práticas agrícolas sedentarizadas.

Exercício 183

(G1 - utfpr 2017) Entre as várias caracterizações regionais do continente americano, assinale a alternativa correta sobre a América Andina.

- a) Contém o Chile e as regiões banhadas pelo rio da Prata que passa pelo Uruguai.
- b) Faz fronteira com o Círculo Polar Antártico e contém o Oceano Atlântico.
- c) Estende-se do Chile até as terras áridas do território mexicano do Pacífico.
- d) Faz fronteira ao norte com as Antilhas e é banhada apenas pelo Atlântico.
- e) Faz fronteira com a América Central e contém parte da Floresta Amazônica.

Exercício 184

(Mackenzie 2018) *Trump reconhece Jerusalém como capital de Israel*

O presidente Donald Trump anunciou nesta quarta-feira (6) que os EUA passam a reconhecer Jerusalém como a capital de Israel, revertendo quase sete décadas de política externa americana, e determinou o início dos preparativos para a transferência da embaixada americana de Tel Aviv para a disputada cidade.

Folha de São Paulo, 06/12/2017.

Disponível em

<<http://www1.folha.uol.com.br/mundo/2017/12/1941116-eua-reconhecemjerusalem-como-capital-de-israel.shtml>> Acesso em 11.03. 2018.

Com base no trecho de reportagem acima e em seus conhecimentos a respeito do assunto em destaque, analise as afirmações a seguir.

- I. Líderes mundiais de diversos países, tanto aliados quanto rivais dos EUA, criticaram a decisão de Trump, temendo o aumento da violência no Oriente Médio.
- II. Como a mudança da embaixada para Jerusalém era uma promessa de campanha, a decisão de anunciá-la em dezembro do ano passado pode estar relacionada a uma tentativa de recuperação de apoio entre seus eleitores, já que grande parte de suas outras promessas ainda não saiu do papel.
- III. Trump argumenta que levou em consideração o Plano de Partilha da Palestina, estabelecido pela ONU em 1947. Na sessão presidida pelo embaixador brasileiro Oswaldo Aranha, foi decidido que Jerusalém seria destinada à consolidação da capital judaica, tendo em vista sua importância religiosa para os judeus.

É correto o que se afirma em

- a) I, apenas.
- b) I e II, apenas.
- c) II e III, apenas.
- d) I e III, apenas.
- e) I, II e III.

Exercício 185

(Ucs 2015) Leia o excerto a seguir:

Apesar de ser o maior país do mundo, a Rússia tem dificuldade de encontrar uma saída permanente para o mar nas proximidades de suas principais cidades. Na parte norte do país, os rios ficam congelados, assim como em parte do Mar Báltico e do Oceano Glacial Ártico. No sul, o Rio Volga desemboca no Mar Cáspio, que é fechado. Para contornar esse problema, foram construídos inúmeros canais que interligam os principais rios aos litorais. O Canal Lénin, por exemplo, faz a ligação do Rio Volga com o Don, que desemboca no Mar de Azov, que dá acesso ao Mar Negro. Desse modo, a Rússia tem acesso (via Mar Negro) ao Mar Mediterrâneo, utilizando-se também do Estreito de Bósforo, do Mar de Mármara e do Estreito de Dardanelos.

Fonte: TAMDJIAN, James Onnig. *Geografia: estudos para compreensão do espaço*. Vol. Único. 2. ed., São Paulo: FTD, 2013. p. 100.

Assinale a alternativa que indica a problemática abordada no texto.

- a) Problema ambiental com desdobramento econômico.
- b) Problema geopolítico com desdobramento econômico.
- c) Problema hidroclimático com desdobramento geopolítico.
- d) Problema econômico com desdobramento ambiental.
- e) Problema geopolítico com desdobramento hidroclimático.

Exercício 186

(Mackenzie 2017) “O Peru é um dos grandes produtores mundiais de pescado. Suas costas apresentam alta piscosidade, fato explicado pela enorme quantidade de nutrientes – plânctons. Essa alta piscosidade é decorrente do fenômeno da ressurgência que ocorre em seu litoral, permanecendo sob efeito de uma corrente marítima fria que se origina no sul da América do Sul e se desloca no sentido norte, em uma linha paralela ao litoral chileno e peruano.”

Fonte: MORAES, PAULO. *Geografia Geral e do Brasil*, 2011, p. 148. (adaptado)

Identifique a alternativa que contempla, corretamente, a importante corrente marítima citada no texto.

- a) Corrente do Pacífico Sul.
- b) Corrente de Humboldt.
- c) Corrente das Falklands.
- d) Corrente de Benguela.
- e) Corrente do Atlântico Sul.

Exercício 187

(Ufjf-pism 3 2016)

América do Sul: político



Disponível em: <<http://migre.me/s8QFT>>. Acesso em: 13 nov. 2015.

O território argentino abrange uma área de 2.766.889 km² onde vivem aproximadamente 40,2 milhões de habitantes. A Argentina possui o segundo maior território da América do Sul, sendo superada nesse quesito somente pelo Brasil, que abrange uma área de 8.514.876.599 km².

Disponível em: <<http://migre.me/s8QFT>>. Acesso em 10 nov. 2015.

Considerando-se os aspectos geográficos da Argentina, destaca-se o

- a) baixo Índice de Desenvolvimento Humano, que decorre da grave crise econômica gerada pelo endividamento externo.
- b) comércio exterior, importações e exportações dominados por acordos bilaterais com a União Europeia e os Estados Unidos.
- c) diverso quadro físico, que a noroeste é dominado pela Cordilheira dos Andes e no extremo sul pelo Deserto da Patagônia.
- d) equilíbrio na distribuição da população pelo território, proveniente da política de incentivos fiscais para a instalação de polos industriais.
- e) setor agrícola, que tem participação majoritária no Produto Interno Bruto, suplantando o setor da indústria e dos serviços.

Exercício 188

(Espm 2013) Sobre a regionalização territorial do país abaixo, é correto afirmar:



- a) No sudeste, na Flórida, está a megalópole de San-San, a maior do continente e uma das mais importantes do mundo.
- b) Desde a região dos Grandes Lagos até Seattle no extremo oeste, acompanhando toda a franja fronteira com o vizinho do norte, desponta o Sun Belt, importante cinturão agrícola que abastece ambos os países.
- c) No estado sulista, terceiro mais rico do país, encontra-se a tradicional indústria petroquímica, associada à ocorrência de petróleo, além do importante setor da biotecnologia.
- d) Chipits é uma importante megalópole na porção meridional e seu crescimento está relacionado à vanguarda tecnológica do Vale do Silício.
- e) O amplo desenvolvimento industrial e tecnológico junto à porção central do país, deslocou a agricultura para outras áreas, tornando esta uma atividade secundária e retirando o país da posição de grande potência agrícola mundial.

Exercício 189

(Upe-ssa 3 2017) Observe a imagem a seguir:



Palestinos fazem fila para receber comida no campo de refugiados de Yarmouk, na Síria, que foi atacada pela facção Estado Islâmico.

Fonte: adaptado de <http://www1.folha.uol.com.br>, 2015.

A condição nela apresentada corresponde

- a) ao controle do campo de refugiados palestinos no sul de Damasco pelo grupo terrorista sunita Estado Islâmico (EI), originado de um braço da Al-Qaeda, caracterizado por um regime político-religioso, orientado pela Lei Islâmica Sharia.
- b) ao grupo militante palestino Hamas, que controla a Faixa de Gaza. Trata-se de um movimento sionista, que procurou criar um Estado para os judeus e que ganhou força no início do século 20, incentivado pelo antissemitismo.

c) ao conflito étnico iniciado há 30 anos, na Síria, quando a União Soviética invadiu os campos de refugiados palestinos, e o grupo Estado Islâmico combateu o governo comunista, com o objetivo comum de instaurar um Estado muçulmano regido pela sharia, a lei islâmica.

d) à atuação da Aliança do Norte, que combate, em conjunto com a facção do Estado Islâmico, os refugiados palestinos em Damasco, sul da Síria, região, que está sob o controle das Forças da Síria Democrática (FSD), uma coalizão armada, apoiada pela Rússia.

e) a uma organização sionista que controla a Faixa de Gaza, constituída de partido político-religioso, entidade filantrópica e seu conhecido braço militar. Comanda a Faixa de Gaza e atua em diversas regiões de refugiados palestinos na Síria.

Exercício 190

(G1 - cftrj 2016) A China chegou a crescer 13% em 2007 e 10,4% em 2010, mantendo o ritmo em patamares elevados até o ano passado. Este ano, o crescimento esperado do PIB chinês em torno de 7% está abaixo da expectativa. O Fundo Monetário Internacional (FMI) previu em seu último relatório que a China deve crescer 6,8% em 2015 – a menor taxa anual para o país em 25 anos. A “bolha” da economia chinesa começou a estourar depois de vários anos de crescimento robusto. Agora, está virando uma bola de neve e levando a “bolsa” junto. Com o forte avanço do PIB chinês nos últimos anos, a China tentou mudar o perfil de sua economia de um modelo predominantemente voltado ao exterior, para uma economia voltada ao consumo interno. O Banco Central da China se comprometeu a apoiar o crescimento 'sustentável' do país e passou a limitar investimentos do exterior. As vendas, que apoiavam a economia chinesa, passaram a cair e o governo precisou desvalorizar o iuan.

Disponível em:

<http://g1.globo.com/economia/mercados/noticia/2015/08/entenda-o-que-esta-acontecendo-na-china-e-os-reflexos-nos-mercados.html>. Acesso em: 05 de Set.2015.

Um elemento presente no texto que colaborou para a construção do milagre econômico chinês foi a

- a) produção de tecnologia de ponta.
- b) exploração da mão de obra barata.
- c) transformação no regime de poder.
- d) criação de plataformas de exportação.

Exercício 191

(Usf 2018) **Crise diplomática no Golfo Pérsico: países vizinhos rompem relações com o Catar**

Desde o dia 5 de junho de 2017, o Catar é alvo de um embargo por parte de seus vizinhos do Golfo Pérsico. Arábia Saudita, Egito, Emirados Árabes Unidos e Bahrein romperam relações diplomáticas com o país. O grupo fechou as fronteiras terrestres e marítimas e impôs severas restrições aéreas ao emirado.

Disponível em: <https://vestibular.uol.com.br/resumo-das-disciplinas/atualidades/crise-diplomatica-no-golfo-persico-paises-vizinhos-rompem-relacoes-com-o-catar.htm>. Acesso em: 09/10/2017.

Os países vizinhos do Catar, mencionados no texto, acusam-no de

- apoiar a venda de petróleo e armamentos nucleares em conjunto com a Coreia do Norte.
- negociar o beneficiamento de material radioativo com os Estados Unidos.
- apoiar o terrorismo e desestabilizar a região a que pertencem esses países.
- apoiar historicamente Israel no conflito com os palestinos.
- monopolizar a venda de recursos minerais e alimentos na região.

Exercício 192

(Mackenzie 2016)



Os mares europeus, historicamente, facilitaram o desenvolvimento econômico, social e político do continente.

Considere as afirmações a respeito dos mares europeus numerados no mapa.

- O número 1 corresponde ao Mar do Norte. Nele, desaguam importantes rios como o Tâmsa, Elba e Reno.
- O número 2 corresponde ao Mar Cáspio. Os rios Volga e Ural deságuam neste mar, que é ligado também ao mar de Azov por um estreito canal.
- O número 3 corresponde ao Mar Adriático. Suas águas banham as regiões costeiras dos seguintes países: Itália, Eslovênia, Croácia, Bósnia e Herzegovina, Montenegro e Albânia.
- O número 4 corresponde ao Mar Mediterrâneo. Desde a Antiguidade, representou uma zona privilegiada de contatos culturais, intensas relações comerciais e de constantes confrontos políticos. Comunica-se com o oceano Atlântico pelo estreito de Gibraltar.

Estão corretas,

- I e II, apenas.
- II e III, apenas.
- I, II e III, apenas.
- I, III e IV, apenas.
- I, II, III e IV.

Exercício 193

(Espm 2018) *Moradores estão fugindo da região de Ghouta, na Síria, onde a situação tem sido descrita como “extremamente crítica”.*

A batalha na região se intensificou porque o exército do governo Sírio parece estar aumentando a pressão para retomar o território – que é perto da capital, Damasco, e está dominado pela oposição.

Fonte: <https://g1.globo.com/mundo/noticia/mulheres-e-criancas-fogem-de-intensos-bombardeios-em-ghouta-na-siria.ghtml>.

Acesso: 11/03/2018.

Desde que eclodiu a guerra civil em 2011, o presidente do país destacado na matéria recorreu a países aliados para conter e reverter o avanço de grupos armados que tentam destituí-lo. Esses países são:

- Rússia e Turquia.
- Rússia e Arábia Saudita.
- China e Iraque.
- Rússia e Irã.
- França e Irã.

Exercício 194

(G1 - ifce 2014) A China é o terceiro maior país do mundo em extensão e abriga a maior população do planeta. A partir da década de 1980, reformas econômicas facilitaram a expansão da atividade industrial, colocando a China em uma posição de destaque no cenário mundial, no entanto é um país de profundos contrastes. Sobre a China, analise as afirmativas em V (verdadeiro) ou F (falso).

- Os chineses investem bilhões de dólares em projetos aeroespaciais, no entanto a localidade de onde são lançadas as naves, a Província de Gansu, é uma das mais pobres do país, cuja população vive com cerca de 1 dólar por dia;
- Apesar do seu grande volume populacional, a China possui vazios demográficos, o que reforça os diversos contrastes vividos por essa nação;
- A Revolução Cultural Chinesa foi um período de transformação implantado por Mao Tsé-Tung a partir de 1966, com o objetivo, entre outros, de radicalizar o regime comunista, face ao isolamento internacional, durante toda a década de 1960.
- Junto com o Brasil, Rússia, Índia e África do Sul, compõem o BRICS – denominação formada pelas iniciais desses países que se destacam por suas economias e pelas possibilidades de crescimento das mesmas.

Estão corretas:

- apenas I, II e III.
- I, II, III e IV.
- apenas I e II.
- apenas II e IV.
- apenas II, III e IV.

Exercício 195

(Espcex (Aman) 2017) A China tem se tornado uma das maiores potências mundiais. É considerada uma economia emergente,

tanto pelo peso de sua economia quanto pela forte influência que exerce no cenário regional e global. A expansão da indústria tem sido um dos principais fatores do crescimento da economia desse país.

Sobre a economia chinesa, podemos afirmar que

I. a indústria pesada ainda permanece sob o controle estatal chinês e concentra-se, predominantemente, nas províncias da Manchúria, no nordeste do País, a qual dispõe de vastas reservas de carvão mineral e minério de ferro.

II. a indústria de alta tecnologia expandiu-se rapidamente no País, o que o tornou um dos maiores exportadores do mundo de produtos ligados à tecnologia da informação. Entretanto, a China não controla a maior parte das tecnologias mais valiosas dos produtos que fabrica, pois tais componentes são fabricados no exterior.

III. o dinamismo econômico da região litorânea da China vem se difundindo em direção ao cinturão agrícola do interior. Tal fato tem propiciado um maior equilíbrio do PIB per capita entre a “China marítima” e a “China interior”.

IV. atualmente, com o envelhecimento da população e com o desenvolvimento tecnológico do setor industrial, a mão de obra tem encarecido e levado indústrias a se transferirem para o interior do País, em busca de mão de obra mais barata.

V. a China não foi autorizada a participar da Organização Mundial do Comércio (OMC), pelo tratamento dado aos direitos individuais e liberdades civis de sua população; dessa forma, o País não obedece às regras do comércio internacional, mantendo elevados subsídios à agricultura e altas taxas de importação.

Assinale a alternativa que apresenta todas as afirmativas corretas.

- a) I, II e III
- b) I, II e IV
- c) II, III e V
- d) I, IV e V
- e) III, IV e V

Exercício 196

(Ufu 2006) A partir da década de 1970, quatro países asiáticos surpreenderam o mundo com uma expressiva industrialização. Devido às características desse processo e à localização de Cingapura, Hong Kong, Coréia do Sul e Taiwan, estes foram denominados Tigres Asiáticos. Recentemente, esses quatro países expandiram sua economia para países vizinhos do Sudeste Asiático, agora denominados de novos Tigres Asiáticos. Sobre a economia desses países, analise as afirmativas abaixo.

I - Nos novos Tigres, devido à mão de obra extremamente qualificada e barata, foram instaladas indústrias de produtos de informática, microeletrônica, hardware e software.

II - Além dos investimentos dos quatro Tigres Asiáticos, os novos Tigres passaram a fazer parte das redes de negócios de empresas dos Estados Unidos, Japão e de outros países desenvolvidos.

III - Para produzir mercadorias sob encomenda, criadas e planejadas em outros lugares do mundo, surgiram milhares de pequenas empresas em cada um desses novos países.

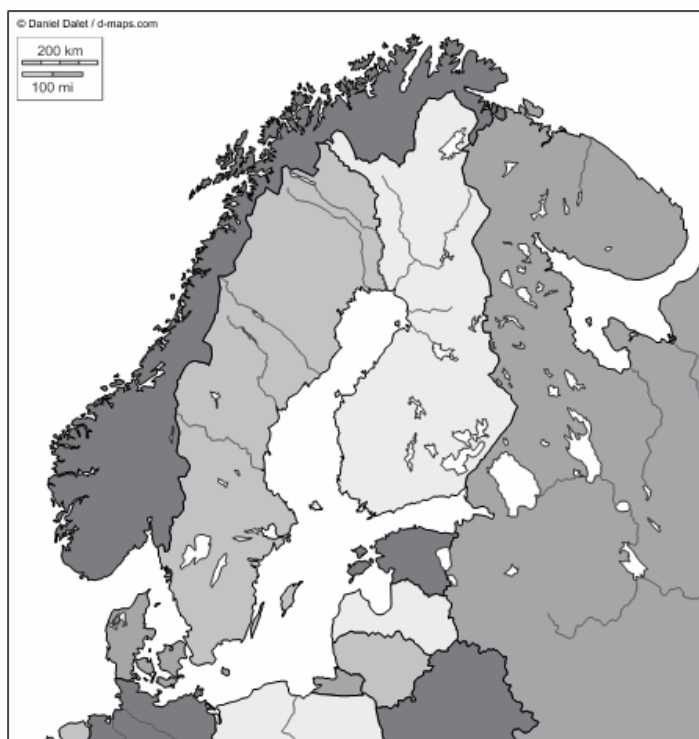
IV- As reformas políticas, sociais e econômicas implantadas e o aumento do mercado interno de consumo fortaleceram o desenvolvimento dos novos Tigres.

Marque a alternativa que apresenta somente afirmativas corretas.

- a) II e III
- b) I e II
- c) II e IV
- d) I, II e III

Exercício 197

(Udesc 2017) Os países nórdicos, situados na terras mais setentrionais do continente europeu, apresentam fortes limitações agrícolas em virtude do clima rigoroso. Observe o mapa.



Fonte: <https://goo.gl/images/o7iFwQ>

Com base na informação e no mapa, analise as proposições em relação a esta região.

I. O relevo montanhoso da península escandinava intercepta as massas de ar oceânicas úmidas, conformando nos vales de origem glacial uma numerosa rede de pequenas bacias fluviais.

II. A Finlândia é uma extensa área de terras baixas, pontilhada de lagos situados em diferentes níveis, de onde se origina forte riqueza hidráulica.

III. O mar entra em toda a região. A mistura das águas quentes da corrente do Golfo e das frias da região produz alta piscosidade.

IV. A maior parte do território da região é coberta pela floresta de coníferas, base da produção madeireira.

V. O Mar Báltico, que banha a Suécia e a Finlândia, no inverno tem suas águas congeladas, interrompendo a ativa navegação do verão, quando são intensas as relações comerciais desses países com o exterior.

Assinale a alternativa **correta**.

- a) Todas as afirmativas são verdadeiras.

- b) Somente as afirmativas I e V são verdadeiras.
- c) Somente as afirmativas III e IV são verdadeiras.
- d) Somente as afirmativas I, II e III são verdadeiras.
- e) Somente as afirmativas I, II, III e IV são verdadeiras.

Exercício 198

(Cesgranrio 2010) “(...) Com o colapso da URSS, a experiência do *socialismo realmente existente* chegou ao fim (...) mesmo onde os regimes comunistas sobreviveram e tiveram êxito, abandonaram a ideia de uma economia única, centralmente controlada e estatalmente planejada, baseada num Estado completamente coletivizado, ou uma economia de propriedade coletiva praticamente operando sem mercado (...)”

HOBBSAWN, Eric. *Era dos extremos: o breve século XX*. São Paulo: Companhia das Letras, 1995. p.481.

“(...) A queda do comunismo representou a fragmentação de alguns países da Cortina de Ferro. No final dos anos 80, com a economia em crise e os Estados satélites querendo abandonar o comunismo, as repúblicas que faziam parte da União Soviética começaram a caminhar para a separação. O colapso da URSS deu origem à Rússia e mais 14 nações (...)”

Jornal O Globo – edição no 27.856, ano LXXXV, de 12 de nov. de 2009, seção O Mundo, p.35.

Com a queda do socialismo real, o entusiasmo inicial, em países da antiga Cortina de Ferro, no sentido de recuperar sua posição no cenário internacional, cedeu espaço às crises, aos problemas como criminalidade e desemprego e à desconfiança constante na Rússia. A inserção da Rússia no novo cenário geopolítico internacional chama a atenção

- a) pela manutenção do estado autoritário e repressor, apesar das transformações econômicas e sociais que incluíram a Rússia no Grupo dos Oito.
- b) pela sua volta ao mercado capitalista que, após um processo de privatização de todas as empresas estatais concentrou nas mãos de grupos organizados importantes conglomerados econômicos, estabilizando o quadro político-econômico atual.
- c) pela sua rápida modernização econômica para atrair o novo mercado, tornando-se um país tecnopolo, através da exportação de tecnologia de ponta e de mão de obra especializada obtidas através do ingresso de capitais sul-coreanos.
- d) pelo retorno aos padrões religiosos, com a abertura de templos ortodoxos e a expansão do islamismo, o que garantirá sua aproximação com a OPEP.
- e) pelo recrudescimento de questões étnicas e territoriais que, sob a bandeira do nacionalismo, muitas vezes levaram a conflitos internos ou à guerra.

Exercício 199

(Espm 2015) “O mexicano Carlos Slim é atualmente o homem mais rico do mundo e um dos mais poderosos. (...) Slim foi a primeira pessoa de um país em desenvolvimento a liderar a lista de mais ricos do mundo da revista Forbes, em 2010. Apesar da riqueza e do império construído, procura manter uma vida longe dos holofotes e das revistas de fofocas. No México, o magnata é visto como um empresário bem-sucedido que mantém bom

relacionamento com a política, apesar de não se aliar diretamente com nenhum grupo, e comprometido com o desenvolvimento nacional.”

Fonte: *Ópera Mundi*. Disponível em: <http://operamundi.uol.com.br/conteudo/noticias/37449/da+america+a+asia+conheca+os+cinco+setores+da+economia+mundial+influenciados+por+carlos+slim.shtml>. (Acesso: 18/08/2014).

Os setores em que a personagem em questão tem influência mundial são:

- a) Petróleo e jornalismo.
- b) Automobilístico e Fundos de ações.
- c) Jornalismo e Farmacêutico.
- d) Telecomunicações e mercado de luxo.
- e) Tecnologia e petróleo.

Exercício 200

(Imed 2018) Leia o fragmento textual abaixo.

“Quando se abriu um buraco nas nuvens, me pareceu que sobrevoávamos Budapeste, cortada por um rio. O Danúbio, pensei, era o Danúbio mas não era azul, era amarelo, a cidade toda era amarela, os telhados, o asfalto, os parques, engraçado isso, uma cidade amarela, eu pensava que Budapeste fosse cinzenta, mas Budapeste era amarela”

Fonte: BUARQUE, Chico. *Budapeste*. 2ª ed. São Paulo: Companhia das Letras, 2003, p. 11.

A partir do texto e de seus conhecimentos gerais e de Geografia, marque a alternativa INCORRETA:

- a) Budapeste, título do romance de Chico Buarque, é a capital da Hungria, país do leste europeu que durante a Guerra Fria (1947-1991) teve um governo ditatorial socialista.
- b) O rio Danúbio, mencionado pelo autor no texto, é um dos maiores da Europa, que além da Budapeste, atravessa outras capitais europeias, tais como Viena e Belgrado.
- c) O trecho do texto “era o Danúbio mas não era azul” é uma referência à valsa “Danúbio Azul”, composta por Johan Strauss II, em 1867.
- d) Budapeste, atravessada pelo rio Danúbio, é capital da Hungria, país da Europa Oriental que fazia parte da Iugoslávia, nação que se fragmentou nos anos 1990 em uma série de guerras civis.
- e) A Hungria, que tem como capital Budapeste, atualmente, é país membro da União Europeia e da Organização do Tratado do Atlântico Norte (OTAN).

Exercício 201

(G1 - ifpe 2020)

A autoridade da China é rejeitada em Hong Kong

Opinião da população de Hong Kong (em %)



Fonte: Programa de Opinião Pública da Universidade de Hong Kong

Disponível em: <<https://exame.abril.com.br/revista-exame/os-novos-alvos-de-trump/>>. Acesso em: 22 out. 2019.

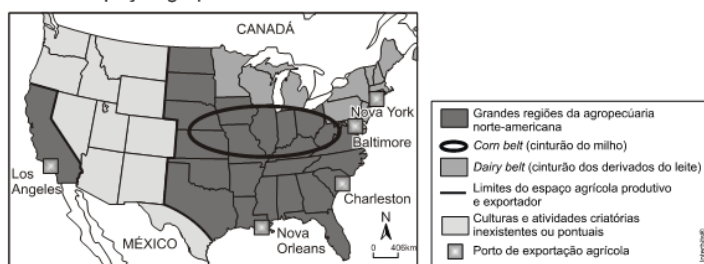
A frase "um país, dois sistemas", apresentada na figura, diz respeito

- a) à administração compartilhada de Hong Kong por China e Inglaterra.
- b) à imposição do comunismo chinês como sistema econômico em Hong Kong.
- c) ao controle de Hong Kong, politicamente, pela ONU e, economicamente, pela China.
- d) ao alto grau de autonomia de Hong Kong em relação à China.
- e) à existência de dois Estados independentes em Hong Kong.

Exercício 202

(Uerj 2013)

Espaço agropecuário norte-americano no início do século XXI



A agricultura norte-americana é organizada de acordo com o modelo empresarial, o que torna o espaço agropecuário do país fortemente vinculado à lógica econômica. O principal fator locacional que explica a posição do *Dairy Belt* é a presença de:

- a) sistema universitário desenvolvido
- b) mercado consumidor urbano expressivo
- c) rede de transporte propícia à exportação
- d) topografia plana favorável à mecanização

Exercício 203

(Mackenzie 2019) O colapso da economia argentina agita o tabuleiro político faltando pouco mais de um ano para as eleições gerais. Para reabrir a torneira do crédito, o Fundo Monetário Internacional (FMI) e os investidores privados exigem do presidente Mauricio Macri um plano econômico que elimine o déficit fiscal. Mas alcançar esse objetivo requer duros cortes nos gastos públicos e um acordo com a oposição peronista, um cenário pouco propício para as aspirações de reeleição de Macri em 2019.

A equipe econômica, muito contestada, anunciará [...] uma série de medidas destinadas a restabelecer a confiança dos mercados, enquanto os argentinos procuram como se resguardar de uma crise que se agrava cada vez mais.

Crise econômica encurrala Mauricio Macri. *El País*, 02 set. 2018.

Disponível em:

<<https://brasil.elpais.com/brasil/2018/09/01/internacional/1535819596>>

Acesso em: 21 set. 2018.

Considerando a reportagem acima e seus conhecimentos sobre o assunto tratado, avalie as afirmativas.

- I. Desde o início de 2018, houve grande desvalorização do peso em relação ao dólar, o que exigiu a intervenção do Banco Central argentino no mercado cambial para sustentar a moeda.
- II. De acordo com a maior parte dos especialistas, a Argentina é o país da América Latina onde reformas impopulares, relacionadas a ajustes fiscais, são realizadas com mais facilidade, devido às heranças do peronismo.
- III. A situação econômica da Argentina só não é pior em decorrência do eficiente controle da inflação, priorizado pela equipe econômica do governo. A expectativa é que o país feche 2018 com índice de 5,5%, um pouco maior que o do Brasil.

É correto o que se afirma em

- a) I, apenas.
- b) I e II, apenas.
- c) III, apenas.
- d) II e III, apenas.
- e) I, II e III.

Exercício 204

(Mackenzie 2018) Mais de 500 mil mortos em sete anos de Guerra na Síria

NATALIA SANCHA
Beirute 12 MAR 2018

Conflito também levou 5,6 milhões de sírios ao refúgio, incluindo 2,6 milhões de crianças e adolescentes.

A guerra civil na Síria, prestes a completar sete anos, já tirou a vida de 511.000 pessoas, segundo um balanço apresentado nesta segunda-feira pelo Observatório Sírio dos Direitos Humanos, uma organização que se tornou uma das fontes mais confiáveis graças à presença de informantes no terreno. Desse total, 353.935 mortos foram identificados, sendo 106.390 civis (incluindo 19.811 menores e 12.513 mulheres). As forças do presidente Bashar al Assad e seus aliados são responsáveis por

85% das vítimas civis. O Observatório, com sede no Reino Unido, contabilizou pelo menos outros 155.000 mortos com identidade desconhecida. Também nesta segunda-feira, o UNICEF (órgão da ONU para a infância) informou que os dois primeiros meses deste ano foram os mais mortíferos para as crianças sírias, com mais de 1.000 mortos e feridos.

Fonte:

https://brasil.elpais.com/brasil/2018/03/12/internacional/1520865451_577510.html (Unicamp 2016)

A respeito da guerra civil na Síria, julgue as afirmações a seguir.

I. O conflito teve início com um levante pacífico contra o regime do presidente Bashar al Assad. A precária situação dos direitos humanos, a corrupção governamental e o elevado desemprego motivaram os protestos que evoluíram para uma guerra civil quando o governo passou a empregar força letal.

II. Os principais apoiadores do governo são a Turquia e Arábia Saudita, já a Rússia e o Irã apoiam os grupos contrários a Bashar al Assad.

III. A milícia libanesa Hezbollah apoia fortemente o governo sírio, uma vez que é composta por muçulmanos de origem Xiita, opondo-se historicamente aos Estados Unidos e Israel.

É correto o que se afirma em

- a) I, apenas.
- b) I e II, apenas.
- c) II e III, apenas.
- d) I e III, apenas.
- e) I, II e III.

Exercício 205

(Ufpr 2020) A compra da remota Ilha da Groenlândia proposta pelo presidente dos EUA, Donald Trump, pode soar estranha. Afinal, trata-se do território menos povoado da Terra, com mais de 2 milhões de quilômetros quadrados – mais ou menos um quarto da área do Brasil – e apenas 57 mil habitantes. (Disponível em: noticias.uol.com.br/ultimas-noticias/bbc/2019/08/22/por-que-remota-groenlandia-interessante-aos-eua-e-a-china.htm.)

Ponderando a dimensão e o alcance geopolítico do tema, considere as seguintes afirmativas:

1. A região ártica inclui territórios pertencentes ao Canadá, Finlândia, Groenlândia, Islândia, Noruega, Rússia, Suécia e Estados Unidos.
2. Os Estados Unidos possuem uma estratégia já consagrada de atuação na região ártica, construída a partir da aquisição do Alasca junto ao Império Russo em 1867.
3. A Rússia é o país com maior presença no Ártico e o melhor preparado para enfrentar as severidades da região.
4. Os efeitos do aquecimento global se manifestam no Ártico e o derretimento do gelo está permitindo um acesso mais fácil à região, chamando a atenção das nações árticas sobre ganhos e perdas potenciais a alcançar.

Assinale a alternativa correta.

- a) Somente a afirmativa 2 é verdadeira.
- b) Somente as afirmativas 1 e 3 são verdadeiras.
- c) Somente as afirmativas 1 e 4 são verdadeiras.
- d) Somente as afirmativas 2, 3 e 4 são verdadeiras.
- e) As afirmativas 1, 2, 3 e 4 são verdadeiras.

Exercício 206

(Unicamp 2016) País da África Austral que se tornou independente em 1975 após séculos de colonialismo europeu. No período posterior à independência, a terra passou a ser propriedade do Estado, com predomínio de uso pela população camponesa e com forte participação das mulheres na produção agrícola familiar. De 1976-1992 vivenciou intensos conflitos produzidos pela guerra civil envolvendo dois dos principais grupos armados do país.

O texto acima faz referência ao seguinte país:

- a) Congo.
- b) África do Sul.
- c) Moçambique.
- d) Nigéria.

Exercício 207

(Espcex (Aman) 2018) "a União Europeia (UE) atrai muitos imigrantes, principalmente a porção mais rica do bloco. Imigrantes vindos das ex-colônias europeias, em especial da África e da Ásia, procuram se estabelecer em suas antigas metrópoles. [...] Também é significativa a imigração dos países mais pobres do Leste Europeu para a porção mais rica da União Europeia."

Terra, L.; Araújo, R.; Guimarães, R. *Conexões: Estudos de Geografia Geral e do Brasil*, 3 ed, São Paulo: Moderna, 2015, p.92.

Sobre a questão imigratória na Europa, especialmente na União Europeia (UE), podemos afirmar que

- I. o Espaço Schengen, constituído, dentre outros, por todos os países que compõem a UE, foi implantado por um acordo, em 1985, e prevê o fim do controle das fronteiras e a livre circulação de pessoas entre os países membros.
- II. a livre circulação de pessoas entre os países da UE tem se mostrado um problema, por isso os países membros tentam impedir qualquer fluxo imigratório, uma vez que quem consegue entrar em um dos países do bloco pode circular livremente pelos demais.
- III. em virtude da imigração magrebina, uma das principais comunidades muçulmanas na UE encontra-se na França e sua presença funciona como pretexto para campanhas políticas de cunho xenofóbico.
- IV. do ponto de vista econômico, o fluxo de imigrantes tem impactos positivos, pois ameniza o processo de envelhecimento da população e fornece mão de obra barata para a maioria das funções rejeitadas pelos europeus.
- V. os fluxos imigratórios têm grande impacto demográfico na UE, visto que a maior parte do crescimento populacional do bloco não decorre do crescimento vegetativo, mas sim dos saldos migratórios.

Assinale a alternativa que apresenta todas as afirmativas corretas.

- a) I, II e IV
- b) I, II e V
- c) I, III e V
- d) II, III e IV
- e) III, IV e V

Exercício 208

(Uerj 2020) CERCO DE TRUMP DÁ FORMA À ARTE NA BIENAL DE HAVANA



Um peso que pesa outro peso, e este outro, e assim por diante, até chegar a seis balanças romanas encadeadas, que se sustentam entre si de um modo inverossímil – metáfora de como funciona atualmente a economia cubana, sempre em um precário equilíbrio que se mantém enquanto uma força não interferir.

Trata-se de uma instalação do artista Marco Castillo, chamada “Gabriel”. Feita de aço e chumbo, mede quase cinco metros de altura e é parte de Intercessões, uma das muitas exposições inauguradas na 13ª Bienal de Havana, sob o título “A construção do possível”, em cujo programa figuram mais de 300 criadores de 50 países.

Adaptado de brasil.elpais.com, 24/04/2019.

Na 13ª Bienal de Havana, muitas obras dialogavam com aspectos atuais das condições de vida em Cuba, indicando transformações econômicas ocorridas recentemente.

Um fator determinante para esse novo cenário econômico é:

- a) modernização agrícola
- b) dinamização do comércio
- c) regulamentação trabalhista
- d) ampliação da informalidade

Exercício 209

(G1 - ifce 2016) Sobre o Canal de Suez, no Egito, é correto afirmar-se que

- a) durante a 2ª Guerra Mundial surge o nacionalismo no Egito e com ele a revogação do tratado anglo-egípcio de 1936 sobre o canal.
- b) localizado no istmo de Suez, foi criado com o intuito de ligar o Mar Mediterrâneo ao Mar Vermelho, projeto que remonta à época

dos faraós do Egito.

c) para o mundo, um dos fatores de importância deste canal é a logística. Por ele há a possibilidade de se chegar até a América do Sul, saindo da Europa, sem precisar contornar a África, pelo Cabo da Boa Esperança (o que era feito antes de sua construção).

d) a “Convenção de Constantinopla”, que garantia a utilização do canal de forma restrita, autoriza o seu uso apenas pelas nações europeias. Atualmente é controlado e operado pela entidade estatal, denominada Autoridade do Canal de Suez (SCA), criada pelo Egito e responsável pela gestão do tráfego computadorizado, apoiado por radar e mais 14 estações de pilotos.

e) no quesito econômico, as taxas de portagens pagas pelos navios representam uma irrelevante fonte de renda para o governo egípcio, devido a pouca utilização deste canal.

Exercício 210

(Espm 2015) O Kremlin anunciou que faria parte do projeto e, segundo diplomatas, não se exclui a possibilidade de esse envolvimento abrir espaço para uma presença militar mais forte de russos na América Latina.

Fonte: *O Estado de São Paulo*. Disponível em:

<http://internacional.estadao.com.br/noticias/geral,china-e-russia-se-unem-em-plano-imp,1559870>.

O texto faz referência a projeto de uma obra estratégica de grande envergadura tocada pelo consórcio China-Rússia. Trata-se do(da):

- a) Terminal de Mariel, em Cuba.
- b) Transporte energético América-Ásia.
- c) Canal da Nicarágua.
- d) Modernização do Canal do Panamá.
- e) Integração energética sul-americana.

Exercício 211

(Espcex (Aman) 2015) Logo após a Segunda Guerra Mundial, a estrutura econômica regional norte-americana sofreu um profundo rearranjo resultante da perda de dinamismo industrial do *Manufacturing Belt*. Os novos investimentos promoveram concentração de indústrias no Oeste e no Sul dos Estados Unidos.

Entre os fatores que contribuíram para o redirecionamento dos investimentos para o Oeste e para o Sul dos Estados Unidos, nesse período, podemos destacar

- I. a limitada disponibilidade de ferro e carvão mineral nas jazidas da região do *Manufacturing Belt*, minerais estes indispensáveis à indústria siderúrgica.
- II. o interesse comercial pela bacia do Pacífico, haja vista a reconstrução econômica do Japão nesse período.
- III. a produção crescente de petróleo no Golfo do México.
- IV. a grande disponibilidade de matéria-prima pesada nessas novas regiões, fundamental para a expansão da indústria de alta tecnologia, fortemente dependente de tais fontes.
- V. a possibilidade de redução dos custos com a força de trabalho, uma vez que as novas empresas estariam distantes dos sindicatos operários do *Manufacturing Belt*.

Assinale a alternativa em que todas as afirmativas estão corretas.

- a) I e III
- b) III e IV
- c) I, II e IV
- d) I, III e V
- e) II, III e V

Exercício 212

(Mackenzie 2016) **Nigéria: sequestro completa 1 ano com meninas desaparecidas**

Em 14 de abril de 2014, as atenções do mundo se voltaram para o remoto povoado de Chibok, no noroeste da Nigéria. Lá, 276 adolescentes tinham sido sequestradas por militantes do grupo extremista muçulmano Boko Haram, enquanto dormiam em uma escola.

BBC BRASIL.com, 14 abr. 2015

A respeito da manchete em destaque, analise as seguintes afirmações:

- I. O país citado é considerado o mais populoso do continente africano.
- II. A bacia do rio Níger abrange a maior parte do território nigeriano, favorecendo a atividade agrícola, porém a base da economia é a extração de petróleo.
- III. O grupo extremista Boko Haram originou-se no Sul do país, nos Estados de Ondo e Delta, onde os grupos islâmicos prevalecem.
- IV. Dentre os objetivos do Boko Haram estão: o estabelecimento da Sharia, combater a corrupção, a educação ocidental e o cristianismo em todo o país.

Estão corretas:

- a) I e II, apenas.
- b) I, II e III, apenas.
- c) I, II e IV, apenas.
- d) I, III e IV, apenas.
- e) I, II, III e IV.

Exercício 213

(G1 - cftce 2005) Entre os vários fatores que explicam a criação da CEI (Comunidade de Estados Independentes), não ocorreu:

- a) facilidade da entrada de seus membros na União Europeia
- b) integração da economia e das finanças, ou seja, forte interdependência entre as ex-repúblicas, inclusive a existência de moeda única
- c) existência de forças armadas unificadas
- d) arsenal nuclear espalhado por algumas ex-repúblicas
- e) dependência, entre elas, de matérias-primas para o funcionamento de suas indústrias

Exercício 214

(Uepg 2013) No que diz respeito apenas a países, estados ou cidades que sejam capitais nacionais ou estaduais das Américas do Norte, Central ou do Sul, assinale o que for correto.

- 01) Canadá, Califórnia, Belize, Tegucigalpa, Havana e Santiago.
- 02) Guatemala, Tocantins, La Paz, Montevideú, Jamaica e Manágua.
- 04) Bolívia, Angola, Roraima, Trípoli, Buenos Aires e Malta.
- 08) Colômbia, Caracas, Túnis, Cidade do Cabo, Vermont e México.
- 16) Nicarágua, Montreal, Níger, Nairóbi, Arizona e Florianópolis.

Exercício 215

(Espcex (Aman) 2018) Sabe-se que o poder global dos Estados Unidos da América (EUA) é multidimensional, expressando-se, por exemplo, nos campos econômico, financeiro e cultural. Contudo, de todas as dimensões do poder, merecem especial destaque os campos geopolítico e militar. Quanto a estes últimos, no que diz respeito à distribuição e ação do poder militar norte-americano pelo globo, no início do século XXI, podemos afirmar que

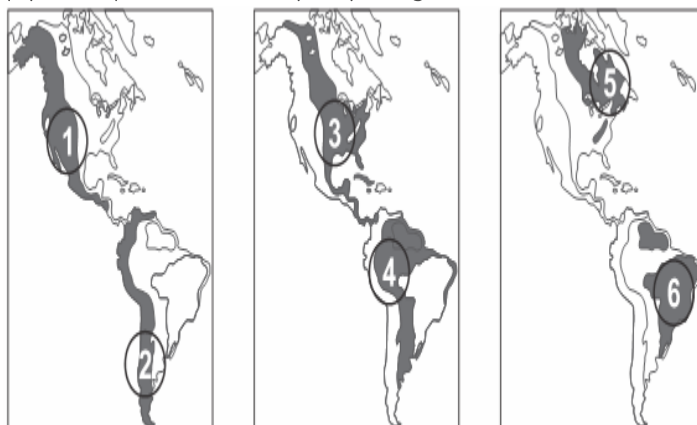
- I. em países europeus da Organização do Tratado do Atlântico Norte (Otan), como é o caso da Alemanha, da Grã-Bretanha e da Itália, situam-se grandes bases do Exército, da Marinha e da Força Aérea norte-americana.
- II. na Europa e na Ásia/Pacífico, como reflexo da Guerra Fria, estão as duas principais concentrações de forças dos Estados Unidos no exterior.
- III. o Japão e o Vietnã se destacam como principais aliados da orla oriental asiática, onde se situam grandes bases do Exército, da Marinha, da Força Aérea e dos fuzileiros navais dos EUA.
- IV. a "guerra ao terror", proposta no governo George W. Bush, traduziu-se, para o Oriente Médio, no envolvimento dos EUA em dois grandes conflitos regionais, um no Iraque e outro na Síria.
- V. o Hawái, estado norte-americano de além-mar, e a ilha de Diego Garcia funcionam como importantes centros de operações, respectivamente, nos oceanos Pacífico e Índico.

Assinale a alternativa que apresenta todas as afirmativas corretas.

- a) I, II e III
- b) I, II e V
- c) I, III e IV
- d) III, IV e V
- e) II, IV e V

Exercício 216

(Upf 2017) Observe os mapas que seguem.



(Fonte: FERREIRA, Graça Maria. Geografia em mapas. São Paulo: Moderna, 2002, p.8. Adaptado)

Assinale a alternativa que faz a **correta** relação com as regiões marcadas e com as informações correspondentes.

- a) A Planície Platina (4) forma uma depressão entre os planaltos das Guianas e o Brasileiro e guarda a maior reserva de águas subterrâneas da América, o Aquífero Guarani.
- b) As Montanhas Rochosas (1) impedem a passagem das massas de ar oceânicas, provocando chuvas na vertente oeste e aridez na parte leste.
- c) O Escudo das Guianas (6) é formado por dobramentos modernos, com elevações muito acentuadas, e vive um processo de vulcanismo intenso.
- d) A cordilheira dos Andes (2) se desenvolve no sentido norte-sul, ao longo do oceano Pacífico, formada por rochas cristalinas antigas e rica em minério de ferro.
- e) Na América do Norte, os maciços antigos (1) e os dobramentos modernos (5) margeiam uma extensa planície sedimentar (3), onde se localiza a capital, Washington.

Exercício 217

(Uemg 2018) “A Espanha, assim como inúmeros outros Estados atualmente constituídos, é um território multinacional, ou seja, é formada por várias nações ou por diversos grupos étnicos regionais com identidade nacional diferenciada àquela do país ao qual pertencem. Nesse sentido, esse território é um dos principais locais do mundo em que há movimentos separatistas, com um forte clamor pela independência local em busca da constituição de um novo país.”

Disponível em:

<<http://mundoeducacao.bol.uol.com.br/geografia/movimentos-separatistas-na-catalunha.htm>>. Acesso em: 23 nov. 2017.

Referente às diversas nacionalidades que coexistem no território estatal da Espanha, assinale a alternativa correta.

- a) A segunda maior comunidade populacional da Espanha é a Catalã, a qual só é inferior à comunidade Andaluzia.
- b) As comunidades autônomas na Espanha começaram a existir logo após o fim da Guerra Civil espanhola em 1939.
- c) Dentre as comunidades autônomas que lutam oficialmente pelo separatismo na Espanha, estão grupos étnicos Bascos, Catalães, Madrilenhos e Galegos.
- d) O quadro Guernica de Pablo Picasso buscou representar exatamente a diversidade étnica espanhola durante a 1ª Guerra Mundial.

Exercício 218

(Uerj 2019)

MAPA 1 – ORIENTE MÉDIO DAS MINORIAS



MAPA 2 – ORIENTE MÉDIO ATUAL



Adaptado de libertesinternets.wordpress.com.

O primeiro mapa apresenta o Oriente Médio em um cenário hipotético no qual as reivindicações de autodeterminação das principais minorias fossem atendidas; já o segundo mostra a divisão política atual do mesmo recorte espacial.

A principal explicação para as diferenças entre os dois mapas, no que se refere à configuração territorial, está indicada em:

- a) predomínio numérico da etnia árabe
- b) ação intervencionista do governo estadunidense
- c) interferência histórica do imperialismo europeu
- d) homogeneidade religiosa da população regional

Exercício 219

(Ebmsp 2017) Ao falar em China, geralmente pensamos em sua grandeza: a maior população do mundo, o terceiro maior território em área, uma das maiores construções já realizadas pela humanidade – a Grande Muralha da China. Nas últimas três décadas, a China também se notabilizou pelas imponentes taxas de crescimento, acima dos 10% ao ano, o que alavancou o país ao posto de segunda maior economia do planeta, atrás apenas dos Estados Unidos.

SUZIN, Giovana Moraes. Uma potência em transição. *Atualidades*. São Paulo: Abril, e. 24, 2º sem, 2016, p. 48-53. Adaptado.

Com base no texto e nos conhecimentos sobre a importância da China no espaço geográfico mundial, pode-se afirmar:

- a) O PIB chinês aumenta ano a ano, indicando desenvolvimento excepcional do país, fato que ameaça a soberania norte-americana.
- b) A população do país, apesar do desenvolvimento econômico registrado, ainda é, predominantemente, rural.
- c) A inexistência de empregos informais indica uma distribuição de renda homogênea, principalmente, nos centros urbanos.
- d) A crise econômica internacional não afetou a China como nos demais países, porque ela passou a priorizar o mercado interno para diminuir a dependência do mercado externo.
- e) O crescimento da China, entre outros fatores, pode ser explicado porque ela é que estabelece os preços das *commodities* no mercado interno.

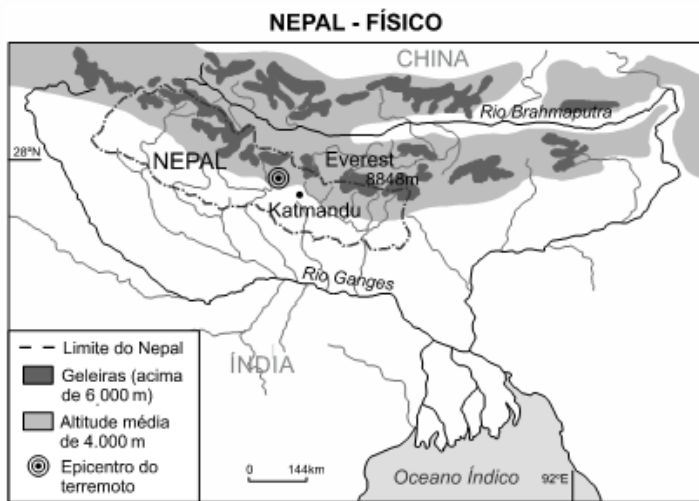
Exercício 220

(Fgvjr 2016) Os governos dos Estados Unidos da América (EUA) e de Cuba tornaram públicas, em 17 de dezembro de 2014, suas intenções de reaproximação diplomática. Desde então, algumas medidas foram tomadas para concretizar essa reaproximação. Assinale a alternativa que indica uma dessas medidas.

- a) A retirada de Cuba da lista americana de países patrocinadores do terrorismo.
- b) A libertação de todos os presos políticos em Cuba.
- c) O fim do embargo econômico norte-americano a Cuba.
- d) A repatriação das propriedades norte-americanas confiscadas pelo governo cubano na revolução de 1962.
- e) O fechamento da prisão da Baía de Guantánamo, na ilha de Cuba.

Exercício 221

(Fuvest 2016) Observe o mapa abaixo e leia o texto a seguir.



O terremoto ocorrido em abril de 2015, no Nepal, matou por volta de 9.000 pessoas e expôs um governo sem recursos para lidar com eventos geológicos catastróficos de tal magnitude (7,8 na Escala Richter). Índia e China dispuseram-se a ajudar de diferentes maneiras, fornecendo desde militares e médicos até equipes de engenharia, e também por meio de aportes financeiros.

Considere os seguintes motivos, além daqueles de razão humanitária, para esse apoio ao Nepal:

I. interesse no grande potencial hidrológico para a geração de energia, pois a Cadeia do Himalaia, no Nepal, representa divisor

de águas das bacias hidrográficas dos rios Ganges e Brahmaputra, caracterizando densa rede de drenagem; II. interesse desses países em controlar o fluxo de mercadorias agrícolas produzidas no Nepal, através do sistema hidroviário Ganges-Brahmaputra, já que esse país limita-se, ao sul, com a Índia e, ao norte, com a China; III. necessidades da Índia e, principalmente, da China, as quais, com o aumento da população e da urbanização, demandam suprimento de água para abastecimento público, tendo em vista que o Nepal possui inúmeros mananciais.

Está correto o que se indica em

- a) I, apenas.
- b) II, apenas.
- c) I e III, apenas.
- d) II e III, apenas.
- e) I, II e III.

Exercício 222

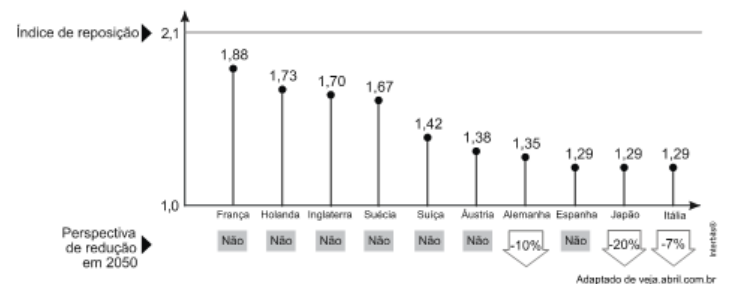
(Ufu 2019) Terceira maior economia mundial da atualidade, o Japão observou um processo de desaceleração econômica, acentuadamente na década de 1990.

A principal causa desse processo deve-se

- a) à queda nas exportações dos produtos japoneses destinados a seus vizinhos asiáticos, aos Estados Unidos e à Europa.
- b) ao endividamento excessivo das famílias e das empresas, o que produziu um aumento artificial dos imóveis e de outros ativos no final de 1980.
- c) à concorrência tecnológica e industrial imposta por países como Vietnã, Malásia e Tailândia, que passaram a dominar o mercado consumidor europeu.
- d) ao crescimento demográfico excessivo e à falta de alimentos necessários à população crescente, aumentando a importação de gêneros agrícolas.

Exercício 223

(Uerj 2013)



A despeito das taxas de fecundidade apresentadas, a estabilidade demográfica, projetada para vários países desenvolvidos em 2050, baseia-se em fenômenos atuais, com destaque para:

- a) redução da natalidade, estabelecida pela maior expectativa de vida
- b) expansão da mortalidade, provocada pelo envelhecimento dos grupos etários
- c) deslocamento populacional, condicionado pelas disparidades socioeconômicas

d) demanda por mão de obra qualificada, favorecida por políticas governamentais

Exercício 224

(Ufjf-pism 3 2020)

A cidade que ruiu com sua indústria

“São milhares de casas e apartamentos abandonados, alguns deles destruídos pelas fogueiras que os sem-teto acendem para lutar contra o frio de 20 graus negativos das madrugadas. Parte de Detroit, no estado de Michigan, é um cenário de documentário sobre o fim do mundo. Despossuídos vagam pelas ruas como autômatos, com suas juntas enrijecidas pelo vento gelado. Em 60 anos, os habitantes de Detroit decresceram de 1,8 milhão de pessoas para os atuais 750 mil. Como não poderia deixar de ser, a cidade ruiu com suas indústrias. A General Motors extinguiu duas de suas marcas, Pontiac e Saturn. E vendeu outras duas, Hummer e Saab. Fechou 14 linhas de montagem e centros de distribuição. De suas 6,2 mil concessionárias nos Estados Unidos e no Canadá, eliminou 1,2 mil”.

Fonte: adaptado de <http://epocanegocios.globo.com>. Acesso em 17/07/2019.

Com relação ao fragmento acima, apresente pelo menos TRÊS causas que expliquem taxas econômicas e demográficas decrescentes ocorridas em Detroit, outrora um importante polo industrial automobilístico, nas últimas décadas.

Exercício 225

(Uerj 2020)

PRINCIPAIS PAÍSES PARA ONDE EMIGRAM OS ESTADUNIDENSES (2017)		PRINCIPAIS PAÍSES DE ORIGEM DOS IMIGRANTES NOS ESTADOS UNIDOS (2017)	
PAÍS DE DESTINO	QUANTIDADE	PAÍS DE ORIGEM	QUANTIDADE
México	900.000	México	12.680.000
Canadá	310.000	China	2.420.000
Reino Unido	190.000	Índia	2.310.000
Porto Rico	160.000	Filipinas	2.080.000
Alemanha	140.000	Porto Rico	1.900.000
Austrália	120.000	Vietnã	1.410.000
Israel	80.000	El Salvador	1.390.000
Coreia do Sul	70.000	Cuba	1.250.000
Itália	60.000	Coreia do Sul	1.180.000
Japão	60.000	República Dominicana	1.070.000
Total de nascidos nos Estados Unidos vivendo em outros países	3.020.000	Total de nascidos em outros países vivendo nos Estados Unidos	49.780.000

Adaptado de pewglobal.org, 2017.

Com base na análise da tabela, aponte uma diferença socioeconômica entre o conjunto dos países para onde emigram os estadunidenses e o conjunto dos países de origem dos imigrantes que vivem nos E.U.A.

Explique, também, a desproporção entre o quantitativo total de emigrantes e imigrantes.

Exercício 226

(Unesp 2018) Considere a imagem e o excerto.



Após décadas de perplexidade e frustração, o mundo ainda está tentando descobrir o segredo do sucesso dessa região. Países de todo o mundo estão fazendo o melhor que podem para copiar sua magia. Na China, por exemplo, empresas de vários ramos da indústria aumentaram seus investimentos em setores considerados cruciais para o sucesso observado em aproximadamente 64% ao ano, durante os últimos cinco anos.

(Barry Jaruzelski. www2.uol.com.br. Adaptado.)

- a) O excerto e a imagem dialogam ao retratarem uma importante região. Identifique que região é essa e cite uma de suas características.
- b) Cite dois setores considerados cruciais, nos quais se deveria investir, para tentar copiar a “magia” dessa região.

Exercício 227

(Ufu 2019) O Parlamento da Ucrânia decidiu, no dia 26/11/18, declarar lei marcial depois que navios russos atiraram contra embarcações do país na costa da Criméia. Para a Ucrânia, o episódio que resultou em tripulantes feridos e capturados foi um “ato de agressão”. Do outro lado, Moscou afirmou que os navios haviam “entrado em suas águas ilegalmente”.

Disponível em:

<<https://g1.globo.com/mundo/noticia/2018/11/26>>. Acesso: 20 mar. 2019. (Adaptado)

O confronto ocorrido no Mar Negro, relatado na reportagem, marca um novo episódio na crescente tensão entre os dois países.

- a) Explique as causas do acirramento dos conflitos entre Rússia e Ucrânia.
- b) Qual é o interesse da OTAN e dos aliados da Ucrânia em apoiar o presidente ucraniano?

Exercício 228

(Ufjf-pism 3 2015) Leia o texto e o mapa a seguir.

Prêmios Nobel pessimistas

Grandes nomes da economia apontam que já existe uma nova Guerra Fria que poderia contribuir para a decadência da Europa POR GRAÇA MAGALHÃES-RUETHER / CORRESPONDENTE

BERLIM – Desde a queda do muro de Berlim, há quase 25 anos, o perigo de uma guerra na Europa nunca foi tão grande quanto atualmente. A conclusão é de 17 prêmios Nobel de economia, que estiveram reunidos (...) em Lindau, no sul da Alemanha, para o seu encontro anual, mas também de Volker Ruhe, ex-ministro da defesa da Alemanha. Em uma pesquisa de opinião feita pelo jornal “Die Welt”, os gênios da economia afirmaram que já existe uma nova Guerra Fria, o que poderia contribuir para a decadência da Europa também do ponto de vista econômico.

Crimeia



Disponível em: <http://www.jornalnh.com.br/_midias/jpg/2104/03/03/info_crimea-110194.jpg>. Acesso em: 30 ago. 2014.

- Por que a Rússia anexou a Crimeia?
- Por que o conflito na Ucrânia está sendo considerado como a causa de uma “nova” Guerra Fria?

Exercício 229

(Fuvest 2009)



Fonte: Simielli, Geografias, 2007. Adaptado.

O conflito envolvendo Geórgia e Rússia, aprofundado em 2008, foi marcado por ampla repercussão internacional. Outros conflitos, envolvendo países da ex-União Soviética, também ocorreram.

- Explique a relação entre o fim da União Soviética e a proliferação de movimentos separatistas na região.
- Explique como a Rússia reagiu ao movimento pela independência da Ossétia do Sul e aponte as razões que motivaram essa reação.
- Cite outro exemplo de movimento separatista recente nessa região.

Exercício 230

(Fgvjr 2020) *Os 60 anos da UE: envelhecimento e crescimento econômico.*

Nos 60 anos de existência da União Europeia (UE), ocorreram profundas mudanças sociais, às quais nenhum país se adaptou totalmente. A principal delas é o envelhecimento cada vez mais acentuado das populações, seja no «centro», como a Alemanha, seja nas «periferias» do Leste e do Sul. Os efeitos do atual nível de envelhecimento não têm precedentes e são particularmente negativos em termos econômicos, em numerosos países da UE. Toda a Europa é hoje prisioneira dessa mudança estrutural.

Adaptado de VILLAVERDE CABRAL. Extraído do site Observatório. 2018.

A partir do texto,

- analise os comportamentos demográficos que explicam o quadro apresentado;
- apresente dois impactos do envelhecimento da população para a economia;
- indique mudanças no setor industrial e nos serviços em decorrência das características demográficas apresentadas.

Exercício 231

(Ufu 2016) A Alemanha disse que poderá receber até 500 mil refugiados por ano nos próximos anos, mas voltou a pedir que outros países também recebam imigrantes e refugiados, diante da pior crise desde a Segunda Guerra Mundial. Sigmar Gabriel, vice-chanceler alemão (equivalente ao cargo de vice-primeiro-ministro), disse que a economia alemã é forte e, assim, o país poderia aceitar um número desproporcional de imigrantes.

Disponível em: <http://www.bbc.com/portuguese/noticias/2015/09/150908_europa_ref>. Acesso em: 17 de fev. 2016.

A partir do texto e de seus conhecimentos sobre o assunto, responda:

- Por que a Alemanha está disposta a receber grandes levas de refugiados oriundos do norte da África e do Oriente Médio?
- Por que, ao contrário da Alemanha, alguns países da Europa, como Hungria, Irlanda e Dinamarca, estão impondo restrições para a entrada de imigrantes?

Exercício 232

(Ufmg 2013) Leia este trecho:

Eurocopa & eurocrises

Sempre gostei da Eurocopa. O futebol é um pormenor. As minhas razões são políticas. Gosto da Eurocopa porque ela é a expressão tangível (e bem ruidosa) da diversidade nacional europeia que nenhuma construção federal será capaz de suprimir. Dias atrás, a chanceler Angela Merkel [alemã] declarou em entrevista: a solução para os problemas do euro passa por mais “integração” dos países da zona do euro. [...]

Angela Merkel, claro, não lê a imprensa portuguesa. Se lesse, veria o que escreveram a respeito do jogo Alemanha x Portugal (que os portugueses, injustamente, perderam por 1 a 0). A retórica antigermânica era violenta, o que se entende; o país está sob resgate financeiro internacional, com a bênção punitiva da Alemanha.

Mas as rivalidades que a Eurocopa oferece não são apenas explicadas por crises econômicas momentâneas. Existem também memórias históricas que persistem em retornar à superfície.

Jogos como Polônia x Rússia ou França x Inglaterra são evocações fantasmagóricas de lutas seculares que deixaram sua pegada arqueológica. Quando essas equipes se voltarem a enfrentar na Eurocopa, não será apenas de futebol que a mídia irá falar.

[...]

Na Europa, não existe um único país; nem sequer como pretendem os federalistas, diferentes “regiões” que podem fazer parte de um super Estado com capital em Bruxelas.

O que existe são nações múltiplas que, na hora do confronto desportivo, regressam a um sentimento primordial de pertença: a uma língua, uma cultura, uma identidade.

Coutinho, João Pereira. In: *Folha de S.Paulo*, p. E6. Ilustrada. 12 de junho de 2012. (adaptado)

A partir da análise e interpretação desse trecho, FAÇA o que se pede:

- O jornalista português João Pereira Coutinho estabelece uma relação entre o comportamento das torcidas, a história e a situação econômica europeia atual. APRESENTE dois argumentos que comprovam a relação estabelecida pelo autor.
- Pode-se perceber pela leitura do trecho que o jornalista tem uma posição com relação à integração europeia. EXPLIQUE qual é essa posição, justificando-a.

Exercício 233

(Unicamp 2020)



Fonte: <http://www1.folha.uol.com.br/mundo/2019/06/guarda-chuva-se-firma-como-simbolo-da-democracia-em-hong-kong.shtml>. Acessado em 01/10/2019.)

No final do século XX, Hong Kong tornou-se uma “Região Administrativa Especial” da China. Em teoria, gozará de semi-autonomia até 2047, quando a China terá plenos poderes sobre a ilha. Hong Kong tem moeda própria, mas não é independente em termos de defesa e diplomacia, ou seja, seu *status* político-administrativo é híbrido, fruto de um acordo – a “Declaração Conjunta” de 1984 – entre a China e um governo estrangeiro que

tutelou a ilha por 99 anos, a partir de 1898. Em 1997 entrou em vigor o acordo, sob a conhecida fórmula “um país, dois sistemas”. A partir de 2014, movimentos de contestação social ganharam relevo em Hong Kong.

Com base no enunciado e em seus conhecimentos, responda às questões.

- Que nação manteve domínio sobre Hong Kong por 99 anos? Explique a expressão “um país, dois sistemas”.
- Sob que denominação ficou conhecida a revolta iniciada em 2014 e intensificada em 2019? Apresente pelo menos uma reivindicação dos manifestantes.

Exercício 234

(Uel 2020) Observe a figura a seguir.



Com base na figura e considerando as Zonas Econômicas Especiais (ZEEs) industriais no processo produtivo chinês e o contexto das relações comerciais na atualidade, responda aos itens a seguir.

- O que são as Zonas Econômicas Especiais?
- Justifique a localização das ZEEs no território chinês.

Exercício 235

(Uel 2017) Leia o texto a seguir.

O Brasil é signatário da Convenção das Nações Unidas de 1951 sobre o Estatuto dos Refugiados e do seu Protocolo de 1967. Em julho de 1997, promulgou a Lei de Refúgio nº 9.474/1997, que contempla os principais instrumentos regionais e internacionais sobre o tema e que garante documentos básicos aos refugiados, incluindo carteira de identidade e de trabalho, da liberdade de ir e vir no território nacional e outros direitos civis. Nos últimos cinco anos, as solicitações de refúgio no Brasil passaram de 966, em 2010, para 28.670, em 2015.

Adaptado de: <<http://www.justica.gov.br/noticias/brasil-tem-quase-9-mil-refugiados-de-79-nacionalidades-1>>. Acesso em: 3 out. 2016.

Nesse contexto, o Brasil recebeu um grande número de refugiados, sobretudo, de um país asiático, no qual mais da metade da população foi forçada a deixar as suas casas.

Indique o nome desse país, a região geográfica de origem e a principal causa do grande fluxo de refugiados, que ocorre desde março de 2011.

Exercício 236

(Ufu 2015) Desde o início de sua ofensiva, em 9 de junho de 2014, o grupo jihadista Estado Islâmico avançou de forma exponencial. Beneficiado pela fraqueza e sectarismo do estado iraquiano e pela guerra civil na Síria, os radicais ganharam reforços e conquistaram novos territórios, propagaram o terror a partir da dizimação de minorias étnicas e chocaram o mundo com a execução de vítimas inocentes. Hoje lideranças mundiais debatem uma coalizção capaz de parar os radicais, que avançam cada vez mais fortes e atroz.

Disponível em: <<http://noticias.terra.com.br/mundo/desvende-o-estado-islamico/>> Acesso em: 25 de fev.2015.

- O que é o Estado Islâmico e como surgiu?
- Qual é o principal objetivo do Estado Islâmico?

Exercício 237

(Fac. Albert Einstein - Medicina 2016) **África e racismo**

«Cartazes publicitários da indústria nascente do sabão em Portugal utilizam, respeitando o espírito do racismo 'cientificado', a pele negra dos africanos para promover a boa qualidade dos seus produtos. Por exemplo, o cartaz que se serve do rosto africano para mostrar a eficácia do sabonete. Não sem evocar um outro fantasma racista: não haveria africano que não sonhasse em desembaraçar-se da cútis negra, para poder integrar a sociedade da norma branca, que seria assim a única verdadeiramente humana.»

Isabel de Castro Henriques. "As marcas da inferioridade africana".

Apud: Regina Claro. *Olhar a África*. São Paulo: Hedra, 2012, p. 136. Adaptado.



Raul Caldeveilla. Cartão de propaganda, 1917. Biblioteca Nacional, Lisboa, Portugal.



Disponível em: <http://angodebates.blogspot.com.br/search?q=racismo> de 26/02/2008. Acesso em: 22/03/2015 Faculdade Israelita

«Mas não se pode esquecer que, como sistema, o colonialismo era intrínseca e necessariamente racista (...) A maioria negra foi sempre profunda e estruturalmente discriminada, pois, se não o fosse, o colonialismo não teria condições para se manter (...) implica entender que o racismo é uma questão sistêmica e não pessoal, pelo que o combate contra os fundamentos e os processos deste sistema e não contra as pessoas deve ser o foco do antirracismo».

João Melo. *O homem que não tira o palito da boca*. Luanda: Editorial Nzila, 2009. p. 42.

A partir dos textos e das imagens, e tendo em vista a questão do racismo, caracterize a colonização europeia da África, e a posterior descolonização.

Exercício 238

(Ufrn 2013) O Sudão, maior país da África, enfrentou uma guerra civil que começou na década de 1950, devido à rivalidade entre os árabes muçulmanos – grupo majoritário no norte do país – e a população negra do sul do país, onde os cristãos e os animistas são maioria. No dia 8 de julho de 2011, a divisão do país foi efetivada. A população do Sudão do Sul celebrou a sua independência, resultado de um referendo realizado no início do mesmo ano.

A situação do Sudão ilustra a dinâmica que diz respeito à delimitação territorial de países africanos e à persistência de conflitos existentes em suas fronteiras.

Em relação ao Continente africano, explique por que alguns países continuam a enfrentar problemas de instabilidade em suas fronteiras.

Exercício 239

(Fuvest 2010) Honduras é um país da América Central, cuja história, assim como a de outros países latino-americanos, é marcada pela dependência externa política e econômica.

Em 2009, Honduras esteve em evidência no noticiário político.

a) Explique por que esse país, bem como outros países da América Central, ficou conhecido como “Republiqueta das Bananas” ou “República das Bananas”.

b) Em junho de 2009, um jornal de grande circulação publicou uma reportagem intitulada: *Golpe em Honduras repete roteiro do século XX*. Identifique e explique duas características comuns ao golpe ocorrido em Honduras e a outros golpes ocorridos na América Latina, durante o período da Guerra Fria.

Exercício 240

(Ufu 2020) No Fórum Mundial em Davos (2020), a secretária executiva da CEPAL (Comissão Econômica para a América Latina e o Caribe), Alicia Bárcena, afirmou que “a desigualdade é a causa estrutural da agitação social na América Latina e no Caribe”.

Disponível em: CEPAL, 2019. <http://repositorio.cepal.org> Acesso em: 28 fev. 2020.

Sobre a temática apresentada no texto, responda.

a) Descreva as principais causas históricas da desigualdade social e econômica na região (América Latina e Caribe)?

b) Apresente dois países da região (América Latina e Caribe) onde a crise econômica e social tem se agravado na última década, identificando a principal causa desse processo.

Exercício 241

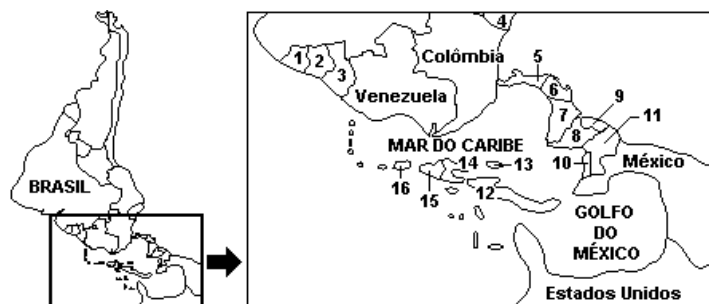
(Ufrj 2011) O bolero, o mambo, o calipso, a salsa, o reggae e o rap mostram a diversidade rítmica que caracteriza o mundo caribenho.



Apresente dois fatores que explicam a diversidade musical do Caribe.

Exercício 242

(Ufrj 2005) A visão estratégica dos Estados Unidos da América sobre o Caribe



- | | |
|-------------------|--------------------|
| 1-Guiana Francesa | 9-El Salvador |
| 2-Suriname | 10-Belize |
| 3-Guiana | 11-Guatemala |
| 4-Ecuador | 12-Cuba |
| 5-Panamá | 13-Jamaica |
| 6-Costa Rica | 14-Haiti |
| 7-Nicarágua | 15-Rep. Dominicana |
| 8-Honduras | 16-Porto Rico |

O mapa mostra a América do Sul e o Caribe na perspectiva do Comando Militar Unificado dos Estados Unidos da América.

Indique dois interesses econômico-estratégicos norte-americanos na região do Caribe.

Exercício 243

(Ufjf-pism 3 2019) Sobre a crise na Venezuela e os conflitos entre brasileiros e refugiados, leia o texto a seguir e responda às questões que seguem:

“Grupos de brasileiros estão perseguindo refugiados venezuelanos que vivem na cidade de Roraima e queimando seus pertences após um comerciante local ser surrado em uma tentativa de assalto na véspera. Agredidos com pedaços de pau, os refugiados foram expulsos das tendas que ocupavam na região na fronteira do Brasil com a Venezuela. [...]”

Das ruas da cidade, o confronto avançou para a fronteira. Com pedradas, um grupo fez venezuelanos recuarem para dentro de seu território, até que membros da guarda venezuelana no local disparassem tiros de advertência para evitar a deterioração da situação. [...]”

Este não é o primeiro incidente xenófobo no estado. Roraima chegou a receber cerca de 130 mil venezuelanos, que fogem da crise humanitária, econômica e política que assola o país do ditador Nicolás Maduro. [...] A maioria se dirigiu para Boa Vista. Mais da metade dessas pessoas, porém, já teria deixado o país, segundo o governo federal. Outra parcela foi interiorizada para estados como São Paulo e Rio de Janeiro.”

(PRADO, Avenir; MELLO, Patrícia Campos. Venezuelanos e brasileiros se confrontam nas ruas de cidade de Roraima. *Folha de São Paulo*, São Paulo, 19 mai. 2018. Mundo, p.A14.)

a) Indique **DUAS** causas da crise da Venezuela.

b) Cite **DOIS** fatores que levam ao conflito xenófobo.

Exercício 244

(Unicamp 2014) “Sabe-se que existe, em toda crise, a emersão de processos que antes permaneciam ocultos por controles institucionais. Algumas identidades sociais não se afirmavam no espaço público quando formas de identificação, mais facilmente aceitas, ocupavam a cena política. A crise, ao destruir certezas,

pode encadear outras práticas, possibilitando que identidades antes secundárias orientem a defesa de bandeiras de luta aparentemente ultrapassadas ou, até mesmo, mortas.

Exemplificam esta possibilidade os movimentos negro e indígena, na América Latina, e os contextos sociais em que se trava, hoje, a luta em torno do trabalho, envolvendo os desafios da economia popular”.

(Ana Clara Torres Ribeiro, “Leituras de movimentos: conjuntura, ação e poder”, em *Por uma sociologia do presente: ação técnica e espaço*. Rio de Janeiro: Letra Capital, 2013, p. 202.)

a) A luta dos movimentos indígenas na América Latina resultou, em boa medida, em avanços políticos significativos. Que contexto social permitiu a eleição do Presidente Evo Morales na Bolívia?

b) Que contexto econômico-social Latino-americano atual tem movido lutas em torno da constituição de economias populares, mais solidárias e menos excludentes?

Exercício 245

(Uerj 2013) *Chile, Colômbia, Peru e México assinam a Aliança do Pacífico*

Os presidentes do Chile, Colômbia, México e Peru subscreveram uma aliança para acelerar a integração entre os países de maior abertura comercial da América Latina. O bloco, que pretende avançar para uma livre circulação de bens, serviços, capitais e pessoas, espera que a Costa Rica se una a eles em curto prazo. Os membros da Aliança do Pacífico, com exceção da Colômbia, fazem parte do Foro de Cooperação Econômica Ásia-Pacífico, que reúne 21 países, entre eles a gigante China.

Adaptado de <elgualatino.com.br>, 18/06/2012.



Apresente dois argumentos favoráveis à decisão dos países integrantes da Aliança do Pacífico de formarem um bloco regional de comércio.

Em seguida, justifique a situação vantajosa resultante da posição geográfica do litoral desses países para a melhoria do seu desempenho no comércio internacional.

Exercício 246

<https://www.biologiatotal.com.br/medio/geografia/exercicios/volta-ao-mundo/ex.-1-uerj-2018-japao-china-e-tigres-asiaticos>

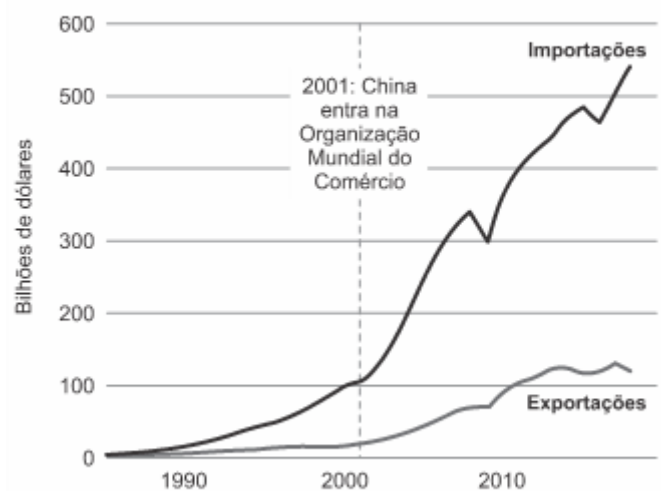
(Fuvest 2020) **China contra-ataca tarifas americanas com uma das armas que mais irritam Trump**

O Banco Central da China, no dia 5 de agosto de 2019, permitiu que o yuan, moeda oficial do país, ultrapassasse pela primeira vez uma barreira de onze anos na relação com o dólar americano. A cotação do yuan ficou acima de 7 para 1, num claro contra-ataque de Pequim às novas tarifas anunciadas pelo presidente Trump sobre US\$ 300 bilhões em produtos chineses.

O mercado teme que a medida provoque ainda mais a ira do presidente Trump, que acusa Pequim de desvalorizar artificialmente sua moeda para impulsionar as exportações. “Devido ao unilateralismo, ao _____(l)_____ comercial e às tarifas impostas à China, o yuan se depreciou em relação ao dólar americano, quebrando a barreira dos 7 para 1”, diz nota do Banco Central chinês.

Disponível em <https://www.gazetadopovo.com.br/>

Importação e exportação dos EUA no comércio com a China



Disponível em <https://www.bbc.com/portuguese/internacional/>. Adaptado.

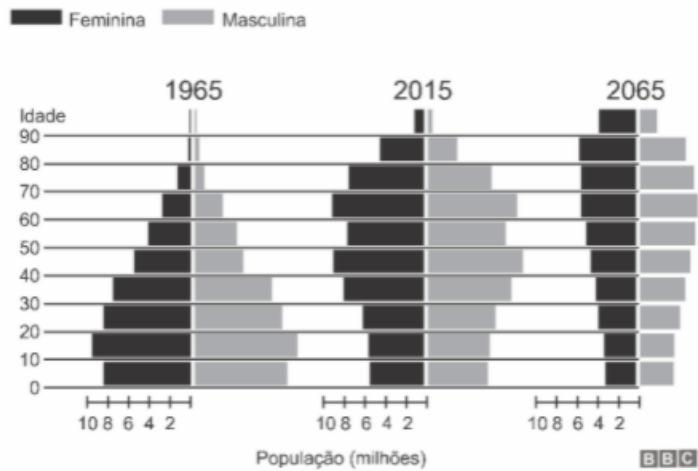
Considerando o excerto e o gráfico, responda:

- A palavra omitida no texto é um conceito que caracteriza a posição dos EUA ao tarifar os produtos chineses. Qual é esse conceito? Responda na folha de respostas.
- Utilizando elementos do gráfico, caracterize a relação comercial entre os EUA e a China.
- Explique como a desvalorização cambial do Yuan influencia a balança comercial entre esses países.

Exercício 247

(Ufpr 2020) Observe os gráficos a seguir.

População do Japão está envelhecendo



Fonte: Gabinete de Estatística do Ministério da Administração Interna e das Comunicações / Instituto Nacional de Pesquisa Populacional e Previdência Social (adaptado).

- Explique duas causas que determinaram o estreitamento da base das pirâmides e o alargamento de seu ápice.
- Diante do contexto demográfico japonês, justifique a seguinte afirmativa: “O Japão precisa de mão de obra estrangeira, mas também necessita de um sistema adequado para regularizar e proteger essa mão de obra”.

Exercício 248

(Ufpr 2019) Apenas em 2017, 94 mil venezuelanos deram entrada em solicitações de refúgio em outras nações. De 2014 até 7 de março de 2018, 145,2 mil venezuelanos haviam pedido asilo em outros Estados. Números são da Agência da ONU para Refugiados (ACNUR), que emitiu novas orientações de proteção internacional para os governos de países que acolhem as pessoas deslocadas.

(Disponível em: <<https://nacoesunidas.org/numero-de-venezuelanos-pedindo-refugio-em-outros-paises-aumentou-20-vezes-desde-2014/>>, acesso em 23 de agosto de 2018.)

A partir da leitura do fragmento de texto acima, discorra sobre o sentido da expressão “pessoas deslocadas” e contextualize essa expressão em face do processo migratório.

Exercício 249

(Uerj 2019) China construiu o maior projeto de transposição do mundo



Adaptado de *The Economist*, 05/04/2018.

No ano passado, a maior parte da água potável consumida em Pequim viajou 1432 quilômetros, praticamente a mesma distância do Rio de Janeiro a Campo Grande, capital do Mato Grosso do Sul. Sua jornada começa em uma região remota e montanhosa na China central, no reservatório de Danjiangkou, e só é possível devido ao Projeto de Transposição Sul-Norte, o maior de infraestrutura do mundo. Trata-se também, da maior transferência de água entre bacias fluviais da história, sendo a principal resposta da China à sua grande ameaça ambiental, que vem a ser a carência de água.

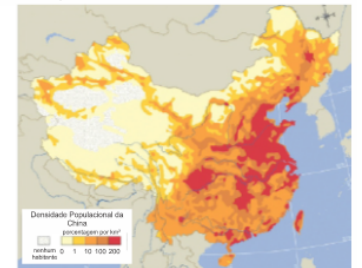
Adaptado de *The Economist*, 05/04/2018.

Figura 1 - PLUVIOSIDADE (em mm)



Fonte: english.mep.gov.cn

Figura 2 - DISTRIBUIÇÃO DA POPULAÇÃO



Fonte: reddit.com

Descreva duas características geográficas chinesas, uma relacionada à figura 1 e outra à figura 2, que justifiquem o projeto de fornecer água da bacia do rio Azul para abastecer outras regiões no norte do país.

Exercício 250

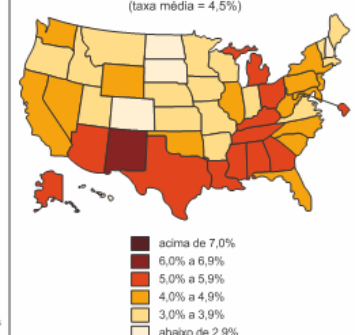
(Uerj 2018)

EMPREGOS MAIS COMUNS DOS IMIGRANTES NOS ESTADOS UNIDOS EM 2013



Adaptado de vox.com.

TAXA DE DESEMPREGO NOS ESTADOS UNIDOS EM 2017 (taxa média = 4,5%)



Adaptado de bis.gov.

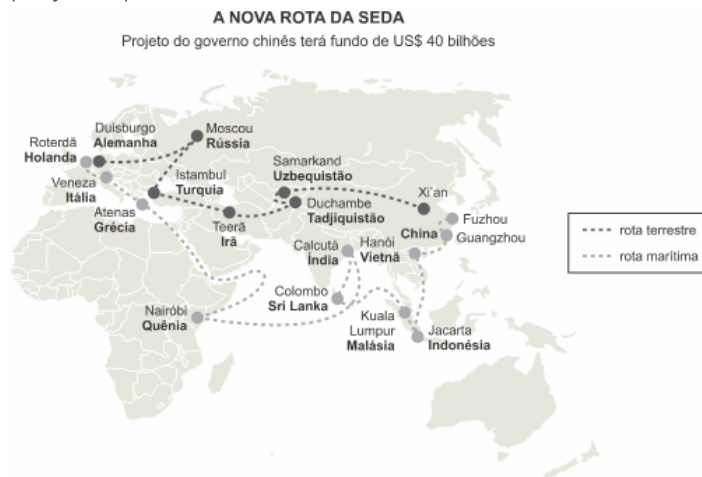
O atual presidente norte-americano defende uma política migratória que, segundo ele, irá reduzir os patamares do desemprego no país.

Considerando as informações dos mapas e as características socioeconômicas dessa nação, existe fundamento para avaliar a eficácia dessa política como:

- a) alta, dado o percentual significativo de ociosidade nas unidades industriais
- b) baixa, dado o índice inexpressivo de estrangeiros nas populações regionais
- c) reduzida, dado o nível baixo de qualificação das ocupações dos não nacionais
- d) elevada, dado o perfil terciário predominante da economia das grandes cidades

Exercício 251

(Uerj 2018)



O mais ambicioso projeto geopolítico do governo chinês começa a sair do papel. A Nova Rota da Seda pretende reviver a antiga rede comercial entre Oriente e Europa. Quase 8000 quilômetros separam a cidade de Xi'an de Veneza, na Itália, extremos da rota. No lugar das caravanas de camelos que cruzavam a Ásia Central com mercadorias entre a China e a Europa, uma ampla rede de ferrovias, estradas, oleodutos e cabos de fibra óptica ocupará o percurso, de acordo com os planos do governo chinês. Para financiar as obras, Pequim criou um fundo de US\$ 40 bilhões, além do Banco Asiático de Investimento em Infraestrutura, que tem a participação de outros 21 países e começou a funcionar em 2015, com um capital de US\$ 50 bilhões.

Adaptado de *Folha de São Paulo*, 01/03/2016.

Apresente uma vantagem econômica e uma vantagem geopolítica resultantes da implementação do projeto chinês mencionado na reportagem.

Exercício 252

(Uerj 2018) A ROSA DE HIROSHIMA

Pensem nas crianças
Mudas telepáticas
Pensem nas meninas
Cegas inexatas
Pensem nas mulheres

Rotas alteradas
Pensem nas feridas
Como rosas cálidas
Mas oh não se esqueçam
Da rosa da rosa
Da rosa de Hiroshima
A rosa hereditária
A rosa radioativa
Estúpida e inválida
A rosa com cirrose
A antirrosa atômica
Sem cor sem perfume
Sem rosa sem nada

viniciusdemoraes.com.br

Coreia do Norte realiza seu maior teste nuclear

A Coreia do Norte realizou seu maior teste nuclear em setembro de 2016 e informou ter dominado a habilidade de montar uma ogiva em míssil balístico. O teste aumenta a instabilidade na Ásia e preocupa os países da região, sobretudo Coreia do Sul, China e Japão. EUA, Rússia e Organização das Nações Unidas (ONU) também condenaram o teste nuclear. A explosão, no dia da comemoração dos 68 anos da fundação do país, foi mais poderosa que a bomba detonada em Hiroshima, de acordo com estimativas do Ministério de Defesa da Coreia do Sul. A explosão foi tão forte que provocou um terremoto de 5 graus na escala Richter no local do teste.

Adaptado de veja.abril.com.br, 09/09/2016.

O poema de Vinícius de Moraes alude ao lançamento da primeira bomba atômica sobre a cidade japonesa de Hiroshima, em 1945. Mesmo com os acordos de restrição ao uso desse tipo de armamento, os dispositivos nucleares ainda desestabilizam as relações internacionais, como descreve a reportagem.

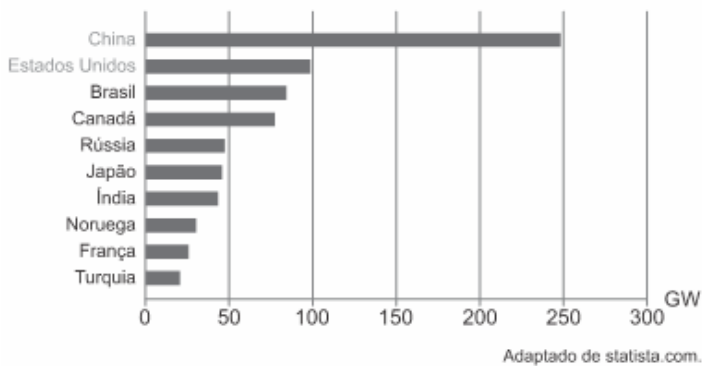
Com base nos textos, a principal motivação do governo da Coreia do Norte em testar esses dispositivos e o efeito que esses testes provocam são, respectivamente:

- a) expansão do território no Extremo Oriente – agressão à população civil
- b) preservação das fronteiras políticas nacionais – ruína da produção agrícola
- c) competição da indústria local com outros países asiáticos – poluição do meio ambiente
- d) demonstração de poder aos governos vizinhos – impacto duradouro da radioatividade

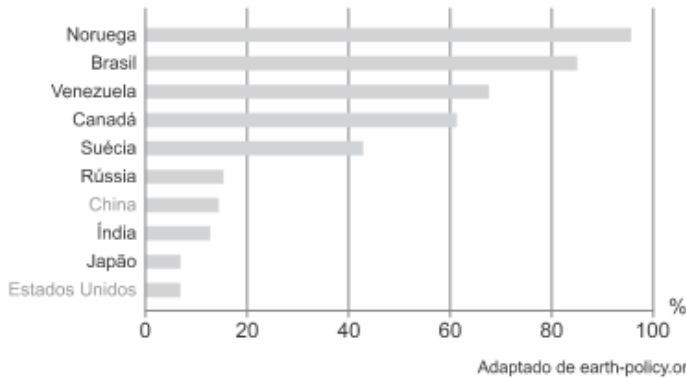
Exercício 253

(Uerj 2017)

CAPACIDADE HIDRELÉTRICA INSTALADA EM GIGAWATTS (2014)



PERCENTUAL DE GERAÇÃO HIDRÁULICA NA MATRIZ ELÉTRICA (2011)



A posição tanto da China quanto dos Estados Unidos no primeiro gráfico difere daquela que esses países assumem no segundo, o qual apresenta a proporção da fonte hidráulica em relação ao total de eletricidade gerada pelas diversas fontes produtoras.

Explique essa diferença com base na economia desses dois países. Apresente, ainda, uma vantagem e um problema, ambos de caráter ambiental, para os países com os mais elevados percentuais de utilização de energia hidrelétrica.

Exercício 254

(Uerj 2017) O primeiro-ministro britânico David Cameron anunciou que o plebiscito que decidirá a permanência do Reino Unido na União Europeia ocorrerá no dia 23 de junho de 2016. Cameron liberou seus ministros para defenderem tanto a continuação quanto a saída dos britânicos.

Adaptado de bbc.com, 20/02/2016.

A consulta popular mencionada configura uma escolha difícil para os cidadãos do Reino Unido em virtude da variedade e complexidade dos argumentos favoráveis e contrários em disputa.

Um argumento decisivo para que uma parcela dos britânicos aprove a saída do Reino Unido do bloco europeu remete à retomada da plena autonomia nacional no seguinte campo:

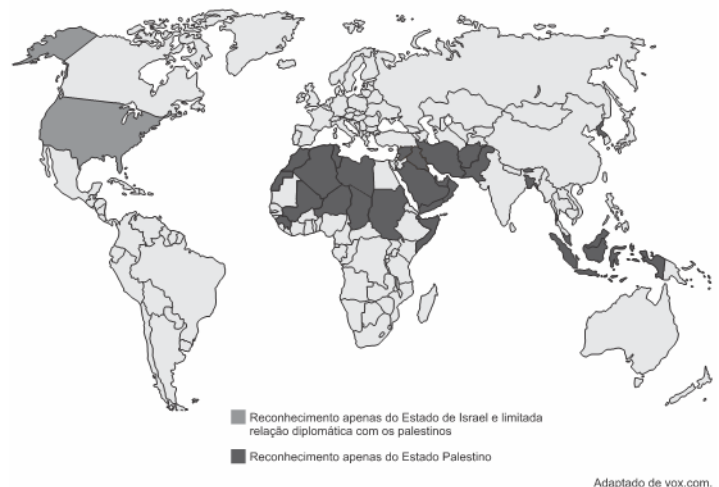
- a) sistema militar
- b) ação diplomática
- c) gestão monetária
- d) controle migratório

Exercício 255

(Uerj 2017) O conflito entre israelenses e palestinos ganhou clara configuração territorial na primeira metade do século XX, tornando-se agudo a partir de 1948 e permanecendo sem

horizonte de superação em futuro próximo. Como consequência, a comunidade internacional encontra-se dividida com relação ao reconhecimento diplomático de ambos, como se observa no mapa.

RECONHECIMENTO DO ESTADO DE ISRAEL E DO ESTADO PALESTINO



Considerando as informações do mapa, apresente um argumento que justifique a posição dos países que reconhecem apenas o Estado Palestino e outro que justifique a posição norte-americana.

Exercício 256

(Uerj 2017)



QUINO
Toda Mafalda, 2003.

Publicados originalmente na Argentina, entre os anos de 1964 e 1973, os quadrinhos da Mafalda expressavam o olhar de seu autor sobre os acontecimentos da época.

Considerado aquele contexto geopolítico, a tirinha acima faz referência à seguinte estratégia característica das grandes potências da época:

- a) formação de áreas de influência
- b) constituição de blocos de comércio
- c) integração de mercados de consumo
- d) estabelecimento de colônias de exploração

Exercício 257

(Uerj 2016) Os casos de mortes de imigrantes ilegais que tentam chegar à Europa por via marítima têm ocupado os noticiários. Na figura abaixo, os pontos indicam os locais onde ocorreram essas mortes, de janeiro de 2000 a julho de 2015.



Identifique os dois continentes de procedência da maior parte desses imigrantes. Em seguida, apresente duas justificativas socioeconômicas que têm levado essas pessoas a deixar os continentes de origem em direção à Europa.

Exercício 258

(Uerj 2016)

DISTRIBUIÇÃO ESPACIAL DA ATIVIDADE ECONÔMICA DOS ESTADOS UNIDOS

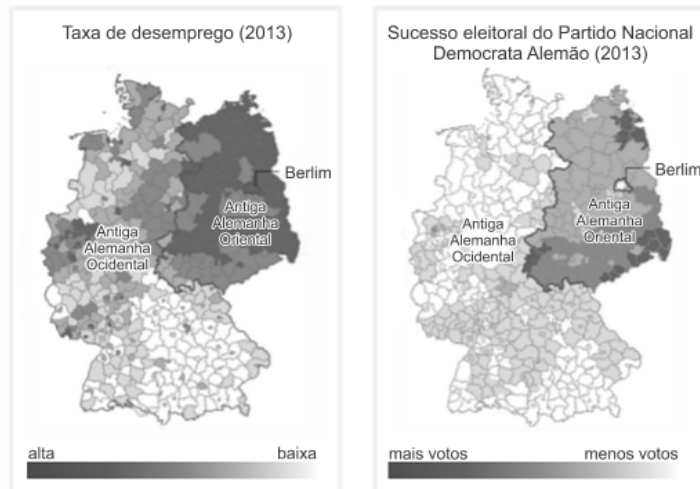


No mapa, o conjunto das áreas em laranja e o conjunto em azul representam, cada um, metade do Produto Interno Bruto (PIB) norte-americano distribuído por todo o território do país.

Justifique a grande concentração espacial da riqueza norte-americana nas áreas em laranja. Cite, ainda, duas atividades econômicas relevantes, realizadas nessas áreas, que favorecem a concentração espacial do PIB.

Exercício 259

(Uerj 2016) Em novembro de 2014, a Alemanha celebrou 25 anos da queda do Muro de Berlim. Apesar do tempo decorrido e dos investimentos realizados, ainda persistem muitas diferenças entre as porções ocidental e oriental do país. Os mapas abaixo apontam exemplos dessas diferenças.



Adaptado de washingtonpost.com, 31/10/2014.

Uma prioridade da plataforma política do Partido Nacional Democrata, da extrema-direita alemã, é a adoção de severas restrições à imigração para o país.

Com base nessa informação e na análise dos mapas, a porção oriental do país possui atualmente, como característica social marcante, níveis mais elevados de:

- inclusão política
- automação industrial
- sentimento xenófobo
- qualificação profissional

Exercício 260

(Ufsc 2018) [...] A separação física com o vizinho pobre do sul tem sido uma política de Estado desde que Clinton ergueu os primeiros trechos, em 1993, reaproveitando sucata trazida da Guerra do Golfo. Já são 1.046 km de barreiras separando os dois países, incluindo as grades de 4,6 metros contratadas pelo correligionário Obama. [...]

FOLHA DE S. PAULO, segunda-feira, 26 jun. 2017. A16 Mundo.

A reportagem trata das migrações que ocorrem na fronteira entre Estados Unidos e México. Sobre a situação abordada pelo texto acima e sobre as migrações e os refugiados no mundo atual, é correto afirmar que:

- 01) os Estados Unidos têm um percentual significativo de habitantes oriundos de outros países, sobretudo hispânicos, grande parte dos quais vivendo clandestinamente devido às restrições em vigor no país.
- 02) o endurecimento da vigilância e das leis imigratórias, sobretudo após os ataques de 11 de setembro de 2001, e as promessas de Trump de repressão à imigração demonstram que os Estados Unidos querem dificultar a entrada de pessoas no país.
- 04) desde a sua criação em 1988, o NAFTA (Acordo de Livre Comércio da América do Norte) estabeleceu a livre circulação de mercadorias, capital e serviços, como também de pessoas, entre os integrantes desse bloco econômico.
- 08) a União Europeia é, na atualidade, também destino de muitos refugiados, um grupo específico de imigrantes que foge por causa de conflitos internos, guerras, perseguições políticas, ações de grupos terroristas e violação dos direitos humanos.
- 16) a exemplo da Lei de Cotas de 1934, que foi criada para reduzir a números baixos a entrada de imigrantes no Brasil, nas

últimas décadas aumentaram as restrições à imigração, com exceção para a mão de obra qualificada, a qual é integrada à sociedade brasileira com grande naturalidade.

32) os fatores de ordem econômica predominam ao longo da história como elementos provocadores dos movimentos populacionais, ou seja, há repulsão demográfica em áreas de desemprego, subemprego e baixos salários e há atração onde existe perspectiva de melhores condições de vida.

Exercício 261

(Ufsc 2018) **Os dilemas do Haiti**

Até o início de 2010, podia-se dizer que o Haiti era um país marcado pela pobreza e instabilidade política. Afinal, desde 2004, em meio a um clima de guerra civil, lá estavam tropas de paz da ONU, comandadas pelo governo brasileiro, interessado em ampliar a sua influência no continente – eram mais de sete mil homens!

SANTIAGO, Pedro. *Por dentro da História*, 2. 3. ed. São Paulo: Escala Educacional, 2013, p. 113.

Sobre o Haiti e a trajetória do seu povo, é correto afirmar que:

01) considerado um caso singular, o movimento de independência do Haiti foi resultado de um levante popular comandado pela população negra contrária à dominação francesa.

02) em 2010, um forte terremoto atingiu o país, deixando o cenário de pobreza e instabilidade política ainda mais grave.

04) localizado no noroeste da África, o Haiti possui uma economia baseada na monocultura de cana-de-açúcar e no comércio clandestino de marfim e diamante.

08) no final do século XVIII, durante a rebelião escrava que iniciou o processo de independência, o líder François-Dominique Toussaint Louverture determinou a abolição da escravidão no Haiti.

16) em função do caráter violento do processo de emancipação, a independência do Haiti ainda não foi reconhecida pela ONU (Organização das Nações Unidas) e, por essa razão, o país está sob o controle das tropas internacionais.

32) a Primavera Árabe e o contexto de guerra civil das últimas décadas estão entre as principais razões para o crescimento da imigração de refugiados haitianos para o Brasil nos últimos anos.

GABARITO

Exercício 1

a) reduzidos índices de tarifas aduaneiras

Exercício 2

d) caráter etnocêntrico da representação

Exercício 3

b) conflitos bélicos entre grupos locais que desestruturaram as redes de produção e circulação

Exercício 4

d) suprimento de matérias-primas

Exercício 5

d) retardar o processo de envelhecimento da população

Exercício 6

b) recebimento de remessas financeiras

Exercício 7

b) Oriente Médio

Exercício 8

a) Islândia

Exercício 9

a) Rússia.

Exercício 10

c) o Oriente Médio, a África Saariana e a África Subsaariana colaboram para o fluxo migratório.

Exercício 11

c) a África do Sul.

Exercício 12

e) intensificação do comércio ilegal do produto para outros continentes.

Exercício 13

e) do Mercosul – Venezuela.

Exercício 14

c) Europeu.

Exercício 15

d) China: nova "oficina do mundo", cuja economia se inclui entre as maiores do cenário internacional contemporâneo.

Exercício 16

c) problema da segregação urbana nas cidades francesas, que dificulta a integração dos novos imigrantes no quadro social nacional e os mantém isolados, vinculados apenas às suas identidades culturais de origem.

Exercício 17

e) os sírios estão fugindo da guerra civil que se instalou no seu país desde 2011, a qual começou com protestos populares e progrediu para uma violenta luta armada.

Exercício 18

e) o aumento do uso de tecnologias.

Exercício 19

b) do “Brexit”, ou seja, a saída do Reino Unido da União Europeia, que é o maior bloco econômico do mundo, conhecido pela livre circulação de bens, pessoas e mercadorias e pela adoção de uma moeda única.

Exercício 20

a) localizado no oeste dos Estados Unidos, próximo a importantes centros de pesquisa, forma um complexo industrial com destaque para os ramos típicos da Terceira Revolução Industrial.

Exercício 21

b) fundamento ideológico e interesse econômico

Exercício 22

d) Síria

Exercício 23

a) sua diversidade cultural e físico-biológica.

Exercício 24

d) Os refugiados da Síria fugiram, principalmente, em função da guerra civil que tenta derrubar Assad.

Exercício 25

b) América Central

Exercício 26

c) a China sofreu uma profunda abertura econômica e procura a expansão de seus mercados, vendendo produtos baratos.

Exercício 27

b) uma região com identidade cultural própria e que reivindica total autonomia política e administrativa em relação à Espanha.

Exercício 28

d) A crise internacional de 2008, o bloqueio econômico dos EUA e as deficiências do modelo de economia planificada são fatores externos e internos que contribuem para o baixo dinamismo econômico.

Exercício 29

d) Envelhecimento da sociedade local.

Exercício 30

a) a questão demográfica alarmante da Rússia, que apresenta uma taxa de natalidade muito baixa e registra, atualmente, um crescimento natural negativo.

Exercício 31

b) herança imperialista e nacionalismo xenófobo

Exercício 32

e) Localizado no oeste dos EUA, próximo a importantes centros de pesquisa, forma um complexo industrial com destaque para os ramos típicos da 3ª Revolução Industrial.

Exercício 33

a) a possibilidade de independência da Catalunha, antigo sonho dos habitantes dessa região espanhola.

Exercício 34

a) na estrutura familiar dessas sociedades, impactada por mudanças nos projetos de vida das novas gerações.

Exercício 35

c) commodities.

Exercício 36

a) Apesar de processos de abertura terem propiciado questionamentos das fronteiras dos Estados Nacionais, elas continuam como fator forte de separação entre essas unidades políticas.

Exercício 37

c) Canal do Panamá.

Exercício 38

c) A “Noruega”, país citado no fragmento textual, está localizada na Península da Escandinávia, possui o melhor Índice de Desenvolvimento Humano (IDH) do mundo e destaca-se na prospecção de petróleo no Mar do Norte.

Exercício 39

b) Na Libéria, os efeitos da atual epidemia de Ebola se fazem sentir não apenas na infraestrutura do sistema de saúde, já sobrecarregada, mas também na segurança pública e no conjunto da economia.

Exercício 40

a) proteção social estatal

Exercício 41

e) à colonização europeia.

Exercício 42

c) O conflito entre os diversos agentes políticos e econômicos que reproduzem a guerra civil na Síria, demonstra que, para além das relações entre redes e instituições “tradicionais”, surgem múltiplas redes “ilegais” ou clandestinas que tornam mais complexa a geopolítica internacional.

Exercício 43

a) indústrias estadunidenses em território mexicano, que realizam a montagem de produtos através da exploração de mão de obra.

Exercício 44

d) A desagregação do Iraque e as disputas étnicas e políticas internas, permitindo a proliferação de grupos rebeldes e de terroristas, a exemplo do chamado Estado Islâmico.

Exercício 45

b) da União das Repúblicas Socialistas Soviéticas (URSS), que se desintegrou em 1991.

Exercício 46

b) a relação do povo mexicano com o milho é histórica, uma vez que esse grão é cultivado desde a época dos antigos povos que habitavam a região onde hoje se localiza o México.

Exercício 47

d) maciços antigos no centro-leste; planícies sedimentares no centro, dobramentos modernos no extremo oeste.

Exercício 48

b) Coreia do Sul, Taiwan e Hong Kong.

Exercício 49

c) Neomalthusiana.

Exercício 50

e) O solo da região era bastante fértil por conta dos grandes rios, o que favoreceu o desenvolvimento da agricultura, importante para as sociedades humanas.

Exercício 51

a) 1 e 2.

Exercício 52

c) interesse dos britânicos na adoção do Euro como moeda oficial.

Exercício 53

d) ao adotar uma política de portas abertas, como ficou conhecida, o governo Merkel permitiu a entrada de quase um milhão de migrantes em 2015;

Exercício 54

b) representa a adoção pelo governo chinês do chamado socialismo de mercado, no qual são mantidas as instituições políticas centralizadas, mas se adotam, no plano econômico, princípios da economia de mercado.

Exercício 55

b) industriais.

Exercício 56

c) 3: Irã.

Exercício 57

b) Chile.

Exercício 58

a) compreende uma das principais rotas de exportação de petróleo.

Exercício 59

d) Somente as afirmativas I e III são verdadeiras.

Exercício 60

a) Alemanha.

Exercício 61

c) O Barcelona está sediado na cidade de mesmo nome, que faz parte da Catalunha, região responsável por aproximadamente 20% do PIB da Espanha e que também concentra a mais expressiva produção industrial do país.

Exercício 62

a) Existe uma concentração no Norte do país decorrente do renascimento comercial e urbano, que facilitou a concentração de capitais e o aumento da população urbana.

Exercício 63

d) Bacia do Rio da Prata – sul – da região Sul – planícies, planaltos e cordilheiras.

Exercício 64

b) Sahel.

Exercício 65

d) III e IV

Exercício 66

a) I – Grécia; II – Finlândia; III – Polônia.

Exercício 67

a) I. uma aproximação do Brasil em relação à posição dos EUA.
II. um potencial distanciamento do Brasil em relação à posição da maioria dos países do Conselho de Segurança da ONU.

Exercício 68

d) do Cáucaso, onde atualmente ocorrem conflitos relacionados à oposição de grupos nacionalistas islâmicos ao domínio russo da região.

Exercício 69

d) Cáucaso, Rússia.

Exercício 70

c) Na Espanha e na Grécia, países fortemente atingidos pela crise econômica, mais de 1/5 da população ativa está desempregada.

Exercício 71

b) o verão seco da região mais atingida favorece o aumento dos incêndios nesse período do ano.

Exercício 72

b) O número de mulheres sofreu diminuição devido ao aborto induzido de meninas, o que está relacionado à questão cultural, já que são os filhos homens responsáveis pelos pais na velhice.

Exercício 73

a) Venezuela e Colômbia - a atual crise culminou com o fechamento da fronteira entre esses países e o acesso terrestre ficou fechado por tempo indeterminado.

Exercício 74

a) estrutura etária associada a altas taxas de natalidade

Exercício 75

e) aos terrenos planos da bacia do Mississipi-Missouri, com clima temperado continental e solos de boa fertilidade.

Exercício 76

e) I, II, III e IV.

Exercício 77

d) O processo de modernização no Japão, gerador de uma realidade urbano-industrial, desenvolveu a produtividade de todos os setores da economia, com destaque para a indústria de alta tecnologia e para a agricultura moderna de frutas, responsáveis pela exportação dos produtos japoneses mais consumidos nos mercados europeu e norte-americano.

Exercício 78

e) III e IV

Exercício 79

c) Coreia do Sul, China, Japão, EUA e Coreia do Norte.

Exercício 80

c) nas planícies litorâneas do Golfo do México.

Exercício 81

c) Somente as afirmativas III e IV são corretas.

Exercício 82

c) significa a venda de produtos a um preço muito abaixo do que é praticado pelo mercado.

Exercício 83

d) Sudeste Asiático.

Exercício 84

c) O Reino Unido é formado por Inglaterra, País de Gales, Escócia e Irlanda do Norte.

Exercício 85

b) a redução da taxa de natalidade, incentivada pelo governo até 2015, prejudica o desenvolvimento da economia e o sistema de aposentadorias.

Exercício 86

e) à Manchúria, região de climas temperados, solos férteis, produção de trigo e importantes jazidas de carvão.

Exercício 87

c) são as tentativas de separatismo, por parte de uma das mais importantes regiões, a província de Quebec.

Exercício 88

d) o tamanho da população e o PIB.

Exercício 89

b) proximidade de universidades e centros de pesquisa e de tecnologia.

Exercício 90

e) 5.

Exercício 91

e) 5

Exercício 92

a) as Zonas Econômicas Especiais (ZEEs) são áreas do território chinês destinadas à atuação do capital estrangeiro para instalação de indústrias voltadas à exportação.

Exercício 93

d) A porção leste da Ucrânia é área de atuação de separatistas russos.

Exercício 94

b) I e II, apenas.

Exercício 95

a) Apesar de processos de abertura terem propiciado questionamentos das fronteiras dos Estados Nacionais, elas continuam como fator forte de separação entre essas unidades políticas.

Exercício 96

d) Ser simultaneamente um país andino e amazônico e apresentar grandes reservas mundiais de petróleo.

Exercício 97

d) identificação cultural.

Exercício 98

d) As letras A e C identificam Escócia e Catalunha, com a condução política das discussões separatistas pelos Estados do Reino Unido e da Espanha. A letra B corresponde ao leste da Ucrânia, onde as forças armadas do país reprimem os separatistas apoiados pela Rússia.

Exercício 99

e) Todas afirmativas são verdadeiras.

Exercício 100

b) Somente as afirmativas 1 e 2 são verdadeiras.

Exercício 101

d) Detroit é a melhor expressão do declínio industrial do *Rust Belt* e foi apelidada de *Ghost Town*.

Exercício 102

d) Argentina

Exercício 103

b) apenas II e III estão corretas.

Exercício 104

e) A situação de desemprego que atinge a união europeia, com maior ferocidade na Grécia e na Espanha, países que atingem as maiores taxas, com aproximadamente um quarto de suas populações desempregadas.

Exercício 105

d) os protestos iniciados em Hong Kong têm sua raiz em 2014 com a Revolução dos guarda-chuvas, e reivindicam direitos e liberdades diante do controle autoritário da China.

Exercício 106

a) criação de corredores humanitários que permitam a saída de milhares de pessoas e a entrada de alimentos e medicamentos para a cidade.

Exercício 107

c) Bélgica.

Exercício 108

d) I, II e III, apenas.

Exercício 109

c) a vegetação da região é semelhante à da floresta encontrada, no Brasil, na mesma faixa latitudinal.

Exercício 110

b) I - III - V

Exercício 111

c) I – Turquia, II – Irã, III - Arábia Saudita.

Exercício 112

b) à pouca diversificação das estruturas produtivas e às divergências socioculturais.

Exercício 113

b) a partir dos primeiros anos do século XXI, a África passou a receber investimentos da crescente economia asiática, especialmente da chinesa, que apostou, principalmente, nos recursos minerais e energéticos africanos.

Exercício 114

a) V – V – V – F – F

Exercício 115

d) somente as alternativas I e II.

Exercício 116

e) Califórnia; clima mediterrâneo, com verões quentes e secos e invernos chuvosos.

Exercício 117

c) 6 – 1 – 5 – 3.

Exercício 118

d) II.

Exercício 119

d) apesar de a Rússia ser o país mais populoso, apresenta uma população relativa baixa, resultado do enorme território.

Exercício 120

e) I, II e IV

Exercício 121

d) I, II e III.

Exercício 122

c) Temperada Norte.

Exercício 123

d) I, II e III, apenas.

Exercício 124

c) grupos industriais e financeiros que se organizaram como conglomerados, atingindo grande tamanho e poder na economia japonesa entre a Era Meiji (1868-1912) e o final da Segunda Guerra Mundial.

Exercício 125

c) II, III e V

Exercício 126

c) 2 - 1 - 2 - 2 - 1.

Exercício 127

a) Coreia do Sul (1), Taiwan (3), Hong Kong (4) e Cingapura (6).

Exercício 128

e) A insegurança sobre a situação da economia chinesa potencializa as incertezas tanto dos investidores quanto do

mundo das finanças, já que significa risco e volatilidade.

Exercício 129

d) independência da Espanha.

Exercício 130

a) Apenas I.

Exercício 131

b) era colônia holandesa e tornou-se um país independente em meados da década de 1970.

Exercício 132

a) Cisjordânia e Jerusalém Oriental serem territórios palestinos tomados por Israel na Guerra dos Seis Dias.

Exercício 133

e) I, III e IV são verdadeiros.

Exercício 134

a) Trata-se do Cinturão da Ferrugem americano, região dos EUA de economia baseada na indústria pesada e de manufatura, cujo nome é uma ironia referente à degradação da área e ao grande número de galpões industriais abandonados.

Exercício 135

e) o Estado Islâmico prevê a total separação entre religião (o islamismo) e estado (Estado Islâmico).

Exercício 136

c) organizar um espaço que permita a comunicação direta entre China e Europa.

Exercício 137

b) A organização Arellano Felix atua junto ao principal entreposto migratório do país, a cidade de Tijuana.

Exercício 138

e) ao Uruguai.

Exercício 139

e) 4 – 1 – 3 – 5 – 2

Exercício 140

d) II e IV

Exercício 141

a) Estão corretas as alternativas I, III e V.

Exercício 142

d) armênio, que acabou constituindo seu país dentro da antiga URSS.

Exercício 143

a) Somente II, III e IV.

Exercício 144

c) Angela Merkel, que foi caricaturada como nazista, no auge da crise da Grécia, hoje, por ter aberto as portas da Alemanha para grande parte dos refugiados e imigrantes, virou inimiga da direita.

Exercício 145

e) Jerusalém, onde o espaço terciário é diferenciado pela cultura.

Exercício 146

b) África ocidental.

Exercício 147

a) A produção de semicondutores está concentrada no sudeste asiático, nos países da 1ª e 2ª geração dos Tigres Asiáticos, tais como Taiwan, Coreia do Sul, Cingapura e Indonésia.

Exercício 148

c) Vale do Ruhr.

Exercício 149

d) integração dos povos germânicos

Exercício 150

c) Israel da Cisjordânia.

Exercício 151

c) a irrigação de lavouras.

Exercício 152

a) desacordo na localização da divisa.

Exercício 153

e) Um dos fatores responsáveis pelo aumento dos incêndios florestais em Portugal é a substituição de espécies nativas por pinheiros e eucaliptos, que oferecem retorno financeiro mais rápido, mas são mais propensas ao fogo.

Exercício 154

c) Suíça: país montanhoso e sem litoral.

Exercício 155

a) a área 1 indica os países Guiné, Serra Leoa e Libéria, onde o surto do ebola continua a se proliferar de maneira alarmante, colocando, segundo a OMS, um sério risco para a segurança sanitária global.

Exercício 156

a) I, II e III.

Exercício 157

d) Costa Oeste

Exercício 158

b) Os problemas existentes entre México e Estados Unidos foram resolvidos recentemente com a eleição de Barack

Obama, que flexibilizou, por meio de leis, a entrada dos mexicanos nos Estados Unidos.

Exercício 159

d) Somente as afirmativas 1, 3 e 4 são verdadeiras.

Exercício 160

a) estratégia militar e política demográfica

Exercício 161

d) integração territorial

Exercício 162

e) *Fronteira* remete a espaços peculiares, onde se defrontam comunidades político-geográficas diferentes, e se caracteriza por interações e conflitos de múltiplas ordens.

Exercício 163

b) elevação da taxa de emigração

Exercício 164

c) desterritorialização da produção

Exercício 165

d) terceirização da produção de bens industriais

Exercício 166

b) estepes.

Exercício 167

b) é rico em minérios e fontes de energia como petróleo, ouro, zinco, urânio, ferro, chumbo, níquel, diamantes, prata, entre outros.

Exercício 168

d) garantir o escoamento seguro de óleo e gás, que atravessam o território georgiano por meio de oleoduto e gasoduto, até o Mar Negro.

Exercício 169

b) do Panamá;

Exercício 170

c) Apenas I e III.

Exercício 171

e) I e IV.

Exercício 172

c) Clima Temperado Oceânico.

Exercício 173

e) III e IV

Exercício 174



<http://kingofwallpapers.com>

a)

Exercício 175

a) Investem na produção de maquinofaturas para exportação.

Exercício 176

a) I e II.

Exercício 177

a) a Ucrânia acusa a Rússia de tentar ocupar o Mar de Azov e prejudicar sua economia, negando acesso a portos importantes que escoam 25% das exportações do país;

Exercício 178

a) A existência de uma milícia que tem como missão eliminar as outras etnias.

Exercício 179

d) Planície Russa, Montes Urais, Planalto Central Siberiano e Planalto de Aldan.

Exercício 180

d) A descoberta e exploração de imensas reservas de petróleo, sobretudo no Texas e no Golfo do México, favoreceram o crescimento industrial do sul.

Exercício 181

b) O muro de concreto construído sobre os Pirineus, em meados de 2015, na fronteira entre a Espanha e a França, não é apenas um muro de separação entre dois Estados nacionais. É, sobretudo, uma barreira de contenção dos intensos fluxos migratórios oriundos da África, que entram na Espanha por Ceuta (cidade autônoma da Espanha no território do Marrocos) e se dirigem para a França, desde as duas últimas décadas do século XX.

Exercício 182

c) O desenvolvimento de lavouras na Europa durante o Neolítico foi base para a transformação de domínios vegetais naturais, o que significa que o desmatamento é uma prática milenar.

Exercício 183

e) Faz fronteira com a América Central e contém parte da Floresta Amazônica.

Exercício 184

b) I e II, apenas.

Exercício 185

c) Problema hidroclimático com desdobramento geopolítico.

Exercício 186

b) Corrente de Humboldt.

Exercício 187

c) diverso quadro físico, que a noroeste é dominado pela Cordilheira dos Andes e no extremo sul pelo Deserto da Patagônia.

Exercício 188

c) No estado sulista, terceiro mais rico do país, encontra-se a tradicional indústria petroquímica, associada à ocorrência de petróleo, além do importante setor da biotecnologia.

Exercício 189

a) ao controle do campo de refugiados palestinos no sul de Damasco pelo grupo terrorista sunita Estado Islâmico (EI), originado de um braço da Al-Qaeda, caracterizado por um regime político-religioso, orientado pela Lei Islâmica Sharia.

Exercício 190

d) criação de plataformas de exportação.

Exercício 191

c) apoiar o terrorismo e desestabilizar a região a que pertencem esses países.

Exercício 192

d) I, III e IV, apenas.

Exercício 193

d) Rússia e Irã.

Exercício 194

b) I, II, III e IV.

Exercício 195

b) I, II e IV

Exercício 196

a) II e III

Exercício 197

e) Somente as afirmativas I, II, III e IV são verdadeiras.

Exercício 198

e) pelo recrudescimento de questões étnicas e territoriais que, sob a bandeira do nacionalismo, muitas vezes levaram a conflitos internos ou à guerra.

Exercício 199

d) Telecomunicações e mercado de luxo.

Exercício 200

d) Budapeste, atravessada pelo rio Danúbio, é capital da Hungria, país da Europa Oriental que fazia parte da Iugoslávia, nação que se fragmentou nos anos 1990 em uma série de guerras civis.

Exercício 201

d) ao alto grau de autonomia de Hong Kong em relação à China.

Exercício 202

b) mercado consumidor urbano expressivo

Exercício 203

a) I, apenas.

Exercício 204

d) I e III, apenas.

Exercício 205

c) Somente as afirmativas 1 e 4 são verdadeiras.

Exercício 206

c) Moçambique.

Exercício 207

e) III, IV e V

Exercício 208

d) ampliação da informalidade

Exercício 209

b) localizado no istmo de Suez, foi criado com o intuito de ligar o Mar Mediterrâneo ao Mar Vermelho, projeto que remonta à época dos faraós do Egito.

Exercício 210

c) Canal da Nicarágua.

Exercício 211

e) II, III e V

Exercício 212

c) I, II e IV, apenas.

Exercício 213

a) facilidade da entrada de seus membros na União Europeia

Exercício 214

01) Canadá, Califórnia, Belize, Tegucigalpa, Havana e Santiago.

02) Guatemala, Tocantins, La Paz, Montevidéu, Jamaica e Manágua.

Exercício 215

b) I, II e V

Exercício 216

b) As Montanhas Rochosas (1) impedem a passagem das massas de ar oceânicas, provocando chuvas na vertente oeste e aridez na parte leste.

Exercício 217

a) A segunda maior comunidade populacional da Espanha é a Catalã, a qual só é inferior à comunidade Andaluzia.

Exercício 218

c) interferência histórica do imperialismo europeu

Exercício 219

e) O crescimento da China, entre outros fatores, pode ser explicado porque ela é que estabelece os preços das *commodities* no mercado interno.

Exercício 220

a) A retirada de Cuba da lista americana de países patrocinadores do terrorismo.

Exercício 221

c) I e III, apenas.

Exercício 222

b) ao endividamento excessivo das famílias e das empresas, o que produziu um aumento artificial dos imóveis e de outros ativos no final de 1980.

Exercício 223

c) deslocamento populacional, condicionado pelas disparidades socioeconômicas

Exercício 224

Dentre as causas que explicam a questão econômica e demográfica indicadas no texto, pode-se citar: o processo de desindustrialização cujas plantas industriais se transferem para países com menor custo de produção; a perda de competitividade para multinacionais asiáticas; a automação das indústrias ampliando o desemprego estrutural; a desestruturação econômica de polos industriais que derrubam a cadeia germinativa e comércio local; a emigração da população desempregada para áreas aquecidas economicamente.

Exercício 225

A diferença socioeconômica entre o conjunto de países para onde emigram os estadunidenses e os países de onde partem os imigrantes para os EUA é o nível de desenvolvimento socioeconômico.

A desproporção entre o qualitativo de imigrantes e emigrantes pode ser explicada pelo alto nível de desenvolvimento econômico dos EUA gerando maior empregabilidade, maiores salários e melhor condição de vida aos imigrantes.

Exercício 226

a) A região indicada é o Vale do Silício, um dos mais importantes tecnopolos do mundo concentrando universidades, centros de pesquisas e indústrias de alta

tecnologia, o que representa expressivo volume de capitais em forma de ações e patentes negociados nas bolsas de valores.

b) Dentre os investimentos em setores cruciais para reproduzir a dinâmica do Vale do Silício, pode-se citar: o P&D (maiores investimentos em pesquisa e desenvolvimento) que se desdobra em estruturação de universidades e centros de pesquisa – com a participação do capital privado – para a formação de mão de obra especializada e geração de patentes; a infraestrutura informacional que permite a fluidez dos fluxos de informações e capitais; o espaço para a produção dos “makers” e das “start-ups”.

Exercício 227

a) Em 2013, ocorreu a queda de um governo pró-Rússia na Ucrânia após protestos populares. Após eleições ascendeu ao poder um governo alinhado com os Estados Unidos e a União Europeia. O quadro político e geopolítico acirrou as tensões entre o leste (ucranianos de língua russa e russos étnicos com afinidade com a Rússia) e o oeste (ucranianos de língua ucraniana aliados dos EUA e União Europeia). A península da Crimeia, com 60% da população russa, realizou um referendo se separando a Ucrânia e, em seguida, foi anexada pela Rússia. A anexação não apresentou reconhecimento internacional.

b) O apoio ao governo da Ucrânia na ocasião era importante para as potências ocidentais, uma vez que aumentaria a possibilidade de adesão futura do país à OTAN (Organização do Tratado do Atlântico Norte). Uma eventual presença da OTAN na Ucrânia é considerada uma ameaça militar à Rússia. Cabe salientar que a Rússia apoia rebeldes separatistas no leste ucraniano contra as forças armadas ucranianas, muitos rebeldes gostariam de uma integração futura na Federação Russa.

Exercício 228

a) A Rússia anexou a Crimeia, pois a maioria da população é de etnia russa e se opõe ao atual governo com hegemonia do oeste e aliado do ocidente. A Crimeia também apresenta uma base militar russa com acesso ao estratégico Mar Negro.

b) A Ucrânia é marcada por uma divisão política, cultural e geográfica. O oeste apresenta ucranianos de língua ucraniana e defende uma aliança geopolítica e econômica com a União Europeia, Estados Unidos e OTAN (Organização do Tratado do Atlântico Norte). O leste apresenta ucranianos de língua russa e russos étnicos favoráveis a uma aliança com a Rússia. A recente queda de um governo pró-Rússia e a ascensão de um governo pró-ocidental, levou a eclosão de conflitos entre o oeste e o leste. A Rússia apoia rebeldes separatistas no leste. Em represália, foi excluída o grupo G8 pelas potências ocidentais.

Exercício 229

a) O colapso político e econômico soviético favoreceu a emergência de movimentos nacionais separatistas em repúblicas até então dominadas pela Rússia. Contribuiu também para esse fato a diversidade étnica, religiosa e

cultural já existentes associada à política stalinista de russificação. O sucesso de muitos desses movimentos incitou outros povos a também lutarem por independência após a dissolução da URSS, o que tem sido acompanhado por forte repressão russa, pois estes ameaçam a soberania desses novos países.

b) A Rússia reconheceu a independência da Ossétia do Sul face ao governo georgiano. Deu apoio tático, bélico e a concessão de cidadania a separatistas da Ossétia do Sul, tendo os ataques da Geórgia como resposta a essas atitudes. A Rússia atacou posições georgianas, alegando defesa humanitária da Ossétia do Sul frente a agressão georgiana. A Rússia reagiu desse modo ao alinhamento da Geórgia aos interesses dos EUA e da União Europeia numa região considerada estratégica (Cáucaso). Outro fator importante foi a resposta russa ao apoio ocidental na independência de Kosovo, contrário aos interesses russos e de seus tradicionais aliados sérvios.

c) Os movimentos separatistas na Chechênia, no Daguestão e na Abkhásia são outros exemplos de movimentos autonomistas na região do Cáucaso.

Exercício 230

a) O envelhecimento da população é decorrente da queda das taxas de natalidade e de fecundidade que reduzem a proporção de jovens, bem como da elevação da expectativa de vida que aumenta a proporção da população de terceira idade.

b) O envelhecimento demográfico traz impactos como o aumento dos custos com previdência social e a necessidade de maiores investimentos em saúde.

c) Com a transformação demográfica, a indústria e o setor terciário (serviços, comércio e bancos) precisam rever as proporções de produção conforme as faixas etárias, além de adaptar e criar novos produtos adequados para um contingente cada vez maior de terceira idade.

Exercício 231

a) Com um longo histórico de baixas taxas de natalidade e elevada expectativa de vida, a Alemanha passa por um processo preocupante de envelhecimento de sua população e, dessa forma, vê no fluxo imigratório a possibilidade de suprir a demanda de mão de obra e mercado consumidor em declínio no país.

b) Alguns países impõem restrições aos imigrantes dentre outros motivos porque são países cuja economia tem um traço maior de fragilidade e, os imigrantes representam elevados custos para o Estado já pouco capitalizado. Soma-se a isso a forte resistência cultural seja pela xenofobia, pelo receio do desemprego ou pelo medo da aculturação.

Exercício 232

a) O comportamento das torcidas de futebol reflete sentimentos variados, como os ressentimentos decorrentes

dos nacionalismos, dos conflitos e guerras do passado (Primeira e Segunda Guerras Mundiais, onde a Alemanha foi uma protagonista decisiva), da ordem geopolítica anterior (a exemplo da hegemonia soviética no Leste Europeu) que se entrelaçam com o quadro contemporâneo onde também a Alemanha tem um papel de centralidade no campo financeiro. A Alemanha tem sido o país-chave na União Europeia no resgate financeiro dos PIIGS (Portugal, Irlanda, Itália, Grécia e Espanha). O auxílio financeiro é concedido, mas exige-se em contrapartida medidas como cortes em gastos públicos que provocam baixo crescimento e desemprego. Assim, o sentimento “antigermânico” é crescente em diversos países europeus.

b) O autor é contrário ao ideário de um “Super Estado” (referência ao aprofundamento da União Europeia), onde as soberanias nacionais seriam gradativamente suprimidas do ponto de vista econômico e legislativo. Na verdade, se ressalta o fato de que a Europa é constituída de Estados nacionais com peculiaridades culturais (língua e tradições), econômicas e políticas, muitos deles também com expressiva diversidade interna.

Exercício 233

a) O território de Hong Kong esteve sob domínio do Reino Unido a partir da Guerra do Ópio no século XIX, período em que a China ficou sob influência do imperialismo britânico. Desde o final da década de 1970, a China realizou uma abertura da economia, ou seja, mantendo o sistema socialista e introduzindo progressivamente elementos capitalistas, possibilitando a entrada de capital estrangeiro, empresas transnacionais, além de um sistema financeiro que opera com diversos bancos e bolsas de valores. Hong Kong retornou para o domínio chinês em 1997.

b) A partir de 2014, em Hong Kong eclodiu a “Revolução Guarda Chuva”, o nome foi decorrente das chuvas de monções. Entre as reivindicações dos manifestantes, maior autonomia política na escolha de seus representantes políticos. Recentemente, manifestantes foram contrários à uma lei de deportação de opositores políticos proposta pelo governo chinês. Como regime autoritário e unipartidário, a China reprime manifestações oposicionistas em Hong Kong.

Exercício 234

a) As ZEEs (Zonas Econômicas Especiais) foram criadas a partir de 1978 com a abertura da economia chinesa iniciada por Deng Xiaoping. São áreas abertas aos investimentos estrangeiros, de empresas transnacionais. As ZEEs como Shenzhen, hoje considerado o “Vale do Silício chinês”, se tornaram importantes centros industriais e tecnológicos. A atração de investimentos foi realizada com incentivos fiscais, menor custo salarial, infraestrutura moderna e vultosos aportes em setores como educação, ciência e tecnologia.

b) As ZEEs localizam-se na faixa litorânea e apresentam portos modernos para facilitar as exportações de produtos industrializados, principalmente bens de consumo, o que tornou a China o maior exportador do mundo. Nas décadas de 1970 e 1980, também era preciso localizar parte das ZEEs nas

proximidades de centros financeiros, comerciais e industriais já consolidados como os Tigres Asiáticos Hong Kong e Taiwan. Com a absorção de Hong Kong pela China em 1997, grande parte das empresas industriais migraram para a região de Shenzhen.

Exercício 235

Trata-se da Síria, localizada no Oriente Médio. Um dos países atingidos pela Primavera Árabe em 2011, um movimento por democracia contra a ditadura de Bashar Al Assad. Porém, o fracasso da diplomacia, a violência do governo e dos grupos rebeldes, bem como a interferência de outros países (Estados Unidos, França, Rússia, Arábia Saudita, Turquia e Irã) levou a Síria a uma guerra civil com milhares de mortos. Entre os grupos rebeldes, surgiu o Estado Islâmico (grupo fundamentalista sunita e terrorista) que luta contra os governos do Iraque e da Síria, além de promover atentados contra países como Turquia, França, Bélgica e EUA. Nos últimos anos, um grande fluxo de refugiados migrou para os países vizinhos e a União Europeia. Também aumentou o fluxo de refugiados para o Brasil, país que apresenta a maior população de origem síria e libanesa do mundo.

Exercício 236

a) O Estado Islâmico é um grupo fundamentalista (jihadista ou extremista) islâmico sunita e terrorista. O grupo surgiu na Síria com o advento da Primavera Árabe. Neste contexto, se organizaram vários grupos rebeldes sunitas contra o governo do ditador Bashar Al Assad (minoria alauita). O ocidente contribui enviando armas para os rebeldes e muitas delas foram apropriadas por grupos extremistas. A fusão entre extremistas sírios com extremistas do Iraque (Estado Islâmico do Iraque) deu origem ao Estado Islâmico que domina amplos territórios da Síria e do Iraque.

b) O Estado Islâmico luta contra os governos sírio e iraquiano, os curdos, os yazidís, sunitas moderados, xiitas e os Estados Unidos e seus aliados geopolíticos. O objetivo é criar um Califado, uma nação islâmica regida por leis religiosas (Estado teocrático) abrangendo o território de vários países muçulmanos do Oriente Médio e norte da África.

Exercício 237

Na resolução de uma questão com perfil interdisciplinar, recomenda-se uma estrutura integrada por introdução (1º parágrafo), argumentação (ênfase em História, 2º parágrafo), argumentação (ênfase em Geografia, 3º parágrafo) e conclusão (4º parágrafo).

Exemplo:

O racismo no passado e no mundo contemporâneo constitui uma ideologia desprovida de base científica e utilizada por vezes como justificativa para a dominação social e exploração econômica.

No período colonial, teses pseudocientíficas que afirmaram a superioridade dos brancos em relação a outros grupos étnicos como negros eram usadas como justificativa para a

colonização e imperialismo europeu no continente africano e em outras regiões do mundo como a América Latina e Caribe. No primeiro cartaz fica nítido o racismo em Portugal em 1917, país que manteve colônias na África até meados da década de 1970. No século XIX, durante a Conferência de Berlim, a África foi partilhada pelas potências europeias com o objetivo de apropriação dos recursos naturais, mão de obra e novos mercados consumidores. A introdução da civilização ocidental através do cristianismo e de ideologias racistas estava a serviço do capitalismo industrial.

Na África, os europeus impuseram fronteiras artificiais que não respeitavam as diferenças étnicas e religiosas pré-existentes, o que deu origem a conflitos culturais, guerras civis e separatismos após a descolonização. Um dos exemplos foi o Sudão com o conflito étnico em Darfur, a guerra civil entre o norte (muçulmano) o sul (cristão e animista), além da independência do Sudão do Sul em 2011. Em alguns países como a África do Sul, regimes racistas como o apartheid (1948-1990) duraram um longo tempo devido a interesses econômicos e geopolíticos locais e internacionais.

No século 21, a permanência das fronteiras artificiais na África Negra e dos conflitos decorrentes, tornam os países africanos frágeis, o que favorece a forte influência de potências europeias, dos Estados Unidos e, recentemente, da China. Por vezes, este processo é naturalizado pela também permanência de visões preconceituosas e estereotipadas sobre os Estados e povos africanos. Assim, no mundo contemporâneo, ideologias atrasadas permanecem e devem ser combatidas, a exemplo de Angola, ex-colônia portuguesa, cuja economia teve grande crescimento na década de 2000 após o término da guerra civil.

Exercício 238

Vários países africanos enfrentam problemas de instabilidade em suas fronteiras, além de separatismos e conflitos étnicos e religiosos, pois herdaram fronteiras artificiais definidas pelos colonizadores europeus no final do século XIX, a exemplo da Conferência de Berlim. A guerra civil no Sudão entre o norte muçulmano e o sul cristão e animista foi um dos exemplos, levando à recente fragmentação do país e à criação do Sudão do Sul. Também são exemplos de países que enfrentam problemas territoriais: Nigéria, Mali, República Democrática do Congo, Somália, entre outros.

Exercício 239

a) A denominação “República das bananas” ou “Republiquetas das bananas” está relacionada aos países centro-americanos, e tem um caráter depreciativo, expressando uma conotação de área dominada, dependente, como antigas colônias europeias exportadoras de produtos agrícolas tropicais, principalmente a fruticultura, que após a independência, devido à proximidade geográfica e aos interesses comerciais, passaram a tutela dos Estados Unidos em decorrência de sua política de hegemonia no continente americano, caracterizada, entre outros aspectos, pelas ações da United Fruit Corporation.

b) A história recente da América Latina mostra uma sucessão de golpes de estado e governos populistas ao sabor das mais variadas justificativas, desde a guerra fria a questões de

segurança interna. Os golpes, em geral são patrocinados por oligarquias locais e apoiados pela alta hierarquia local da Igreja Católica. Outro aspecto comum foi o autoritarismo através de repressão à liberdade de expressão e dos direitos individuais, sempre vistos como ameaças à segurança nacional.

Exercício 240

a) A América Latina e Caribe é integrada por países que foram colônias de exploração, o que está na base do subdesenvolvimento regional, uma vez que foi uma colonização com o objetivo de enriquecer as metrópoles coloniais e não desenvolver as potencialidades humanas e econômicas locais. A desigualdade e étnica foi gestada no período colonial. Mesmo após a independência, a região foi alvo de intervenções internacionais, inclusive atos imperialistas. No século XIX, o Império Britânico. No século XX, os Estados Unidos, que chegaram a fazer intervenções militares, além do apoio a ditaduras durante a Guerra Fria que atrasaram o desenvolvimento de vários países. A presença de elites locais conservadoras e pouco nacionalistas em associação com interesses externos também é um fator que aprofunda a desigualdade social e restringe a mobilidade social. Assim, países latino-americanos como Brasil, Paraguai e Colômbia estão entre os que apresentam pior distribuição de renda no mundo.

b) Vários países da América Latina e Caribe apresentam quadro severo de crise econômica, social e política desde a última década, entre os quais o Brasil, Argentina, Venezuela, Peru, Equador, Colômbia, Haiti, El Salvador, Guatemala, Honduras entre outros. A Venezuela apresenta instabilidade política devido a tendência autoritária do governo de Nicolás Maduro e conflitos com a oposição. O país enfrenta problemas econômicos graves após a queda do preço do petróleo no mercado internacional como hiperinflação, desabastecimento, crescimento da pobreza extrema e insegurança alimentar. A situação do país levou a uma crise migratória com milhões de imigrantes e refugiados deixando o país rumo a Colômbia, Brasil, Peru, Panamá e até os Estados Unidos. O Brasil, potência regional, atravessa uma crise econômica grave desde 2014 com períodos de recessão e baixo crescimento do PIB, aumento do desemprego, da pobreza e da insegurança alimentar. Também apresenta instabilidade política com o impeachment de Dilma Rousseff em 2016 e posteriormente com ascensão de um governo de extrema direita em 2018. A má gestão da pandemia de covid-19 resultou em número expressivo de mortes em 2020 e 2021 levando a elevação da mortalidade e redução na expectativa de vida.

Exercício 241

Desde o período colonial, a região do Caribe passou por crescente e intenso processo de circulação marítima em função do comércio praticado pelas potências coloniais como Espanha, Inglaterra e Holanda. Além dos brancos europeus latinos e anglo-saxônicos, os negros africanos trazidos para o trabalho escravo e as populações indígenas nativas, ajudaram a transformar o Caribe num mosaico cultural a partir da grande diversidade humana com povos de variadas origens. A

riqueza e multiplicidade de manifestações artísticas resultantes são fáceis de entender por esse ponto de vista.

Exercício 242

Os principais interesses econômicos e estratégicos norte-americanos na região do Caribe se referem: ao combate à guerrilha e a produção de coca-cocaína na Colômbia; ao controle do suprimento de petróleo venezuelano para os Estados Unidos; à importância do canal do Panamá; à presença de um governo socialista em Cuba.

Exercício 243

a) Dentre as causas da crise da Venezuela, pode-se apontar: a queda vertiginosa do preço do barril do petróleo resultante da crise do mercado imobiliário dos EUA em 2008, haja vista, ser esse o produto base da economia venezuelana; crise e instabilidade política associada aos governos de Chávez e Maduro; crise econômica gerando hiperinflação, desvalorização da moeda, desabastecimento de produtos, desemprego.

b) Dentre os fatores que levam aos conflitos xenófobos pode-se citar: temor ao imigrante no tocante ao desemprego, políticas assistenciais do Estado, aculturação; insegurança social causada pela crise econômica; ascensão e propagação de preceitos políticos de extrema direita; nacionalismo extremado; preconceito ao imigrante

Exercício 244

a) Desde a colonização, a Bolívia foi governada por uma elite descendente da minoria branca, principalmente de ascendência espanhola. O país tornou-se exportador de *commodities* minerais e agrícolas, a exemplo do estanho, do gás natural e da soja. Também foi caracterizado pela corrupção, desigualdade social e exclusão de importantes parcelas da população, principalmente as de origem indígena, que configura a maioria da população. Na década de 1990, com a implantação do neoliberalismo, a situação social não melhorou na Bolívia. Assim, nos anos 2000, houve um grande crescimento dos movimentos sociais de base indígena, permitindo a vitória de Evo Morales, líder cocaleiro e primeiro presidente de origem indígena do país. Morales implantou um governo de esquerda, nacionalista e populista. Entre as medidas, a nacionalização da exploração de gás natural e petróleo, prejudicando os interesses de transnacionais, inclusive da brasileira Petrobras. As estatizações também atingiram empresas de distribuição de energia. Também houve a instauração de programas sociais que permitiram maior distribuição de renda, porém aconteceu grande resistência de setores das classes média e alta, inclusive da região de Santa Cruz, a mais rica do país e onde se realiza a exploração de gás.

b) A ineficácia das políticas neoliberais e a concentração de renda na década de 1990 levaram ao crescimento de movimentos populares e dos partidos de esquerda e extrema esquerda na América do Sul a partir da década de 2000. Em países como Venezuela, Equador e Bolívia, predominaram governos de extrema esquerda inspirados no chavismo venezuelano. Houve expressivo avanço nos investimentos

sociais em setores como saúde e educação. Porém, com alguns problemas como corrupção, tendência autoritária, pouco diálogo com grupos opositores radicalizados, relação tensa com os meios de comunicação e problemas econômicos.

Exercício 245

Dois dos argumentos:

- ampliação do mercado consumidor
- ampliação dos fluxos de turistas entre os participantes
- aumento dos fluxos de capital entre os países-membros
- crescimento do intercâmbio de serviços dentro do bloco
- perspectiva de aumento dos investimentos diretos externos
- possibilidade de geração de emprego e renda pela ampliação do comércio externo

Uma das vantagens da posição geográfica do litoral:

- Como todos os países têm litoral no Oceano Pacífico, isso facilita o intercâmbio com os países asiáticos com quem eles já possuem acordos comerciais.
- O litoral no Oceano Pacífico favorece o comércio com a Costa Oeste dos Estados Unidos.
- Alguns países possuem litoral no Pacífico e no Atlântico, o que facilita o comércio com um número muito grande de territórios na Ásia, Oceania, América do Norte e Europa Ocidental.

O bloco denominado Aliança do Pacífico prevê a integração das economias dos países latinos do Pacífico como uma forma de rivalizar com o Mercosul (mais fortalecido com o ingresso da Venezuela), enfrentar a concorrência asiática e alavancar o crescimento da região. Os argumentos favoráveis à integração dizem respeito à ampliação das trocas comerciais entre os signatários, que por sua vez resulta na dilatação do mercado consumidor, fluxo de capitais e investimentos, oferta de empregos, intercâmbio de serviços e turismo; a contenção do avanço chinês sobre a região; e a maior eficiência na oferta de commodities para o mercado mundial.

As vantagens apresentadas pela posição geográfica dos signatários estão associadas ao sítio que ocupam, ou seja, localizados em áreas litorâneas, os países membros estendem seu escoamento aos mercados asiáticos e anglo-saxões, e, como no caso do México e Colômbia cuja posição entremeia os oceanos Pacífico e Atlântico, há a garantia também em atender o mercado europeu e africano.

Exercício 246

a) Os Estados Unidos nos últimos anos praticam protecionismo contra a China. Ou seja, protegem sua economia contra a entrada de importados, aumentando as tarifas de importação que tornam os produtos chineses mais caros.

b) Na década de 1980, ocorria um equilíbrio na balança comercial entre os Estados Unidos e a China. A partir da década de 1990, com o avanço da globalização da economia e a entrada da China na OMC (Organização Mundial do Comércio), as importações de produtos chineses pelos Estados Unidos aumentaram substancialmente, elevando muito o déficit comercial entre os dois países. Parte do desequilíbrio é explicado pelos investimentos de empresas transnacionais dos Estados Unidos no território chinês. Produzem na China

aproveitando vantagens como incentivos fiscais e menores salários, exportando para os Estados Unidos.

c) A China adotou uma política agressiva de desvalorização da sua moeda (Yuan) em relação ao dólar para estimular as exportações de seus produtos industrializados, uma vez que as mercadorias chinesas ficam mais baratas para aqueles de que dispõe de dólares para importá-las. Esta estratégia muito bem sucedida já foi utilizada na Ásia pelo Japão, Tigres e Novos Tigres Asiáticos. A exportação de produtos manufaturados explica o alto crescimento econômico das nações do leste e sudeste asiáticos em comparação com outras regiões do mundo como a América Latina.

Exercício 247

a) O estreitamento da base da pirâmide com redução porcentual de jovens foi causada pela queda da taxa de natalidade e queda da taxa de fecundidade. O alargamento do ápice com elevação do porcentual de idosos relaciona-se com a melhoria das condições de saúde e aumento da expectativa de vida.

b) Com taxa de natalidade muito baixa e expectativa de vida muito elevada, a PEA (população economicamente ativa) foi reduzida, fazendo com que o país adotasse políticas natalistas e atraísse imigrantes estrangeiros provenientes da Ásia de do Brasil. No caso dos brasileiros, são os decasségus (descendentes de japoneses ou com parentesco) que trabalham na indústria japonesa. Todavia, as condições de trabalho para os imigrantes no Japão são criticadas, a exemplo das longas jornadas e salários mais baixos. Além disso, são vítimas de discriminação. Assim, é necessário a implantação de políticas para melhorar as condições de vida dos imigrantes e assegurar direitos.

Exercício 248

Pessoas deslocadas são grupos humanos que, em razão de situações de crise, perseguições, violência e guerras, deslocam-se forçosamente para outros territórios dentro de seus próprios países – deslocados internos – ou para outros países – deslocamentos forçados – compondo nesse caso, o fluxo de refugiados. Nesse contexto, a ACNUR (Alto Comissariado das Nações Unidas para os Refugiados), não considera o deslocamento forçado como migrações.

Exercício 249

A figura 1 corresponde a um mapa que representa a pluviosidade no território chinês. A porção sudeste, onde localiza-se grande parte do rio Azul (Yang Tse) apresenta clima subtropical de Monções com altos índices pluviométricos no verão. Assim, esta bacia hidrográfica apresenta maior volume de água e melhores condições de fornecer água para a porção nordeste do país. Observa-se que a porção nordeste do país, considerando o mapa da figura 2, apresenta maior densidade demográfica e, portanto, maior demanda por recursos hídricos. Na atualidade, a porção nordeste da China, onde está a bacia do rio Amarelo (Huang Ho), enfrenta problemas de escassez e poluição dos recursos hídricos. O

clima é temperado com índice pluviométrico menor que o sudeste, além de concentração demográfica e industrial que demanda grande quantidade de água. Nos últimos anos, a China investiu em grandes projetos de transposição de rios.

Exercício 250

c) reduzida, dado o nível baixo de qualificação das ocupações dos não nacionais

Exercício 251

Dentre as vantagens econômicas resultantes da implementação do projeto chinês mencionado, pode-se citar: melhor infraestrutura e agilidade para importações e exportações; maior alcance da produção chinesa para seu mercado de consumo; redução dos custos de transporte e aumento da competitividade da economia; maior ingresso do capital chinês na Europa.

Dentre as vantagens geopolíticas resultantes da implementação do projeto chinês mencionado, pode-se citar: ampliação da hegemonia chinesa; fortalecimento do país como potência econômica global.

Exercício 252

d) demonstração de poder aos governos vizinhos – impacto duradouro da radioatividade

Exercício 253

Embora China e Estados Unidos tenham a maior capacidade hidrelétrica instalada, o percentual de geração elétrica na composição da matriz é baixo em razão do carvão mineral representar mais da metade do consumo energético da China e dos combustíveis fósseis, em especial o petróleo, representar a fonte energética mais utilizada nos Estados Unidos.

A energia hidrelétrica apresenta como vantagens ser uma fonte renovável e limpa (sem emissão de gases poluentes) e como problemas, a desconstrução de grandes áreas de paisagens naturais causando alagamento, perda de terras aráveis e deslocamento de população indígena e ribeirinha.

Exercício 254

d) controle migratório

Exercício 255

Dentre os argumentos que justificam a posição dos países que reconhecem apenas o Estado Palestino pode-se citar a questão histórica, haja vista que são países da comunidade árabe ou possuem grande porcentagem de muçulmanos em sua composição populacional e, o contexto geopolítico, em razão de serem países com relações pouco amistosas com Israel.

Dentre os argumentos que justificam a posição dos Estados Unidos reconhecendo apenas o Estado de Israel pode-se citar a presença de uma comunidade judaica que responde por forte influência econômica e política no país, a aliança política-militar e o alinhamento cultural e religioso com Israel.

Exercício 256

a) formação de áreas de influência

Exercício 257

Os continentes de maior procedência dos imigrantes são África e Ásia. Dentre as justificativas que têm intensificado a imigração em direção à Europa, pode-se citar: instabilidade política da região causada pela ação de grupos extremistas; conflitos e guerras; regimes ditatoriais e repressivos; crises humanitárias causadas pela fome e miséria.

Exercício 258

A grande concentração espacial da riqueza norte americana nas áreas em laranja, principais aglomerações de metrópoles do país, é explicada pela concentração de atividades econômicas de elevada especialização e valor agregado. Dentre as atividades econômicas relevantes nessas áreas, pode-se citar: setor de serviços especializados (setor quaternário e quinário), atividades financeiras, comércio, indústrias *high-tech*, centros de pesquisas e universidades.

Exercício 259

c) sentimento xenófobo

Exercício 260

01) os Estados Unidos têm um percentual significativo de habitantes oriundos de outros países, sobretudo hispânicos, grande parte dos quais vivendo clandestinamente devido às restrições em vigor no país.

02) o endurecimento da vigilância e das leis imigratórias, sobretudo após os ataques de 11 de setembro de 2001, e as promessas de Trump de repressão à imigração demonstram que os Estados Unidos querem dificultar a entrada de pessoas no país.

08) a União Europeia é, na atualidade, também destino de muitos refugiados, um grupo específico de imigrantes que foge por causa de conflitos internos, guerras, perseguições políticas, ações de grupos terroristas e violação dos direitos humanos.

32) os fatores de ordem econômica predominam ao longo da história como elementos provocadores dos movimentos populacionais, ou seja, há repulsão demográfica em áreas de desemprego, subemprego e baixos salários e há atração onde existe perspectiva de melhores condições de vida.

Exercício 261

01) considerado um caso singular, o movimento de independência do Haiti foi resultado de um levante popular comandado pela população negra contrária à dominação francesa.

02) em 2010, um forte terremoto atingiu o país, deixando o cenário de pobreza e instabilidade política ainda mais grave.

08) no final do século XVIII, durante a rebelião escrava que iniciou o processo de independência, o líder François-Dominique Toussaint Louverture determinou a abolição da escravidão no Haiti.