

## Geografia

### Brasil – Espaço Econômico – Indústria – [Fácil]

#### 01 - (ACAFE SC)

As montadoras de automóveis procuravam se fixar no Sudeste brasileiro. Hoje, outras regiões do país, como é o caso do Sul, têm atraído este tipo de indústria.

O(s) fator(es) responsável(eis) por esta desconcentração industrial é(são):

- a) o potencial hidrelétrico disponível que favorece sua instalação.
- b) as possibilidades de exploração de uma mão-de-obra mais Qualificada.
- c) a enorme quantidade de matérias-primas exigidas por este setor industrial.
- d) os estímulos oferecidos pelos estados com reflexos nos custos da produção.
- e) o peso do mercado consumidor das populações do Sul do Brasil.

#### 02 - (ACAFE SC)

“O Pequeno Notável: nas últimas três décadas a economia deste estado brasileiro cresceu acima da média nacional”. Nele aparecem empresas de destaque nacional e internacional, como a DUAS RODAS INDUSTRIAL, fabricante de aromas e sabores para a indústria de alimentos e a EMBRACO, a terceira maior fabricante de compressores no mundo. É um estado singular, com pouca expressão política e que tem crescido graças às suas próprias forças.

Estes dados constam na *Revista Exame* nº 668 e correspondem ao estado de:

- a) Sergipe
- b) Santa Catarina
- c) Minas Gerais
- d) Tocantins
- e) Alagoas

**03 - (FUVEST SP)**

A desconcentração industrial verificada no Brasil, na última década, decorre, entre outros fatores, da:

- a) ação do Estado, por meio de políticas de desenvolvimento regional, a exemplo da Zona Franca de Manaus.
- b) elevação da escolaridade dos trabalhadores, o que torna todo o território nacional atraente para novos investimentos industriais.
- c) presença de sindicatos fortes nos estados das Regiões Sul e Sudeste, o que impede novos investimentos nessas regiões.
- d) isenção fiscal oferecida por vários Estados, associada à baixa remuneração da mão-de-obra local.
- e) globalização da economia que, por meio das privatizações, induz o desenvolvimento da atividade industrial em todo o território.

**04 - (PUC RJ)**

Na década de 90, iniciou-se no Brasil o processo de transferência da infra-estrutura territorial e de segmentos importantes do setor produtivo para a iniciativa privada. Indique, na relação a seguir, o setor que **NÃO** participou desse processo.

- a) Ferroviário
- b) Siderúrgico
- c) Farmacêutico
- d) Telecomunicações
- e) Mineração

**05 - (PUC RS)**

Embora o Brasil possa ser considerado um país industrializado, ainda não saiu da condição de país não-desenvolvido. Isso ocorre, principalmente, devido à:

- a) predominância de indústrias de grande porte nas mãos de restritos grupos nacionais.

- b) existência de indústrias tecnologicamente desenvolvidas que provêm de países centrais, cujos lucros são revertidos para os países de origem.
- c) predominância da participação da população no setor secundário da economia, porém com baixos salários.
- d) exigência, desencadeada pelo processo de globalização, de estatizar empresas de grande porte.
- e) mentalidade exportadora de produtos industrializados que inibe o desenvolvimento interno.

#### 06 - (UFF RJ)

O valor da produção industrial brasileira, em determinados anos deste século, é mostrado no quadro a seguir.

UNIDADES DA

VALOR DA PRODUÇÃO INDUSTRIAL(%)

FEDERAÇÃO	1907	1919	1930	1970	1990
R. de Janeiro	37,8	28,2	14,0	15,5	8,4
Minas Gerais	4,4	5,6	6,5	7,1	8,3
São Paulo	15,9	31,5	46,4	57,2	51,4
Demais Unidades	41,9	34,7	33,1	20,2	31,9

Fonte: IBGE - Anuário Estatístico no Brasil - 1992

Considere as informações contidas neste quadro e analise as proposições:

- I. O Estado de São Paulo tornou-se a Unidade da Federação responsável pela maior parcela do valor total da produção industrial brasileira.
- II. O Estado do Rio de Janeiro manteve sua participação inalterada.
- III. Minas Gerais repetiu o desempenho de São Paulo.
- IV. Os dados mais recentes indicam a redução do valor da produção industrial de São Paulo, porém continua o predomínio da região Sudeste.

Assinale a opção que avalia, corretamente, a veracidade destas proposições.

- a) Apenas a I é verdadeira.
- b) Apenas a I, a II e a III são verdadeiras.
- c) Apenas a I e a IV são verdadeiras.
- d) Nenhuma é verdadeira.
- e) Todas são verdadeiras.

### 07 - (UFF RJ)

Em agosto de 1999, a Volkswagen anunciou que desativaria a linha de produção do Gol (carrochefe da montadora de São

Bernardo) e a levaria, como carros da “família” (Parati e Saveiro), para a unidade de Taubaté, no Vale do Paraíba.



Dentre os fatores que vêm promovendo a tendência de fuga de indústrias da região do ABC paulista, pode-se destacar:

- a) o aumento da poluição ambiental da região do ABC, os conflitos político-sociais e o crescimento da violência urbana;
- b) a estrutura arcaica das empresas da região, a rigorosa legislação ambiental e os altos impostos;
- c) a carência de mão-de-obra qualificada, a falta de incentivo do governo e a elevada urbanização dessa região paulistana;
- d) a maior facilidade de transportes em outras regiões do Estado de São Paulo, a terceirização das empresas e o aumento da pressão demográfica local;

- e) o esgotamento da região industrial com elevada concentração de indústrias, a forte sindicalização dos trabalhadores e o alto custo da força de trabalho.

**08 - (UNESP SP)**

As considerações a seguir dizem respeito à cidade localizada no mapa.



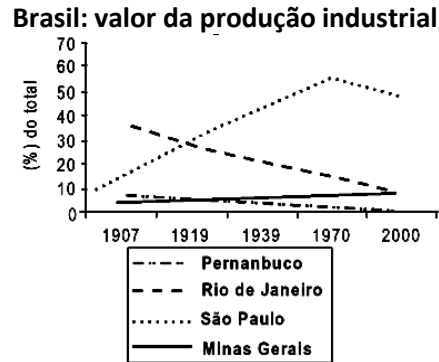
- I. Seu pólo industrial é fruto de um Decreto-lei da época do regime militar, portanto, imposto à sociedade brasileira.
- II. Suas empresas realizam operações básicas de montagem incorporando, gradativamente, componentes de fabricação nacional.
- III. A produção industrial é altamente subsidiada.
- IV. O regime tributário estabelece concorrência desleal com os produtores de outras regiões do país.

Assinale a alternativa correta.

- a) Pólo Têxtil de Belém.
- b) Distrito Industrial de Santarém.
- c) Zona Franca de Manaus.
- d) Pólo Siderúrgico de Porto Velho.
- e) Zona Petroquímica de Palmas.

**09 - (UNIFOR CE)**

Considere o gráfico apresentado abaixo.



(José William Vesentini. **Brasil: Sociedade e Espaço**, 2001)

A partir da leitura do gráfico e de seus conhecimentos sobre a evolução da indústria no Brasil, pode-se afirmar que:

- a) a ocorrência de secas prolongadas afetou diretamente a indústria nordestina, evidenciada no declínio do valor da produção industrial em Pernambuco.
- b) o valor da produção industrial permaneceu o mesmo no estado de Minas Gerais, que mantém sua economia em bases agrárias.
- c) no estado de São Paulo, o valor da produção industrial voltou a crescer a partir da década de 1970, fase do "milagre econômico" brasileiro.
- d) o estado do Rio de Janeiro apresentou o maior declínio relativo no valor de sua produção industrial ao longo das décadas, como consequência da saída das indústrias.
- e) o declínio do valor da produção industrial em todos os estados destacados no gráfico é consequência direta da globalização econômica atual.

**10 - (UNIFESP SP)**

Entre as transformações observadas na industrialização brasileira na última década, está correto afirmar que os novos investimentos:

- a) visaram concluir o processo de substituição de importações, iniciado na década de 1930, por meio da abertura econômica ao capital internacional.
- b) concentraram-se em áreas de oferta de recursos naturais, como minério de ferro e bauxita, e de mão-de-obra, como na Baixada Fluminense (RJ).

- c) alteraram a produção industrial do país, distribuindo recursos em unidades da federação do Nordeste e Centro-Oeste do país.
- d) resultaram na autonomia da economia do país e no crescimento da participação do Brasil no comércio mundial.
- e) dificultaram a integração regional com países do Mercosul, pois concentraram-se na faixa litorânea do país.

### 11 - (UFJF MG)

“Às vésperas de comemorar o seu sesquicentenário - no ano 2000 - Juiz de Fora abre as portas para um novo ciclo de desenvolvimento econômico. Sedar uma montadora como a Mercedes-Benz, além de ser um orgulho para a cidade, representa o fim de quase meio século de estagnação.” *Tribuna de Minas, 23/04/1999*

“Esta retomada, faz lembrar os tempos em que Juiz de Fora era conhecida como Manchester Mineira.” *Jornal do Brasil, 23/04/1999*

Entre os fatores que mais influenciaram a localização da empresa na cidade, podemos citar, EXCETO:

- a) disponibilidade de terreno, incentivos fiscais e financiamento;
- b) qualidade da infra-estrutura urbana, rede de fibra ótica e gás natural;
- c) conexões rodoferroviárias com as principais cidades e portos do país;
- d) influência da colonização alemã na construção da cidade,

### 12 - (UFPI)

Considerando a atual situação econômico-financeira e social interna do Brasil e suas relações no conjunto do sistema capitalista mundial, assinale a alternativa correta.

- a) A industrialização eliminou a dependência econômica em relação aos países hegemônicos do capitalismo central.
- b) O Brasil depende da tecnologia estrangeira e de capitais externos, e as indústrias mais dinâmicas são filiais de empresas multinacionais.
- c) A expansão da industrialização provocou a integração do país acabando com as desigualdades regionais.

- d) O crescimento do PIB (Produto Interno Bruto), nos últimos anos, resolveu os problemas de pobreza, subnutrição e desigualdades sociais de modo geral.
- e) O avanço industrial e tecnológico do Brasil tomou possível sua inclusão no grupo dos países Primeiro Mundo.

### 13 - (UFRN)

No Brasil, a divisão territorial do trabalho, fruto do crescimento da economia industrial, foi responsável, entre outras coisas, pelo(a)

- a) dependência gradativa do campo em relação à cidade.
- b) restrição das desigualdades regionais.
- c) crescimento da exportação de bens de consumo.
- d) elevação da taxa de crescimento vegetativo.

### 14 - (UFRN)

Nos anos 70, intensificaram-se os desequilíbrios regionais e a concentração industrial no Brasil. Isso levou o governo federal a adotar uma série de medidas no sentido de promover a desconcentração industrial.

Entre essas medidas, pode-se destacar:

- a) crescimento agroindustrial nas regiões Norte e Centro-Oeste
- b) fortalecimento da economia do Sudeste, através do crescimento industrial
- c) integração nacional através de incentivos à produção agrícola mecanizada
- d) desenvolvimento industrial das áreas periféricas, a partir de incentivos fiscais

### 15 - (UFRGS)

Em 1999, a instalação da Audi/Volkswagen consolidou um Estado como sendo uma importante alternativa para as indústrias automotivas que se instalaram no Brasil na década de 90. O desenvolvimento de uma malha de fornecedores de autopeças e prestadores de serviços para o novo pólo gerou no Estado cerca de 90 mil empregos diretos e indiretos.



A qual Unidade da Federação o texto acima faz referência?

- a) Bahia
- b) Ceará
- c) Minas Gerais
- d) Paraná
- e) Rio Grande do Sul

#### 16 - (UFPA)

“Fábio de Souza, 19, teve mais sorte que seu pai. Na década de 80, Antônio de Souza se cansou da dura vida de pequeno agricultor em Sobral, no Ceará, e migrou para São Paulo. Analfabeto, Antônio não prosperou e teve de voltar para o Ceará. Seu filho não vai precisar se esforçar tanto para buscar emprego numa fábrica. A indústria está chegando ao sertão”.

(INTERIOR JÁ EMPREGA MAIS QUE CAPITAL. Folha de São Paulo, 19/09/99, 2º Caderno, p. 1)

A reportagem acima revela mudanças na organização do espaço brasileiro, decorrentes da dinâmica econômica produtiva no âmbito industrial, e sugere:

- a) um processo de dispersão ou de deslocamento das indústrias em direção a cidades de porte intermediário que, muitas vezes, apresentam índices de crescimento econômico superior aos grandes centros industrializados
- b) a perda de importância dos principais centros econômicos do País, que deixaram de ser industrializados e que passaram a apresentar uma dinâmica econômica baseada exclusivamente nas atividades comerciais e financeiras
- c) a redução acentuada do nível de desemprego no País, devido à expansão da atividade industrial, que não se limita mais aos grandes centros e incorpora regiões até então consideradas de pouco dinamismo econômico
- d) uma dinâmica de centralização das atividades produtivas, que apresentam um ritmo de expansão acelerado, cujo critério de localização está limitado às periferias das regiões metropolitanas oficialmente definidas
- e) um processo acentuado de expansão de indústrias em espaços considerados eminentemente industriais, definindo, portanto, disparidades e níveis diferenciados de industrialização entre cidades e regiões

**17 - (UFPB)**

O processo de industrialização brasileira encontrou, no Centro Sul do país, principalmente em São Paulo, os elementos indispensáveis ao seu desenvolvimento: mão-de-obra assalariada, mercado consumidor, eletricidade, sistema de transportes e excelente sistema bancário. Sobre esse processo, é **INCORRETO** afirmar que:

- a) a concentração da produção industrial brasileira ocorre, desde os seus primórdios, em São Paulo.
- b) a elevada concentração industrial em São Paulo gerou uma deseconomia de escala, responsável pela desconcentração espacial das indústrias, a partir de 1970.
- c) o processo de desconcentração espacial das indústrias paulistas gerou um surto de industrialização no Nordeste e no Sul, equilibrando assim a produção industrial por regiões.
- d) o crescimento industrial nas diversas regiões do país passa, a partir dos anos 70, a ser promovido pelos governos estaduais e federal, através de incentivos.
- e) as atividades industriais concentram-se, atualmente, em São Paulo, tendo as outras regiões do país como mercados consumidores, de acordo com a lógica da acumulação capitalista.

**18 - (UFPI)**

Sobre o processo de industrialização no Brasil, assinale a alternativa correta.

- a) A industrialização do Sudeste provocou a formação de um mercado consumidor, passando esta região a ser o principal pólo distribuidor de mercadorias industriais para todo o país.
- b) A crise mundial de 1929 provocou o aumento da demanda de café nos mercados internacionais e a diversificação da produção agrícola brasileira.
- c) O crescimento da economia urbano-industrial no Sudeste possibilitou a integração do mercado interno brasileiro e a extinção das desigualdades regionais.
- d) A modernização do Brasil através da industrialização determinou maior autonomia regional à Amazônia e ao Nordeste.
- e) O crescimento da economia industrial produz uma divisão territorial do trabalho que torna a indústria cada vez mais dependente da agricultura.

**19 - (UFMG)**

Considerando-se a organização espacial da indústria na Região Sudeste brasileira, é **INCORRETO** afirmar que:

- a) a concentração geográfica da indústria no espaço intra-regional foi responsável, em décadas recentes, pelos processos de deseconomia de aglomeração na Região.
- b) o transporte ferroviário constituiu a principal via de integração do espaço oriental brasileiro, viabilizando a expansão do mercado interno da produção industrial do Sudeste.
- c) a moderna industrialização do campo foi introduzida nessa Região, de forma pioneira no País, com o desenvolvimento da agroindústria de soja e laranja em São Paulo.
- d) o processo de industrialização, ainda em sua etapa inicial, recebeu suporte do Governo pela implantação de empresas estatais no Rio de Janeiro e em Minas Gerais.

## 20 - (UNIFOR CE)

Desde o início do século XX, o processo de industrialização brasileiro confirmou o Sudeste como uma região central. Além da economia de mercado, as políticas desenvolvidas pelo Estado, ligadas inicialmente à implantação da siderurgia e, posteriormente, à entrada de capitais transnacionais para a instalação de indústrias de bens de consumo duráveis como a automobilística e a de eletrodomésticos reforçaram esta organização.

Assinale a alternativa que identifica a idéia central do texto.

- a) O processo de industrialização gerou a concentração espacial da riqueza.
- b) A industrialização promoveu a integração nacional.
- c) O capital internacional tornou o processo de industrialização autônomo.
- d) O Brasil assumiu um novo papel na nova divisão internacional do trabalho.
- e) O crescimento industrial brasileiro diminuiu o ritmo no pós-Guerra.

## 21 - (FGV)

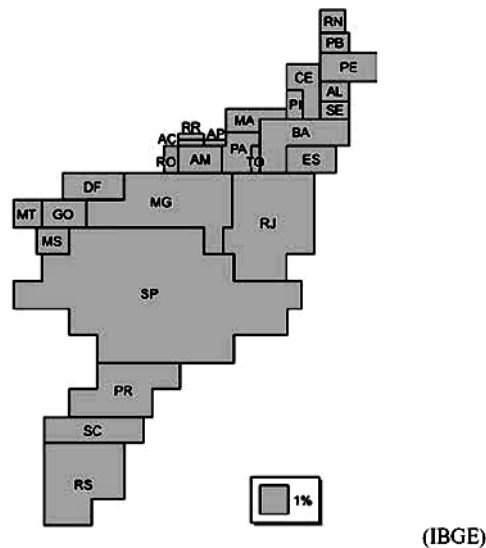
A análise da distribuição geográfica das indústrias no Brasil permite afirmar que:

- a) As indústrias de transformação estão localizadas, em sua quase totalidade, nas áreas urbanizadas.
- b) As indústrias de bens de consumo duráveis estão concentradas nas regiões metropolitanas.

- c) A tendência na concentração geográfica da indústria continua indicando o município de São Paulo, comparativamente, como o de maior índice de crescimento industrial.
- d) Nos últimos anos, não houve mudanças na tendência da distribuição geográfica das indústrias no país.
- e) A Região Nordeste, dentro da atual política econômica, foi a que não se beneficiou com a instalação de novas indústrias de transformação.

## 22 - (UFTM MG)

A representação cartográfica, em anamorfose, da distribuição do PIB total brasileiro pelas unidades da federação, revela:



- a) que a soma do PIB das imensas regiões Centro-Oeste e Norte representam mais que o de São Paulo.
- b) o crescente predomínio da participação do Nordeste no PIB nacional.
- c) as impressionantes disparidades geoeconômicas no Brasil.
- d) a hegemonia econômica sulista, tendo como base a concentração geográfica da produção industrial catarinense.
- e) a recente onda de investimentos estrangeiros, gerando a descentralização da atividade industrial, em maior escala para o Nordeste.

**23 - (UNIFESP SP)**

A descentralização industrial verificada nos últimos anos no Brasil gerou novos pólos automobilísticos no país, como em:

- a) Ribeirão Preto, SP, graças à presença de universidades que realizam pesquisas tecnológicas.
- b) Catalão, GO, devido à presença de indústrias metalúrgicas e à isenção fiscal aos investidores.
- c) Crato, CE, com o objetivo de exportar ao mercado europeu, aproveitando a liberação de impostos.
- d) Vitória, ES, o que facilitou o transporte dos veículos pelo oceano, uma vez que seu porto foi modernizado.
- e) Belém, PA, transformando a cidade em uma zona de produção para exportação no Brasil.

**24 - (UFLA MG)**

A indústria brasileira integrou-se à economia globalizada constituindo-se internamente por fatores considerados positivos e negativos. Assinale a alternativa em que, no que diz respeito aos elementos constitutivos de uma economia globalizada, possam ser considerados um fator positivo e um negativo, respectivamente.

- a) Valorização cambial - ausência de incentivos governamentais.
- b) Custo de mão-de-obra - custo de equipamentos importados.
- c) Crescimento do mercado interno - carga de impostos.
- d) Carga de impostos - custo de mão-de-obra.
- e) Taxa atual de inflação - taxas de juros internacional.

**25 - (UNESP SP)**

A produção industrial brasileira é grande e diversificada, mas sua distribuição espacial revela, ainda hoje, forte concentração geográfica. Apesar da relativa desconcentração industrial em curso, iniciada nos anos 1970, quando se consideram os valores recentes da produção de cada estado em relação ao valor total do país, nota-se que mais de 70% da produção industrial do Brasil, em ordem decrescente de importância, são de responsabilidade dos seguintes estados:

- a) Rio Grande do Sul, Minas Gerais, Rio de Janeiro e São Paulo.

- b) Paraná, Minas Gerais, Rio de Janeiro e São Paulo.
- c) São Paulo, Rio de Janeiro, Minas Gerais e Paraná.
- d) Minas Gerais, Rio Grande do Sul, Rio de Janeiro e São Paulo.
- e) São Paulo, Rio de Janeiro, Minas Gerais e Rio Grande do Sul.

#### **26 - (UNIFESP SP)**

A descentralização industrial verificada nos últimos anos no Brasil gerou novos pólos automobilísticos no país, como em:

- a) Ribeirão Preto, SP, graças à presença de universidades que realizam pesquisas tecnológicas.
- b) Catalão, GO, devido à presença de indústrias metalúrgicas e à isenção fiscal aos investidores.
- c) Crato, CE, com o objetivo de exportar ao mercado europeu, aproveitando a liberação de impostos.
- d) Vitória, ES, o que facilitou o transporte dos veículos pelo oceano, uma vez que seu porto foi modernizado.
- e) Belém, PA, transformando a cidade em uma zona de produção para exportação no Brasil.

#### **27 - (Mackenzie SP)**

O crescimento médio de 8,3% da indústria brasileira, desde o Plano Cruzado, reflete-se na expansão em quatro categorias industriais, demonstradas a seguir:

- . bens de consumo duráveis - 21,8 %
- . bens de capital - 19,7 %
- . bens intermediários - 7,4 %
- . bens de consumo semi e não duráveis - 4,0 %

IBGE-Folha de São Paulo, 11/02/2005

Portanto, uma correta exemplificação aleatória de produtos dos setores especificados na tabela seria, respectivamente,

- a) acrílicos – papel moeda – pneus – compact disc
- b) televisores – motores – alimentos – móveis
- c) vestuários – autopeças – utensílios domésticos – fibras sintéticas
- d) automóveis – eletrodomésticos – bicicletas – remédios
- e) computadores – lubrificantes – cabos de aço – calçados

### **28 - (Mackenzie SP)**

- I. Mau uso do dinheiro público, acompanhado de corrupção e superfaturamento de obras públicas.
- II. Política econômica que sempre exigiu grandes somas de dinheiro para minimizar as dívidas internas e externas, aliada à falta de fixação de prioridades nacionais.
- III. Histórica crise monetária e financeira internacional dos anos 70, que se prolongou pela década de 80.

A conjugação dos fatores acima constituiu obstáculo para que o Brasil:

- a) transformasse a agropecuária de caráter intensivo em agropecuária extensiva.
- b) ampliasse as atividades industriais do setor terciário, em detrimento das atividades econômicas do setor primário.
- c) fizesse sua plena inserção na Terceira Revolução Industrial ou Tecnológica e se tornasse mais competitivo.
- d) interrompesse a redistribuição da propriedade agrária, garantida pelo Estatuto da Terra.
- e) implantasse o Plano Real, com o objetivo de combater a inflação e o aumento do consumo da população.

### **29 - (PUC MG)**

Nas últimas décadas do século XX, iniciou-se uma relativa desconcentração da atividade industrial brasileira, ocorrendo um maior ritmo de crescimento industrial em outros Estados além de São Paulo. Entre as causas desse processo, é INCORRETO afirmar com referência à Região Metropolitana Paulista:

- a) As dificuldades geradas pelo adensamento da circulação tornam a região menos favorável frente a outras localizações.
- b) O alto custo da terra e dos serviços constitui um fator de desestímulo às novas instalações industriais.
- c) Os movimentos sindicais e as reivindicações salariais dos operários paulistas podem significar barreiras para a atração de novos estabelecimentos de produção industrial.
- d) O surgimento de uma outra metrópole nacional no País retira da Região Metropolitana Paulista a sua vantagem locacional.

### **30 - (PUC MG)**

Com o processo de industrialização / urbanização, verificou-se uma relação de dominação cidade x campo. São manifestações desse processo, EXCETO:

- a) O campo estabelece a comercialização da sua produção e decide sobre ela, atendendo a uma hierarquia urbana crescente e priorizando, em primeiro plano, as cidades próximas.
- b) A cidade fornece máquinas e insumos agrícolas e controla o crédito bancário para o campo.
- c) A cidade passa a comandar as atividades rurais, estabelecendo um sistema dominante de relações econômicas e sociais e produzindo uma divisão territorial do trabalho.
- d) A mais-valia produzida no campo é transferida em grande parte para a cidade, levando-o a perder poder de comercialização direta de sua produção.

### **31 - (PUC RS)**





"Operários" - Tarsila do Amaral - 1933

- I. Os rostos estáticos, evidenciando miséria e massificação, lembram os trabalhadores rurais em latifúndios canavieiros existentes no final do século XX, na Região Norte do Brasil.
- II. A pintura retrata mudanças demográficas que ocorreram no Brasil a partir da década de 1930, trazendo uma imagem que lembra um conjunto de operários das indústrias de São Paulo.
- III. A tela contempla a situação de mudança estrutural pela qual passou a economia e a demografia do Brasil: enquanto as cidades inchavam populacionalmente com camponeses desempregados, as indústrias moviam a economia, transformando o Brasil agrário.
- IV. A ausência de elementos naturais na pintura condiz com a época da sua realização, em que o mais importante não era a preservação da natureza, mas a sua utilização como fornecedora de matérias-primas.

Pela a análise das afirmativas, conclui-se que somente estão corretas:

- a) I e II
- b) I e III
- c) I, III e IV
- d) II, III e IV
- e) II e IV

### 32 - (UEPB)

Considerando os dados da tabela abaixo, que analisam a dinâmica da indústria de veículos e as variações de empregos nesse ramo de atividade industrial no Brasil, podemos concluir que:

**BRASIL - INDÚSTRIA DE VEÍCULOS -  
PRODUÇÃO, EXPORTAÇÃO E EMPREGOS  
1970-1997 (NÚMEROS ABSOLUTOS)**

Ano	Produção (em unidades)	Exportação (em unidades)	Total de Empregados
1970	416.089	409	65.902
1980	1.165.174	157.085	133.683
1990	914.466	187.311	117.396
1997	2.069.703	416.872	106.985

- I. De 1970 a 1980, a produção de veículos quase triplicou. Esse salto deve-se ao início das exportações de automóveis em grande escala. O número de empregos cresceu quase proporcionalmente ao crescimento da produção.
- II. De 1980 a 1990, registrou-se uma diminuição da produção e do número de empregos, contudo observa-se aumento da parcela da produção destinada ao mercado externo.
- III. De 1990 a 1997, a produção de veículos dá outro salto, impulsionado pelas vendas internas e externas. Contudo, o emprego ainda conhece retração. Nessa fase observa-se aumento de produtividade com a automação industrial, a terceirização de processos produtivos e o aumento da importação de componentes.

Está(ão correta(s):

- a) Apenas a proposição II
- b) Apenas a proposição I
- c) Todas as proposições
- d) Apenas a proposição III
- e) Apenas as proposições I e II

**33 - (UFMG)**

Análise esta tabela, em que se relacionam as nove unidades administrativas mais ricas do País e suas respectivas participações no PIB nacional, em 1999 e em 2002:

Municípios e Distrito Federal	Participação Relativa no PIB Nacional (%)	
	1999	2002
São Paulo	11,6	10,4
Rio de Janeiro	5,6	4,7
Brasília	2,3	2,7
Manaus	1,3	1,5
Belo Horizonte	1,5	1,4
Duque de Caxias	0,8	1,0
Curitiba	1,3	1,0
Guarulhos	1,1	1,0
São José dos Campos	1,0	1,0
<b>TOTAL</b>	<b>26,5</b>	<b>24,7</b>

FONTE: *Folha de S. Paulo*, São Paulo, 4 maio 2005.

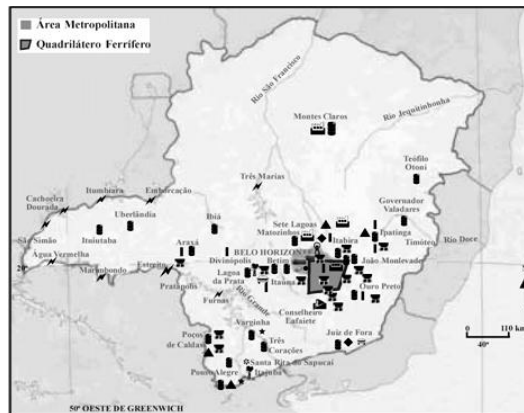
Caderno Dinheiro. (Adaptada)

A partir dessa análise e considerando-se outros conhecimentos sobre o assunto, é INCORRETO afirmar que, no período considerado:


- os dois municípios de maior população foram os que alcançaram crescimento mais significativo da participação percentual no PIB nacional.
- a importância que as atividades industriais ocupam na composição do PIB dessas unidades administrativas é um dos fatores que explicam a concentração espacial da riqueza no Brasil.
- a presença, nesse *ranking*, de municípios que não sediam administrações estaduais pode ser explicada pelo extravasamento da atividade industrial de grandes centros para municípios situados em suas proximidades.
- o Distrito Federal ocupa posição de destaque por ser a Capital Federal e, conseqüentemente, pela importância de seu setor terciário na geração de renda.

### 34 - (UFU MG)

Considere o mapa abaixo:



### Indústria de Transformação



Sobre a industrialização do estado de Minas Gerais, analise as afirmações apresentada.

- I. No triângulo Mineiro, devido à presença de um grande número de usinas hidrelétricas na Bacia do Rio Paranaíba e do Rio Grande, destacam-se as indústrias eletrônicas, de materiais elétricos e de automotores.
- II. No Sul de Minas, nem mesmo a duplicação da Rodovia Fernão Dias conseguiu ampliar o setor industrial da região que se baseia na produção de derivados de leite, pois a pecuária constitui-se como a principal atividade econômica.
- III. A Região Metropolitana de Belo Horizonte possui indústrias têxteis, automobilísticas, de confecções, de material elétrico, alimentícias e de refinação de petróleo, devido à presença da Refinaria de Gabriel Passos, da Petrobrás.
- IV. Os recursos minerais existentes no estado possibilitaram a formação de uma importante zona siderúrgica e metalúrgica no Vale do Rio Doce, onde se produzem ferro e aço para as indústrias brasileiras e para a exportação.

Assinale a alternativa que apresenta somente assertivas corretas.

- a) II e III
- b) I e III
- c) III e IV
- d) II e IV

### **35 - (UPE)**

Sobre as atividades industriais no Brasil, pode-se dizer que:

- 00. de 1940 em diante, começam a se estruturar, em linhas gerais, as bases de um sudeste industrial, em que Rio de Janeiro e São Paulo passaram a exercer um papel econômico relevante.
- 01. a expansão do mercado interno e a dificuldade de comercializar com o exterior, em face da Segunda Guerra Mundial, possibilitaram a instalação de numerosas indústrias, inclusive as de base.
- 02. a posição de portos como Recife, Salvador, Vitória e Rio de Janeiro não conseguiu atrair indústrias ligadas diretamente à importação.
- 03. para as indústrias de base, as jazidas de ferro e manganês no Quadrilátero Ferrífero possibilitaram a instalação de siderúrgicas no Sudeste do País.
- 04. o fato industrial caracterizou-se pela concentração espacial, ou seja, em algumas áreas do território que apresentavam uma conjugação de fatores favoráveis.

### **36 - (UFAC)**

A organização espacial do tipo centro-periferia no Brasil decorreu:

- a) da conquista da Amazônia.
- b) da industrialização.
- c) da subordinação do campo à cidade.
- d) da expansão cafeeira.
- e) das relações de trocas que favoreciam o centro.

**37 - (Mackenzie SP)**

Entre as causas que explicam a relativa diminuição de concentração industrial na área metropolitana de São Paulo podemos considerar

- I. A deseconomia de escala na região, em face dos baixos custos de produção.
- II. Um sindicalismo forte e atuante na Grande São Paulo e nos arredores.
- III. Incentivos Fiscais oferecidos por outras regiões.

Está correto o que se afirma em

- a) apenas I e II.
- b) apenas II e III.
- c) apenas I e III.
- d) apenas III.
- e) I, II e III.

**38 - (UEG GO)**

O pólo industrial de Manaus é hoje um dos principais centros manufatureiros do país, com destaque para as indústrias mecânica, eletrônica, química e farmacêutica. Foi criado em 1967, produto direto do planejamento feito pelo regime militar. Acerca desse pólo, analise a validade das proposições abaixo.

- I. Dentro do projeto de integração nacional, foi criado com o objetivo de estabelecer um processo de industrialização num espaço que até então não possuía integração com o Centro-Sul do Brasil.
- II. Os incentivos fiscais, como isenção de impostos e facilidades aduaneiras, atraíram diversas indústrias, inclusive multinacionais, para Manaus.

III. O referido pólo encontra-se desativado, tendo se transformado numa grande linha de montagem sem pesquisas e avanços tecnológicos.

Assinale a alternativa CORRETA:

- a) Apenas as proposições I e II são verdadeiras.
- b) Apenas as proposições I e III são verdadeiras.
- c) Apenas as proposições II e III são verdadeiras.
- d) Todas as proposições são verdadeiras.

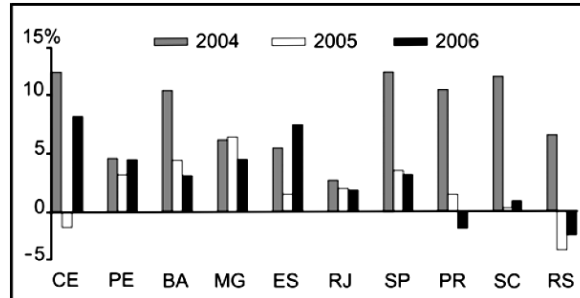
### 39 - (UFRGS)

Sobre o processo de industrialização brasileiro, são feitas as seguintes afirmações.

- I. A partir de 1930, começa um importante projeto de criação de infra-estrutura para o desenvolvimento do parque industrial.
- II. A partir da Segunda Guerra Mundial, acentua-se o processo de estatização das indústrias na Região Sudeste.
- III. A partir de 1964, amplia-se o parque industrial para atender a demanda da modernização da agricultura.

Quais estão corretas?

- a) apenas I
- b) apenas II
- c) apenas III
- d) apenas I e III
- e) apenas II e III

**40 - (FUVEST SP)**
**Desempenho Industrial Estadual – Taxas anuais reais de crescimento.**


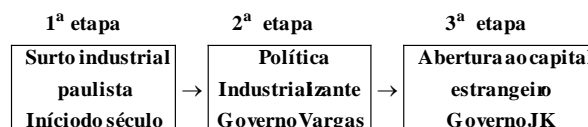
Fonte: IBGE, 2007.

Com o auxílio do gráfico e considerando seus conhecimentos, é possível afirmar que, no período representado,

- a região sul mostra sensível decréscimo das taxas de produção industrial, fato que provoca êxodo da população em busca de emprego nas atividades agrárias.
- a região sul apresenta taxas altas e baixas de crescimento, devido ao esgotamento do modelo baseado em indústrias alimentícias.
- os estados selecionados do Nordeste revelam tendência à estagnação da produção industrial e à retração das atividades agrárias.
- os dados apontam para o fenômeno da desconcentração industrial no Sudeste, em razão da liderança assumida pelo agronegócio nessa região.
- a região sudeste ainda apresenta concentração industrial expressiva, apesar da diminuição das taxas de crescimento de parte de seus estados.

**41 - (IBMEC SP)**

A industrialização brasileira no século XX foi tardia e ocorreu através da substituição de importações. Na região Sudeste, esse processo se operou através de três etapas principais, mostradas no esquema abaixo.





Assinale a seqüência que mostra corretamente os setores da indústria desenvolvidos em cada etapa.

- a) bens de consumo duráveis → indústria de base → bens de consumo não-duráveis
- b) bens de consumo não-duráveis → indústria de base → bens de consumo duráveis
- c) indústria de base → bens de consumo duráveis → bens de consumo não-duráveis
- d) bens de consumo duráveis → bens de consumo não-duráveis → indústria de base
- e) bens de consumo não-duráveis → bens de consumo duráveis → indústria de base

#### 42 - (UNIFESP SP)

O Vale do Paraíba, no Estado de São Paulo, pode ser caracterizado pela predomínio das seguintes atividades econômicas:

	Século XIX	Século XX	Século XXI
a)	Produção de café	Produção de automóveis	Indústria aeroespacial
b)	Pecuária	Produção de café	Indústria eletrointensiva
c)	Produção de cana-de-açúcar	Bacia leiteira	Pecuária
d)	Ouro	Extratativismo vegetal	Turismo ecológico
e)	Bacia leiteira	Indústria artesanal	Indústria de automóveis

#### 43 - (UESPI)

O desenvolvimento industrial brasileiro, que teve início no final do século XIX, ocorreu de forma desigual nas diferentes regiões do Brasil, pois houve uma concentração da atividade industrial, particularmente, nos Municípios de São Paulo e Rio de Janeiro. Dentre outras razões, explicam esse fato:

- a) a formação de um mercado externo na região Sudeste e a criação de casas de importação por emigrantes estrangeiros.
- b) o domínio da cafeicultura no Sudeste, a conseqüente acumulação de capital e a imigração estrangeira que se dirigiu para essa região.
- c) o domínio da mineração em São Paulo e a fundação de casas de exportação que tinham como objetivo abastecer o mercado brasileiro de produtos nacionais.
- d) o desenvolvimento de empresas de extração mineral em São Paulo, que permitiu a acumulação de capital, e o conseqüente fluxo de emigrantes que para lá se dirigiu.
- e) a abolição da escravidão e a concentração da população na região Sudeste, fato que estimulou a criação de casas de importação.

#### 44 - (UESPI)

A região de Cubatão, no Estado de São Paulo, apresentava, na época de seu ritmo mais intenso de industrialização, ou seja de 1950 a 1960, todos os atrativos para a implantação de um pólo industrial, como por exemplo, os que são mencionados a seguir, **exceto**:

- a) clima subtropical úmido, que determina ausência de secas prolongadas.
- b) proximidade de centro consumidor.
- c) disponibilidade de mão-de-obra.
- d) proximidade de porto marítimo de grande porte.
- e) malha viária satisfatória.

#### 45 - (UECE)

Com o advento da Terceira Revolução Industrial, o conhecimento técnico-científico–informacional redefine as relações de domínio entre os países, bem como a questionável classificação em “desenvolvidos” e “subdesenvolvidos” ou “em desenvolvimento”.

No Brasil, o processo de industrialização, na década de 1950, foi responsável pela concentração populacional e de investimentos públicos no setor de infra-estrutura industrial.

Nesse período, a região brasileira que mais recebeu investimentos foi a

- a) Norte.
- b) Sudeste.
- c) Nordeste.
- d) Centro-Oeste.

**46 - (UNCISAL AL)**

Observe as obras da artista Tarsila do Amaral (1886-1973).

I



(A Gare. Óleo sobre tela, 84,5 x 65 cm, 1925)

II



(Segunda Classe. Óleo sobre tela, 110x151 cm, 1933)

Embora com abordagens diferentes, as obras de Tarsila do Amaral retratam a região brasileira:

- a) Norte.
- b) Nordeste.
- c) Centro-Oeste.
- d) Sudeste.
- e) Sul.

**47 - (UERJ)**

A charge abaixo nos remete às eleições presidenciais de 1989, vencidas por Fernando Collor, que governou de 1990 até seu impeachment em 1992.



(NOVAES, Carlos E. e LOBO, César. História do Brasil para principiantes. São Paulo: Ática, 1999.)

Uma característica da política econômica implementada por esse governo que o diferencia dos anteriores é:

- a) estatização das indústrias de base
- b) adoção do ortodoxismo monetário
- c) aumento do número de empresas estatais
- d) abertura da economia aos produtos estrangeiros

#### 48 - (ESPM SP)

São exemplos de indústria de bens de produção e bens de consumo duráveis, respectivamente:

- a) siderúrgica; eletrodoméstico.
- b) petroquímica; mecânica.
- c) papel-celulose; têxtil.
- d) automobilística; autopeças.
- e) naval; alimento.

#### 49 - (PUC RS)

Observe a figura e o texto, referentes a um momento histórico- geográfico em que ocorreram acontecimentos marcantes para a organização espacial do território brasileiro.



Propaganda do veículo Romi-Isetta, com os atores John Herbert e Eva Wilma

(década de 60). Primeiro automóvel produzido no Brasil (entre 1956-1961).

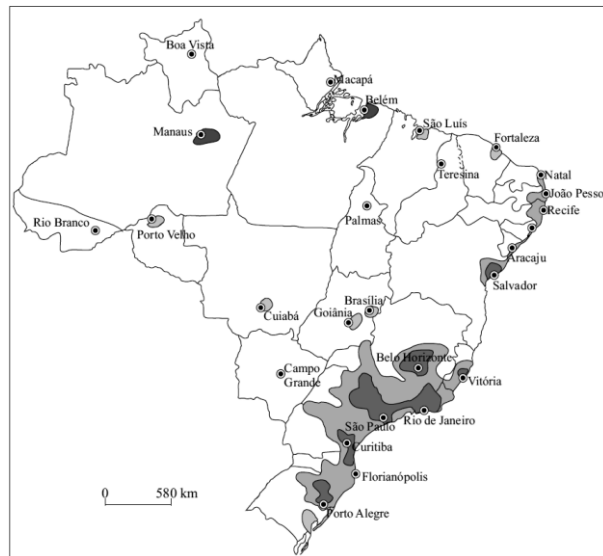
A figura representa uma política desenvolvimentista do governo Juscelino Kubitschek, vivenciada pelos brasileiros entre 1956-1961.

A leitura da figura e do texto permite concluir que a política desenvolvimentista de Juscelino Kubitschek é

- a) modernizadora, mas não é nacionalista e, por isso, desvaloriza o capital estrangeiro.
- b) desnacionalizadora, pois representa um momento de entrada significativa de multinacionais no Brasil.
- c) modernizadora, pois incrementa as indústrias nacionais com capitais oriundos das multinacionais norte-americanas.
- d) desnacionalizadora, já que conquista o mercado externo, no mundo globalizado.
- e) modernizadora e, ao mesmo tempo, desnacionalizadora, por não ter sido implantada por nacionalistas e por ter provocado um aumento da tecnologia nas empresas nacionais.

#### **50 - (FGV)**

Analise o mapa.



(IBGE, 2006.)

O mapa expressa a distribuição geográfica brasileira da

- capacidade de compra, por habitante.
- indústria.
- agricultura orgânica.
- demanda por insumos agrícolas.
- oferta de energia.

### 51 - (UESPI)

Os setores produtivos de um país são formados por um conjunto de atividades econômicas. Um exemplo de setor produtivo é o Secundário, constituído pelas seguintes atividades:

- agricultura, construção civil, extrativismo.
- construção civil, indústria de transformação, indústria extrativa vegetal e mineral, serviço industrial de utilidade pública.

- c) serviços, comércio, transportes, silvicultura.
- d) geração de energia, indústria de transformação, silvicultura, criatório.
- e) agroindústria, pecuária, caça e pesca, serviço industrial de utilidade pública.

**52 - (UFU MG)**



<http://www.base7.com.br/tarsila/>

O país vai ficando mais cosmopolita, graças à presença crescente de imigrantes – italianos, espanhóis, portugueses, japoneses, eslavos, judeus – que vão se juntar nas fábricas e escritórios aos operários, técnicos e profissionais liberais brasileiros. Ilustrativa dessa nova estrutura social é a tela *Operários*, 1933, de Tarsila do Amaral, construída, não por acaso, à maneira de um outdoor.

MORAIS, Frederico. **O Brasil na visão do artista: o país e sua gente.** São Paulo: Prêmio Ed., 2002. (Projeto Cultural Sudameris) p. 88.

O texto e a imagem fazem referências a processos que ocorreram em determinadas regiões do Brasil. Assinale a alternativa que indica os processos e a região de ocorrência.

- a) Concentração fundiária e emigração na Região sul.
- b) Extrativismo e urbanização na região Norte.
- c) Industrialização e urbanização na região Sudeste.



- d) Expansão da fronteira agrícola na região Centro-oeste.

**53 - (ESPM RS)**

Veja o texto que aborda a desconcentração industrial brasileira:

*Desponta como a região ganhadora desse rearranjo do trabalho industrial no Brasil, pois aumenta entre 1970 e 1990, o número de estabelecimentos, o número de pessoal ocupado e o valor da transformação industrial.*

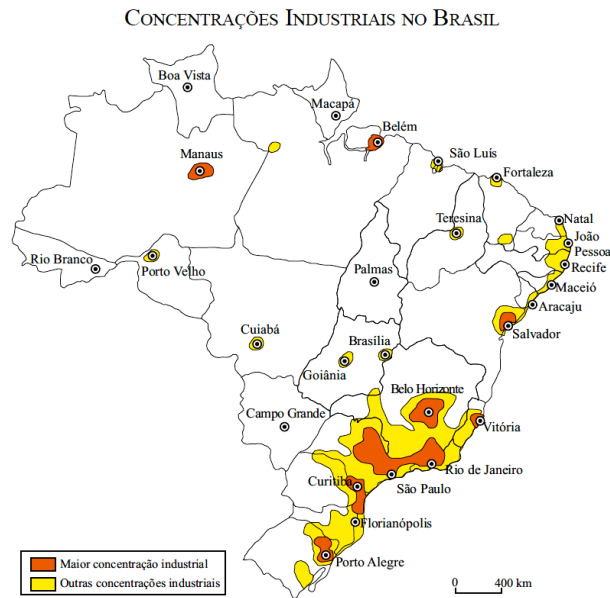
(Milton Santos e Maria L. Silveira, *O Brasil*, 2000.)

A região em questão, que se mostrou como a maior beneficiária da migração industrial foi a:

- a) Norte.
- b) Nordeste.
- c) Sudeste.
- d) Centro-oeste.
- e) Sul.

**54 - (UFTM MG)**

Analise o mapa, que representa as concentrações industriais no Brasil.



(IBGE, 1992. Adaptado.)

A partir da análise do mapa e de seus conhecimentos, assinale a alternativa correta.

- a) As economias de aglomeração, no sul do país, impulsionaram o crescimento das pequenas cidades.
- b) As fábricas instalaram-se em regiões de baixa densidade demográfica.
- c) Os centros industriais pioneiros provocaram o declínio financeiro das grandes cidades administrativas do sudeste.
- d) Os processos de industrialização do Brasil promoveram a concentração espacial da riqueza.
- e) As concentrações industriais no Brasil acompanharam as linhas de fronteiras agrícolas.

### 55 - (ESPM RJ)

Observe as afirmações sobre o processo industrial brasileiro:

- I. A primeira indústria de bens de produção de porte instalada no Brasil foi a CSN, nos anos 1940, uma iniciativa do Governo Vargas.

- II. A forte estatização do parque industrial ocorrida na segunda metade dos anos 1950 foi um impeditivo a uma maior penetração do capital estrangeiro.
- III. As consequências do Plano de Metas estão diretamente ligadas ao rodoviarismo que passou a imperar no Brasil na segunda metade do século XX.
- IV. Uma nova fase industrial pautada por uma inferência do Estado nos anos 1990 contribuiu para a centralização no Centro-sul do país.

Estão corretas:

- a) I e II
- b) I e III
- c) I e IV
- d) II e III
- e) III e IV

#### 56 - (ESPM RJ)

O Vale do Paraíba carioca é um importante pólo industrial do estado. Resende e Volta Redonda, por exemplo, são importantes municípios que apresentam como destaque, respectivamente, as indústrias:

- a) siderurgia e automobilística
- b) petroquímica e textil.
- c) automobilística e siderúrgica.
- d) informática e metalurgia
- e) agroindústria e alimentícia.

#### 57 - (UDESC SC)

O maior número de indústrias no Brasil está concentrado na região:

- a) Sul
- b) Sudeste
- c) Nordeste
- d) Centro-Oeste
- e) Norte

**58 - (UFJF MG)**

Leia o texto a seguir.

A Rua Teresa se rendeu aos chineses. Pressionadas pela competição dos produtos importados e pelo surgimento de outros polos de moda, algumas confecções da tradicional rua do varejo de roupas de Petrópolis já estão importando da China até 20% do que vendem em suas lojas. [...] Se as próprias confecções estão importando, a tendência é maior entre os que são apenas varejistas. As etiquetas de “Fabricado no Brasil” disputam espaço com as de “Fabricado na China”. Algumas indústrias, no entanto, admitem até mesmo a prática de trocar etiquetas chinesas por aquelas da marca própria. [...] Além da importação de peças prontas, as confecções investem em máquinas mais modernas para reduzir os custos e aumentar a produtividade.

Lucianne Carneiro. Rua Teresa “made in China”. *O Globo*, Rio de Janeiro, p. 27, 8 abr. 2012 Adaptado.

O processo descrito no texto tem ocorrido em todo o país.

Esse processo é denominado:

- a) inflação.
- b) privatização.
- c) flexibilização.

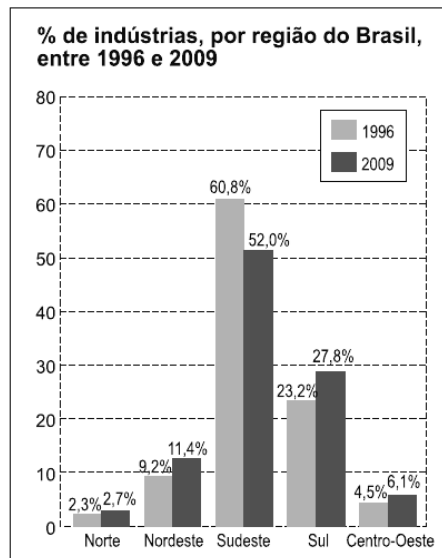
- d) desregulamentação.
- e) desindustrialização.

### 59 - (Fac. Direito de Sorocaba SP)

No governo Dilma Rousseff, para estimular a produção industrial brasileira, medidas já foram adotadas e novas anunciadas para 2013, tais como a

- a) privatização de aeroportos e portos e a elevação da tarifa de energia elétrica.
- b) liberação de recursos do FGTS e o aumento da carga tributária das empresas.
- c) queda nas alíquotas do imposto de renda e tarifas alfandegárias protecionistas.
- d) redução do IPI sobre certos produtos e a desoneração da folha de pagamentos.
- e) criação de novos encargos sociais e investimentos recordes em educação e saúde.

### 60 - (UEFS BA)



Com base na análise do gráfico e nos conhecimentos sobre o espaço da produção industrial no Brasil, marque **V** nas afirmativas verdadeiras e **F**, nas falsas.

- ( ) O aumento percentual dos estabelecimentos produtivos na Região Nordeste foi proporcionado, principalmente, pelo crescimento do consumo interno.
- ( ) A posição ocupada pela Região Sul está relacionada, entre outros motivos, à sua proximidade com os países-membros do Mercosul.
- ( ) O processo de descentralização industrial ocorre do Sudeste para as demais regiões, e das capitais para o interior dos estados.
- ( ) No período retratado no gráfico, não se verificou aumento do número de estabelecimentos industriais no país, mas, sim, uma expressiva redução dos existentes nas metrópoles nacionais.

A alternativa que indica a sequência correta, de cima para baixo, é a

- a) F F V V
- b) F V V F
- c) V F F F
- d) V F F V
- e) F V V V

#### **61 - (IFGO)**

A industrialização brasileira teve início na segunda metade do século XIX. Contudo, foi, sobretudo no século XX, que este processo se efetivou no Território brasileiro. Até a década de 1970, a industrialização se deu de modo concentrado, reunindo no Sudeste do país e, principalmente em São Paulo, a maioria das indústrias no Brasil. Esta concentração sofreu algumas alterações após a década de 1970, como pode ser observado a seguir.

Distribuição espacial da indústria de transformação do Brasil, segundo Regiões e Estado selecionados – 1970/1990.					
Regiões/ Estados	Distribuição percentual do VTI <sup>1</sup> da indústria de transformação				
	1970	1975	1980	1985	1990
Nordeste (menos BA)	4,2	4,5	4,4	4,8	4,5
Bahia	1,5	2,1	3,1	3,8	4,0
Minas Gerais	6,4	6,3	7,8	8,3	8,7
Rio de Janeiro	15,7	13,6	10,2	9,5	9,8
São Paulo	58,1	55,9	54,4	51,9	49,2
a) <i>Metrópole</i>	43,4	38,8	34,2	29,4	26,2
b) <i>Interior</i>	14,7	17,1	20,2	22,5	23,0
Paraná	3,1	4,0	4,1	4,9	5,7
Santa Catarina	2,6	3,3	3,9	3,9	4,2
Rio Grande do Sul	6,3	7,5	7,9	7,9	7,7
Outros Estados	2,1	2,8	4,2	5,0	6,2
Total	100,0	100,0	100,0	100	100,0

<sup>1</sup>VTI – Valor de transformação industrial.

Fonte: NEGRI, B. **Concentração e desconcentração industrial em São Paulo (1880-1990)**. São Paulo: Unicamp, 1996.

Com base nas informações sugeridas, nos conhecimentos sobre o tema e na tabela acima, é correto afirmar que:

- Não houve, de fato, qualquer desconcentração industrial, visto que, em 1990, o Estado de São Paulo detinha 49,2% do VTI.
- Explicam a relativa desconcentração industrial em São Paulo: políticas estatais de interiorização da indústria, busca por mão-de-obra mais barata, ascensão do movimento operário no Sudeste, desenvolvimento do sistema de transporte e comunicação.
- Analisando a Região Nordeste como um todo, não houve, no período considerado, nenhum crescimento industrial.
- A desconcentração foi diferencial conforme as regiões do país. A Região Centro-Oeste, por exemplo, caracterizou-se por um grande crescimento da siderurgia.
- A desconcentração industrial no Brasil implicou uma diminuição das desigualdades regionais existentes até então, o que resultou em melhora da qualidade de vida para toda a população.

## 62 - (PUCCAMP)

Considere o texto abaixo.

*A inauguração de Brasília, em 1960, foi a concretização de um desejo do presidente Juscelino Kubitschek, que governou o país entre 1955 a 1961. Durante esse período, o Brasil viveu uma verdadeira onda de euforia, resultante da política desenvolvimentista implantada por Kubitschek (...). Essa política promoveu a industrialização e o crescimento econômico. Tal expansão beneficiou, principalmente, as camadas média e alta da sociedade, mas manteve as profundas desigualdades sociais existentes no país.*

(Adaptado de Gislane Azevedo e Reinaldo Seriaopi. **História**, série Brasil. São Paulo: Ática, 2005. p. 471)

Em relação ao desenvolvimento econômico, a que o texto faz referência, pode-se afirmar que

- a) as empresas estatais de grande porte colocaram sob controle do governo setores de base considerados estratégicos para a indústria nacional, nos anos 1950.
- b) a expansão e a modernização da economia, dos anos 1950, possibilitaram o crescimento da população urbana, que teve participação no desenvolvimento agrícola.
- c) a indústria automobilística do ABC paulista foi uma das alavancas usadas para expandir e acelerar a industrialização brasileira nos anos 1950 e 1960.
- d) a política desenvolvimentista foi acompanhada por crescente interferência do Estado no domínio econômico, através da formulação do Plano de Metas.
- e) o governo imprimiu um caráter nacional ao desenvolvimento industrial com restrições impostas ao capital externo e à criação de empresas estatais.

**63 - (Escola Bahiana de Medicina e Saúde Pública)**





VELATI. Folha de S. Paulo. São Paulo, 18 set. 2012, p. B12. Mercado

A indústria brasileira enfrenta dificuldades que se refletem na falta de competitividade do Brasil no mercado global.

A charge satiriza um dos fatores que dificulta essa competitividade, a saber,

01. carência de mão de obra qualificada.
02. burocracia excessiva.
03. elevada carga tributária.
04. inexperiência empresarial.
05. altos custos trabalhistas.

64 - (FCM MG)

O país terá um incremento de 200 mil carros em relação ao número de veículos comercializados em 2011, chegando a 3,7 milhões de carros vendidos em 2012. Esse crescimento se dará devido a um imposto reduzido recentemente pelo governo, para a aquisição de automóveis.

Estamos falando do

- a) Imposto sobre serviços.
- b) Imposto sobre Operações Financeiras.
- c) Imposto sobre Produtos Industrializados.
- d) Imposto sobre Circulação de Mercadorias e Serviços.

#### **65 - (UEG GO)**

Segundo dados do governo brasileiro, até o ano de 2015, o Brasil contará com um aparelho de telefone celular para cada habitante. O acelerado crescimento do uso desse tipo de tecnologia da comunicação deve-se principalmente

- a) ao avanço das comunicações entre aparelhos celulares via rede de cabo óptico proporcionando maior velocidade das comunicações.
- b) ao desenvolvimento tecnológico industrial, que permitiu a produção em larga escala de aparelhos celulares que são colocados no mercado a preços acessíveis a todas as classes da população.
- c) ao crescente avanço das exportações chinesas, o que permite às fábricas daquele país vender seus produtos diretamente aos mercados consumidores internacionais.
- d) ao conjunto de políticas de incentivos governamentais que permitiram a aquisição de aparelhos celulares a preços subsidiados pelas operadoras e pelo governo.

#### **66 - (UFAL)**

“Fábio de Souza, teve mais sorte que seu pai. Na década de 2000, Antônio de Souza se cansou da vida dura de pequeno agricultor em Sobral, no Ceará e migrou para São Paulo. Analfabeto, Antônio não prosperou e teve de voltar para o Ceará. Seu filho não vai precisar se esforçar tanto para buscar emprego numa fábrica. A indústria está chegando ao sertão”.

As histórias de Antônio e Fábio de Souza mostram duas fases da organização da atividade industrial no território brasileiro. São elas, respectivamente:

- a) a dispersão da atividade industrial, durante o milagre brasileiro e a centralização de unidades produtivas no período Collor.
- b) a concentração da indústria de base no sudeste e a dispersão da indústria da construção civil.
- c) a concentração industrial em São Paulo e a transferência da indústria de alta tecnologia para o Nordeste.
- d) a descentralização do parque industrial sulista e o aumento da industrialização nordestina.
- e) a centralização industrial na região Sudeste e a dispersão da atividade industrial para as regiões de custos mais baixos.

#### 67 - (UFU MG)

O desenvolvimento industrial brasileiro se deu lentamente e somente aconteceu após o rompimento de obstáculos e de medidas políticas, como nos governos de Getúlio Vargas e Juscelino Kubistchek, que foram imprescindíveis para que as indústrias se proliferassem no Brasil.

Disponível em: <<http://www.brasilecola.com/historiab/industrializacao-brasileira.htm>>.

Acesso: 20 fev. 2012.

Nesse contexto, pode ser considerada como “rompimento de obstáculos e de medidas políticas” desses governos a

- a) modernização das redes de transporte, a exemplo das estradas de ferro, das hidrovias e das rodovias, que articulam e integram, nos dias atuais, as regiões e os mercados.
- b) produção interna de matérias-primas que sustentam parte do parque industrial nacional, especialmente os setores que dependem do ferro e do petróleo.
- c) diversificação produtiva rapidamente conseguida após a crise de 1929, que impôs a necessidade de estatizar a produção interna, especialmente em setores como o automobilístico.
- d) qualificação da mão de obra com ampla implantação de universidades e cursos técnicos no país, possibilitando a organização e o crescimento das indústrias, especialmente na década de 1980.

**68 - (UEPA)**

Com maior intensidade que em outras regiões do Brasil, a esfera técnico-científica espalha-se na Região Concentrada, substituindo os escassos interstícios de um meio natural e as amplas manchas de sucessivos meios técnicos.

SANTOS, Milton; SILVEIRA, Maria Laura. O Brasil: Território e Sociedade no início do Século XXI. 2. ed. Rio de Janeiro: Record, 2001, p. 103. Adaptado.

A respeito do processo desigual e combinado no espaço brasileiro é correto afirmar que:

- a) a região concentrada do território brasileiro constitui um espaço onde os diversos fatores de produção deslocam-se de um ponto a outro, contribuindo para um maior dinamismo econômico.
- b) em regiões de economia menos dinâmica, a exemplo da Amazônia, o meio técnico-científico informacional se desenvolve precariamente, atingindo igualmente a sociedade que habita essa região.
- c) a divisão territorial do trabalho na Região Concentrada do Brasil torna-se menos densa em áreas portadoras de densidades técnicas elevadas, devido à ampliação do processo de centralização industrial.
- d) as inovações técnicas e organizacionais na agricultura brasileira vêm desenvolvendo uma modernização em áreas contínuas e especializadas, criando um mercado que unifica e desenvolve igualmente as regiões brasileiras modernizadas e as periféricas.
- e) o desaparecimento do desenvolvimento desigual e combinado entre a Região Concentrada e as outras regiões brasileiras ocorreu a partir do fenômeno da globalização e da implantação do meio técnico-científico informacional o qual se impõe igualmente sobre o território.

**69 - (UEPA)**

O meio técnico-científico informacional tem gerado várias transformações no espaço brasileiro, que resultou em novas formas de dividir social e territorialmente o espaço geográfico. Sobre as consequências dessas inovações tecnológicas no território brasileiro, é correto afirmar que:

- a) os postos de trabalho como operador de telemarketing, no atual período, têm cedido lugar, aos telefonistas e telegrafistas em atividades dos setores industrial e comercial brasileiro.
- b) o avanço técnico-científico informacional nas regiões Sul e Sudeste do Brasil contribuiu para a maior densidade de rodovias, ferrovias, cientificização da agricultura e presença de centros de pesquisa e ensino superior.
- c) a revolução das telecomunicações, nas regiões Norte e Nordeste, foi responsável pela redução da terceirização da mão de obra e pelo crescimento da demanda por mercadorias informacionais.
- d) a informatização e automação de tarefas na agricultura, na indústria e nos serviços foram responsáveis pela redução do desemprego nas regiões brasileiras.
- e) a redução da flexibilização do trabalho, no espaço brasileiro, provocou o aumento de novas formas de contratação de profissionais especializados e ao mesmo tempo reduziu a terceirização da mão de obra.

#### **70 - (ESPM SP)**

Com investimentos de US\$ 50 bi, Nordeste vira rota de grandes empresas Com investimentos de US\$ 50 bi, Nordeste vira rota de grandes empresas

Já se foi o tempo em que as belas praias impulsionavam quase solitariamente a economia do Nordeste. Nos últimos anos, a região deixou de apenas atrair turistas e passou a ser receptora também de investimentos de peso, ajudando os Estados a se industrializarem.

Fonte: <http://economia.uol.com.br/noticias/redacao/2013/02/19/com-investimentos-de-mais-de-r-100-bi-nordeste-vira-rota-de-grandes-empresas.htm>. Acesso: 01/08/2013.

Comprovam a informação fornecida na matéria:

- a) A ampliação da rede hoteleira em Alagoas com a conclusão do complexo de Sauípe.
- b) A consolidação da agroindústria e setor sucro-alcooleiro no sul da Bahia.
- c) A instalação de uma indústria automobilística em Sergipe e Rio Grande do Norte.
- d) a instalação de complexos industrial-portuários em Pecém (CE) e Suape (PE).

- e) A migração da indústria siderúrgica do Sudeste para o Nordeste.

### 71 - (FATEC SP)

*A política territorial das corporações automobilísticas a qual até recentemente buscava as benesses das localizações metropolitanas, a estas acrescenta hoje ações de descentralização industrial e coloniza novas porções do território.*

Fonte: SANTOS, Milton & SILVEIRA, M.L. *O Brasil*. Rio de Janeiro, Record, 2001.

Sobre a recente “descentralização industrial” no território brasileiro mencionada pelos autores podemos afirmar corretamente que

- a) a região Sudeste apresentou uma fuga da indústria automobilística e, nos últimos anos, não conheceu instalação de novas unidades.
- b) o estado de Minas Gerais conheceu, no século XXI, a instalação das primeiras indústrias automobilísticas. (C) a concentração de indústrias no centro-sul do país exclui a região Nordeste desse processo.
- d) o estado de Pernambuco prepara a instalação de importante fábrica automobilística no contexto do aquecimento econômico pelo qual passa a região Nordeste.
- e) o estado de São Paulo monopoliza a instalação das novas unidades automotivas, reafirmando sua hegemonia automobilística.

### 72 - (FM Petrópolis RJ)

O governo [...] promoveu uma ampla atividade do Estado tanto no setor de infraestrutura como no incentivo direto à industrialização. Mas assumiu também a necessidade de atrair capitais estrangeiros, concedendo-lhes inclusive grandes facilidades. Desse modo a ideologia nacionalista perdia terreno para o desenvolvimentismo. [...] A legislação facilitou os investimentos estrangeiros em áreas consideradas prioritárias pelo governo: indústria automobilística, transportes aéreos e estradas de ferro, eletricidade e aço.”

FAUSTO, B. *História Concisa do Brasil*. São Paulo: Edusp, 2001. p. 235-236.

Os elementos apresentados no texto acima, sobre um recorte temporal do processo de industrialização brasileiro, marcam

- a) os anos do milagre econômico
- b) as metas do governo JK
- c) os efeitos da crise de 1929
- d) o primeiro governo de Vargas
- e) a era Mauá

### 73 - (UDESC SC)

Assinale a alternativa que contém o nome da região que concentra a maior população e o maior número de indústrias brasileiras.

- a) Sudeste
- b) Sul
- c) Nordeste
- d) Centro-Oeste
- e) Norte

### 74 - (ENEM)

A partir dos anos 70, impõe-se um movimento de desconcentração da produção industrial, uma das manifestações do desdobramento da divisão territorial do trabalho no Brasil. A produção industrial torna-se mais complexa, estendendo-se, sobretudo, para novas áreas do Sul e para alguns pontos do Centro-Oeste, do Nordeste e do Norte.

SANTOS, M.; SILVEIRA, M. L. **O Brasil**: território e sociedade no início do século XXI. Rio de Janeiro: Record, 2002 (fragmento).

Um fator geográfico que contribui para o tipo de alteração da configuração territorial descrito no texto é:

- a) Obsolescência dos portos.
- b) Estatização de empresas.
- c) Eliminação de incentivos fiscais.
- d) Ampliação de políticas protecionistas.
- e) Desenvolvimento dos meios de comunicação.

#### 75 - (FM Petrópolis RJ)

Esse ideal desenvolvimentista foi consolidado num conjunto de 30 objetivos a serem alcançados em diversos setores da economia, [...]. Na última hora o plano incluiu [...] a construção de Brasília e a transferência da capital federal, o grande desafio de governo. [...] Para os analistas da época, o Brasil vinha passando, desde a década de 1930, por um processo de substituição de importações não planejado, e a falta de planejamento seria a causa dos constantes desequilíbrios no balanço de pagamentos. O Plano [...] pretendia suprir essa falta. A introdução de uma meta de consolidação da indústria automobilística no país tinha como objetivo, entre outras coisas, a redução planejada e gradativa da importação de veículos.

Disponível em: <<http://cpdoc.fgv.br/producao/dossies...>>.

Acesso em 03 ago. 2014.

Considerando o processo de industrialização brasileiro, no texto acima é possível apreender a caracterização de um momento histórico que associa a atuação de

- a) Gaspar Dutra ao Plano Salte
- b) governos militares ao milagre econômico
- c) Juscelino Kubitschek ao Plano de Metas
- d) João Goulart às tentativas de reformas econômicas
- e) Getúlio Vargas em seu retorno ao governo à política nacionalista



**76 - (ESPM SP)**

Principal mercado para os produtos industrializados brasileiros enfrenta uma profunda crise que parece não ter fim. Resultado: pioram as perspectivas de exportação de manufaturados de alto valor agregado ...

Revista África 21. Rio de Janeiro, 2013

A matéria refere-se à (ao):

- a) China.
- b) Estados Unidos
- c) Alemanha
- d) Argentina
- e) África do Sul

**77 - (ENEM)**

O fechamento de seis unidades de uma empresa calçadista na Bahia deve resultar na demissão de 1 800 funcionários. Enquanto demite no Brasil, a empresa abre uma fábrica na Índia. Nas seis unidades fechadas na Bahia eram produzidos cabedais de calçados esportivos que serão fabricados também na Índia.

**O Globo**, 17 dez. 2011 (adaptado).

A estratégia produtiva adotada pela empresa, que explica o processo econômico descrito, está indicada na:

- a) Redução dos custos logísticos.
- b) Expansão dos benefícios sociais.

- c) Planificação da produção industrial.
- d) Modificação da estrutura societária.
- e) Ampliação da qualificação profissional.

**78 - (Centro Universitário de Franca SP)**

No Brasil, as dificuldades econômicas da década de 1930, e, mais tarde, as advindas da Segunda Guerra Mundial, levaram a um rápido esgotamento da capacidade ociosa gerada na década anterior, ao mesmo tempo que elevava o esforço interno da produção de bens de produção. Com isso, o mercado interno tornou-se cativo para a indústria nacional.

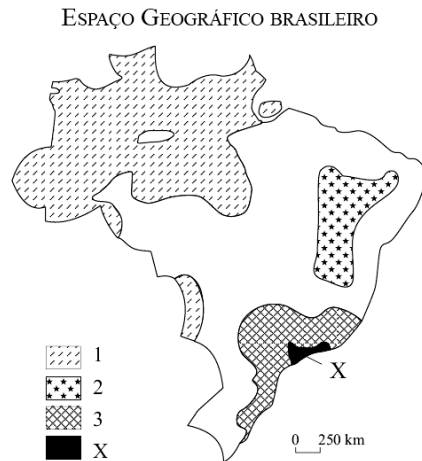
(Barjas Negri. *Concentração e desconcentração industrial em São Paulo (1880-1990)*, 1994. Adaptado.)

O processo indicado pelo excerto caracterizou-se pela

- a) substituição de exportações.
- b) especulação de capitais estrangeiros.
- c) estagnação da produção industrial.
- d) substituição de importações.
- e) redução dos investimentos em infraestrutura.

**TEXTO: 1 - Comum à questão: 79**

Considere o mapa abaixo.



(M. E. Simielli, Geotlas. Adaptado)

### 79 - (UFTM MG)

Assinale a alternativa que completa corretamente a legenda 1, 2 e 3 do mapa.

	1	2	3
a)	Áreas pouco povoadas, com economia estagnada.	Áreas agropecuárias mais modernas.	Áreas de industrialização e urbanização mais desenvolvidas.
b)	Áreas pouco povoadas, com paisagens naturais pouco alteradas.	Áreas pouco povoadas, com economia estagnada.	Áreas comêtnicas agropecuárias tradicionais com algumas grandes cidades.
c)	Áreas agropecuárias mais modernas.	Áreas pouco povoadas com paisagens naturais pouco alteradas.	Áreas comêtnicas agropecuárias tradicionais, com algumas grandes cidades.
d)	Áreas pouco povoadas, com economia estagnada.	Áreas de industrialização e urbanização mais desenvolvidas.	Áreas agropecuárias mais modernas.
e)	Áreas pouco povoadas, com paisagens naturais pouco alteradas.	Áreas pouco povoadas com economia estagnada.	Áreas de industrialização e urbanização mais desenvolvidas.

**TEXTO: 2 - Comum à questão: 80**

*A modernidade e a modernização foram um horizonte presente em todo processo de formação dos Estados nacionais na América Latina, desde as guerras de independência. Em diferentes países, os grupos liberais alçados ao poder almejavam tornar produtivas as terras agriculturáveis, fomentar a vinda de imigrantes europeus, fazer das cidades mais importantes a expressão dos modos civilizados, educar as massas para o trabalho e para a cidadania.*

(PRADO, Maria Lígia e PELLEGRINO, Gabriela.

**História da América Latina** . São Paulo: Editora Contexto, 2014. p. 72)

**80 - (PUCCAMP)**

Uma política estatal com vistas à *modernização* no Brasil pode ser identificada

- a) durante a II Guerra Mundial, quando a alta nas exportações e os laços firmados entre o Estado Novo e os EUA viabilizaram projetos de industrialização e urbanização para promover o bem-estar social da população.
- b) no período de governo do presidente Juscelino Kubitschek quando, por meio do Plano de Metas, pretendeu-se dotar o país de mais indústrias de bens duráveis, sistema integrado de transportes e uma nova capital, planejada e moderna.
- c) na década de 1980, quando os rentáveis parques industriais, como os existentes na região do “ABC”, em São Paulo, possibilitaram melhorias urbanas significativas, incluindo o início da construção do metrô e o incremento das comunicações.
- d) nos anos da Primeira República, quando os militares republicanos puseram em prática o lema “ordem e progresso”, desestabilizando o poder das oligarquias rurais e alavancando reformas urbanas auspiciosas, no Rio de Janeiro e em São Paulo.
- e) na execução das Reformas de Base, que implementou diversas reformas modernizantes (agrária, urbana, educacional) com a assessoria da equipe da CEPAL, organismo criado pela ONU para auxiliar no desenvolvimento da América Latina.

GABARITO:

1) Gab: D

12) Gab: B

*localizam-se, de uma maneira geral, em áreas urbanizadas, portanto, é plausível a alternativa A.*

2) Gab: B

13) Gab: A

*As indústrias de bens de consumo duráveis (eletrônicos, eletrodomésticos, automóveis, etc.)*

3) Gab: D

14) Gab: D

*necessitam estar próximas da infraestrutura de transporte e de serviços, do mercado consumidor e da mão-de-obra, daí sua concentração nas áreas metropolitanas, portanto, é também correta a alternativa B.*

4) Gab: C

15) Gab: D

5) Gab: B

16) Gab: A

6) Gab: C

17) Gab: C

7) Gab: E

18) Gab: A

22) Gab: C

8) Gab: C

19) Gab: B

23) Gab: B

9) Gab: D

20) Gab: A

24) Gab: C

10) Gab: C

21) Gab: ver comentário

25) Gab: E

11) Gab: D

*Em face da tendência no sentido da expansão da urbanização pode-se afirmar que as indústrias de transformação*

*Apesar do processo de desconcentração industrial vigente, a*

*indústria continua concentrada, principalmente, nas regiões Sudeste e Sul.*

**26) Gab: B**

*Por meio de incentivos fiscais e da formação de "Clusters" (aglomeração de empresas de mesmo ramo para benefício mútuo), Goiás tem atraído investimentos em metalurgia, mineração, nos setores químico, farmacêutico e automobilístico, e que vem mudando o perfil econômico do Estado.*

**27) Gab: E**

**28) Gab: C**

**29) Gab: D**

**30) Gab: A**

**31) Gab: D**

**32) Gab: C**

**33) Gab: A**

**34) Gab: C**

**35) Gab: VVFFV**

**36) Gab: B**

**37) Gab: B**

**38) Gab: A**

**39) Gab: D**

**40) Gab: E**

**41) Gab: B**

**42) Gab: A**

**43) Gab: B**

**44) Gab: A**

**45) Gab: B**

**46) Gab: D**

**47) Gab: D**

**48) Gab: A**

**49) Gab: B**

**50) Gab: B**

**51) Gab: B**

**52) Gab: C**

**53) Gab: E**

**54) Gab: D**

**55) Gab: B**

**56) Gab: C**

**57) Gab: B**

**58) Gab: E**

**66) Gab: E**

**74) Gab: E**

**59) Gab: D**

**67) Gab: B**

**75) Gab: C**

**60) Gab: B**

**68) Gab: A**

**76) Gab: D**

**61) Gab: B**

**69) Gab: B**

**77) Gab: A**

**62) Gab: C**

**70) Gab: D**

**78) Gab: D**

**63) Gab: 02**

**71) Gab: D**

**79) Gab: E**

**64) Gab: C**

**72) Gab: B**

**80) Gab: B**

**65) Gab: B**

**73) Gab: A**