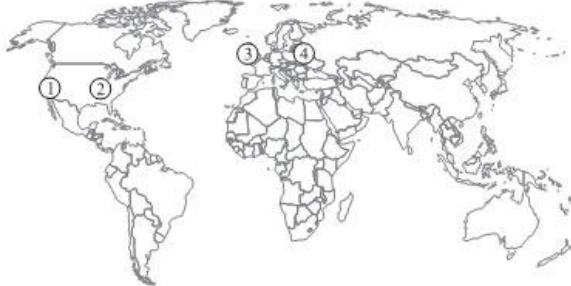


## Exercícios com Gabarito de Geografia América do Norte

1) (UFSCar-2009) A figura indica a localização aproximada de quatro cidades, cujas informações sobre latitude, altitude e temperatura aparecem na tabela.



Cidade	Latitude	Altitude	Temperatura de janeiro (em °C)	Temperatura em julho (em °C)
1. Los Angeles (EUA)	34°N	97m	18	27
2. Little Rock (EUA)	34°N	102m	6	28
3. Belfast (RUN)	54°N	55m	10	32
4. Moscou (RUS)	56°N	150m	-9	23

- a) Indique os fatores climáticos responsáveis pelas diferenças de temperatura entre essas cidades.  
b) Explique como esses fatores interferem no comportamento climático observado.

2) (Vunesp-1998) Até o início deste século, a economia mexicana, como a dos demais países da América Latina, era baseada na exportação de produtos primários (minerais e agrícolas) e importação de produtos industrializados. Atualmente, porém, o México é um dos países mais industrializados da América Latina.

- a) Explique como ocorreu este processo de industrialização.  
b) Qual o principal fator que explica a importante zona industrial localizada na fronteira do México com os Estados Unidos?

3) (Fuvest-1999) Considere, nos E.U.A., as seguintes regiões: Nordeste, Centro-Norte, Sul e Oeste. Nos últimos anos, têm ocorrido grandes deslocamentos populacionais entre elas. As duas regiões que têm recebido maiores contingentes são:

- a) Nordeste e Centro-Norte.

- b) Sul e Oeste.  
c) Centro-Norte e Sul.  
d) Centro-Norte e Oeste.  
e) Nordeste e Sul.

4) (UNICAMP-2009) Observe o mapa, leia o trecho que segue e responda às questões:



Adaptado de

<http://www.libreria.com.br/imagens/mapas/OceanoArctico.jpg>

Um século depois das expedições dos americanos Frederick Cook (1865-1940) e Robert Perry (1856-1920) que visavam a conquistar o Pólo Norte, uma nova corrida está sendo disputada, desta vez no Oceano Glacial Ártico. Os seus protagonistas são os cinco países que fazem fronteira com essa “terra de ninguém” congelada. (Adaptado de Pierre Le Hir, “A corrida em busca dos recursos do Ártico se intensifica”. Le Monde.

[www.noticias.uol.com.br/midiaglobal/lemonde/2008/08/22.ult.580u.3272.jhtm](http://www.noticias.uol.com.br/midiaglobal/lemonde/2008/08/22.ult.580u.3272.jhtm))

- a) O território identificado com o número 4 corresponde à Groenlândia, pertencente à Dinamarca. Identifique os demais países assinalados, respectivamente, com os números 1, 2, 3 e 5.  
b) Mesmo divergindo sobre as causas, a comunidade científica é unânime: o Oceano Ártico está derretendo. Em caso de derretimento de sua superfície, é esperado que os países banhados por esse oceano tenham maior interesse nesta área do globo. Aponte duas razões que justifiquem esse maior interesse.

5) (Fuvest-1998) Quanto às formas de relevo, as Américas do Norte e do Sul apresentam, em comum, a predominância de:

- a) cadeias montanhosas do terciário a oeste e planícies sedimentares a leste.  
b) grandes planícies sedimentares na porção central e dobramentos recentes na porção oriental.  
c) cadeias montanhosas do terciário a oeste e planaltos antigos a leste.  
d) grandes planícies sedimentares na porção central e planaltos erodidos na porção ocidental.  
e) escudos cristalinos a oeste e planaltos antigos a leste.

6) (Uniube-2001) Recentemente, conflitos comerciais, envolvendo exportação de carnes e aviões, marcaram as relações entre o Brasil e o Canadá, com ampla cobertura da crise pela imprensa nacional.

Sobre o Canadá, é correto afirmar que

- a) possui baixas densidades demográficas, ocasionadas pela pequena população, com grandes espaços vazios, principalmente ao norte do país.
- b) apresenta amplos recursos minerais ao lado de terrenos pouco férteis e pequenas cidades na região do rio São Lourenço.
- c) se trata de um país desenvolvido, bem povoado, com predominância de população rural dividida etnicamente, mas com maioria francesa.
- d) é um país com intensa ocupação agrícola em áreas de tundra, o que possibilita tornar-se um dos celeiros agrícolas do mundo.

7) (FUVEST-2007) SPANGLISH

O diário “El País” de 02/10/2000 publicou uma entrevista com Ilan Stavans, escritor e filólogo mexicano, autor do primeiro dicionário de spanglish, uma língua com origens nos subúrbios hispânicos de Miami, Los Angeles e Nova Iorque. Com cerca de 6000 palavras, esta língua nasceu do choque do Espanhol com o Inglês e é, segundo aquele filólogo, “uma nova maneira de ser hispânico nos Estados Unidos”. A entrevista termina com uma lista de algumas palavras a incluir no dicionário; por ex., culíssimo = muito frio (do inglês cool).

Fonte: Lexicon, Vocabulário de Filosofia, (<http://ocanto.esenseu.net/lexs.htm>).

Com base no texto,

- a) explique qual é o fenômeno geográfico responsável por essa fusão de línguas, nos EUA.
- b) cite e explique uma consequência possível desse fenômeno geográfico.

8) (Vunesp-1999)

Taxas de crescimento vegetativo e de natalidade em alguns países – 1990

Pais	Taxa de crescimento vegetativo (%)	Taxa de natalidade (%)
Brasil	1,8	25,6
Canadá	1,0	15,0
Estados Unidos	0,8	16,4
Honduras	3,5	39,8
México	2,6	31,5
Peru	2,5	32,8


Venezuela	2,4	27,5
-----------	-----	------

Fonte: Banco Mundial

Observando a tabela e com base em seus conhecimentos:

- a) indique os países que apresentam taxa de crescimento vegetativo superior a 1,0%. Que fatores explicam esses valores?
- b) compare as duas séries de dados e explique os valores dos Estados Unidos e Canadá.

9) (Fuvest-2004)



O gráfico representa taxas crescentes ou decrescentes da população e da produção agrícola de três países. A partir dos dados identifique os países I, II e III.

	I	II	III
a)	Moçambique	Venezuela	China
b)	China	Moçambique	Venezuela
c)	Moçambique	China	Venezuela
d)	China	Venezuela	Moçambique
e)	Venezuela	Moçambique	China

10) (UEPB-2006)



“Se você cruzasse, a pé, o Alasca e o Canadá, a Escandinávia e a Sibéria, estaria sempre na mesma floresta’, diz o ativista Dom Sullivan.”

Esta Floresta descrita, que representa  $\frac{1}{3}$  das matas existentes na terra e está representada no cartograma, é:

- A floresta Galeria
- A floresta Tropical
- A floresta Temperada
- A floresta Amazônica
- A floresta Boreal

11) (FGV-2003)

A formação vegetal representada na figura abaixo corresponde à:



Floresta Tropical úmida, típica das baixas latitudes, com predomínio de abetos, pinheiros, e a presença de arbustos e manchas de campo.

Tundra, encontrada em áreas de clima frio, como no Canadá, sul da Groenlândia, Noruega, Suécia, Finlândia e Sibéria.

Taiga, associada aos climas das altas latitudes, também conhecida como Floresta Boreal ou de Coníferas, que apresentam folhas finas, em forma de agulhas.

Tundra, geralmente associada aos climas das altas latitudes, com predominância de massas polares e grandes turbulências atmosféricas.

Taiga, um dos biomas menos explorados da Terra para a produção de energia, cuja preservação é também explicada pela rara ocorrência de incêndios, em áreas de clima frio.

12) (UEMG-2006) Abrange o extremo norte da Europa, da Federação Russa, do Canadá e a quase totalidade da Groelândia. A maior parte da região é formada pelo Oceano Glacial Ártico e por diversos mares.

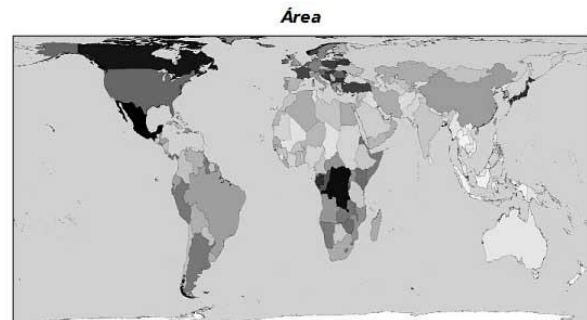
Assinale a alternativa que complementa **CORRETAMENTE** o enunciado seguinte:

A descrição acima **CORRESPONDE** a uma região

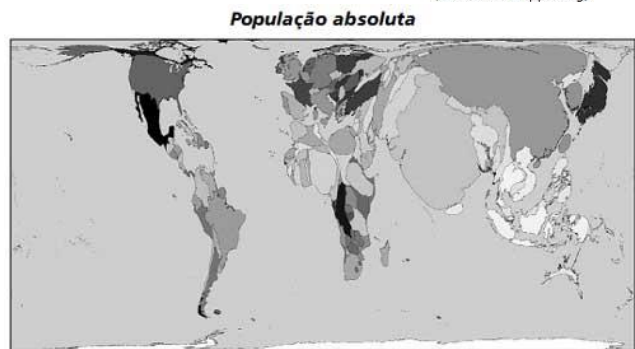
- polar, de clima frio e vegetação de Pradarias.
- boreal, de clima polar e vegetação de Tundra.
- ártica, de clima polar e expressivo adensamento populacional.

d) polar, com predomínio da vegetação de Taiga e com um fraco povoamento.

13) (VUNESP-2010) Compare o mapa que representa os maiores países do mundo em área com o mapa anamórfico da população absoluta de cada país.



(www.worldmapper.org)



(www.worldmapper.org)

A partir da comparação, pode-se afirmar que os principais países que possuem as menores densidades demográficas são:

- Rússia, Canadá e Austrália.
- China, Índia e Canadá.
- Estados Unidos, China e Austrália.
- Argentina, Brasil e Índia.
- Estados Unidos, Índia e Brasil.

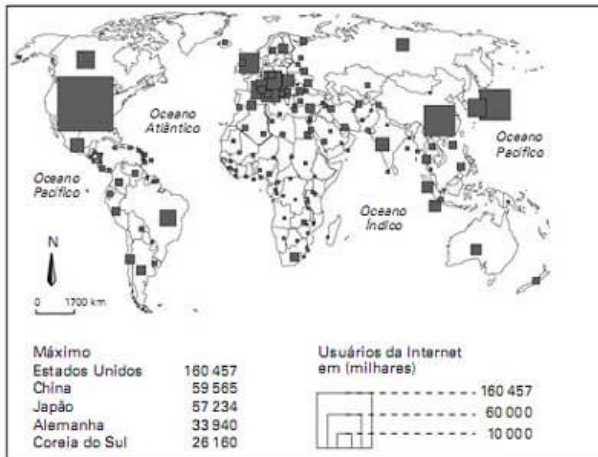
14) (UEPB-2006) Em matéria exibida no dia 27 de maio de 2005, com o título “Sibéria, o inferno gelado”, o Globo Repórter mostrou a vida dos nômades criadores de renas, que “*moram e viajam em casas sobre rodas, cobertas de peles*”. Esse “gênero de vida” é também uma forma de preservar o frágil ecossistema, cuja vegetação de líquens e musgos cresce apenas no curto verão do Ártico. Tratase, portanto, do domínio:

- Da floresta Decídua
- Da Taiga
- Da floresta Boreal
- Da Tundra
- Da Estepe

15) (VUNESP-2010) Espaço, território e rede geográfica são palavras-chaves na Geografia. A rede geográfica tem o

poder de ultrapassar as fronteiras nacionais através da internet.

Analise o mapa com os usuários da internet no mundo.



(Secretaria da Educação, Geografia, Ensino Médio, São Paulo, 2008.)

A partir dessa análise, pode-se afirmar que

- os EUA, o Reino Unido e a Índia lideram os índices de usuários da internet.
- o Brasil e o Canadá apresentam número semelhante de internautas.
- a África Subsaariana tem o número total de internautas superior ao da América Latina.
- a China, a Coreia do Sul e o Japão têm o mesmo número de internautas.
- o número de usuários da internet da Austrália supera o do Mercosul.

16) (Fuvest-2005) Leia os itens abaixo.

I. vegetação de tundra	IV. latossolos
II. vegetação de taiga	V. petróleo
III. recursos hídricos	VI. carvão

Assinale a alternativa que destaca corretamente recursos naturais importantes para o fortalecimento da economia do Canadá no século XX.

- I, II, III e V.
- I, II, IV e V.
- I, III, IV e VI.
- II, III, V e VI.
- III, IV, V e VI.

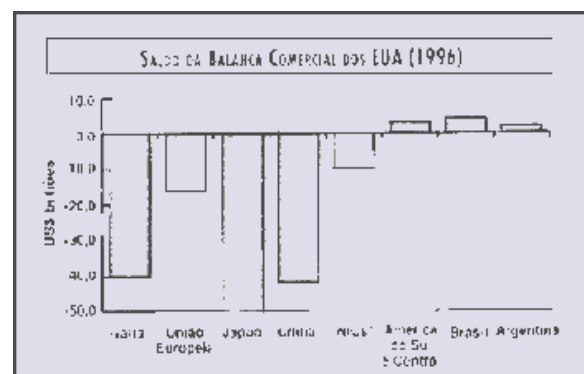
17) (Mack-2004)



O mapa caracteriza o uso do solo do Canadá. Em I, II, III e IV, temos corretamente:

- agropecuária, regiões industriais, florestas e zonas de pesca.
- regiões industriais, florestas, agropecuária e terras improdutivas.
- agropecuária, regiões industriais, terras improdutivas e zonas de pesca.
- regiões industriais, agropecuária, terras improdutivas e florestas.
- agropecuária, regiões industriais, florestas e terras improdutivas.

18) (UFJF-2000) Observe o gráfico e marque a alternativa INCORRETA:



Fonte: MAGNOLI et al. (1998)

- os Estados Unidos amargam imensos saldos negativos. Esse déficit se concentra no intercâmbio com o Japão, a China, o Canadá, o México e, em menor escala, com a UE e os Tigres Asiáticos;
- a América Latina é a única macrorregião de intercâmbio superavitário, especialmente devido às importações brasileiras e argentinas;
- grande parte dos produtos importados dos Estados Unidos pela América Latina corresponde a bens primários, devido à queda da produção interna latino-americana;
- tanto a Argentina quanto o Brasil querem lugar privilegiado na parceria com os Estados Unidos, impedindo a consolidação da liderança regional de um dos países.

19) (Vunesp-2004) Observe o mapa.



Utilizando seus conhecimentos geográficos:

- identifique o país indicado com o número 1 e explique a distribuição espacial de sua população.
- do ponto de vista do povoamento e da lingüística, quais as principais diferenças apresentadas pela província destacada no mapa?

20) (Fatec-1996) "É hora de curarmos as feridas". Com essas palavras pronunciadas durante um discurso oficial, em julho de 1995, o presidente norte-americano Bill Clinton reatou, oficialmente as relações diplomáticas entre os E.U.A e o Vietnã.

Após a derrota militar norte-americana, o motivo que levou à superação dos ressentimentos e à reconciliação foi:

- a tentativa de localização dos soldados norte-americanos desaparecidos em combate, o que só seria possível com o restabelecimento de relações entre os dois países.
- o pedido oficial de desculpas feito pelo governo do Vietnã, que pretende sair da área de influência do Japão.
- a intenção do investimento norte-americano no Vietnã socialista, numa economia mundializada com o fim da U.R.S.S. e da bipolaridade.
- a possibilidade, com o reatamento, dos E.U.A. investirem econômica e politicamente, construindo bases militares no Vietnã.
- a tentativa dos E.U.A. mostrarem ao mundo que podem superar derrotas militares em guerras tradicionais feitas somente em trincheiras e com armas convencionais, como foi a do Vietnã.

21) (Mack-2005) "...Em 1960, os trabalhadores agrícolas dos Estados Unidos representavam 8% de toda a sua força de trabalho; hoje, eles não chegam a 3%. No meio tempo, a produção agrícola daquele país aumentou enormemente, a ponto de a primeira nação mundial em termos de produção e exportação de produtos agrícolas coincidir com a nação que tem a mais baixa porcentagem mundial de população economicamente ativa ocupada na agricultura."

**Domenico De Masi, A sociedade pós-industrial**

Sobre a população economicamente ativa (PEA) e a produção agrícola dos Estados Unidos é, correto afirmar que:

- a PEA possui grande participação no setor primário da economia.
- embora a PEA no setor primário seja pequena, a produção é grande devido à alta mecanização no setor agrícola.
- a produção de alimentos é colocada em segundo plano e quase não recebe investimento já que a produção industrial e de serviços é mais rentável.
- devido aos baixos salários e à ineficiência do setor primário, a maior parte da população prefere se deslocar para os setores secundário e terciário.
- com o dólar valorizado, os Estados Unidos optaram por importar alimentos a preços baixos, facilitando sua entrada no país através de tarifas alfandegárias baixas.

22) (PUC-SP-2005) "Derek morava em Park View [na cidade Washington, EUA] já então uma região sobretudo de negros com alguns brancos de classe operária [...] dali iria para o Colégio Roosevelt. Billy [por sua vez] passaria para o Coolidge, onde havia poucos negros [...] muitos alunos do Coolidge iriam para a faculdade; do Roosevelt seriam bem menos [...] Derek e Billy moravam a poucos quilômetros um do outro, mas eram espantosas as diferenças em suas vidas e perspectivas futuras".

(George PELECANOS. **Revolução Difícil**. São Paulo: Cia das Letras, 2005. p. 16)

O trecho refere-se a um romance cuja trama ocorre nos anos de 1960. Tendo em conta a questão da segregação racial em áreas urbanas, pode-se dizer que

- ela tem uma expressão espacial: as etnias estão separadas geograficamente a partir de distâncias criadas num espaço concentrado.
- há uma tendência de mistura das diferentes etnias nas cidades, inspirada no fim do regime de *apartheid* na África do Sul, como a cidade de Joanesburgo mostra.
- há uma tendência à superação dessa situação nos EUA com o processo de eliminação dos guetos como, por exemplo, o Harlem em Nova York.
- os anos 1960 foram particularmente tensos nas cidades americanas, mas depois disso, a inexistência de conflitos aponta para uma solução do problema.
- as cidades americanas são segregadas racialmente nos seus centros, mas em direção às regiões suburbanas, é comum encontrarem-se conjuntos multirraciais.

23) (UNICAMP-2007) 6) O agronegócio responde por um terço do PIB, 42% das exportações e 37% dos empregos. Com clima privilegiado, solo fértil, disponibilidade de água, rica biodiversidade e mão-de-obra qualificada, o Brasil é capaz de colher até duas safras anuais de grãos. As palavras são do Ministério da Agricultura e correspondem aos fatos. Essa é, no entanto, apenas metade da história.







- a) Explique os princípios gerais defendidos pela “Doutrina Bush”. (4)
- b) Qual objetivo geopolítico estadunidense a charge ironiza? Justifique sua resposta. (5)
- c) Quais interesses econômicos justificaram ações estadunidenses como o ataque ao Afeganistão e a ocupação do Iraque? (6)

32) (PUC-SP-2003) As lutas por direitos civis nos Estados Unidos na década de 60 (século XX) tiveram, entre suas características centrais, a

A) ausência de mulheres e a manutenção do caráter patriarcal da sociedade norte-americana.

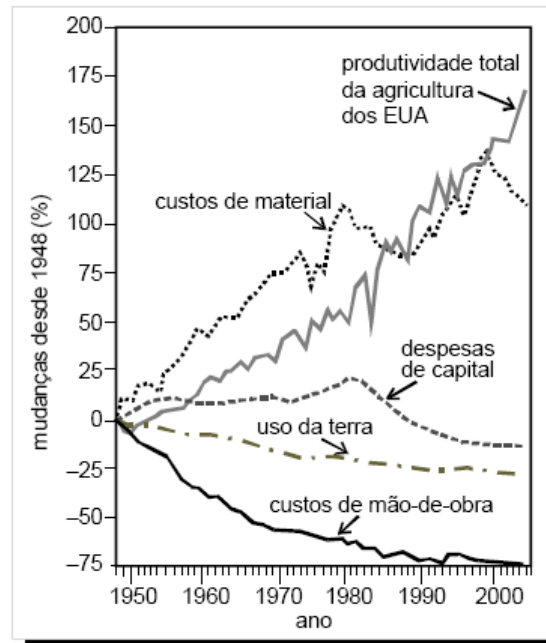
B) defesa dos interesses das grandes corporações industriais e o questionamento da legislação trabalhista.

C) união entre os movimentos ambientalista e gay e a escolha do arco-íris como símbolo comum desses dois grupos.

D) proposta de saídas pacíficas para os conflitos internos americanos e a insistência numa política internacional belicosa.

E) mobilização dos negros norte-americanos pela busca da ampliação de seus direitos e pelo fim das leis raciais segregacionistas.

33) (ENEM-2007) Aumento de produtividade  
Nos últimos 60 anos, verificou-se grande aumento da produtividade agrícola nos Estados Unidos da América (EUA). Isso se deveu a diversos fatores, tais como expansão do uso de fertilizantes e pesticidas, biotecnologia e maquinário especializado. O gráfico abaixo apresenta dados referentes à agricultura desse país, no período compreendido entre 1948 e 2004.



Scientific American Brasil, jun./2007, p. 19 (com adaptações).

Com base nas informações acima, pode-se considerar fator relevante para o aumento da produtividade na agricultura estadunidense, no período de 1948 a 2004,

- a) o aumento do uso da terra.
- b) a redução dos custos de material.
- c) a redução do uso de agrotóxicos.
- d) o aumento da oferta de empregos.
- e) o aumento do uso de tecnologias.

34) (UFSCar-2003) Avaliando o ataque aéreo aos EUA, em 2001, o sociólogo Octávio Ianni afirmou: Quando analisamos os acontecimentos de 11 de setembro, precisamos resgatar o sentido de história. Quando vistos isoladamente, os atentados perdem vários significados e parecem coisa de um ‘bando de fanáticos’... Mas, na realidade, os atentados foram apenas um fato em uma cadeia muito complexa de acontecimentos.

(Revista Ciência Hoje, setembro de 2002)

Assinale a alternativa que contém um fato que faz parte desta complexa cadeia.

- a) Crescente interferência dos EUA na política interna de outros países.
- b) Aumento dos conflitos geopolíticos entre os EUA e os novos países industriais.
- c) Interesse dos EUA em explorar economicamente as extensas terras do Afeganistão.
- d) Competição entre os EUA e o Japão pelo domínio geopolítico sobre a Ásia.
- e) Interesse dos ex-países socialistas em dominar geopoliticamente o mundo.



35) (FGV-2001) Com uma produção diversificada, abrangendo indústrias têxteis, siderúrgicas e de equipamentos ferroviários, a região do Manufacturing Belt, comparada a outras regiões industriais dos EUA:

A) vem aumentando sua participação relativa no total da produção do país, desde o pós-guerra.  
 B) é uma região de fortes investimentos (hot belt) graças à vertiginosa expansão da indústria automobilística nas duas últimas décadas.  
 C) perdeu sua posição de comando nas decisões econômicas do país, devido ao deslocamento significativo de indústrias, serviços e rede bancária para o Noroeste.  
 D) apresenta organização predominantemente fordista, diferenciando-se dos novos centros industriais do Sun Belt, pautados pela acumulação flexível.  
 E) caracteriza-se por dispersão territorial de suas indústrias, grande automação e pequena dependência das fontes de energia.

36) (Fuvest-2001) Compare a região Nordeste e a Costa Sudoeste dos Estados Unidos quanto a:

a) tipos de indústria e características da mão-de-obra empregada.  
 b) fatores que influenciaram a localização industrial de cada uma dessas regiões.

37) (UNICAMP-2000) Data do século passado a entrada de norte-americanos no Brasil. Eram principalmente confederados fugidos da Guerra de Secessão dos E.U.A. Entretanto, nada ficou entre nós desse contato, com exceção da fundação da cidade de Americana, no Estado de São Paulo, e da instituição de ensino Mackenzie, na cidade de São Paulo. (...) Apesar de poucos imigrantes norte-americanos no Brasil, se comparados com outros povos, a influência dos E.U.A. na vida brasileira tornou-se marcante através do tempo.  
 (Melhem Adas, Panorama Geográfico do Brasil)

a) Cite dois exemplos da influência cultural que os EUA exercem na sociedade brasileira.  
 b) Por que a influência norte-americana no mundo assumiu proporções tão grandes após a Segunda Guerra Mundial?

38) (PUC-SP-2005) “Derek morava em Park View [na cidade Washington, EUA] já então uma região sobretudo de negros com alguns brancos de classe operária [...] dali iria para o Colégio Roosevelt. Billy [por sua vez] passaria para o Coolidge, onde havia poucos negros [...] muitos alunos do Coolidge iriam para a faculdade; do Roosevelt seriam bem menos [...] Derek e Billy moravam a poucos quilômetros um do outro, mas eram espantosas as diferenças em suas vidas e perspectivas futuras”.  
 (George PELECANOS. **Revolução Difícil**. São Paulo: Cia das Letras, 2005. p. 16)

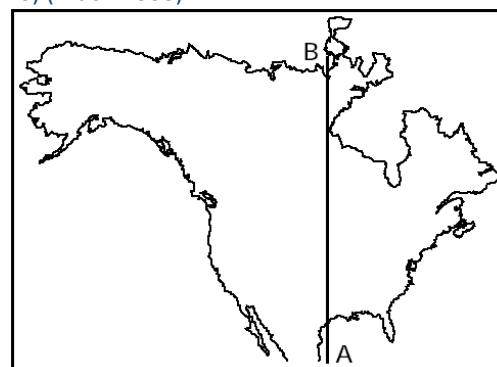
O trecho refere-se a um romance cuja trama ocorre nos anos de 1960. Tendo em conta a questão da segregação racial em áreas urbanas, pode-se dizer que

A) ela tem uma expressão espacial: as etnias estão separadas geograficamente a partir de distâncias criadas num espaço concentrado.  
 B) há uma tendência de mistura das diferentes etnias nas cidades, inspirada no fim do regime de *apartheid* na África do Sul, como a cidade de Joanesburgo mostra.  
 C) há uma tendência à superação dessa situação nos EUA com o processo de eliminação dos guetos como, por exemplo, o Harlem em Nova York.  
 D) os anos 1960 foram particularmente tensos nas cidades americanas, mas depois disso, a inexistência de conflitos aponta para uma solução do problema.  
 E) as cidades americanas são segregadas racialmente nos seus centros, mas em direção às regiões suburbanas, é comum encontrarem-se conjuntos multirraciais.

39) (Vunesp-2001) É um estado norte-americano cujo relevo apresenta grandes altitudes e possui quase metade de sua área coberta por gelos eternos. No curto verão, musgos e líquens reaparecem após o degelo, cobrindo extensas áreas de pastagens. Exportação de madeira, extração mineral de ouro, prata e chumbo, pesca de salmão e trutas e exploração petrolífera são as principais atividades econômicas deste espaço, cuja descrição corresponde ao

- A) Oregon.
- B) Ohio.
- C) Wyoming.
- D) Alasca.
- E) Colorado

40) (Mack-2000)



Em uma viagem seguindo o percurso A-B:

I) O relevo seria de baixas altitudes.  
 II) Os climas variariam, desde o subtropical até o polar.  
 III) Seriam atravessados 3 países.

Assinale:  
 a) se I, II e III forem verdadeiros.

- b) se apenas I e II forem verdadeiros.
- c) se apenas II e III forem verdadeiros.
- d) se apenas I e III forem verdadeiros.
- e) se I, II e III forem falsos.

41) (Mack-2006) Espaço agrícola dos Estados Unidos.



**Trigo** — As áreas especializadas configuram dois cinturões, no médio vale do Rio Missouri (trigo de primavera) e nas pradarias centrais (trigo de inverno). Essas terras, mais baratas, estão ocupadas por grandes fazendas que alcançam elevados índices de produtividade.

**Milho** — Os Estados Unidos produzem mais de 40% do milho colhido do mundo. O cultivo de milho, matéria-prima básica das indústrias de ração animal e de óleos vegetais, destina-se a abastecer tanto o mercado interno quanto o mercado mundial. A localização do cinturão especializado, no alto e médio vale do Rio Mississippi, facilita o abastecimento das áreas de pecuária leiteira intensiva dos Grandes Lagos.

**Demétrio Magnoli e Regina Araújo — Geografia — paisagem e território**

Os produtos agrícolas trigo e milho estão representados no mapa, respectivamente, pelos números:

- a) 3 e 5.
- b) 2 e 7.
- c) 3 e 1.
- d) 4 e 1.
- e) 5 e 6.

42) (FGV-2002) Especialistas em comércio internacional já analisam as possíveis conseqüências econômicas da guerra contra o terrorismo anunciada pelo presidente George W. Bush. (...) existe a expectativa de que os norte-americanos passem a formar estoques de alimentos, temendo a eventualidade de uma guerra. Esse movimento poderá provocar um aumento dos preços das chamadas commodities, que representam 35% das exportações totais brasileiras.


Adaptado de Folha de São Paulo, 16/09/2001, B1, Dinheiro.

Dentre as commodities que compõem a pauta atual de exportações brasileiras, podem-se destacar:

- A. aviões, derivados de soja, calçados e suco de laranja.
- B. café, automóveis, carne bovina e açúcar.

- C. derivados de soja, minério de ferro, arroz e petróleo.
- D. açúcar, café, suco de laranja e derivados de soja.
- E. madeira, suco de laranja, manganês e carne bovina.

43) (UFRJ-2006)



Essas fotos expressam enfaticamente as diferenças existentes entre as fronteiras dos Estados Unidos da América com os países vizinhos.

- a) O que representa, para os latino-americanos, a travessia da fronteira dos Estados Unidos?
- b) Explique por que os Estados Unidos têm políticas distintas em suas fronteiras norte e sul.

44) (Mack-2004) Historicamente, os E.U.A. sempre adotaram políticas expansionistas que garantiram sua hegemonia política, econômica e militar sobre o planeta. Dentre elas, podemos exemplificar a Doutrina Monroe, do século XIX, de caráter continental, que colocava a América Latina sob o controle daquele país; a Doutrina Truman, pós a Segunda Guerra Mundial, de caráter planetário, que adotou uma política de contenção do avanço socialista; e, atualmente, a Doutrina Bush, que tem como princípio básico:

- a) anexar ao seu território qualquer área do planeta. Caso um antigo território colonial que queira se juntar aos E.U.A., essa questão deva ser decidida apenas entre os seus habitantes e o governo americano.
- b) despertar o sentimento de superioridade do povo norte-americano, de descendência européia, diante das demais nações do planeta, em especial, dos denominados "Países do Sul".
- c) estabelecer uma identidade de interesses entre os E.U.A. e os seus vizinhos latino-americanos, propondo a cooperação para o desenvolvimento comum, instituindo

dessa forma, a ALCA (Área de Livre Comércio das Américas).

d) perpetuar uma posição dominante, impedindo abertamente o surgimento de qualquer outra potência capaz de desafiar sua liderança. A palavra de ordem é agir previamente contra qualquer inimigo em potencial, mesmo na inexistência de agressão prévia.

e) orientar uma estratégia de intervenções militares, visando à sustentação de governos aliados aos E.U.A. que se submetam à uma situação de protetorado, permitindo a ação de investimentos diretos e indiretos de transnacionais norte-americanas em seus territórios.

45) (FMTM-2005) Leia com atenção os textos.

I. O déficit externo gigantesco, de 5% do PIB, está fazendo a moeda se desvalorizar e pode provocar crise de confiança e fuga de capitais. A economia está crescendo, mas num ritmo mais lento. Em 1999, crescia 4,1% e em 2003 cresceu 2,9%.

II. O maior problema consiste no fato de que as instituições débeis transformaram o país no paraíso mundial da fraude e da corrupção. É o melhor exemplo de como a corrupção pode paralisar a economia, corroer a legitimidade do Estado e taxar os mais pobres.

Os textos identificam problemas que caracterizam, respectivamente, os seguintes países:

- (A) Alemanha e Japão.
- (B) Brasil e Argentina.
- (C) China e Índia.
- (D) Inglaterra e França.
- (E) EUA e Rússia.

46) (Mack-2004)



**Levon Boligian — Geografia, Espaço e Vivência**

Considere o mapa e as afirmações abaixo.

I. O significativo comércio da América Latina com os Estados Unidos torna a ALCA atraente para os norte-americanos.

II. O comércio norte-americano com alguns países, ou blocos, apresenta déficit, levando o governo dos Estados Unidos a criar barreiras alfandegárias para proteger sua economia.

III. A economia norte-americana é dependente da maioria dos grupos econômicos.

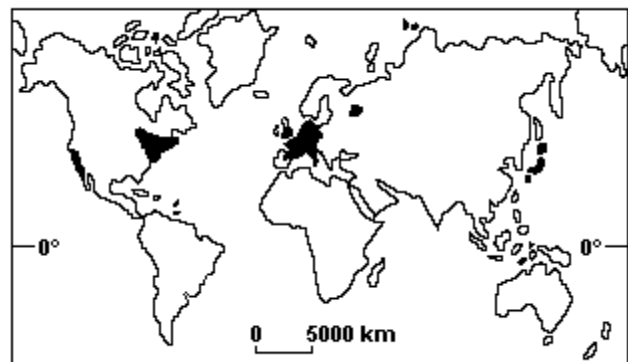
Então:

- a) apenas I está correta.
- b) apenas I e II estão corretas.
- c) apenas II está correta.
- d) apenas II e III estão corretas.
- e) I, II e III estão corretas.

47) (Fuvest-2002) No ano 2000, foi firmado um acordo entre os Estados Unidos e a China, visando facilitar investimentos de empresas norte-americanas no território chinês. No entanto, o acordo gerou protestos

- a) da União Européia, pois ela perderia oportunidades de comércio com a China, principal exportador de cereais para o bloco.
- b) de países da América Latina, pois desviaria investimentos destinados a essa região para a Ásia, dificultando as futuras relações comerciais na ALCA, em 2005.
- c) de trabalhadores chineses, pois a chegada de capital externo não seria condizente com o modelo de desenvolvimento adotado na China desde a Revolução.
- d) da Organização Mundial do Comércio, pois não incluía garantia de respeito aos direitos humanos entre as partes envolvidas nas negociações comerciais.
- e) de trabalhadores sindicalizados dos Estados Unidos, por se sentirem ameaçados de perder postos de trabalho, devido à migração de capitais para a China.

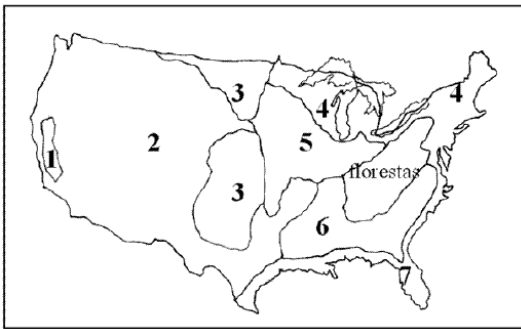
48) (Fuvest-1994)



No mapa adiante, as manchas negras representam regiões:

- a) densamente povoadas, com elevada produção de petróleo e hidroeletricidade.
- b) de cinturões agrícolas que produzem cereais para o mercado mundial.
- c) fortemente industrializadas e de espaço intensamente transformado.
- d) onde se pratica mineração em grande escala, com alta tecnologia.
- e) exportadoras de grande volume de matérias-primas para áreas mais industrializadas.

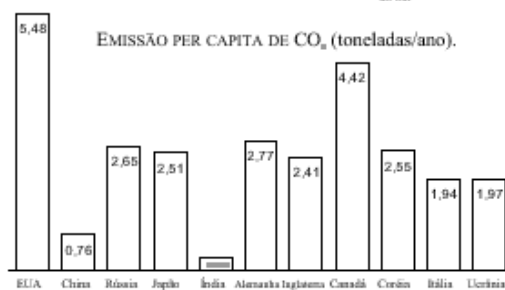
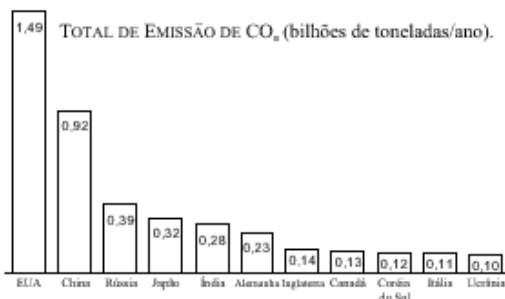
49) (FGV-2003)



No mapa da questão, as áreas especializadas nos cultivos de trigo de inverno e de primavera, que atingem altas taxas de produtividade, e as áreas de cultura irrigada de fruticultura e hortaliças, que utilizam o método do dry-farming, correspondem aos algarismos:

- A) 2 e 7.
- B) 3 e 1.
- C) 4 e 1.
- D) 5 e 6.
- E) 6 e 7.

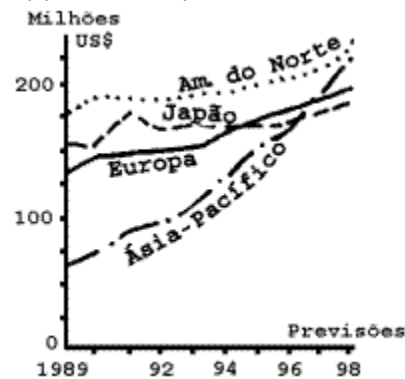
50) (Vunesp-2003) Nos gráficos, estão representados os principais países poluidores do planeta, responsáveis pela emissão dos gases que aquecem a atmosfera, principalmente o gás carbônico, proveniente da queima de combustíveis fósseis como o petróleo, carvão mineral e gás natural.



Fonte: Centro de Análises de Informações do Dióxido de Carbono, 2001.

- a) O que significa Protocolo de Kyoto e por que foi firmado ?
- b) Indique o principal país que não aderiu a este Protocolo e qual a justificativa apresentada para seu posicionamento.

51) (Fuvest-1999)



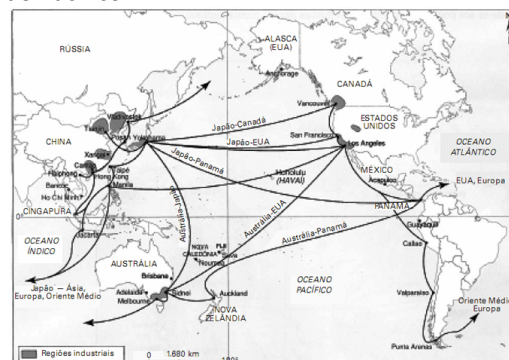
O gráfico e os itens abaixo referem-se à produção de equipamentos eletrônicos.

- I. Na América do Norte, esse crescimento está intimamente ligado ao desenvolvimento das indústrias de alta tecnologia e à sua integração com institutos de pesquisa e universidades.
- II. Na região da Ásia-Pacífico, esse crescimento está relacionado à grande capacidade de competição no mercado mundial que decorre, entre outros fatores, do absoluto controle da política cambial e do baixo custo da mão-de-obra.
- III. No Japão esse crescimento é moderado pelo fato de a produção destinar-se ao mercado interno, enquanto a produção dos outros países asiáticos dirige-se à exportação.

Está correto apenas o que se afirma em

- a) I.
- b) II.
- c) I e II.
- d) III.
- e) II e III.

52) (FGV - SP-2010) O mapa a seguir apresenta as principais regiões industriais e as rotas comerciais da Bacia do Pacífico.



Fonte: CHALIAND, Gérard e RAGEAU, Jean-Pierre. Atlas strategique. Paris: Complexe, 1994

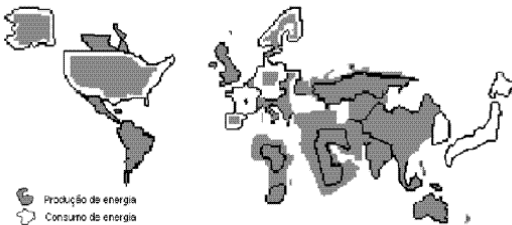
- a) Avalie a importância dessas rotas comerciais na estruturação geoeconômica do mundo atual.
- b) Diferencie o perfil produtivo das zonas industriais situadas no litoral chinês (Zonas Econômicas Especiais -

ZEE) em relação às localizadas na região de São Francisco a Los Angeles, nos Estados Unidos.

c) O que o Brasil tem feito para neutralizar seu relativo isolamento em relação às rotas comerciais da Bacia do Pacífico?

53) (Fuvest-2003)

Produção e Consumo de Energia



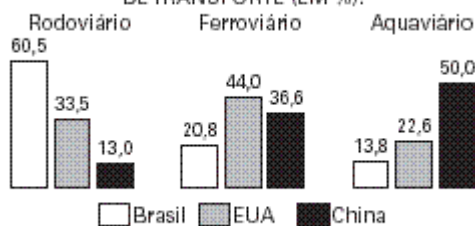
Fonte: AAA, 2000.

Observando a representação cartográfica, pode-se afirmar que se trata de uma

- carta topográfica, indicando que o Japão consome mais energia do que produz.
- anamorfose, indicando que a França produz mais energia do que consome.
- anamorfose, indicando que os Estados Unidos consomem mais energia do que produzem.
- carta topográfica, indicando que a Alemanha produz mais energia do que consome.
- anamorfose, indicando que os países africanos consomem mais energia do que produzem.

54) (Vunesp-2004) Observe o gráfico, que contém a distribuição das cargas entre diversas modalidades de transporte em três países com grande extensão territorial.

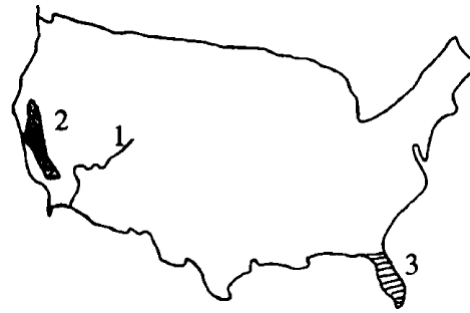
DISTRIBUIÇÃO DAS CARGAS ENTRE AS MODALIDADES DE TRANSPORTE (EM %).



(Ministério dos Transportes, Empresa Brasileira de Planejamento de Transporte – Geipot, Confederação Nacional dos Transportes – CNT.)

- Identifique a principal modalidade de transporte utilizada em cada um dos países, analisando-as em termos de custos.
- Como cada país complementa sua principal opção de transporte? Considerando os custos de cada um dos meios de transporte, em qual dos três países a opção é mais adequada?

55) (Vunesp-2002) Observe o mapa dos Estados Unidos.



Assinale a alternativa que indica, respectivamente, o nome do rio assinalado com o número 1 e as atividades econômicas predominantes nos espaços assinalados com os números 2 e 3.

- Grande; pecuária intensiva de gado leiteiro e cotton belts.
- Mississipi; culturas tropicais de cana, cítricos e arroz e pecuária extensiva.
- Colúmbia; corn belts e policultura.
- Tennessee; pecuária extensiva em estâncias e grandes propriedades e agricultura irrigada de frutas e legumes.
- Colorado; agricultura irrigada de frutas e legumes e culturas tropicais de cana, cítricos e arroz.

56) (VUNESP-2009) Observe o mapa.



Utilizando seus conhecimentos geográficos, assinale a alternativa que indica o estado destacado no mapa e o tipo de clima que favorece a grande ocorrência de incêndios florestais em determinada época do ano.

- Flórida; clima subtropical, com verões quentes e secos e invernos amenos.
- Texas; clima tropical, com invernos secos e verões quentes e chuvosos.
- Oregon; clima mediterrâneo, com invernos secos e verões chuvosos.
- Nevada; clima temperado, com invernos rigorosos e verões extremamente secos e quentes.
- Califórnia; clima mediterrâneo, com verões quentes e secos e invernos chuvosos.

57) (PUC-SP-2002)

Onde vivem os brasileiros nos EUA	
Cidade	Número
Nova York	300.000
Miami	200.000

Boston	150.000
Washington	48.000
Houston	40.000
Los Angeles	33.000
São Francisco	15.000
Chicago	13.000
Total	799.000
Fonte: Revista da Folha, 16 de setembro de 2001.	

Considerando o fluxo emigratório em direção aos EUA, assinale a alternativa ERRADA.

- O Brasil nunca foi um emissor importante de contingentes populacionais para outros países. O fenômeno da emigração aos EUA, por exemplo, é recente.
- Assim como os EUA, também o Japão e boa parte de nossos vizinhos na América do Sul, recebem atualmente fluxos importantes de imigrantes brasileiros.
- Os emigrantes que vão ao Japão são predominantemente filhos e netos de imigrantes japoneses no Brasil e, naquele país, são empregados no setor industrial.
- A emigração de brasileiros relaciona-se à crise econômica prolongada experimentada nos anos 80, conhecida como “década perdida”.
- A maioria dos emigrantes brasileiros é composta por jovens escolarizados, o que possibilita que obtenham empregos em ambientes urbanos modernos.

**58) (FGV-2001)** Os Estados Unidos têm o poder da força, pois são os detentores do maior arsenal do planeta, têm o poder econômico, já que são os mais ricos e prósperos e, para completar, ainda têm os artistas de Hollywood, que convencem a humanidade de que seu estilo de vida é o que há de mais sensacional.  
(T. Skidmore. Apud Veja S. Paulo, 26/02/2000. p. 48).

Complementa o texto acima, a seguinte afirmação:

- Os valores das exportações superam os das importações, garantindo anualmente o superávit da balança comercial dos EUA.
- O Estado da Califórnia, sozinho, consome três vezes mais água, vinho, automóveis e computadores do que a China.
- A alta tecnologia norte-americana é responsável pela baixa emissão de poluentes lançados na atmosfera.
- O elevado padrão de vida dos EUA justifica o fato de apresentarem a menor população carcerária do mundo.
- O PIB estadunidense supera a totalidade dos PIBs somados da França e da Alemanha.

**59) (Mack-2000)** Os pólos mundiais de alta tecnologia, chamados tecnopolos, agrupam os centros de pesquisa de grandes empresas, localizam-se próximos a importantes universidades e contam com eficientes sistemas de transmissão de dados e informações, como é o caso:

- do Vale do Rhur, na Alemanha.
- da região industrial dos Grandes Lagos nos E.U.A.
- do Vale do Silício na Califórnia.
- da Bacia de Londres, na Inglaterra.
- da região industrial dos Urais, na Rússia.

**60) (UNICAMP-2006)** Recentemente os Estados Unidos da América do Norte sofreram as consequências socioambientais do evento climático conhecido como furacão Katrina.

- Como e por que se forma um furacão?
- Por que os furacões ocorrem comumente nas baixas e médias latitudes do globo terrestre?
- Explique as razões de no hemisfério sul os furacões girarem no sentido horário, enquanto no hemisfério norte esse deslocamento (giro) é no sentido anti-horário.

**61) (IBMEC-2006)** “Reconstruir ou não Nova Orleans. Um polêmico artigo na revista eletrônica “Slate” propõe que a cidade de Nova Orleans, devastada com a passagem do furacão Katrina, não seja reconstruída. Vale a pena ler o texto impiedoso, escrito pelo editor Jack Shafer (...). Ele sintetiza uma série de argumentos, digamos conservadores, que vão agora se avolumando nos Estados Unidos contra a reconstrução desta cidade tão exuberante e atípica no país.”

(Leite Neto, Alcino. Reconstruir ou não Nova Orleans.

Disponível em: **Folha Online Pensata.**

[<http://www1.folha.uol.com.br/fofha/pensata/ult682u129.shtml>]. Acesso em: 19 set. 2005.)

Sobre a riqueza histórica, cultural e econômica da cidade de Nova Orleans, **não** é correto afirmar que:

- Nova Orleans tem uma notável riqueza musical. A cidade, que sempre teve uma forte presença negra, é considerada o berço do jazz, além de ter uma famosa festa de carnaval, o Mardi Gras.
- Nova Orleans já foi a principal cidade do sul dos Estados Unidos e o grande centro comercial da região do Golfo do México. Mas, ao longo do século XX, perdeu terreno para cidades como Houston.
- Nova Orleans é uma cidade de colonização francesa. A partir do final do século XVII, os franceses foram para o Vale do Mississipi e fundaram Nova Orleans no início do século XVIII.
- a cidade, localizada no sul dos Estados Unidos, sempre teve maioria negra, descendentes dos escravos das plantações de algodão. Foram essas pessoas as maiores vítimas do furacão Katrina.
- a cidade de Nova Orleans, localizada às margens do Atlântico, é um importante centro econômico do estado do Texas, rivalizando com Houston. A passagem do furacão Katrina devastou todo o centro histórico de origem francesa.

62) (UFSCar-2001) Sobre a atual organização industrial dos Estados Unidos, é correto afirmar que

- a) o Nordeste apresentou um sensível declínio do setor industrial e está em franca decadência econômica.
- b) a região das planícies centrais substituiu as tradicionais atividades agrícolas pela indústria.
- c) as regiões Sul e Oeste formam o “Sun Belt” (cinturão do Sol), que se destaca pela presença de indústrias de alta tecnologia.
- d) a região de fronteira com o Canadá transformou-se em área industrial degradada, o chamado “Rust Belt” (cinturão da ferrugem).
- e) as Rochosas apresentaram forte crescimento industrial graças à descoberta de inúmeras reservas minerais.

63) (Mack-2001) Sobre a economia dos Estados Unidos é INCORRETO afirmar:

- a) As grandes extensões de solos férteis, a maior parte do relevo de topografia plana e o clima temperado favorece a agricultura na porção central, que se caracteriza pelo emprego maciço da mecanização e pela baixa utilização de mão-de-obra.
- b) A região das Planícies Centrais é dividida em cinturões de cultivo, onde a agricultura é altamente especializada, com alta produtividade.
- c) A atividade industrial, tradicionalmente concentrada na região Nordeste e em torno dos Grandes Lagos, beneficiou-se da riqueza mineral e energética da região.
- d) Atualmente verifica-se uma descentralização industrial, em direção à Costa Oeste (indústrias de alta tecnologia) e à região do Golfo (indústria petrolífera).
- e) Apesar da grande dependência de carvão e petróleo e, em menor grau, de minerais metálicos, o país ainda é responsável pela maior produção industrial do mundo.

64) (FGV-2000) Transformações no espaço agrícola dos EUA:

Em 1996, o governo acabou com os tradicionais subsídios que permitiam controlar a produção e os preços: pagava ao agricultor para não cultivar parte de suas terras.
--

Com os atuais subsídios, a safra é maior do que a demanda, tornando os grãos baratos. Mas o governo bombeia mais dinheiro na agricultura.
---

O agricultor precisa ter áreas agrícolas maiores e mais próximas umas das outras, máquinas mais caras e mais fertilizantes.
---

Dessa grande produção, cerca de 1/3 do trigo, 3/4 do milho e quase toda a soja transformam-se em ração animal.
--

Elaborado a partir do jornal O Estado de São Paulo, 15/08/99

Assinale a alternativa que melhor expressa a situação colocada:

- a) Produção globalizada.
- b) Poderio das empresas agroindustriais.
- c) Introdução da mecanização.
- d) Prioridade ao pequeno agricultor na política agrícola.
- e) Consolidação da privatização na agricultura.

65) (ENEM-2004) Um certo carro esporte é desenhado na Califórnia, financiado por Tóquio, o protótipo criado em Worthing (Inglaterra) e a montagem é feita nos EUA e México, com componentes eletrônicos inventados em Nova Jérsei (EUA), fabricados no Japão. (...). Já a indústria de confecção norte-americana, quando inscreve em seus produtos ‘made in USA’, esquece de mencionar que eles foram produzidos no México, Caribe ou Filipinas. (Renato Ortiz, Mundialização e Cultura)

O texto ilustra como em certos países produz-se tanto um carro esporte caro e sofisticado, quanto roupas que nem sequer levam uma etiqueta identificando o país produtor. De fato, tais roupas costumam ser feitas em fábricas — chamadas “maquiladoras” — situadas em zonas-francas, onde os trabalhadores nem sempre têm direitos trabalhistas garantidos.

A produção nessas condições indicaria um processo de globalização que

- A) fortalece os Estados Nacionais e diminui as disparidades econômicas entre eles pela aproximação entre um centro rico e uma periferia pobre.
- B) garante a soberania dos Estados Nacionais por meio da identificação da origem de produção dos bens e mercadorias.
- C) fortalece igualmente os Estados Nacionais por meio da circulação de bens e capitais e do intercâmbio de tecnologia.
- D) compensa as disparidades econômicas pela socialização de novas tecnologias e pela circulação globalizada da mão-de-obra.
- E) reafirma as diferenças entre um centro rico e uma periferia pobre, tanto dentro como fora das fronteiras dos Estados Nacionais.

66) (FGV-2005) Um companheiro morto, 6 horas enclausurado dentro de um caminhão sob o sol do deserto e mais 8 dias preso em cadeias americanas sem falar inglês. Esse é o saldo da desastrosa jornada de um grupo de 29 imigrantes brasileiros rumo ao sonho americano, com escala na fronteira mexicana.

(Folha de S.Paulo, 16.07.2004)

O depoimento do brasileiro deportado para o Brasil e seus conhecimentos sobre as migrações internacionais permitem afirmar que

- A) a maior parte dos países da União Européia e mesmo o Japão têm dado mostras de que a imigração é fundamental

para a renovação da mão-de-obra, pois já se deram conta de que suas populações tendem ao envelhecimento, fatos que não ocorrem nos Estados Unidos.

B) apesar do número crescente de imigrantes oriundos dos países pobres nas décadas finais do século XX, há forte tendência de que, à medida que o processo de globalização for se aprofundando, os atuais países de emigração não forneçam mais mão-de-obra.

C) da mesma forma como atualmente, nos países ricos, há grandes debates em relação aos casos de intolerância contra minorias, discriminação racial e/ou religiosa, são cada vez mais freqüentes as discussões sobre a imigração, que deve ser mais estimulada em futuro próximo.

D) as oportunidades de trabalho buscadas pelos imigrantes dos países pobres tendem a se reduzir à medida que o surgimento de novos pólos econômicos no Sul passem a representar um atrativo capaz de mudar os atuais fluxos migratórios, surgidos no pós-Guerra.

E) embora um grande grupo de países se manifeste no sentido de que a migração seja tratada como um assunto de destaque no âmbito das Nações Unidas, as nações ricas têm controles cada vez mais rígidos em relação à imigração, incluindo a xenofobia.

67) (Mack-2002) Arrastada pela desaceleração dos E.U.A., a economia do México pode apresentar um crescimento de menos de 1% este ano.

Folha de São Paulo — 19/08/2001

O atrelamento da economia mexicana aos E.U.A. explica-se:

- a) pela dependência mexicana das matérias-primas importadas dos E.U.A.
- b) pelo fato de os E.U.A. serem destinatários de cerca de 90% das exportações mexicanas.
- c) pela absorção de grande parte da mão-de-obra mexicana pelo setor agrícola dos E.U.A.
- d) pela dependência mexicana ao petróleo americano, extraído principalmente no Texas.
- e) pela paridade artificial entre as moedas dos dois países.

68) (UFSC-1999)

Do ponto de vista histórico-social, o continente americano divide-se em América Anglo-Saxônica e América Latina. Identifique a(s) proposição(ões) que caracteriza(m) CORRETAMENTE a América Latina.

01. A colonização por exploração deixou marcas profundas nessa parte da América, entre as quais a excessiva concentração de terras.
02. O colonizador fixou-se de imediato à terra, criando um mercado interno responsável por um precoce desenvolvimento industrial.
04. A dependência, em relação aos países centrais, é estrutural, muito embora as forças endógenas também atuem na formação econômico-social.
08. Países como o México, o Brasil e a Argentina podem ser caracterizados como uma periferia industrializada.

16. O Inglês e o Francês são línguas oficiais dominantes, excetuando-se o Brasil, onde se fala o Português.

69) (FGV-2005) Entre 1996 e 2000, o PIB mexicano aumentou, em média, 5,4% ao ano. Em 2001, embora tendo um pequeno recuo de -0,2%, o PIB representava mais que o dobro do registrado em 1990, voltando a crescer em 2003 na ordem de 1,3%.

(www.clipping.planejamento.gov.br)

Sobre os dados apresentados, afirma-se:

- I. O crescimento da economia possibilitou ao país resolver inúmeros problemas socioeconômicos, dentre os quais o elevado crescimento vegetativo.
- II. A adesão do país ao Nafta foi um fator fundamental para seu crescimento econômico, embora o tenha tornado muito dependente dos Estados Unidos.
- III. Parte considerável do bom desempenho econômico do país se deve às indústrias maquiadoras, empresas montadoras de produtos que se destinam aos Estados Unidos.
- IV. A participação do país em vários blocos (Nafta e Apec) transformaram-no em grande exportador, mantendo há vários anos saldos elevados na balança comercial.

Estão corretas apenas as afirmações

- A) I e II..
- B) I e III
- C) I e IV.
- D) II e III
- E) III e IV.



## GABARITO

1) a) As quatro cidades estão sob influência, principalmente, da latitude, da continentalidade/maritimidade e das correntes marítimas. A diferença de altitude entre elas é muito pequena e não tem influência significativa nos seus climas.

b) As duas cidades norte-americanas (Los Angeles e Little Rock), com latitude semelhante, têm invernos diferenciados pela ação, respectivamente, da maritimidade (que ameniza o clima) e da continentalidade (que provoca frio mais intenso). A média térmica do verão de Los Angeles é menor que a de Little Rock devido à passagem de uma corrente marítima fria, que ameniza as temperaturas. As duas cidades européias estão em latitudes semelhantes, e bem mais elevadas que as norte-americanas, o que explica seus invernos mais frios. Nelas também atuam as influências marítimas, no caso de Belfast (com invernos mais amenos e verão bem mais quente que Moscou), e a continentalidade, no caso de Moscou, com invernos rigorosos e verão ameno.

2) O processo de industrialização se desenvolveu na segunda metade do século XX e foi calcado na 'substituição das importações' portanto, processo semelhante ao brasileiro.

O principal fator que justifica tal concentração é a maior proximidade do mercado consumidor norte-americano e podemos citar ainda as enormes reservas petrolíferas na região.

3) Alternativa: B

4) a) Os países assinalados no mapa são os seguintes:

- 1 — Federação Russa
- 2 — EUA (Estado do Alasca)
- 3 — Canadá
- 5 — Noruega

b) A esses países interessa o derretimento do Oceano Ártico porque:

- com isso há a possibilidade de exploração dos recursos do subsolo oceânico, principalmente petróleo;
- facilita a navegação marítima, na medida em que os países do hemisfério norte poderão contar com rotas mais curtas, cruzando o Oceano Ártico.

5) Alternativa: C

6) Alternativa: A

7) a) O fenômeno geográfico responsável pela fusão de línguas é o da imigração hispânica para os EUA. Nas últimas décadas, estima-se que lá tenham entrado mais de 10 milhões de hispânicos — metade de forma ilegal —, que se concentram nos grandes centros do sul (próximos da fronteira com o México) e em guetos dos

grandes centros urbanos do nordeste, especialmente Nova Iorque.

b) Entre as várias conseqüências do aumento da imigração hispânica nos EUA, podemos destacar:

- O aumento do controle físico e político sobre a extensa fronteira com o México, com a construção de cercas físicas e virtuais;
- O poder dos hispânicos nas eleições internas americanas;
- A importância cultural no comportamento da sociedade estadunidense, ilustrada pelo sincretismo lingüístico citado no texto;
- Crescimento de movimentos de xenofobia por parte da maioria branca, de origem européia.

8) Brasil, Honduras, México, Peru, e Venezuela. Isto é explicado pela presença de uma parcela significativa de habitantes que vivem na zona rural, além disto podemos citar o elevado analfabetismo e a precariedade do sistema médico-hospitalar.

Nos EUA e no Canadá, as taxas são inferiores a 1%, principalmente devido ao desenvolvimento sócio-econômico desses países.

9)

Resposta: A

10) Alternativa: E

11) Alternativa: C

12) Alternativa: B

13) Alternativa: A

14) Alternativa: D

15) Alternativa: B

16)

Resposta: D

17) Alternativa: E

18) Alternativa: C

19) a) O país indicado é o Canadá. Sua população concentra-se nas planícies da porção sul, fronteira com os Estados Unidos, e no sudeste — no vale do rio São Lourenço — área de concentração urbana e industrial.

b) A província destacada no mapa é Quebec. Sob o ponto de vista do povoamento e da lingüística, essa província se diferencia das demais pela predominância de população descendente de colonizadores e imigrantes franceses.

20) Alternativa: D

21) Alternativa: B

22) Alternativa: A

23) a) A empresa agrícola é caracterizada pela utilização do trabalho assalariado; utilização de alta tecnologia (transgênicos); uso de agrotóxicos, fertilizantes e corretores de solo; grande aplicação de capitais; integração à indústria; elevada produtividade; integração de capitais (agrário, industrial, comercial, financeiro); assistência de técnicos agrícolas e monocultura.

b) A agricultura tradicional se caracteriza pela utilização de técnicas arcaicas, pelo baixo grau de mecanização, pela baixa produtividade, pela baixa agressão ambiental, pela utilização de pequena propriedade rural e pela comercialização no âmbito dos mercados local, regional e nacional.

c) A região central dos EUA é caracterizada pela presença de grande planície sedimentar, pela predominância de relevo baixo e plano, pela grande variedade climática, pela presença da bacia hidrográfica do Mississipi-Missouri, pela vegetação original de pradaria e por solos férteis.

24) Alternativa: A

25) a) Indústrias dos setores de informática, eletrônica, biotecnologia e aeronáutica.

b) Essas indústrias de novo padrão estão localizadas em duas grandes áreas: oeste e *Sun Belt*. No oeste, destacam-se Califórnia, principalmente o Vale do Silício, e litoral Noroeste (Seattle e Portland). Trata-se de uma área estratégica para o comércio internacional, pois está na Bacia do Pacífico. Seu desenvolvimento foi consequência, dentre outros fatores, de grandes investimentos públicos em obras de infra-estrutura, com o objetivo de desconcentrar o parque industrial pioneiro do Nordeste do país. O *Sun Belt* é a faixa meridional dos Estados Unidos e se desenvolveu impulsionada, inicialmente, pelas indústrias petroquímica e aeroespacial e, mais recentemente, pelos amplos investimentos em P&D (pesquisa e desenvolvimento), que possibilitaram a criação de grandes centros tecnológicos e atraíram indústrias de ponta.

26) Alternativa: C

27) Alternativa: A

28) Alternativa: E

29) Alternativa: A

30) a) A década de 1980 iniciou-se com o conflito Irã– Iraque e a invasão do Afeganistão pela URSS, que só terminaria em 1989. Também neste período houve a consolidação de uma República Islâmica no Irã, apoiada na figura do então Ayatolá Komeini – fato que ameaçou os interesses norte-americanos na região, além de representar um risco para a estabilidade do Estado de Israel. Vale também destacar a questão do petróleo, controlado em grande parte pelos países do Golfo Pérsico.

b) Esses países são aliados na luta contra o terrorismo internacional. E nos últimos anos, o apoio dos EUA não se demonstrou irrestrito e várias foram as tentativas de reconciliação e acordos para a paz entre israelenses e árabes palestinos, intermediados pelos norte-americanos.

31) a) Doutrina Bush é o conjunto de princípios definidos pelo presidente dos Estados Unidos, George W. Bush, proferidos após os atentados de 11 de setembro. Os princípios fundamentais são:  
As nações do mundo estão conosco ou com os terroristas. Discurso de Bush no Congresso ó 20/09/2001: foi o que desencadeou a caça aos terroristas em todo o mundo, as ameaças aos países que abrigam terroristas e a popularização da expressão “Eixo do Mal”. As forças norte-americanas têm que ser firmes o bastante para dissuadir seus potenciais adversários de buscar se equiparar ao poderio dos Estados Unidos. Documento “A Estratégia de Segurança Nacional dos EUA”, enviado ao Congresso ó 20/09/2002: defende uma escalada militar baseada na expansão dos investimentos no setor bélico e na idéia de supremacia militar do país. A guerra contra o terror não será ganha na defensiva e sim com ação preventiva. Redes terroristas não têm nações ou cidadãos e não podem ser contidos por táticas tradicionais. Discurso de Bush aos cadetes de West Point ó 02/06/2004: defende a necessidade de ataques militares preventivos dentro da conjuntura da Nova Ordem Internacional. Princípios secundários, de base econômica, que poderiam ser citados: o comércio e os investimentos alavancam o crescimento econômico; oposição à intervenção estatal na economia.

b) A charge ironiza a pretendida hegemonia econômica e militar norte-americana. A ironia está no quadro final, quando um personagem afirma que o mundo todo agora se chama Estados Unidos da América, embora o cenário seja um lugar destruído pela guerra.

c) A ocupação do Iraque tem uma clara relação com as questões econômicas, já que o país tem a segunda maior reserva mundial de petróleo e os Estados Unidos anseiam por mantê-la sob sua influência. O ataque ao Afeganistão, realizado um mês após os atentados de setembro de 2001, está mais ligado à execução geopolítica da doutrina Bush, que defendia uma forte ofensiva ao terrorismo, como explicado acima.

32) Alternativa: E

33) Alternativa: E

A partir do gráfico, observa-se que o crescimento da produtividade agrícola dos EUA é acompanhado pelo crescimento nas custos de material, ou seja, na aplicação de tecnologia.

34) Alternativa: A

35) Alternativa: D

36) a) Nos Estados Unidos, a região Nordeste caracteriza-se pela concentração de indústrias tradicionais — como as siderúrgicas, metalúrgicas, automotivas, químicas, alimentares, ferroviárias — que empregam numerosa mão-de-obra, ocupada em formas de trabalho automatizada e especializada. Já na Costa Sudoeste, em que se situa a Califórnia, encontramos tecnopólos de setores industriais de alta tecnologia — como os de informática, de aeronáutica, computacionais e de biotecnologia —, com ocupação mais intensiva de mão-de-obra altamente qualificada.

b) A localização industrial do Nordeste foi influenciada pela presença de abundante mão-de-obra imigrante, amplo mercado consumidor urbano organizado desde a colonização antiga, recursos tradicionais, como carvão e ferro, e facilidade de navegação devido aos Grandes Lagos. Na Costa Sudoeste, a localização industrial está ligada à revolução tecnológica, aos recursos minerais e hidroelétricos, além de políticas governamentais de incentivo.

37) a) Exemplos da influência cultural norte-americana é a adoção da Língua Inglesa nas escolas secundárias e a substituição de muitas expressões do dia-a-dia por expressões inglesas como “for sale”, “out-door”, “delivery” ou “hot-dog”, além da indústria de filmes americanos.

b) Com o advento da Doutrina Truman (1947) e a instauração da Guerra Fria, os Estados Unidos impuseram o pensamento político e econômico americano. Auxiliam economias fracas, fortalecem o capitalismo por meio das transnacionais e enfim impõem ao cotidiano dessas sociedades o modo de vida americano.

38) Alternativa: A

39) Alternativa: D

40) Alternativa: B

41) Alternativa: A

42) Alternativa: D

43) a) Para a maior parte dos latino-americanos, atravessar a fronteira, mesmo clandestinamente, significa conseguir um trabalho, melhores rendimentos e a possibilidade de elevação do padrão de vida.

b) No caso da fronteira norte - Canadá, onde ocorrem fluxos migratórios menos intensos, a política é mais receptiva com relação aos imigrantes, cujo padrão de vida e cultura, assim como o nível técnico e tecnológico, é mais similar ao dos Estados Unidos.

No caso da fronteira sul - México, há uma política mais rígida de controle devido, entre outros fatores, à magnitude dos fluxos migratórios - constituídos, não apenas de mexicanos, mas de migrantes oriundos de vários países da América Latina - e à política de repressão ao tráfico de drogas.

44) Alternativa: D

45) Alternativa: E

46) Alternativa: B

47) Alternativa: E

48) Alternativa: C

49) Alternativa: B

50) a) O documento chamado de Protocolo de Kyoto é um compromisso firmado entre um grupo de países para a redução da emissão de CO<sub>2</sub> e foi assinado em 1997 com a intenção de que entre 2010 e 2012, os níveis de poluentes estejam menores do que em 1990. Sua formulação foi motivada pelo aquecimento global, resultado do aumento do acúmulo de poluentes e da conseqüente alteração do efeito estufa. O principal responsável por esse desequilíbrio é a queima de combustíveis fósseis como o petróleo e o carvão mineral

b) Os Estados Unidos, um dos principais emissores de CO<sub>2</sub>, não aderiram o Protocolo, uma vez que a redução dessa emissão vai obrigar o país a uma mudança na matriz energética, levando-o a investir em fontes não-poluentes. Segundo o governo norte-americano, a adesão às metas de Kyoto teria um caráter recessivo sobre sua economia. Recentemente o Presidente George W. Bush afirmou que o temor diante do aquecimento global é um exagero e, por isso, os Estados Unidos não assinariam o documento.

51) Alternativa: C

52) a) Nas rotas comerciais apontadas no mapa realiza-se mais da metade das transações comerciais do mundo atual, que envolvem duas das grandes potências (Estados Unidos e Japão) e alguns dos mais importantes países emergentes.

Só rivalizam com elas as rotas comerciais que cortam o Atlântico Norte, interligando a Europa à América do Norte e essas duas regiões ao Oriente Médio. O crescimento das transações comerciais entre os países da Bacia do Pacífico fez com que alguns estrategistas afirmassem que o século XXI seria o século do Pacífico. Dentro da estrutura geoeconômica do mundo atual, em que países emergentes como a China, Índia e Tigres Asiáticos têm uma participação crescente no comércio internacional, a importância dessas rotas tende a aumentar rapidamente.

b) As zonas industriais situadas no litoral da China (ZEEs) surgiram e se desenvolveram nas três últimas décadas como parte do programa de inserção do país no cenário internacional. Com a abertura a investimentos internacionais, essas regiões assistiram a um acelerado crescimento de empresas estatais e transnacionais que, usando a abundante mão de obra local, transformaram o país em uma plataforma de exportação. Nos últimos anos, como fruto do acúmulo de capitais e dos investimentos em tecnologia, a China está ingressando em uma nova etapa do processo produtivo, procurando espaço no mercado mundial de produtos de maior valor agregado. As zonas industriais de São Francisco e Los Angeles são muito mais antigas. Após a Segunda Guerra Mundial tiveram a sua produção acelerada e foram transformadas em áreas de indústrias estratégicas, com elevado uso de tecnologia de ponta, como a aeronáutica, informática, naval e bélica. Ao contrário do que ocorre na China, essas regiões cresceram assentadas no mercado interno, embora na última década as exportações regionais estejam crescendo de forma significativa.

c) Dentre as medidas que visam neutralizar o relativo isolamento do Brasil das rotas comerciais da Bacia do Pacífico, destacam-se a adoção política externa voltada para o estreitamento das relações comerciais com países dessa região, especialmente com a China, e investimentos na criação de novas rotas terrestres que facilitem o escoamento de suas produções para o Pacífico, por meio da construção de vias de circulação em parceria com seus vizinhos sul-americanos, como o Peru e o Chile. Essas medidas do governo brasileiro devem-se em parte ao fato de o Canal do Panamá estar saturado pelo excesso de circulação de navios e à dificuldade de navegação pelo Canal de Beagle.

53) Alternativa: C

54) a) As principais modalidades de transportes usadas no Brasil, nos Estados Unidos e na China são, respectivamente, a rodoviária (60,5%), a ferroviária (44%) e a aquaviária-hidroviária (50%). Em termos de custos, o que deve ser analisado é a relação entre peso da carga, distância percorrida e consumo de combustível. De acordo com essa relação, o meio de transporte mais eficiente é o aquaviário, seguido do ferroviário e do rodoviário.

b) O Brasil complementa sua principal opção de transporte com uso de ferrovias (20,8%). Os Estados Unidos, com

rodovias (33,5%), e a China, com ferrovias (36,6%).

Considerando os custos dos meios de transportes, a opção mais adequada é a da China, que tem metade de sua carga transportada pelo meio mais barato (aquaviário), seguido pelo intenso uso de ferrovias, o segundo melhor em preço.

55) Alternativa: E

56) Alternativa: E

57) Alternativa: B

58) Alternativa: E

59) Alternativa: C

60) a) O furacão é formado pela variação da pressão atmosférica, associada ao aumento progressivo da temperatura dos oceanos. A formação das frentes de instabilidades - em razão do encontro das massas de ar quente e fria - produz as chamadas correntes de convecção (causa de tempestades tropicais), que colaboram ainda mais para a ocorrência desse fenômeno.

b) Esse tipo de fenômeno climático ocorre nas baixas e médias latitudes do globo, já que os raios solares incidem com maior intensidade nas regiões tropicais, causando aquecimento do oceânico e a formação de tempestades.

c) O sentido de rotação dos furacões é regido pela aceleração de Coriolis. Fenômeno produzido pela rotação da Terra sobre seu eixo, induz um movimento de rotação para as massas de ar em geral, que começam a adquirir os seguintes sentidos anti-horário para o hemisfério Norte e horário para o hemisfério Sul.

61) Alternativa: E

62) Alternativa: C

63) Alternativa: E

64) Alternativa: B

65) Alternativa: E

66) Alternativa: E

67) Alternativa: B

68) 01-V

02-F

04-V

08-V

16-F

69) Alternativa: D

