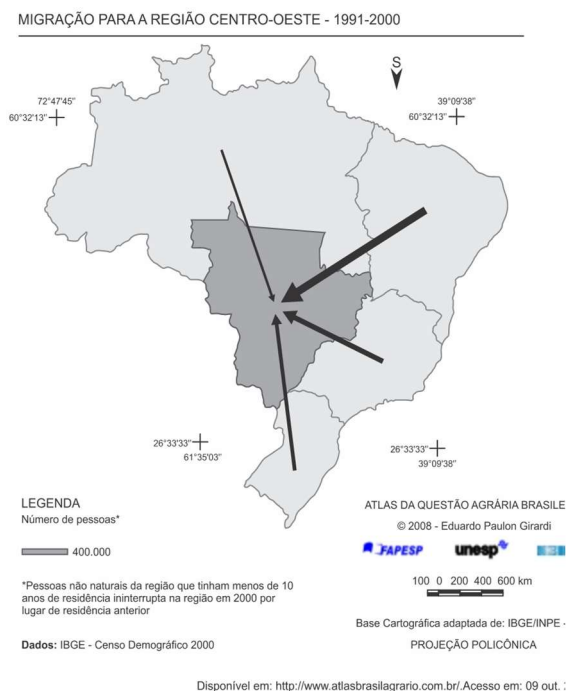


1. Analise o mapa para responder à questão.



A ampliação dos fluxos migratórios para a região e o período, destacados no mapa, foi causada por diversos fatores, dentre os quais:

- I. programas governamentais de incentivo à modernização do campo e de integração da região ao agronegócio.
- II. maior urbanização e dinamismo nas microrregiões do Centro-Oeste.
- III. atividades industriais e de setor de serviços amplamente desenvolvidos.
- IV. substituição do principal produto agrícola, a soja, pela cultura de frutas cítricas.
- V. acentuada diminuição de crescimento demográfico nas microrregiões de Cuiabá e Alto Pantanal.

Estão CORRETAS

- a) I e II, apenas.
- b) I, IV e V, apenas.
- c) I, II e III, apenas.
- d) II, III, IV e V, apenas.
- e) I, II, III, IV e V.

2. Considere o texto a seguir sobre imigração no Brasil.

Dos 127,7 mil imigrantes venezuelanos que entraram no Brasil pelo município de Pacaraima, na região de fronteira de Roraima, no ano passado e neste ano, mais da metade já deixou o país. Dos 68,9 mil que saíram, a maior parte fez o caminho por via terrestre e 21,1 mil por via aérea. De 2015 a junho deste ano, 56,7 mil venezuelanos procuraram a Polícia Federal. Nesse período, 35,5 mil pediram refúgio e 11,1 mil solicitaram residência no Brasil.

Metade dos imigrantes da Venezuela já deixou o Brasil, *Jornal do Brasil*, Nacional, 18 jul. 2018, p.4. Adaptado.

O fluxo migratório mencionado apresenta como causa principal a(o)

- a) entrada da Venezuela no Mercosul
- b) política de emprego e renda no Brasil
- c) política de cooperação da Unasul
- d) sistema de saúde pública no Brasil
- e) crise econômica venezuelana

3. Sobre a dinâmica migratória brasileira é correto afirmar que:

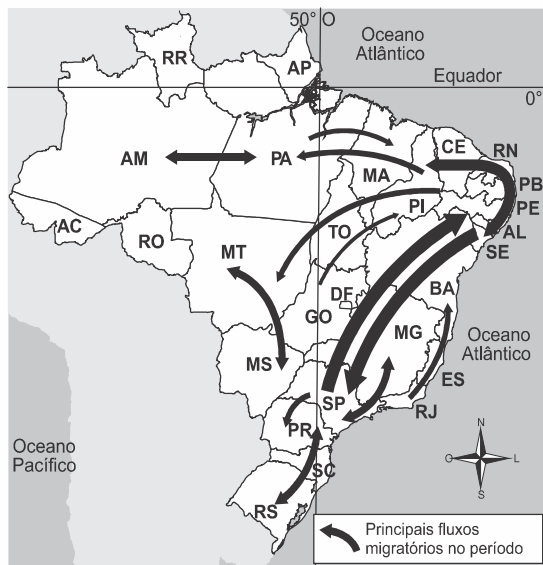
- a) o período mais importante de migrações internas no país se inicia na década de 1930, quando ocorreu o início da aceleração do deslocamento populacional da região Nordeste para o Sudeste, aumentando a concentração urbana.
- b) entre as décadas de 1950 e 1970, os fluxos migratórios de intensificaram em direção a região Sul, condicionados pelo crescimento do agronegócio ligado a expansão das lavouras de soja.
- c) a partir dos anos 1970 observou-se um aumento do fluxo populacional da região Norte em direção à região Nordeste, uma vez que a desconcentração industrial nacional promoveu um crescimento vertiginoso em direção a Zona da Mata Nordestina.
- d) em função do elevado crescimento industrial da região Sudeste, nos anos 1980, ocorreram intensos fluxos migratórios da região Sul

para aquela região, motivados pelas fortes isenções fiscais oferecidas pelos Estados de São Paulo e Rio de Janeiro.

e) atualmente a região Norte é aquela que recebe a maioria dos migrantes no país, resultado de políticas oficiais cuja intenção é barrar os contrabandos e o comércio de drogas que vem crescendo na região.

4. Observe o mapa a seguir:

## Brasil: migração (2000 - 2010)



Fonte: Maria Elena Simielli. *Geoatlas*. 13 ed. São Paulo: Ática, 2013, p. 35.

No período indicado destaca-se a:

- forte migração para o sertão nordestino motivado por uma nova corrida do ouro.
- migração de nordestinos para São Paulo motivada pela expansão da soja.
- atração de migrantes sulistas para o sertão nordestino para atuar na fruticultura.
- forte migração de retorno de nordestinos.
- migração de vários pontos do país para a Amazônia motivada pela mineração.

5.

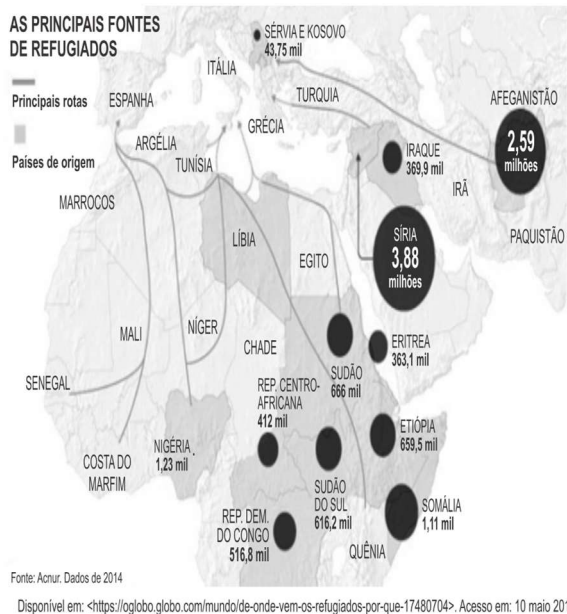
Décadas de 60 e de 70



Com base na análise do mapa e nos conhecimentos sobre as migrações internas brasileiras, é correto afirmar:

- A ida de migrantes dos estados sulinos em direção ao Mato Grosso esteve relacionada ao processo de industrialização.
- A migração de nordestinos para o Sudeste ocorreu devido à ampliação das fronteiras agrícolas em todos os estados dessa região.
- O fluxo de migrantes ao norte do Paraná coincide com a fase do plantio da *araucária angustifolia*, bastante explorada durante a colonização do Estado.
- O período retratado no mapa se caracterizou por apresentar as mesmas áreas de repulsão de população da década anterior, de 50, a exemplo de São Paulo, Paraná e Minas Gerais.
- O fluxo de migrantes nordestinos para Manaus decorreu da criação da Superintendência da Zona Franca de Manaus, ou seja, Manaus foi transformada em porto livre.

6. Observe a figura seguinte, a qual informa o quantitativo de pessoas e as principais rotas de refugiados.



- a) I, III e V.
- b) II, III, IV e V.
- c) I, III e IV.
- d) II e V.
- e) I, III, IV e V.

7. Analise esta charge do cartunista Latuff.



<http://tinyurl.com/htthtb7> Acesso em: 23.09.2016. Original colorido.

Com base nos dados acima e no atual contexto de crise envolvendo migrantes internacionais, julgue as assertivas a seguir.

- I. No período atual, as migrações são motivadas por questões de natureza econômica, envolvendo busca de emprego e, portanto, melhores condições de vida; e de natureza política, pois os refugiados fogem de guerras civis e de perseguições em seus países.
- II. O Sudão tornou-se independente do Sudão do Sul em 2011 e, desde então, vive uma guerra civil que, de forma semelhante a Eritreia, Somália, Afeganistão e República Democrática do Congo, pouco tem chamado a atenção das potências mundiais.
- III. As principais rotas de migrações internacionais seguem o destino da Europa, seja entrando pela Espanha e Itália, seja pela Turquia e Grécia, o que significa dizer que o sul europeu é a porta de entrada, porém nem sempre é o destino final.
- IV. A xenofobia, a intolerância e o racismo ganham força na Europa, sendo uma expressão disso o aumento dos votos recebidos por candidatos de extrema direita que explicitamente culpam os imigrantes pelos problemas nacionais.
- V. O conflito mais dramático em curso é o da Síria, em que milhões de cidadãos já deixaram o país para fugir dos confrontos entre as forças leais ao governo, as forças rebeldes pró-potências ocidentais e as do grupo fundamentalista Estado Islâmico.

É correto afirmar que a charge

- a) ilustra a imigração de europeus após os diversos atentados ocorridos recentemente em países como França e Itália.
- b) ironiza o muro de contenção à imigração mexicana nos Estados Unidos, construído no norte do país no início de 2015.
- c) critica a ação brasileira em relação aos refugiados haitianos, que morrem ao tentar atravessar o mar do Norte rumo ao Brasil.
- d) apresenta a questão dos refugiados, sobretudo sírios que, por conta da guerra em seu país, tentam chegar à Europa pelo Mediterrâneo.
- e) debate a situação dos jovens britânicos que, por conta da saída do Reino Unido da União Europeia, têm dificuldades para emigrar para os países vizinhos.

8. A presença de uma corrente migratória por si só não explica a condição de vida dos imigrantes. Esta será somente a aparência de um fenômeno mais profundo, estruturado em relações socioeconômicas muitas vezes perversas. É o que podemos dizer dos indivíduos que são deslocados do campo para as cidades e obrigados a viver em condições de vida culturalmente diferentes das que vivenciaram em seu lugar de origem.

SCARLATO, F. C. População e urbanização brasileira. In: ROSS, J. L. S. Geografia do Brasil. São Paulo: Edusp, 2009.

Estão CORRETAS apenas as proposições

O texto faz referência a um movimento migratório que reflete o(a)

- processo de deslocamento de trabalhadores motivados pelo aumento da oferta de empregos no campo.
- dinâmica experimentada por grande quantidade de pessoas, que resultou no inchaço das grandes cidades.
- Permuta de locais específicos, obedecendo a fatores cíclicos naturais.
- circulação de pessoas diariamente em função do emprego.
- cultura de localização itinerante no espaço.

9. Leia atentamente o texto a seguir:

### Os desafios da imigração na Europa



O aumento da pressão migratória sobre a Europa, ano após ano, teve um pico no primeiro semestre de 2015. Isso, associado ao expressivo aumento de mortos nas rotas do Mediterrâneo, colocou em evidência o problema das migrações.

Fonte: Revista *Carta Capital*, junho de 2015.

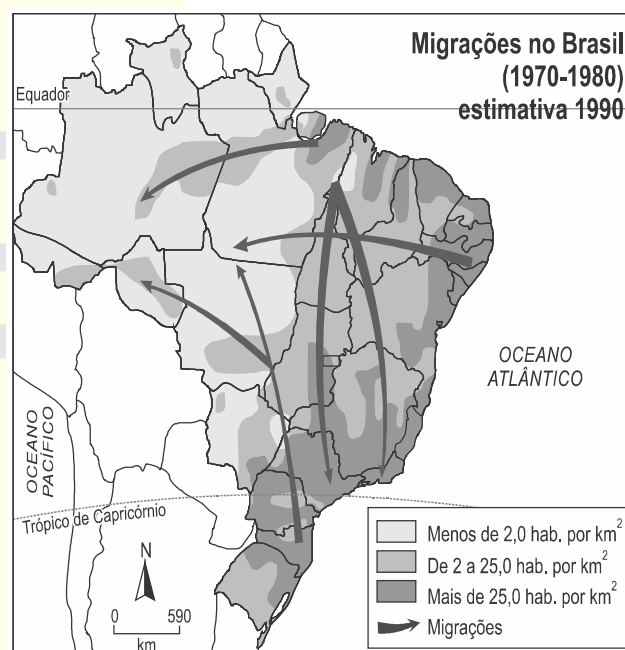
Sobre a conjuntura geopolítica das condições imigratórias no mundo, é **CORRETO** afirmar que

- Organização Internacional para as Migrações (OIM), órgão intergovernamental, define a imigração como uma das questões globais determinantes do início do século XXI.
- os fluxos migratórios resultam da proximidade entre a riqueza dos países desenvolvidos e as condições de pobreza das populações indo-asiáticas que enfrentam diariamente guerras civis e períodos prolongados de seca.
- a ausência da incorporação de políticas neoliberais fragilizou as economias de países subdesenvolvidos, enfraquecendo as relações trabalhistas e expulsando grandes

contingentes populacionais de seus países de origem.

- a evolução tecnológica globalizada diminuiu a informatização do sistema financeiro, absorvendo, cada vez menos, trabalhadores de alta qualificação e desalojando territorialmente uma grande parcela populacional do norte da África.
- os fluxos imigratórios dos países que fazem fronteira com o Mediterrâneo se dirigem numerosamente aos países europeus e são atraídos pelas políticas de acolhimento internacional aos migrantes irregulares.

10. Observe o mapa:



Fonte: TAMDJIAN, J.O.; MENDES, I.L. *Geografia Geral e do Brasil: estudos para a compreensão do espaço - ensino médio*. São Paulo: FTD, 2005. p.97. (adaptado)

Os termos emigração, imigração e migração têm significados distintos. Emigração é o movimento de saída de população. Imigração é o movimento de chegada de população. Migração é o termo genérico para qualquer deslocamento populacional.

Fonte: TAMDJIAN, J.O.; MENDES, I.L. *Geografia Geral e do Brasil: estudos para a compreensão do espaço - ensino médio*. São Paulo: FTD, 2005. p.96.

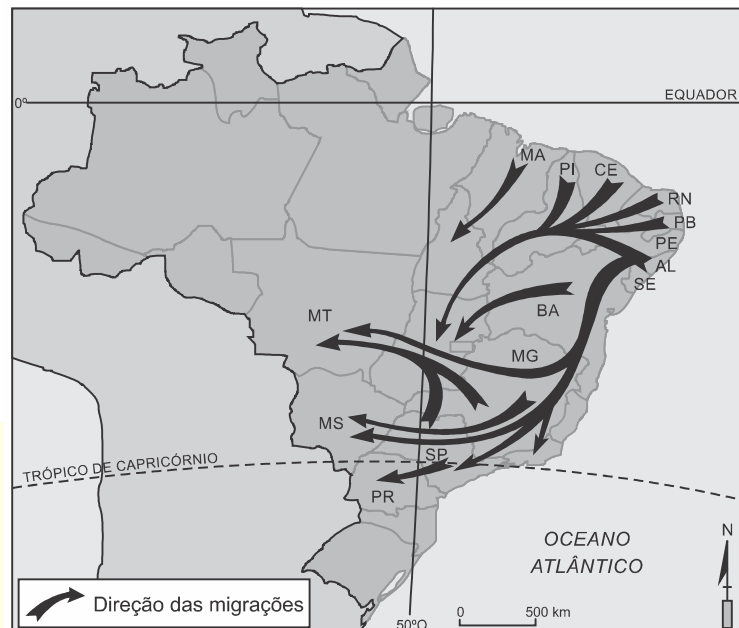
Com base no mapa e em seus conhecimentos sobre migrações, assinale verdadeira (V) ou falsa (F) em cada afirmativa a seguir.

- ( ) O modelo econômico brasileiro praticado entre as décadas de 1970 — 1980 induziu a população a migrar para regiões cujo meio ambiente estava preservado, o qual agora sofre um grave processo de devastação.
- ( ) Os fluxos migratórios para o interior do território brasileiro são uma comprovação cada vez mais intensa da presença de atividades econômicas, como, por exemplo, a pecuária e a agricultura em regiões antes íntegras, como o domínio dos Cerrados e o da Amazônia.
- ( ) As migrações indicam a inserção de diversas regiões na lógica econômica brasileira como um sintoma de amadurecimento político e econômico do país.
- ( ) A ocupação do território brasileiro é muito irregular, e essa distribuição mantém uma relação direta com a dispersão das atividades econômicas pelo território.

A sequência correta é

- a) F – V – V – V.
- b) V – V – V – V.
- c) V – F – F – V.
- d) F – F – F – F.
- e) V – F – V – F.

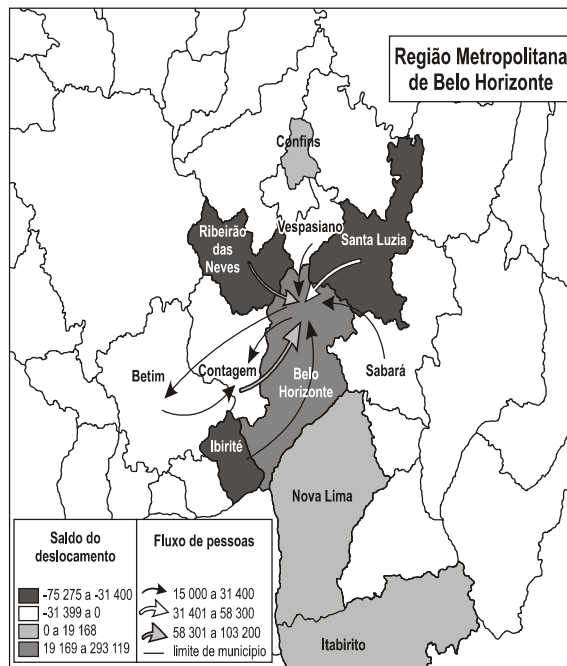
11. Desde o surgimento do homem, a busca por sobrevivência foi um dos principais objetivos das pessoas que migravam. Hoje, as migrações se dão por conta de fatores econômicos, conflitos regionais, falta de recursos naturais essenciais à vida, entre outros. Considerando o espaço de deslocamento populacional no mapa a seguir, é correto afirmar que ele retrata



Fonte: Organizado pelo autor.

- a) o movimento migratório de retorno, verificado após a década de 1990, devido aos investimentos e à atração econômica exercida por outras regiões.
- b) as migrações inter-regionais, de 1960 até 1970, devido à construção da Zona Franca de Manaus, o café, no Paraná, e as terras para a agropecuária, no Mato Grosso.
- c) as migrações internas no Brasil, de 1940 a 1950, graças à expansão da fronteira agrícola para a região Sul, especialmente no Paraná, e a criação de colônias agrícolas no Centro-Oeste.
- d) as migrações intra-regionais ocorridas entre as décadas de 70 e 80, graças ao processo de industrialização que atraiu migrantes para São Paulo, Rio de Janeiro, e a construção de Brasília que intensificou a migração para Goiás.

12.

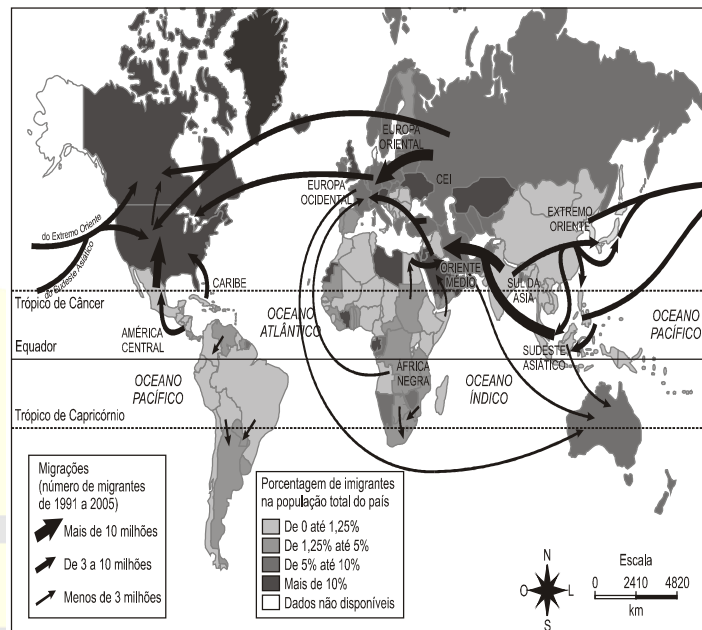


Nota: O saldo considera apenas as pessoas que se deslocavam para o trabalho e retornavam aos seus municípios diariamente.

BRASIL. IBGE. Atlas do censo demográfico 2010 (adapta)

13. Analise o mapa a seguir.

■ Migrações em massa (1991-2005)



(Adaptado de World Bank, 2007. In: Vesentini, J. William. Geografia: o mundo em transição. São Paulo: Ática, 2010, p. 255.)

O fluxo migratório representado está associado ao processo de

- fuga de áreas degradadas.
- inversão da hierarquia urbana.
- busca por amenidades ambientais.
- conurbação entre municípios contíguos.
- desconcentração dos investimentos produtivos.

As migrações internacionais hoje em dia ocorrem, principalmente, dos países subdesenvolvidos do sul para os desenvolvidos do norte. O racismo atual, chamado de “novo racismo”, já não se preocupa tanto com a cor da pele, com a pretensa raça dos grupos, e, sim, com a sua origem. Portanto, ele indiretamente decorre das migrações.

Com base na relação entre a afirmativa anterior e o mapa apresentado é correto afirmar que

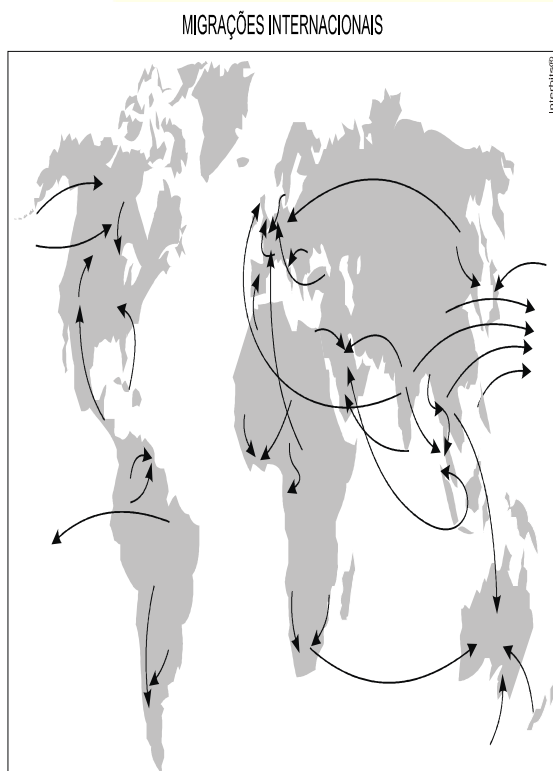
- multiplicam na Europa os “grupilhos”, grupos que acolhem os imigrantes defendendo sua liberdade e direitos sociais.
- o volume de imigrantes nos EUA e na Europa aumentou muito a partir da década de 1990, contribuindo para uma expansão econômica nestes países.
- os países que absorvem os imigrantes oferecem condições sociais igualitárias aos recém-chegados, incluindo assistência médica, educacional e trabalhista.
- existe o medo da perda da identidade nacional ou estrangeirização nos países que recebem os imigrantes devido ao maior crescimento demográfico do grupo que chega.



estados: Alagoas, Bahia, Ceará, Paraíba, Pernambuco, Piauí, Rio Grande do Norte, Sergipe, parte do estado do Maranhão e parte do estado de Minas Gerais (Vale do Jequitinhonha).

- d) devido aos graves problemas socioeconômicos e ambientais, como as grandes desigualdades de renda, a forte concentração fundiária e as secas no Sertão nordestino durante o século XX, a região passou a representar um cenário de intenso movimento de repulsão populacional. Muitos habitantes saíram, sobretudo entre as décadas de 1940 e 1980, em busca de oportunidades de trabalho em outras regiões do país.
- e) com o abandono persistente de áreas produtivas nordestinas, o governo federal criou, na década de 1930, no governo de Getúlio Vargas, a SUDENE (Superintendência do Desenvolvimento do Nordeste). Porém, devido aos desvios de capitais que nunca chegavam aos seus verdadeiros destinos, o órgão foi desativado na década de 1990.

16. Observe o mapa.



(<http://www.mmi.espp.usc.br/~ul/plnq4/home> - acesso: 11/08/11)

De acordo com o mapa sobre correntes de migração internacional nos dias atuais, é correto afirmar:

- a) predominância de migrações clandestinas como as verificadas entre México e Estados Unidos ou entre Turquia e Alemanha.
- b) as catástrofes naturais são as maiores responsáveis pelas correntes migratórias contemporâneas, produzindo grande número de refugiados ambientais.
- c) Estados Unidos e Europa seguem sendo as principais áreas de emigração do mundo.
- d) fatores econômicos seguem sendo o principal fator das correntes migratórias.
- e) fatores políticos são considerados os maiores fomentadores de imigrantes que buscam refúgio num grande número de países, particularmente na Europa.

17.



Realidades, como essa da ilustração, sempre foram comuns no Brasil. Os fluxos migratórios internos determinaram a ocupação de grandes extensões de seu território. Nos séculos XVII e XVIII, a procura por metais preciosos levou paulistas e nordestinos a Minas Gerais, Goiás e Mato Grosso. Com a expansão do café pelo interior de São Paulo, chegavam levas de mineiros e nordestinos. No século XIX, o ciclo da borracha ajudou a povoar a região Norte por nordestinos. No século XX, as atividades agrícolas e industriais levaram ao Sudeste milhares de brasileiros de todas as partes, principalmente, nordestinos.

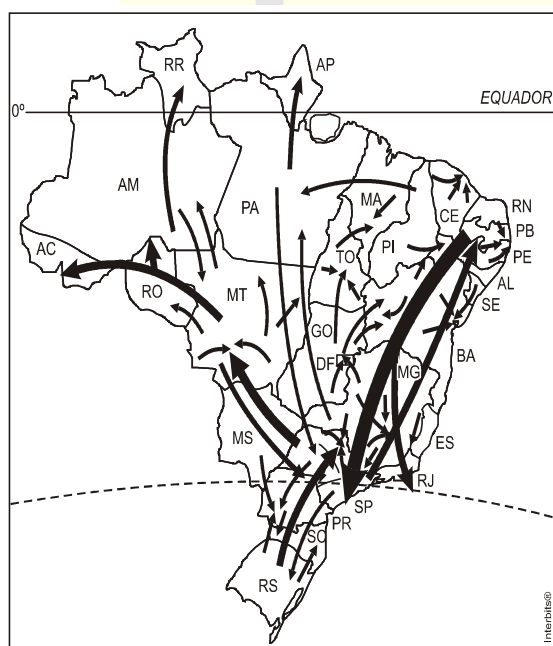
A respeito das migrações internas atuais, é incorreto afirmar que

- a) nos últimos anos, o Centro-Oeste foi a região que mais recebeu migrantes devido à expansão do agronegócio da cana-de-açúcar e aos investimentos destinados à implantação industrial, fruto da descentralização do Sudeste.



- b) a Região Sudeste, grande atrativo de migrantes durante anos, já constata declínio migratório em razão do aumento do desemprego. Em 2005, atinge seu ponto mais alto de perdas, 269 mil moradores, segundo dados do Instituto de Pesquisa Econômica Aplicada (IPEA).
- c) os movimentos migratórios estão mais intensos dentro dos próprios estados, com o desenvolvimento de polos industriais dentro e fora das grandes capitais.
- d) os fluxos migratórios, muitas vezes, desestabilizam famílias que, sem condições de sobrevivência, abandonam suas regiões de origem sem perspectivas imediatas de satisfazê-las em outras áreas do país.
- e) a Região Nordeste mantém sua tendência histórica, pois ainda é a principal área de origem dos migrantes no Brasil.

## 18. Mapa das migrações internas brasileiras.



Fonte: SIMIELLI, M.E. *Geatlas*. São Paulo: Ática, 2009.

Os principais fluxos migratórios representados correspondem à década de

- a) 1950.
- b) 1970.
- c) 1990.
- d) 2000.

19. As migrações transnacionais, intensificadas e generalizadas nas últimas décadas do século XX, expressam aspectos particularmente importantes da problemática racial, visto como dilema também mundial. Deslocam-se

indivíduos, famílias e coletividades para lugares próximos e distantes, envolvendo mudanças mais ou menos drásticas nas condições de vida e trabalho, em padrões e valores socioculturais. Deslocam-se para sociedades semelhantes ou radicalmente distintas, algumas vezes compreendendo culturas ou mesmo civilizações totalmente diversas.

IANNI, O. *A era do globalismo*. Rio de Janeiro: Civilização Brasileira, 1996.

A mobilidade populacional da segunda metade do século XX teve um papel importante na formação social e econômica de diversos estados nacionais. Uma razão para os movimentos migratórios nas últimas décadas e uma política migratória atual dos países desenvolvidos são

- a) a busca de oportunidades de trabalho e o aumento de barreiras contra a imigração.
- b) a necessidade de qualificação profissional e a abertura das fronteiras para os imigrantes.
- c) o desenvolvimento de projetos de pesquisa e o acatamento dos bens dos imigrantes.
- d) a expansão da fronteira agrícola e a expulsão dos imigrantes qualificados.
- e) a fuga decorrente de conflitos políticos e o fortalecimento de políticas sociais.

20. O movimento migratório no Brasil é significativo, principalmente em função do volume de pessoas que saem de uma região com destino a outras regiões. Um desses movimentos ficou famoso nos anos 80, quando muitos nordestinos deixaram a região Nordeste em direção ao Sudeste do Brasil. Segundo os dados do IBGE de 2000, este processo continuou crescente no período seguinte, os anos 90, com um acréscimo de 7,6% nas migrações deste mesmo fluxo. A Pesquisa de Padrão de Vida, feita pelo IBGE, em 1996, aponta que, entre os nordestinos que chegam ao Sudeste, 48,6% exercem trabalhos manuais não qualificados, 18,5% são trabalhadores manuais qualificados, enquanto 13,5%, embora não sejam trabalhadores manuais, se encontram em áreas que não exigem formação profissional.

O mesmo estudo indica também que esses migrantes possuem, em média, condição de vida e nível educacional acima dos de seus conterrâneos e abaixo dos de cidadãos estáveis do Sudeste.

Disponível em: <http://www.ibge.gov.br>. Acesso em: 30 jul. 2009 (adaptado).

Com base nas informações contidas no texto, depreende-se que

- o processo migratório foi desencadeado por ações de governo para viabilizar a produção industrial no Sudeste.
- os governos estaduais do Sudeste priorizaram a qualificação da mão de obra migrante.
- o processo de migração para o Sudeste contribuiu para o fenômeno conhecido como inchaço urbano.
- as migrações para o sudeste desencadearam a valorização do trabalho manual, sobretudo na década de 80.
- a falta de especialização dos migrantes é positiva para os empregadores, pois significa maior versatilidade profissional.

## 21. Tendências nas migrações internacionais

O relatório anual (2002) da Organização para a Cooperação e Desenvolvimento Econômico (OCDE) revela transformações na origem dos fluxos migratórios. Observa-se aumento das migrações de chineses, filipinos, russos e ucranianos com destino aos países membros da OCDE. Também foi registrado aumento de fluxos migratórios provenientes da América Latina.

Trends in international migration - 2002. Internet: <[www.ocde.org](http://www.ocde.org)> (com adaptações).

No mapa seguinte, estão destacados, com a cor preta, os países que mais receberam esses fluxos migratórios em 2002.



As migrações citadas estão relacionadas,

principalmente, à

- ameaça de terrorismo em países pertencentes à OCDE.
- política dos países mais ricos de incentivo à imigração.
- perseguição religiosa em países muçulmanos.
- repressão política em países do Leste Europeu.
- busca de oportunidades de emprego.

22. Os fluxos migratórios humanos, representados nos mapas abaixo, mais do que um deslocamento espacial podem significar uma mudança de condição social.

Décadas de 50 e de 60



Décadas de 60 e de 70



Décadas de 70 e de 80



Fonte: Adaptado de SANTOS, Regina Bega. *Migrações no Brasil*. São Paulo: Scipione, 1994.

Analisando-se os mapas, pode-se afirmar que essa mudança ocorreu com

- trabalhadores rurais nordestinos, que migraram para São Paulo nas décadas de 50 e de 60, transformando-se em operários do setor industrial.
- agricultores sulistas, que migraram para o centro-oeste na década de 60, transformando-se em empresários da mineração.
- trabalhadores rurais nordestinos, que migraram para a Amazônia na década de 60, transformando-se em grandes proprietários de terras.
- moradores das periferias das grandes cidades, que migraram para o interior do país na década de 70 atraídos pelas oportunidades de emprego nas reservas extrativistas.
- pequenos proprietários rurais nordestinos que, na década de 70, migraram para São Paulo para trabalhar como boias-frias na colheita de café.

23. "A população, além de trocar de unidade espacial de forma duradoura, modifica sua atividade, transferindo-se do setor primário para o secundário ou terciário."


O texto refere-se à migração

- a)pendular.
- b) sazonal.
- c)rural-rural.
- d)rural-urbana.
- e)urbano-rural.

24.A imigração é um fato importante na realidade da União Europeia (UE). Os imigrantes são parte integrante e ativa da economia, da política e da cultura europeia.

Assinale a alternativa que corresponde à situação dos imigrantes na Europa.

- a)Formam comunidades integradas à vida do país onde vivem.
- b)Não contribuem economicamente para o desenvolvimento dos países europeus.
- c)Exercem funções de trabalho qualificadas e bem remuneradas, o que provoca o xenofobismo.
- d)Grande parte da população europeia culpa os imigrantes pela falta de emprego e de serem direta ou indiretamente sustentados pelo Estado.



**GABARITO: 1C, 2E, 3A, 4D, 5E, 6E, 7D, 8B, 9A, 10B, 11C, 12D, 13D, 14A, 15D, 16D, 17A, 18C, 19A, 20C, 21E, 22A, 23D, 24D.**

## **GABARITO COMENTADO:**

### **Resposta da questão 1:**

[C]

As afirmativas [I], [II] e [III] estão corretas porque os fluxos migratórios foram alavancados com a modernização da agropecuária na região centro-oeste, que por sua vez, estimulou a urbanização, a agroindústria e o setor de serviços.

As afirmativas [IV] e [V] estão incorretas porque o crescimento da região se deu com a sojicultura o que por sua vez, estimulou o crescimento demográfico da região.

### **Resposta da questão 2:**

[E]

Nos últimos anos, a Venezuela apresenta uma crise política, econômica e social. Entre os problemas, as características autoritárias (redução do poder do parlamento com nova Constituinte e interferência no poder judiciário) do governo de Nicolas Maduro que resultou no afastamento do Mercosul por violação do Tratado de Ushuaia e as práticas violentas da oposição com estímulos externos de países como os Estados Unidos. O quadro econômico e social é grave: recessão econômica, diminuição das exportações de petróleo associada à sanções, alto desemprego, aumento da pobreza, desabastecimento e hiperinflação. As condições socioeconômicas precárias e perseguições políticas levaram à elevação do fluxo de imigrantes e refugiados rumo aos países vizinhos como Colômbia, Peru e Equador. Os venezuelanos entram no Brasil pelo território de Roraima por meio do município limítrofe de Pacaraima, cidade gêmea de Santa Elena na Venezuela. Recebem auxílio do governo brasileiro com destaque para a atuação das forças armadas e também da ONU através da ACNUR (Alto Comissariado das Nações Unidas para Refugiados).

### **Resposta da questão 3:**

[A]

A afirmativa correta é [A] porque com o governo Vargas, inicia-se as migrações para o sudeste. As afirmativas incorretas são: [B], porque a cafeicultura foi o motivo de atração migratória da região sul no período; [C], porque na década de 1970, com a ocupação da última fronteira agrícola, a região norte passa a ser a área de atração da migração; [D], porque as migrações de sulinos nas décadas de 1970/80 se dirigiram para as regiões norte e centro-oeste; [E], porque as migrações para a região norte decorrem dos investimentos nos projetos de infraestrutura, mineração e avanço da fronteira agrícola.

### **Resposta da questão 4:**

[D]

Entre 2000 e 2010, observa-se um importante fluxo da região Sudeste para a região Nordeste em decorrência de investimentos no território nordestino (descentralização industrial, turismo, infraestrutura, agricultura irrigada e geração de empregos) e também do crescimento da migração de retorno, ou seja, nordestinos retornando para a sua região. Esta dinâmica reflete o maior crescimento econômico e baixo desemprego durante o período.

### **Resposta da questão 5:**

[E]

A alternativa [E] está correta porque a criação da Zona Franca de Manaus na década de 1960 atrai migrantes nordestinos, sendo a principal causa para o deslocamento. As alternativas incorretas são: [A], porque migrantes sulinos para MT resultam da abertura de frentes agrícolas; [B], porque a

industrialização é a causa da migração de nordestinos para SP-RJ; [C], porque a cafeicultura no norte do PR é a causa para a atração migratória; [D], porque na década anterior, SP, PR e MG também eram áreas de atração migratória.

**Resposta da questão 6:**

[E]

A afirmativa [II] é incorreta porque os conflitos são significativos para as potências mundiais, haja vista que, em razão deles, formou-se um intenso fluxo migratório para os países desenvolvidos causando pressão sobre as fronteiras.

As afirmativas [I], [III], [IV] e [V] são corretas porque a questão econômica e as guerras – das quais se destaca a da Síria – configuram-se como causas para os movimentos migratórios ampliando a intolerância racial na Europa, principal destino dos recentes fluxos que, via mar Mediterrâneo, tornam a porção sul do continente a principal rota de entrada dos imigrantes, mas não necessariamente seu destino final.

**Resposta da questão 7:**

[D]

A charge representa a situação dramática dos refugiados que deixam o Oriente Médio, principalmente a Síria, em direção à União Europeia. Muitos refugiados perdem a vida em naufrágios no mar Mediterrâneo. A Síria atravessa uma guerra civil entre o governo do ditador Bashar Al Assad e rebeldes sunitas, entre os quais o Estado Islâmico. O conflito agravou-se com a intervenção de outros países, entre os quais, potências mundiais (Estados Unidos e Rússia) e regionais (Irã, Turquia e Arábia Saudita).

**Resposta da questão 8:**

[B]

O êxodo rural (migração campo-cidade) no Brasil foi intenso principalmente a partir do século XX e causado por fenômenos como: industrialização, urbanização, mecanização do campo, pobreza rural e concentração fundiária.

**Resposta da questão 9:**

[A]

A imigração constitui-se como uma questão de caráter global a partir da década de 1990, contudo, ganha maior proporção a partir do século XXI em razão da forte instabilidade no Oriente Médio e na África. Estão incorretas as alternativas: [B], porque a pressão migratória atual é resultado dos confrontos na África e Oriente Médio; [C], e [D], porque a imigração indicada não corresponde à questão trabalhista ou de qualificação de mão de obra; [E], porque não existem políticas de acolhimento para imigrantes irregulares.

**Resposta da questão 10:**

[B]

VERDADEIRO. A década de 1970 está associada aos projetos de colonização promovidos pelo governo militar ocupando a última fronteira agrícola do país, cujo efeito será de forte impacto ambiental.

VERDADEIRO. A expansão da produção para as regiões do interior do país denotam desenvolvimento do setor produtivo nacional.

VERDADEIRO. As áreas de atração migratória indicam a dinâmica econômica da região e, portanto, áreas que passam a ser incorporadas pelo sistema produtivo do país.

VERDADEIRO. A ocupação do território resultou no avanço, através da história, do desenvolvimento econômico, premiando as regiões litorâneas, onde está localizada a maior concentração humana, produtiva e financeira.

**Resposta da questão 11:**

[C]

O mapa destaca fluxos migratórios relacionados à expansão da fronteira agrícola em estados como Paraná, Mato Grosso do Sul, Goiás e Mato Grosso. Destacam-se migrações de nordestinos para o Rio de Janeiro e Centro-Oeste.

**Resposta da questão 12:**

[D]

Como mencionado corretamente na alternativa [D], o fluxo migratório entre municípios que compõe a região metropolitana de Belo Horizonte está associado à sua conurbação, criando a integração físico-espacial entre eles. Estão incorretas as alternativas: [A] e [C], porque a migração pendular ocorre de áreas adjacentes para a metrópole, área de maior problema ambiental; [B], porque as migrações confirmam a hierarquia urbana, já que ocorrem de menores para o maior município; [E], porque as migrações confirmam a concentração dos investimentos.

**Resposta da questão 13:**

[D]

O fluxo migratório internacional nas últimas décadas dá-se dos países subdesenvolvidos para os países desenvolvidos e traz consequências demográficas importantes. Uma delas é a diversificação da composição étnica e religiosa em vários países. No caso dos Estados Unidos, a aumento do percentual de latinos. No caso europeu, o aumento do componente negro, islâmico e eslavo em nações da Europa Ocidental. Este processo somado à crise financeira a partir de 2008 elevou os casos de xenofobia e preconceito étnico e religioso contra imigrantes e seus descendentes.

**Resposta da questão 14:**

[A]

Entre as décadas de 1970 e 1990, podemos observar os seguintes padrões nos fluxos migratórios:

- permanência da migração de nordestinos para o Sudeste, mas com perda de intensidade a partir da década de 1990;
- intensificação das migrações de nordestinos para a Amazônia através em busca de acesso à terra e em decorrência de projetos oficiais de colonização;
- expressivos fluxos de sulistas para o Centro-Oeste, Amazônia e parte do Nordeste, em decorrência da expansão da fronteira do agronegócio (terras baratas e crescimento da produção para exportação, a exemplo da soja), além da modernização agrária em trechos do Sul.

**Resposta da questão 15:**

[D]

O mapa representa as migrações no Brasil cujos fluxos principais eram de nordestinos em direção ao Sudeste e à Amazônia. Também destacam-se os sulistas em direção ao Centro-Oeste e à Amazônia. Esses fluxos eram intensos principalmente nas décadas de 1950 e 1980. A emigração de nordestinos para outras regiões foi decorrente da pobreza, maior desigualdade social, insuficiência de empregos, má distribuição de terras, além do agravante da seca no Sertão semiárido. A partir da década de 2000, com o maior crescimento econômico e geração de empregos no Nordeste, os fluxos de nordestinos para outras regiões se reduziram.

**Resposta da questão 16:**

[D]

Os principais fluxos migratórios internacionais são impulsionados por causas socioeconômicas. Os imigrantes, principalmente de países subdesenvolvidos, procuram melhores condições de vida, emprego

e melhores salários em países desenvolvidos e até em alguns países emergentes. São exemplos: mexicanos para os Estados Unidos e turcos para a Alemanha.

**Resposta da questão 17:**

[A]

- [A] INCORRETA – A descentralização da indústria da região sudeste foi orientada principalmente para as regiões sul e nordeste; a expansão econômica do Centro-Oeste é caracterizada pelo agronegócio, particularmente de grãos; a região norte é a região que mais recebe migrantes.
- [B] CORRETA – O estrangulamento da região sudeste intensifica dois processos de repulsão: a desmetropolização e a migração de retorno.
- [C] CORRETA – A partir da década de 1990, as migrações internas caracterizam a desmetropolização, ou seja, a migração dos grandes centros para médias e pequenas cidades.
- [D] CORRETA – As áreas de repulsão populacional são caracterizadas por estagnação econômica.
- [E] CORRETA – Embora haja uma forte migração de retorno ao nordeste, a região continua sendo uma área caracterizada como repulsão de população.

**Resposta da questão 18:**

[C]

- a) INCORRETA – Na década de 1950 a migração inter-regional do Brasil ocorria do nordeste brasileiro para o centro-oeste e sudeste em razão, respectivamente, da construção de Brasília e da industrialização; e de Minas Gerais, São Paulo, Santa Catarina, Rio Grande do Sul, entre outros, para o norte do Paraná devido ao início da cultura cafeeira.
- b) INCORRETA – Com a abertura da última fronteira agrícola do país na década de 1970, o governo desenvolve grandes projetos agropecuários e minerais, estimulando a ocupação da Amazônia, definindo um fluxo “sul-norte” no território nacional.
- c) CORRETA – O mapa representa os fluxos migratórios que caracterizaram a década de 1990, como as *migrações de retorno* (sudeste para nordeste), a desmetropolização (grandes para médias cidades) e a continuidade da ocupação da fronteira agrícola amazônica.
- d) INCORRETA – Os deslocamentos populacionais da década de 2000 são mais intensos entre os centros urbanos.

**Resposta da questão 19:**

[A]

As perspectivas de crises financeiras prolongadas nos países da zona do Euro e nos Estados Unidos estão pressionando muito o emprego com novas formas de mobilidade. Isto se deve principalmente à capacidade e rapidez dos atuais sistemas de transporte disponíveis. A xenofobia retorna com força. A alternativa [B] é falsa: não há facilidade nas fronteiras, principalmente nos países mais ricos; A alternativa [C] é falsa: não há acautelamento dos bens dos imigrantes; A alternativa [D] é falsa: os imigrantes qualificados levam vantagens sobre outros grupos; A alternativa [E] é falsa: há um esvaziamento das políticas sociais.

**Resposta da questão 20:**

[C]

A partir dos anos 1960, com o crescimento da população rural, a falta de uma reforma agrária, passou a dificultar o acesso à terra a um número cada vez maior de pessoas. Alguns aspectos econômicos peculiares como baixa remuneração e falta de assistência além da grande concentração fundiária e má distribuição de renda acabaram favorecendo fortes correntes migratórias do campo para a cidade (êxodo rural). A região Sudeste recebeu mais migrantes devido ao seu maior desenvolvimento e as maiores cidades foram as mais procuradas na esperança de se obter uma melhor qualidade de vida. O resultado foi o crescimento urbano desordenado, o inchaço urbano.

A alternativa [A] é falsa, o êxodo rural foi um processo de migração espontânea de população de população em busca de melhores condições de vida.

A alternativa [B] é falsa, são as atividades do setor produtivo que se modernizam e acabam exigindo maior qualificação.

A alternativa [D] é falsa, como região mais desenvolvida e modernizada, o trabalho manual só terá destaque mais recentemente sob a forma do artesanato como objeto de consumo, necessitando, porém de pequena quantidade de pessoas.

A alternativa [E] é falsa, na estrutura modernizada de atividades na região Sudeste, a especialização é fundamental no ponto de vista da produção capitalista.

#### **Resposta da questão 21:**

[E]

A humanidade passou por vários ciclos migratórios ao longo da história. Os fatores são muito variados, mas existe uma causa básica em praticamente todos eles: o deslocamento em busca de melhores condições de vida.

A alternativa [A] é falsa: não são todos os países da OCDE que sofrem ameaças terroristas;

A alternativa [B] é falsa: os países mais ricos tentam restringir a imigração;

A alternativa [C] é falsa: chineses, filipinos, russos e ucranianos não sofrem perseguição religiosa, pois são comunidades pequenas em países muçulmanos;

A alternativa [D] é falsa: os países do Leste Europeu, atualmente, são politicamente abertos.

#### **Resposta da questão 22:**

[A]

A mudança ocorre com os deslocamentos de nordestinos para o centro-sul em busca de trabalho, em função da alta concentração de terras, má distribuição de renda, falta de assistência, apoio no combate à seca, má qualidade de vida em termos alimentícios e acesso à medicina e medicamentos.

A alternativa [B] é falsa: os agricultores sulistas irão trabalhar em lavouras, principalmente de soja;

A alternativa [C] é falsa: os nordestinos migrarão para a Amazônia para trabalhar em agropecuária, extrativismo e silvicultura, sem posse de terra;

A alternativa [D] é falsa: migrarão em busca de trabalho na expansão da agropecuária na fronteira pioneira;

A alternativa [E] é falsa: irão trabalhar na colheita de cana-de-açúcar como boias-frias.

#### **Resposta da questão 23:**

[D]

#### **Resposta da questão 24:**

[D]

Em períodos de crise financeira e aumento do desemprego como o iniciado em 2008, aumenta também a xenofobia (aversão aos estrangeiros), a intolerância religiosa, o preconceito racial e a discriminação contra imigrantes nos países desenvolvidos. É o caso da União Europeia e dos Estados Unidos. O aumento do fluxo de imigrantes ilegais vindos da África e do Oriente Médio para a Europa causa controvérsia em vários países.

[QUESTÕES COMENTADAS SUPER PRO](#)