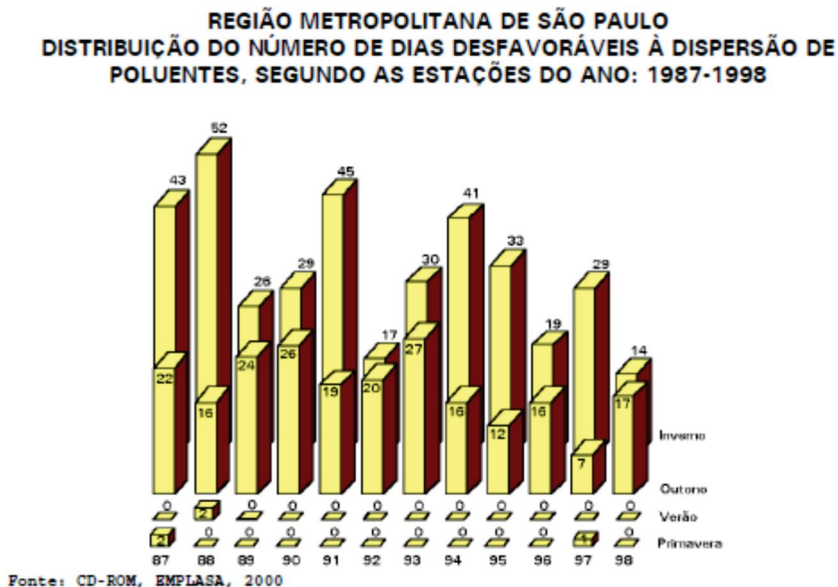


Exercícios Dissertativos

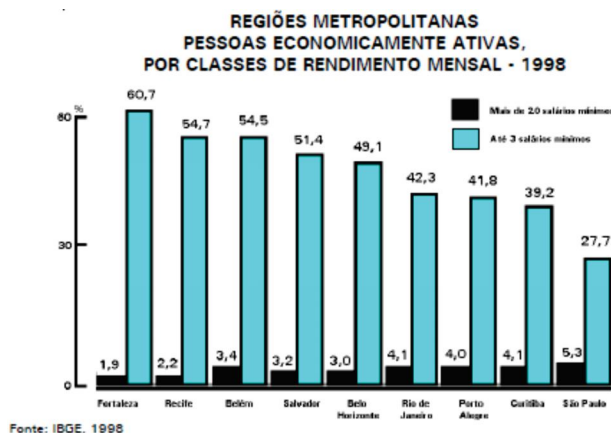
1. (2001) Observe o gráfico abaixo.



Considerando o total de dias desfavoráveis à dispersão de poluentes, responda:

- Por que os dias desfavoráveis à dispersão dos poluentes concentram-se no outono e no inverno?
- Que políticas públicas foram adotadas para que o número de dias desfavoráveis à dispersão de poluentes diminuísse ao longo da década de 1990?

2. (2001)



O gráfico registra a desigualdade existente em regiões metropolitanas do Brasil.

- O que são regiões metropolitanas?
- Indique e explique três aspectos que justifiquem as diferenças entre as metrópoles brasileiras em relação ao rendimento médio mensal da população economicamente ativa.

3. (2002)



Fonte: Pitte, 1998.

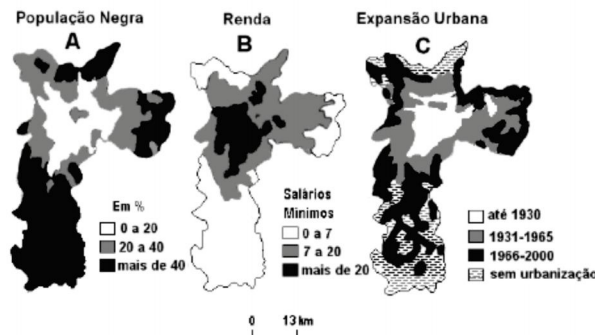
Observe a foto e analise a paisagem urbana muitas vezes presente em países de industrialização tardia. Explique:

- (a) A ocupação urbana.
- (b) A situação ambiental.

4. (2004)

- (a) Identifique as duas maiores áreas urbanas da região Norte do país.
- (b) Apresente e explique uma característica física e uma característica econômica de cada área citada.

5. (2005) Observe os mapas do município de São Paulo.



Fonte: Adapt. Cepid-Fapesp / CEM – Cebrap, 2004.

- (a) Associe as informações dos mapas A e B.
- (b) Associe as informações dos mapas B e C. Explique.

6. (2008)


O mapa representa o traçado completo previsto para o chamado Rodoanel, importante construção em andamento, na Região Metropolitana de São Paulo. Considerando o mapa e seus conhecimentos, cite e explique

- (a) um motivo para a construção do Rodoanel, no que se refere à circulação de mercadorias pelo território nacional.
- (b) um problema, de ordem ambiental, que pode ser relacionado a essa obra.



Fonte: Adaptado de www.dersa.sp.gov.br/rodoanel, acessado em outubro de 2007.

7. (2012)



IPT, 2011.

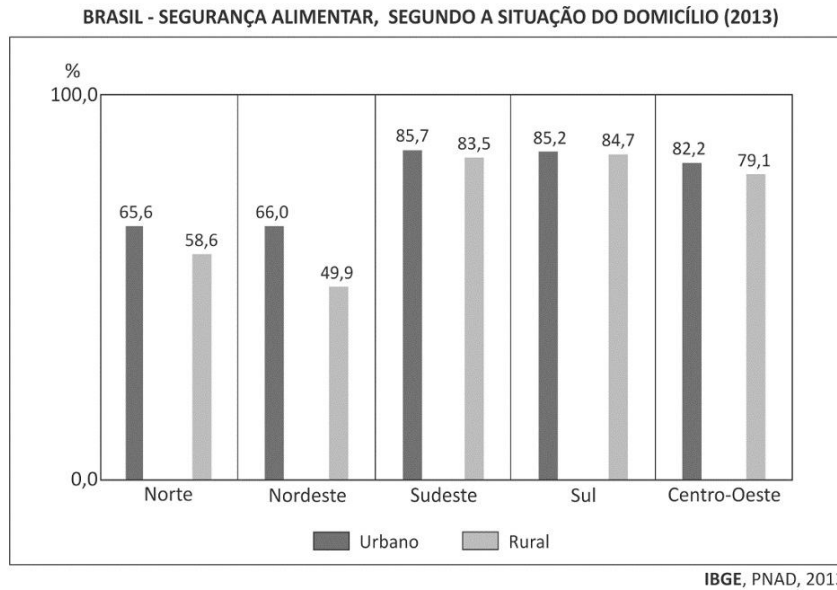


Ândrea Moreira de Araujo, 2011.

As imagens acima ilustram uma contradição característica de médios e grandes centros urbanos no Brasil, destacando-se o fato de que ambas dizem respeito a formas de segregação socioespacial. Considerando as imagens e seus conhecimentos, identifique e explique

- (a) duas causas socioeconômicas geradoras do tipo de segregação retratado na Imagem 1;
- (b) o tipo de segregação retratado na Imagem 2 e uma causa socioeconômica responsável por sua ocorrência.

8. (2016) De acordo com o IBGE, domicílio com Segurança Alimentar é aquele em que seus moradores relatam, principalmente, não ter havido falta de alimentos em quantidade e qualidade suficientes nos três meses anteriores à coleta de dados.



- (a) Como se deu, em 2013, a distribuição regional da Segurança Alimentar no país? Considere, em sua análise, a situação do domicílio (urbano e rural).
- (b) Indique as regiões com a maior e com a menor Segurança Alimentar na zona rural, em 2013. Explique as razões que justificam essa diferença na condição de Segurança Alimentar, tendo em vista a estrutura e ocupação agrária de cada uma delas.