

Exercício 1

(Ufrgs 2017) Leia o trecho da música *Disneylândia*, da banda Titãs.

Armênios naturalizados no Chile
 Procuram familiares na Etiópia.
 Casas pré-fabricadas canadenses
 Feitas com madeira colombiana.
 Multinacionais japonesas
 Instalam empresas em Hong-Kong
 E produzem com matéria-prima brasileira
 Para competir no mercado americano.

Literatura grega adaptada
 Para crianças chinesas da comunidade europeia.
 Relógios suíços falsificados no Paraguai
 Vendidos por camelôs no bairro mexicano de Los Angeles.
 Turista francesa fotografada seminua com o namorado árabe
 Na Baixada Fluminense.

O trecho acima retrata a dinâmica resultante do processo de

- a) globalização.
- b) empobrecimento.
- c) migração.
- d) enriquecimento.
- e) independência.

Exercício 2

(G1 - ifsul 2020) Observe:



Disponível em: <<https://blog.rebel.com.br/entenda-o-que-e-a-globalizacao>>. Acesso em: 12 de set. 2019

A imagem faz referência à Globalização

- a) cultural.
- b) financeira.
- c) ideológica.
- d) ambiental.

Exercício 3

(G1 - ifsul 2019) “Conjunto dos processos complexos de intercâmbio e divulgação que tem o mundo inteiro por escala (gestão, finanças, produções, mercados, ideias, símbolos e valores) [...]. Suas características são a desterritorialização, o desafio aos localismos e a formação de uma sociedade civil mundial”.

DURAND, Marie-Françoise [et al]. *Atlas da Mundialização: Compreender o espaço mundial contemporâneo*. São Paulo: Saraiva, 2009. p.148

A citação descreve o processo de

- a) Velha DIT.
- b) Guerra Fria.
- c) Globalização.
- d) Mercantilismo.

Exercício 4

(G1 - ifce 2019) A nova geografia política do mundo, segundo alguns, teria como base fundamental o chamado “sistema global”, ou sistema-mundo, uma espécie de “ator” muito mais importante que os Estados nacionais ou mesmo que as associações internacionais tais como a União Europeia.

(VESENTINI, J. W. *Novas Geopolíticas*, p. 38, 2015).

Sobre o assunto apresentado no texto, é **correto** afirmar-se que

- a) a globalização atual possui uma grande circulação de ideias e de produtos por causa do avanço dos meios de comunicação e da rede de transporte mundial.
- b) os Blocos Econômicos não representam o mundo globalizado, pois suas atuações se limitam às regiões continentais do planeta.
- c) a nova geografia política apresentada no texto encontra-se cada vez mais subordinada a um estudo regional em um mundo dividido entre capitalistas e socialistas.
- d) a União Europeia é um bloco econômico recente em um novo contexto de globalização, no qual o capitalismo encontra-se majoritário, não existindo países socialistas por causa do fim da Velha Ordem Mundial.
- e) a geografia política atual não estuda as relações econômicas entre as nações, pois o mundo apresenta-se dividido em dois grupos ideológicos que disputam a hegemonia do planeta.

Exercício 5

(Uece 2016) Leia atentamente o seguinte excerto sobre globalização:

“A fábrica global instala-se além de toda e qualquer fronteira, articulando capital, tecnologia, força de trabalho, divisão do trabalho social e outras forças produtivas. Acompanhada pela publicidade, a mídia impressa e eletrônica, a indústria cultural, misturadas em jornais, revistas, livros, programas de rádio, emissões de televisão, videoclipes, fax, redes de computadores e outros meios de comunicação, informação e fabulação dissolve fronteiras, agiliza os mercados, generaliza o consumismo”.

Considerando o processo de globalização, analise as afirmações abaixo e assinale com V as verdadeiras e com F as falsas.

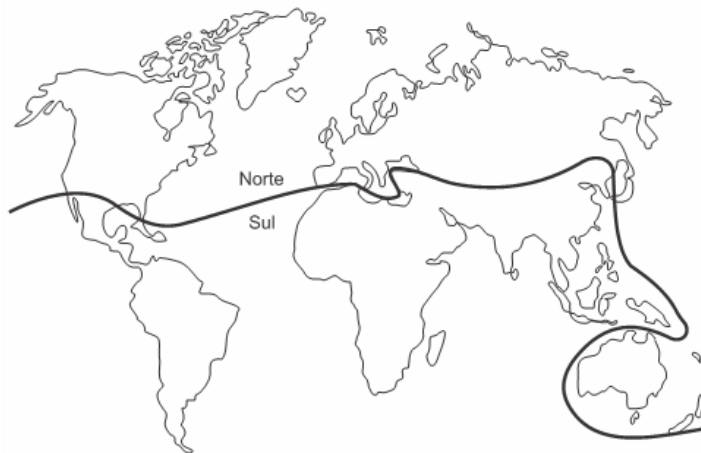
- () A tecnologia é apontada como um dos principais fatores responsáveis pela consolidação da globalização no século XX.
- () O processo de globalização vai além do campo econômico, possuindo também um forte componente cultural.
- () Provoca a desterritorialização e a reterritorialização de coisas, pessoas e ideias, promovendo o redimensionamento de espaços e do tempo.
- () No mundo globalizado, os trabalhadores perderam espaço para as máquinas devido à necessidade de produzir-se mais e de forma mais eficiente a um custo mais baixo.

A sequência correta, de cima para baixo, é

- a) V, F, V, F.
- b) F, V, F, V.
- c) F, F, V, V.
- d) V, V, V, V.

Exercício 6

(G1 - ifba 2018) Divisão do mundo entre os países do Norte e Sul



Disponível em: HAESBAERT, Rogério; PORTO-GONÇALVES, Carlos Walter. *A Nova Des-Ordem Mundial*. São Paulo: Unesp, 2006. p.50. (adaptado)

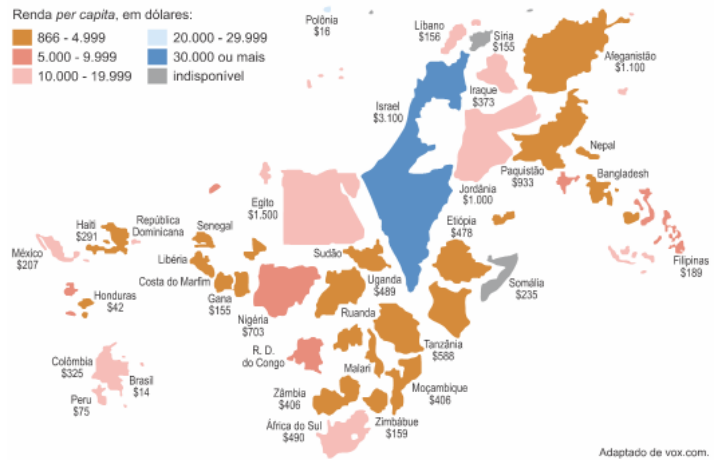
A figura acima representa uma forma de regionalizar o mundo, entre os países do Norte e os países do Sul. A partir da análise da imagem, é correto afirmar que esse modelo de regionalização leva em consideração:

- a) A linha do equador que divide o mundo em dois hemisférios, o Norte e o Sul.
- b) As características climáticas e biogeográficas distintas entre o Norte e o Sul.
- c) As potencialidades paisagísticas e tecnológicas entre o Norte e o Sul.
- d) O nível de desenvolvimento socioeconômico entre os países do Norte e Sul.
- e) O nível de influência linguística entre os países emergentes do Sul.

Exercício 7

(Uerj 2018)

APOIO FINANCEIRO RECEBIDO DOS ESTADOS UNIDOS EM 2015, EM MILHÕES DE DÓLARES



Adaptado de vox.com.

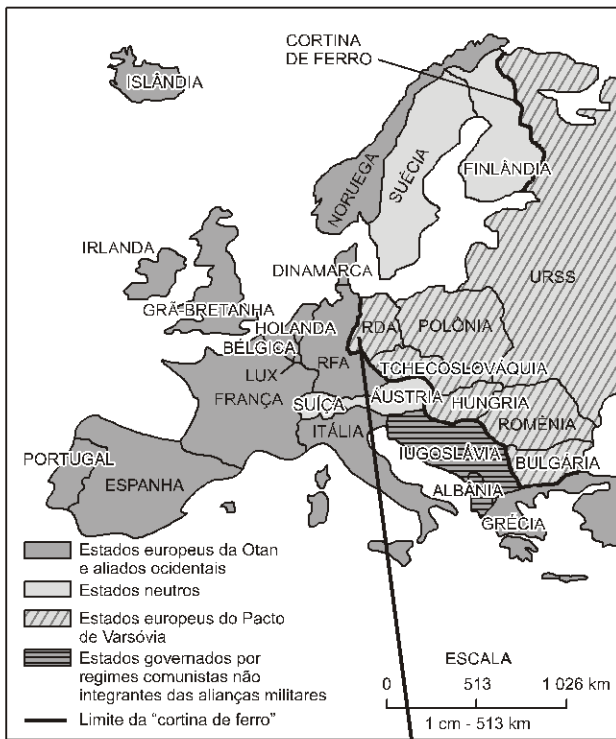
No mapa, o tamanho de cada país é proporcional ao apoio financeiro recebido dos Estados Unidos.

Na região do mundo onde estão localizados os quatro países mais beneficiados pelo apoio financeiro dos Estados Unidos, o principal motivo utilizado para a concessão desse apoio é de natureza:

- a) cultural
- b) geopolítica
- c) humanitária
- d) demográfica

Exercício 8

(Uepb 2011) Observe com atenção o mapa da Europa



Nele está representado(a)

- a nova ordem mundial, multipolar, que não tem apenas os Estados nacionais como agentes organizadores do cenário nacional, mas também as grandes corporações multinacionais.
- o mundo bipolar da Guerra Fria, que se delineou logo após a Segunda Guerra Mundial e perdurou até 1989 com a queda do muro de Berlim, o que simbolizou o fim da divisão leste/oeste entre as duas potências militares.
- a nova divisão internacional do trabalho, na qual os países do leste europeu deixam de comercializar prioritariamente com a Rússia e ampliam suas exportações com a Europa Ocidental.
- a regionalização do mundo entre países ricos representados pelo Norte industrializado e os países pobres como sinônimos de Sul subdesenvolvido.
- a União Europeia, que teve início em 1951 com a Comunidade Europeia do Carvão e do Aço, da qual faziam parte seis países, e entrou oficialmente em vigor em 1992 com doze países membros.

Exercício 9

(G1 - ifal 2016) Atualmente a globalização está presente na vida de todos. Ela atua de modo marcante na ciência, na economia, na política, na urbanização etc. Em se tratando de economia, a globalização foi vital para a internacionalização do capitalismo

financeiro, para o acesso a produtos e a culturas mundiais. Quando o assunto é urbanização, lá está presente a unificação de padrões de comportamento, também encontrados nas sociedades rurais graças aos avanços tecnológicos e de comunicação desenvolvidos e disponibilizados ao longo dos anos. Apesar de o Brasil se beneficiar com a globalização, também sofre com as desigualdades econômicas por ela proporcionadas. Marque a seguir a alternativa que, respectivamente, melhor demonstra um aspecto positivo e um aspecto negativo da globalização no Brasil.

- Integração do país ao mercado financeiro internacional e o acesso imediato à informação pela rede de computadores.
- Incentivo ao desenvolvimento industrial brasileiro e a geração em larga escala de emprego e renda.
- Desvalorização da cultura regional e prosperidade econômica nacional.
- Possibilidade de intercâmbio científico com outros países e a geração de desemprego em razão da baixa qualificação profissional e da concorrência desigual entre a indústria nacional brasileira e as multinacionais.
- Baixo número de desempregados e elevado índice de analfabetismo no Nordeste do Brasil.

Exercício 10

(G1 - ifce 2016) Sobre o processo de globalização, é correto afirmar-se que



- tem relação direta com o socialismo, por isso suas raízes estão no período das grandes navegações.
- inicia-se com o fim da bipolaridade e surgimento da multipolaridade e desde então eliminou as disparidades regionais promovendo no mundo o que alguns autores chamam de aldeia global.
- significa a absorção igualitária de novas tecnologias por toda parte do planeta.
- destaca-se com o fim da Guerra Fria e com a consolidação do capitalismo. Tem como meta a integração econômica, cultural, social e política e favorece a criação de novos mercados, bem como a mercantilização da economia.
- tem como característica única a expansão tecnológica.

Exercício 11

(Acafe 2020) "A Globalização é, de certa forma, o ápice do processo de internacionalização do mundo capitalista. Para entendê-la, como, de resto, a qualquer fase da história, há dois elementos fundamentais a levar em conta: o estado das técnicas e o estado da política".

SANTOS, Milton. *Por uma outra globalização: do pensamento único à consciência universal*. 19. ed. Rio de Janeiro: Record, 2010. p. 23.

Sobre o processo e o período histórico referente ao fragmento do texto, marque **V** para as afirmações **Verdadeiras** e **F** para as **Falsas** e assinale a alternativa com a sequência **correta**:

- () No fim do Século XX, as tecnologias da informação e comunicação tiveram um grande avanço. O geógrafo Milton Santos afirmou que a sociedade atual vive em um meio técnico-científico-informacional.
- () O período posterior à Segunda Guerra Mundial caracterizou-se pela expansão das empresas multinacionais e dos investimentos de países desenvolvidos em outras regiões do planeta. Os países escolhidos para os investimentos são aqueles que oferecem, entre outros fatores, mão-de-obra barata, mercado consumidor e matéria-prima abundante.
- () Os investimentos em pesquisa e desenvolvimento (P&D) estão igualmente distribuídos pelo espaço geográfico mundial. A globalização faz com que haja uma competição em pé de igualdade entre os países no que diz respeito ao desenvolvimento de tecnologias de ponta.
- () O fluxo de capitais entre os países ocorre, principalmente, em função de investimentos estrangeiros, remessas de lucros de empresas multinacionais, pagamentos de licenças por uso de tecnologia, empréstimos e pagamentos de juros de dívidas externas e envio de rendimentos de trabalhadores que vivem fora de seu país de origem.
- () A intensificação do fluxo de capitais, informações, pessoas e mercadorias estruturaram um espaço geográfico em rede, estabelecendo ligações entre pontos do território em níveis locais, regionais, nacionais e global.

A sequência correta, de cima para baixo, é:

- a) V - V - F - V - V
b) V - F - F - V - F
c) F - V - V - F - V
d) V - F - V - V - V

Exercício 12

(Fgv 2020) *Como as democracias morrem*

Desde o final da Guerra Fria, a maior parte dos colapsos democráticos não foi causada por generais e soldados, mas pelos próprios governos eleitos. Líderes eleitos subverteram as instituições democráticas em países como Venezuela, Hungria, Nicarágua, Filipinas, Rússia e Turquia, entre outros.

O retrocesso democrático hoje começa nas urnas. Não há tanques nas ruas. Constituições e outras instituições nominalmente democráticas restam vigentes e as pessoas ainda votam. Autocratas eleitos mantêm um verniz de democracia enquanto corroem a sua essência. Muitos esforços do governo para subverter a democracia são "legais", no sentido de que são aprovados pelo Legislativo ou aceitos pelos tribunais. Eles podem até mesmo ser retratados como esforços para aperfeiçoar a democracia – tornar o Judiciário mais eficiente, combater a corrupção ou limpar o processo eleitoral. Os jornais continuam a ser publicados, mas são intimidados e levados a se autocensurar. A erosão da democracia é, para muitos, quase imperceptível.

Adaptado de LEVITSKY, Steven e ZIBLATT, Daniel. *Como as democracias morrem*. Rio de Janeiro: Zahar, 2018, p. 17-18.

A partir do texto, relacione os indicadores do processo de erosão endógena das democracias aos exemplos apresentados.

1. Rejeição das regras do jogo democrático.
2. Negação da legitimidade dos oponentes políticos.
3. Redução das liberdades civis e da mídia.
4. Controle das instituições, como o Judiciário.

() Em 2018, o primeiro-ministro húngaro Viktor Orbán modificou as normas de nomeação para a Suprema Corte, garantindo uma maioria de juízes alinhados a seu partido e com jurisdição sobre a lei eleitoral e o direito de manifestação.

() Em 2016, no último debate presidencial, Donald Trump declarou que não reconheceria o resultado das urnas, caso a oponente vencesse as eleições.

() A partir de 2016, o governo Erdoğan, na Turquia, usou a tentativa de golpe militar contra seu governo para antecipar as eleições e reprimir a oposição de jornalistas, funcionários públicos e políticos.

() A partir de 2017, Nicolás Maduro obteve, na Assembleia Nacional Constituinte, a cassação dos principais partidos políticos adversários e indiciou seus opositores como traidores da Venezuela.

Assinale a sequência correta, de cima para baixo.

- a) 2, 3, 1 e 4.
b) 4, 1, 3 e 2.
c) 1, 4, 2 e 3.
d) 2, 4, 3 e 1.

e) 4, 3, 2 e 1.

Exercício 13

(G1 - ifpe 2017) **GLOBALIZAÇÃO, UM FENÔMENO ESPECIALMENTE HOSTIL PARA OS FRANCESES**

Paris, 4 Mai 2017 (AFP) - Emmanuel Macron e Marine Le Pen encarnam, respectivamente, os papéis de paladino [defensor] e inimiga da globalização, um fenômeno ao qual a grande maioria dos franceses é hostil e um tema-chave da campanha eleitoral das eleições presidenciais.

"A globalização selvagem põe em risco nossa civilização", adverte a ultradireitista Le Pen, candidata ao segundo turno no próximo domingo (7).

A abertura ao comércio mundial é uma "oportunidade formidável", defende seu adversário e favorito nas pesquisas, o centrista Macron.

Segundo uma pesquisa de opinião publicada em fevereiro, 74% dos consultados são hostis à globalização, o que faz da sociedade francesa uma das mais reticentes a este fenômeno mundial. [...].

AFP. *Globalização, um fenômeno especialmente hostil para os franceses*. Portal UOL Economia. Disponível em: <<https://economia.uol.com.br/noticias/afp/2017/05/04/globalizacao-um-fenomeno-especialmente-hostil-para-os-franceses.htm>>.

Acesso: 09 de maio de 2017 (Adaptado).

A globalização, atual fase de expansão do sistema capitalista, apresenta aspectos positivos e negativos que provocam importantes alterações na economia, sociedade, cultura e política mundiais. São características do processo de globalização:

- I. menor atuação de empresas transnacionais e multinacionais;
- II. expansão de capitais especulativos;
- III. fortalecimento dos Estados Nacionais;
- IV. difusão da cultura e modo de vida estadunidenses;
- V. aumento do fluxo de informações.

Estão CORRETAS apenas as afirmações:

- a) I, II e III.
- b) II, IV e V.
- c) III e IV.
- d) I e V.
- e) II, III e IV.

Exercício 14

(Uerj 2015)

ROTAS DE AVIÕES RECRIAM MAPA DO MUNDO



Um consultor canadense, Michael Markieta, desenvolveu um sistema de visualização das rotas de tráfego aéreo ao redor do globo que recria o mapa-múndi, como mostra a imagem. Atualmente, há 58 mil rotas aéreas cruzando os céus nos cinco continentes. Na imagem revelada por Markieta, não causa surpresa o fato de que os pontos mais densos aparecem em áreas onde muitas rotas seguem o mesmo trajeto e têm como destino as maiores cidades do mundo.

Adaptado de vegakosmonaut.blogspot.com.br, 11/06/2013

Nessa representação das rotas do transporte aéreo comercial, o mapa ilustra a seguinte mudança na geopolítica internacional contemporânea:

- a) aculturação de áreas periféricas
- b) metropolização de regiões rurais
- c) globalização de países desenvolvidos
- d) conurbação de aglomerações populacionais

Exercício 15

(Uern 2015) A globalização tem sido viabilizada pela expansão das multinacionais e a dependência econômica mundial. Sobre esse processo, assinale a afirmativa INCORRETA.

- a) Muitos recursos tecnológicos produzidos na modernidade estão estampados nas paisagens dos lugares tais como no campo e principalmente nas cidades.
- b) A maior parte da produção técnico-científica está concentrada nos países desenvolvidos, porém, nas últimas décadas, vem ocorrendo uma fragmentação do processo produtivo mundial.
- c) As transmissões de informações em tempo recorde e os avanços dos meios de transporte possibilitaram um incremento de volume nos negócios entre empresas e governos de diferentes países.
- d) A aplicação de inovação tecnológica no processo produtivo vem estafando diferentes setores econômicos e diminuindo a impregnação de elementos científicos e informacionais no espaço mundial.

Exercício 16

(Fgv 2015) *No processo de mundialização [globalização] observa-se uma difusão de normas padronizadas seja no processo político, seja na produção industrial, seja nas trocas monetárias, etc. Essas normas poderiam ser comparadas a uma forma de linguagem simplificada. [...]*

Blandine Ripert. Mundo (s). As « culturas » entre a uniformização e a fragmentação.

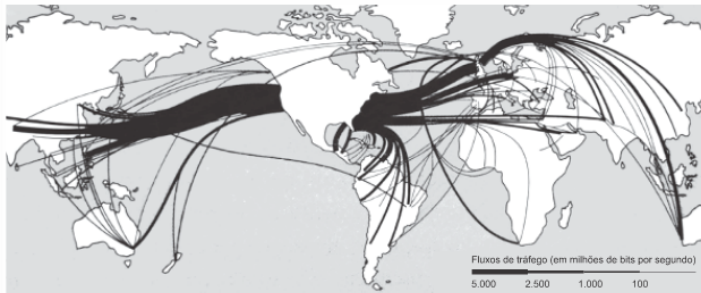
In J, Lévy. *L' Invention du Monde. Sciences Po. Les Presses.* 2008, p. 188

Esse aspecto da globalização se justifica pela necessidade de

- a) eliminarem-se as diferenças culturais, verdadeiro obstáculo para que o processo de globalização se torne de fato um processo mais real.
- b) pressionar e transformar as leis e normas dos países menos desenvolvidos que ainda resistem a integrar-se ao processo de globalização.
- c) dificultar a circulação das mercadorias de países de cultura e regras diferentes, como a China, e quebrar sua força de concorrência no mundo global.
- d) facilitar e permitir, segundo os padrões de uma economia de escala, uma simplificação e maior rapidez nas trocas comerciais.
- e) facilitar o desenvolvimento que a globalização gera, retardado pela diversidade cultural que mantém vários povos do mundo numa condição de atraso.

Exercício 17

(Fuvest 2020) É de grande relevância aqui o fato de que uma grande proporção do trânsito de internet do mundo passa pelos Estados Unidos (...). Isso significa que a NSA (a agência de segurança nacional dos EUA) poderia acessar uma quantidade alarmante de ligações telefônicas simplesmente escolhendo as instalações certas. O que é ainda mais inacreditável: essas instalações não passam de alguns prédios, conhecidos como "hotéis de telecomunicação", que hospedam os principais centros de conexão de internet e telefonia do planeta todo.



Stephen Graham, *Cidades Sitiadas: o novo urbanismo militar*, 2016. Adaptado.

A respeito da configuração espacial e geopolítica retratada no excerto e no mapa, é possível afirmar que

- essa é a razão do grande déficit econômico dos Estados Unidos atualmente, uma vez que a maior parte dos negócios e transações é feita pela internet.
- essa situação explica o fato de que os Estados Unidos tenham, atualmente, a maior dívida pública do planeta, já que os custos com o tratamento de dados são muito altos.
- em um mundo cada vez mais dependente dos fluxos imateriais de informação, a presença de objetos técnicos fixos torna-se irrelevante para a posição geopolítica dos Estados Unidos.
- o mapa representa, por meio do “trânsito de internet” e do fluxo de “ligações telefônicas”, uma globalização que integrou completamente tanto os norte-americanos quanto as populações da África.
- a presença de fixos, como algumas instalações de armazenagem e conexão, influencia a orientação de fluxos e dá aos EUA uma posição de destaque no contexto geopolítico.

Exercício 18

(Fac. Albert Einstein - Medicina 2016) *"A tal ideologia globalitária, quase sem resistências, vem tentando demonstrar que, com a queda do Muro de Berlim e o fim do chamado mundo bipolar, o espaço político e econômico tornou-se mais homogêneo, menos conflitivo, havendo concordância a respeito das tendências evolutivas da economia e das sociedades".*

(Luiz Gonzaga Belluzzo. *A Guerra do Brasil*, São Paulo: Textonovo, 2006. p. 25)

O autor se refere a uma interpretação da chamada nova ordem mundial. Sobre essa ordem é correto afirmar que

- vivenciamos a globalização que tornou as relações comerciais internacionais bem mais harmoniosas, com a eliminação quase total dos obstáculos alfandegários.
- assistimos ao fim da geopolítica, que é aquela ação dos países de colocarem à frente de todos os interesses gerais, seus próprios interesses econômicos e estratégicos.
- na globalização há mais liberdade para a circulação de capitais no mundo, porém a falta de controles eficazes tem gerado situações de instabilidade econômica importantes.
- o fim da ordem bipolar significou o fim do equilíbrio militar que mantinha certa paz no mundo; a consequência é o aumento significativo de conflitos e de guerras regionais.

Exercício 19

(Fmp 2018) Analise os Textos I e II sobre o processo de globalização.

Texto I

O que chamamos de globalização hoje em dia é o resultado no momento atual de um processo que se iniciou com a conquista das Américas e a expansão dominante do Ocidente europeu sobre o planeta. A primeira modernização no princípio do século XVI é a globalização dos micróbios, porque os micróbios europeus, como a tuberculose e outras enfermidades chegaram às Américas ao longo dos anos. Porém, os micróbios americanos, como os da sífilis, chegaram à Europa. Esta é a primeira unificação mundial danosa para todos.

MORIN, E. *As duas globalizações*. Porto Alegre: Sulina, 2002, p. 39.

Texto II

O primeiro semestre do ano de 2009 foi marcado pela dispersão de um novo vírus. O H1N1, responsável pela doença que foi popularmente batizada de Gripe Suína (tendo também recebido as alcunhas de Gripe Mexicana e gripe A), em virtude da linhagem responsável pelo surto atual ter surgido em criação de porcos e reunir genes de vírus que infectam suínos, aves e humanos. A Organização Mundial de Saúde declarou que o planeta estava enfrentando uma pandemia, devido à transmissão intercomunitária do vírus e à expansão geográfica dos casos.

LESSA, A. *Globalização das doenças*. Conhecimento Prático. Geografia, n.27, São Paulo: Escala Educacional, 2009, p. 46. Adaptado.

A análise comparada dos Textos I e II conduz à seguinte conclusão:

- Os Textos I e II abordam temáticas díspares, ao se referirem a doenças provocadas por agentes patológicos distintos.
- O segundo texto atualiza o primeiro, ao especificar nova expansão das enfermidades.
- O primeiro texto contradiz o segundo, ao utilizar uma escala geográfica mais restrita.
- O primeiro texto retifica o segundo, ao mencionar os nomes científicos das doenças.
- O segundo texto desconsidera o primeiro, ao responsabilizar a Organização Mundial da Saúde pela pandemia.

Exercício 20

(Uece 2020) Escreva V ou F, conforme seja verdadeiro ou falso o que se afirma a seguir a respeito da dimensão geográfica e geoeconômica da globalização.

- () Há uma crescente interdependência dos mercados, resultante da abertura das economias nacionais e do avanço tecnológico dos meios de transportes e comunicações, o que tornou a circulação mais rápida, intensificando os fluxos de mercadorias, capitais e informações.
- () O novo espaço industrial se caracteriza por funcionar em rede e, embora a gestão empresarial seja mantida nas principais metrópoles globais, a produção está em processo de

desconcentração com reconcentração em regiões e países de mão de obra barata.

() A dimensão cultural da globalização provoca uma certa padronização dos costumes, tendo como referência os hábitos das economias capitalistas centrais, porém, não sem resistências e readequações em alguns países.

() Há um fortalecimento das corporações transnacionais, pois estas assumem várias funções que antes eram exercidas pelos Estados, como o controle dos meios de comunicação e energia, eliminando as fronteiras políticas e econômicas dos Estados Nacionais.

Está correta, de cima para baixo, a seguinte sequência:

- a) V, V, V, F.
- b) F, V, F, V.
- c) F, F, V, F.
- d) V, F, F, V.

Exercício 21

(G1 - ifce 2016) Sobre a Nova Ordem Mundial, assinale (V) para as sentenças verdadeiras e (F) para as sentenças falsas.

- () Corresponde ao fim dos conflitos Norte \times Sul e ao surgimento dos conflitos Leste \times Oeste.
- () Tem como característica o aparecimento de novos centros de poder econômico, como Japão e Alemanha.
- () Sua característica principal é a bipolaridade.
- () Significa o plano geopolítico internacional das correlações de poder e força entre os Estados Nacionais após o fim da Guerra Fria.

A sequência está correta em

- a) F, V, F, V.
- b) V, V, V, F.
- c) V, F, V, F.
- d) V, V, F, F.
- e) F, F, V, V.

Exercício 22

(Uel 2011) O mapa representa a configuração do mundo após os anos de 1990.



Com base no mapa e nos conhecimentos sobre o tema, é correto afirmar:

- a) Na nova ordem geopolítica mundial, existem vários polos ou centros de poder, comandados por três grandes potências mundiais de poderio econômico, tecnológico e político-diplomático: EUA, Japão e União Europeia.
- b) Na nova ordem geopolítica mundial, é evidente a competição militar entre Norte/Sul e Leste/Oeste, comandados por três grandes potências mundiais (EUA, Japão e a União Europeia).
- c) A nova ordem geopolítica mundial emergiu com o fortalecimento da bipolaridade, da Guerra Fria e dos conflitos Leste/Oeste, isto é, socialismo real versus capitalismo.
- d) A nova ordem geopolítica mundial é marcada pela divisão Norte/Sul e por um centro econômico, comercial e tecnológico (EUA), ficando o Japão e a União Europeia como áreas periféricas.
- e) A nova ordem geopolítica mundial divide o mundo em Norte e Sul e é comandada pela União Europeia, que recebe apoio do Japão, dos EUA, da CEI, da China e do Oriente Médio, os quais são áreas periferizadas.

Exercício 23

(G1 - ifce 2019) Há uma economia global caótica e obsessivamente voltada para a engrenagem financeira. A dimensão produtivista e empregatícia, tradicional ao desenvolvimento do capitalismo, vem sendo deixada à deriva, alterando as relações clássicas entre o capital e o trabalho em favor das novas tensões entre os que têm trabalho e emprego e os que não os têm.

(SARAIVA. 2012. p. p. 79 e 80).

Sobre o assunto retratado no trecho acima, é correto afirmar-se que

- a) faz parte da atual globalização a desigualdade social, sendo necessária para alcançar uma sociedade do tipo planificada.
- b) o capitalismo, em pleno século XXI, não consegue eliminar as desigualdades sociais e econômicas entre as pessoas.
- c) a desigualdade gerada pelo capitalismo é resultado da submissão do mesmo aos países emergentes após o fim da Guerra Fria.
- d) “os que têm trabalho e emprego e os que não têm” são resultado exclusivamente do desemprego conjuntural.
- e) a “engrenagem financeira” citada no texto pode ser entendida pela disputa ideológica presente ainda no século XXI.

Exercício 24

TEXTO PARA A PRÓXIMA QUESTÃO

A partir da leitura e análise do texto, responda a(s) questão(ões).

UM MOMENTO DE DESORDEM MUNDIAL

“Neste começo de século, assistimos a uma reformulação de fronteiras e influências político-econômicas no mundo. Essa nova forma de organização mundial, baseada na existência de redes, fluxos e conexões, exige mudanças no método [...] de agrupar e separar territórios. [...]

Essa nova era é marcada pelo advento da globalização e da internet, que permitiu maior integração internacional e criou um novo espaço [...], o “território-mundo”, composto de uma sociedade mundial que compartilha os mesmos valores. A integração cada vez maior dos Estados e a soberania de um país

através de um grupo [...] são demonstradas pela força dos blocos econômicos, que estabelecem uma concorrência acirrada entre si para manter a influência sobre seus parceiros comerciais. [...]

Identifica-se um novo movimento de regionalização do espaço contemporâneo a partir de redes integradas ilegais de poder, como o tráfico de drogas e o terrorismo globalizado [...] e a reconfiguração dos territórios devido a mudanças nas relações de poder e ao hibridismo cultural”.

(Adaptado de Ciência Hoje On-line. In: <http://cienciahoje.uol.com.br/resenhas/um-momento-de-desordem-mundial>. Acesso em: 23/08/14.)

No final da década de 80, teve fim a bipolarização, trazendo ao espaço mundial uma regionalização que configura novas áreas de poder e um intenso processo de mudanças nas relações socioeconômicas entre os países. Conforme o texto, algumas implicações marcam o surgimento de uma **nova ordem mundial**. Nesse sentido, é correto afirmar que:

- a) a ordem multipolar evidencia novos atores sociais que, no processo produtivo, desempenham funções principalmente comerciais, promovendo o fortalecimento e avanço do sistema capitalista no espaço mundial.
- b) no período pós Guerra Fria, vários países latino-americanos foram incentivados pelos E.U.A a formar blocos econômicos mundiais para fazer frente à hegemonia sociopolítica de Cuba sobre o espaço mundial.
- c) no início da década de 90, o mundo tornou-se multipolar, momento no qual emergiram várias potências econômicas, o que homogeneizou as relações de poder das superpotências nas diversas áreas de influência no espaço mundial.
- d) na nova ordem mundial, os blocos econômicos regionais se apresentam como uma forma de resistência frente ao avanço do mundo globalizado e aos acordos políticos que priorizam o fortalecimento dos países subdesenvolvidos.
- e) a queda do Muro de Berlim representou o fim da era bipolar, desencadeando a extinção das fronteiras, dos conflitos étnicos, políticos e econômicos em função da mundialização de uma sociedade.

Exercício 25

(Unicamp 2020) No período da Guerra Fria, os conflitos geopolíticos implicavam riscos nucleares e ataques físicos a infraestruturas como estradas, redes elétricas ou gasodutos. Hoje, além dessas implicações, a *Ciber guerra* ou Guerra Fria Digital

- a) representa uma possibilidade real de interferência em sistemas informacionais nacionais, mas seu uso efetivo mantém-se apenas como uma ameaça.
- b) baseia-se na capacidade integrada de sistemas computacionais espionarem governos antagônicos, com o objetivo de manipular informações de todo tipo.
- c) envolve o uso de *softwares (malwares)* e programas robôs para invadir redes sociais e computadores, mas nunca interferiu em processos eleitorais.
- d) visa ao controle da informação como uma forma de poder político, mas inexiste, no mundo, cibercomandos, ou seja, a quarta força armada.

Exercício 26

(Upe-ssa 3 2017) Analise o texto a seguir:

O espaço se globaliza, mas não é mundial como um todo, senão como metáfora. Todos os lugares são mundiais, mas não há um espaço mundial...

Milton Santos, 1993.

Ele caracteriza a globalização como

- a) possibilidade de transformar suas virtudes locais, de modo a evitar a interação com as ações solidárias hierárquicas.
- b) diminuição do poder das empresas transnacionais mediante práticas, como a formação de cartéis, trustes e holdings.
- c) fenômeno revelador de lugares que são, ao mesmo tempo, objetos de uma razão global e de uma razão local, convivendo dialeticamente.
- d) aumento do poder dos Estados nacionais em relação aos conglomerados transnacionais.
- e) conjunto dissociável de sistemas de objetos naturais ou fabricados e de sistemas de ações.

Exercício 27

(Uft 2008) Os conflitos mundiais da atualidade ocorrem, também, em função do domínio dos fluxos do comércio internacional, onde o intercâmbio entre países do capitalismo central e periférico são extremamente desiguais.

Tomando por base o texto é INCORRETO afirmar que:

- a) A formação dos blocos econômicos mundiais não proporcionou um crescimento equitativo para todos os países membros.
- b) A divisão internacional do trabalho influencia no intercâmbio do comércio mundial.
- c) Os países do capitalismo central estabelecem trocas desiguais com o mundo periférico, principalmente, pelo domínio científico-tecnológico.
- d) Os centros de poder, que compõem a nova ordem mundial, possuem um ator hegemônico, qual seja: os Estados Unidos, que controlam e comandam todos os demais países, evidenciando a monopolaridade da nova ordem mundial.

Exercício 28

(G1 - ifsp 2016) Segundo o geógrafo Milton Santos, “a globalização é, de certa forma, o ápice do processo de”:

(Fonte: SANTOS, Milton. *Por uma outra globalização*. Rio de Janeiro: Record, 2004, p. 23).

- a) prevenção de crises do capitalismo.
- b) popularização do capitalismo.
- c) internacionalização do mundo capitalista.
- d) regionalização fechada do capitalismo.
- e) economia segura do sistema mundial capitalista.

Exercício 29

(Uerj 2016) As imagens noturnas feitas por satélites revelam a distribuição espacial do consumo de energia elétrica, permitindo identificar diferenças importantes entre as sociedades humanas, como no exemplo abaixo.



Adaptado de news.nationalgeographic.com.

A imagem indica diferentes padrões espaciais do consumo de energia entre as regiões norte e sul da Península Coreana. Entre essas regiões, tal diferença é explicada, principalmente, por seus respectivos níveis de:

- a) poderio militar
- b) democracia política
- c) contingente populacional
- d) desenvolvimento econômico

Exercício 30

(Unesp 2018) A imigração de muçulmanos para diferentes países do mundo tem gerado um fenômeno conhecido por islamofobia, ou seja, sentimento de aversão aos fiéis ao islamismo. Esse sentimento de aversão é legitimado

- a) pelas resoluções da ONU, que oneram os países responsáveis pela ajuda humanitária.
- b) pela velha ordem mundial, cuja origem se relaciona à Guerra Fria.
- c) pela guerra ao terror, cuja origem remete à Doutrina Bush.
- d) pelas leis trabalhistas arcaicas, que impedem o imigrante de trabalhar legalmente.
- e) pelas cotas de imigração, cuja origem remonta ao Tratado de Roma.

Exercício 31

(Ueg 2011) Compreender a estrutura social do mundo atual é importante para conhecer as relações entre as sociedades. Vivemos em um sistema mundial no qual as viagens, a comunicação instantânea, a organização em redes, os fluxos de capital e mercadorias acabam por criar uma estrutura social e uma cultura mundial. Essa nova ordem mundial também encerra poder e desigualdade.

Considerando esta afirmativa, conclui-se que

- a) a nova ordem mundial vem se apresentando como uma realidade mais complexa, marcada por disparidades entre países ricos e pobres, norte *versus* sul, rivalidades religiosas, choques de interesses entre nações.
- b) a ordem mundial, ao longo de todo o século XX, foi pautada pela bipolaridade, liderada pelos Estados Unidos e pela União Soviética, e se esgotou com a ruptura do modelo socialista, no final dos anos oitenta.
- c) o poderio militar e econômico promove o reordenamento da ordem mundial; a importância dos recursos naturais vem

aumentando e se tornando essencial para a hegemonia de um país.

d) o surgimento de organizações internacionais e a criação dos blocos econômicos possibilitaram a promoção da paz no mundo, bem como a relativização da pobreza e da desigualdade entre os povos.

Exercício 32

(Unesp 2009) No cenário da Nova Ordem Mundial, as questões se tornam cada vez mais globais e cada vez menos estritamente locais. Esse cenário foi construído a partir de modificações filosóficas que influenciaram também as questões ambientais, de grande interesse dos cidadãos.

Assinale a alternativa que expressa essa nova filosofia.

- a) Consciência de que a destruição ambiental traz consequências a todo o planeta, e não somente a uma determinada região ou país.
- b) Intensificação da rede de fluxos que conecta os lugares, objetivando um maior uso do meio ambiente.
- c) Utilização dos elementos do meio ambiente de maneira compartilhada dentro da sociedade.
- d) Não utilização dos recursos naturais a fim de assegurar matéria-prima para as gerações futuras.
- e) Consumo de bens oriundos apenas de matérias-primas sintetizadas em laboratório, objetivando a conservação da natureza.

Exercício 33

(Fgv 2019) A tecnologia, a globalização e as mudanças climáticas são forças planetárias que estão sendo aceleradas ao mesmo tempo. Elas atuam direta ou indiretamente umas em relação às outras.

Sobre a atuação das forças acima citadas, analise as afirmações a seguir.

- I. O uso das novas tecnologias digitais e os projetos de sistemas inteligentes devem permitir intervenções que possibilitem a restauração e a regeneração do ambiente natural.
- II. As assimetrias de poder são equilibradas pelo compartilhamento da tecnologia e das informações que, em contexto global, tende a suprimir a segregação digital.
- III. As tecnologias digitais e a infraestrutura de comunicação global alteram os conceitos tradicionais de trabalho e de remuneração, possibilitando o surgimento de novos tipos de empregos flexíveis e transitórios.

Está correto o que se afirma em

- a) I e II, somente.
- b) II, somente.
- c) I e III, somente.
- d) I, II e III.
- e) II e III, somente.

Exercício 34

(Ufpr 2021) Lugares podem afetar outros lugares por meio da difusão ou propagação espacial de fenômenos no espaço e no tempo, que assumem a forma de ideias, inovações, produtos,

novas tecnologias, traços culturais e doenças contagiosas. A respeito da difusão ou propagação espacial de fenômenos entre os lugares, assinale a alternativa correta.

- a) O futebol é uma inovação peculiar que desfruta de igual grau de prestígio nos países que o recepcionaram, além de ocupar a posição de esporte mais disseminado e praticado no mundo, desde a sua difusão pelos ingleses há mais de 130 anos.
- b) A expansão e a consolidação de doenças como a dengue não são impedidas pelas condições climáticas (combinação da altitude com temperaturas baixas), mas sim pela baixa densidade demográfica e falta de integração rodoviária da região.
- c) Ao se mudarem para o meio urbano, os migrantes de áreas rurais levam consigo seu modo de vida e seus costumes culturais, que são difundidos e compartilhados por um número crescente de pessoas no local de destino, assegurando a reprodução de culturas tradicionais.
- d) A propagação do islamismo é um exemplo de caso influenciado pela hierarquia dos lugares, isto é, espalhou-se primeiro para as grandes cidades, depois para locais de tamanho intermediário e finalmente para as pequenas cidades e áreas rurais.
- e) A disseminação de novas maneiras de vestir e de novos modismos musicais guarda uma relação com o modo como as pessoas se comportam com relação à localização relativa do lugar que habitam.

Exercício 35

(G1 - ifsul 2016) “[...] funciona como uma referência para a ideia de que se formou ‘a comunidade mundial’, concretizada com as realizações e as ‘possibilidades de comunicação, informação e fabulação abertas pela eletrônica’, estando em curso ‘a harmonização e a homogeneização progressivas’, numa época em que se ‘empacotam e vendem-se as informações’”.

SPOSITO, Eliseu Savério. *Geografia e Filosofia: Contribuição para o ensino do pensamento geográfico*. São Paulo: Editora UNESP, 2004.

Qual característica da Globalização o texto está mencionando?

- a) Aldeia global.
- b) *Joint venture*.
- c) Empresa mundial.
- d) Império das marcas.

Exercício 36

(Ibamecrj 2009) A chamada Nova Ordem Mundial, que marcou o final do século XX, é caracterizada por uma série de importantes acontecimentos, EXCETO:

- a) A queda do Muro de Berlim.
- b) A implosão da União Soviética.
- c) A redemocratização da Europa Oriental.
- d) A reunificação da Coreia.
- e) O fim da Guerra Fria.

Exercício 37

TEXTO PARA A PRÓXIMA QUESTÃO:
Leia o texto para responder às questões.

O comércio internacional tem sido marcado por uma proliferação sem precedentes de acordos preferenciais de comércio regionais, sub-regionais, inter-regionais e, em especial, bilaterais (denominados Acordos Preferenciais de Comércio – APC). Atualmente, são poucos os países que ainda não fazem parte desses acordos. Com o impasse nas negociações da Rodada Doha da OMC, a alternativa das principais economias do mundo, como Estados Unidos, União Europeia e China, foi buscar a celebração de APC como forma de consolidar e ter acesso a novos mercados. O receio de boa parte dos países desenvolvidos, de economias em transição e em desenvolvimento de perderem espaço em suas exportações levou-os a aderir maciçamente aos APC.

(Umberto Celli Junior e Belisa E. Eleoterio. “O Brasil, o Mercosul e os acordos preferenciais de comércio”. In: Enrique Iglesias *et al.* (orgs.). *Os desafios da América Latina no século XXI*, 2015.)

(Unesp 2016) Considerando o contexto dinâmico apresentado pelo excerto, compreende-se a proliferação dos acordos preferenciais de comércio como resultado

- a) dos pactos internacionais de mútuo desenvolvimento econômico, o que leva a investimentos na qualificação da mão de obra em países periféricos.
- b) do endividamento interno dos países subdesenvolvidos, o que provoca forte pressão internacional pela comercialização de seus produtos primários.
- c) da crise de superprodução dos antigos centros industriais, o que demanda rápidos acordos para evitar fechamentos de empresas e demissões em massa.
- d) do enfraquecimento dos antigos blocos econômicos, o que provoca divergências políticas e econômicas em setores produtivos estratégicos de cada país.
- e) da globalização da economia, o que alimenta uma crescente integração e uma relativa uniformização das condições de existência das sociedades.

Exercício 38

(Ucs 2015) O processo de industrialização brasileiro pode ser dividido em quatro fases, sendo a primeira, entre 1808 a 1929, caracterizada como pequena e insuficiente; a segunda, entre 1930 a 1955, caracterizada pela industrialização nacionalista; a terceira, entre 1956 a 1990, caracterizada pela industrialização impulsionada por capitais estatais, nacional e transnacionais e, a quarta fase, a partir dos anos 1990. Sobre esta quarta fase, assinale a alternativa correta.

- a) Consequência de uma realocação geográfica do capitalismo mundial, típica do processo de globalização, que culminou em significativo crescimento das trocas comerciais entre os países, conduzindo a um importante incremento dos investimentos das empresas transnacionais nos países subdesenvolvidos emergentes, como o Brasil.
- b) Caracterizada pelas atividades econômicas dispersas pelo território nacional, voltadas quase que integralmente para o mercado externo, com eliminação das barreiras alfandegárias, importação de máquinas e equipamentos, comprados principalmente da Inglaterra, culminando numa dependência externa, que se expressa na formação dos blocos econômicos.

c) Acelerado ritmo de industrialização em virtude da crise cafeeira, baseia-se no capital nacional de diversos setores, cuja força de trabalho é oriunda principalmente do campo, promovendo o aumento das cidades e metrópoles, bem como do mercado consumidor, em parte, subsidiado pelo capital estatal, que modernizou a infraestrutura e multiplicou as indústrias de base.

d) Caracterizado, como o que inegavelmente alguns autores denominam de industrialização tardia, se comparada àquela verificada em fins do século XVIII, no Reino Unido, que liderou a Revolução Industrial. Apesar da diferença no tempo e espaço, essa fase em nada perde para o processo de industrialização verificado nos países mais industrializados.

e) Fase da construção das grandes usinas hidrelétricas que impulsionam e abastecem a energia motora da indústria brasileira. É marcada pelo grande estímulo às indústrias pesadas, como as naval e mecânica. Para atrair investimentos estrangeiros e dinamizar a indústria, promoveu-se a abertura das fronteiras ao capital internacional mediante incentivos fiscais e tarifários.

Exercício 39

(Uftm 2012) A ordem mundial baseada na bipolaridade foi desmontada durante os anos 1990. Com o término da Guerra Fria, compôs-se um novo cenário político, econômico e social, no qual

- a) as zonas de tensão foram controladas pelas políticas monetárias da União Europeia.
- b) as chamadas forças de paz da Organização das Nações Unidas (ONU) realizaram, junto ao exército russo, operações militares nos países aliados ao regime soviético.
- c) os conflitos étnico-culturais e religiosos deram lugar ao enfrentamento entre Estados nacionais.
- d) a nova ordem mundial restabeleceu um período de paz e solidariedade entre os povos.
- e) os conflitos deixaram de ter a conotação ideológica capitalismo *versus* socialismo.

Exercício 40

(G1 - cftce 2008) Em relação ao mundo político no final do século XX e à nova ordem mundial, é incorreta a afirmativa:

- a) A guerra fria foi deflagrada com a proclamação da Doutrina Truman.
- b) Os conflitos nacionais de pós-Guerra-fria e as desigualdades entre Norte e Sul revelaram os elementos de uma verdadeira "desordem mundial".
- c) A economia global é policêntrica.
- d) O novo espaço estratégico europeu revela o contraste entre a solidez das instituições do bloco ocidental e a volatilidade das estruturas econômicas e políticas da região balcânica e da Comunidade de Estados Independentes (CEI).
- e) Atualmente, não existem atritos geopolíticos e comerciais entre os Estados Unidos e as potências europeias e asiáticas.


Exercício 41

(Uece 2020) A geopolítica atual da Nova Ordem Mundial diferencia-se do cenário configurado no âmbito da ordem da Guerra Fria pelo fato de

- a) proliferarem disputas e conflitos armados de grandes proporções na maioria dos Estados nacionais.
- b) multiplicarem-se os centros de disputa global.
- c) alterarem-se as potências militares globais e os núcleos de poder bélico-nuclear.
- d) terem findado as intervenções de cunho neoimperialista.

Exercício 42

(Famerp 2020) Examine a imagem.



(Vinicius Araújo. <https://medium.com>, 03.11.2017.)

A imagem é uma crítica à

- a) automação.
- b) emancipação.
- c) transumância.
- d) bioindústria.
- e) globalização.

Exercício 43

(Fuvest 2019) O capitalismo neoliberal, após os anos 1980, caracteriza-se

- a) pela prevalência da agricultura e pecuária no PIB dos países desenvolvidos.
- b) pelo crescimento da concentração da riqueza e das finanças em detrimento dos setores produtivos e pela tendência à diminuição dos direitos sociais.
- c) pela adoção de políticas que restringem a fluidez dos capitais e distribuem mais equitativamente a riqueza.
- d) pelo fortalecimento do papel do Estado nos direitos sociais e pela diminuição do papel das finanças em relação ao PIB mundial.
- e) pela formação de blocos econômicos entre países periféricos, que impediram a livre circulação de capitais e contiveram o aumento das desigualdades.

Exercício 44

(Uepa 2012) Num mundo pós Guerra Fria, cujo período inicia-se com a queda do Muro de Berlim, instala-se uma Nova Ordem Mundial com características antagônicas ao período que o antecedeu, a Guerra Fria. Sobre a reordenação ocorrida na economia-mundo no citado período, afirma-se que:

- a) a doutrina Truman e o Plano Marshall foram criados no início da Guerra Fria e tinham como objetivos sustentar governos pró-orientais no combate ao capitalismo.
- b) no mundo multipolar, o poder militar é substituído pelo poder econômico. Isto, por sua vez, se traduziu na disponibilidade de capitais, no avanço tecnológico nos níveis de produtividade e competitividade entre os países.
- c) com a queda do muro de Berlim, foi extinto o acordo que criou a Comunidade dos Estados Independentes (CEI) em substituição ao império vermelho, que fez frente ao capitalismo do mundo inteiro.
- d) a reconstrução do Japão, no pós guerra, e sua pujança econômica até os anos de 1980, aliada à consolidação da União Europeia, com base na economia de Portugal e França, dão origem ao mundo multipolar.
- e) na nova ordem mundial, a China desponta como um dos países economicamente mais poderosos, fazendo frente à hegemonia americana, que se fortaleceu política e economicamente após os atentados de 11 de setembro de 2001.

Exercício 45

(Ufsm 2006)



A ilustração, de autoria do cartunista norte-americano Peter Kuper, nos remete à nova ordem mundial pós-guerra fria, que apresenta as seguintes características:

- a) apesar da resistência iraquiana à ocupação norte-americana do Iraque, os EUA demonstram respeito aos Direitos Humanos com o fechamento das prisões de Abu Ghraib (Iraque) e Guantanamo (Cub).
- b) a desintegração de blocos regionais que buscam submeter-se ao poderio norte-americano, como é o caso da União Europeia.
- c) decadência econômica e militar na China, que combina um sistema político de partido único com uma economia que se abre, seletivamente, ao capital externo.
- d) adoção do neoliberalismo em países latino-americanos como Brasil e Argentina, com aumento do papel do Estado na economia, através das privatizações de empresas estatais e maior despesa em gastos sociais, diminuindo o desemprego.
- e) os EUA assumiram a condição de única superpotência mundial, sem considerar a posição da ONU, como no caso da invasão do Iraque, em 2003.

Exercício 46

(Unesp 2014) **Coreia do Norte anuncia “estado de guerra” com a Coreia do Sul**

A Coreia do Norte anunciou nesta sexta-feira [29.03.2013] o "estado de guerra" com a Coreia do Sul e que negociará qualquer questão entre os dois países sob esta base. "A partir de agora, as relações intercoreanas estão em estado de guerra e todas as questões entre as duas Coreias serão tratadas sob o protocolo de guerra", declara um comunicado atribuído a todos os órgãos do governo norte-coreano.

(<http://noticias.uol.com.br>. Adaptado.)

A tensão observada entre a Coreia do Norte e a Coreia do Sul está associada a

- a) divergências políticas e comerciais, sendo que sua origem se deu após a emergência Nova Ordem Mundial.
- b) divergências comerciais e econômicas, sendo que sua origem remete ao período da Guerra Fria.
- c) divergências políticas e ideológicas, sendo que sua origem se deu após a emergência da Nova Ordem Mundial.
- d) divergências políticas e ideológicas, sendo que sua origem remete ao período da Guerra Fria.
- e) um incidente diplomático ocasional, que não corresponde à grande tradição pacifista existente entre as Coreias.

Exercício 47

(Fgv 2019) Alguns países latino-americanos, a partir da década de 1980, aderiram às recomendações do Fundo Monetário Internacional (FMI) e do Banco Mundial, que preconizavam a realização de reformas estruturais como forma de restabelecer a competitividade e o crescimento econômico. Sob o rótulo de Consenso de Washington, essas medidas ganharam apoio político e ressonância pública. Esse processo de reestruturação, em que as novas tecnologias de informação desempenharam um papel fundamental, significou a incorporação desses países à dinâmica da globalização. Nesse novo cenário, houve uma reestruturação do papel das áreas metropolitanas.

Adaptado de Matos, Carlos A. *Redes, nodos e cidades: transformação da metrópole latino-americana*. São Paulo: FASE, 2004.

Sobre as mudanças ocorridas nas metrópoles latino-americanas no contexto da globalização, analise as afirmações a seguir.

- I. As empresas produtivas e financeiras sediadas nas metrópoles foram integradas à circulação supranacional e impulsionadas a se organizar em rede.
- II. A base econômica metropolitana foi transformada, o que contribuiu para consolidar uma estrutura urbana segregada, na qual a estratificação social tem uma clara expressão territorial.
- III. As atividades produtivas foram redistribuídas para locais estratégicos, sob a crescente influência das novas tecnologias da informação, ao passo que as atividades e funções de decisão foram mantidas nas metrópoles.
- IV. A construção de prédios corporativos e de conjuntos empresariais inteligentes mudou o funcionamento e a fisionomia da metrópole, configurando uma estrutura policêntrica.

Está correto o que se afirma em

- a) II, III e IV, apenas.
- b) I, III e IV, apenas.
- c) I e III, apenas.
- d) II e IV, apenas.
- e) I, II, III e IV.

Exercício 48

(Acafe 2018) "Alguma coisa está fora da ordem, fora da nova ordem mundial" (Trecho da música Fora de Ordem, de Caetano Veloso)

Sobre as ordens mundiais ao longo da história, marque V para as afirmações **verdadeiras** e F para as **falsas** e assinale a alternativa com a sequência correta.

- () Até o início do Século XX, antes das duas grandes guerras, havia uma ordem mundial multipolar, com várias potências coloniais rivalizando entre si, tendo o Reino Unido como a mais poderosa.
- () A partir do final da Segunda Guerra Mundial, duas superpotências passaram a dividir a supremacia mundial: EUA e Alemanha, no período chamado "Guerra Fria".
- () Em 1945 houve a queda do Muro de Berlim e o colapso da União Soviética, inaugurando o início de uma ordem mundial totalmente capitalista.
- () A fundação da União Europeia e o vertiginoso crescimento econômico da China, passando a rivalizar com os EUA, deram impulso ao estabelecimento de uma ordem mundial multipolar, a partir da década de 1990. Essa correlação das maiores forças econômicas mundiais conta ainda com o Japão, importante potência asiática e com ascensão dos países "emergentes", entre eles o grupo chamado de BRICS, do qual o Brasil faz parte.
- () Em 1999 surgiu o G20, grupo composto pelas 19 maiores economias do mundo acrescidas da União Europeia. Esse grupo de países ricos e de países emergentes passou a constituir uma importante arena de discussões sobre questões políticas e econômico-financeiras de interesse mundial.

- a) V – V – F – F – F
- b) F – V – F – V – F
- c) V – F – F – V – V
- d) F – F – F – V – V

Exercício 49

(Uern 2015) Com o fim do bloco socialista, há uma nova reorganização geopolítica no mundo. Sobre o processo de reorganização mundial do pós-Guerra Fria, assinale a afirmativa INCORRETA.

- a) Em 1991, em meio às transformações que ocorriam no mundo como resultado do fim da ordem bipolar, os representantes dos 12 membros da CEE assinaram o Tratado de *Maastricht*, estabelecendo, entre outras diretrizes, a implantação do euro como moeda única.
- b) A nova ordem mundial é caracterizada pela multipolarização assentada na força econômica de determinados países. Os novos padrões de poder compreendem, portanto, a disponibilidade de capitais, o avanço tecnológico, a qualificação da mão de obra e o nível de produtividade.

c) Nos países do Leste Europeu, a transição da economia planificada para a economia de mercado ocorreu de forma semelhante entre as nações. Alguns países tiveram seus territórios fragmentados e novos territórios foram gerados. É o caso da Iugoslávia que, utilizando de forma pacífica, não apresentou graves conflitos e conseguiu se dividir segundo linhas étnicas e culturais.

d) A Rússia vivenciou uma grave crise econômica na transição do sistema socialista para o capitalista. O agravamento da crise levou a renúncia de *Boris Ieltsin*, em 1999. Entretanto, *Vladimir Putin*, funcionário do antigo serviço secreto russo na época da URSS, assumiu o poder e conseguiu controlar a crise. Sua reorganização econômica junto com seu poderio bélico e sua força política conseguiram mantê-la com *status* de potência.

Exercício 50

(G1 - ifce 2011) Por ocasião da Segunda Guerra Mundial (1939-1945), o mundo havia experimentado mudanças significativas, somadas às mudanças ocorridas no final do século XX (1989-1991) com alterações no mapa-múndi político. Diante das informações apresentadas, **nega** os fatos do texto a afirmativa da alternativa

- a) a Alemanha Oriental, atualmente, é uma província na nova Alemanha reunificada e a antiga Tchecoslováquia está dividida em República Tcheca e Eslováquia.
- b) a União Soviética, por ser uma superpotência, não apresentou abalos significativos em seu território, o qual continua com grande extensão territorial.
- c) antes da Segunda Guerra Mundial, havia uma ordem multipolar, baseada em vários polos de poder, que despertaram a supremacia internacional.
- d) com o fim da Segunda Guerra Mundial, duas novas potências – os Estados Unidos e a União Soviética – passaram a disputar o mundo entre si.
- e) a ordem mundial marcada pela bipolaridade – Estados Unidos e União Soviética –, gradativamente, entrou em crise e se encerrou na última década do século XX.

Exercício 51

(Unimontes 2011) "Um dos principais motivos que levaram ao desmoronamento do edifício bipolar e à construção da chamada ordem multipolar foi, sem dúvida alguma, o desenvolvimento desigual das nações nas últimas décadas, em especial nos anos 70 e 80."

Fonte: VESENTINI, José William. *A Nova Ordem Mundial*. São Paulo: Ática, 1995.

Constituem consequências do fato apresentado pelo fragmento do texto, **exceto**

- a) As antigas potências médias como o Japão e Alemanha foram beneficiadas e progressivamente interferiram no crescimento estadunidense.
- b) O declínio das superpotências da ordem bipolar veio em decorrência do fato de que ambas não conseguiram acompanhar a modernização tecnológica da 3ª Revolução Industrial.
- c) A criação e expansão de determinados mercados supranacionais, seguindo o exemplo da União Europeia, foi uma tendência forte a partir da década de 1990.

d) A globalização vem diminuindo ou relativizando o poderio dos Estados nacionais; os países do Norte já não são mais agentes quase exclusivos das relações internacionais.

Exercício 52

(Uerj 2018)



Star Trek ou “Jornada nas Estrelas”, um clássico da ficção científica, completou 50 anos de existência em 2016. A série mostrava as aventuras da tripulação da nave USS Enterprise no século XXIII, com mundos e raças alienígenas convivendo. Ao fazer analogias com situações da época, abordava questões sociais contemporâneas em um contexto futurista.

O elenco era bem diferenciado, apresentando uma mulher negra, um asiático e um russo, que trabalhavam juntos e com papéis de destaque. O monólogo de introdução em cada episódio afirmava: “Estas são as viagens da nave estelar Enterprise. Em sua missão de cinco anos, para explorar novos mundos, para pesquisar novas vidas, novas civilizações, audaciosamente indo aonde nenhum homem jamais esteve”.

Adaptado de gamehall.uol.com.br.

O desenvolvimento dos conhecimentos no campo da astronomia amplia a visão cósmica, como lembra o texto do físico Marcelo Gleiser, e as novas possibilidades de intervenção humana repercutem na produção de textos e filmes de ficção científica, a exemplo da série televisiva “Jornada nas Estrelas”.

De acordo com a reportagem, os episódios da série fizeram analogias com situações das décadas de 1960 e 1970 ao tematizar os seguintes tópicos:

- a) avanço científico e controle territorial
- b) corrida espacial e diversidade étnica
- c) uniformização cultural e expansionismo militarista
- d) globalização econômica e dominação imperialista

Exercício 53

(Mackenzie 2018) *Com o colapso da União Soviética, as transformações na ordem mundial e, a partir da década de 1990, o fim da Guerra Fria, a Rússia passou a participar de uma nova agenda internacional tanto no campo político como no militar. Atualmente, o país busca maior participação no contexto internacional e afirma-se como potência. Apesar de enfrentar uma etapa difícil de transição da economia centralmente planejada para uma economia de mercado – capitalista – às voltas com crises econômico-financeiras, aumento da pobreza e*

da corrupção, concentração de renda e guerras separatistas, em finais da década de 1990, a Rússia passou a integrar o G8.

LUCCI, BRANCO e MENCONÇA. *Território e Sociedade no Mundo Globalizado*. São Paulo: Saraiva, 2014, p. 261.

Considere as seguintes afirmações a respeito da Rússia.


- I. É uma grande potência nuclear e seu imenso território dispõe de grandes reservas minerais, entre elas petróleo e gás natural.
- II. Apresenta invernos rigorosos, sobretudo em sua porção setentrional.
- III. É um dos componentes dos chamados BRICS.
- IV. É uma forte opositora do regime iraniano e tem evitado estreitar relações políticas com a China.

É correto o que se afirma em

- a) I e II, apenas.
- b) III e IV, apenas.
- c) I, II e III, apenas.
- d) II, III e IV, apenas.
- e) I, II, III e IV.

Exercício 54

(G1 - ifpe 2018) A globalização tem como características marcantes a dinamização do fluxo de capitais, informações e pessoas. No entanto, a disseminação de informações não ocorre de forma homogênea para todos os habitantes da Terra. Sobre esse processo, e analisando a imagem a seguir podemos afirmar que



Disponível em: <http://nuevageneracion-tic.blogspot.com.br/>. Acesso em: 08 out.2017.

- a) existem pessoas excluídas digitalmente do processo de globalização, pois não têm acesso aos recursos físicos necessários para a informatização.
- b) o acesso à rede mundial de computadores vem aumentando, o que torna muito difícil identificar um grupo social que esteja excluído do processo de revolução digital.
- c) a internet, particularmente, vem revolucionando a forma de lidar com a informação, no entanto, ela vem contribuindo para o aumento da exclusão social.
- d) o desenvolvimento socioeconômico de um país não sofre nenhuma influência da exclusão digital, pois o fluxo de informações não interfere no de capitais.
- e) com o advento das redes sociais ocorreram mudanças significativas no acesso à informação, o que contribuiu para

Exercício 55

(Uerj 2021) Na Idade Média, as cidades-Estado italianas lideravam a “revolução comercial” europeia com inovações nas áreas de finanças, intercâmbio e tecnologia. Então algo estranho aconteceu. Em 1264, por exemplo, a população da cidade de Ferrara decretou que “O magnífico e ilustre Lorde Obizzo será dirigente, regente geral e permanente soberano sobre a cidade”. Repentinamente, uma república votou para que ela mesma deixasse de existir. As instituições da Itália medieval sucumbiram ao que chamamos agora de populismo: uma estratégia excludente e antielitista para criar uma coalizão dos descontentes. O método é excludente porque ele se baseia em uma definição específica de “o povo”, cujos interesses devem ser defendidos não apenas da elite, mas de todos os outros.

Adaptado de project-syndicate.org, 31/05/2019.

O processo político descrito no texto pode ser associado a uma tendência atual de enfraquecimento dos regimes democráticos. Essa tendência está enunciada em:

- a) retrocesso do pluralismo social, gerando o aumento da intolerância
- b) esvaziamento do poder presidencial, causando a descentralização da gestão
- c) desvalorização da identidade nacional, produzindo a negação do patriotismo
- d) limitação da propriedade privada, provocando o fortalecimento do sindicalismo

Exercício 56

(Fgv 2019)



Manifestação contra o fechamento da fábrica da Ford em Bordeaux (França), em janeiro de 2019 (<https://www.wsj.com>)



Protesto contra o fechamento da fábrica da Ford em São Bernardo do Campo (Brasil), em março de 2019 (<https://www.jornaldocomercio.com>)

A montadora norte-americana Ford anunciou o fechamento de sua fábrica em São Bernardo do Campo, no ABCD paulista, como parte de seu plano de reestruturação global, para enxugar suas operações e preparar-se para uma nova gestão de sua cadeia de produção. Segundo analistas do setor, os carros do futuro serão celulares sobre rodas e não poluentes, razão pela qual as fábricas mais antigas, que demandariam muito investimento para atualizarem sua capacidade produtiva, tendem a ser fechadas.

Com relação à reestruturação do setor automobilístico, em escala mundial e sobre seus efeitos no Brasil, analise as afirmações a seguir.

- I. A reestruturação estratégica da Ford exemplifica a busca por maior eficiência e lucratividade, com corte de custos operacionais, priorizando regiões que oferecem melhor escoamento da produção, mão de obra mais barata e boas redes de fornecedores.
- II. O fechamento de fábricas da Ford na França e no Brasil exemplifica a transformação global do modelo de produção de veículos, incentivada por mercados que exigem requisitos de sustentabilidade, como carros elétricos e híbridos.
- III. Os protestos contra o fechamento das fábricas da Ford mostram a dificuldade de sindicatos, gestores e Estado de controlar e regulamentar o impacto regional dos fluxos de capital e tecnologia da atual globalização.

Está correto o que se afirma em.

- a) I, II e III.
- b) I e II, apenas.
- c) I, apenas.
- d) II e III, apenas.
- e) II, apenas

Exercício 57

(G1 - ifce 2020) Alguns dos aspectos presentes na Nova Ordem Mundial são a globalização e os blocos econômicos, que consistem na união de diferentes países que desejam estabelecer uma relação econômica fortalecida entre si. Sobre essa temática, é correto afirmar-se que

- a) o Mundo Global tem origem na Segunda Guerra Mundial através de uma divisão econômica entre capitalista e socialista conhecida como divisão Norte e Sul.
- b) o MERCOSUL foi fundado pelo Brasil, Argentina, Uruguai e Paraguai, sendo um bloco econômico de integração de todo o continente americano.

- c) o Nafta (Tratado Norte-Americano de Livre Comércio) foi substituído pelo Acordo Estados Unidos-México-Canadá – USMCA, que, além de criar uma zona econômica na América do Norte, integrou-se aos países da América Central.
- d) a globalização na atual fase do capitalismo, representada pela integração econômica dos blocos regionais, consegue eliminar as desigualdades existentes entre as economias continentais.
- e) o Reino Unido se prepara para sair da União Europeia depois de um plebiscito realizado em 2016, acionando o Artigo 50 do Tratado de Lisboa.

Exercício 58

(Ufscar 2008) Existem controvérsias a respeito da nova ordem mundial. Para uns, ela seria uni ou monopolar; para outros, ela seria multipolar. Considere o exposto e assinale a alternativa que é indiscutivelmente correta.

- a) O poderio militar norte-americano, sem competidores, é um argumento a favor de definição da nova ordem como multipolar.
- b) A unificação europeia, a recuperação econômica do Japão e a enorme expansão da China são fatores que pesam a favor do argumento da monopolaridade da nova ordem mundial.
- c) O avanço da globalização fortalece a ideia de um mundo unipolar.
- d) O sucesso da primeira guerra do Golfo, de 1991, sugeriu, momentaneamente, que os Estados Unidos poderiam desempenhar o papel de superpotência solitária e com uma estratégia unilateral.
- e) O fato de alguns países - Japão, Índia, Brasil e África do Sul - pleitearem uma vaga permanente no Conselho de Segurança da ONU é mais um indicador da monopolaridade no sistema internacional.

Exercício 59

(Unesp 2017) Com o fim da Guerra Fria, os EUA formalizaram sua posição hegemônica. Sem concorrência e se expandindo para as antigas áreas de predomínio socialista, o capitalismo conheceu uma nova fase de expansão: tornou-se mundializado, globalizado. O processo de globalização criou uma nova divisão internacional do trabalho, baseado numa redistribuição pelo mundo de fábricas, bancos e empresas de comércio, serviços e mídias.

Loriza L. de Almeida e Maria da Graça M. Magnoni (orgs.).
Ciências humanas: filosofia, geografia, história e sociologia, 2016.
Adaptado.

Dentre as consequências do processo de globalização, é correto citar

- a) o nascimento do governo universal e democrático.
- b) a pacificação das relações internacionais.
- c) o enfraquecimento dos estados-nações.
- d) a abolição da exploração social do trabalho.
- e) o nivelamento econômico dos países.

Exercício 60

TEXTO PARA A PRÓXIMA QUESTÃO:

A partir da leitura e análise do texto, responda a(s) questão(ões).

UM MOMENTO DE DESORDEM MUNDIAL

“Neste começo de século, assistimos a uma reformulação de fronteiras e influências político-econômicas no mundo. Essa nova forma de organização mundial, baseada na existência de redes, fluxos e conexões, exige mudanças no método [...] de agrupar e separar territórios. [...]

Essa nova era é marcada pelo advento da globalização e da internet, que permitiu maior integração internacional e criou um novo espaço [...], o “território-mundo”, composto de uma sociedade mundial que compartilha os mesmos valores. A integração cada vez maior dos Estados e a soberania de um país através de um grupo [...] são demonstradas pela força dos blocos econômicos, que estabelecem uma concorrência acirrada entre si para manter a influência sobre seus parceiros comerciais. [...]

Identifica-se um novo movimento de regionalização do espaço contemporâneo a partir de redes integradas ilegais de poder, como o tráfico de drogas e o terrorismo globalizado [...] e a reconfiguração dos territórios devido a mudanças nas relações de poder e ao hibridismo cultural”.

(Adaptado de Ciência Hoje On-line. In:
<http://cienciahoje.uol.com.br/resenhas/um-momento-de-desordem-mundial>. Acesso em: 23/08/14.)

(Uepa 2015) De acordo com o trecho: “essa nova era é marcada pelo advento da globalização e da internet, que permitiu maior integração internacional [...] e a reconfiguração dos territórios devido a mudanças nas relações de poder e ao hibridismo cultural”, é correto afirmar que:

- a) no capitalismo informacional, a globalização da pobreza é cruel pois, mesmo com a redistribuição da riqueza, há uma maior desigualdade nas regiões ou países subdesenvolvidos porque, apesar do intenso uso de tecnologias modernas, as dificuldades socioeconômicas não foram superadas.
- b) apesar das vantagens, a globalização tem sido bastante criticada por ter aumentado a desigualdade social e econômica e facilitado à atuação das entidades do crime organizado, devido às facilidades tecnológicas das comunicações que têm diversificado suas formas de atuação no mundo.
- c) a globalização trouxe o desemprego estrutural, que tem diminuído os custos e o desemprego tecnológico, com a substituição do ser humano pela máquina, porém eliminou o desemprego conjuntural, o qual era provocado pelo mau desempenho da economia nos países.
- d) a tecnologia tem trazido conforto e melhoria de vida às pessoas, no entanto, reduziu os postos de trabalho, devido à diminuição de demanda por mão de obra qualificada e aumento da oferta para trabalhadores desqualificados, provocado pelo aumento do uso de maquinários no processo produtivo.
- e) o crime organizado se beneficiou do avanço tecnológico das comunicações do mundo globalizado, pois o tráfico de drogas, de mulheres e crianças, encontrou mais facilidades para expandir suas ações criminosas, ao contrário do terrorismo, que tem sido rapidamente eliminado pelo uso de armamentos modernos.

Exercício 61

(Unesp 2015) Que significa o advento do século XVI? [...] Se essa passagem de século tem hoje um sentido para nós, um sentido que talvez não tinha nos séculos anteriores, é porque vemos que aí é que surgem as primícias da globalização. E essa globalização é mais que um processo de expansão de origem ibérica, mesmo se o papel da península foi dominante. [...] Em 1500, ainda estamos bem longe de uma economia mundial. No limiar do século XVI, a globalização corresponde ao fato de setores do mundo que se ignoravam ou não se frequentavam diretamente serem postos em contato uns com os outros.

GRUZINSKI, Serge. *A passagem do século: 1480-1520*, 1999.

O texto

- a) defende a ideia de que a expansão marítima dos séculos XV e XVI tenha provocado a globalização, pois tal expansão eliminou as fronteiras nacionais.
- b) rejeita a ideia de que a expansão marítima dos séculos XV e XVI tenha provocado a globalização, pois muitos povos do mundo se desconheciam.
- c) identifica a expansão marítima dos séculos XV e XVI com o atual contexto de globalização, destacando, em ambos, a completa internacionalização da economia.
- d) compara a expansão marítima dos séculos XV e XVI com o atual contexto de globalização, demonstrando o papel central, em ambos, dos países ibéricos.
- e) relaciona a expansão marítima dos séculos XV e XVI com o atual contexto de globalização, ressaltando, porém, que são processos históricos distintos.

Exercício 62

(G1 - ifsul 2017) O processo de globalização não é recente. Durante o período das grandes navegações esse movimento já estava em curso. Se, no passado ele serviu tanto para as trocas comerciais como para subjugar e escravizar os povos, na atualidade, ele também se apresenta de maneira perversa e desigual entre os países.

Dentre os vários problemas desse processo, os países, principalmente europeus, estão enfrentando o

- a) crescimento do ultrarracionalismo e de grupos neonazistas.
- b) decréscimo dos postos de trabalho que estão sendo ocupados pelos imigrantes.
- c) aumento da extrema esquerda que tenta se posicionar ao lado dos imigrantes clandestinos.
- d) incremento de grupos partidários à entrada de imigrantes do antigo leste europeu.

Exercício 63

Leia os fragmentos a seguir:

O Brasil ganhou 200 novos “ultra ricos” no último ano. São agora 1.900 mil brasileiros com mais de US\$ 50 milhões, segundo pesquisa divulgada nesta terça-feira (14) pelo banco Credit Suisse. Em todo o mundo, o levantamento “Global Wealth Report” estima que haja 128,2 mil indivíduos considerados muito ricos. Destes, 4,3 mil têm mais de US\$ 500 milhões, e outros 45,2 mil têm mais de US\$ 100 milhões(...)

Disponível em:

<<http://www.correiadoestado.com.br/economia/brasil-ganhou-200-ultra-ricos-em-um-ano-mostra-levantamento/229714/>>.

Acesso em 08 set. 2016.

Cerca de 1,5 bilhão de pessoas sofre de “pobreza multidimensional” em 91 países em desenvolvimento, ou seja, passam por privações nas áreas de saúde, educação e “padrões básicos de vida”, segundo o documento (...) Entre as pessoas afetadas pela pobreza, 842 milhões têm crise de fome crônica, 12% da população mundial (...) Outros 800 milhões de pessoas - 15% da população mundial - estão “em risco de pobreza”.

Disponível em:

<<http://exame.abril.com.br/mundo/noticias/pobreza-afeta-2-2-bilhoes-de-pessoas-no-mundo-todo>>. Acesso em 08 set. 2016.

No contexto da globalização, a emergência do cenário apresentado pelos textos **NÃO** está relacionado com o(a)

- a) participação dos setores empresariais na política.
- b) ampliação do papel do Estado nos setores sociais.
- c) tendência de flexibilização dos direitos trabalhistas.
- d) aumento da circulação global de capitais especulativos.

Exercício 64

(G1 - cftmg 2016) Leia o fragmento a seguir:

A crescente globalização econômica e essa aparente direção rumo a um mundo economicamente tripolar, não impedem que se manifestem também “n” outros indicadores representativos mais de desordem [do que ordem].

HAESBAERT & PORTO-GONÇALVES. *A nova desordem mundial*. São Paulo: UNESP, 2006. p.46.

No contexto da (des)ordem gerada pela globalização econômica, é **INCORRETO** afirmar que ela está expressa no(a)

- a) Grécia, com sua elevada dívida externa.
- b) Brasil, com as flutuações nas bolsas de valores.
- c) Venezuela, com a crise de desabastecimento atual.
- d) China, com a valorização crescente da moeda frente ao dólar.

Exercício 65

(Uece 2017) No que tange ao processo de globalização, são feitas as seguintes afirmações:

- I. Esse processo permite que as pessoas conheçam o planeta extensivamente e profundamente.
- II. Apesar do aumento da internacionalização da economia e das finanças mundiais, muitos países, regiões dentro de países e até áreas continentais não são alcançadas pelo movimento de globalização, a não ser sob a forma contraditória de sua própria marginalização.
- III. Uma das estratégias da economia globalizada é a de adotar a prática empresarial do melhor resultado ao menor custo possível, instaurando uma reengenharia nas relações de trabalho que implica o aumento do emprego parcial, temporário, precário e subcontratado.

É correto o que se afirma em

- a) I, II e III.
- b) I e II apenas.
- c) I e III apenas.
- d) II e III apenas.

Exercício 66

(G1 - cftmg 2005) Com a globalização, muitos territórios tornaram-se interdependentes, mas as perspectivas de prosperidade de suas populações não tiveram o mesmo desenvolvimento, gerando conflitos de toda espécie. Essa Nova Ordem Mundial caracteriza-se por um (a)

- a) renovação do papel de órgãos tais como: FMI, ONU e OMC, entre outros, promovendo uma maior solidariedade mundial.
- b) aceleração da onda de inovações tecnológicas, produzindo uma expansão financeira ainda maior nos mercados acionários dos países ricos.
- c) processo de aglutinação política com a regionalização dos blocos e o enfraquecimento cultural de várias etnias, diminuindo os conflitos separatistas.
- d) intercâmbio global, constituído por teias de fluxos intensos entre os polos principais: América Latina, Oriente Médio, Europa Ocidental, América Anglo-Saxônica.

Exercício 67

(Mackenzie 2020) Leia o fragmento de reportagem.

O presidente dos Estados Unidos, Donald Trump, designou oficialmente o Brasil como aliado militar preferencial do país fora da Organização do Tratado do Atlântico Norte (OTAN). [...] O status dá ao Brasil o direito de tornar-se comprador preferencial de equipamentos e tecnologias militares dos Estados Unidos, além de participar de leilões organizados pelo Pentágono. A medida também abre caminho para a colaboração no desenvolvimento de soluções de defesa e o aumento dos intercâmbios militares e a realização de manobras conjuntas entre as Forças Armadas dos dois países.

Estados Unidos designam Brasil como aliado extra-Otan. Agência Brasil, 01 ago. 2019.

Disponível em:

<<http://agenciabrasil.ebc.com.br/internacional/noticia/2019-08/estadosunidos-designam-oficialmente-brasil-como-aliado-extra-otan>> Acesso em 29 set. 2019.

Com base nas informações acima e em seus conhecimentos sobre o assunto abordado, assinale a alternativa correta.

- a) França, Espanha e Canadá são exemplos de países que integram a OTAN, constituída em 1949, no contexto histórico da Guerra Fria, com o objetivo de estabelecer um pacto militar entre os países membros, contra o avanço da influência socialista.
- b) O Brasil é o primeiro país na América Latina, e o quarto, no mundo, a receber o status especial de aliado extra-OTAN.
- c) Os recentes conflitos do governo brasileiro com o governo norte-americano, em decorrência das queimadas na Amazônia, fizeram com que o congresso dos EUA cancelasse o status especial concedido ao Brasil por Trump.
- d) De acordo com o secretário geral da Organização do Tratado do Atlântico Norte (OTAN), a condição de aliado especial ou

prioritário é o primeiro passo para que o Brasil passe a se tornar membro oficial da organização, o que deve ocorrer ainda em 2019.

e) Criada em 1991, com a dissolução da União Soviética, a OTAN tem como principal objetivo a proteção de países do Leste Europeu, constantemente ameaçados pela política expansionista russa.

Exercício 68

(Upf 2019) “A primeira metade do século XX foi marcada por devastadoras guerras entre Estados. A segunda metade, porém, no contexto da Guerra Fria, teve como característica o acirramento de conflitos civis, muitos dos quais se prolongam até os dias atuais.”

(TERRA; ARAÚJO; GUIMARÃES. *Geografia Conexões: estudos de geografia geral e do Brasil*. São Paulo: Moderna, 2015, p. 636)

A partir dos seus conhecimentos sobre os conflitos regionais na ordem global, analise os itens a seguir.

- I. Culturalmente distintos dos povos dos países onde vivem, os curdos reivindicam um Estado próprio. Vivem, em sua maioria, na Turquia e extrapolam as fronteiras desse país, ocupando áreas do Iraque, do Irã, da Síria, da Armênia e do Azerbaijão.
- II. Desde 2011, a Síria vive uma sangrenta guerra civil, e a população, na busca de maior liberdade democrática, iniciou uma revolta contra o governo. A Rússia apoia o atual regime sírio, como forma de manter sua influência no Oriente Médio.
- III. A Caxemira é um país localizado entre Paquistão, China e Índia. A população da Caxemira deseja a unificação com a Índia, porém, os interesses nucleares na região levaram a uma série de enfrentamentos com os vizinhos.
- IV. Em 1948, Israel declarou sua independência, dissolvendo o Estado árabe-palestino e incorporando ao seu território as terras palestinas conquistadas. O conflito entre israelenses e palestinos perdura até os dias atuais.

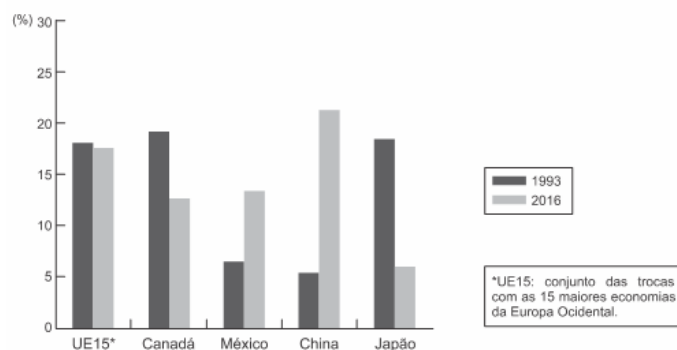
Está correto o que se afirma em

- a) II, III e IV, apenas.
- b) I, II e IV, apenas.
- c) I e II, apenas.
- d) III, apenas.
- e) I, II, III e IV.

Exercício 69

(Uerj 2019)

MUDANÇA NO COMÉRCIO DE BENS DOS ESTADOS UNIDOS: IMPORTAÇÕES POR PAÍSES



O processo de globalização das últimas décadas vem redefinindo os fluxos de bens entre os países.

A partir do gráfico, a mudança dos locais de origem dos bens pode ser explicada pela seguinte característica do processo de globalização:

- a) difusão espacial das fontes de matéria-prima
- b) integração nacional dos centros de tecnologia
- c) redistribuição territorial das atividades industriais
- d) concentração regional dos mercados consumidores

Exercício 70

(Ufpr 2019) Com respeito à globalização e a seus impactos sobre o setor industrial, identifique como verdadeiras (V) ou falsas (F) as seguintes afirmativas:

- () Os investimentos e inovações no setor de transportes e as políticas de abertura comercial, praticadas dos anos 1990 em diante, impulsionaram processos de realocação das indústrias em escala internacional.
- () Desde 1978, quando retornou à economia de mercado, a China vem experimentando processos de industrialização, urbanização e de aumento da desigualdade de renda.
- () A industrialização chinesa representa um desafio para o Brasil, porque a China está deixando de importar produtos industriais brasileiros e deverá se tornar um competidor internacional na indústria automobilística e em outros setores importantes para o Brasil.
- () Nas últimas décadas, os investimentos industriais atraídos pelo custo da mão de obra na China e na Índia agravaram a pobreza de largas parcelas da população desses países, o que implicou o aumento do número de pessoas vivendo abaixo da linha de pobreza em escala mundial.

Assinale a alternativa que apresenta a sequência correta, de cima para baixo.

- a) F – V – F – V.
- b) F – V – V – V.
- c) V – F – F – V.
- d) V – F – V – F.
- e) V – V – V – F.

Exercício 71

(G1 - cftmg 2015) Dois terços de todo o circuito de trocas internacionais é de responsabilidade das transnacionais, sendo que metade desses se refere a trocas intrafirma e a outra metade a vendas para terceiros. Essas empresas costumam constituir gigantescos oligopólios que atuam em diversos setores e em vários países.

CARVALHO, Bernardo de A. *A globalização em xeque: incertezas para o século XXI*. São Paulo: Atual, 2000.

Nesse contexto, as transnacionais que se utilizam da estratégia da oligopolização, têm como objetivo primordial

- a) determinar as decisões econômicas que o Estado deve executar.

- b) definir os valores dos preços dos produtos que são empregados.
- c) transferir as etapas da produção para os diversos países do globo.
- d) formar um conjunto restrito de firmas que dominam o mercado.

Exercício 72

(G1 - ifpe 2020) **ÁFRICA DISCUTE BENEFÍCIOS E DESVANTAGENS DA GLOBALIZAÇÃO**

Para muitas agências internacionais que atuam para aliviar a fome e a pobreza na África, a globalização é um assunto polêmico. Os que são a favor do processo, como o ex-diretor do Fundo Monetário Internacional (FMI), Michel Camdessus, argumentam que a globalização vai levar à modernização da economia e à remoção dos impedimentos comerciais. Camdessus diz que "se deve conseguir reduzir a pobreza e estimular o crescimento econômico".

Mas os críticos, como a entidade beneficente britânica *ActionAid*, argumentam que a liberalização do comércio está prejudicando a África. A *ActionAid* diz que a abertura comercial, especialmente na área agrícola, resultou na "ameaça ou destruição do meio de vida de milhões de agricultores" e na manutenção da pobreza.

Disponível em:

<https://www.bbc.com/portuguese/economia/021204_africadb.shtml>.

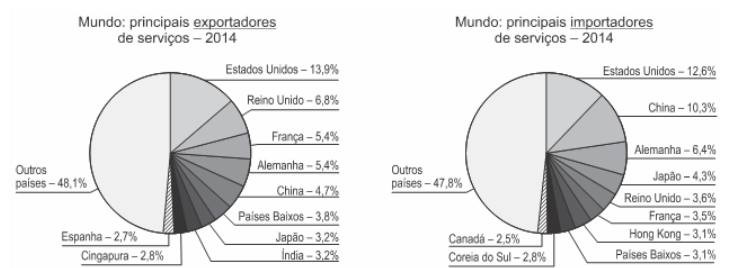
Acesso em: 21 out. 2019. (adaptado).

Com base na reportagem exposta no texto, os argumentos favoráveis e contrários à globalização no continente africano, respectivamente, são

- a) o endividamento externo e a destruição da economia de subsistência.
- b) a redução de barreiras alfandegárias e a desorganização das comunidades tradicionais.
- c) a intervenção do Estado na economia e a dependência tecnológica.
- d) o investimento de capitais em economias emergentes e o declínio do movimento sindical.
- e) a regulação do mercado financeiro e o fim da agricultura tribal.

Exercício 73

(G1 - ifpe 2019) No atual contexto de economia globalizada, o setor de serviços é um dos mais integrados ao comércio internacional. Em 2014, por exemplo, correspondia a, aproximadamente, 9,7 trilhões de dólares, somadas as exportações e as importações. Os dados nos gráficos a seguir indicam o desempenho dos principais países nessas atividades terciárias.



OMC. Estatísticas del comercio internacional 2015. Extraído de: LUCCI, Allan. Alabi et al. *Território e sociedade no mundo globalizado: Ensino Médio*. 3ª ed., v. 2. São Paulo: Saraiva, 2017. p. 94.

OMC. Estatísticas do comércio internacional 2015. Extraído de:
LUCCI, Alian, Alabi et al. *Território e sociedade no mundo globalizado*: Ensino Médio. 3ª ed., v. 2. São Paulo: Saraiva, 2017. p. 94.

Com base na CORRETA interpretação dos dados e na sua correlação com o processo de globalização econômica em curso, julgue as proposições a seguir.

I. Os países que se destacam como exportadores e importadores de serviços no comércio internacional são os desenvolvidos ou os emergentes.

II. O comércio internacional de serviços envolve atividades como prestação de serviços a empresas (consultoria, telemarketing etc.), turismo global, serviços de informática, agências de notícias, frete de transportes, entre outras.

III. Os números indicam que a economia chinesa é o mais típico exemplo de economia de serviços ou pós-industrial, na atualidade.

IV. Dos países mencionados, o setor industrial e o agronegócio continuam a ser as atividades econômicas mais estratégicas para a sua inserção na economia globalizada.

V. Os Estados Unidos são os maiores exportadores e importadores mundiais de serviços e mantiveram um superavit, já que concentravam 14% das exportações e 9% das importações mundiais.

Estão CORRETAS, apenas, as proposições

- a) II, IV e V.
- b) I, II e V.
- c) III e IV.
- d) I, III e V.
- e) I e II.

Exercício 74

(Ufsm 2006) Na construção da nova ordem mundial, o pontificado de João Paulo II (1978-2005) teve um papel fundamental. Quanto às suas realizações, pode-se apontar:

- I. O apoio irrestrito à economia capitalista quanto à ênfase no consumo e na aplicação de tecnologia poupadora de mão de obra.
- II. O esforço para o desmantelamento do Império soviético, especialmente a partir do apoio às forças de oposição ao governo comunista na Polônia.
- III. A defesa das intervenções militares norte-americanas no Golfo Pérsico, a partir da Guerra do Golfo.
- IV. A vitória sobre as alas progressistas do clero católico e o revigoramento do ideário conservador no plano da moral e dos costumes.

Está(ão) correta(s)

- a) apenas I.
- b) apenas II e III.
- c) apenas II e IV.
- d) apenas III e IV.
- e) I, II, III e IV.

Exercício 75

<https://www.biologiatotal.com.br/medio/geografia/exercicios/geopolitica/ex.-18-globalizacao>

(Espcex (Aman) 2018) Leia os relatos a seguir:

"Ao final da reunião ministerial da Organização Mundial do Comércio (OMC), em julho de 2008, a sensação foi de desalento, como fica evidente nas palavras do Ministro das Relações Exteriores, Celso Amorim: 'É uma pena, pois para qualquer observador externo [...] seria inacreditável que, depois do progresso alcançado, nós não conseguimos chegar a uma conclusão.'"

Adaptado de: Sene, E.; Moreira, J.C. - *Geografia Geral e do Brasil*: espaço geográfico e globalização. 2ª ed. 2v. São Paulo: Scipione, 2012, p. 230.

"Mike Froman, o representante do governo dos Estados Unidos para assuntos de comércio internacional, escreveu um artigo publicado ontem pelo jornal 'Financial Times' que a agenda do desenvolvimento da Rodada de Doha, iniciada 14 anos atrás, deveria ser substituída, porque ela simplesmente não produziu resultados."

www1.folha.uol.com.br/mercado/2015/12/1719245_negociacoes.da.rod

O fracasso atribuído por Celso Amorim e Mike Froman às sucessivas negociações acerca do comércio internacional de commodities e de bens industrializados deveu-se, principalmente, ao fato de que

- a) não houve consenso, entre países desenvolvidos e subdesenvolvidos, acerca do comércio de bens e serviços ambientalmente sustentáveis.
- b) os países desenvolvidos exigiram que os países em desenvolvimento eliminassem os subsídios oferecidos pelos governos destes países às suas produções agrícolas, a fim de ampliar a participação de seus próprios produtos agrícolas no comércio internacional.
- c) o tema da liberalização do comércio agrícola e de bens não agrícolas continuou a figurar como principal entrave político nas relações de comércio entre os países desenvolvidos e os países em desenvolvimento.
- d) não houve consenso entre países desenvolvidos e em desenvolvimento acerca da redução das emissões de gases de estufa e do comércio mundial dos créditos de carbono, a fim de desacelerar o aquecimento global.
- e) ocorreu, por parte da OMC, a imposição de medidas impopulares para o equilíbrio das contas públicas dos países subdesenvolvidos, com vistas a atenuar os efeitos da crise financeira sobre os fluxos globais de comércio.

Exercício 76

(Ufrn 2005) A nova ordem mundial, que emergiu a partir da queda do Muro de Berlim, contribuiu para o reordenamento geopolítico e econômico mundial, uma vez que

- a) abriu espaço para a multipolarização econômica, objetivando o surgimento de novas economias industrializadas.
- b) aprofundou o processo de globalização, favorecendo a consolidação e a supremacia de blocos econômicos supranacionais.
- c) colaborou para a formação de novos polos de poder, dentre os quais se destacam os Tigres Asiáticos e países da América Latina.

d) favoreceu a criação de blocos de poder globalizados no âmbito dos países subdesenvolvidos, facilitando a constituição de mercados regionais.

Exercício 77

(Ufu 2006) Na nova ordem mundial, além dos principais polos de poder representados pelos Estados Unidos, União Europeia e Japão, destaca-se também a Comunidade dos Estados Independentes - CEI. Sobre esta última, é correto afirmar que:

- a) A CEI congrega países de diferentes níveis socioeconômicos e realidades étnico-religiosas igualmente distintas.
- b) A CEI é composta pelas ex-Repúblicas Socialistas, Repúblicas Bálticas e a Geórgia.
- c) Após sua entrada na economia de mercado, a CEI tornou-se extremamente atrativa ao capital internacional.
- d) A Ucrânia, o mais extenso país integrante da CEI, destaca-se como a maior potência econômica regional.

Exercício 78

(Uel 2015) Analise a figura a seguir.



(Todos os europeus são ilegais neste continente desde 1492. Disponível em: <<http://la.indymedia.org/uploads/2006/04/since-1492.jpg>>. Acesso em: 23 jul. 2014.)

Desde o lema Liberdade, Igualdade, Fraternidade, proveniente da Revolução Francesa e, posteriormente, inserido no atual mundo globalizado e neoliberal, o trânsito de mercadorias, capitais e pessoas passou a ser regulado por acordos nacionais e internacionais construídos por governos de países em diferentes escalas de poder financeiro e militar.

Assinale a alternativa que apresenta, corretamente, um aspecto em que a globalização e o neoliberalismo se expressam.

- a) Pela dispensa de controle dos Estados no comércio de mercadorias de alto valor agregado.
- b) Na constituição do sistema bancário internacional, que regula plenamente o fluxo de capitais nos paraísos fiscais.
- c) Na liberdade cultuada pelo sistema financeiro neoliberal, que expande socialmente a disseminação das riquezas.
- d) No poderio bélico militar dos estados nacionais, efetivamente controlado pela ONU.
- e) No estabelecimento de normas rígidas para condicionar a imigração ao controle do Estado.

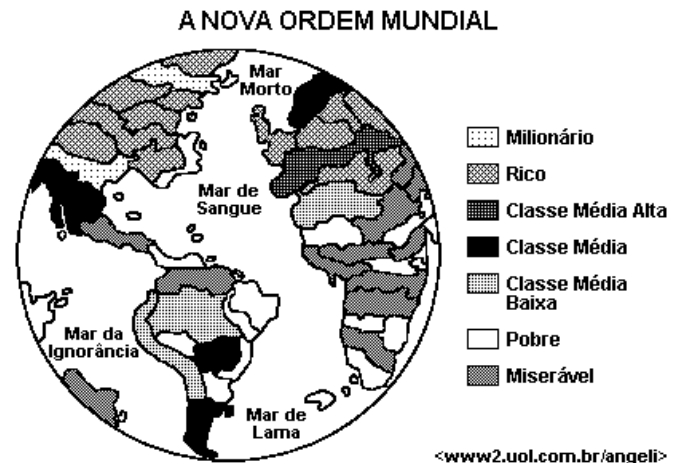
Exercício 79

(Ufla 2006) Nos livros didáticos de Geografia, o tema "Conflito Norte x Sul" geralmente está associado à origem socioeconômica de regiões e a decorrências históricas da "Guerra Fria" e seu término. As alternativas a seguir apontam discussões ligadas diretamente ao "Conflito Norte x Sul", EXCETO:

- a) Admite-se que a maioria dos conflitos que permaneceram ou foram potencializados, após a Guerra Fria, são de natureza étnica ou nacionalista.
- b) As discussões que giram em torno dessa temática passaram a ocorrer a partir do final dos anos 80 e indicavam a emergência de uma "nova ordem mundial", em que a derrocada do socialismo significava a vitória do modelo liberal e, por extensão, do modelo capitalista como hegemônico nessa "nova ordem".
- c) Se é possível dizer que o modelo capitalista de sociedade foi "vitorioso", também é verdade que tal modelo não resolveu seus conflitos internos, que continuaram existindo não mais em uma ordenação bipolar ideológica chamada "Guerra Fria".
- d) Segundo o critério de origem socioeconômica, o mundo passaria a ser dividido em Norte/Desenvolvido e Sul/Subdesenvolvido e o Equador certamente deixaria de ser a fronteira geográfica entre ambos os hemisférios.
- e) "Produção flexível", "Revolução tecnológica" e "Divisão internacional do trabalho" relacionam-se diretamente ao chamado "Conflito Norte x Sul".

Exercício 80

(Ufal 2006) Desde o final da década de 1980 utiliza uma nova expressão: "Nova ordem mundial" na tentativa de esclarecer mudanças que estão ocorrendo no mundo. Observe a charge e analise o teor dessas mudanças.



01) A divisão bipolar da Guerra Fria foi substituída por uma nova lógica que é eminentemente econômica; assim, o mundo passou a ser dividido em dois conjuntos de países: os desenvolvidos, liderados pelo G7, concentrados sobretudo no hemisfério Norte e a periferia, formada por países subdesenvolvidos, localizada, principalmente, no hemisfério Sul.

02) A multipolaridade que revelava ao mundo três grandes núcleos de decisão foi substituída pelo unipolaridade: Japão e União Europeia, em crise econômica desde os anos de 1990, perderam força e poder econômico e geopolítico, enquanto os Estados Unidos, com crescimento econômico acelerado tornou-se líder absoluto, assumindo mais de 50% do comércio mundial.

04) Na nova ordem surgiram blocos econômicos, que a exemplo do antigo Mercado Comum Europeu, reúnem países para desenvolver atividades econômicas e financeiras em conjunto. O

Nafta, na América do Norte e a Apec, na Ásia, reúnem países desenvolvidos que passaram a apresentar intensa atividade que permite a livre circulação de mercadorias, capitais e pessoas entre as fronteiras do bloco.

08) Dentre os países do Sul, alguns deles começaram a assumir posições de destaque, seja pelo parque industrial, seja pelo volume de exportações; esse grupo passou a ser chamado de emergente. China, Índia, África do Sul e Brasil, embora com níveis de crescimento diferentes, estão nesse grupo.

16) A nova ordem não foi capaz de alterar as relações econômicas existentes durante a Guerra Fria. Ainda persistem relações de troca desiguais entre os novos conjuntos Norte e Sul, pois os países mais pobres da periferia continuam exportando matérias-primas de baixo valor para os países ricos do Norte.

Exercício 81

(Ufsc 2020)



O mundo é cada vez mais complexo e interligado. A geopolítica global e as regiões estratégicas ajudam a explicar os fatos que caracterizam a atualidade. Sobre a realidade geopolítica atual, é correto afirmar que:

01) o México (número 1) teve sua extensão territorial diminuída ao perder os atuais estados do Texas, da Califórnia, do Novo México e do Arizona em guerra com os Estados Unidos (número 2) e, na atualidade, tem suas fronteiras ao norte extremamente vigiadas.

02) o Oriente Médio (número 4) tem na Síria e no Líbano territórios onde a Convenção de Genebra segue respeitando os tratados internacionais que visam condenar crimes de guerra e proteger indivíduos não envolvidos nos conflitos.

04) a transferência em 1997 de Hong Kong para a República Popular da China (número 5) se deu sob o princípio atualmente contestado “um país, dois sistemas”, visto que o poder central chinês vem se defrontando em 2019 com uma crise política caracterizada por protestos da população dessa porção do território chinês.

08) o assassinato do cacique Emyra Wajãpi, em julho de 2019, que repercutiu no mundo político e nas redes sociais, deixou à mostra a violência contra os povos indígenas e os confrontos que marcam a história desses povos no Brasil (número 3).

16) a guerra comercial entre as duas maiores economias do planeta, Estados Unidos e China (números 2 e 5, respectivamente), representa uma disputa diplomática entre esses dois contendores que não atinge os demais países do mundo capitalista.

32) países como Arábia Saudita, Irã, Emirados Árabes Unidos, Kuwait e Iraque, cinco importantes membros da Organização dos

Países Exportadores de Petróleo, integram o Oriente Médio (número 4), região geopolítica e geoestratégica importante, já que ali se localiza o estreito de Ormuz, importante rota comercial cujo bloqueio pode impactar a economia global.

64) a Rússia (número 6), maior país em extensão territorial, apresenta elevado crescimento demográfico, fator que exigiu das autoridades o controle de natalidade, e problemas econômicos relacionados à falta de recursos energéticos.

Exercício 82

(Unesp 2019) Aquilo que hoje chamamos “globalização” esteve na mira da classe capitalista o tempo todo.

Se o desejo de conquistar o espaço e a natureza é uma manifestação de algum anseio humano universal ou um produto específico das paixões da classe capitalista, jamais saberemos. O que pode ser dito com certeza é que a conquista do espaço e do tempo, assim como a busca incessante para dominar a natureza, há muito tempo tem um papel central na psique coletiva das sociedades capitalistas. Apesar de todos os tipos de críticas, acusações, repulsas e movimentos políticos de oposição, [...] ainda prevalece a crença de que a conquista do espaço e do tempo, bem como da natureza (incluindo até mesmo a natureza humana), está de algum modo a nosso alcance.

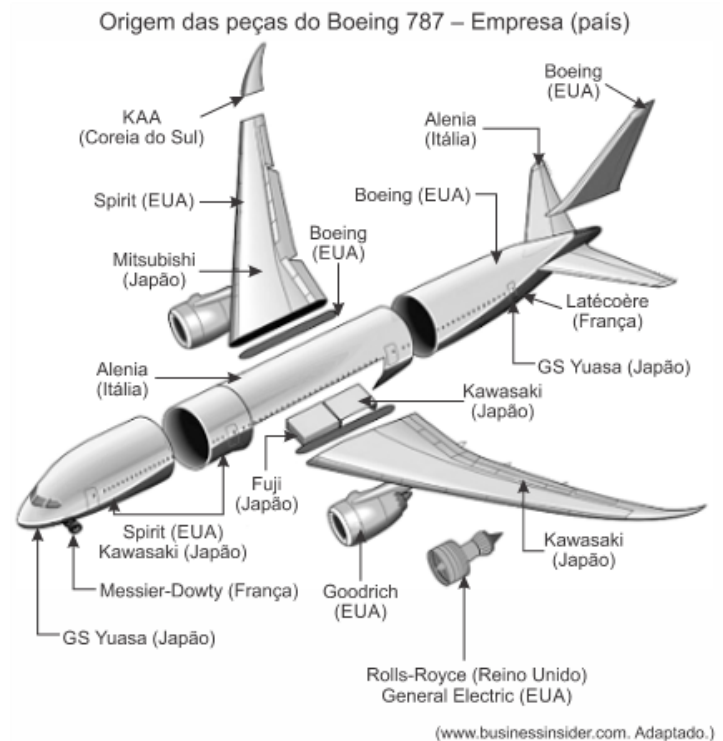
(David Harvey. *O enigma do capital*, 2011.)

a) Explique como a conquista do espaço e do tempo se realizou na globalização.

b) Mencione, sob o ponto de vista ambiental, duas críticas ao processo de globalização.

Exercício 83

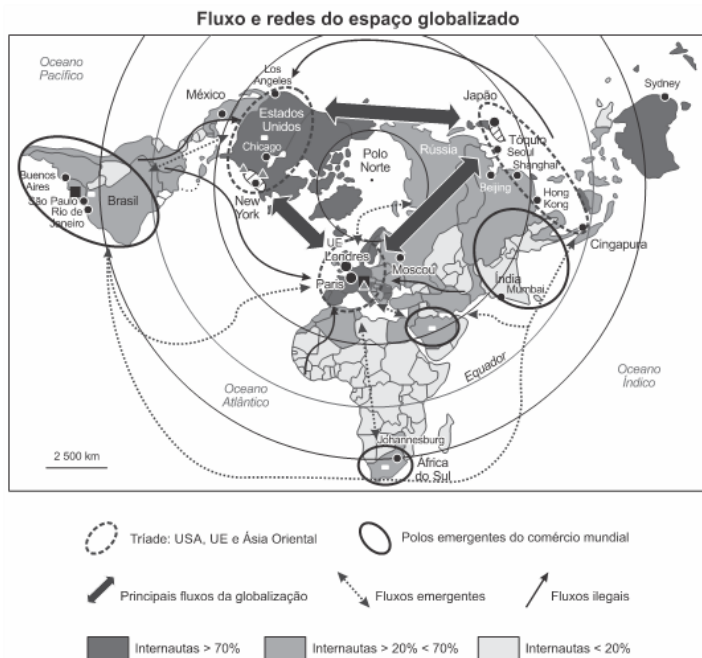
(Unesp 2017)



Considerando o exemplo apresentado e a expansão das multinacionais no contexto da globalização, identifique e caracterize o que ocorre com o processo produtivo das multinacionais. Cite dois fatores que levam as empresas a adotar essa nova estratégia.

Exercício 84

(Fgv 2017) A globalização, apoiada nos três grandes centros de impulsão da economia mundial, não impede que os Estados, as redes ou os indivíduos se organizem em diferentes escalas regionais ou locais.



Com base no texto e no mapa acima,

- indique duas medidas adotadas pelos países emergentes para se inserirem nos mercados globalizados;
- analise a lógica de implantação das empresas transnacionais nos países em desenvolvimento;
- avalie o papel da Organização Mundial do Comércio na regulação dos fluxos internacionais de comércio.

Exercício 85

(Ufjf-pism 3 2016) Leia o trecho a seguir:

“Quando tudo permite imaginar que se tornou possível a criação de um mundo veraz, o que é imposto aos espíritos é um mundo de fabulações, que se aproveita do alargamento de todos os contextos para consagrar um discurso único. Seus fundamentos são a informação e o seu império, que encontram alicerce na produção de imagens e do imaginário, e se põem ao serviço do império do dinheiro, fundado este na economização e na monetarização da vida social e da vida pessoal. De fato, se desejamos escapar à crença de que esse mundo assim apresentado é verdadeiro, e não queremos admitir a permanência de sua percepção enganosa, devemos considerar a existência de pelo menos três mundos num só. O primeiro seria o mundo tal como nos fazem vê-lo: a globalização como fábula; o segundo seria o mundo tal como ele é: a globalização como perversidade; e o terceiro, o mundo como ele pode ser: uma outra globalização”.

Fonte: SANTOS, Milton. *Por uma outra globalização: do pensamento único à consciência universal*. Rio de Janeiro/São Paulo: Editora Record, 2001, p. 17-18.

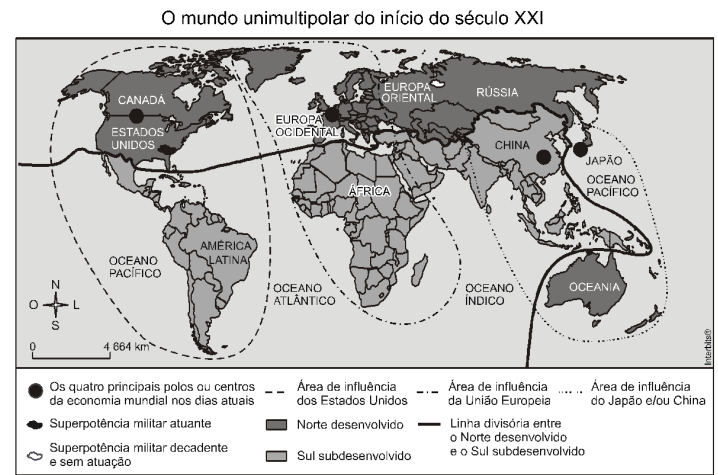
A partir do trecho de Milton Santos, atenda ao que se pede:

a) Cite e analise DUAS características da globalização de acordo com o contexto político-econômico internacional no início dos anos 1990.

b) Indique e analise UM problema econômico-social decorrente da globalização:

Exercício 86

(Unesp 2012) Analise o mapa.



Os eventos políticos e o conjunto de transformações econômicas e tecnológicas das últimas duas décadas permitem que se empreguem diferentes e, às vezes, divergentes visões sobre a Nova Ordem Mundial. A partir das informações apresentadas no mapa e de conhecimentos sobre a Nova Ordem Mundial, defina as visões de mundo unipolar e mundo multipolar, apresentando evidências que sustentem uma e outra visão.

Exercício 87

(Unicamp 2011) Líder hegemônico da ordem mundial no século XX, os EUA, desde 1945, tornaram-se o principal pilar do sistema financeiro e bancário mundial e, desde 1971, com o fim do padrão dólar-ouro, instituído no Acordo de Bretton Woods (1944), ficou aberto o caminho para uma crescente circulação de dólares americanos no mundo.

A emergência de novos polos de produção industrial no mundo e a perda de competitividade da produção americana implicaram um crescimento da dívida pública e privada norte-americana. O motor principal da crise sistêmica atual que afeta o conjunto do planeta encontra-se nos EUA.

(Adaptado de GEAB - Global Europe Anticipation Bulletin, *A crise actual explicada em mil palavras*, nº. 17. Disponível em www.resistir.info/crise/geab_15set07.html. Acesso em 27/10/2010.)

a) Constata-se que há vários anos a economia norte-americana vem perdendo dinamismo. Quais os principais fatores dessa perda de dinamismo?

b) Qual o principal fator desencadeante da atual crise sistêmica que se aprofundou em 2008? Qual foi o efeito imediato da crise, no aspecto financeiro?

Exercício 88

(Ufscar 2004) As fotos retratam símbolos de momentos diferentes da ordem mundial.



(Patrick Piel/Gamma-Sigla)



(Joe Raedle/Stone)

- A quais "ordens mundiais" os muros pertencem?
- Como podemos compreender a existência do Muro de Tijuana no contexto da globalização e do neoliberalismo?


Exercício 89

(Ufscar 2002) A ordem geopolítica mundial que prevaleceu de 1945 até 1991 foi bipolar, marcada pela oposição entre as duas superpotências e pela disputa entre o capitalismo e o socialismo real. Já a nova ordem mundial dos anos 1990 e inícios do século XXI é vista por alguns como monopolar e por outros como multipolar.

- Defina o que é uma ordem mundial.
- Explique quais seriam os argumentos utilizados pelos que dizem que a nova ordem é monopolar e pelos que afirmam que ela é multipolar.

Exercício 90

(Fuvest 2020)



A minissérie de TV com cartaz acima é uma ficção que remete à história de um dos piores desastres nucleares que ocorreram no século XX: a explosão na usina nuclear de Chernobyl, na Ucrânia sob domínio soviético, em 26 de abril de 1986. Em razão de problemas operacionais e de projeto, um dos reatores da usina lançou uma nuvem na atmosfera, atingindo outras partes da então União Soviética e regiões da Europa Ocidental.

Apesar de relevante, Chernobyl corria o risco de desaparecer na névoa do passado da Guerra Fria, ao mesmo tempo em que novas gerações cresciam com seus próprios traumas. Para os ucranianos, é conflito sempre presente com a Rússia.

Disponível em <https://exame.abril.com.br/mundo/>.

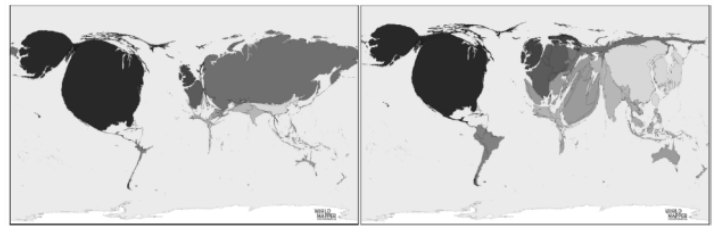
- Aponte a causa dos impactos na saúde humana sugerida no cartaz.
- Cite e explique um aspecto positivo do uso da energia nuclear.
- Qual a relação entre o desenvolvimento da tecnologia nuclear e o contexto da Guerra Fria?

Exercício 91

(Fuvest 2019) Observe as anamorfozes:

Figura I – Armas nucleares (2017)

Figura II – Gastos militares (2017)



<https://worldmapper.org/> Acesso: outubro 2018.

- Identifique dois dos países que mais se destacam em relação às armas nucleares.
- Identifique qual é, em cada anamorfose, a condição do Oriente Médio. Explique.
- Nas últimas décadas, houve uma intensificação e expansão de conflitos armados e guerras no mundo. Em que medida as figuras I e II revelam essa situação? Explique.

Exercício 92

(Fuvest 2018) Observe, na imagem noturna obtida por satélite, os limites territoriais do país A e países fronteiriços.



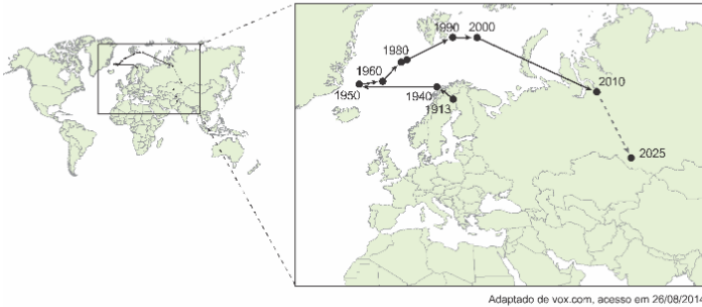
www.exame.com.br, 25/02/2014. Adaptado.

- Identifique o país A e cite uma razão para o fato de esse país, comparativamente a seus fronteiriços, aparecer na imagem como se estivesse às escuras.
- Explique, citando ao menos dois argumentos de ordem geopolítica, por que os EUA e alguns países da Europa Ocidental consideram esse país uma ameaça global e regional.

Exercício 93

(Uerj 2020)

DESLOCAMENTOS DO CENTRO DE GRAVIDADE ECONÔMICA DO MUNDO AO LONGO DO TEMPO



O centro de gravidade econômica do mundo é calculado ponderando-se as localizações do Produto Interno Bruto de cada país. Esse cálculo é projetado por meio de um ponto na superfície da Terra. Na prática, isso significa que esse centro está sempre mais próximo das principais potências econômicas do mundo.

Nomeie o país mais relevante para o deslocamento do centro de gravidade econômica mundial entre 1913 e 1950. Nomeie, também, o país em cuja direção está se movendo esse centro, a partir de 1990.

Em seguida, apresente uma justificativa econômica para esse movimento mais recente.

Exercício 94

(Ufpr 2018) “Não é possível analisar o mundo, sob quaisquer dimensões, sem referência ao fenômeno da globalização. De tão difundido e repetido, não é de estranhar que o conceito nem sempre seja claro, pela dificuldade de distinguir o que são os componentes econômicos do processo daqueles sociais e culturais”.

(CASTRO, Iná. Geografia e Política – Território, escalas de ação e instituições. Bertrand Brasil, Rio de Janeiro, 2005, p. 215.)

Levando em consideração o problema acima exposto, escreva um texto que defina globalização e trate dos seus impactos nas relações políticas, econômicas e sociais.

Exercício 95

(Ufpr 2017) No período da Guerra Fria, a antiga URSS subsidiou fortemente a economia cubana. Ao exportar petróleo para Cuba, o Estado soviético praticava preços bem abaixo daqueles vigentes no mercado mundial, ao mesmo tempo em que, nas importações de açúcar cubano, pagava até cinco vezes os preços internacionais desse produto.

(Adaptado de VESENTINI, J. W. *A nova ordem mundial*. 2. ed. São Paulo: Ática, 1996, p. 21)

Com base no texto e nos conhecimentos de Geografia:

- Apresente duas razões pelas quais a URSS realizava essa política de subsídios.
- Explique por que tal política contribuiu para o fim do modelo de economia planificada na URSS.

Exercício 96

(Ufsc 2019) **Texto 1**

As telecomunicações avançaram de forma vertiginosa e hoje interligam o mundo por meio de satélites, telefones fixos e móveis (celulares), redes de televisão, agências de notícias etc. A Internet, a partir dos anos de 1980 passou a conectar o mundo todo numa rede de computadores. Informações, produtos são vendidos, pessoas entram em contato.

MOREIRA, João Carlos; SENE, Eustáquio de. *Geografia para o ensino médio: geografia geral e do Brasil: volume único*. São Paulo: Scipione, 2002. p. 279.

Texto 2

Rede mundial de computadores faz 30 anos e Google comemora com Doodle

O engenheiro britânico Tim Berners-Lee inventou o embrião da World Wide Web para ajudar cientistas a compartilhar informações

A rede mundial de computadores celebra o aniversário de 30 anos nesta terça-feira (12) e o Google lançou um Doodle para comemorar. A World Wide Web (WWW) foi criada por Tim Berners-Lee em 12 de março de 1989. Naquela data, o engenheiro britânico criava o método pelo qual seria possível obter acesso público à Internet, tecnologia que havia sido desenvolvida nos anos de 1960 por militares dos EUA.

Disponível em:

<https://www.techtudo.com.br/noticias/2019/03/rede-mundial-de-computadores-faz-30-anos-e-google-comemora-com-doodle.html>. Acesso em: 8 maio 2019.

A Revolução Técnico-Científico-Informacional, desde o seu início, proporcionou mudanças profundas na realidade contemporânea. Considerando os avanços científicos e tecnológicos ao longo da história, geradores das mudanças nos meios de comunicação e informação, é correto afirmar que:

- a robótica, a informação, as telecomunicações e a biotecnologia são ramos industriais e de serviços que apresentaram crescimento acelerado a partir das últimas décadas do século XX, pois o uso de computadores generalizou-se em muitos setores da sociedade, principalmente com o avanço da Internet.
- os avanços técnico-científicos proporcionados pela Revolução Técnico-Científico-Informacional difundiram de forma igualitária o acesso à Internet entre os países e suas regiões, sendo que os recursos minerais disponíveis e complementares em cada país foram fundamentais nesse processo.
- a globalização, fase mais recente da expansão capitalista, é fruto do atual período técnico-científico-informacional, com importante papel da web nesse processo, que faz o espaço geográfico mundial conectar-se a uma rede de fluxos de informação e comunicação, comandada de centros de poderes econômicos e políticos.
- no século XV, a revolução da imprensa, conduzida pelo alemão Johannes Gutenberg, contribuiu intensamente para a

difusão do conhecimento produzido pelos renascentistas, pois a utilização dos tipos móveis possibilitou a ampliação do acesso aos livros na Europa.

16) após a Segunda Guerra Mundial, o rádio surgiu como novidade nos meios de comunicação no Brasil; entretanto, apesar de seu potencial político-informativo, sua finalidade era restrita à música e ao entretenimento.

32) a consolidação da web como principal meio de comunicação contemporâneo deve ser entendida como um momento em que o acesso à informação possuiu cada vez mais credibilidade e garantia de imparcialidade na difusão do conhecimento.

GABARITO

Exercício 1

a) globalização.

Exercício 2

b) financeira.

Exercício 3

c) Globalização.

Exercício 4

a) a globalização atual possui uma grande circulação de ideias e de produtos por causa do avanço dos meios de comunicação e da rede de transporte mundial.

Exercício 5

d) V, V, V, V.

Exercício 6

d) O nível de desenvolvimento socioeconômico entre os países do Norte e Sul.

Exercício 7

b) geopolítica

Exercício 8

b) o mundo bipolar da Guerra Fria, que se delineou logo após a Segunda Guerra Mundial e perdurou até 1989 com a queda do muro de Berlim, o que simbolizou o fim da divisão leste/oeste entre as duas potências militares.

Exercício 9

d) Possibilidade de intercâmbio científico com outros países e a geração de desemprego em razão da baixa qualificação profissional e da concorrência desigual entre a indústria nacional brasileira e as multinacionais.

Exercício 10

d) destaca-se com o fim da Guerra Fria e com a consolidação do capitalismo. Tem como meta a integração econômica, cultural, social e política e favorece a criação de novos mercados, bem como a mercantilização da economia.

Exercício 11

a) V - V - F - V - V

Exercício 12

b) 4, 1, 3 e 2.

Exercício 13

b) II, IV e V.

Exercício 14

c) globalização de países desenvolvidos

Exercício 15

d) A aplicação de inovação tecnológica no processo produtivo vem estafando diferentes setores econômicos e diminuindo a impregnação de elementos científicos e informacionais no espaço mundial.

Exercício 16

d) facilitar e permitir, segundo os padrões de uma economia de escala, uma simplificação e maior rapidez nas trocas comerciais.

Exercício 17

e) a presença de fixos, como algumas instalações de armazenagem e conexão, influencia a orientação de fluxos e dá aos EUA uma posição de destaque no contexto geopolítico.

Exercício 18

c) na globalização há mais liberdade para a circulação de capitais no mundo, porém a falta de controles eficazes tem gerado situações de instabilidade econômica importantes.

Exercício 19

b) O segundo texto atualiza o primeiro, ao especificar nova expansão das enfermidades.

Exercício 20

a) V, V, V, F.

Exercício 21

a) F, V, F, V.

Exercício 22

a) Na nova ordem geopolítica mundial, existem vários polos ou centros de poder, comandados por três grandes potências mundiais de poderio econômico, tecnológico e político-diplomático: EUA, Japão e União Europeia.

Exercício 23

b) o capitalismo, em pleno século XXI, não consegue eliminar as desigualdades sociais e econômicas entre as pessoas.

Exercício 24

a) a ordem multipolar evidencia novos atores sociais que, no processo produtivo, desempenham funções principalmente comerciais, promovendo o fortalecimento e avanço do sistema capitalista no espaço mundial.

Exercício 25

b) baseia-se na capacidade integrada de sistemas computacionais espionarem governos antagônicos, com o objetivo de manipular informações de todo tipo.

Exercício 26

c) fenômeno revelador de lugares que são, ao mesmo tempo, objetos de uma razão global e de uma razão local, convivendo dialeticamente.

Exercício 27

d) Os centros de poder, que compõem a nova ordem mundial, possuem um ator hegemônico, qual seja: os Estados Unidos, que controlam e comandam todos os demais países, evidenciando a monopolaridade da nova ordem mundial.

Exercício 28

c) internacionalização do mundo capitalista.

Exercício 29

d) desenvolvimento econômico

Exercício 30

c) pela guerra ao terror, cuja origem remete à Doutrina Bush.

Exercício 31

a) a nova ordem mundial vem se apresentando como uma realidade mais complexa, marcada por disparidades entre países ricos e pobres, norte *versus* sul, rivalidades religiosas, choques de interesses entre nações.

Exercício 32

a) Consciência de que a destruição ambiental traz consequências a todo o planeta, e não somente a uma determinada região ou país.

Exercício 33

c) I e III, somente.

Exercício 34

e) A disseminação de novas maneiras de vestir e de novos modismos musicais guarda uma relação com o modo como as pessoas se comportam com relação à localização relativa do lugar que habitam.

Exercício 35

a) Aldeia global.

Exercício 36

d) A reunificação da Coreia.

Exercício 37

e) da globalização da economia, o que alimenta uma crescente integração e uma relativa uniformização das condições de existência das sociedades.

Exercício 38

a) Consequência de uma realocação geográfica do capitalismo mundial, típica do processo de globalização, que culminou em significativo crescimento das trocas comerciais entre os países, conduzindo a um importante incremento dos investimentos das empresas transnacionais nos países subdesenvolvidos emergentes, como o Brasil.

Exercício 39

e) os conflitos deixaram de ter a conotação ideológica capitalismo *versus* socialismo.

Exercício 40

e) Atualmente, não existem atritos geopolíticos e comerciais entre os Estados Unidos e as potências europeias e asiáticas.

Exercício 41

b) multiplicarem-se os centros de disputa global.

Exercício 42

e) globalização.

Exercício 43

b) pelo crescimento da concentração da riqueza e das finanças em detrimento dos setores produtivos e pela tendência à diminuição dos direitos sociais.

Exercício 44

b) no mundo multipolar, o poder militar é substituído pelo poder econômico. Isto, por sua vez, se traduziu na disponibilidade de capitais, no avanço tecnológico nos níveis de produtividade e competitividade entre os países.

Exercício 45

e) os EUA assumiram a condição de única superpotência mundial, sem considerar a posição da ONU, como no caso da invasão do Iraque, em 2003.

Exercício 46

d) divergências políticas e ideológicas, sendo que sua origem remete ao período da Guerra Fria.

Exercício 47

e) I, II, III e IV.

Exercício 48

c) V – F – F – V – V

Exercício 49

c) Nos países do Leste Europeu, a transição da economia planificada para a economia de mercado ocorreu de forma semelhante entre as nações. Alguns países tiveram seus territórios fragmentados e novos territórios foram gerados. É o caso da Iugoslávia que, utilizando de forma pacífica, não apresentou graves conflitos e conseguiu se dividir segundo linhas étnicas e culturais.

Exercício 50

b) a União Soviética, por ser uma superpotência, não apresentou abalos significativos em seu território, o qual continua com grande extensão territorial.

Exercício 51

b) O declínio das superpotências da ordem bipolar veio em decorrência do fato de que ambas não conseguiram acompanhar a modernização tecnológica da 3ª Revolução Industrial.

Exercício 52

b) corrida espacial e diversidade étnica

Exercício 53

c) I, II e III, apenas.

Exercício 54

a) existem pessoas excluídas digitalmente do processo de globalização, pois não têm acesso aos recursos físicos necessários para a informatização.

Exercício 55

a) retrocesso do pluralismo social, gerando o aumento da intolerância

Exercício 56

a) I, II e III.

Exercício 57

e) o Reino Unido se prepara para sair da União Europeia depois de um plebiscito realizado em 2016, acionando o Artigo 50 do Tratado de Lisboa.

Exercício 58

d) O sucesso da primeira guerra do Golfo, de 1991, sugeriu, momentaneamente, que os Estados Unidos poderiam desempenhar o papel de superpotência solitária e com uma estratégia unilateral.

Exercício 59

c) o enfraquecimento dos estados-nações.

Exercício 60

b) apesar das vantagens, a globalização tem sido bastante criticada por ter aumentado a desigualdade social e econômica e facilitado a atuação das entidades do crime organizado, devido às facilidades tecnológicas das comunicações que têm diversificado suas formas de atuação no mundo.

Exercício 61

e) relaciona a expansão marítima dos séculos XV e XVI com o atual contexto de globalização, ressaltando, porém, que são processos históricos distintos.

Exercício 62

a) crescimento do ultrarracionalismo e de grupos neonazistas.

Exercício 63

b) ampliação do papel do Estado nos setores sociais.

Exercício 64

d) China, com a valorização crescente da moeda frente ao dólar.

Exercício 65

d) II e III apenas.

Exercício 66

b) aceleração da onda de inovações tecnológicas, produzindo uma expansão financeira ainda maior nos mercados acionários dos países ricos.

Exercício 67

a) França, Espanha e Canadá são exemplos de países que integram a OTAN, constituída em 1949, no contexto histórico da Guerra Fria, com o objetivo de estabelecer um pacto militar entre os países membros, contra o avanço da influência socialista.

Exercício 68

b) I, II e IV, apenas.

Exercício 69

c) redistribuição territorial das atividades industriais

Exercício 70

e) V – V – V – F.

Exercício 71

d) formar um conjunto restrito de firmas que dominam o mercado.

Exercício 72

b) a redução de barreiras alfandegárias e a desorganização das comunidades tradicionais.

Exercício 73

e) I e II.

Exercício 74

c) apenas II e IV.

Exercício 75

c) o tema da liberalização do comércio agrícola e de bens não agrícolas continuou a figurar como principal entrave político nas relações de comércio entre os países desenvolvidos e os países em desenvolvimento.

Exercício 76

b) aprofundou o processo de globalização, favorecendo a consolidação e a supremacia de blocos econômicos supranacionais.

Exercício 77

a) A CEI congrega países de diferentes níveis socioeconômicos e realidades étnico-religiosas igualmente distintas.

Exercício 78

e) No estabelecimento de normas rígidas para condicionar a imigração ao controle do Estado.

Exercício 79

e) "Produção flexível", "Revolução tecnológica" e "Divisão internacional do trabalho" relacionam-se diretamente ao chamado "Conflito Norte x Sul".

Exercício 80

01) A divisão bipolar da Guerra Fria foi substituída por uma nova lógica que é eminentemente econômica; assim, o mundo passou a ser dividido em dois conjuntos de países: os desenvolvidos, liderados pelo G7, concentrados sobretudo no hemisfério Norte e a periferia, formada por países subdesenvolvidos, localizada, principalmente, no hemisfério Sul.

08) Dentre os países do Sul, alguns deles começaram a assumir posições de destaque, seja pelo parque industrial, seja pelo volume de exportações; esse grupo passou a ser chamado de emergente. China, Índia, África do Sul e Brasil, embora com níveis de crescimento diferentes, estão nesse grupo.

16) A nova ordem não foi capaz de alterar as relações econômicas existentes durante a Guerra Fria. Ainda persistem relações de troca desiguais entre os novos conjuntos Norte e Sul, pois os países mais pobres da periferia continuam exportando matérias-primas de baixo valor para os países ricos do Norte.

Exercício 81

01) o México (número 1) teve sua extensão territorial diminuída ao perder os atuais estados do Texas, da Califórnia, do Novo México e do Arizona em guerra com os Estados Unidos (número 2) e, na atualidade, tem suas fronteiras ao norte extremamente vigiadas.

04) a transferência em 1997 de Hong Kong para a República Popular da China (número 5) se deu sob o princípio atualmente contestado "um país, dois sistemas", visto que o poder central chinês vem se defrontando em 2019 com uma

crise política caracterizada por protestos da população dessa porção do território chinês.

08) o assassinato do cacique Emyra Wajãpi, em julho de 2019, que repercutiu no mundo político e nas redes sociais, deixou à mostra a violência contra os povos indígenas e os confrontos que marcam a história desses povos no Brasil (número 3).

32) países como Arábia Saudita, Irã, Emirados Árabes Unidos, Kuwait e Iraque, cinco importantes membros da Organização dos Países Exportadores de Petróleo, integram o Oriente Médio (número 4), região geopolítica e geoestratégica importante, já que ali se localiza o estreito de Ormuz, importante rota comercial cujo bloqueio pode impactar a economia global.

Exercício 82

a) Uma característica fundamental da globalização é a modernização dos transportes, telecomunicações e informática nas últimas décadas. A ampliação das infraestruturas permitiu a aceleração dos fluxos de mercadorias, capital financeiro e pessoas no espaço mundial. Percorre-se as mesmas distâncias com menos tempo, assim promoveu-se a "conquista do espaço e do tempo". Estas conquistas significam que os agentes da globalização, a exemplo das empresas transnacionais, conseguiram ampliar seus lucros, uma vez que se acelera a produção, a circulação e o consumo com novos mercados consumidores.

b) A aceleração da produção, circulação e consumo também aumenta a exploração dos recursos naturais. A mineração se intensificou em vários países causando danos ambientais como degradação dos biomas e do solo. No caso da produção de alimentos, muitas vezes a produção local está associada ao mercado global, a exemplo da produção de soja e carne em países como Brasil, responsável por grande parte do desmatamento na Amazônia e no Cerrado.

Exercício 83

As corporações transnacionais são os principais agentes do processo de globalização. Apresentam matriz e filiais distribuídas pelo mundo. A expansão das empresas por vários países permite aproveitar menores salários, incentivos fiscais, novos mercados consumidores, infraestrutura, doação de terrenos, além de matéria prima e energia a baixo custo. A nova estratégia é caracterizada também pela produção internacionalizada, por exemplo, no caso da Boeing, os componentes dos aviões são produzidos em vários países através de acordos com outras empresas. Neste caso, empresas de países desenvolvidos como Japão, França, Reino Unido e Itália. Entre os fatores que explicam esta estratégia são a ampliação da lucratividade explorando as vantagens de cada país e a competição internacional com outras empresas que adotam estratégias semelhantes como a Airbus.

Exercício 84

a) Por vezes, com influência de políticas econômicas neoliberais, países emergentes se inserem na economia globalizada abrindo suas economias para o comércio internacional (exportações e importações), adotando medidas

para atração de transnacionais como incentivos fiscais, desregulamentando o sistema financeiro para permitir livre trânsito do capital especulativo e produtivo ou privatizando empresas estatais.

b) As transnacionais cujas matrizes localizam-se nos países desenvolvidos e em alguns emergentes atuam no mundo emergente e subdesenvolvido com o objetivo de maximizar sua lucratividade. Buscam países que oferecem menor carga tributária, mão de obra barata, facilidade de acesso a terrenos, novos mercados consumidores e facilidades para exportação. Por vezes, causam desemprego em seus países de origem e contribuem para concentração de renda, uma vez que, a rentabilidade é concentrada por proprietários, acionistas e executivos devido à remessa de lucros e royalties para as matrizes.

c) A OMC (Organização Mundial do Comércio) estimula o comércio internacional pregando a redução das tarifas de importação. Também atua na mediação de conflitos comerciais entre países.

Exercício 85

[Resposta do ponto de vista da disciplina de História]

a) A globalização econômica tornou o mundo uma “aldeia global” através do livre comércio que propiciou uma ampla circulação de mercadorias e maior concorrência. O Estado tornou-se menor, mais enxuto, desencadeando um processo de privatização das estatais.

b) Como consequência da globalização econômica e uma forte concorrência no âmbito econômico, surgiram blocos econômicos como Mercosul em 1995, ou seja, a globalização acabou gerando uma regionalização com o surgimento destes blocos econômicos.

[Resposta do ponto de vista da disciplina de Geografia]

a) Com a dissolução da URSS e falência do bloco socialista, o sistema de poder baseada na bipolaridade foi substituído pela multipolaridade, contexto em que a globalização começa a se consolidar, portanto, dentre as características da globalização pode-se mencionar: a adoção da doutrina neoliberal permitindo a abertura dos mercados; a formação dos blocos econômicos integrando a economia regional; o desenvolvimento tecnológico permitindo a integração por meio dos transportes, telecomunicações e infovias; a transnacionalização da produção instalando unidades fabris em países periféricos; a desnacionalização da produção de países periféricos.

b) Dentre os problemas de âmbito econômico-social resultantes da globalização, pode-se citar: o aumento do desemprego, especialmente do tipo estrutural, em razão da automação dos setores produtivos; o aumento do abismo entre a riqueza e a pobreza seja em nível nacional ou internacional; a pauperização da relação trabalhista advinda da terceirização da produção.

Exercício 86

A Nova Ordem Mundial começou após o fim e a fragmentação da União Soviética em 1991, e se desenvolve até os dias atuais. A concepção de um **mundo unipolar** seria justificada pela dominância dos Estados Unidos como principal potência militar, econômica e tecnológica, ou seja, com poderio muito superior às demais potências. A tentativa de tornar o mundo unipolar ficou evidente com a reação dos Estados Unidos aos atentados de 2001, principalmente a ideia de “guerra preventiva” (Afeganistão e Iraque) e desrespeito às organizações internacionais como a ONU. Porém, a tese predominante é que o mundo é cada vez mais **multipolar** e esta perspectiva ficou evidente pelas dificuldades dos Estados Unidos no campo geopolítico e pela grave crise financeira a partir de 2008. Além dos Estados Unidos (principal potência militar, mas com declínio econômico relativo), existem outras potências tradicionais como Japão, Alemanha, Reino Unido e França com dificuldades econômicas. E nos anos 2000, ficou claro o crescimento das potências emergentes, a exemplo do grupo BRICS (Brasil, Rússia, Índia, China e África do Sul). O que mais chama a atenção é o crescimento do poderio chinês do ponto de vista econômico, financeiro e também militar.

Exercício 87

a) A economia americana passa a ser afetada por vários problemas de ordem externa como o crescimento econômico da China, Europa Ocidental e do Japão e a dependência do petróleo com preços em elevação. No plano interno, os problemas estão relacionados com o alto custo comparativo da mão de obra americana em relação a algumas potências emergentes como a China. Os altos gastos militares comprometem a capacidade americana de investimentos internos.

b) A inadimplência do setor imobiliário deu início à crise financeira de 2008, que rapidamente se alastrou em países desenvolvidos da Europa, atingindo mais ainda Grécia, Irlanda e Portugal. A retenção de capital em bancos e agências financeiras reduziu os investimentos com impactos sobre atividades produtivas e gerando desemprego.

Exercício 88

a) Guerra fria (muro de Berlim)
Norte rico sul pobre, globalização (muro de Tijuana)

b) Barreira que tenta impedir a entrada indesejada de populações pobres e mal qualificadas em países mais ricos dotados de sistemas econômicos mais ricos e sofisticados (xenofobia).

Exercício 89

a) Modo como países ou blocos de países se organizam em suas relações político-econômico-sociais

b) Monopolar - forte influência da megapotência, os Estados Unidos.
Multipolar - Blocos econômicos variados como NAFTA, União Europeia, APEC e Mercosul.

Exercício 90

a) A propagação da radiação após o desastre de Chernobyl (1986) provocou graves problemas de saúde na população exposta a radiação, a exemplo de neoplasias malignas (casos de câncer). Aconteceram problemas de saúde em populações em parte do território da Ucrânia e de países vizinhos.

b) A energia nuclear tem como aspecto positivo a não emissão de poluentes decorrentes da queima de combustíveis fósseis como carvão mineral e petróleo. Como não emite gases de efeito estufa, não estimula o Aquecimento Global.

c) A Guerra Fria foi uma disputa ideológica, geopolítica e econômica entre os Estados Unidos (potência capitalista) e União Soviética (potência socialista). Na corrida armamentista e tecnológica, o domínio da energia nuclear era estratégico, o que levou a constituição de um arsenal de armas nucleares e a expansão de usinas nucleares no território dos dois países. Até a atualidade, Estados Unidos e Rússia, mantêm o maior número de armas nucleares.

Exercício 91

a) Os dois países que se destacam em armas nucleares são os Estados Unidos e a Rússia. A Rússia herdou o arsenal nuclear da antiga União Soviética.

b) Quanto às armas nucleares, o Oriente Médio é pouco expressivo. Apenas Israel detém armas nucleares e não assinou o TNP (Tratado de Não Proliferação Nuclear). Todavia, os países do Oriente Médio, apresentam gastos militares relevantes e são grandes importadores de armas, com destaque para a Arábia Saudita na anamorfose. Os gastos militares devem-se ao fato da região ser conflituosa e ter importância estratégica devido ao petróleo. Entre as tensões geopolíticas: as divergências entre Israel e palestinos, da rivalidade entre Arábia Saudita e Irã, a guerra civil na Síria, a guerra civil no Iêmen, além das instabilidades na Turquia, Iraque e Afeganistão.

c) A Nova Ordem Mundial multipolar a partir de 1991 é caracterizada pelo crescimento dos conflitos étnicos, religiosos e separatistas, além do aumento da atividade terrorista. A figura 1 revela os países detentores de armas nucleares, além dos Estados Unidos e Rússia, nações como França, Reino Unido, China, Índia e Paquistão. Também ocorreram tensões em relação aos propósitos dos programas nucleares da Coreia do Norte e Irã. A figura 2 revela a liderança dos Estados Unidos em gastos militares, todavia, verifica-se um volume de investimento militar significativo da China, principal rival geopolítico e econômico dos EUA na atualidade. Nota-se também investimento militar significativo no Japão, Coreia do Norte, Índia, Rússia, França, Alemanha e Reino Unido.

Exercício 92

a) O país A é a Coreia do Norte. Dentre as razões para o fato do país aparecer na imagem às escuras, pode-se citar: o subdesenvolvimento dos setores produtivos que resulta em baixa industrialização, fraca urbanização e incipiente infraestrutura energética; o baixo poder de consumo da

população; o subdesenvolvimento humano destituído de serviços como o da geração de energia; o predomínio da população em atividades rurais, dentre outros.

b) Dentre os argumentos de ordem geopolítica que levam países a considerarem a Coreia do Norte como uma ameaça global e regional pode-se citar: a questão bélica, resultado de um funcional programa nuclear que tem sido responsável pela fabricação de mísseis de médio e longo alcance; a localização estratégica do país em uma região histórica de delicadas relações internacionais que remetem ao período da guerra fria; o desenvolvimento do programa nuclear que tem sido usado como forma de intimidação nos discursos de King Jong; a proximidade de países como China, Coreia do Sul, Japão e Rússia, potências que, em um possível conflito, envolveriam forças em nível global para uma guerra.

Exercício 93

O país mais relevante para o deslocamento do centro de gravidade econômica mundial entre 1913 e 1950 foram os EUA. O país em cuja direção está se movendo esse centro, a partir de 1990 é a China.

Dentre as justificativas para esse deslocamento do centro de gravidade para a China, pode-se apontar: a forte industrialização do país a partir de sua abertura econômica em 1980, seu ingresso na OMC ampliando suas exportações para a maior parte dos países do planeta, o aumento exponencial de seu PIB colocando o país em 2º lugar do mundo; sua demanda por insumos e matéria-prima fazendo com que o país estreite relações comerciais com países do mundo todo.

Exercício 94

Globalização é o processo de integração econômica e cultural apoiado no meio técnico-científico informacional. Dentre seus impactos nas relações políticas, econômicas e sociais, pode-se citar respectivamente: a fragilidade do poder do Estado no desempenho de suas funções agora representadas por corporações transnacionais; a internacionalização do capital produtivo consolidando a interdependência das economias nacionais; o aumento da concentração de riqueza ampliando a exclusão social.

Exercício 95

a) A URSS realizou essa política de subsídios porque inseria um espaço de poder soviético dentro do território americano, área de controle dos EUA; ampliava o poder hegemônico soviético no período da Guerra Fria; era base para revoluções socialistas em um continente cuja maior parte dos países preenchem requisitos para tal, como a pobreza e a insatisfação social; criava uma atmosfera de intimidação militar em um momento de risco de combates nucleares dada a proximidade de Cuba com os EUA.

b) Os gastos excessivos gerenciados pelo Estado, a exemplo dos subsídios direcionados a Cuba, contribuíram para a falência do sistema econômico da URSS.

Exercício 96

01) a robótica, a informação, as telecomunicações e a biotecnologia são ramos industriais e de serviços que apresentaram crescimento acelerado a partir das últimas décadas do século XX, pois o uso de computadores generalizou-se em muitos setores da sociedade, principalmente com o avanço da Internet.

04) a globalização, fase mais recente da expansão capitalista, é fruto do atual período técnico-científico-informacional, com importante papel da web nesse processo, que faz o espaço

geográfico mundial conectar-se a uma rede de fluxos de informação e comunicação, comandada de centros de poderes econômicos e políticos.

08) no século XV, a revolução da imprensa, conduzida pelo alemão Johannes Gutenberg, contribuiu intensamente para a difusão do conhecimento produzido pelos renascentistas, pois a utilização dos tipos móveis possibilitou a ampliação do acesso aos livros na Europa.