

Geografia

Brasil – Espaço Econômico – Agropecuária – [Fácil]

01 - (EFEI SP)

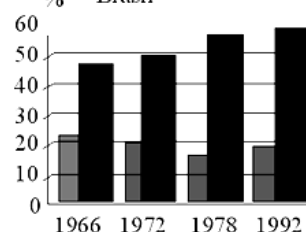
A acentuada aceleração do êxodo rural no Brasil, a partir da década de 60, em decorrência da industrialização e da urbanização, transformou significativamente as relações de trabalho no meio rural. Estas modificações fizeram com que a parcela da mão-de-obra agrícola, hoje conhecida como bóias-frias, adquirisse uma dimensão em torno de 30 a 40 % do total da mão de obra no setor primário. Poderíamos caracterizar o bóia-fria como um trabalhador que:

- recebe uma parcela da propriedade para cultivo próprio em troca de um dia de trabalho para o dono da terra.
- reside na propriedade sendo remunerado parte em dinheiro e parte em alimentos.
- é um diarista temporário que recebe em dinheiro sem residir na propriedade.
- trabalha somente no período de safra, recebendo por empreitada e participação na colheita.
- reside na propriedade e tem parte do seu salário confiscado para quitação de dívidas decorrentes do transporte por ocasião da migração.

02 - (FATEC SP)

A partir da análise da evolução da propriedade da terra e de conhecimentos sobre a realidade econômica brasileira deve-se afirmar que:

Evolução da Estrutura Fundiária no
% Brasil



■ menos de 100 ha
■ mais de 1000ha

Fonte: Incra

- a) somente com concentração da propriedade foi possível ocupar e tomar produtivas grandes porções do Centro-Sul do País.
- b) a concentração da propriedade possibilitou a expansão do trabalho familiar, reduzindo o trabalho assalariado.
- c) a maior produção de gêneros agrícolas destinados ao mercado interno está associada à concentração das propriedades.
- d) a tendência à concentração da propriedade deverá ser revertida com o crescimento do incentivo do Estado à exportação de produtos agropecuários.
- e) o aumento da concentração da propriedade deve-se sobretudo à incorporação de novas terras agrícolas das Regiões Norte e Centro-Oeste.

03 - (UFTM MG)

Na atualidade, um dos fatos mais marcantes da agricultura brasileira é:

- a) a quase extinção do trabalho familiar, devido à maciça ampliação do trabalho assalariado.
- b) o desaparecimento da agricultura camponesa dedicada aos cultivos de subsistência.
- c) a diminuição da interdependência técnica e econômica entre o campo e a cidade.
- d) o expressivo aumento das propriedades com área superior a 1.000 ha – os latifúndios.
- e) a redução do espaço agropecuário devido ao abandono de antigas áreas produtoras.

04 - (FUVEST SP)

Abaixo estão relacionadas algumas características da produção agrícola familiar e da grande empresa agrícola no Brasil:

1. trabalho e gestão intimamente relacionados.
2. trabalho assalariado predominante.
3. predomínio da especialização da produção.
4. trabalho assalariado complementar.

5. trabalho e gestão completamente separados.

São características da produção agrícola:

Familiar Grande Empresa

- | | |
|-------------|----------|
| a) 1 e 2 | 3, 4 e 5 |
| b) 1 e 4 | 2, 3 e 5 |
| c) 3, 4 e 5 | 1 e 2 |
| d) 1, 2 e 3 | 4 e 5 |
| e) 4 e 5 | 1, 2 e 3 |

05 - (Mackenzie SP)

No panorama da pecuária brasileira, uma região se destaca pela expressiva criação de aves e suínos em pequenas e médias propriedades, utilizando, geralmente, mão-de-obra familiar, que permite a grande concentração de frigoríficos. Trata-se:

- a) do centro-oeste de Santa Catarina.
- b) do interior do Estado de São Paulo.
- c) da Campanha Gaúcha.
- d) da região do Pantanal.
- e) do sul do Mato Grosso do Sul.

06 - (Mackenzie SP)

Para a produção de vinhos de qualidade, artigo de grande importância na pauta de exportações de alguns países, o clima deve apresentar características específicas com verões quentes e secos e invernos amenos. Essas condições são encontradas:

- a) na Europa Mediterrânea, porção central do Chile e Califórnia.
- b) na Europa Mediterrânea, no Sahel africano e no vale do Rio Paraíba do Sul no Brasil.

- c) na Europa Mediterrânea, na porção central do Chile e na região dos Grandes Lagos dos E.U.A.
- d) na Europa Mediterrânea, Califórnia e na costa dos países Escandinavos.
- e) na Europa Mediterrânea, na costa dos países Escandinavos e costa atlântica do México.

07 - (Mackenzie SP)

Pão Nosso: mistura de fécula de mandioca à farinha de trigo já é lei em algumas cidades, tramita em outras e pode virar regra no país. **Folha de São Paulo/Agrofolha – 01.10.2002**

A possibilidade da aprovação dessa lei tem como um de seus objetivos:

- a) reduzir a área da triticultura no Brasil, para reduzir a produção nacional e valorizar o trigo no mercado nacional.
- b) incentivar a produção nacional de trigo e garantir o abastecimento do mercado externo em vista da alta do dólar.
- c) incentivar a produção nacional para os produtores de mandioca, a maioria dos quais é de agricultores familiares.
- d) aumentar a área de cultivo da mandioca no país, uma vez que essa produção é mais rentável se comparada à produção do trigo.
- e) incentivar as empresas rurais que se dedicam à produção de fécula de mandioca para concorrer com os tricultores.

08 - (PUC MG)

Sem recursos e orientação para investir em lavouras menos dependentes de pesticidas, **pequenos agricultores brasileiros** sacrificam a saúde dos trabalhadores e geram prejuízos ao ambiente, como forma de sua sobrevivência no campo.

A partir dessa realidade, é comum encontrar as situações abaixo, **EXCETO**:

- a) embalagens de agrotóxicos espalhadas pelas plantações ou junto aos cursos d'água, o que aumenta os riscos de contaminação.
- b) sistemas de irrigação funcionando ininterruptamente, protegendo os mananciais e evitando o assoreamento e o desperdício de água.

- c) despreparo desses produtores, agravado pela falta de orientações técnicas suficientes para defender as plantações e controlar o uso adequado de insumos.
- d) custos elevados e qualidade inadequada dos alimentos, por falta de políticas eficientes de financiamento, apoio, fiscalização e educação ambiental.

09 - (PUC PR)

Em relação à agricultura brasileira, é CORRETO afirmar que:

- a) persiste um elevado padrão de concentração da propriedade da terra.
- b) os melhores solos e as maiores inversões de capitais na agricultura estão voltados para o cultivo de subsistência, principalmente no centrosul do país.
- c) a produção agrícola gera divisas suficientes para financiar a expansão industrial.
- d) os pequenos proprietários de terra, embora possuindo áreas extremamente pequenas, são responsáveis pela produção de gêneros destinados à exportação, como soja e café.
- e) a política fundiária nos últimos anos, embora não tendo conseguido garantir terra para todos, eliminou a figura do grileiro e do posseiro.

10 - (PUC PR)

As alternativas seguintes descrevem características de personagens da estrutura agrária brasileira. Assinale a correta.

- a) Posseiro: pessoa que se apropria ilegalmente de terras e apresenta título falsificado de propriedade.
- b) Gato: trabalhador organizado em busca de acesso à terra.
- c) Latifundiário: proprietário de grandes extensões de terras.
- d) Sem terra: trabalhador rural que tem posse da terra, mas não o documento de propriedade da terra.
- e) Grileiro: pessoa que contrata trabalhadores braçais como mão-de-obra para as fazendas ou projetos agropecuários.

11 - (PUC PR)

O gado caracterizou os hábitos de vestuário, de habitação, os utensílios de uso doméstico e profissional, caracterizou, de igual modo, a alimentação baseada na carne e no leite, observando-se a princípio a falta de farinha de mandioca, alimento fundamental da população, por se acreditar imprópria à cultura de raiz.

O texto caracteriza o modo de vida do:

- a) peão boiadeiro do Centro-Oeste.
- b) peão dos rodeios do interior paulista.
- c) vaqueiro nordestino.
- d) gaúcho dos Pampas.
- e) agropecuarista de Guarapuava.

12 - (PUC RS)

A família do senhor Carlos ocupa há mais de 10 anos uma pequena área na denominada região colonial gaúcha. Tal porção de terra faz parte do que se denomina juridicamente como terras devolutas. A família do senhor Carlos pode ser caracterizada como:

- a) arrendatária.
- b) meeira.
- c) parceira.
- d) grileira
- e) posseira.

13 - (UFAC)

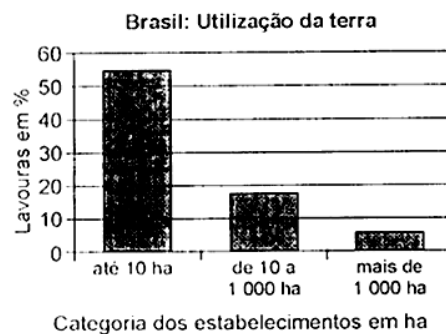
São imóveis explorados de forma econômica e racional, com uma área que, no máximo, chega a 600 módulos rurais. **A definição refere-se a:**

- a) () Empresa Rural
- b) () Latifúndio por exploração

- c) () Minifúndios
- d) () Latifúndio por dimensão
- e) () Terras Devolutas

14 - (UFAL)

Considere o gráfico apresentado abaixo.



A partir dos dados apresentados e de seus conhecimentos sobre a estrutura agrária brasileira, pode-se concluir que

- a) os estabelecimentos com mais de 1.000 ha são os mais produtivos, visto que os proprietários não necessitam utilizar toda a área disponível para a produção agrícola.
- b) as pequenas propriedades e os minifúndios no Brasil caracterizam-se por um maior grau de utilização da terra para a agricultura.
- c) as propriedades entre 10 e 1.000 ha apresentam maior equilíbrio na utilização da terra para a agricultura, mantendo grandes áreas de vegetação nativa.
- d) a maior parte das propriedades com mais de 1.000 ha situam-se em áreas de proteção ambiental, e por isso não podem ser usadas para a agricultura.
- e.) há um grande desequilíbrio na utilização da terra pelos proprietários de pequenas propriedades e minifúndios, já que a maior área é ocupada pela lavoura temporária.

15 - (UFC)

Sobre a questão agrária no Brasil e seus aspectos sociais é verdadeiro afirmar que:

- a) a concentração da propriedade fundiária no Brasil é considerada, atualmente, como uma das principais causas dos problemas agrários;
- b) bóias-frias são trabalhadores rurais que vivem de forma permanente, nas fazendas, com todas as garantias sociais;
- c) a expansão da agricultura familiar, voltada principalmente para o abastecimento do mercado interno, vem recebendo fortes incentivos governamentais;
- d) na região Nordeste, com a expansão das culturas de cana-de-açúcar na Zona da Mata, e de algodão no Sertão, a parceria e o arrendamento foram totalmente substituídos pelo trabalho assalariado;
- e) as lutas de posseiros, indígenas, e de seringueiros, assim como a dos "sem-terras", entre outras, são consideradas hoje como problemas já solucionados.

16 - (UFJF MG)

Leia, com atenção, o texto a seguir:

“Segundo o Ministério do Desenvolvimento Agrário (MDA, 2005), este tipo de agricultura produz hoje 40% da riqueza gerada no campo no Brasil, correspondente a aproximadamente R\$ 57 bilhões. São cerca de quatro milhões de agricultores (84% dos estabelecimentos rurais brasileiros) que vivem em pequenas propriedades e produzem a maior parte da comida que chega à mesa dos brasileiros. Quase 70% do feijão vêm desta atividade, assim como 84% da mandioca, 58% da produção de suínos, 54% do leite bovino, 49% do milho e 40% das aves e ovos. Além disso, é um importante instrumento para manter os trabalhadores no campo. Em 2003, o PIB do setor cresceu 14,31% em relação ao ano anterior. Além de ser a base de importantes cadeias de produtos protéicos de origem animal, sendo majoritária no caso do PIB da Cadeia Produtiva dos Suínos (58,8% do PIB total desta cadeia), do Leite (56%) e das Aves (51%).”

Fonte: www.mda.gov.br

Marque o conceito que adequa-se **CORRETAMENTE** às informações:

- a) Latifúndio de exploração

- b) Monocultura de subsistência
- c) Agricultura familiar
- d) Agricultura de *plantation*
- e) Agricultura de terraceamento

17 - (UFC)

Assinale a alternativa que indica a principal característica do processo de modernização da agricultura brasileira.

- a) Redução da produtividade por falta de insumos
- b) Atendimento à demanda interna por produtos agrícolas
- c) Aplicação de técnicas tradicionais no uso agrícola da terra
- d) Atendimento à demanda externa por produtos agrícolas
- e) Fundamentação em cultivos de subsistência e minifúndios

18 - (UFC)

A partir de 1970, surgiram novas culturas no espaço agrário brasileiro, como, por exemplo, a soja.

Sobre esse produto, assinale a alternativa correta.

- a) Cultura produzida por grandes empresas rurais e destinada, principalmente, ao mercado externo.
- b) Cultura produzida em pequenas propriedades e, principalmente, para o mercado interno.
- c) Cultura de subsistência, produzida, principalmente, na região Centro-Oeste do país.
- d) Cultura produzida em escala comercial e dominante na Zona da Mata nordestina.
- e) Cultura produzida em escala familiar utilizando muita mão-de-obra.

19 - (UFF RJ)

A Região do Oeste baiano possuía como principal característica econômica a pecuária extensiva praticada em latifúndios, secundada por uma agricultura de subsistência nos minifúndios. A partir dos anos 80 essa Região vem conhecendo profundas transformações em sua geografia, devido:

- a) À política do INCRA de colonização dirigida e à introdução de lavouras temporárias.
- b) À chegada de médias e grandes empresas atraídas pelas terras baratas e à introdução da lavoura comercial de soja.
- c) Ao prolongamento da estação seca, reduzindo as terras férteis e os rendimentos das lavouras de subsistência.
- d) Ao processo de desertificação dos cerrados, que reduz as áreas de pastos e provoca o êxodo rural.
- e) À redução dos incentivos fiscais da Sudene e ao rápido crescimento demográfico.

20 - (UEPB)

As proposições a seguir retratam a modernização no espaço agrário brasileiro. Analise-as e identifique a alternativa INCORRETA.

- a) A desruralização é um processo patente no espaço agrário brasileiro. O campo foi tomado por uma modernização de caráter urbano, a ponto de não podermos identificá-lo inteiramente como rural.
- b) As inovações tecnológicas permitiram: a expansão das áreas cultivadas, a elevação dos índices de produtividade, mas não aumentaram a oferta de empregos agrícolas.
- c) A modernização ampliou os contatos do homem do campo. O telefone, os jornais, a televisão, a circulação de revistas, expandiram o universo dessas relações, inserindo-o num mundo moderno e consumidor.
- d) A expansão das relações capitalistas deu-se com grandes investimentos de capitais, da mecanização agrícolas, incorporação de novos solos, da biotecnologia e da abolição total da concentração de terras.
- e) O Centro Sul é o palco principal de todo processo da modernização brasileira.

21 - (PAIES MG)

O projeto de desenvolvimento rural, adotado ao longo de décadas no Brasil, tem como principal objetivo

- a) a fixação do homem no campo.
- b) a superação da pobreza rural.
- c) a expansão e consolidação do agronegócio.
- d) a produção de alimentos para subsistência.

22 - (UNIFESP SP)

Está correto afirmar que a agricultura brasileira:

- a) recebeu capital internacional nos últimos anos, resultando em um aumento da exportação de grãos.
- b) desenvolveu-se em pequenas e médias propriedades, resultando em um modelo de produção competitivo com os países europeus.
- c) não recebe subsídios fiscais, resultando no aumento do custo de produção e na perda de mercado internacional.
- d) está baseada no extrativismo, resultando na formação de cooperativas de pequenos proprietários.
- e) não sofre influência da estrutura agrária do país, resultando na produção de alimentos nas áreas agricultáveis de todo o país.

23 - (UNIFOR CE)

Considere as afirmações abaixo sobre os problemas encontrados na moderna agricultura brasileira.

- I. O uso excessivo de adubos químicos e agrotóxicos, quando carregados pelas chuvas, poluem os rios e contaminam os lençóis freáticos.
- II. As técnicas de terraceamento e curvas de nível podem ser fatores decisivos no controle à erosão.

- III. A introdução de vegetais transgênicos, embora não apresente riscos ecológicos, não é freqüente devido aos custos elevados das sementes.
- IV. O uso de irrigação nas culturas, sem análises prévias das características dos solos podem promover a salinização dos mesmos.
- V. Nas áreas tropicais do país, a prática freqüente de revolver a terra com tratores é a mais adequada para conservar os microrganismos do solo.

Estão corretas SOMENTE

- a) I, II e III
- b) I, II e IV
- c) I, III e V
- d) II, IV e V
- e) III, IV e V

24 - (UNIMAR SP)

“Área explorável que, em determinada posição do país, direta e pessoalmente explorada por um conjunto familiar equivalente a quatro pessoas adultas, correspondendo a 1 000 jornadas anuais, lhe absorva toda a força de trabalho em face do nível tecnológico adotado naquela posição geográfica e, conforme o tipo de exploração considerado, proporcione um rendimento capaz de assegurar-lhe a subsistência e o progresso social e econômico.”. Segundo o Estatuto da Terra de 1964, este imóvel rural é:

- a) o minifúndio;
- b) o módulo rural;
- c) o latifúndio por dimensão;
- d) o latifúndio por exploração;
- e) a empresa rural.

25 - (VUNESP SP)

O grande volume de produção de frutas tropicais do nordeste brasileiro, cujo grande consumidor é o mercado europeu, deve-se :

- a) ao clima quente e úmido, sem mudanças bruscas e ao aproveitamento das águas das nascentes do Rio São Francisco.
- b) à tecnologia de irrigação por gotejamento e ao aproveitamento das águas do Rio Capibaribe.
- c) ao clima semi-árido e ao aproveitamento das águas do Rio São Francisco para irrigação.
- d) ao clima tropical super úmido e ao aproveitamento das fortes chuvas concentradas no verão.
- e) ao clima desértico e à utilização de tecnologia israelense, aproveitando o orvalho, freqüente na região.

26 - (VUNESP SP)

O Brasil, de importador de algodão na década de noventa do século XX, passou a ter exportações significativas na atualidade. No mapa, estão destacados os estados produtores de algodão para exportação.



Fonte: *Abrapa*, 2002.

Utilizando seus conhecimentos geográficos, assinale a alternativa que indica corretamente a vegetação nativa da área, o sistema de cultivo e as técnicas principais empregadas.

- a) Campos de altitude, rotação de terras, baixa mecanização.

- b) Coníferas, rotação de cultura algodão/cana-de-açúcar, baixa mecanização.
- c) Gramíneas, rotação de terras, tração animal.
- d) Floresta caducifólica, rotação de culturas com pastagens artificiais, alta mecanização.
- e) Cerrado, rotação de cultura algodão/soja, alta mecanização.

27 - (ULBRA RS)

Sobre a produção agropecuária brasileira são feitas as seguintes afirmações.

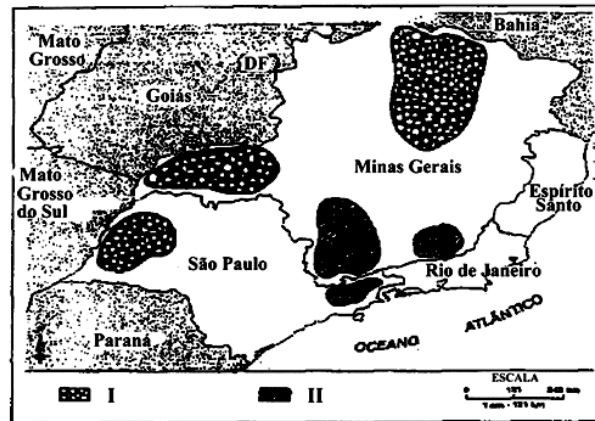
- I. Está situada entre as maiores do mundo.
- II. A distribuição regional da produção agropecuária é muito desigual e está fortemente concentrada no Centro-Sul do país.
- III. O rebanho bovino brasileiro é muito pequeno e está concentrado na região sudeste.

São corretas:

- a) apenas I;
- b) I e II;
- c) II e III;
- d) I e III;
- e) todas as afirmações acima.

28 - (UFJF MG)

Observe o mapa:



Fonte: Adaptado de IBGE, *Atlas Nacional do Brasil*, 1992. Apud MOREIRA, Igor. *Construindo o espaço do homem 2*.

Ática: São Paulo, 1998.

Marque a alternativa que completa corretamente a legenda do mapa.

- a) I: pecuária de corte; II: pecuária leiteira;
- b) I: áreas de assentamentos do INCRA; II: áreas de conflitos sociais comandados pelo MST;
- c) I: maiores índices pluviométricos no verão; II: maiores índices pluviométricos no inverno;
- d) I: mata tropical; II: mata atlântica.

29 - (UFOP MG)

Sobre a agropecuária brasileira e suas características, assinale a alternativa incorreta.

- a) A agropecuária destina a maior parte de sua produção para o autoconsumo.
- b) A agricultura praticada na região Centro-Sul do país é largamente mecanizada.
- c) A agricultura da região Centro-Sul apresenta os maiores índices de produtividade.
- d) A concentração fundiária é um dos fatores de intensificação dos conflitos rurais.
- e) O sul de Minas é uma das mais importantes áreas produtoras de leite do país.

30 - (UFOP MG)

Sobre a atividade agrária no Brasil é **incorreto** afirmar:

- a) O aumento da produção agrícola no Brasil depende do acréscimo de novas terras ao sistema produtivo, já que o espaço atualmente cultivado atingiu a produção máxima.
- b) As culturas de exportação, como a soja, recebem maiores incentivos que as culturas de subsistência.
- c) As relações assalariadas de trabalho predominam no campo brasileiro e são marcadas pelos baixos salários e pela sazonalidade.
- d) As técnicas modernas incorporadas implicam aumento da capitalização e repercutem sobre a mão-de-obra empregada.

31 - (UFMG)

Observe no mapa as áreas assinaladas.



Em relação a essas áreas, é correto afirmar que nelas predominam:

- a) culturas comerciais, grandes e médias propriedades.
- b) culturas de subsistência e minifúndios.

- c) culturas irrigadas e microempresas agrícolas.
- d) policultura e pequenas propriedades familiares.

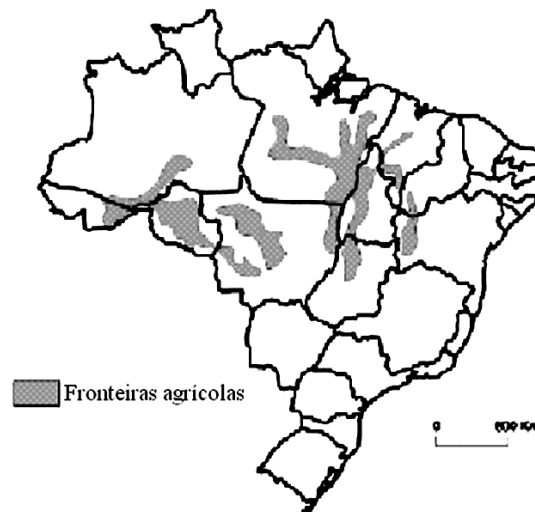
32 - (UFMG)

Todas as alternativas sobre a agricultura brasileira estão corretas, EXCETO:

- a) A agricultura moderna e a rudimentar coexistem e utilizam técnicas que agredem o meio ambiente.
- b) A capitalização do campo ocorreu com fortes desigualdades nas diversas regiões do país.
- c) A maior parte dos solos é fértil, mas a obtenção de insumos químicos, facilitada pelo baixo custo, induz ao uso desnecessário desses produtos.
- d) O aumento da produção agrícola se deu mais pela ampliação da fronteira que por ganhos de produtividade.

33 - (UFMG)

Observe este mapa, em que estão representadas as fronteiras agrícolas que se constituíram no território brasileiro, na segunda metade do século XX:



FONTE: BECKER, B. K. et al. (Org.). Geografia e meio ambiente no Brasil. São Paulo /

Rio de Janeiro: HUCITEC / Comissão Nacional do Brasil da União Geográfica

Internacional, 1995. p. 197. (Adaptado)

Considerando-se essas fronteiras agrícolas, é **INCORRETO** afirmar que elas:

- a) diferem quanto ao grau de incorporação de técnicas produtivas, podendo ser tanto modernas quanto tradicionais.
- b) ocupam ecossistemas diferentes, como os de floresta equatorial, floresta tropical e cerrado.
- c) priorizam a horticultura e a fruticultura voltadas para o abastecimento das metrópoles regionais.
- d) resultam de movimentos migratórios espontâneos e de projetos de colonização oficial e privada.

34 - (UFRN)

José Graziano da Silva, analisando a relação cidade-campo afirma:

*Está cada vez mais difícil delimitar o que é rural e o que é urbano. (...) Podese dizer que o rural hoje só pode ser entendido como um **continuum** do urbano, do ponto de vista espacial; e do ponto de vista da organização da atividade econômica as cidades não podem ser identificadas apenas com a atividade industrial nem o campo com a agricultura e a pecuária. Em poucas palavras, pode-se dizer que o meio rural brasileiro se urbanizou nas últimas décadas...*

GRAZIANO, J. S. **O novo rural brasileiro**. São Paulo: UNICAMP. IE, 1999. p. 1.

Tendo como referência o fragmento textual acima, é possível afirmar que:

- a) a distinção espacial entre cidade-campo se relaciona à modernização da agricultura, que, no espaço urbano, fortalece a indústria e, no rural, a própria agricultura.
- b) o estabelecimento dos limites espaciais entre cidade-campo pode ser identificado pelo grau de mecanização da agricultura.
- c) a articulação cidade-campo se realiza pela manutenção das atividades agroindustriais no campo e de serviços na cidade.
- d) o rompimento da fronteira cidade-campo está relacionado ao processo de flexibilização na localização das indústrias e dos serviços.

35 - (UFRN)

Observe as áreas hachuradas no mapa a seguir.



Nas duas últimas décadas, essas áreas hachuradas têm-se notabilizado, no cenário nacional, devido:

- a) aos grandes projetos agroindustriais.
- b) à intensa produção agrícola.
- c) aos conflitos pela posse da terra.
- d) à expansão da fronteira agrícola.

36 - (UFRN)

A terra cedida a terceiros em troca de parte da produção caracteriza o sistema de meia ou de terça.

Esse modo de exploração da terra se dá sob forma de:

- a) arrendamento.
- b) parceria.
- c) ocupação.
- d) grilagem.

37 - (UFRN)

Identifique a opção em que a situação do bóia-fria está mais bem caracterizada.

- a) parceiro temporário e com participação indireta nos rendimentos da produção
- b) assalariado permanente e residente fora do local de trabalho
- c) trabalhador temporário, sem vínculo empregatício e remunerado por sua produtividade
- d) trabalhador sazonal, residente na propriedade e com participação nos lucros da colheita

38 - (UFRN)

O relativo sucesso de alguns projetos de irrigação vem modificando a paisagem de algumas áreas do semi-árido nordestino, o que se reflete no(a):

- a) declínio da participação da pecuária intensiva na economia nordestina.
- b) expansão da produção de alimentos para o mercado interno.
- c) modernização da agricultura através do uso intensivo de tecnologia.
- d) redução das áreas agrícolas irrigadas em outras regiões do país.

39 - (UFRN)

O produto agrícola que o Estado Brasileiro mais importa é:

- a) Arroz
- b) Milho
- c) Soja
- d) Trigo
- e) Feijão

40 - (UFRGS)

Sobre a agricultura brasileira são feitas as seguintes afirmações.

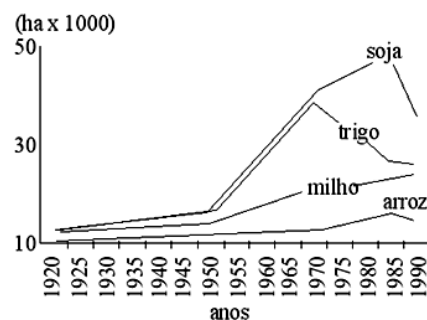
- I. A mecanização da agricultura é uma das manifestações da modernização agrícola, e trouxe consigo o êxodo rural.
- II. A estrutura fundiária brasileira mantém-se excludente, na medida em que privilegia o grande capital e as culturas de exportação, em detrimento da agricultura familiar.
- III. A reforma agrária é atualmente uma das grandes questões sociais e políticas do Brasil, congregando vários setores da sociedade e partidos políticos.

Quais estão corretas?

- a) Apenas I.
- b) Apenas II.
- c) Apenas III.
- d) Apenas I e II.
- e) I, II e III.

41 - (UFRGS)

O gráfico abaixo apresenta a área ocupada pelas culturas de arroz, milho, soja e trigo no município de São Francisco de Assis/RS entre 1920 e 1990



Observando esse gráfico pode-se afirmar que

- a) a produção agrícola do município caracteriza-se, desde a década de 20, como coletada às culturas do binômio trigo-soja.
- b) apesar da introdução da cultura da soja, a cultura do milho continua crescendo.
- c) diferentemente do norte do Estado, o impulso nas culturas de trigo e da soja surge no município a partir da década de 70.
- d) com a ampliação da área cultivada do trigo e da soja, as culturas do milho e arroz sofreram drástica redução de área de plantio.
- e) a política agrícola relativa ao binômio trigo-soja favoreceu, no município, a expansão da área cultivada desde a década de 50 até 1990.

42 - (UFRGS)

Quanto à utilização, o espaço agrário brasileiro encontra-se ainda, em boa parte, condicionado pelo mercado externo. Compreende lavouras que, além de atender às necessidades do mercado interno, destinam grande parte de sua produção à exportação.

Sobre esse tema, analise o mapa abaixo.



Assinale a alternativa que completa corretamente, de cima para abaixo, as linhas da legenda do mapa acima.

- a) cana-de-açúcar - algodão - arroz – cacau
- b) café - cana-de-açúcar - soja – cacau
- c) café - algodão - arroz - cana de açúcar
- d) arroz - algodão - soja – laranja
- e) café - cana-de-açúcar - arroz e cacau

43 - (UFRGS)

Observe a figura abaixo.



A principal consequência da prática agrícola ilustrada nessa figura é

- a) o aumento da infiltração da água no solo.
- b) o aumento da erosão do solo.
- c) a diminuição do escoamento das águas pluviais.
- d) a melhoria da saúde das plantas.
- e) o incremento da produtividade da lavoura.

44 - (UFPB)

Sobre a estrutura fundiária no Brasil, é correto afirmar-se:

- a) As grandes extensões de terra no Brasil são aproveitadas para a produção de alimentos.
- b) O módulo rural é uma área destinada pelo INCRA para várias famílias sem terras.
- c) A área ocupada pelos estabelecimentos agropecuários privilegia as pastagens em detrimento das lavouras alimentares.
- d) A parceria é uma sociedade estabelecida, juridicamente, entre o produtor e o proprietário da terra, onde o lucro da produção é dividido pelos dois.
- e) Nos pequenos estabelecimentos rurais, os trabalhos são realizados por pessoas empregadas da família proprietária.

45 - (UNIMONTES MG)

No setor agrícola brasileiro, existem várias relações de trabalho. As alternativas abaixo apresentam algumas dessas relações. Assinale a INCORRETA.

- a) os trabalhadores contratados de forma legal usufruem de todos os direitos trabalhistas, como acontece com os trabalhadores urbanos
- b) os meeiros cultivam parte das terras de um proprietário, para o qual entregam a terça parte da sua produção
- c) os bóias-frias são trabalhadores temporários, contratados pelas grandes fazendas, principalmente na época de colheita
- d) os pequenos proprietários cultivam suas terras com base no trabalho familiar e, quando necessário, com ajuda de vizinhos

46 - (UFPE)

Essa prática agrícola visa, de uma certa maneira, quebrar ciclos de doenças e pragas, mudando a cultura de lugar, e poupar o solo da exaustão causada pela monocultura. Um dos exemplos mais comuns no Brasil desta prática agrícola são as culturas do milho e do feijão. O que está sendo especificamente descrito?

- a) a Agricultura Integrada.
- b) a Agricultura Orgânica.
- c) a Rotação de Culturas.

- d) a Agrossilvicultura.
- e) a Agricultura de "Plantation".

47 - (UFPI)

Os cultivos modificados geneticamente vêm sendo fortemente criticados e repudiados em sua comercialização como alimento, por alguns setores da Comunidade Européia. Assinale a alternativa correta que indica a denominação desses alimentos.

- a) Poligênicos;
- b) Clonados;
- c) Enxertados;
- d) Mutagênicos;
- e) Transgênicos.

48 - (UFPI)

A utilização agrícola nas área de encosta de serras requer que o plantio seja efetuado em curvas de nível e terraceamento. Assinale a alternativa que indica corretamente algumas finalidades dessas técnicas.

- a) Impedir a fixação de mudas e de sementes através da mecanização.
- b) Reduzir o efeito da erosão e aumentar a infiltração hídrica.
- c) Implantar a irrigação e intensificar o intemperismo físico.
- d) Recuperar a paisagem natural e as propriedades químicas do solo.
- e) Intensificar o escoamento superficial e o rebaixamento do lençol freático.

49 - (UFPI)

Com relação à distribuição da vegetação no território do Piauí, leia as afirmações abaixo.

- I. A caatinga se distribui nos setores leste e sudeste, junto aos estados do Ceará, de Pernambuco e da Bahia.
- II. O cerrado predomina ao longo da faixa central e no sudoeste, junto aos estados do Maranhão e de Goiás.
- III. O cerrado concentra-se na parte leste, junto aos estados da Bahia e do Ceará.

Da leitura das afirmações, é correto afirmar que:

- a) apenas I é verdadeira.
- b) apenas II é verdadeira.
- c) apenas III é verdadeira.
- d) I e II são verdadeiras.
- e) I e III são verdadeiras.

50 - (UFPI)

A região sul do estado do Piauí vem passando por profundas modificações ambientais em razão das novas formas de ocupação. Marque a alternativa que indica corretamente esse novo tipo de ocupação.

- a) Serviços especializados
- b) Extrativismo vegetal
- c) Indústrias têxteis
- d) Mineração de calcário

51 - (FUVEST SP)

A partir da década de oitenta do século XX, programas agrícolas promoveram o desenvolvimento da região centro-oeste do Brasil. Isso foi realizado com grande aplicação de capital e utilização de técnicas agrícolas avançadas. Podemos afirmar que a substituição das formações do cerrado pela agricultura mecanizada, entre outras características,

- a) foi favorecida pela grande fertilidade de suas terras planas, próprias dos chapadões.

- b) aumentou a tendência natural de processos erosivos por interferências antrópicas, como a compactação do solo.
- c) desnudou extensas áreas de mares de morros, provocando assoreamento de rios, como o Araguaia.
- d) gerou poucos impactos ambientais, tendo em vista a substituição de uma cobertura vegetal por outra.
- e) eliminou as queimadas naturais e antrópicas na região com o uso de irrigação por gotejamento.

52 - (Mackenzie SP)

Primeiro é necessário discutir algo sobre o conceito de modernização. Normalmente, quando se fala em modernização da agricultura, pensa-se apenas nas modificações ocorridas na base técnica de produção, na substituição das técnicas agrícolas tradicionalmente utilizadas por técnicas modernas: o burro pelo trator, o esturme pelo adubo químico, a enxada pelo arado. E, quando se pretende avaliar o processo de modernização, procura-se analisar apenas a evolução dos índices de utilização das máquinas e dos vários insumos agrícolas. Modernização, porém, significa muito mais que isso. Ao mesmo tempo que vai ocorrendo aquele progresso técnico na agricultura, vai-se modificando também a organização da produção, que diz respeito às relações sociais (e não técnicas) de produção. A composição e a utilização do trabalho modificam-se, intensificando-se o uso do bóiafria e do trabalhador volante; a forma de pagamento da mão-de-obra é cada vez mais assalariada; os pequenos produtores, sejam proprietários, parceiros ou posseiros vão sendo expropriados, dando lugar, em certas regiões, à organização da produção em moldes empresariais.

Francisco Graziano Neto - Questão Agrária e Ecologia: crítica da agricultura moderna

Considere as afirmações abaixo e assinale a alternativa que complementa o texto, tendo, o Estado brasileiro, o papel fundamental de agir como agente regulador do espaço agrário.

- I. Rever a política da estrutura fundiária do país, adequada às políticas modernas de reforma agrária.
- II. Regulamentar as relações de trabalho nas áreas rurais.
- III. Estabelecer uma política de prioridades na produção, que vise ao abastecimento na seguinte ordem: mercado externo, agroindústria e mercado interno.
- IV. Garantir financiamento e subsídios agrícolas.

- a) Somente I complementa.
- b) Somente III complementa.
- c) Todas complementam.
- d) Somente I, II e III complementam.
- e) Somente I, II e IV complementam.

53 - (Mackenzie SP)

Em relação ao uso do solo no Brasil, verifica-se que a expansão desse produto agrícola deixou marcas significativas na estrutura fundiária do Estado de São Paulo, onde as pequenas propriedades quase desapareceram e o trabalho temporário foi implantado. Depois, essa relação de trabalho expandiu-se para quase todas as outras lavouras e fez surgir no país um novo tipo de trabalhador rural – o bóia-fria.

Trata-se:

- a) da cana-de-açúcar.
- b) da soja.
- c) da laranja.
- d) do café.
- e) do arroz.

54 - (UECE)

O processo de globalização da economia provocou transformações profundas no processo produtivo associado à atividade agropecuária, que foi amplamente reestruturado com a introdução da ciência, da tecnologia e da informação, resultando um novo modelo técnico, econômico e social de desenvolvimento agrícola. No Brasil, a modernização do setor foi intensa desde os anos 60 do século XX.

Assinale a alternativa que NÃO corresponde a realidade brasileira.

- a) O aumento da extensão da área cultivada continua sendo o fator principal de crescimento da produção agrícola, uma vez que o uso intensivo de capital e tecnologia não possibilitou a

elevação da produtividade do trabalho e da terra, que continua avançando muito lentamente até hoje.

- b) Uma característica da modernização da agricultura é a ampla utilização de máquinas, insumos químicos e biotecnológicos, fornecidos pela atividade industrial, provocando notáveis metamorfoses nas relações sociais de produção.
- c) A modernização da agropecuária privilegiou determinados segmentos sociais, econômicos e os espaços agrícolas mais rapidamente suscetíveis à uma reestruturação sustentada pelas inovações científico-técnicas e pela globalização da produção e consumo.
- d) Acirrou-se a expansão das relações capitalistas de produção no meio rural, tendo sido conduzida de forma extremamente prejudicial à maioria da população rural, à organização do território e ao meio ambiente, promovendo um desenvolvimento cada vez mais desigual no país.

55 - (UFAM)

A produção agropecuária é fortemente concentrada no Brasil. De acordo com os dados do último censo, apenas oito estados, liderados por São Paulo, são responsáveis por 75,8 % do valor da produção do setor. Em grande parte, essa concentração pode ser explicada pelo preço da terra. No Nordeste do Brasil o grande volume de produção de frutas tropicais é absorvido pelo mercado europeu, e isto deve-se:

- a) Ao clima tropical superúmido e ao aproveitamento das fortes chuvas concentradas no verão.
- b) Ao clima quente e úmido, sem mudanças bruscas, e ao aproveitamento das águas das nascentes do Rio São Francisco.
- c) À tecnologia de irrigação por gotejamento e ao aproveitamento das águas do Rio Capibaribe.
- d) Ao clima semi-árido e ao aproveitamento das águas do Rio São Francisco para irrigação.
- e) Ao clima desértico e à utilização de tecnologia israelense, aproveitando o orvalho, freqüente na região.

56 - (UFG GO)

A modernização da agricultura no planalto Central se dá por meio da relação entre mecanização e apropriação do relevo em áreas de cerrado. É característica dessa relação:

- a) a destruição das veredas destinadas às atividades de policultura.

- b) o desenvolvimento da monocultura em vastas áreas de topografia plana.
- c) a drenagem dos solos hidromorfizados para atividades de pecuária.
- d) a compactação dos solos nas áreas de fundos de vale para edificações de armazéns.
- e) o uso de solos em áreas de declividade acentuada para rotação de culturas.

57 - (UFMG)

Nos últimos anos, vem crescendo, no Brasil, o excedente de trabalhadores rurais.

Todas as alternativas apresentam razões que podem, em parte, explicar esse fato, **EXCETO**:

- a) Áreas de agricultura familiar, a exemplo do que vem ocorrendo no norte do Paraná, voltaram-se para cultivos altamente mecanizados – como os da soja e do trigo.
- b) Regiões que se especializaram na agricultura de exportação seguem o padrão internacional de redução de custos do trabalho na produção.
- c) Espaços de incorporação recente à economia agrícola – como o sul do Maranhão e o oeste da Bahia – optaram por técnicas modernas, que dificultam a retenção da mão-de-obra no campo.
- d) Parcelas de terra de cultivo têm permanecido ociosas em consequência da oscilação negativa da demanda de alimentos no mercado internacional.

58 - (UNIFOR CE)

Em 1985, o Brasil colheu 58 milhões de toneladas de grãos em uma área de 40 milhões de ha. Em 2003, a área total era apenas 10% maior, ou seja, 44 milhões de ha. A produção, entretanto, cresceu mais de 100%.

(Adaptado de **Globo Rural**. n. 216, outubro de 2003. p.54)

Um dos fatores que explica o ocorrido é:

- a) o aumento da agricultura do tipo familiar.
- b) o forte crescimento tecnológico e gerencial no campo.
- c) a expansão do trabalho assalariado no setor primário.
- d) a ocupação das áreas antes recobertas por floresta tropical.

e) a redução do número absoluto de grandes propriedades.

59 - (FGV)

Brasil 1994



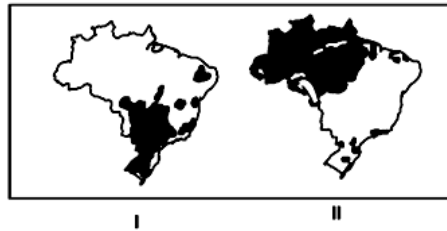
Fonte: Graça Maria Lemos Ferreira. Atlas Geográfico, S.P., Moderna, 1998, p.23.

Na figura acima, I e II representam a espacialização:

- a) do consumo nacional de soja e laranja.
- b) da produção nacional de trigo e café.
- c) das áreas exportadoras de soja e café.
- d) do consumo nacional de trigo e laranja.
- e) da produção nacional de uva e algodão.

60 - (FGV)

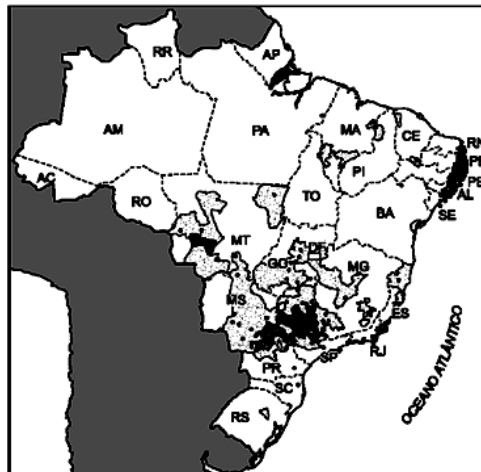
Os mapas I e II destacam, respectivamente, a predominância dos seguintes usos da terra:



- a) Pecuária melhorada / Pecuária primitiva.
- b) Grande agricultura comercial / Extrativismo vegetal.
- c) Pecuária melhorada / Pequena agricultura comercial e de subsistência.
- d) Pecuária primitiva / Extrativismo vegetal.
- e) Pequena agricultura comercial e de subsistência / Grande agricultura comercial.

61 - (UFTM MG)

A distribuição observada no mapa retrata



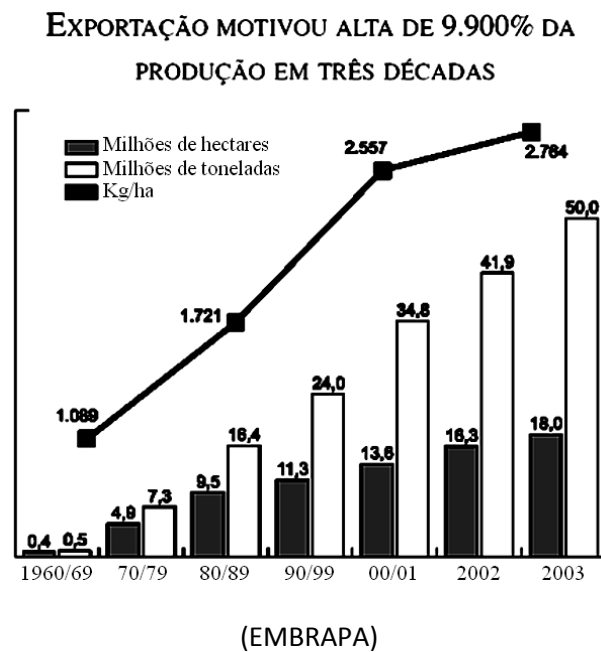
(Atlas Geográfico, IBGE, 2002)

- a) a agroindústria do açúcar e álcool.

- b) os principais centros industriais com metalúrgicas.
- c) a concentração do rebanho bovino.
- d) as principais áreas produtoras de arroz.
- e) os municípios com maiores taxas de analfabetismo.

62 - (UFTM MG)

Observe o gráfico:



A evolução apresentada no gráfico demonstra a possibilidade de o Brasil, nos próximos anos, liderar a produção mundial de:

- a) café.
- b) carne bovina.
- c) cana-de-açúcar.

- d) oja.
- e) trigo.

63 - (UECE)

Uma das temáticas mais polêmicas da atualidade diz respeito aos transgênicos.

Assinale a alternativa FALSA:

- a) dentre os problemas mais graves associados aos transgênicos está o do reconhecimento da propriedade intelectual das empresas que produzem e comercializam as sementes transgênicas, permitindo a cobrança de royalties, como já está acontecendo no Rio Grande do Sul;
- b) existem poucas certezas e muitas incógnitas entre os pesquisadores do tema, sobre os reais impactos dos transgênicos para a saúde do homem e do meio ambiente;
- c) não há nenhum motivo para polêmicas sobre o assunto, pois já está provado que a utilização dos transgênicos não trás nenhum mal nem à saúde do homem, nem a do meio ambiente;
- d) a expansão dos transgênicos corrobora para o processo de perda da biodiversidade inerente à introdução, em larga escala, de plantas e animais geneticamente modificados.

64 - (UECE)

Assinale a alternativa verdadeira no que tange ao comum entre os municípios de Sorriso (MT), Barreiras (BA), Balsas (MA), Rio Verde (GO), Ribeirão Preto (SP), Rondonópolis (MT) e Luis Eduardo Magalhães (BA).

- a) Possuem importantes metalúrgicas exportadoras.
- b) São importantes protagonistas do agronegócio brasileiro.
- c) Possuem os menores núcleos urbanos do país.
- d) Possuem os melhores Índices de Desenvolvimento Humano (IDH) no Brasil.

65 - (UESPI)

Identifique, dentre as opções abaixo, aquela que menciona a propriedade fundiária definida a seguir. “Imóvel que explorado, racionalmente ou não, possui dimensão superior a 600 módulos da região em que se situa.”

- a) Empresa Rural
- b) Latifúndio por Dimensão
- c) Sistema de Plantation
- d) Latifúndio por Exploração
- e) Minifúndio por Extensão.

66 - (EFOA MG)

O processo de industrialização da agricultura, intensificado após a década de 50 (séc. XX), conseqüência da expansão industrial, contribuiu para importantes mudanças no campo e nas relações da agricultura com outros setores da economia. Os produtos agrícolas não são mais entregues in natura, agora, são processados para depois serem vendidos ao consumidor final, e os insumos para a agricultura (adubos, máquinas, etc.) são adquiridos da indústria, e não fabricados dentro das propriedades.

Assim, a agricultura deixou de ser um setor isolado, passando a ser integrado a outras atividades econômicas, sobretudo à indústria.

Marque a alternativa que corresponda a uma característica desse processo:

- a) Formação de complexos agroindustriais.
- b) Intensa reforma agrária.
- c) Ampliação do cultivo de arroz na região Nordeste.
- d) Fim dos latifúndios.
- e) Predomínio da agricultura ecológica e alternativa.

67 - (UFLA MG)

Indique a alternativa que interpreta **CORRETAMENTE** o quadro abaixo.

Estabelecimentos agrícolas no Brasil		
	Número	Área total (ha)
Menos de 10 ha	3.086.598 (52,9%)	10.159.737 (2,7%)
10 a 100 ha	2.176.372 (37,3%)	69.613.016 (18,5%)
100 a 1.000 ha	519.295 (8,9%)	132.076.588 (35,1%)
Mais de 1.000 ha	52.53 (0,9%)	164.813.520 (43,8%)

Fonte: A opção brasileira / César Benjamin... [et. al.] - Rio de Janeiro: Contraponto, 1998. 208p.

Pelos dados apontados no quadro, é possível concluir que

- a) a produção agrícola em áreas menores do que 10 ha é insignificante (2,7%).
- b) há um equilíbrio entre o número de estabelecimentos agrícolas e sua equivalência em área total no Brasil.
- c) não existem áreas de latifúndio no Brasil.
- d) é extremamente desigual a distribuição de terras no Brasil, uma vez que a maioria das terras se concentra numa minoria de estabelecimentos.
- e) qualquer análise sobre a temática em questão não é confiável, uma vez que os dados apresentados são de 1996.

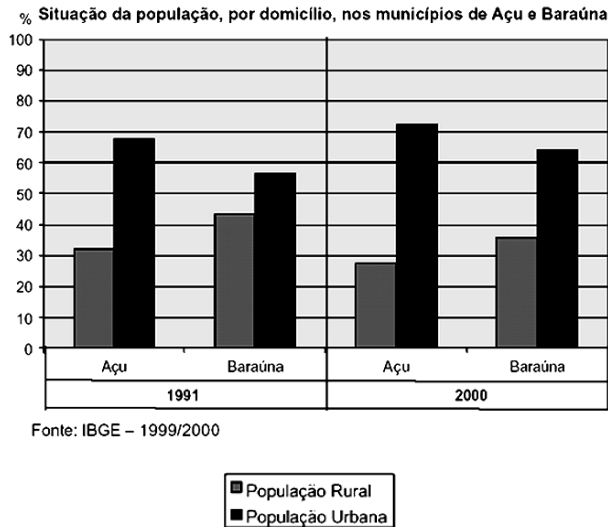
68 - (UFOP MG)

Sobre a atividade agrária, assinale a afirmativa **incorreta**.

- a) A mão-de-obra no meio rural é constituída majoritariamente por ocupantes, parceiros, meeiros e arrendatários, que se deslocam para o campo a partir das periferias das cidades.
- b) Dados a respeito da produção agrícola brasileira mostram que o crescimento do setor, nos últimos anos, tem sido muito mais intensivo do que extensivo, o que implica, dentre outros fatores, concentração fundiária e intensidade de uso da terra.
- c) Embora o Brasil seja um país que possui excelentes condições climáticas e de solo, a produção de grãos por ano é, em média, quatro vezes menor do que a média de produção em países de condições iguais.
- d) Embora seja uma atividade relacionada com as condições naturais, o seu desenvolvimento depende da substituição das práticas tradicionais de cultivo por inovações tecnológicas.

69 - (UFRN)

O gráfico abaixo apresenta a situação da população de dois municípios do Rio Grande do Norte – Açu e Baraúna – nos anos de 1991 e 2000.



Embora esses municípios sejam importantes áreas de produção agrícola do Estado, um dos fatores que explicam o fenômeno representado no gráfico é a:

- a) ocorrência de um intenso processo de modernização agrícola.
- b) expansão dos sistemas irrigados de alta tecnologia nas pequenas propriedades agrícolas.
- c) intensificação do processo de ocupação da terra por produtores familiares.
- d) integração da agricultura familiar às grandes multinacionais.

70 - (UNIMONTES MG)

Agricultura orgânica é um sistema de gerenciamento total da produção agrícola com vistas a promover e realçar a saúde do meio ambiente, preservando a biodiversidade, os ciclos e as atividades biológicas do solo.

Sobre esse tipo de agricultura, é INCORRETO afirmar que

- a) enfatiza o uso de práticas de manejo, em oposição ao uso de elementos estranhos ao meio rural.
- b) exclui a adoção de substâncias químicas nocivas aos ecossistemas.
- c) propõe a prática de queimadas sistemáticas para o preparo do solo a ser cultivado.
- d) proíbe a utilização de organismos geneticamente modificados.

71 - (UNIMONTES MG)

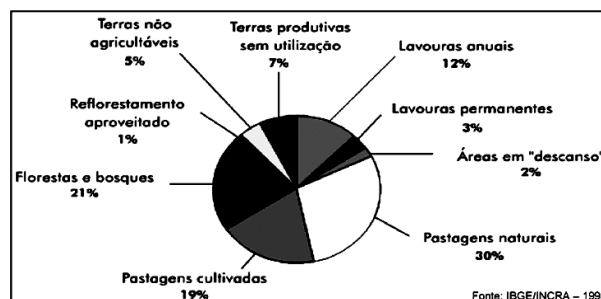
Na atualidade, verifica-se uma significativa alteração nos padrões de mobilidade espacial da população brasileira.

São fenômenos que interferem nessa mobilidade, EXCETO:

- a) baixo dinamismo dos mercados urbanos de trabalho.
- b) surgimento de novas formas de marginalidade urbana.
- c) desconcentração econômica, caracterizada pela migração de indústrias.
- d) desconcentração fundiária, caracterizada pelo predomínio de minifúndios.

72 - (UNIMONTES MG)

Observe o gráfico.

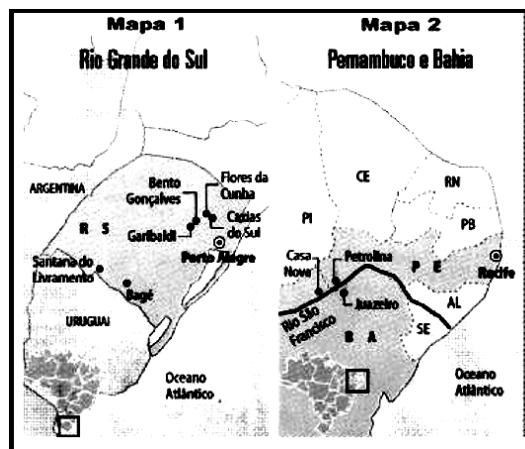


O gráfico acima mostra

- a) a estrutura fundiária brasileira, que se apresenta altamente concentrada.
- b) a exploração do solo, no Brasil, que tem na agropecuária a sua base econômica.
- c) o uso do solo, no Brasil, com o predomínio das áreas utilizadas como pastagens.
- d) a distribuição das terras produtivas, no Brasil, ocupadas, em sua maioria, pelas lavouras.

73 - (Mackenzie SP)

As regiões retratadas nos fragmentos de mapas do Brasil apresentam um produto agrícola comum. No mapa 1 – RS – seu cultivo é histórico e no mapa 2 – no Vale Médio do Rio São Francisco –, surge como novo produto. Trata-se:



Folha de São Paulo

- a) do algodão.
- b) da vinha.
- c) do arroz.
- d) do trigo.
- e) de frutas tropicais.

74 - (PUC MG)

A realidade da agricultura brasileira apresenta dicotomias que geram características particulares. Assinale a afirmativa INCORRETA.

- a) O aumento da mecanização e do uso de agrotóxicos ocorre com maior intensidade nas lavouras para exportação e matéria-prima industrial.
- b) A agricultura tradicional, praticada principalmente em pequenas e médias propriedades, é que garante o abastecimento do mercado interno de certos produtos como o feijão.
- c) A concentração da terra nas mãos de poucos proprietários pode ser responsabilizada por favorecer a fome e a desnutrição de parte da população brasileira.
- d) As pequenas propriedades não praticam a agricultura comercial, limitando-se à prática da policultura de subsistência.

75 - (PUC RJ)

A expansão da produção da soja no Brasil atende a numerosos interesses. Assinale a afirmativa que NÃO apresenta corretamente interesses relacionados com a produção da soja:

- a) sua exportação contribui para a obtenção de superávits na balança comercial;
- b) sua ligação com o mercado de trabalho garante numerosos postos de trabalho;
- c) seu preço no mercado mundial envolve os mercados de ações e grupos financeiros;
- d) sua produção está associada aos complexos agroindustriais e ao agronegócio;
- e) seu cultivo exige grandes investimentos em insumos e máquinas produzidos pelas transnacionais.

76 - (UEPB)

“O Brasil é o maior produtor de mamão do mundo, mas ocupa só o terceiro lugar entre os exportadores da fruta.

Para conquistar mais mercado, os agricultores estão investindo alto. Uma fazenda usa tecnologia de ponta e está criando novas variedades de mamão. Setecentos hectares de pomar, quase 800 mil pés de mamão produzindo.

[...] A fazenda resolveu produzir as próprias mudas para ter um maior controle da qualidade, inclusive da qualidade do material genético [...] em 45 dias as mudas estão prontas para o plantio mecanizado.

[...] Um trator abre o sulco e outro distribui o adubo. O terceiro faz a mistura de terra com fertilizantes e ajeita as linhas de cultivo. O quarto trator traz dois trabalhadores [...] A mecanização

torna o plantio mais uniforme e barato, porque emprega metade dos trabalhadores necessários para fazer o serviço manualmente.”

([http:// globoruraltv. globo.com](http://globoruraltv.globo.com), em 18 de junho de 2005.)

Assinale com V ou com F as proposições, conforme sejam respectivamente verdadeiras ou falsas em relação aos aspectos da agricultura moderna presentes no texto.

- () Para atender ao mercado urbano/industrial moderno, unidades produtivas rurais especializam-se e transformam o campo, marcando as paisagens rurais pela monotonia das monoculturas.
- () Na busca do aumento da produtividade, o campo tem se modernizado através da especialização e da mecanização da produção agrícola e do uso da biotecnologia, o que torna o espaço rural altamente dependente do consumo e dos serviços urbanos.
- () No mercado unificado pela globalização, os estabelecimentos agrícolas que não utilizam o emprego maciço de capital e tecnologia, nem inovam nos aspectos organizacionais, tornam-se fragilizados e sujeitos ao fracasso.
- () No mercado globalizado, a produção agrícola científica e programada exige tanto trabalhadores qualificados como crescente emprego de mão-de-obra não qualificada, resultando no atual processo de “ruralização” dos países ou regiões onde a agricultura se modernizou.

A seqüência correta é:

- a) V V V F
- b) F F F V
- c) V F V F
- d) F F V V
- e) V F F V

77 - (UFMG)

Considerando-se a agricultura comercial praticada no Brasil, é INCORRETO afirmar que:

- a) o agronegócio constitui um canal de entrada do capital internacional na agricultura brasileira e, assim, contribui para a subordinação de grande parte dessa atividade aos interesses estrangeiros.
- b) a agricultura de exportação reúne, em reduzidos espaços, grande diversidade de culturas visando a atender às exigências do mercado.
- c) as áreas agrícolas de incorporação recente apresentam estrutura fundiária concentrada e exigem elevados investimentos por hectare cultivado.
- d) as últimas safras agrícolas justificam a expressão *celeiro mundial*, atribuída ao País e contribuem para a liderança deste na exportação de vários produtos alimentares.

78 - (UFPE)

Considerando os diferentes sistemas agrícolas, é **incorreto** afirmar que:

- a) o sistema de “Plantation” pressupõe uma acentuada concentração da propriedade fundiária nas mãos de poucas pessoas ou empresas.
- b) o sistema agrícola é o conjunto de relações sociais, conhecimentos, tradições e técnicas empregados pelos grupos humanos em sua relação com a terra.
- c) nas áreas rurais, nas quais a agricultura está claramente voltada para os mercados consumidores interno e externo, os sistemas agrícolas diferem muito, em função do nível de desenvolvimento alcançado pelo país.
- d) no Brasil, a roça itinerante pode ser considerada como sistema agrícola tradicional, adotado por agricultores que não dispõem de muitos recursos técnicos.
- e) os sistemas agrícolas, em todo o Brasil, têm permanecido resistentes às mudanças tecnológicas e aos estímulos do mercado mundial.

79 - (UFRRJ)

A agricultura brasileira aumentou, nas últimas décadas, sua participação no comércio mundial de *commodities*. Para tornar-se ainda mais competitiva, ela deveria procurar “nichos” de mercado, nos quais teria melhores condições de atender à demanda mundial.

Sobre as oportunidades potenciais que podem surgir para a agricultura brasileira, analise as afirmativas a seguir.

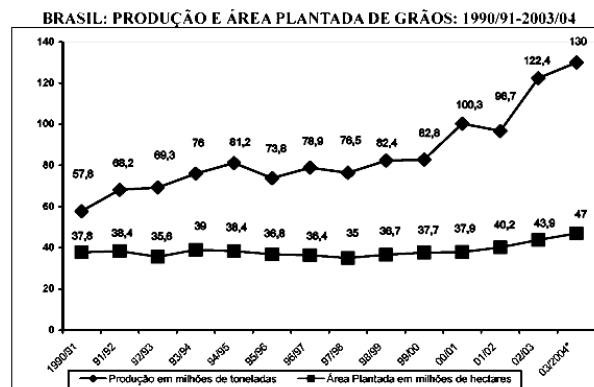
- I. As condições tropicais facilitam a criação a pasto, o que aumentará a aceitação nos mercados internacionais da proteína “verde”.
- II. A expansão da “fronteira” possibilita a ampliação da produção de álcool anidro e biodiesel, o que permitirá atender à demanda externa de biocombustíveis.
- III. As temperaturas elevadas e as chuvas abundantes favorecem o cultivo de florestas homogêneas, o que diminuirá a pressão sobre a Amazônia e atenderá à crescente demanda externa de celulose e papel.

Assinale:

- a) se somente a afirmativa I estiver correta.
- b) se somente a afirmativa III estiver correta.
- c) se somente as afirmativas I e II estiverem corretas.
- d) se somente as afirmativas II e III estiverem corretas.
- e) se todas as afirmativas estiverem corretas.

80 - (UFU MG)

Analise o quadro abaixo:



* Previsão

Adaptado de: EDWARD, J. O Brasil que planta e colhe dinheiro. Veja. São Paulo, n. 30, abr./2004, p.17. (Edição especial)

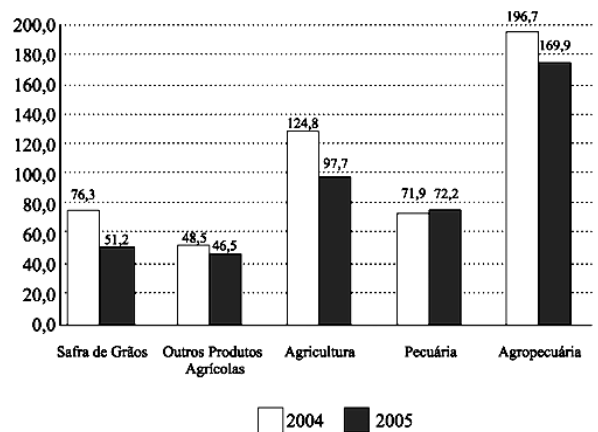
Observando o gráfico sobre a evolução da produção de grãos nas lavouras brasileiras no período 1990/91 a 2003/04, pode-se afirmar que:

- a) enquanto a produção agrícola praticamente dobrou na última década, passando de 57,8 para 130 milhões de toneladas, a área plantada apresentou pouco crescimento, o que se explica pelo elevado nível de tecnologia empregado pelos agricultores brasileiros.
- b) o uso de tecnologia na agropecuária brasileira tem contribuído para o aumento progressivo de emprego no campo, com a criação de ocupações tradicionalmente agrícolas, tais como a prestação de serviços, lazer e turismo rural.
- c) o aumento na produção de grãos deve-se exclusivamente à expansão da área plantada, que saltou de 37,8 milhões de ha. em 1990/91, para 47 milhões de ha. na safra de 2003/04.
- d) o crescimento da produção de grãos no Brasil, nas últimas décadas, tem seguido padrões sustentáveis de produção, com a manutenção do emprego no campo e a preservação do meio ambiente.

81 - (UNESP SP)

Em março de 2005, o faturamento do setor agropecuário brasileiro apresentou diminuição de 13,6% em relação ao mesmo período de 2004. Analise o gráfico.

BRASIL: VALOR BRUTO DA PRODUÇÃO AGROPECUÁRIA
EM BILHÕES DE REAIS, A PREÇOS DE MARÇO/2005.



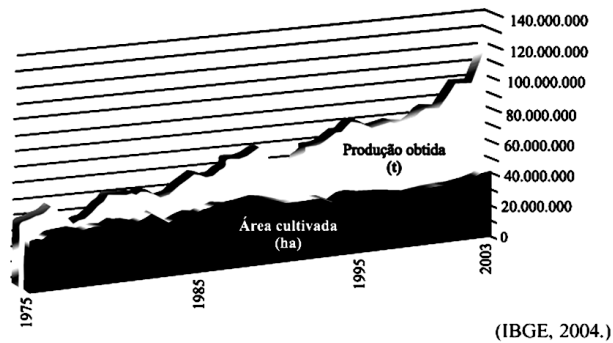
(CNA, 2005.)

A queda no valor total da produção agropecuária brasileira, de R\$ 196,7 bilhões em março de 2004 para R\$ 169,9 bilhões em março de 2005, ocorreu pela redução dos valores da:

- a) safra de outros produtos agrícolas e da pecuária.
- b) safra de grãos e da pecuária.
- c) safra de grãos e de outros produtos agrícolas.
- d) pecuária.
- e) safra de grãos.

82 - (UNIFESP SP)

A partir do gráfico,



está correto afirmar que a produção agrícola brasileira, no período de 1975 a 2003,

- a) teve um crescimento vertiginoso, mantendo as áreas de cultivo, que é destinado à exportação.
- b) manteve-se estável, apesar do crescimento da área cultivada, gerando desmatamento elevado.
- c) apresentou crescimento na produção e declínio na área cultivada, sem prejuízo das exportações de alimentos.

- d) cresceu, pelo cultivo de cana-de-açúcar para produzir álcool, triplicando a área cultivada.
- e) aumentou mais que o dobro, enquanto a área cultivada expandiu-se pouco, indicando uma maior produtividade.

83 - (UFRRJ)

No espaço rural brasileiro, a estrutura fundiária ainda se encontra muito concentrada, e as relações de trabalho acham-se muito desiguais. Neste espaço, há diversos atores sociais.

Aponte a opção abaixo em que o conceito relacionado a relações de trabalho não está correta:

- a) Pequeno proprietário – lavradores que trabalham em base familiar.
- b) Meeiro – aquele que trabalha na terra de outro proprietário, ficando com a terça parte da produção.
- c) Arrendatário – aquele que “aluga” a terra e paga em dinheiro.
- d) Bóia-fria – trabalhador que exerce sua função de forma temporária.
- e) Gato – pessoa responsável que arregimenta e transporta trabalhadores temporários.

84 - (PUC RS)

Quanto às áreas de planaltos e chapadas da Bacia do Paraná, no Rio Grande do Sul, é correto afirmar que

- a) a formação étnica predominante nessas áreas é constituída por descendentes de portugueses e de japoneses.
- b) limitam-se, a leste, com o Escudo Cristalino.
- c) trata-se de importantes áreas produtoras de soja e de trigo.
- d) sua cobertura vegetal natural é constituída de Florestas Tropicais.
- e) sua formação geológica é basicamente constituída de rochas metamórficas.

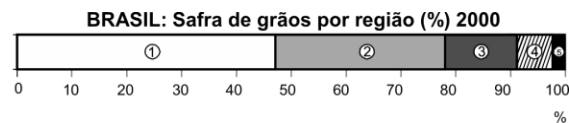
85 - (UFOP MG)

Sobre as mudanças recentes, ocorridas na agricultura brasileira, assinale a alternativa que apresenta uma afirmação incorreta:

- a) Houve aumento do contingente de trabalho assalariado.
- b) Houve aumento do número de produtores especializados.
- c) Houve aumento da industrialização do processo de produção.
- d) Houve aumento do número de lavouras de subsistência.

86 - (UNIFOR CE)

A questão está relacionada ao gráfico abaixo.



(IBGE)

Os números 1 e 2 no gráfico correspondem, respectivamente, às regiões

- a) Sudeste e Nordeste.
- b) Sul e Nordeste.
- c) Sul e Centro-Oeste.
- d) Centro-Oeste e Sudeste.
- e) Nordeste e Sul.

87 - (PUC RS)

Considere o texto e as afirmações.

A safra brasileira da soja foi destaque em 2007. As condições climáticas e os investimentos feitos pelos produtores favoreceram a supersafra.

Quanto a essa cultura agrícola, afirma-se

- I. Representa uma cultura de verão, fechando o binômio com o trigo, produzido no inverno.
- II. A região que mais produz soja no Brasil é a Centro-Oeste.
- III. A produção de soja é voltada totalmente para o consumo interno.
- IV. Emprega muita mão-de-obra pois, devido à altura das plantas, não utiliza maquinaria na sua colheita.

Estão corretas apenas as afirmativas

- a) I e II.
- b) I, III e IV.
- c) I e IV.
- d) II e III.
- e) II, III e IV.

88 - (UFG GO)

Um fator determinante do processo de uso e ocupação do território goiano é a demanda do mercado por produtos agropecuários e seus derivados. Atualmente, verifica-se o aumento da instalação de unidades agroindustriais e da área cultivada de

- a) pastagens para criação de gado destinado à produção de leite e derivados.
- b) soja para a produção do biodiesel.
- c) algodão para produção de sementes e fibras.
- d) pastagens para criação de gado destinado à produção de carne e derivados.
- e) cana-de-açúcar para a produção do etanol.

89 - (UNIMONTES MG)

Observe o mapa.

Localização das indústrias de álcool no Brasil



Fonte: Núcleo Interdisciplinar de Planejamento Estratégico (Nipe).

Sobre o assunto mostrado no mapa, é INCORRETO afirmar que

- a) o estado de São Paulo é responsável por mais da metade de toda a produção nacional de cana-de-açúcar.
- b) o Brasil é o país com a maior experiência em biocombustíveis e com a maior produção e exportação de etanol combustível do mundo.
- c) o clima da Amazônia é o mais adequado para o cultivo da cana-de-açúcar, que tende a crescer muito, concentrando muito açúcar.
- d) a produção de etanol deve implicar novas fronteiras agrícolas para o Brasil e pode provocar danos ambientais em vários ecossistemas.

90 - (UFAM)

A maior parte do capital aplicado na industrialização brasileira, a partir de 1930, teve origem nos lucros obtidos com a exportação de:

- a) soja
- b) açúcar
- c) café
- d) petróleo
- e) carvão

91 - (UNESP SP)

Analise as seguintes afirmações, relacionadas à agricultura brasileira.

- I. A introdução de técnicas que aumentam a produtividade no campo ampliou a concentração de terras.
- II. Há, de forma crescente e evidente, a articulação entre indústria e agricultura.
- III. Houve um avanço do capital na agricultura brasileira e a introdução exclusiva do trabalho assalariado.
- IV. Os pequenos produtores tornaram-se independentes, tanto em relação aos produtos a serem comercializados quanto aos recursos financeiros.

Estão corretas somente as afirmações

- a) I e II.
- b) I e III.
- c) I e IV.
- d) II e III.
- e) III e IV.

92 - (FEI SP)

“Os planos do imigrante nordestino que seguia para a Amazônia, seduzido pela propaganda fantasista dos agentes [...], ou pelo exemplo das poucas pessoas afortunadas que regressavam com recursos, baseavam-se nos preços que o produto havia alcançado em suas melhores etapas. Ao

declinarem estes de vez, a miséria generalizou-se rapidamente. Sem meios para regressar e na ignorância do que realmente se passava na economia mundial do produto, lá foram ficando.”

Furtado, Celso. *Formação Econômica do Brasil*.

São Paulo: Ed. Nacional, 1984, p. 134.

O produto a que Celso Furtado se refere é o(a):

- a) borracha.
- b) café.
- c) algodão.
- d) cacau.
- e) açúcar.

93 - (FEI SP)

Seu cultivo enriqueceu a região durante décadas. O aparecimento de uma praga denominada “vassoura-de-bruxa” fez fortunas desaparecerem e trouxe a crise à região. Estamos falando, respectivamente:

- a) do café e do Vale do Paraíba.
- b) do cacau e do sul da Bahia.
- c) do algodão e do sul do Maranhão.
- d) da cana-de-açúcar e do litoral pernambucano.
- e) da cana-de-açúcar e do interior paulista.

94 - (PUC RS)

Considere as afirmativas a seguir, que tratam dos sujeitos que atuam no espaço agrário brasileiro.

- I. Posseiro é o agricultor que ocupa terras abandonadas; legalmente pode valer-se do usucapião para reclamar a posse definitiva das terras após ocupá-las por certo tempo, dependendo dos casos estabelecidos em lei.
- II. Gato é o especulador de terras que se apropria de grandes áreas, falsificando títulos de propriedade rural.
- III. Grileiro é o empresário que arregimenta trabalhadores que vivem na sua localidade para levá-los a outras regiões do país com promessas que costumam não ser cumpridas, podendo, inclusive, gerar trabalho escravo.
- IV. Meeiro é o trabalhador, geralmente desprovido de terras, que oferece sua mão-de-obra e seus equipamentos em troca de uma parte da produção, conforme acordo firmado com o proprietário da terra a ser trabalhada.

As afirmativas corretas são, apenas,

- a) I e II.
- b) I e IV.
- c) II e III.
- d) III e IV.
- e) I, II e IV.

95 - (UFES)

As plantações de soja ocupam, atualmente, cerca de 35% das áreas de lavoura no Brasil (IBGE, Produção Agrícola Municipal, 2006). Sobre a soja, é CORRETO afirmar:

- a) A produção de soja se destina ao abastecimento interno, compondo, atualmente, uma das bases alimentares da população brasileira.
- b) A expansão das lavouras de soja se fez com a intensa utilização de tecnologias agrícolas, tais como maquinários e insumos.

- c) A expansão do cultivo da soja promove uma melhor distribuição de terras, pois é realizada por pequenos produtores rurais.
- d) A soja é uma das principais commodities brasileiras, destinada, principalmente, à produção de biodiesel.
- e) A produção de soja diminui a dependência das importações de grãos para consumo humano, contribuindo para o programa de segurança alimentar.

96 - (UNIMONTES MG)

Sobre a organização do espaço brasileiro após os anos de 1990, é **INCORRETO** afirmar que:

- a) a região Centro-Sul, a mais urbanizada, constitui também a área mais atrelada à economia internacional.
- b) as fronteiras agrícolas se deslocaram para o interior da Amazônia, tendo o café e a cana como os principais produtos.
- c) a migração interna é caracterizada pelo movimento sazonal de trabalhadores rurais das regiões mais pobres para as mais ricas.
- d) as cidades médias têm atraído investimentos econômicos e, conseqüentemente, têm apresentado crescimento populacional.

97 - (UERJ)

Pode-se relacionar a charge abaixo à seguinte ação econômica empreendida na República Velha:



- a) compra de excedentes dos cafeicultores pelo governo federal
- b) concessão de moratória a fazendeiros para cancelamento das dívidas
- c) limitação do crédito à expansão cafeeira decorrente do encilhamento
- d) desvalorização do café pela troca de favores entre os governos estaduais e o federal

98 - (UFTM MG)

Considere o texto.

Embora a expansão desta cultura esteja mais concentrada em São Paulo, já o está também no Paraná, em Mato Grosso do Sul, no Triângulo Mineiro, em Goiás e em Mato Grosso.

Nesses Estados, reduziu-se a área de produção de alimentos agrícolas e se deslocou a pecuária na direção da Amazônia.

(Ariovaldo Umbelino de Oliveira. *Folha de S.Paulo*, 2008)

Com base nos conhecimentos sobre as transformações recentes no campo brasileiro, pode-se concluir que o texto trata da expansão do(a)

- a) cana-de-açúcar.

- b) feijão.
- c) eucalipto.
- d) algodão.
- e) soja.

99 - (UERJ)



O Globo, 28/01/2010

Os conflitos relacionados à propriedade fundiária no Brasil possuem raízes históricas profundas e uma multiplicidade de agentes sociais envolvidos.

Na situação referida nos quadrinhos, um desses agentes sociais, o grileiro, é mais especificamente definido por:

- a) apoderar-se de terras de forma ilegal
- b) promover a segurança pessoal dos latifundiários
- c) pressionar os pequenos fazendeiros para a venda dos imóveis

- d) ocupar uma pequena área desprovida de título de propriedade

100 - (ESCS DF)

As diversas regiões brasileiras apresentam desenvolvimentos bastante diferenciados em relação aos seus aspectos naturais, sociais e econômicos. A opção que indica o correto desenvolvimento regional em relação a esses aspectos é:

- a) o Nordeste do Brasil concentra a maior produção industrial brasileira, com destaque para os setores de açúcar e álcool e de pesca;
- b) na região Sul, além das importantes atividades agrícolas e extrativas, destaca-se o maior polo metal-automotivo do país;
- c) na região Norte, existe uma forte concentração de atividades extrativas, responsáveis pela maior geração de emprego;
- d) na região Sudeste, a forte concentração industrial criada no governo militar tem como modelo o de Plataforma de Exportação;
- e) na região Centro-Oeste, existe um grande polo econômico associado a atividades agroindustriais, como a produção de carne ligada a grandes frigoríficos e a produção de grãos, como a soja.

101 - (FATEC SP)

Leia duas descrições de agentes sociais muito presentes no campo brasileiro.

- I. Pessoas que se apropriam ilegalmente de extensas porções de terra, obtendo frequentemente títulos de propriedade falsificados.
- II. Pessoas que cultivam pequenos lotes de terra, em geral há muitos anos, sem possuir título de propriedade.

As descrições I e II correspondem, respectivamente, a

- a) grileiros e posseiros.
- b) jagunços e grileiros.
- c) peões e parceiros.

- d) empreiteiros e boias-frias.
- e) agregados e empresários.

102 - (IBMEC RJ)

Sobre a agricultura brasileira atual são feitas as seguintes afirmativas:

- I. a modernização de nossa agricultura foi possível graças aos investimentos privados, na medida em que nos últimos vinte anos não tem havido qualquer tipo de incentivo estatal;
- II. com a utilização da técnica de irrigação, o Nordeste tem obtido nos últimos anos excelentes resultados na exportação de frutas;
- III. é para o mercado interno que se dirige a maior parte da produção de soja, utilizada especialmente na produção de óleo comestível.

Assinale:

- a) se apenas a afirmativa I for correta;
- b) se apenas a afirmativa II for correta;
- c) se apenas a afirmativa III for correta;
- d) se as afirmativas I e II forem corretas;
- e) se as afirmativas II e III forem corretas.

103 - (UFG GO)

O cultivo da cana-de-açúcar no Brasil pode ser dividido em três fases, correspondentes aos períodos 1975-1987, 1988-2000 e 2000-2008. São características da terceira fase:

- a) redução de áreas de pastagens e de plantio de soja e aumento da territorialidade do complexo agroindustrial sucroalcooleiro.

- b) criação do Programa Brasileiro do Álcool e pressão das crises mundiais do petróleo no modelo energético.
- c) desregulamentação do setor sucroalcooleiro e estagnação produtiva.
- d) concentração do plantio de cana-de-açúcar nas áreas tradicionais e oscilação na produção de etanol.
- e) produção de etanol visando à seguridade energética nacional ante um cenário instável e aumento da produção de açúcar.

104 - (UFRN)

A partir da década de 1970, agricultores brasileiros se mudaram para o Paraguai, atraídos pela oferta de trabalho e terra barata, ficando conhecidos pelo apelido de “brasiguaios”. O governo do Paraguai calcula que existam hoje cerca de 400 mil brasiguaios vivendo naquele país, o que inclui os filhos de brasileiros nascidos lá. Em determinadas regiões do Paraguai, a presença dos brasiguaios é geradora de conflitos, o que levou o Itamaraty a afirmar recentemente que talvez seja essa a situação mais difícil vivida por brasileiros no exterior (Disponível em: <<http://globo.ruraltv.globo.com/GRural>>. Acesso em: 7 jul 2010.

Uma das razões desses conflitos é

- a) a disputa pela posse da terra para fins de exploração agrícola.
- b) a competição por garimpos visando à extração de ouro.
- c) a apropriação de terras onde prevalece o extrativismo da borracha.
- d) a exploração de minas de diamantes destinados a exportação.

105 - (UECE)

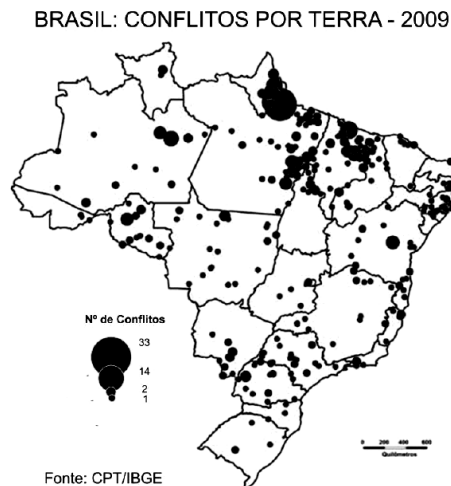
Rotação de culturas é uma técnica agrícola de conservação que visa diminuir a exaustão do solo. Isto é feito trocando as culturas a cada novo plantio de forma que as necessidades de adubação sejam diferentes a cada ciclo. Consiste em alternar espécies vegetais, numa mesma área agrícola. A rotação de culturas é vantajosa por que

- a) viabiliza a possibilidade de produção de vários produtos na mesma safra.

- b) diminui a longo e médio prazo os gastos com recuperação de solo.
- c) garante, ao agricultor, maior lucratividade em curtíssimo prazo.
- d) aumenta a lucratividade do produtor por conta da qualidade do produto.

106 - (UFT)

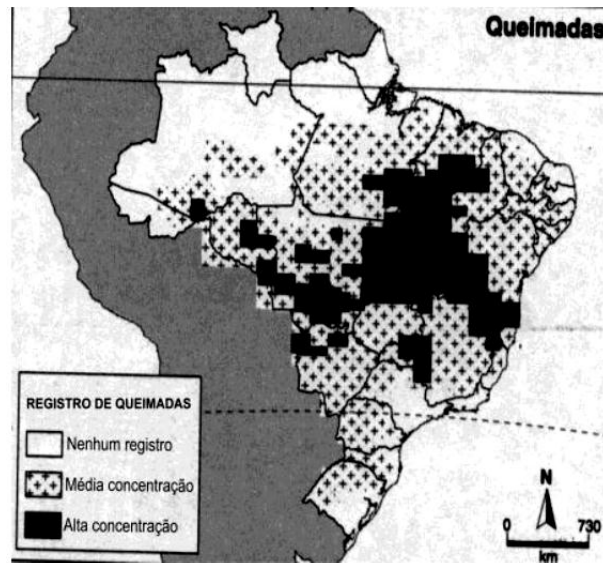
A estrutura fundiária no Brasil está concentrada nas mãos de uma pequena parcela da população, criando assim os conflitos por terra. Diante deste problema o mapa abaixo mostra a distribuição territorial mais conflitante em 2009 no território brasileiro. Assinale a alternativa CORRETA. A região no Brasil com maior número de conflitos por terra:



- a) Região Norte
- b) Região Nordeste
- c) Região Centro-Oeste
- d) Região Sudeste
- e) Região Sul

107 - (UFT)

As queimadas no Brasil são problemas ambientais oriundos, sobretudo das práticas da agricultura que causam prejuízos ao meio ambiente e à saúde da população. Com base no mapa abaixo que mostra as queimadas no Brasil num determinado período de 2010 segundo o INPE (Instituto Nacional de Pesquisa Espacial), assinale a alternativa CORRETA que indica quais os biomas mais afetados na área de alta concentração das queimadas.



- a) Caatinga, Campos, Floresta Amazônica
- b) Cerrado, Floresta Amazônica, Caatinga
- c) Cerrado, Mata da Araucária, Vegetação Litorânea
- d) Floresta Amazônica, Campos, Mata de Araucária
- e) Vegetação do Pantanal, Mata Atlântica, Caatinga

108 - (ESCS DF)

As fotos a seguir são de Antônio Luiz dos Santos, que trabalha como boia-fria na zona canieira do Norte Fluminense, Rio de Janeiro.



Fonte: O Globo, 20/06/1997



Fonte: O Globo, 26/06/2011

A produção no campo passou por um processo de modernização em grande parte do território brasileiro. No entanto, no caso do boia-fria da reportagem, as condições de trabalho e de vida continuam as mesmas.

Com relação aos trabalhadores rurais temporários dos canaviais, no Brasil, é correto afirmar que:

- a) trabalham o ano inteiro na mesma fazenda com seus facões afiados;
- b) moram de favor com sua famílias nas próprias fazendas de cana-de-açúcar;
- c) ganham um salário mensal e possuem carteira de trabalho assinada pelo patrão;
- d) perdem o emprego devido à mecanização do corte da cana em várias fazendas;
- e) vendem parte do que produzem nas cidades próximas das fazendas onde moram.

109 - (FGV)

Analise o mapa.



(http://n.i.uol.com.br/ultnot/Mapa_Brasil2006.gif)

O produto destacado no mapa é

- a) a cana-de-açúcar.
- b) o algodão.
- c) o café.
- d) o feijão.
- e) a soja.

110 - (Mackenzie SP)



NIPE - Unicamp, IBGE e DTC

No mapa, estão assinaladas

- a) áreas de maior produção de minério de Ferro, com exportações voltadas, principalmente, para o mercado chinês.
- b) regiões onde se concentra a pecuária melhorada ou semi-intensiva, com destacável participação nas exportações do país.
- c) áreas com maior produção de soja.
- d) principais áreas produtoras e consumidoras de gás natural.

- e) áreas de maior produção de etanol.

111 - (UNICAMP SP)

“A produção de grãos no Brasil na safra 2009/2010 será recorde (147,10 milhões de toneladas), superando em 8,8% o volume produzido na safra 2008/2009 (....). A área plantada na safra 2009/2010 é de 47,33 milhões de hectares, 0,7% menor que a cultivada na safra 2008/2009.”
(*Jornal Brasil Econômico*, 06/08/2010, p. 17.)

O aumento de produção de grãos em área menor indica um aumento da produtividade, em função dos seguintes fatores:

- a) uso de sementes geneticamente modificadas, baixa utilização de insumos agrícolas e de maquinário, mão de obra predominantemente assalariada e uso intensivo do solo.
- b) uso de sementes de melhor qualidade, maior utilização de insumos agrícolas e de maquinário, mão de obra predominantemente assalariada e uso intensivo do solo.
- c) uso de sementes de melhor qualidade, maior utilização de insumos agrícolas e de maquinário, mão de obra predominantemente familiar e uso extensivo do solo.
- d) uso de sementes geneticamente modificadas, maior utilização de insumos agrícolas e de maquinário, mão de obra predominantemente familiar e uso intensivo do solo.

112 - (UFRN)

Um agricultor adquiriu dez hectares de terra para práticas agrícolas. A propriedade, atravessada por um rio perene, apresenta solos de boa fertilidade. Todavia, predomina um relevo de médias altitudes com declividade acentuada. Preocupado com a conservação do solo, o agricultor consultou um engenheiro agrônomo. Este recomendou arar e semear o solo seguindo as cotas altimétricas do relevo, o que reduz a velocidade do escoamento superficial da água, os processos erosivos e a perda de solo agricultável. A técnica de conservação do solo recomendada pelo engenheiro agrônomo denomina-se

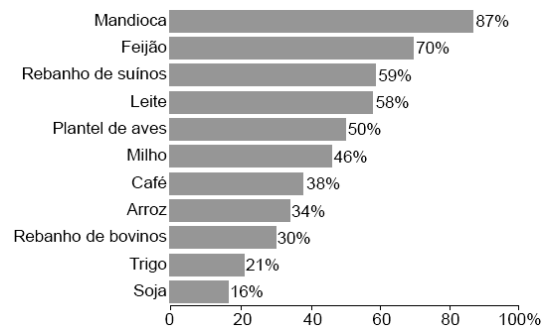
- a) curvas de nível.

- b) terraceamento.
- c) associação de culturas.
- d) reflorestamento.

113 - (PUC RS)

Considere os seus conhecimentos sobre agricultura familiar no Brasil e nos dados do gráfico a seguir.

Participação da agricultura familiar na produção de alimentos



Sobre a agricultura familiar no Brasil, é **INCORRETO** afirmar:

- a) As unidades de agricultura familiar participam das cadeias agroindustriais, contribuindo para o processo produtivo nacional.
- b) Apesar de produzir em áreas menores, a agricultura familiar é responsável pelo fornecimento de boa parte dos alimentos que estão na mesa dos brasileiros.
- c) Os cultivos mais significativos da agricultura familiar são também os que se destacam nas exportações primárias do Brasil.
- d) A agricultura familiar apresenta, em relação aos dois produtos mais cultivados no país, um quadro característico de consumo cultural.
- e) A produção de soja, que exige lavouras altamente mecanizadas, não se destaca em produtividade na agricultura familiar.

114 - (UECE)

Analise as seguintes afirmações que tratam do processo de industrialização no Brasil.

- I. No governo de Getúlio Vargas, foram criadas as condições de infra-estrutura necessárias para a industrialização brasileira.
- II. O governo de Juscelino Kubitschek priorizou a construção de rodovias e obras para geração de energia.
- III. A década de 90 foi marcada pela globalização da economia e pela consolidação do Brasil como grande produtor e exportador de tecnologia.

Está correto o que se afirma em

- a) III apenas.
- b) I e II apenas.
- c) II apenas.
- d) I e III apenas.

115 - (FMJ SP)

Segundo o Jornal Folha de S.Paulo, veiculado em 14.05.2011, na safra de 2010/2011 o Estado do Mato Grosso bateu o recorde da produção de soja, tornando-se o primeiro Estado do país a superar os 20 milhões de toneladas. Esse número corresponde a um aumento de 9,3% em relação à safra anterior. Com relação à produção de soja no Mato Grosso, é correto afirmar que

- a) a alta produtividade se deve à presença de solos férteis e chuvas bem distribuídas ao longo do ano.
- b) ela é praticada, em sua maioria, por pequenos agricultores e camponeses em sistemas de cooperativas.
- c) ela adota técnicas de correção do solo, de melhoramento genético das sementes, e de mecanização do plantio e da colheita.
- d) as áreas de plantio se restringem às áreas de floresta.
- e) os terrenos em chapadas dificultam a mecanização da agricultura.

116 - (UFJF MG)

Leia a tabela a seguir.

PARTICIPAÇÃO NA
PRODUÇÃO DE ALIMENTOS
% da produção por tipo de
propriedade, em 2006

	Familiar	Não familiar
Mandioca	87	13
Feijão	70	30
Leite	58	42
Aves	50	50
Milho	46	54
Arroz	34	66
Bovinos	30	70

Disponível em: <<http://www.ibge.gov.br>>.
Acesso em: 19 abr. 2012. Adaptado.

A agricultura familiar é muito importante para a economia brasileira porque:

- a) fornece mão de obra para o setor urbano-industrial.
- b) garante abastecimento significativo do mercado interno.
- c) ocupa terras com cultivos de produtos para a exportação.
- d) utiliza grandes propriedades para o cultivo de orgânicos.
- e) impede a expansão territorial da propriedade não familiar.

117 - (ESPM SP)

Brasil alcança maior safra da história, diz ministro da Agricultura

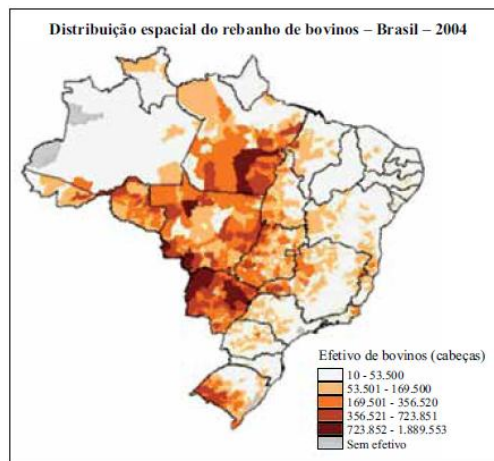
O Brasil deve ter a maior safra de grãos da história do país na safra 2011/2012, com 165,92 milhões de toneladas colhidas, em uma área plantada de 50,81 milhões de hectares. A estimativa consta no 11º levantamento feito pela Conab (Companhia Nacional de Abastecimento), realizado entre 22 e 28 de julho, e representa um crescimento de 1,9% em relação à safra 2010/2011 --quando a produção atingiu 162,8 milhões de toneladas-- e 3,1 milhões de toneladas a mais no volume total.

O maior responsável pelo aumento da produção agrícola brasileira no período supra citado foi:

- a) a soja, produzida no Centro-oeste.
- b) o arroz, produzido tanto no nordeste como na região sul.
- c) o cacau, produzido no sul do país.
- d) a laranja nordestina.
- e) o milho, produzido em diversas partes do território brasileiro.

118 - (Fac. Direito de Sorocaba SP)

Leia o mapa.



(http://www.ibge.gov.br/home/presidencia/noticias/noticia_visualiza.php?id_noticia=499&id_pagina=1)

Com base nas informações do mapa, pode-se afirmar que

- a) a região Sul permanece como uma das principais concentrações de bovinos no Brasil.
- b) a região Centro-Oeste detém a maior parte do rebanho bovino no Brasil.
- c) a criação de gado está concentrada em regiões de economia atrasada, como o Nordeste.
- d) devido ao clima desfavorável, a região Norte não apresenta grande concentração de bovinos.
- e) regiões muito urbanizadas, como a Sudeste, são impróprias para a criação de gado.

119 - (FM Petrópolis RJ)

Espaço, calor e água, empresários, investimentos, pesquisa, inovação, ausência de reforma agrária e formação qualificada permitiram um desenvolvimento considerável do agronegócio brasileiro. No Centro-Oeste e na Amazônia, a floresta recua diante do desenvolvimento desse agronegócio.

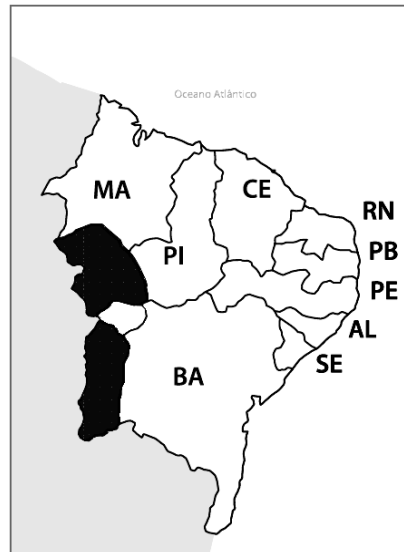
DURAND, M-F. et al. **Atlas da mundialização**. São Paulo: Saraiva, 2009, p. 125. Adaptado.

Nas regiões mencionadas, o avanço do agronegócio decorre, majoritariamente, do cultivo de

- a) cacau
- b) café
- c) dendê
- d) mamona
- e) soja

120 - (IFSP)

Como ocorreu na região Centro-Oeste, há um produto agrícola provocando uma verdadeira transformação econômica nos cerrados nordestinos, principalmente nos estados da Bahia, do Piauí e do Maranhão, conforme se pode observar nas áreas destacadas do mapa



O produto referido no texto e cultivado nas áreas destacadas do mapa é

- a) a cana-de-açúcar.
- b) a soja.
- c) o arroz.
- d) a laranja.
- e) o cacau.

121 - (IFSP)

A venda de tratores agrícolas e de equipamentos de irrigação, atividade comercial muito encontrada nas cidades brasileiras, demonstra

- a) o predomínio das atividades primárias na economia nacional.
- b) a independência entre os setores agrícolas e urbanos.
- c) as deficiências do setor agrícola na economia nacional.
- d) a forte relação entre as atividades urbanas e as agrícolas.

e) a importância do setor secundário para a economia do Brasil.

122 - (UFGD MS)

Observe as imagens para responder à questão.

Colheita mecanizada de soja



Disponível em: <<http://www.portaldoagronegocio.com.br>>. Acesso em: 05 out.2011.

Usina de álcool



Foto: Clóvis Ferreira/Digna Imagem. Disponível em: <<http://www.flickr.com>>. Acesso em: 10 out. 2011.

As duas imagens caracterizam um dos destaques da economia brasileira nos últimos anos: o agronegócio, que se destaca pelo

- a) controle da gestão e da produção por empresários rurais e outros ligados ao setor industrial e financeiro, em associação com os proprietários de terras, e elevado grau de mecanização.
- b) predomínio do trabalho familiar em pequenas propriedades com produção vinculada exclusivamente ao mercado interno e elevado nível de mecanização.
- c) privilégio à formação de cadeias produtivas em áreas de assentamentos rurais, com predomínio de trabalho da família e baixo nível de mecanização.
- d) predomínio da interação entre gestão e a execução do processo produtivo por grandes produtores rurais, com ênfase no trabalho familiar e elevado nível de mecanização.
- e) privilégio às cooperativas agrícolas organizadas por movimentos sociais, justamente para incentivar a pequena agricultura de origem familiar e com baixo nível de mecanização

123 - (UNEB BA)

A expansão do agronegócio vem sendo viabilizada com a atuação da “tríplice aliança”: latifúndio-Estado-agronegócio. Nesse sentido, o agronegócio reúne o que há de mais moderno em termos tecnológicos com o que há de mais arcaico em termos de estrutura fundiária e de relações de trabalho. (CAMPOS. IN: FARIA, 2011, p. 7).

CAMPOS, Christiane. In: FARIA, Glauco. As raízes da crise. Fórum. São Paulo: Publisher do Brasil, n. 99, ano 9, jun. 2011. Adaptado.

Em relação à realidade do agronegócio, no Brasil atual, pode-se afirmar:

- 01. O perfil do emprego gerado pelo agronegócio, apesar de formal, mostra uma segregação ocupacional, em que os homens são maioria absoluta.
- 02. O agronegócio alterou as relações sociais e a agricultura familiar foi integrada ao processo produtivo, o que gerou uma grande mobilidade social no país.
- 03. A expansão do agronegócio ampliou o emprego permanente, diminuindo, por outro lado, o emprego temporário.
- 04. A estrutura fundiária foi democratizada, e o processo produtivo passou a beneficiar grande parte da população rural.
- 05. O agronegócio assegura o abastecimento interno de alimentos e tornou o país autossuficiente nesse setor.

124 - (UFU MG)

A modernização da agricultura brasileira iniciou-se na década de 1950 e intensificou-se na década seguinte com a implantação do setor industrial voltado para a produção de equipamentos e insumos para a agricultura.

Disponível em: <<http://www.cptl.ufms.br/revista-geo/jodenir.pdf>>.

Acesso em: junho de 2012. (adaptado).

Vários fatores contribuíram para a modernização agrícola brasileira, que também provocou uma série de consequências, como

- a) a substituição dos trabalhadores rurais pelo uso intensivo de equipamentos e técnicas revolucionárias na produção, que tornaram o produtor independente dos fatores ambientais e dependente da indústria agrícola.
- b) a ampliação dos impactos ambientais, sobretudo causados pelo uso de produtos tóxicos sem os cuidados necessários, embora a utilização de agrotóxicos tenha possibilitado o aumento da produção de alimentos, destinados, principalmente, ao abastecimento interno.
- c) a necessidade de contratação da mão de obra cada vez mais qualificada, que reduziu drasticamente o lucro dos produtores rurais, pois os salários pagos a estes novos trabalhadores eram bem superiores aos salários pagos aos trabalhadores não qualificados que foram dispensados.
- d) a grande concentração de terras nas mãos de poucos produtores, o que tem gerado imensos conflitos no campo, buscando a Reforma Agrária como uma forma de democratizar o acesso à terra.

125 - (Unicastelo SP)

A China, maior consumidor de óleo de cozinha do mundo, pediu às empresas nacionais que procurem fornecedores brasileiros e norte-americanos enquanto o embargo às importações argentinas continua.

(www.noticiasagricolas.com.br)

Com base nos conhecimentos sobre os produtos agrícolas exportados pelo Brasil, é correto concluir que o fato exposto pela notícia deverá incentivar a produção de

- a) frango.
- b) cana-de-açúcar.
- c) soja.
- d) feijão.
- e) carne bovina.

126 - (Unifev SP)

A violência no campo ocorre em todas as regiões brasileiras. As principais causas desta violência estão associadas

- a) à ineficiência dos programas de reforma agrária e à concentração de terras.
- b) à falta de mão de obra qualificada e ao desenvolvimento da agricultura familiar.
- c) à precariedade do capitalismo e à diminuição dos lucros nas atividades agrícolas.
- d) à expansão da produção para o mercado interno e à diminuição das exportações.
- e) à falta de terras produtivas e ao crescimento da população no campo.

127 - (IBMEC RJ)

Com relação à modernização da agricultura, a partir do desenvolvimento do capitalismo que determinou uma nova ordenação territorial do campo brasileiro, é correto afirmar que:

- a) Ao longo das transformações que implicaram modernização tecnológica das atividades agropecuárias, no Brasil, as condições de trabalho no meio rural se deterioraram apesar da melhor distribuição de terra.

- b) Desde o fim da década de 1960, a ocupação das fronteiras e a modernização do campo no Brasil, com base nas grandes unidades produtoras, acabaram mantendo os trabalhadores no interior das propriedades.
- c) Apesar da dificuldade de competir numa produção altamente tecnicizada, o padrão de modernização do campo, no Brasil, fez que muitos pequenos produtores mantivessem suas terras, eliminando suas dívidas com base na mecanização.
- d) A questão agrária no Brasil não se associa ao debate sobre a soberania alimentar, pois a modernização do campo se deu com a preservação de determinados produtos e hábitos alimentares dos grupos sociais envolvidos no processo.
- e) O problema da reforma agrária continua como um impasse da política brasileira e, com a modernização do campo, se intensifica aumentando a exclusão social, gerada pelo desemprego estrutural.

128 - (IFGO)

Leia a charge e o texto a seguir:



Fonte: QUINO, J. L. **Toda Mafalda**. São Paulo: Martins Fontes, 2003.

Denomina-se reforma agrária um conjunto de medidas políticas adotadas para se reformular a estrutura fundiária de um país, isto é, para se redistribuir de modo mais equilibrado as terras agrícolas entre os proprietários. A questão da reforma agrária adquire destaque, sobretudo nos países onde a estrutura fundiária (...) é muito concentrada (...)

PORTELA, F; FERNANDES, B. M. **Reforma Agrária**. São Paulo: Ática, 1990. p. 11.

Com base nas informações sugeridas, nos conhecimentos sobre o tema, é correto afirmar que:

- a) Quando Mafalda diz para Filipe: “queremos reforma agrária” está explícito que sem a reforma agrária é impossível haver verde e animais no campo.
- b) A reforma agrária, por pretender reduzir ou eliminar a concentração fundiária, propõe-se a erradicar a propriedade privada da terra.
- c) No Brasil existem vários movimentos sociais que lutam pela reforma agrária, sendo o MST – Movimento dos Trabalhadores Rurais Sem-Terra – um dos mais famosos.
- d) Com a Eleição do presidente Lula, em 2002, iniciou-se um intenso processo de reforma agrária, sendo eliminados os latifúndios no Brasil.
- e) O conceito de concentração fundiária expressa a concentração das terras agricultáveis nas mãos do Estado.

129 - (PUC RS)

Considere as informações a seguir.

O Brasil tem uma posição importante na produção e na exportação de produtos agrícolas (café, açúcar, soja e laranja). Entre as culturas desenvolvidas para abastecer o mercado interno, podemos citar o arroz – considerado essencial na alimentação do povo brasileiro.

Os estados do Brasil que mais produzem arroz são

1. Rio Grande do Sul

2. Mato Grosso
3. Pernambuco
4. Alagoas

Os estados corretamente apontados são, apenas, os de número

- a) 1 e 2.
- b) 1 e 4.
- c) 3 e 4.
- d) 1, 2 e 3.
- e) 2, 3 e 4.

130 - (UECE)

No Brasil há uma elevada concentração de terras. Os latifúndios predominam, ocupando a maior parte da área enquanto os minifúndios têm pouca expressividade percentual. Sobre as características da estrutura fundiária brasileira, é correto afirmar-se que

- a) nas grandes concentrações fundiárias, geralmente existem grandes parcelas de terras ociosas.
- b) os pequenos produtores não têm problemas de endividamento no campo, em virtude das linhas de crédito oferecidas pelo Governo Federal.
- c) a mecanização das lavouras nas grandes propriedades tem contribuído para a fixação do homem no campo.
- d) no Brasil as maiores áreas de tensão e conflitos por disputa de terras estão localizadas na região Sul.

131 - (UFAL)

Uma política de desenvolvimento da produção agropecuária deve conter como partes integrantes a reforma agrária, o fortalecimento da agricultura familiar e o aumento nas exportações. [...] Mesmo com o abandono histórico, em função do domínio da grande propriedade, as unidades familiares são elementos fundamentais no espaço geoeconômico rural. As grandes propriedades produzem mais rebanhos, soja, cana-de-açúcar etc., enquanto as unidades familiares estão à frente na produção de milho, batata, feijão, mandioca, carnes suínas e de aves, ovos, leite, verduras, legumes e frutas. A luta pela terra no Brasil existe há décadas e já fez várias vítimas entre trabalhadores do campo, religiosos e tantos outros. Com o auxílio do texto e da figura, entre as principais razões dos conflitos de terra no Brasil, pode-se citar:



- a) a disputa pelas poucas áreas férteis em nosso território, típico de terras montanhosas.
- b) a concentração da propriedade da terra nas mãos de poucos e a ausência de uma reforma agrária efetiva.
- c) a divisão excessiva da terra em pequenas propriedades, dificultando o aumento da produção.
- d) a perda do valor da terra agrícola pelo crescimento da industrialização no nosso país.
- e) a utilização intensiva de mão de obra permanente, onerando o grande produtor rural.

132 - (UFG GO)

O Brasil é um dos maiores exportadores de *commodities* do mundo. O termo *commodities* está associado a produtos primários com baixo valor agregado, sejam eles minerais, sejam agrícolas. São produzidos em larga escala, negociados prioritariamente no mercado internacional e têm os seus

valores estabelecidos em bolsas de mercadorias que definem seus preços futuros. São exemplos de *commodities* agrícolas:

- a) trigo, feijão, batata, cacau e café.
- b) açúcar, soja, milho, algodão e café.
- c) soja, arroz, trigo, feijão e banana.
- d) milho, mandioca, cacau, açúcar e arroz.
- e) café, algodão, feijão, banana e arroz.

133 - (UFU MG)



Disponível em: <<http://planetadoalan.blogspot.com.br/2012/08/cana-de-acucar.html>>. Acesso: 18 mar. 2013.

A charge acima faz uma analogia entre o trabalho escravo no século XVIII e o trabalho do cortador de cana no século XXI, indicando que

- a) a relação de trabalho continua sendo escrava, pois o salário recebido nos dias atuais não é suficiente para atender as necessidades básicas do trabalhador rural, como ocorria no século XVIII.
- b) apesar de terem se alterado as relações de trabalho, ainda persiste a manutenção da situação de exploração do trabalhador rural.

- c) não houve um processo de modernização da colheita da cana de açúcar, pois, nos dias atuais, a tarefa é realizada da mesma forma com que era realizada no século XVIII.
- d) mesmo após a abolição da escravatura, os descendentes de escravos continuam realizando as mesmas tarefas, sendo hoje, denominados de boias-frias.

134 - (UEPA)

Ao longo do tempo a humanidade foi aperfeiçoando as formas de explorar a natureza e de intervir no meio ambiente por meio das relações econômicas e culturais. Estas transformações, atreladas ao desenvolvimento tecnológico, por vezes tem provocado problemas fundiários e ambientais. Nesse sentido é verdadeiro afirmar que:

- a) dada as condições econômicas e ambientais, a produção agrícola mundial é obtida de forma bastante homogênea, isto é, livre de problemas fundiários e repletos de conflitos de cunho ambiental.
- b) o uso de técnicas tradicionais na cultura de irrigação no Sudeste asiático – região das monções – a exemplo da rizicultura, alia produção para o consumo externo e baixos impactos socioambientais.
- c) ao mesmo passo que o Brasil se dinamiza economicamente, destacando-se pelo seu desenvolvimento tecnológico agrícola, em particular na produção de commodities, mantém em sua estrutura social, características arcaicas, como concentração fundiária e violência no campo.
- d) duas grandes paisagens agrícolas da Europa, apresentam reduzidos problemas ambientais em decorrência do seu restrito uso de tecnologia e modernização agrária, combinando por sua vez, a agricultura de seca com a rotação de cultivos.
- e) a política de subsídios agrícolas implementada pelos Estados Unidos da América tem como objetivo evitar a concorrência de produtos de importação e viabilizar um novo modelo agrário nacional assentado em pequenas propriedades de uso coletivo da terra.

135 - (Fac. de Ciências da Saúde de Barretos SP)

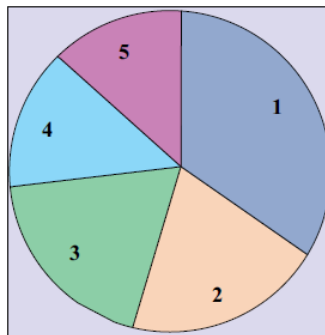
“Mapitoba” é o nome dado à mais recente fronteira econômica do território brasileiro, formada por parte dos estados do Maranhão, Piauí, Tocantins e Bahia. É correto afirmar que o principal “motor” do crescimento econômico dessa região é a expansão da

- a) indústria madeireira.
- b) pecuária extensiva.
- c) cultura da soja.
- d) fruticultura irrigada.
- e) mineração de diamantes.

136 - (Fac. Direito de Sorocaba SP)

A questão está relacionada ao gráfico apresentado a seguir.

**Distribuição percentual de bovinos pelas
Grandes Regiões brasileiras – 2010**



(<http://saladeimprensa.ibge.gov.br/noticias?view=noticia&id=1&busca=1&idnoticia=2241>)

O Brasil apresenta o segundo maior rebanho de bovinos do mundo. Cerca de 1/3 do rebanho nacional encontra-se na região 1, ou seja, no

- a) Sul.
- b) Norte.

- c) Sudeste.
- d) Nordeste.
- e) Centro-Oeste.

137 - (FGV)

[Na Amazônia] boa parte dos municípios que compõe a “mancha pioneira” apresenta as maiores taxas de desmatamento do bioma amazônico nos últimos anos... e um expressivo e perverso processo de especulação fundiária, no qual a grilagem e a venda ilegal de terras (inclusive pela internet) é o seu principal artífice. [...] A rarefeita presença humana e os meios rudimentares de sobrevivência de boa parte da população local, desprovida de capital e de qualificação, levam à configuração de um espaço descontínuo.

(Daniel Monteiro Huertas. *Da fachada atlântica à imensidão amazônica*. São Paulo: Annablume, 2009. p. 226. Adaptado)

Na “mancha pioneira”, que forma um arco de desmatamento, são predominantemente encontrados(as):

- a) extração de madeira e agricultura de cana e milho.
- b) extração de madeira, pecuária e cultivos de soja.
- c) pecuária, cultivos de cana e extração de minérios.
- d) extração de minérios, agricultura de milho e cana.
- e) agricultura de soja e arroz e extração de minérios.

138 - (FGV)

Considere as tabelas para responder à questão.

Brasil: Estrutura Fundiária

% da área			
	Pequena (menos de 200 ha)	Média (de 201 a 2000 ha)	Grande (2001 e mais ha)
1992	26,59	34,0	39,31
1998	24,28	32,84	42,88
2003	28,42	36,45	35,12

% dos imóveis			
	Pequena (menos de 200 ha)	Média (de 201 a 2000 ha)	Grande (2001 e mais ha)
1992	92,35	7,0	0,65
1998	91,99	7,24	0,77
2003	92,56	6,67	0,77

(http://www2.fct.unesp.br/nera/atlas/estrutura_fundiaria.htm)

Com base na análise da tabela e nos conhecimentos sobre as transformações do espaço agrário brasileiro, pode-se afirmar que, no período selecionado,

- o aprofundamento das relações capitalistas no campo preservou a grande propriedade, mas fragmentou a média e a pequena propriedade.
- a distribuição mais equitativa das propriedades reduziu a dependência do campo em relação à cidade, o que significa estagnação da modernização.
- a reorientação da estrutura fundiária deve ser entendida no bojo das transformações do setor agrário e da solidificação do campesinato.
- o traço marcante da estrutura fundiária brasileira, que é a concentração de terras, foi reduzido em razão do aumento da participação da pequena propriedade.
- a expansão das relações capitalistas no campo contribuiu para o crescimento das pequenas propriedades em detrimento das grandes.

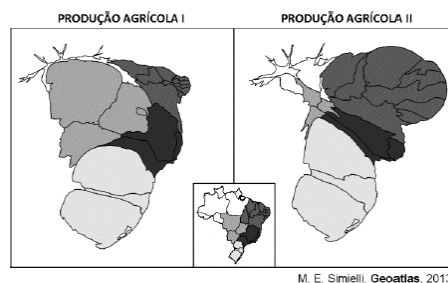
Relevante na economia nacional pela geração de divisas e emprego, o agronegócio tem se destacado com a expansão da produção agropecuária e o aumento das exportações de *commodities*.

Nesse sentido, o agronegócio brasileiro caracteriza-se

- a) pelo uso intensivo de tecnologias, pelas pesquisas científicas inovadoras e pelas políticas oficiais de financiamento.
- b) pelo uso de sementes não modificadas, pelo consumo de insumos químicos e pela distribuição dos lucros em regime de parceria.
- c) pela organização horizontal de comando, pelo regime de produção semi-intensivo e pela negociação da produção em bolsa de valores.
- d) pelo arrendamento de terras, pela imprevisibilidade no planejamento produtivo e pela mecanização agrícola generalizada.
- e) pela gestão familiar, pela produção restrita sem excedentes e pelo pequeno retorno aos investimentos realizados.

140 - (FUVEST SP)

Considere as anamorfozes:



As condições da produção agrícola, no Brasil, são bastante heterogêneas, porém alguns aspectos estão presentes em todas as regiões do País.

Nas anamorfozes acima, estão representadas formas de produção agrícola das diferentes regiões administrativas. Assinale a alternativa que contém, respectivamente, a produção agrícola representada em I e em II.

- a) De subsistência e patronal.
- b) Familiar e itinerante.
- c) Patronal e familiar.
- d) Familiar e de subsistência.
- e) Itinerante e patronal.

141 - (IFGO)

Sobre o setor primário no Estado de Goiás, assinale a alternativa **correta**:

- a) Está representado pelas grandes indústrias, com ênfase nas de laticínios.
- b) Tem o foco na prestação de serviços, principalmente relacionado às confecções.
- c) Verificam-se grandes eventos e congressos, típicos do setor primário.
- d) É fortemente representado pela agricultura, agronegócio e afins, com a presença indireta de outros setores também.
- e) O setor primário no Estado não é relevante na economia em uma escala nacional.

142 - (UNIRG TO)

Leia o texto a seguir.

Estado que completa 25 anos em 2013, o Tocantins é, entre as Unidades da Federação, uma fonte de expansão econômico-produtiva que vê na força da agropecuária o principal índice de comércio exterior (nacional e internacional); mas que já vislumbra números positivos também no setor terciário, principalmente na geração de emprego e renda. Desta forma o Estado, impulsionado pela implementação e pelo fortalecimento de pequenos e microempresários, marca hoje o maior crescimento proporcional de Produto Interno Bruto (PIB) do Brasil.

De acordo com os indicadores socioeconômicos divulgados pela Secretaria de Estado do Planejamento (Seplan), o Tocantins registrou em 2012 um crescimento de 14,2% no PIB, que é a soma de todas as riquezas produzidas pelo Estado. Índice superior ao registrado pelo Brasil (7,5%) e por Estados com economia mais saturada, como São Paulo (7,9%) e Rio de Janeiro (4,5%). Entre as regiões brasileiras, o Norte foi o que obteve maior índice de crescimento, com 9,9%; Sul e Sudeste registraram 7,6% cada; Nordeste teve 7,2% e Centro-Oeste 6,2%.

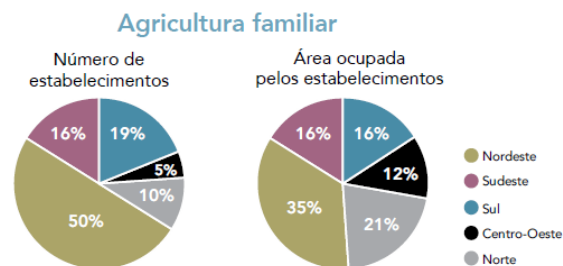
Disponível em: <<http://www.redeto.com.br/noticia-2543-tocantins-registramaior-crescimento-do-pib-no-pa-s.html#.UIR8WBCKLcw>>. Acesso em: 8 out. 2013. (Adaptado).

De acordo com o texto, os produtos que mais contribuem para a composição do crescimento do PIB do Tocantins são:

- plástico, borracha e produtos minerais.
- arroz, mandioca e milho.
- calcário, ouro e confecções.
- cana-de-açúcar, soja e carne.

143 - (UERJ)

A agricultura familiar, apesar das críticas quanto à sua viabilidade econômica, mantém-se como um segmento produtivo importante do setor primário brasileiro. Observe nos gráficos as proporções percentuais do número de estabelecimentos da agricultura familiar e da área ocupada por eles por macrorregião em relação ao total do país.



Adaptado de www.mst.org.br.

O tamanho médio das propriedades familiares é maior nas seguintes regiões brasileiras:

- a) Sul e Nordeste
- b) Nordeste e Norte
- c) Centro-Oeste e Sul
- d) Norte e Centro-Oeste

144 - (ESPCEX)

Sobre a agricultura familiar no Brasil, pode-se afirmar que

- a) por falta de acesso ao crédito rural, não participa das cadeias agroindustriais.
- b) é responsável pelo fornecimento da maior parte da alimentação básica dos brasileiros, e, por isso, concentra a maior parte da área cultivada com lavouras e pastagens do País.
- c) concentra a maioria do pessoal ocupado nos estabelecimentos rurais brasileiros.
- d) por não ser competitiva frente à agricultura patronal, não participa da produção de gêneros de exportação.
- e) embora os membros da família participem da produção, a maior parte da mão de obra é contratada e quem comanda a produção não trabalha diretamente na terra.

145 - (Fac. Cultura Inglesa SP)

Leia a notícia.

Nenhuma montanha à vista. Nem mesmo um pequeno desnível. Dias ensolarados. Tudo isso encheu os olhos dos agricultores e hoje, o que se vê são lavouras e mais lavouras de soja. Trata-se da região da “Mapitoba”, termo oriundo da união da primeira sílaba dos estados que a compõem (Maranhão, Piauí, Tocantins e Bahia), englobando áreas próximas à divisa destes estados.

Considerando a atual configuração da produção do espaço brasileiro, assinale a alternativa que contém um título condizente com as informações apresentadas pela notícia.

- a) Mapitoba se destaca enquanto novo tecnopolo nacional.
- b) Setor secundário avança na região da Mapitoba.
- c) Mapitoba: a nova força da agricultura familiar.
- d) Estagnação nos setores econômicos de Mapitoba.
- e) Mapitoba: uma nova fronteira agrícola do Brasil.

146 - (PUC RS)

Sobre a produção agrícola brasileira é **INCORRETO** afirmar que

- a) os derivados de cana-de-açúcar estão entre os produtos agrícolas incluídos na pauta de exportação nacional.
- b) o arroz produzido no Brasil, principalmente em pequenas propriedades, é exportado para os países asiáticos.
- c) o café está entre os produtos agrícolas nacionais que têm garantia de colocação no mercado externo.
- d) os cítricos estão entre os produtos que têm boa colocação no mercado mundial.
- e) o trigo não tem produção nacional suficiente para o abastecimento do mercado interno.

147 - (UERN)

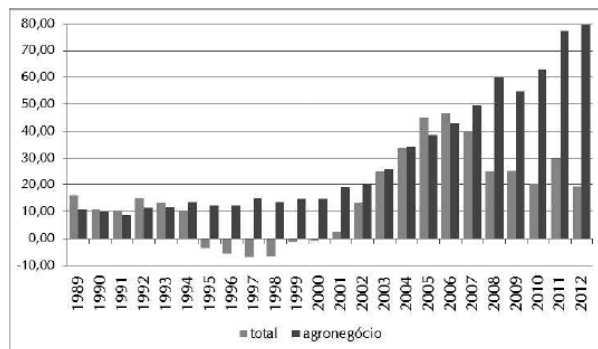
No contexto atual, cada vez mais agricultores e pecuaristas vão se tornando uma peça na engrenagem de produção nos moldes capitalistas. Entretanto, as relações sociais de trabalho não evoluíram da mesma forma que as relações econômicas e de produção. As alternativas seguintes

descrevem características de personagens presentes até hoje na estrutura agrária do Brasil. Marque a relação correta.

- Gato: trabalhador organizado em busca de acesso à terra.
- Posseiro: pessoa que apropria legalmente da terra e nela trabalha.
- Parceiro: forma de utilização da terra em que o proprietário dispõe sua terra em troca de uma parte da produção.
- Grileiro: pessoa que contrata trabalhadores braçais como mão de obra para as fazendas ou projetos agropecuários.

148 - (UFAL)

EVOLUÇÃO DAS BALANÇAS COMERCIAIS DO AGRONEGÓCIO E TOTAL BRASILEIRA



Fonte: MDIC / MAPA / Scot Consultoria - www.scotconsultoria.com.br

Disponível em: <http://www.ourofino.com>. Acesso em: 08/12/2013

A análise da balança comercial brasileira, no período mostrado no gráfico, permite inferir que

- em alguns anos o agronegócio foi responsável pelo déficit nas contas externas do país.
- o agronegócio tem o mesmo volume de exportação quando comparado às demais atividades econômicas.

- c) o agronegócio só ganhou importância para as exportações na última década.
- d) o período mais negativo para o agronegócio está relacionado as fases de crise internacional.
- e) o agronegócio é responsável pelo maior volume de exportações do Brasil.

149 - (UFAL)

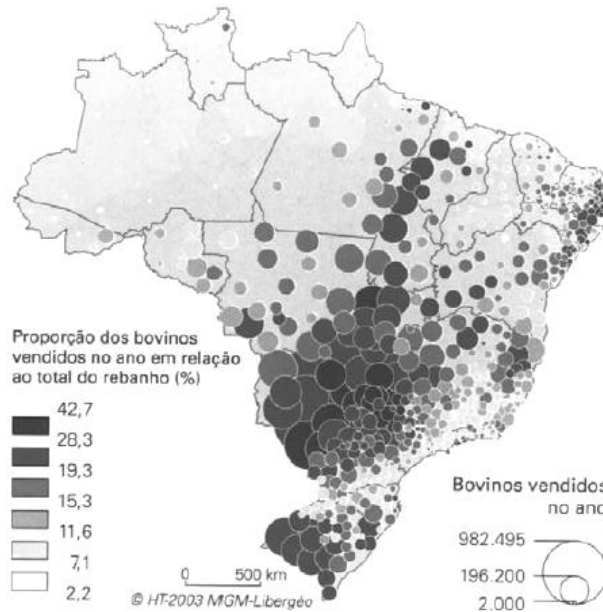
Disponível em: <http://www.revistaplantar.com.br/wp-content/uploads/2012/11/Gadointensivo.jpg>. Acesso em: 30/11/2013.

A pecuária desenvolvida com o gado confinado, utilizando ração, cuidados sanitários constantes, visando a precocidade do crescimento e do abate ou o aumento da produção de leite é conhecida como criação

- a) intensiva.
- b) extensiva.
- c) semi-intensiva.
- d) semi-extensiva.
- e) natural.

150 - (UNIFICADO RJ)

Comércio de bovinos no Brasil: venda

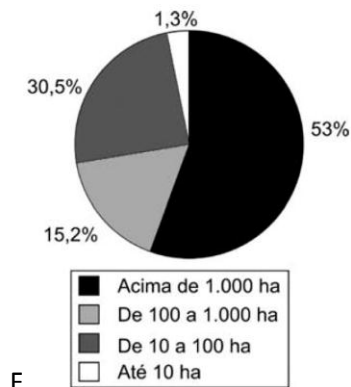


THÉRY, H. e MELLO, N. **Atlas do Brasil**. São Paulo: EDUSP, 2008. p. 135.

No mapa acima, observa-se que a maior concentração de bovinos vendidos está localizada no seguinte Estado da atual fronteira agrícola:

- a) Rondônia
- b) Mato Grosso
- c) Espírito Santo
- d) Rio Grande do Sul
- e) Mato Grosso do Sul

151 - (ENEM)



Fonte: Incra, Estatísticas cadastrais 1998.

O gráfico representa a relação entre o tamanho e a totalidade dos imóveis rurais no Brasil. Que característica da estrutura fundiária brasileira está evidenciada no gráfico apresentado?

- a) A concentração de terras nas mãos de poucos.
- b) A existência de poucas terras agricultáveis.
- c) O domínio territorial dos minifúndios.
- d) A primazia da agricultura familiar.
- e) A debilidade dos *plantations* modernos.

152 - (ENEM)

Antes, eram apenas as grandes cidades que se apresentavam como o império da técnica, objeto de modificações, suspensões, acréscimos, cada vez mais sofisticadas e carregadas de artifício. Esse mundo artificial inclui, hoje, o mundo rural.

SANTOS, M. **A Natureza do Espaço**. São Paulo: Hucitec, 1996.

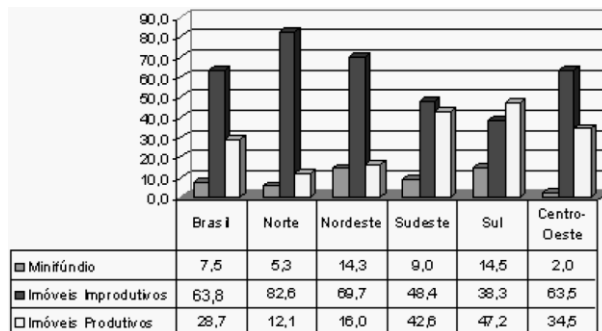
Considerando a transformação mencionada no texto, uma consequência socioespacial que caracteriza o atual mundo rural brasileiro é

- a) a redução do processo de concentração de terras.
- b) o aumento do aproveitamento de solos menos férteis.
- c) a ampliação do isolamento do espaço rural.
- d) a estagnação da fronteira agrícola do país.
- e) a diminuição do nível de emprego formal.

153 - (ENEM)

O gráfico mostra o percentual de áreas ocupadas, segundo o tipo de propriedade rural no Brasil, no ano de 2006.

Área ocupada pelos imóveis rurais



MDA/INCRA (DIEESE, 2006)

Disponível em: <http://www.sober.org.br>. Acesso em: 6 ago. 2009.

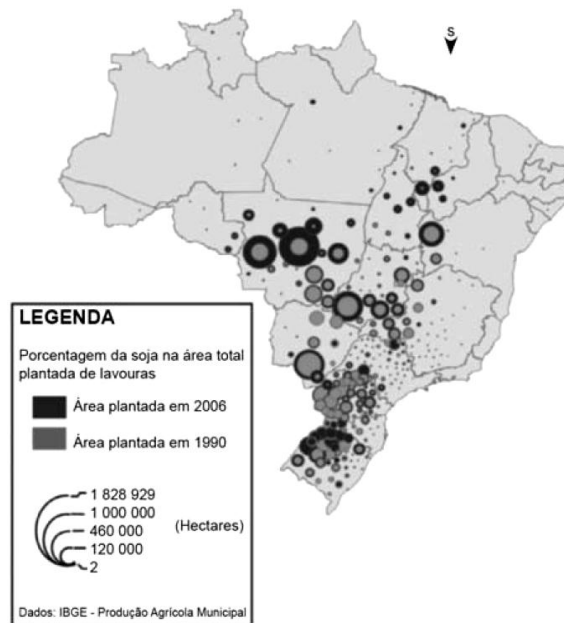
De acordo com o gráfico e com referência à distribuição das áreas rurais no Brasil, conclui-se que

- a) imóveis improdutivos são predominantes em relação às demais formas de ocupação da terra no âmbito nacional e na maioria das regiões.
- b) o índice de 63,8% de imóveis improdutivos demonstra que grande parte do solo brasileiro é de baixa fertilidade, impróprio para a atividade agrícola.

- c) o percentual de imóveis improdutivos iguala-se ao de imóveis produtivos somados aos minifúndios, o que justifica a existência de conflitos por terra.
- d) a região Norte apresenta o segundo menor percentual de imóveis produtivos, possivelmente em razão da presença de densa cobertura florestal, protegida por legislação ambiental.
- e) a região Centro-Oeste apresenta o menor percentual de área ocupada por minifúndios, o que inviabiliza políticas de reforma agrária nesta região.

154 - (ENEM)

SOJA: EVOLUÇÃO DA ÁREA PLANTADA 1990-2006



Disponível em: <http://www4.fct.unesp.br>. Acesso em: 20 abr. 2010.

A interpretação do mapa indica que, entre 1990 e 2006, a expansão territorial da produção brasileira de soja ocorreu da região

- a) Sul em direção às regiões Centro-Oeste e Nordeste.
- b) Sudeste em direção às regiões Sul e Centro-Oeste.
- c) Centro-Oeste em direção às regiões Sudeste e Nordeste.
- d) Norte em direção às regiões Sul e Nordeste.

e) Nordeste em direção às regiões Norte e Centro-Oeste.

155 - (Fac. Cultura Inglesa SP)

Analise a charge.



<http://blogdolute.blogspot.com.br>

A crítica presente na charge, relativa ao desmatamento e à estrutura agrária brasileira, faz alusão

- a) à agricultura familiar e aos posseiros.
- b) ao agronegócio e o comércio legalizado de armas.
- c) à agricultura orgânica e ao êxodo rural.
- d) aos faxinais e à luta pela reforma agrária.
- e) ao avanço da fronteira agrícola e à ação de jagunços.

156 - (UFPeL RS)

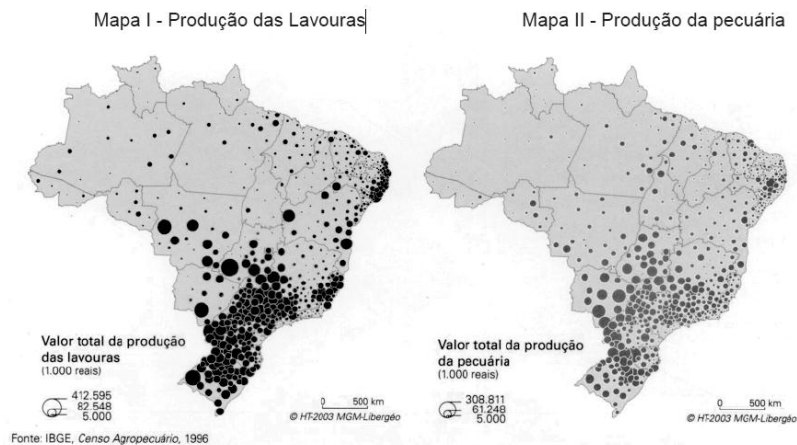
A produção orgânica vegetal e animal têm como objetivo principal promover a qualidade de vida com proteção ao meio ambiente.

Sobre a produção orgânica vegetal e animal, é correto afirmar que

- a) a produção de alimentos em ambientes com a inserção de técnicas de produção moderna, sem considerar necessariamente a rotação de culturas, ou diversificação de espécies, é um dos princípios da agricultura orgânica.
- b) agricultura orgânica é uma forma de agricultura que se baseia na produção com a utilização intensiva do solo.
- c) o Brasil com sua diversidade de relevo e solos é um dos países com menor potencialidade para o crescimento da produção orgânica.
- d) todo o alimento cultivado sem o uso de agrotóxico é considerado orgânico.
- e) para ser considerado como orgânico, o alimento deve ser produzido sob os princípios da agricultura orgânica ou agricultura biológica.
- f) I. R.

157 - (UNIFICADO RJ)

Mapa I - Produção das Lavouras



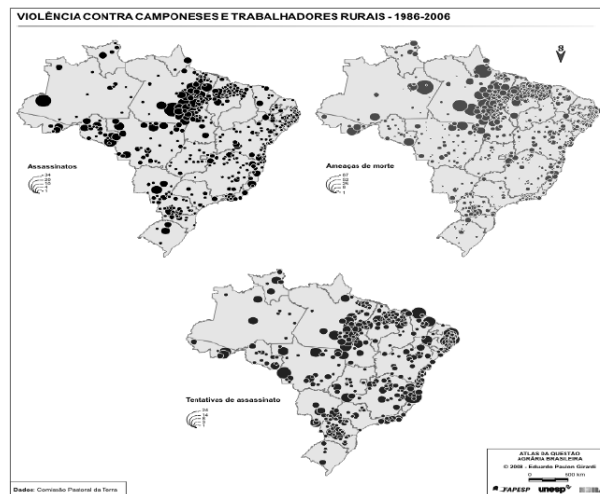
THÈRY, H. e MELLO, N. **Atlas do Brasil**.
São Paulo: EDUSP, 2009. p. 119.

A comparação entre os Mapas I e II indica a maior concentração da riqueza gerada pela agropecuária brasileira na seguinte porção do território nacional:

- a) Centro-Sul
- b) Nordeste oriental
- c) Nordeste setentrional
- d) Amazônia meridional
- e) Amazônia setentrional

158 - (UNIOESTE PR)

A violência no campo brasileiro concentra-se em regiões onde os movimentos sociais são mais atuantes, principalmente com as ocupações de terra. No mapa abaixo, é possível observar a magnitude da violência contra camponeses e trabalhadores rurais.



Fonte: Girardi, 2008.

Analisando o Mapa, assinale a afirmativa que está INCORRETA.

- a) No que diz respeito às ameaças de morte, na Região Sul do Brasil, o estado do Paraná é o que mais se destaca.
- b) Na Região Sul do Brasil, o Rio Grande do Sul é o estado que mais se destaca no número de tentativas de assassinato.
- c) A faixa litorânea que se estende do estado do Rio de Janeiro à Região Nordeste do Brasil é caracterizada pela ocorrência de assassinatos.
- d) O Leste do Pará (que faz parte da fronteira agropecuária, e onde se tem uma grande população assentada e uma intensa territorialização do latifúndio) representa uma área de intensa concentração de violência.
- e) O Norte do Maranhão (que faz parte da fronteira agropecuária, e onde se tem uma grande população assentada e uma intensa territorialização do latifúndio) representa uma área de intensa concentração de violência.

159 - (UECE)

“Com a modernização do campo, os trabalhadores rurais passam a ser expulsos da terra sem direitos ou garantias, enfrentando uma realidade nova e hostil. Os laços familiares e coletivos, e também a indústria doméstica são brutalmente transformados, chegando a serem dissolvidos. Os trabalhadores rurais adentram a sociedade de mercado pela porta dos fundos, tendo de se adaptar a uma condição onde os elementos básicos para a reprodução da existência são as mercadorias.”

(MEDINA, Eto. *Vivendo a Vida de Rapina.*)

O trecho acima se refere a um personagem da estrutura agrária brasileira identificado como

- a) boia fria.
- b) migrante sazonal.
- c) posseiro.
- d) assalariado permanente.

160 - (UNCISAL AL)

Essa atividade agrícola é responsável por garantir a segurança alimentar do País, gerando os principais produtos da cesta básica consumida pelos brasileiros. Ela emprega quase 75% da mão de obra no campo e é responsável pela segurança alimentar do país, produzindo 70% do feijão, 87% da mandioca, 58% do leite e 46% do milho, entre outros produtos consumidos pela população.

CASSEL, Guilherme. Um novo modelo de desenvolvimento rural.
Folha de S. Paulo. São Paulo, 11 out. 2009

O texto se refere à agricultura

- a) familiar.
- b) transgênica.
- c) empresarial.
- d) de exportação.
- e) de subsistência.

161 - (ESPM SP)

O mapa a seguir menciona os dois maiores produtores brasileiros de:



- a) Café.
- b) Ferro.
- c) Aço.
- d) Cana-de-açúcar.
- e) Carne.

162 - (UEA AM)

Digamos que a semente do Movimento dos Trabalhadores Rurais Sem Terra (MST) foi plantada em 7 de setembro de 1979, ainda em plena ditadura civil-militar, quando aconteceu a ocupação da Fazenda Macali, no estado do Rio Grande do Sul. Muitas outras lutas, nesse estado e em todo o país, foram gerando lideranças e incrementando a consciência da necessidade de ampliação das conquistas em busca de um objetivo mais alto.

(Mitsue Morissawa. *A história da luta pela terra e o MST*, 2001. Adaptado.)

Para o MST, o “objetivo mais alto” citado no texto seria

- a) o novo código florestal.
- b) o sufrágio universal.
- c) a reforma tributária.
- d) o zoneamento urbano.
- e) a reforma agrária.

163 - (UEA AM)

Analise a declaração de André Esteves, presidente da empresa brasileira BTG Pactual.

Estamos nos estruturando para montar uma plataforma global para operar com *commodities*.

(*O Estado de S.Paulo*, 11 de agosto de 2014.)

Em relação ao Brasil no cenário da economia mundial, é correto afirmar que os tipos de produtos que a empresa almeja operar são

- a) as matérias-primas, como a soja.
- b) os produtos industrializados, como os automóveis.
- c) os bens imateriais, como os *softwares* para computadores.
- d) os bens materiais, como obras de engenharia civil.
- e) os serviços, como o trabalho desenvolvido pelos médicos.

164 - (UFRGS)

Observe a figura abaixo.

Desmatamento na região dos formadores do rio Xingu



Legenda: ■ Área de Floresta Tropical ■ Área com atividades agrícolas

Estimulada pelos altos preços internacionais e pela política de crédito agrícola, a atividade que mais contribui para o desmatamento desta região é a

- a) lavoura de arroz.
- b) lavoura de soja.
- c) pecuária bovina de corte.
- d) lavoura de cana de açúcar.
- e) produção de uva para produção de vinhos.

165 - (UFRGS)

A porção interior da Região Nordeste do Brasil vem sofrendo transformações significativas na produção agrícola, a exemplo

- a) do fumo para o mercado nacional.
- b) da cana-de-açúcar para a produção de polímeros.
- c) da uva para a produção de vinho tipo exportação.
- d) da laranja para a produção de suco.
- e) do eucalipto para a produção de celulose.

166 - (UFRGS)

Assinale a alternativa abaixo que apresenta exemplos de produção agrícola, oriunda da agricultura familiar, que se integram à agroindústria e são estimulados pelo Programa de Fortalecimento da Agricultura Familiar (Pronaf).

- a) Fumo e soja

- b) Hortigranjeiros e arroz
- c) Uva e cana de açúcar
- d) Aves e algodão
- e) Suínos e leite

167 - (UFT)

É **CORRETO** afirmar que a incorporação de tecnologias avançadas pela agricultura modificou a produção rural e o cenário agrário brasileiro, uma vez que:

- a) possibilitou a descentralização fundiária em todas as regiões do Brasil.
- b) criou um sistema interligado de troca entre produtores e o mercado atacadista.
- c) ampliou o quantitativo de trabalhadores braçais nas grandes propriedades.
- d) dilatou a lucratividade advinda das *commodities* agrícolas como a soja, o trigo e o algodão.
- e) permitiu o acesso de todos os produtores a maquinários e insumos necessários à produção.

168 - (UFU MG)

A agricultura tem grande importância na economia brasileira. Além de gerar empregos e fornecer alimentos, é fonte de matérias-primas industriais e geradoras de receitas obtidas com as exportações.

Sobre a agricultura brasileira assinale a alternativa **INCORRETA**.

- a) As práticas agrícolas adotadas desencadearam uma série de problemas ambientais, como a exaustão do solo, a proliferação de pragas e a poluição das águas.
- b) A agropecuária moderna convive, lado a lado, com áreas de práticas seculares de produção, como ocorre, por exemplo, no Centro-Sul do país.

- c) A estrutura fundiária brasileira caracteriza-se pelo predomínio de pequenas propriedades muito produtivas que utilizam pouca mão de obra.
- d) O modelo de desenvolvimento agrícola, adotado em boa parte do país, tem elevado a ocupação de áreas cada vez maiores, com lavouras monoculturas e pastagens.

169 - (UNITAU SP)

A área de terra indígena Raposa Serra do Sol foi demarcada pelo Ministério da Justiça, por meio da Portaria Nº 820/98, posteriormente modificada pela Portaria 534/2005. Trata-se de uma região de aproximadamente 1.743.000 hectares. Assinale em qual estado está localizada essa área.

- a) Rondônia.
- b) Pará.
- c) Amazonas.
- d) Amapá.
- e) Roraima.

170 - (ENEM)

A questão agrária e as lutas de hoje pela terra são herdeiras de processos transcorridos nas décadas de 1940 a 1960. Contudo, se no contexto anterior a questão agrária tinha em sua base o arcaísmo do mundo rural, hoje ela é resultante dos processos de modernização da agricultura.

GRYNSZPAN, M. Tempo de Plantar, tempo de colher.

In: Nossa História. Ano 1, nº 9, São Paulo: Vera Cruz, jul. 2004 (adaptado).

A modernização da agricultura no Brasil aprofundou as causas da luta pela terra a partir dos anos 1970, pois

- a) piorou as relações de trabalho no campo, mas conteve o êxodo rural.
- b) elevou a produtividade agrícola, mas intensificou a concentração fundiária.

- c) introduziu novas máquinas na agricultura, mas não criou condições para o escoamento da produção.
- d) aumentou a competitividade da agricultura, mas a desvinculou dos produtos primários.
- e) implementou relações capitalistas no campo, mas impediu a sindicalização dos trabalhadores rurais.

171 - (ENEM)

A década de 1970 marcou o início das preocupações com a relação entre a atividade produtiva no campo e a preservação do meio ambiente no Brasil. Essa mesma década se destaca pelo avanço das tecnologias de ponta, que passam a ocupar cada vez mais espaço junto à agricultura e, ainda que numa dimensão menor, também, na agricultura familiar.

SILVA, P.S. Tecnologia e meio ambiente: o processo de modernização da agricultura familiar.
Revista da Fapese, v. 3, n. 2, jul.-dez., 2007.

O avanço tecnológico e os impactos socioambientais no campo brasileiro após a década de 1970 evidenciam uma relação de equivalência entre

- a) investimento em maquinários e geração de empregos.
- b) expansão das técnicas de cultivo e distribuição fundiária.
- c) crescimento da produtividade e redistribuição espacial do cultivo.
- d) inovações nos pesticidas e redução da contaminação dos trabalhadores.
- e) utilização da engenharia genética e conservação dos biomas ameaçados.

172 - (ENEM)



AMARILDO. Disponível em: www.amarildo.com.br. Acesso em: 3 mar. 2013.

Na charge há uma crítica ao processo produtivo agrícola brasileiro relacionada ao

- a) elevado preço das mercadorias no comércio.
- b) aumento da demanda por produtos naturais.
- c) crescimento da produção de alimentos.
- d) hábito de adquirir derivados industriais.
- e) uso de agrotóxicos nas plantações.

173 - (ENEM)

A enxada é um bom instrumento de jardim, de um pomar ou de uma horta: porém pretender aplicá-la com proveito à grande cultura é o mesmo que querer tirar uma peça de cantaria (pedra de construção de tamanho grande) com um prego, ou falquejar (tornar quadrado), um pão com uma faca. A enxada mal arranha a terra à custa de fadiga do mísero trabalhador.

BURLAMAQUE, F. L. C. Catechismo de Agricultura, 1870. In: MOTTA, M.; GUIMARÃES, E. **Direito às avessas:** por uma história social da propriedade. Niterói: UFF, 2011.

No final do século XIX, o discurso que afirmava estar em crise a agricultura brasileira apontava como razão para esse fato a

- a) manutenção de métodos arcaicos de produção.
- b) subordinação econômica à atividade industrial.
- c) utilização de imigrantes como trabalhadores rurais.
- d) disseminação de pequenas propriedades agrícolas.
- e) diversificação dos gêneros produzidos.

174 - (UFSCar SP)

Plano Safra da Agricultura Familiar terá 20% mais recursos que em 2014. O anúncio foi feito em 19 de junho durante a visita da presidente à Bahia.

(Disponível em <http://revistagloborural.globo.com>. Adaptado)

No Brasil, a agricultura familiar

- a) tem sido considerada um fator importante para a redistribuição de terras no país.
- b) é responsável pela produção de mais da metade dos itens da cesta básica dos brasileiros.
- c) consegue superar a produção de soja e milho das grandes propriedades do agronegócio.
- d) apresenta forte nível de mecanização que dispensa o emprego de mão de obra assalariada.
- e) apresenta grande importância econômica e, portanto, dispensa a necessidade de reforma agrária.

175 - (PUC RS)

Ainda que a inovação tecnológica tenha propiciado ganhos de produtividade e ampliado os limites das áreas agrícolas, alguns fatores continuam sendo muito importantes para os diferentes arranjos do meio rural. Entre esses fatores, está a

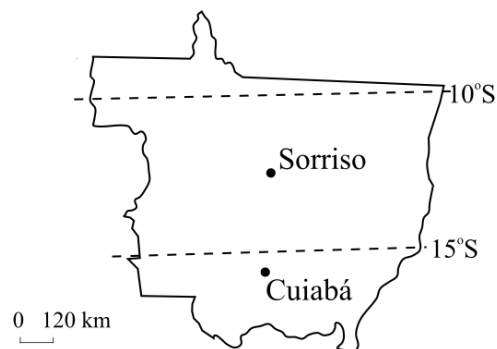
- I. hipsometria.
- II. higrometria.
- III. pedologia.
- IV. insolação.

Estão corretas as afirmativas

- a) I e II, apenas.
- b) II e III, apenas.
- c) II e IV, apenas.
- d) II, III e IV, apenas.
- e) I, II, III e IV.

TEXTO: 1 - Comum à questão: 176

Considere o mapa e o texto a seguir.



O município de Sorriso está situado na região Norte do estado do Mato Grosso, no km 742 da rodovia BR 163 (Cuiabá-Santarém), a 412 km da Capital, Cuiabá, na fronteira entre os climas Tropical e Equatorial. A sua fundação deu-se através de um projeto de colonização privada, com a maioria absoluta de sua população constituída de migrantes provenientes da região Sul do país.

(www.sorriso.mt.gov.br, acessada em 07.10.2006)

176 - (UFTM MG)

Dentre os motivos para a maior participação de migrantes da região Sul na população de Sorriso, pode-se destacar

- a) a prática cultural da migração pelos sulistas, como herança da colonização européia ocorrida em várias áreas dessa região.
- b) o aumento da concentração fundiária em suas áreas de origem, coincidindo com a expansão da fronteira agrícola no Centro-Oeste.
- c) o maior crescimento demográfico da população da região Sul, superior às outras regiões do país a partir da década de 1960.
- d) a associação do clima tropical continental com solos vulcânicos no Centro-Oeste, condições muito semelhantes às existentes nas áreas interiores da região Sul.
- e) a maior proximidade do Centro-Oeste e a facilidade do transporte fluvial, com a ligação das regiões pelo rio Paraguai.

TEXTO: 2 - Comum à questão: 177

Trata-se de um compartimento geográfico caracterizado pela especialização produtiva obediente a parâmetros externos (em geral internacionais) de qualidade e custos. Essas regiões, preferencialmente, são as que atraem os investimentos públicos e privados, transformando grandes porções do território em áreas de exclusão. [...] O território brasileiro possui inúmeros exemplos de regiões competitivas. Alguns dos casos mais contundentes são as regiões produtoras de commodities agrícolas. A exportação de grande parcela da produção, a presença de firmas transnacionais, a implantação de sistemas técnicos especialmente concebidos para viabilizar a produção, a especialização funcional das cidades locais são características comuns presentes na maioria dessas regiões.

(Ricardo Castillo e Samuel Frederico. Dinâmica regional e globalização: espaços competitivos agrícolas no território brasileiro. *Mercator*, janeiro/abril de 2010.)

177 - (UFTM MG)

São exemplos de regiões competitivas agrícolas no território brasileiro as áreas produtoras de

- a) laranja no interior paulista, arroz no Vale do Paraíba e soja nos cerrados.
- b) soja nos cerrados, laranja no interior paulista e frutas no Vale do São Francisco.
- c) soja nos cerrados, hortifrúti no Sul de Minas Gerais e frutas no Vale do São Francisco.
- d) laranja no interior paulista, frutas no Vale do São Francisco e trigo no Rio Grande do Sul.
- e) arroz no Vale do Paraíba, hortifrúti no Sul de Minas Gerais e trigo no Rio Grande do Sul.

TEXTO: 3 - Comum à questão: 178

*“Campo” e “cidade” são palavras muito poderosas, e isso não é de estranhar, se aquilatarmos o quanto elas representam na vivência das comunidades humanas. O termo inglês **country** pode significar tanto “país” como “campo”; **the country** pode ser toda a sociedade ou só sua parte rural. Na longa história das comunidades humanas, sempre esteve bem evidente essa ligação entre a terra da qual todos nós, direta ou indiretamente, extraímos nossa subsistência e as realizações da sociedade humana.*

(Raymond Williams. **O campo e a cidade na história e na literatura**)

Na última capa da edição brasileira* do clássico de Raymond Williams, lê-se: *“O caso inglês, como bem ilustra Williams, tem caráter exemplar, uma vez que em seu país a Revolução Industrial operou muito cedo e em grau bastante acentuado uma alteração sem precedentes nas relações entre campo e cidade.”* No Brasil, acrescentemos, o par campo/cidade não deixou de marcar, por exemplo, a vida e a poesia de Carlos Drummond de Andrade: *No elevador penso na roça, / na roça penso no elevador.* (em “Explicação”, de **Alguma poesia**)

* Trad. de Paulo Henriques Britto. São Paulo: Companhia das Letras, 2011.

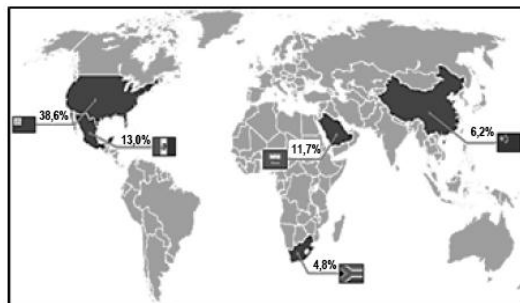
178 - (PUCCAMP)

No Brasil, ao longo do século XX, ocorreram diversos conflitos no *campo* envolvendo a questão agrária. Dentre esses conflitos, podemos destacar os decorrentes

- a) da mobilização de trabalhadores rurais organizados nas chamadas Ligas Camponesas, a partir dos anos 1950.
- b) da Guerrilha do Araguaia, protagonizada por militantes comunistas, nos anos 1960, em defesa da reforma agrária na região centro-oeste.
- c) das ocupações realizadas pelo Movimento dos Sem- Terra, nos anos 1970, em latifúndios improdutivos e reservas no sul do país.
- d) das ações do Movimento Camponês Popular na região norte, durante a construção da Rodovia Transamazônica, durante o regime militar.
- e) da ação da Coluna Prestes no nordeste, nos anos 1920, cujos líderes promoviam a distribuição de terras entre os camponeses que os apoiassem.

TEXTO: 4 - Comum à questão: 179

Observe a figura a seguir, que apresenta, em tom escuro, o destino da exportação de alguns produtos da silvicultura brasileira em 2012.



179 - (IFGO)

Assinale a alternativa que indica os possíveis produtos de exportação, oriundos diretamente da silvicultura no Brasil.

- a) Celulose e madeira, para indústrias variadas, como, por exemplo, produtoras de papel, móveis e construção civil.
- b) Peles e carnes de animais silvestres, destinados à produção de bens de consumo não duráveis, por exemplo, bolsas, sapatos e alimentos.
- c) Farelo e óleo de soja, destinados à produção de base e de bens de consumo não duráveis, por exemplo, ração e alimentos.
- d) Petróleo, para a indústria de base produzir matériaprima, por exemplo, combustíveis e plástico.
- e) Ervas variadas, para a indústria petroquímica, destinada à produção de cosméticos e remédios.

TEXTO: 5 - Comum à questão: 180

Aqui, os capitais estrangeiros deformaram estranhamente a economia.

Dum país que possui a maior reserva de ferro e o mais alto potencial hidráulico, fizeram um país de sobremesa. Café, açúcar, fumo, bananas.

Que nos sobrem ao menos as bananas!”

(ANDRADE, Oswald de. “Ordem e Progresso”. In: O Homem do Povo núm. 1, 27/03/1931. Apud SCHWARTZ, Jorge. **Vanguardas Latino-americanas. Polêmicas, manifestos e textos críticos.** São Paulo: Edusp/Iluminuras/Fapesp, 1995. p. 254)

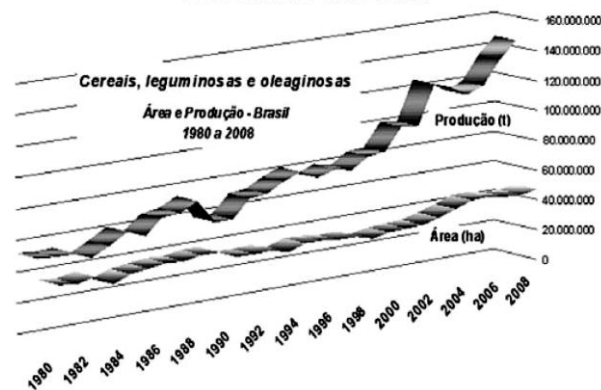
180 - (PUCCAMP)

O cultivo do **café** no Brasil, se comparado ao cultivo da **cana**,

- a) utilizou principalmente trabalho livre, executado por imigrantes e negros alforriados, seguindo as determinações do Direito Trabalhista.
- b) prescindiu da tecnologia e do desenvolvimento industrial de seu tempo, pois não pressupunha as etapas de produção e os engenhos, imprescindíveis no fabrico do açúcar.
- c) diferenciou-se do sistema de *plantation*, uma vez que a produção ocorria em propriedades bem menores e não era prioritariamente voltada à exportação.
- d) ocorreu de forma mais concentrada na região sudeste, diferentemente da produção canavieira, que foi introduzida em praticamente toda a costa brasileira.
- e) foi mais duradoura e rendeu mais dividendos, pois foi estimulado pela política do café-com-leite e intensamente praticado entre o início do séc. XIX e meados do XX.

TEXTO: 6 - Comum à questão: 181

RELAÇÃO ENTRE PRODUÇÃO E ÁREA PLANTADA
NO BRASIL 1980-2008



Disponível em: <http://www.ibge.gov.br>. Acesso em: 20 jul. 2010.

181 - (ENEM)

O gráfico mostra a relação da produção de cereais, leguminosas e oleaginosas com a área plantada no Brasil, no período de 1980 a 2008. Verifica-se uma grande variação da produção em comparação à área plantada, o que caracteriza o crescimento da

- a) economia.
- b) área plantada.
- c) produtividade.
- d) sustentabilidade.
- e) racionalização.

GABARITO:

1) Gab: C

2) Gab: E

3) Gab: D

4) Gab: B

5) Gab: A

6) Gab: A

7) Gab: C

8) Gab: B

9) Gab: A

10) Gab: C

11) Gab: C

12) Gab: E

13) Gab: A

14) Gab: B

15) Gab: A

16) Gab: C

17) Gab: D

18) Gab: A

19) Gab: B

20) Gab: D

21) Gab: C

22) Gab: A

23) Gab: B

24) Gab: B

25) Gab: C

26) Gab: E

27) Gab: B

28) Gab: A

29) Gab: A

30) Gab: A

31) Gab: A

32) Gab: C

33) Gab: C

34) Gab: D

35) Gab: C

36) Gab: B

37) Gab: C

38) Gab: C

39) Gab: D

40) Gab: E

41) Gab: B

42) Gab: B

43) Gab: B

44) Gab: C

45) Gab: B

46) Gab: C



47) Gab: E

48) Gab: B

49) Gab: D

50) Gab: C

51) Gab: B

52) Gab: E

53) Gab: A

54) Gab: A

55) Gab: D

56) Gab: B

57) Gab: D

58) Gab: B

59) Gab: B

60) Gab: B

61) Gab: A

62) Gab: D

63) Gab: C

64) Gab: B

65) Gab: B

66) Gab: A

67) Gab: D

68) Gab: A

69) Gab:

70) Gab: C

71) Gab: D

72) Gab: C

73) Gab: B

74) Gab: D

75) Gab: B

76) Gab: A

77) Gab: B

78) Gab: E

79) Gab: E

80) Gab: A

81) Gab: C

82) Gab: E

83) Gab: B

84) Gab: C

85) Gab: D

86) Gab: C

87) Gab: A

88) Gab: E

89) Gab: C

90) Gab: C

91) Gab: A

92) Gab: A

93) Gab: B

94) Gab: B

95) Gab: B

96) Gab: B

- 97) Gab: A
- 98) Gab: A
- 99) Gab: A
- 100) Gab: E
- 101) Gab: A
- 102) Gab: B
- 103) Gab: A
- 104) Gab: A
- 105) Gab: B
- 106) Gab: A
- 107) Gab: B
- 108) Gab: D
- 109) Gab: E
- 110) Gab: E
- 111) Gab: B
- 112) Gab: A
- 113) Gab: C
- 114) Gab: B
- 115) Gab: C
- 116) Gab: B
- 117) Gab: E
- 118) Gab: B
- 119) Gab: E
- 120) Gab: B
- 121) Gab: D
- 122) Gab: A
- 123) Gab: 01
- 124) Gab: D
- 125) Gab: C
- 126) Gab: A
- 127) Gab: E
- 128) Gab: C
- 129) Gab: A
- 130) Gab: A
- 131) Gab: B
- 132) Gab: B
- 133) Gab: B
- 134) Gab: C
- 135) Gab: C
- 136) Gab: E
- 137) Gab: B
- 138) Gab: D
- 139) Gab: A
- 140) Gab: C
- 141) Gab: D
- 142) Gab: D
- 143) Gab: D
- 144) Gab: C
- 145) Gab: E
- 146) Gab: B
- 147) Gab: C

- | | | | |
|--------------------|--------------------|--------------------|--------------------|
| | 156) Gab: E | | 173) Gab: A |
| 148) Gab: E | | 165) Gab: C | |
| | 157) Gab: A | | 174) Gab: B |
| 149) Gab: A | | 166) Gab: E | |
| | 158) Gab: B | | 175) Gab: E |
| 150) Gab: E | | 167) Gab: D | |
| | 159) Gab: A | | 176) Gab: B |
| 151) Gab: A | | 168) Gab: C | |
| | 160) Gab: A | | 177) Gab: B |
| 152) Gab: B | | 169) Gab: E | |
| | 161) Gab: A | | 178) Gab: A |
| 153) Gab: A | | 170) Gab: B | |
| | 162) Gab: E | | 179) Gab: A |
| 154) Gab: A | | 171) Gab: C | |
| | 163) Gab: A | | 180) Gab: D |
| 155) Gab: E | | 172) Gab: E | |
| | 164) Gab: B | | 181) Gab: C |