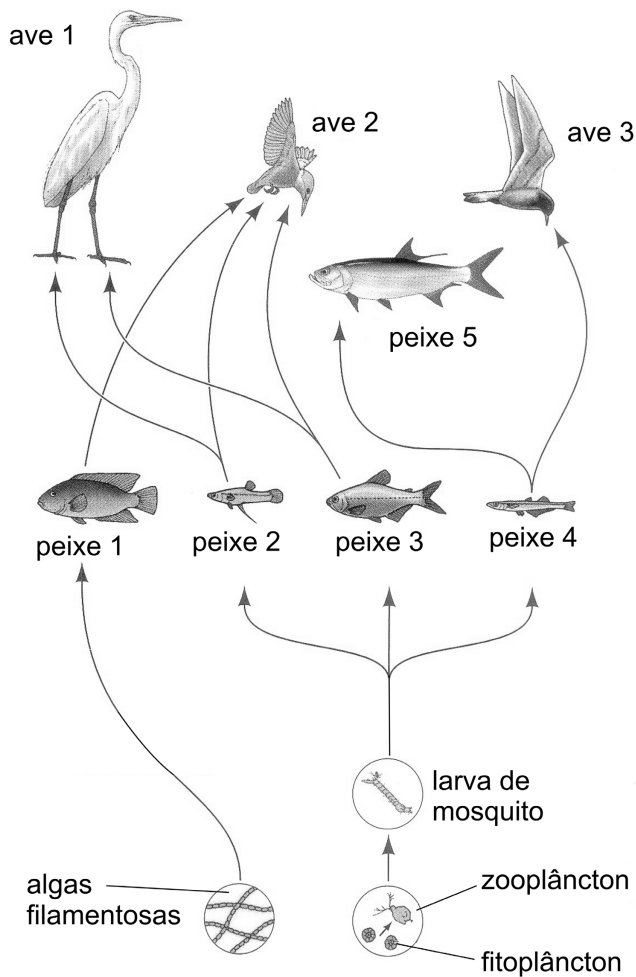


Q.01

O esquema abaixo representa as principais relações alimentares entre espécies que vivem num lago de uma região equatorial.



Com relação a esse ambiente:

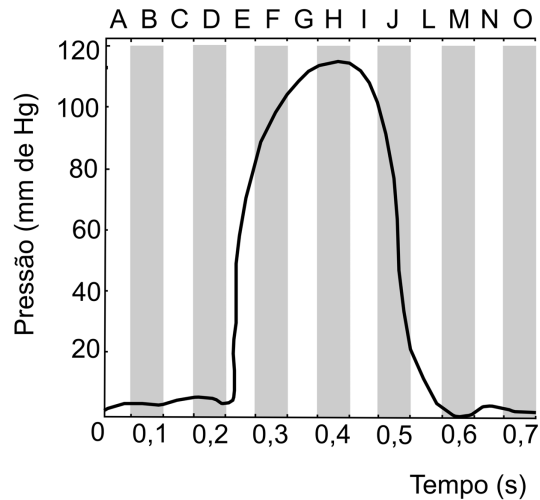
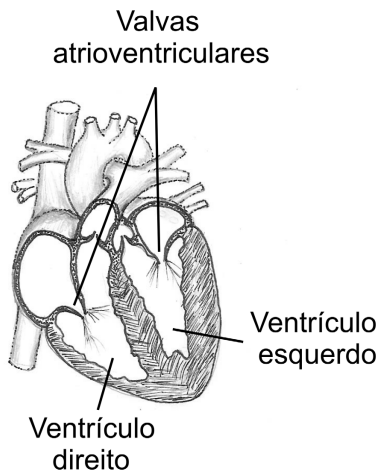
- Indique os consumidores primários.
- Dentre os consumidores, indique quais ocupam um único nível trófico.
- Explique como o aumento das populações das aves pode impactar as populações de mosquitos.

Q.02

- O câncer é uma doença genética, mas na grande maioria dos casos não é herdado. Justifique essa afirmação.
- Uma das preocupações com a destruição da camada de ozônio da atmosfera é o aumento da incidência de câncer de pele. Explique a relação que existe entre a destruição da camada de ozônio e o aumento da incidência desse câncer.

Q.03

O esquema à esquerda mostra um coração humano em corte. À direita, o gráfico mostra a variação da pressão sanguínea no ventrículo esquerdo durante um ciclo cardíaco, que dura cerca de 0,7 segundo.

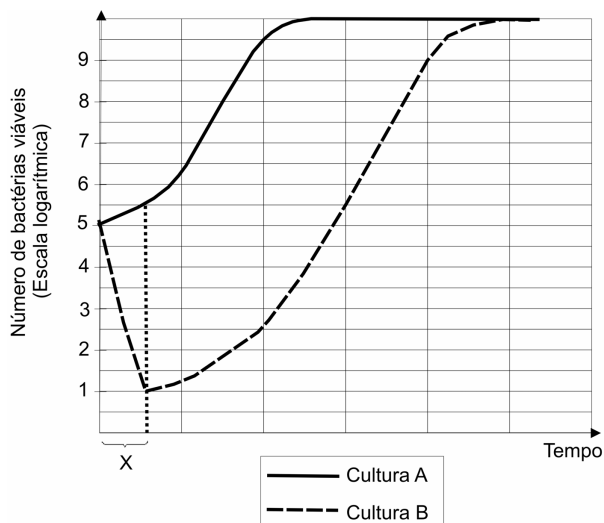


- Em qual das etapas do ciclo cardíaco, indicadas pelas letras de A a O, ocorre o fechamento das valvas atrioventriculares?
- Os ventrículos direito e esquerdo possuem volume interno similar e ejetam o mesmo volume de sangue a cada contração. No entanto, a parede ventricular esquerda é cerca de 4 vezes mais espessa do que a direita. Como se explica essa diferença em função do trabalho realizado pelos ventrículos?

Q.04

Uma colônia de bactérias em que todos os indivíduos se originaram de uma única célula era incapaz de metabolizar lactose. Durante várias gerações, essas bactérias foram cultivadas em meio que continha glicose e lactose. Dessa cultura, foram retiradas duas amostras com quantidades iguais de células, que foram transferidas para novos meios de cultura: o meio **A** continha apenas glicose e o meio **B** apenas lactose, como únicas fontes de carbono.

O gráfico abaixo mostra as curvas de crescimento bacteriano nas culturas **A** e **B**.



- Como surgiram as bactérias capazes de sobreviver na cultura **B**?
- Dê a razão para a diferença entre as curvas **A** e **B** no intervalo **X**.

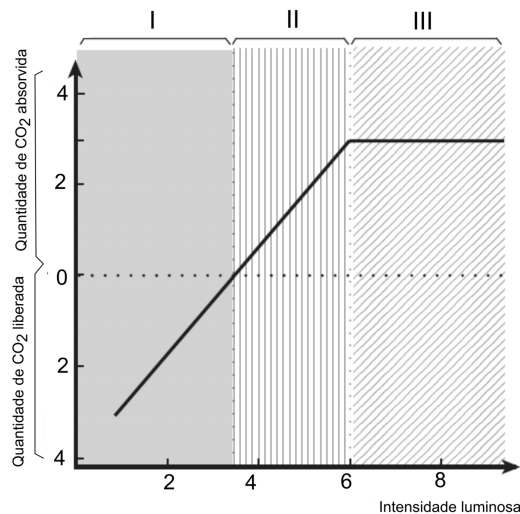
Q.05

A polinização é um evento essencial para a produção de frutos nas plantas. Em algumas espécies, no entanto, pode haver formação de frutos na ausência de polinização, se as flores forem pulverizadas com certos hormônios vegetais.

- Que parte da flor é estimulada pelos hormônios a se desenvolver em fruto?
- Qual é a diferença entre um fruto gerado pela aplicação de hormônios, sem que haja polinização, e um fruto resultante da polinização?

Q.06

O gráfico a seguir mostra, em unidades arbitrárias, as quantidades de gás carbônico (CO_2) liberadas e absorvidas por uma planta em diferentes intensidades luminosas.



Indique as faixas de intensidades luminosas (I, II, III) em que

- ocorre aumento da quantidade de matéria orgânica na planta. Justifique.
- a planta absorve gás oxigênio do ambiente. Justifique.

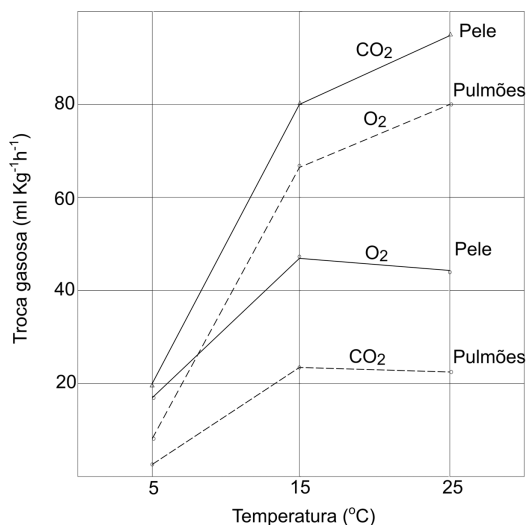
Q.07

Os portadores do vírus HIV, agente causador da aids (síndrome da imunodeficiência adquirida), são tratados com os chamados coquetéis antivirais, que combinam drogas inibidoras da transcriptase reversa com drogas inibidoras de proteases.

- Por que a transcriptase reversa é essencial para que o vírus HIV se multiplique?
- Como o vírus HIV causa a imunodeficiência em humanos?

Q.08

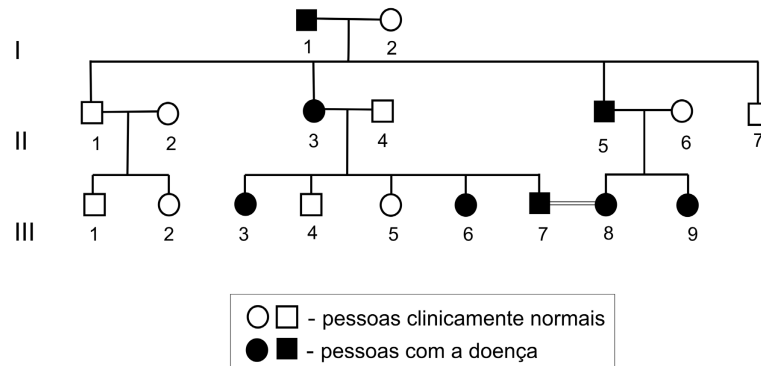
Três grupos de sapos foram mantidos em três temperaturas diferentes: 5°C, 15°C e 25°C. O gráfico abaixo foi construído a partir das medidas das quantidades de gases trocados entre os animais e o ambiente em cada uma dessas temperaturas.



- “Nos sapos, os papéis relativos da pele e dos pulmões na respiração mudam durante o ano.” Justifique essa afirmação, com base nos dados do gráfico.
- Um sapo inalou gás oxigênio radioativo. Qual será a primeira substância, diferente de gás oxigênio, a ser identificada nas mitocôndrias das células desse sapo?

Q.09

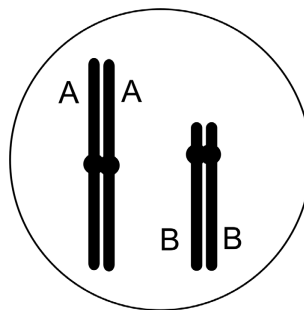
No heredograma, estão representadas pessoas que têm uma doença determinada por um alelo mutante dominante em relação ao alelo normal.



- Responda se a doença tem padrão de herança ligado ao X ou autossômico, indicando a situação do heredograma que permitiu sua conclusão.
- Quais os genótipos do casal de primos III-7 x III-8?
- III-8 está grávida de uma menina. Calcule a probabilidade de que essa menina, filha de III-7 e III-8, não tenha a doença.

Q.10


No desenho abaixo, estão representados dois cromossomos de uma célula que resultou da 1ª divisão da meiose de um indivíduo heterozigótico AaBb.



Esquematize esses cromossomos, com os genes mencionados,

- no final da interfase da célula que originou a célula do desenho.
- nas células resultantes da 2ª divisão meiótica da célula do desenho.
- em todas as células resultantes da meiose que originou a célula do desenho.

Q.01



Géographie 2^e, Hachette, 2000.

- Análise os momentos I e II da charge do continente africano.
- Como os momentos I e II podem ser caracterizados na África do Sul?

Q.02

Qual é o papel da ONU

- na resolução de conflitos sócio-econômicos mundiais? Dê um exemplo.
- no controle da expansão do uso da tecnologia nuclear? Dê um exemplo.

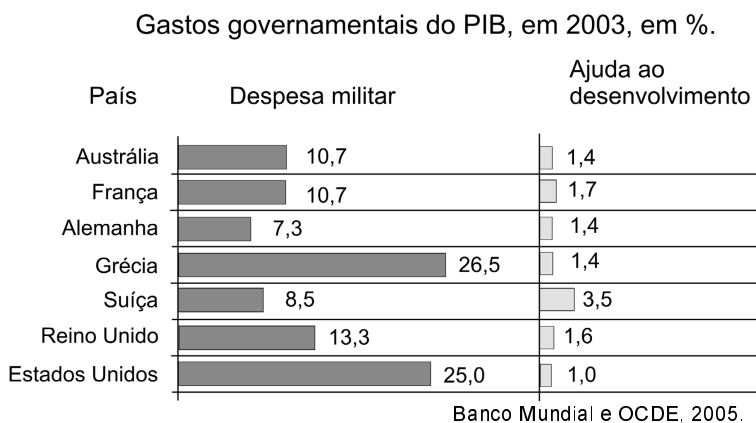
Q.03

Segundo o documento *Avaliação Ecológica do Milênio* (ONU, 2005), resultado de pesquisas de 1350 cientistas de 95 países, o mundo caminha para um colapso ambiental. O trabalho concluiu que o maior problema da degradação ambiental não é o crescimento populacional.

Explique as duas afirmações, considerando a exploração florestal e mineral. Dê exemplos.

Q.04

Responda a partir do gráfico:



- Qual desses países teve mais gastos militares em relação ao PIB, em 2003? Justifique.
- Qual país repassou mais recursos, em relação ao PIB, a países pobres em 2003? Justifique.
- Relacione a busca de paz mundial aos dados da tabela.

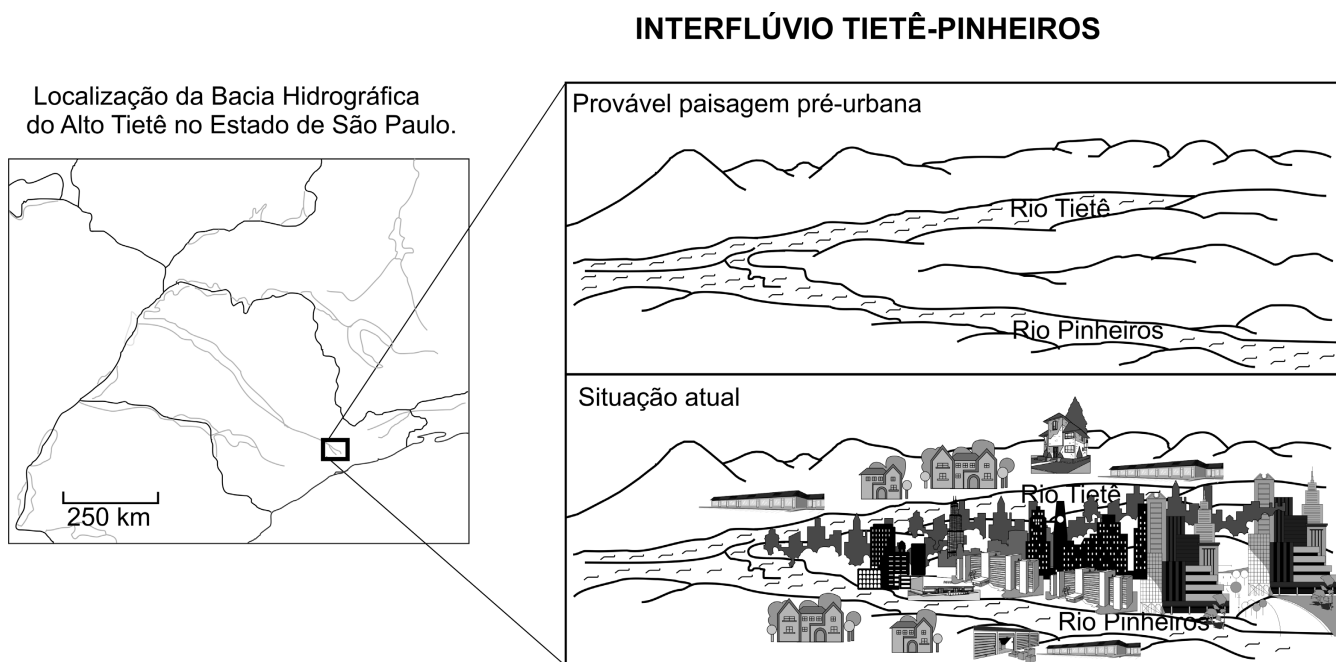
Q.05

Nos últimos anos, dois tipos de *eventos naturais* de alta magnitude chegaram a atingir um grande número de pessoas e regiões costeiras no globo. Um deles ocorreu na Ásia, em dezembro de 2004, e o outro tipo, mais freqüente, no sul dos Estados Unidos, no 2º semestre de 2005.

- Identifique esses dois tipos de eventos e compare-os quanto às suas causas e efeitos.
- A partir dos casos referidos, escolha um deles como exemplo e avalie a importância das ações governamentais na prevenção de seus efeitos catastróficos, bem como os diferentes tipos de assistência prestados à população.

Q.06

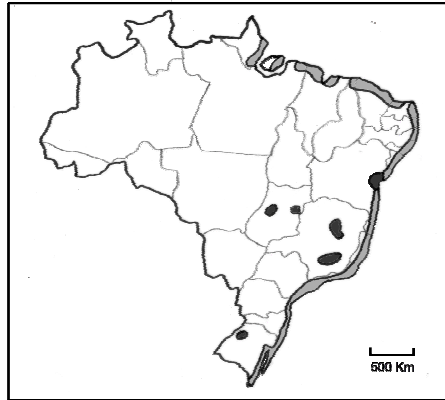
Considere o mapa e as figuras.



- Explique por que a localização geográfica da área urbana da metrópole de São Paulo amplia os conflitos de uso da água.
- Caracterize a situação de abastecimento de água na região metropolitana de São Paulo, levando em consideração a *demanda e os recursos disponíveis*.

Q.07

O mapa distingue áreas onde predominam dois tipos de turismo no Brasil.



Simielli, 2004.

- Identifique os tipos.
- Cite um exemplo de cada tipo e explique suas ocorrências.
- Aponte e explique um impacto sócio-ambiental de cada exemplo citado.

Q.08

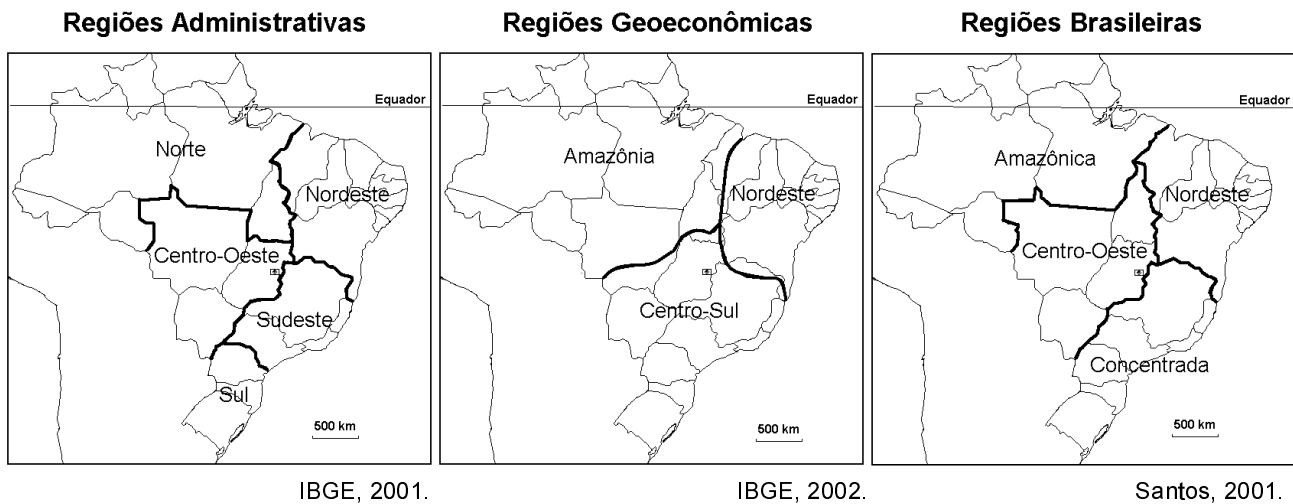
Observe o mapa.

Foco original da febre aftosa no Brasil.
(segundo semestre de 2005)



- Identifique o estado da federação brasileira em que apareceu recentemente o foco original da aftosa. Indique e explique duas possíveis causas do aparecimento desse foco.
- Aponte conseqüências sócio-econômicas, uma interna e outra externa, que tenham resultado dessa ocorrência. Fundamente sua resposta.


Q.09



A partir dos mapas,

- comente os critérios utilizados para o estabelecimento de cada uma das três regionalizações do Brasil.
- compare as regiões Sudeste, Centro-Sul e a Região Concentrada quanto à industrialização.

Q.10



Desenho de Percy Lau. IBGE, 1970.

- Identifique a formação vegetal representada e sua área de ocorrência original.
- Considerando ao menos um fator de ordem física, explique por que essa formação tem ocorrências fora de sua área nuclear.
- Identifique três das principais atividades econômicas que promoveram a substituição de tal formação vegetal.