

AVISO:

A ordem das questões apresentada neste PDF é para fins de publicação e pedidos de recurso quanto ao gabarito e não representa necessariamente a ordem que o candidato viu na sua prova.

MEDICINA**Área: Linguagens - LÍNGUA PORTUGUESA****TEXTO**

1.º§

Neste momento, estamos sendo desafiados por uma espécie de erosão da vida. Os seres que são atravessados pela ciência e pela atualização constante de novas tecnologias também são consumidos por elas. Essa ideia me ocorre a cada passo que damos em direção ao progresso tecnológico: que estamos devorando alguma coisa por onde passamos. Aquela orientação de pisar suavemente na terra de forma que, pouco depois de nossa passagem, não seja mais possível rastrear nossas pegadas, está se tornando impossível: nossas marcas estão ficando cada vez mais profundas. E cada movimento que um de nós faz, todos fazemos. Foi-se a ideia de que cada um deixa sua pegada individual no mundo; quando eu piso no chão, não é o meu rastro que fica, é o nosso. E é o rastro de uma humanidade desorientada, pisando fundo.

2.º§

Eu ganhei uma plantinha maravilhosa que produz umas folhinhas que você pode colher, lavar, botar um azeite ou limão em cima e comer. Ela é cheia de proteínas, se chama moringa (*moringa oleifera*). Então, minha planta de moringa estava crescendo lá no quintal e, um dia, do meio para o final da tarde, as formigas a acharam. Quando eu olhei, não tinha mais nenhuma folha: tinham comido todas, ficaram só os talos. Aquilo me deu uma chateação com aquelas formigas... Pois nós estamos fazendo a mesma coisa com o planeta, do meio-dia para o fim da tarde a gente termina de comê-lo. A ecologia nasceu da preocupação com o fato de que o que buscamos na natureza é o finito, mas o nosso desejo é infinito, e, se o nosso desejo não tem limite, então vamos comer este planeta todo.

3.º§

Nós estamos, devagarzinho, desaparecendo com os mundos que nossos ancestrais cultivaram sem todo esse aparato que hoje consideramos indispensável. Os povos que vivem dentro da floresta sentem isso na pele: veem sumir a mata, a abelha, o colibri, as formigas, a flora; veem o ciclo das árvores mudar. Quando alguém sai para caçar, tem que andar dias para encontrar uma espécie que antes vivia ali, ao redor da aldeia, compartilhando com os humanos aquele lugar. O mundo ao redor deles está sumindo. Quem vive na cidade não experimenta isso com a mesma intensidade porque tudo parece ter uma existência automática: você estende a mão e tem uma padaria, uma farmácia, um supermercado, um hospital.

AVISO:

A ordem das questões apresentada neste PDF é para fins de publicação e pedidos de recurso quanto ao gabarito e não representa necessariamente a ordem que o candidato viu na sua prova.

MEDICINA

4.º§

Na floresta, não há essa substituição da vida, ela flui, e você, no fluxo, sente a sua pressão. Isso que se chama de natureza deveria ser a interação do nosso corpo com o entorno, em que a gente soubesse de onde vem o que comemos, para onde vai o ar que expiramos. Para além de “eu sou a natureza”, a consciência de estar vivo deveria nos atravessar de modo que fôssemos capazes de sentir que o rio, a floresta, o vento, as nuvens são nosso espelho na vida. Eu tenho uma alegria muito grande de experimentar essa sensação e fico procurando comunicá-la, mas também respeito o fato de que cada um tem a sua passagem por este mundo.

Adaptado de Ailton Krenak. A vida não é útil. São Paulo: Companhia das Letras, 2020.

■ QUESTÃO 01

No primeiro parágrafo, o autor indica que estaria em curso uma erosão da vida para se referir a:

ruptura com rituais cotidianos ancestrais

consumo predatório dos recursos naturais

dominação da comunicação por tecnologia

desgaste do território por ação da natureza

■ QUESTÃO 02

No segundo parágrafo, o evento narrado se desdobra na comparação da formiga com:

a humanidade

a natureza

a ecologia

o planeta

AVISO:

A ordem das questões apresentada neste PDF é para fins de publicação e pedidos de recurso quanto ao gabarito e não representa necessariamente a ordem que o candidato viu na sua prova.

MEDICINA

■ QUESTÃO 03

No segundo parágrafo, o relato de uma experiência pessoal caracteriza-se como um recurso argumentativo fundamentado em:

- indicação de instinto primário
- refutação de perspectiva individual
- aproximação entre formas de atuação**
- imposição de comportamento alternativo

■ QUESTÃO 04

De acordo com o texto, a ecologia tem seu fundamento vinculado à seguinte tensão:

- confrontação dos modos de vida urbano e rural
- sobrevivência vegetal e instinto de destruição animal
- limitação dos recursos naturais e exploração irrestrita**
- indicação de alimentação saudável e excesso de consumo

■ QUESTÃO 05

No texto, a menção aos povos da floresta assume o propósito de valorizar o seguinte aspecto:

- sensibilidade para a destruição em curso**
- reivindicação de aumento do desenvolvimento
- proposição de retorno à simplicidade comunitária
- sugestão de desigualdade no acesso à modernização

AVISO:

A ordem das questões apresentada neste PDF é para fins de publicação e pedidos de recurso quanto ao gabarito e não representa necessariamente a ordem que o candidato viu na sua prova.

MEDICINA

■ QUESTÃO 06

“Os povos que vivem dentro da floresta sentem isso na pele: veem sumir a mata, a abelha, o colibri, as formigas, a flora” (2.º§)

Os dois pontos podem ser substituídos, mantendo o sentido global da frase, por:

porque

logo que

posto que

se bem que

■ QUESTÃO 07

“quando eu piso no chão, não é o meu rastro que fica, é o nosso” (1.º§).

A perspectiva assumida pelo autor é reforçada pelo emprego do seguinte mecanismo coesivo:

retificação de “eu” por “meu”

redundância em “piso no chão”

substituição de “piso” por “fica”

elipse de “rastros” em “é o nosso”

AVISO:

A ordem das questões apresentada neste PDF é para fins de publicação e pedidos de recurso quanto ao gabarito e não representa necessariamente a ordem que o candidato viu na sua prova.

MEDICINA
REDAÇÃO**PROPOSTA**

Texto 1

O mundo do trabalho será mais inclusivo no pós-pandemia?

1.º§

Faz anos que os acadêmicos estão usando o acrônimo VUCA (Volátil, Incerto, Complexo, Ambíguo) para abordar e entender o mundo onde atuamos. Com a covid-19, passamos da teoria à prática: as condições de trabalho e o trabalho em si foram virados de cabeça para baixo na maioria das organizações. As empresas, muitas vezes, não tiveram escolha – fecharam seus escritórios, edifícios e fábricas, e a maioria dos funcionários ganharam licença ou foram forçados a trabalhar de casa.

2.º§

Este trabalho remoto imposto revelou e reforçou ao mesmo tempo as desigualdades existentes entre trabalhadores femininos e masculinos. As mulheres, principalmente das minorias étnicas, têm atividades que não podem ser feitas remotamente e que são poucos valorizadas e mal remuneradas. Durante o confinamento, economistas alertaram sobre a situação dramática enfrentada por pessoas que exercem essas profissões.

Adaptado de Christine Naschberger. Disponível em: <https://vocerh.abril.com.br>. Acesso em 04 nov 2021.

Texto 2



Disponível em: <https://redes.moderna.com.br>. Acesso em 04 nov 2021.

AVISO:

A ordem das questões apresentada neste PDF é para fins de publicação e pedidos de recurso quanto ao gabarito e não representa necessariamente a ordem que o candidato viu na sua prova.

MEDICINA

Com base nos textos motivadores e nas suas experiências de vida, produza uma **CRÔNICA ARGUMENTATIVA AUTORAL**, entre 230 e 350 PALAVRAS, utilizando a norma-padrão da língua portuguesa, sobre o seguinte tema:

Diversidade e desigualdade no mundo pós-pandemia

Observações:

1. Será atribuída nota 0 (zero), à redação que:

- não aborde o tema;
- não tenha sido produzida (em branco);
- não atenda ao número mínimo de palavras solicitado na proposta de redação;
- represente cópia dos textos presentes no caderno de questões ou ainda transcrições de textos já existentes em outros domínios discursivos, configurando plágio;
- não seja escrita em prosa;
- tenha a intenção de ofender o processo de seleção como um todo ou qualquer uma das partes nele envolvidas.

2. Por marcas de autoria, entende-se a presença de enredo e de argumentos além dos contidos nos textos da prova, apontando para um conhecimento de mundo mais amplo e criativo por parte do candidato.

3. A crônica argumentativa deve conter a argumentação articulada à estrutura da crônica.

4. A nota máxima da prova de redação será 10 (dez) pontos.

AVISO:

A ordem das questões apresentada neste PDF é para fins de publicação e pedidos de recurso quanto ao gabarito e não representa necessariamente a ordem que o candidato viu na sua prova.

MEDICINA

Área: Linguagens - ESPANHOL

Por qué cepillarte los dientes es bueno para tu cerebro

1.º§

Cuando conocemos a una persona con una enfermedad cardiovascular, alzheimer o diabetes no pensamos en que no se ha cepillado bien los dientes. Asociamos una mala higiene oral con problemas en la boca como caries, inflamación de las encías y mal aliento, pero no con complicaciones en otras partes del cuerpo. Aun así, las enfermedades orales pueden contribuir al desarrollo de enfermedades sistémicas. ¡Incluso en nuestro cerebro!

2.º§

En general, cada persona tiene entre 100 y 200 especies de bacterias orales de las 700 especies orales identificadas. Estas bacterias viven en los dientes, la lengua, las encías y otras superficies orales. Sumando todas las bacterias en la boca, el número alcanza los miles de millones. Llamamos a este conjunto la "microbiota oral". ¡Tranquilidad! En general estos microorganismos serán nuestros amigos mientras los cuidemos. En primer lugar, protegen contra patógenos externos. Cuando una bacteria nueva entra por la boca, le cuesta mucho más sobrevivir porque existe un ejército de bacterias propias habitando ese espacio. Además, las bacterias orales beneficiosas convierten el nitrato de verduras y frutas a nitrito. Este puede tener efectos positivos en el cuerpo como la reducción de la tensión sanguínea y efectos antidiabéticos.

3.º§

Normalmente, nuestras propias bacterias no son patógenas, pero pueden causar enfermedades orales en personas sanas por costumbres poco saludables. Una dieta poco sana o una higiene oral inadecuada pueden causar un desequilibrio: algunos tipos de bacterias aumentan en número y otros disminuyen. Esto se llama "disbiosis". Por ejemplo, si consumimos azúcar, las bacterias de la placa dental que se alimentan de azúcares aumentan en número.

4.º§

Todo empieza con la placa y las caries. El cepillado debe evitar la acumulación de placa bacteriana, una capa incolora compuesta por bacterias y azúcares que se adhiere a los dientes. El cuerpo humano en estado de salud tiene una relación de beneficio mutuo con la microbiota humana, incluida la microbiota oral. Por higiene inadecuada o una dieta poco sana, las bacterias orales pueden causar complicaciones en la boca y el resto del cuerpo. La American Dental Association recomienda cepillarse los dientes dos veces al día con pasta de dientes con flúor (1000 - 1500 ppm), limpiar entre los dientes diariamente y visitar regularmente al dentista. No se deberían dejar sin tratar las enfermedades orales. Hay que tener en cuenta que otros factores, como fumar (también cigarrillos electrónicos) y la susceptibilidad genética, aumentan el riesgo de desarrollar enfermedades orales y sistémicas. Aun así, una buena higiene oral es la clave para prevenir enfermedades orales. Aparte de mostrar una mejor sonrisa, es importante para mantener una buena salud en todo el cuerpo.

AVISO:

A ordem das questões apresentada neste PDF é para fins de publicação e pedidos de recurso quanto ao gabarito e não representa necessariamente a ordem que o candidato viu na sua prova.

MEDICINA

■ QUESTÃO 08

El texto tiene como objetivo principal:

enseñar los cuidados con la boca

informar sobre los efectos de no cuidarse los dientes

presentar investigaciones científicas sobre la salud bucal

destacar la relación de la higiene bucal con la salud del cuerpo

■ QUESTÃO 09

El uso de exclamaciones aparece en el texto con la función de:

expresar la indignación de los autores

darle un tono informal para acercarse al lector

indicar el habla de entrevistados sobre el tema

representar ironías del autor acerca de lo que informa

■ QUESTÃO 10

“**Aparte** de mostrar una mejor sonrisa, es importante para mantener una buena salud en todo el cuerpo.” (4.º§)

El término subrayado puede sustituirse, sin cambios de sentido, por:

a pesar

además

después

en efecto

AVISO:

A ordem das questões apresentada neste PDF é para fins de publicação e pedidos de recurso quanto ao gabarito e não representa necessariamente a ordem que o candidato viu na sua prova.

MEDICINA

Área: Linguagens - INGLÊS

School-based cavity prevention program reduces health disparities and brings dental care to children

1.º§

A school-based cavity prevention program involving nearly 7,000 elementary school students reduced cavities by more than 50 percent, according to a study led by researchers at NYU College of Dentistry. The study was conducted in 33 public, high-need elementary schools in Massachusetts, where dental hygienists provided care to 6,927 children. The services were provided at no cost to families.

2.º§

Dental cavities are the most common chronic disease in children, and one in five elementary school children have at least one untreated cavity. While cavities can be prevented with dental visits and good at-home oral hygiene, some families experience barriers to seeing a dentist, including cost and parents having to take time off of work. "School-based cavity prevention programs eliminate these barriers by bringing basic dental care to children, rather than bringing children to care," said Niederman.

3.º§

"In 2010, the federal government set a goal of reducing the prevalence of cavities in children by 10 percent by 2020. Our study shows that this is not only feasible, but also that a comprehensive school-based program can reduce cavities by five times their goal," said Niederman.

4.º§

The widespread implementation of oral health programs in schools could increase the reach of traditional dental practices and improve children's oral health – all while reducing health disparities and the cost of care.", says Richard Niederman, DMD, Professor and Chair of the Department of Epidemiology & Health Promotion at NYU College of Dentistry and the study's senior author.

5.º§

The COVID-19 pandemic has interrupted most school-based dental care because of school closures and fear of creating aerosols, even as oral health care in dental practices has safely resumed with additional infection control measures in place. The researchers stress the importance of safely continuing school-based care, given its ability to prevent cavities using aerosol-free procedures.

AVISO:

A ordem das questões apresentada neste PDF é para fins de publicação e pedidos de recurso quanto ao gabarito e não representa necessariamente a ordem que o candidato viu na sua prova.

MEDICINA

■ QUESTÃO 08

The text above is a news article.

Its main purpose is to inform the reader about:

the implementation of an oral health program in schools

the increasing access to traditional dental practices by poor people

the government's goal to reduce the prevalence of cavities in children

the interruption of school-based dental care because of the COVID-19

■ QUESTÃO 09

"Our study shows that this is not only feasible, but also that a comprehensive school-based program can reduce cavities by five times their goal," (3.º§)

The fragment above means that the goal of the federal government is:

reasonable but incapable of bringing different results

necessary and capable of keeping the good results

difficult but not incapable of bringing better results

possible and capable of bringing better results

■ QUESTÃO 10

The last paragraph emphasizes that school based dental care needs:

to be improved

to continue safely

to be reformulated

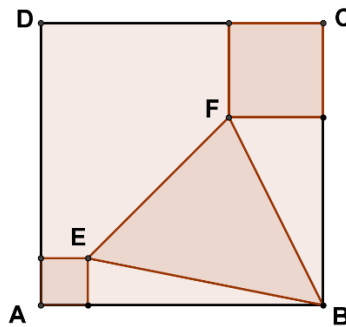
to stop temporarily

AVISO:

A ordem das questões apresentada neste PDF é para fins de publicação e pedidos de recurso quanto ao gabarito e não representa necessariamente a ordem que o candidato viu na sua prova.

MEDICINA
MATEMÁTICA**■ QUESTÃO 11**

O quadrado ABCD, de lado 6 cm, contém o triângulo BEF e dois quadrados de diagonais $AE = \sqrt{2}$ cm e $FC = 2\sqrt{2}$ cm, conforme representa a figura a seguir.



A área do triângulo BEF, em cm^2 , é igual a:

- 9
- 15
- 18
- 36

■ QUESTÃO 12

Considere o conjunto de todos os números inteiros que têm apenas três algarismos e são maiores do que 600. Nesse conjunto, há um total de k números ímpares e t pares.

O valor de $k - t$ é igual a:

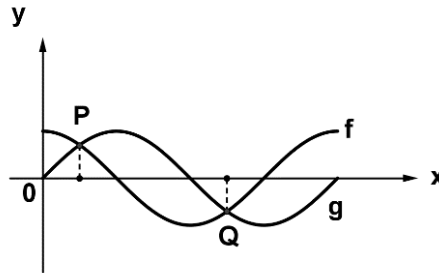
- 1
- 0
- 1
- 2

AVISO:

A ordem das questões apresentada neste PDF é para fins de publicação e pedidos de recurso quanto ao gabarito e não representa necessariamente a ordem que o candidato viu na sua prova.

MEDICINA**■ QUESTÃO 13**

A figura a seguir representa graficamente as funções f e g definidas por $f(x) = \cos x$ e $g(x) = \sin x$, para $x \in [0, 2\pi]$.



Se P e Q são os pontos de interseção dos gráficos, a soma de suas abscissas é:

$$\pi/2$$

$$\pi/4$$

$$3\pi/2$$

$$5\pi/4$$

■ QUESTÃO 14

Os volumes dos cilindros circulares semelhantes C_1 e C_2 medem, respectivamente, 800 mL e 100 mL.

A razão entre os diâmetros das bases de C_1 e C_2 , medidos em cm, equivale a:

$$2$$

$$4$$

$$2\sqrt{2}$$

$$4\sqrt{2}$$

AVISO:

A ordem das questões apresentada neste PDF é para fins de publicação e pedidos de recurso quanto ao gabarito e não representa necessariamente a ordem que o candidato viu na sua prova.

MEDICINA

CIÊNCIAS DA NATUREZA

■ QUESTÃO 15

Em organismos pluricelulares, o englobamento de partículas sólidas a partir de pseudópodes é realizado por células denominadas fagócitos e constitui um importante mecanismo de defesa.

A motilidade celular necessária ao processo de fagocitose deve-se à interação de proteínas presentes na seguinte estrutura:

vacúolo

lisossomo

mitocôndria

citoesqueleto

■ QUESTÃO 16

Conhecido como um grande adversário dos ecossistemas, o fogo é fundamental para a preservação do Cerrado, onde grande parte das espécies vegetais é adaptada a queimadas.

Dentre as consequências positivas do fogo para a vegetação do Cerrado, destaca-se a:

multiplicação de gemas apicais

ramificação de raízes superficiais

proliferação da microbiota do solo

quebra da dormência de sementes

■ QUESTÃO 17

Estudos sobre a biossegurança de alimentos transgênicos apontam que o consumo de DNA recombinante não provoca prejuízos ao organismo, uma vez que ingerimos DNA diariamente em nossa dieta.

Em ambos os casos, os ácidos nucleicos presentes nos alimentos serão hidrolisados por enzimas produzidas na seguinte região do aparelho digestório:

fígado

intestino

pâncreas

estômago

AVISO:

A ordem das questões apresentada neste PDF é para fins de publicação e pedidos de recurso quanto ao gabarito e não representa necessariamente a ordem que o candidato viu na sua prova.

MEDICINA

■ QUESTÃO 18

O Bonsai é uma técnica utilizada para a produção de uma árvore em miniatura, em que o crescimento vegetal é controlado por meio de podas regulares. Nesse processo, as gemas apicais são retiradas (podadas) para o desenvolvimento das gemas laterais, garantindo a harmonia visual e a miniaturização da árvore.

A realização de podas regulares inibe a dominância apical, reduzindo nas gemas apicais a produção do seguinte hormônio vegetal:

auxina

etileno

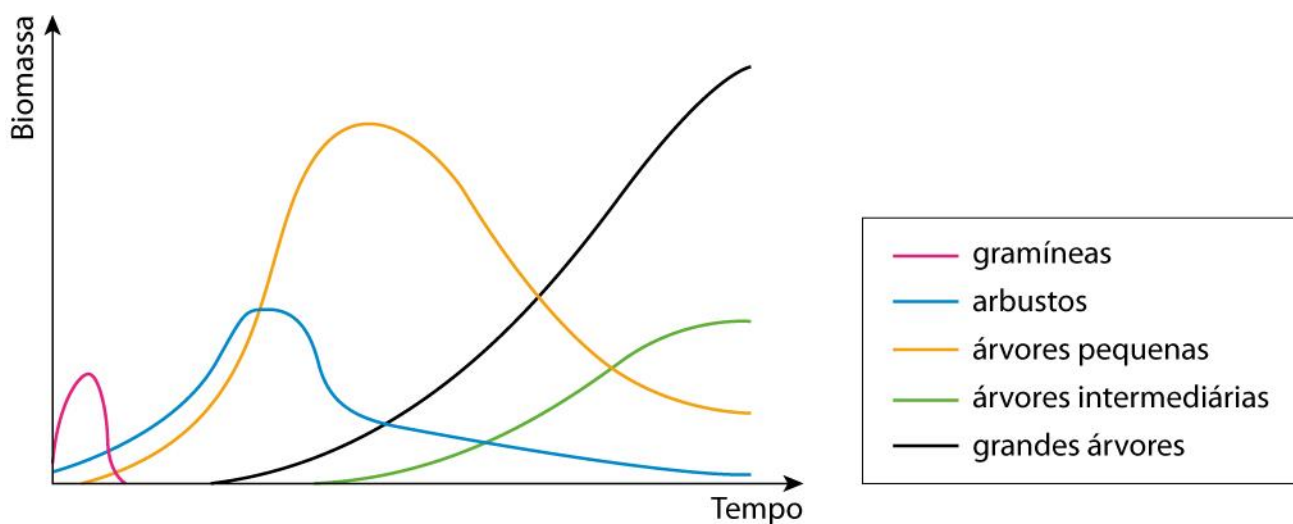
citocinina

giberelina

■ QUESTÃO 19

A ação de fatores bióticos, abióticos e antropogênicos no ambiente provoca mudanças gradativas na paisagem, caracterizando o processo de sucessão ecológica.

O gráfico mostra a biomassa de diferentes tipos de plantas encontradas em um afloramento rochoso ao longo do tempo.



Com base nas informações do gráfico, a maior produtividade primária líquida foi observada durante o predomínio das comunidades de:

gramíneas e arbustos

arbustos e árvores pequenas

árvores pequenas e grandes árvores

grandes árvores e árvores intermediárias

AVISO:

A ordem das questões apresentada neste PDF é para fins de publicação e pedidos de recurso quanto ao gabarito e não representa necessariamente a ordem que o candidato viu na sua prova.

MEDICINA

■ QUESTÃO 20

Um casal não albino teve dois filhos: uma menina albina e um menino não afetado pela doença.

A probabilidade de nascer um terceiro filho do sexo masculino e albino é de:

$$\frac{1}{2}$$

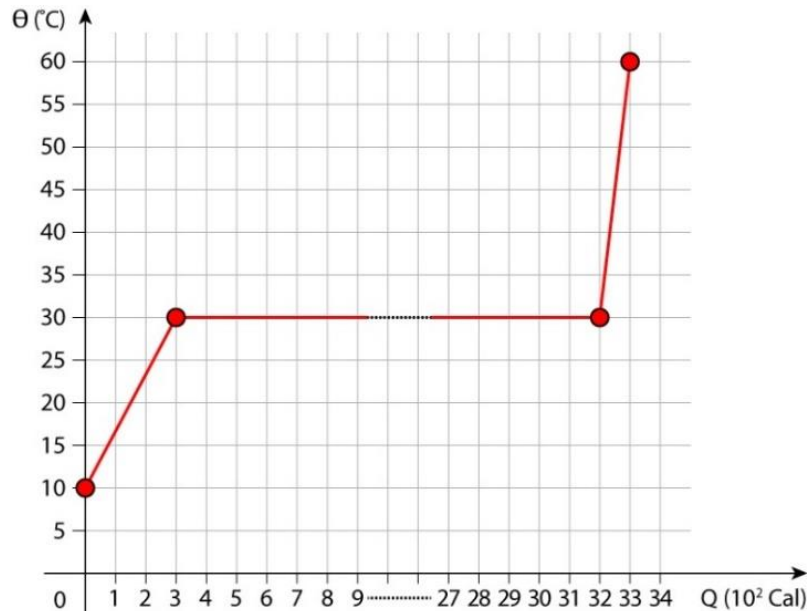
$$\frac{1}{4}$$

$$\frac{1}{6}$$

$$\frac{1}{8}$$

■ QUESTÃO 21

A massa de dada substância sofre o processo calorimétrico apresentado no gráfico abaixo.



Considerando os dados, afirma-se que a substância, ao absorver:

300 Cal, muda de estado físico

3200 Cal, conclui a mudança de fase

3300 Cal, completa a mudança de fase

2800 Cal, completa a transformação de fase

AVISO:

A ordem das questões apresentada neste PDF é para fins de publicação e pedidos de recurso quanto ao gabarito e não representa necessariamente a ordem que o candidato viu na sua prova.

MEDICINA

■ QUESTÃO 22

O **poraquê** é um peixe que pode chegar a dois metros de comprimento e pesar cerca de 20 kg. É uma das conhecidas espécies de peixe-elétrico, com capacidade de geração elétrica, produzindo uma diferença de potencial entre 300 V e 860 V e intensidade de corrente elétrica, variando de 0,5 A até 3,0 A.

A potência elétrica mínima em uma descarga, em Watts, é de:

100

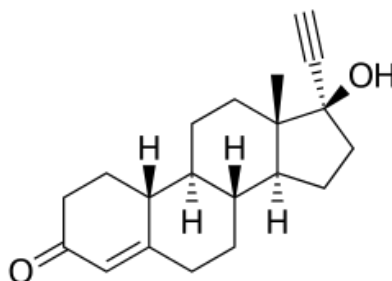
150

287

600

■ QUESTÃO 23

O surgimento das pílulas anticoncepcionais permitiu uma mudança na sociedade e o debate sobre temas, como sexo e gravidez. A primeira pílula tinha como princípio ativo a molécula noretindrona, representada a seguir.



Analisando-se a estrutura dessa molécula, constata-se a presença das seguintes funções da química orgânica:

fenol e cetona

fenol e aldeído

álcool e cetona

álcool e aldeído

AVISO:

A ordem das questões apresentada neste PDF é para fins de publicação e pedidos de recurso quanto ao gabarito e não representa necessariamente a ordem que o candidato viu na sua prova.

MEDICINA

■ QUESTÃO 24

O composto de fórmula química NaI é empregado como fonte de iodo para o tratamento da tireoide.

O ânion desse composto é nomeado como:

iodeto

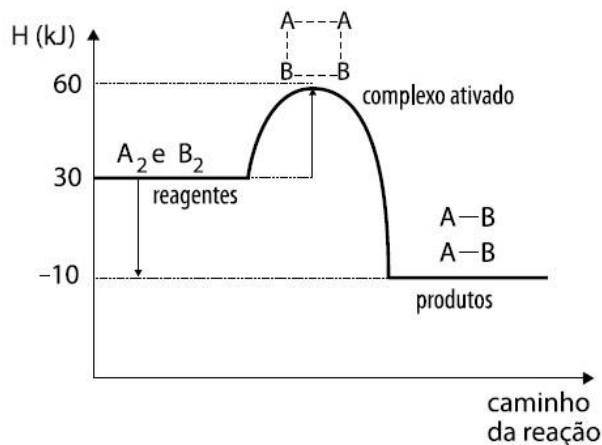
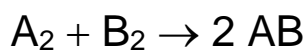
iodato

periodato

hipoiodito

■ QUESTÃO 25

O diagrama a seguir representa a variação de entalpia em uma reação química hipotética:



Disponível em: www.manualdaquimica.com. Acesso em 06 out 2021.

Analisando-se esse diagrama, a variação de entalpia, em quilojoules, é igual a:

- 40

- 30

+ 30

+ 40

AVISO:

A ordem das questões apresentada neste PDF é para fins de publicação e pedidos de recurso quanto ao gabarito e não representa necessariamente a ordem que o candidato viu na sua prova.

MEDICINA

■ QUESTÃO 26

O ácido clorídrico é o principal componente do suco gástrico. Em um experimento, simulou-se o suco gástrico, utilizando uma solução aquosa de ácido clorídrico com concentração 10^{-2} mol/L.

O pH dessa solução é igual a:

2

7

10

14

AVISO:

A ordem das questões apresentada neste PDF é para fins de publicação e pedidos de recurso quanto ao gabarito e não representa necessariamente a ordem que o candidato viu na sua prova.

MEDICINA
CIÊNCIAS HUMANAS

■ **QUESTÃO 27**

De acordo com a classificação do Programa de Ação Estadual de Combate à Desertificação e Mitigação dos Efeitos da Seca no Estado da Paraíba, 93,7% do território do estado está em processo de desertificação, sendo que 58% em nível alto de degradação.

“A desertificação é um processo cumulativo de degradação ambiental, que afeta as condições econômicas e sociais de uma região ou país, que, ao mesmo tempo em que diminui continuamente a superfície das terras agricultáveis, faz com que a população desses locais ocupe novos territórios, em busca da sobrevivência”, explica o professor da Universidade Federal de Alagoas, Humberto Barbosa.

Adaptado de CARNEIRO, K. Disponível em: <http://g1.globo.com>. Acesso em 22 jul. 2021.

O fenômeno abordado na reportagem tem origem em um processo com as seguintes características:

natural, ligado ao aquecimento global

antrópico, vinculado à irrigação excessiva

natural, relacionado à pluviosidade reduzida

antrópico, associado ao desmatamento intenso

AVISO:

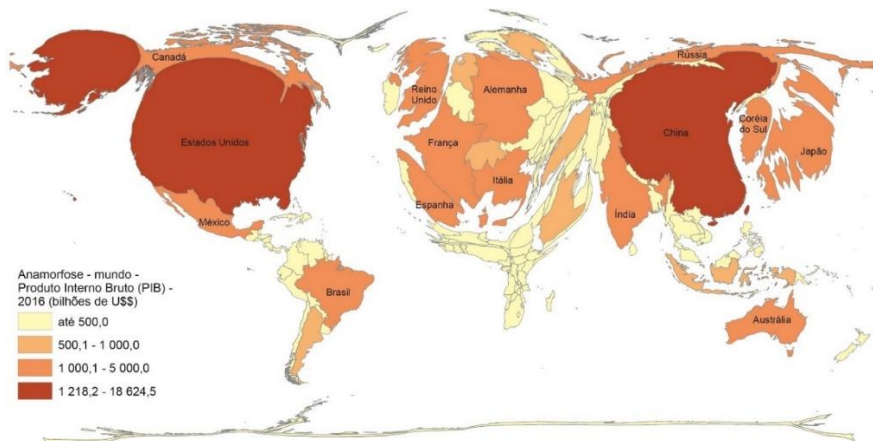
A ordem das questões apresentada neste PDF é para fins de publicação e pedidos de recurso quanto ao gabarito e não representa necessariamente a ordem que o candidato viu na sua prova.

MEDICINA

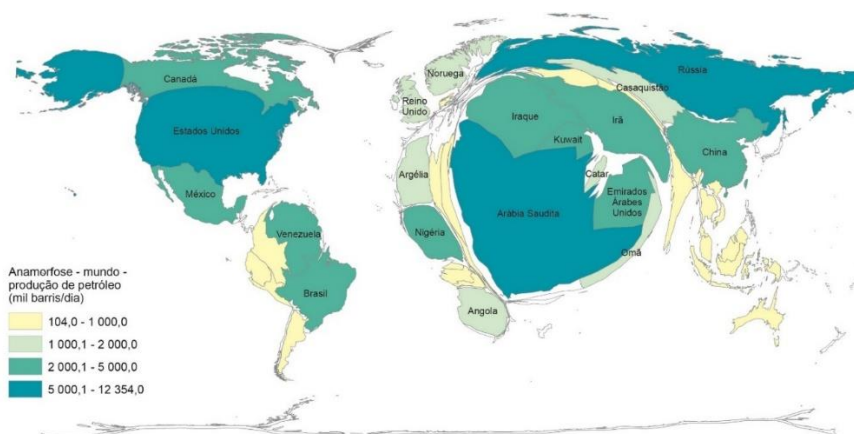
■ QUESTÃO 28

A “anamorfose geográfica” é o redesenho do território de um país que tem a sua área deformada proporcionalmente a um tema de interesse, como por exemplo, população, PIB ou outra variável. Com essa técnica, consegue-se visualizar o tema de uma forma mais direta.

Produto Interno Bruto de cada país (2016)



Volume de petróleo por país produtor (2016)



Disponível em: <https://educa.ibge.gov.br>. Acesso em 15 mai. 2021.

A partir da análise das duas anamorfozes, o continente com maior número de países com elevada dependência relativa e absoluta de importação petrolífera é a:

Ásia

África

Europa

América

AVISO:

A ordem das questões apresentada neste PDF é para fins de publicação e pedidos de recurso quanto ao gabarito e não representa necessariamente a ordem que o candidato viu na sua prova.

MEDICINA

■ QUESTÃO 29



1917, filme dirigido pelo britânico Sam Mendes, transcorre em apenas dois planos-sequência - como se fossem duas grandes cenas, com apenas uma interrupção. O longa se passa em um cenário verdadeiro: a Primeira Guerra Mundial, de 1914 a 1918, e teve o continente europeu como palco principal, com destaque para o norte da França. Mais de 17 milhões de pessoas morreram no conflito. Segundo o diretor, a história de 1917 se baseia em relato que seu avô, Alfred Mendes, lhe fez na infância.

Disponível em: <https://cincartaz.publico.pt>. Acesso em 20 out 2021.

Adaptado de BBC. Disponível em: <https://www.bbc.com>. Acesso em 20 out 2021.

Uma causa para o conflito representado no filme foi a:

- ascensão do fascismo belicista
- contenção do socialismo soviético
- promoção do expansionismo nazista
- propagação do nacionalismo exacerbado**

■ QUESTÃO 30

O objetivo do Plano da Ação Econômica do Governo (PAEG) era o de acelerar o crescimento, e simultaneamente reduzir a inflação. Deve ser entendido no âmbito do diagnóstico que os autores do Plano faziam da crise brasileira. Estes avaliavam que a causa maior da estagnação era o recrudescimento do processo inflacionário a partir de 1959, o qual, acelerando-se no período recente, ameaçava levar o país a uma hiperinflação. Portanto, superando os problemas que levaram ao descontrole de preços, seria possível criar as condições para a retomada do desenvolvimento.

Adaptado de PRADO, Luiz Carlos Delorme; EARP, Fábio Sá. "O 'milagre' brasileiro: crescimento econômico acelerado, integração internacional e concentração de renda (1967-1973)". In: FERREIRA, Jorge e DELGADO, Lucília. O Brasil republicano. Vol. 4. Rio de Janeiro: Civilização Brasileira, 2003, pp. 207-241.

A principal consequência do plano econômico analisado foi a:

- intensificação do arrocho salarial**
- adoção do protecionismo tarifário
- contenção do desemprego estrutural
- ampliação do endividamento externo