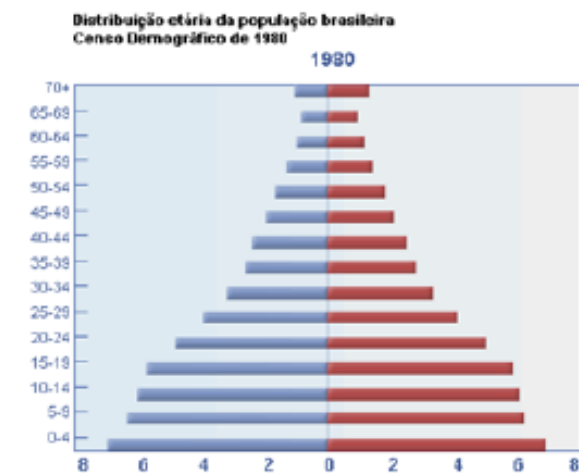


TURMA:

NOME:

13º SIMULADO DE GEOGRAFIA

21. (CURSO CIDADE - 2014) Observe os gráficos etários abaixo e, a partir do seu conhecimento sobre a dinâmica demográfica brasileira, analise os itens abaixo.



- I. A fase avançada em que o Brasil se encontra na transição demográfica é determinante para um contínuo processo de envelhecimento da população.
- II. O Brasil enfrenta, hoje, a temida “bomba previdenciária”, considerando que a arrecadação que advém da contribuição da PEA é insuficiente para pagar os benefícios à população aposentada.
- III. Os recentes fluxos imigratórios de países latino americanos e africanos para o Brasil nos transforma em um país de imigração e iguala quantitativamente aos fluxos do final do século XIX.

Estão corretos apenas os itens:

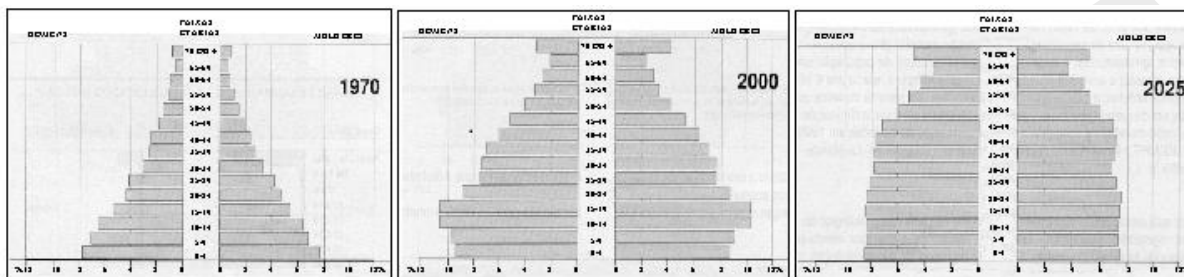
- (A) I e II
- (B) I e III
- (C) I
- (D) II

(E) II e III

22. (ESFCEX 2003-2004) Sobre a dinâmica do crescimento da população brasileira, **NÃO** é correto afirmar que atualmente:

- (A) se encontre em fase de transição demográfica avançada.
- (B) apresente uma diminuição da expectativa de vida da população.
- (C) apresente uma diminuição do crescimento populacional.
- (D) seu perfil etário se aproxima da dos países desenvolvidos.
- (E) a população adulta esteja aumentando, percentualmente, no conjunto da população.

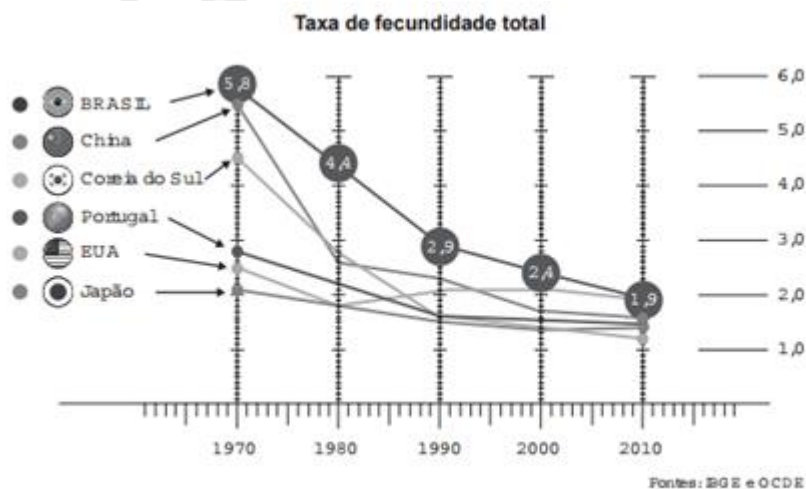
23. (ESFCEX 2003-2004) Sobre a dinâmica demográfica no Brasil a análise das pirâmides etárias, abaixo, atestam que:



Fonte: IBGE

- (A) Na década de 1970, a população brasileira já registrava diminuição do crescimento vegetativo.
- (B) O Brasil atingirá a estabilidade demográfica em 2025, o que irá refletir importantes mudanças estruturais da sociedade brasileira.
- (C) As mudanças do perfil populacional brasileiro, como o apresentado pela evolução das pirâmides, não traz implicações para a economia brasileira.
- (D) As mudanças de padrão nas pirâmides etárias são resultado direto da queda de fecundidade da população brasileira, independente de região.
- (E) O regime demográfico moderno, que a pirâmide do ano de 2025 representa, indica baixas natalidade e expectativa de vida.

24. (ENEM 2016-2017) O número de filho por casal diminuiu rapidamente. Para a maioria dos economistas, isso representa um alerta para o futuro.



Disponível em: <http://epoca.globo.com>. Acesso em: 20 out. 2015 (adaptado).

Uma consequência socioeconômica para os países que vivenciam o fenômeno demográfico ilustrado é a diminuição da.

- (A) Oferta de mão de obra nacional.
- (B) Média de expectativa de vida.
- (C) Disponibilidade de serviços de saúde.
- (D) Despesa de natureza previdenciária.
- (E) Imigração de trabalhadores qualificados.

25. (Curso Cidade 2014) Sobre a transição demográfica e a dinâmica populacional brasileira, é correto afirmar:

- (A) A transição demográfica é o elevado crescimento natural, devido à elevação das taxas de natalidade e mortalidade, no Brasil ela ocorreu durante a década de 1970 quando o país se urbanizou.
- (B) Os países que já passaram pela transição demográfica apresentaram um baixo crescimento natural, situado entre dois períodos de grande crescimento demográfico, que correspondem à 1ª e última fases.
- (C) O saldo migratório brasileiro contribuiu decisivamente para a composição demográfica nacional, historicamente, vivemos ao final do século XX e início do XXI o período de maior contribuição quantitativa da imigração, fundamentalmente devido à chegada de imigrantes de países vizinhos da América Latina.
- (D) Na pré-transição demográfica vive-se uma situação de baixo crescimento natural, iniciando a transição, há a explosão demográfica e posterior decréscimo da taxa de crescimento vegetativo. Na última fase, acontece o baixo crescimento devido a queda de natalidade e mortalidade.
- (E) O Brasil vive uma atual situação de desequilíbrio demográfico, visto que a contínua queda da natalidade leva a um envelhecimento da população e impactos na política previdenciária decorrentes da incapacidade de reposição demográfica.

26. (Curso Cidade – 2016 MODIFICADA) Considerando as teorias demográficas e a sua aplicação à realidade brasileira, é correto afirmar:

- (A) As políticas assistencialistas que abundam no século XXI tem claro perfil reformista ou marxista, visto que propõem inclusão social como estratégia de enfrentamento da pobreza e vincula o benefício ao número de filhos de cada família.
- (B) A teoria neomalthusiana não encontrou repercussão no Brasil, visto que o pós-II Guerra Mundial até a década de 1970 foi também o período de grande euforia econômica e modernização com urbanização do território e formação de um mercado nacional.
- (C) A negação de práticas anticoncepcionais, típicas da Igreja Católica, reflete um discurso natalista e ainda hoje é responsável pelas altas taxas de natalidade do Brasil no contexto mundial.
- (D) Com mais de 200 milhões de habitantes o Brasil era, em 2014, o quinto país mais povoado do mundo e esse fato, segundo os ambientalistas econeomalthusianos é um dos fatores responsáveis pela degradação da natureza no nosso território.
- (E) A teoria malthusiana é completamente negada na nossa lógica territorial, visto que o aumento das safras é continuamente maior que o crescimento demográfico.

27. (CURSO CIDADE - 2017) Sobre os fluxos migratórios externos e internos e os seus impactos na formação demográfica brasileira, é correto afirmar que:

- (A) o período de maior fluxo imigratório se dá entre 1808 e 1880 com a abertura dos portos às nações amigas e o estabelecimento da Lei de Terras (1850) que possibilitava ao imigrante estrangeiro adquirir posses no território nacional.
- (B) as principais correntes imigratórias do fluxo internacional para o Brasil, ao final do século XIX, foram de italianos, japoneses e bolivianos. Estes, concentrados nos centros urbanos e os dois primeiros, com destino ao trabalho no campo.
- (C) as duas últimas décadas do século XX marcam uma significativa alteração no saldo migratório do país. O Brasil passa a ser um espaço de emigração, sendo os principais destinos os EUA, o Paraguai e a Europa.
- (D) dos fluxos migratórios internos, merece destaque, na década de 60 do século passado, a saída de trabalhadores do Sul e do Nordeste em direção ao Centro-Oeste. Eles formavam a mão de obra necessária à construção de Brasília. Como não podiam residir no local, houve, na mesma década, um refluxo migratório para as regiões de origem.

- (E) a criação da Zona Franca e Região Metropolitana de Manaus, na década de 70 do século passado, induziu ao intenso fluxo migratório de trabalhadores da periferia das grandes metrópoles nacionais (Rio de Janeiro e São Paulo) para a capital amazonense.

28. (ESFCEX 2006-2007) O trecho da música abaixo faz referência a um dos movimentos migratórios internos do Brasil. Sobre este e outros movimentos internos da população brasileira é correto afirmar:

“A vida aqui só é ruim, quando não chove no chão,
mas se chover dá de tudo, fartura tem de porção,
tomara que chova logo, tomara meu Deus tomara,
só deixo o meu Cariri, no último pau-de-arara”.

(Corumbá/José Guimarães/Venâncio)

- (A) resultado do recente processo de retorno às metrópoles, visto que estas representam o espaço da melhor qualidade de vida e das oportunidades de emprego nos setores secundário e terciário, há, ao final do século XX, maior índice de crescimento populacional nas capitais que nas cidades médias do interior de Rio de Janeiro e São Paulo.
- (B) proporcionalmente, Palmas (TO) e algumas capitais nordestinas possuem maior índice de crescimento demográfico que Rio de Janeiro (RJ) e São Paulo (SP), visto que estes espaços já estão densamente ocupados e possuem diversos problemas internos, ao passo que aqueles aparecem como atrativos aos fluxos migratórios nacionais.
- (C) a música diz respeito ao êxodo rural, movimento migratório que, no Brasil, significa o fluxo de nordestinos para as capitais do Sudeste e esteve concentrado nas décadas de 1930 e 1970 por conta da viabilidade do transporte rodoviário em nível nacional.
- (D) a migração pendular é um fenômeno contemporâneo e diz respeito aos fluxos de pessoas entre os países do mundo que a globalização permite e estimula. A exemplo de um cidadão que nasce numa pequena cidade, migra para a capital regional, consegue um emprego numa metrópole nacional e, após alguns anos, volta a migrar para se especializar num centro urbano mundial.
- (E) a transumância ou migração sazonal é um fluxo urbano-urbano que acontece em cidades conurbadas onde diversas pessoas moram numa cidade e trabalham ou estudam na outra, gerando intenso movimento regular e diário.

29. (ENEM 2016-2017) A presença de uma corrente migratória por si só não explica a condição de vida dos imigrantes. Esta será somente a aparência de um fenômeno mais profundo, estruturado em relações socioeconômicas muitas vezes perversas. É o que podemos dizer dos indivíduos que são deslocados do campo para as cidades e obrigados a viver em condições de vida culturalmente diferentes das que vivenciaram em seu lugar de origem.

SCARLATO. F.C população e urbanização brasileira. In: ROSS. J.L.S. Geografia do Brasil. São Paulo: Edusp, 2009.

O texto faz referência a um movimento migratório que reflete o(a):

- (A) Processo de deslocamento de trabalhadores motivados pelo aumento da oferta de empregos no campo.
- (B) Dinâmica experimentada por grande quantidade de pessoas, que resultou no inchaço das grandes cidades.
- (C) Permuta de locais específicos, obedecendo a fatores cíclicos naturais.
- (D) Circulação de pessoas diariamente em função do emprego.
- (E) Cultura de localização itinerante no espaço.

30. (ESPCEX 2016-2017) Embora a maioria dos brasileiros viva na cidade em que nasceu, o volume de migrantes internos é enorme, especialmente entre a população economicamente ativa (PEA).

Sobre as migrações internas brasileiras, pode-se afirmar que:

- I. a maior dinâmica industrial da Região Sudeste, em relação às demais, provocou, segundo os últimos censos demográficos, o aumento das migrações inter-regionais e uma significativa redução dos movimentos inter-regionais.

- II. na década de 2000, as chamadas cidades médias, com até 500 mil habitantes, especialmente as da Região Centro-Oeste, apresentaram crescimento populacional muito mais vigoroso do que as grandes cidades, tornando-se grande polo de atração populacional.
- III. a partir da década de 1990, a Região Metropolitana de São Paulo registrou êxodo migratório por conta das chamadas migrações de retorno, contudo o Estado de São Paulo ainda apresenta saldo migratório positivo.
- IV. a expansão da fronteira agrícola e do agronegócio na Região Sul faz desta a região com o maior percentual de residentes não nascidos em seu interior.
- V. as migrações pendulares diárias nas metrópoles ocorrem entre o núcleo urbano central e os núcleos situados no seu entorno, fisicamente integrados entre si, o que não é possível ocorrer entre núcleos que estão apenas funcionalmente integrados.

Assinale a alternativa que apresenta todas as afirmativas corretas.

- (A) II e III
- (B) II e IV
- (C) I, III e IV
- (D) I, III e V
- (E) I, II e V

31. (Curso Cidade 2016) Relacione as duas colunas e marque a assertiva que indique a correta associação.

GRUPO IMIGRANTE	CARACTERÍSTICAS
ITALIANOS	Assim como os espanhóis tiveram destino principalmente urbano, abrindo pequenos negócios alimentícios nas principais vilas e cidades coloniais brasileiras.
JAPONESES	Juntamente com os alemães, constituíram o principal fluxo imigratório no último quartel do século XIX.
LATINOS	Esse grupo constitui, com os africanos e asiáticos, os mais importantes fluxos imigratórios contemporâneos para o território brasileiro.
PORTUGUESES	Esse grupo viveu uma história de vindas e idas para/do Brasil ao longo do século XX.

- (A) 1D, 2B, 3C, 4A
- (B) 1D, 2B, 3A, 4C
- (C) 1B, 2D, 3C, 4A
- (D) 1B, 2D, 3A, 4C
- (E) 1A, 2B, 3C, 4D

32. (Curso Cidade 2017) Sobre os fluxos migratórios internacionais no início do século XXI analise as assertivas abaixo:

- I. O fluxo de refugiados tem como principal destino os países desenvolvidos.
- II. Países emergente, como o Brasil, são destino preferencial de países mais pobres que estejam no seu entorno.
- III. A migração econômica varia ao sabor das oscilações de períodos de maior ou menor crescimento tanto das áreas de repulsão como das de atração dos fluxos.
- IV. Quantitativamente os atuais fluxos de migrantes asiáticos e africanos para a Europa, concentrados na temporalidade de uma década, superam fluxos imigratórios anteriores.

Marque a assertiva abaixo que apresenta apenas as afirmações verdadeiras:

- (A) I, II, III, IV
- (B) I, III, IV
- (C) I, II, III

TURMA:

NOME:

(D) II, III, IV

(E) Apenas uma das assertivas está correta

Curso Cidade

Final Da Prova De Geografia

