

Exercício 1

(G1 - cps 2015) As migrações são movimentos de deslocamento temporário ou definitivo de pessoas de um lugar para outro. Todos os dias, milhares de pessoas que moram em cidades vizinhas à cidade de São Paulo se deslocam para a capital para trabalhar ou estudar, voltando para casa no final de sua jornada.

Esse deslocamento cotidiano é conhecido como migração

- a) sazonal.
- b) pendular.
- c) permanente.
- d) inter-regional.
- e) de transumância.

Exercício 2

(G1 - cftpr 2006) É comum nas grandes metrópoles brasileiras, o trabalhador residir em uma cidade da região metropolitana e se deslocar diariamente até a cidade principal para trabalhar. Esse vai e vem diário do trabalhador é chamado de:

- a) Migração pendular.
- b) Transumância.
- c) Êxodo rural.
- d) Emigração.
- e) Imigração.

Exercício 3

(Ufrgs 2014) A manchete e a imagem abaixo retratam uma cena que se repete cotidianamente na BR 116, estrada que liga Porto Alegre/RS a municípios da região metropolitana.

Gestionamentos aumentam nos dois sentidos da BR-116



Disponível em: <<http://www.jornalvs.com.br/tudoatrancado/470334/congestionamentos-aumentam-nos-dois-sentidos-da-br-116.html>>. Acesso em: 18 set. 2013.

Entre os inúmeros fatores que causam essa situação, pode-se destacar o fluxo de pessoas residentes em outros municípios que se deslocam, diariamente, para trabalhar ou estudar na capital. Esse movimento é denominado

- a) êxodo rural.
- b) migração pendular.
- c) transumância.
- d) emigração.

e) êxodo urbano.

Exercício 4

(G1 - ifsul 2015) “[...] as migrações de mão de obra [...] estão constantemente aumentando quer em número quer em distância; esses dois fatos são apenas duas manifestações da influência do progresso técnico sobre a vida e a atividade humanas. Os modernos meios de transporte estão favorecendo o que se tornou necessidade econômica [...]”

BEAUJEU-GARNIER, J. *Geografia de População*. São Paulo: Ed. Nacional, 1980, p.292.

Ao movimento migratório diário em que os trabalhadores deslocam-se de suas casas para o local de trabalho e vice-versa, dá-se o nome de

- a) êxodo rural.
- b) nomadismo.
- c) transumância.
- d) migração pendular.

Exercício 5

(G1 - ifsul 2017) O processo de urbanização no Brasil é bastante recente. Até 1960, nosso país era rural e agrário, ou seja, a base da economia era a agricultura e a maior parte da população vivia no campo. Hoje, a maior parte da população brasileira vive nas cidades enfrentando sérios problemas de infraestrutura, como por exemplo, a deficiência no transporte público. Nas megalópoles, o trabalhador, diariamente, depende de horas diárias se deslocando de seu local de moradia para o ambiente de trabalho e vice-versa.

A esse movimento diário denominamos migração

- a) sazonal.
- b) periódica.
- c) pendular.
- d) reversiva.

Exercício 6

(Unicamp 2017) O estudo *Arranjos Populacionais e Concentrações Urbanas do Brasil* (IBGE, 2015) identificou 294 arranjos populacionais no País, de diferentes escalas e naturezas. O Arranjo Populacional da Região Metropolitana de São Paulo (SP) é caracterizado pela extensão e intensidade de seus fluxos: aproximadamente 1.750.000 pessoas deslocam-se cotidianamente entre os municípios que compõem o Arranjo para estudar e trabalhar.

Essa dinâmica espacial é melhor explicada pelo conceito de

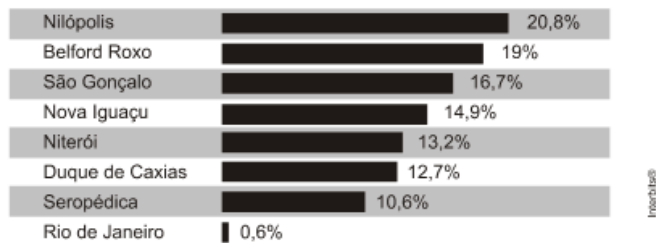
- a) migração interna.

- b) movimento pendular.
- c) migração urbano-urbano.
- d) movimento sazonal.

Exercício 7

(Uerj 2011)

Região metropolitana do Rio de Janeiro: percentual de pessoas que trabalham ou estudam em outros municípios (2005)



Adaptado de SANTANA, Fabio Tadeu e DUARTE, Ronaldo Goulart.

Rio de Janeiro: Estado e Metrôpole. São Paulo: Editora do Brasil, 2009.

A dinâmica interna de uma região metropolitana é extremamente complexa, dada a variedade das interações que se estabelecem entre os aglomerados que a compõem.

Na tabela acima, evidencia-se o tipo de interação denominado de:

- a) repulsão urbana
- b) migração de retorno
- c) movimento pendular
- d) fluxo de transumância

Exercício 8

(G1 - ifsp 2017) Observe a figura e leia o trecho abaixo para responder à questão.



“São Paulo – Nem São Paulo ou Rio de Janeiro. Japeri (RJ), a cidade cujos habitantes mais perdem tempo no percurso para ir ao e voltar do trabalho tem apenas 100 mil habitantes e 8,3 mil veículos – uma frota mais de 600 vezes menor do que a que preenche todos os dias as ruas da capital paulista. Mesmo assim, seus moradores levam, em média, mais de três horas todos os dias para rumar para os respectivos empregos ou retornar para suas casas, segundo estudo da Firjan que analisou os deslocamentos dos moradores de 601 municípios de 37 áreas metropolitanas do País.”

Fonte: <http://exame.abril.com.br/brasil/onde-vive-quem-mais-demora-para-chegar-ao-trabalho-no-brasil/>. Adaptado.

Assinale a alternativa que corresponde ao processo migratório descrito no texto apresentado.

- a) Êxodo rural.
- b) Êxodo urbano.
- c) Migração pendular.

- d) Migração sazonal.
- e) Migração temporária.

Exercício 9

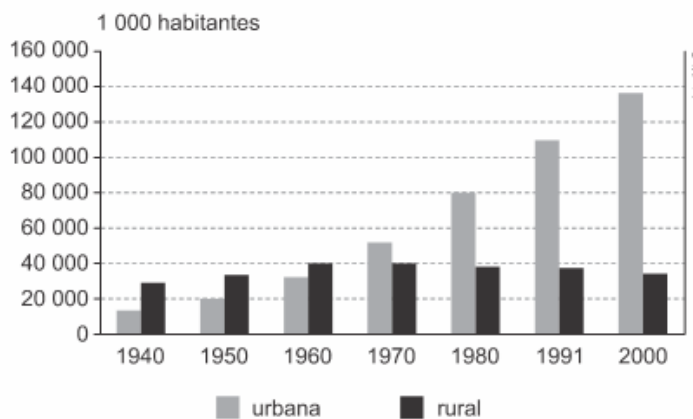
(Ufrgs 2016) O deslocamento diário de pessoas entre municípios que fazem parte de uma mesma região metropolitana é denominado de

- a) migração pendular.
- b) migração internacional.
- c) migração interestadual.
- d) emigração.
- e) êxodo rural.

Exercício 10

(G1 - ifsp 2017) Observe o gráfico abaixo para responder à questão.

Brasil – Evolução da População 1940 - 2000



Urbanização é o crescimento das cidades, tanto em população quanto em extensão territorial. É o processo em que o espaço rural transforma-se em espaço urbano, com a consequente migração populacional do tipo campo-cidade. Com relação aos fatores que contribuíram para a urbanização brasileira, marque V para verdadeiro ou F para falso.

- () Os sistemas de ensino nas cidades são mais acessíveis.
- () Ofertas de empregos nos setores secundário e terciário de produção.
- () Acesso à prestação de serviços e produtos industrializados.
- () Acesso a sistemas de saúde especializados.

Assinale a alternativa que apresenta a sequência correta.

- a) V – V – V – V
- b) V – V – F – F
- c) F – F – F – V
- d) F – F – V – V
- e) F – V – V – F

Exercício 11

(G1 - cps 2020) Uma das mais antigas formas de exploração econômica do território da América portuguesa, a produção de açúcar aconteceu principalmente nos engenhos do Nordeste e se organizava segundo um sistema que ficou conhecido como *plantation*.

Assinale a alternativa que apresenta, corretamente, as principais características do sistema de *plantation*.

- a) Agricultura diversificada, voltada para a subsistência, pequenas propriedades rurais, mão de obra familiar.
- b) Extrativismo, voltado para o mercado interno, médias propriedades, mão de obra imigrante.
- c) Monocultura, voltada para o mercado externo, latifúndio e mão de obra escrava.
- d) Produção agrícola diversificada, voltada para o mercado externo, latifúndio e mão de obra livre.
- e) Produção mecanizada, voltada para o mercado interno, pequenas propriedades, mão de obra escrava.

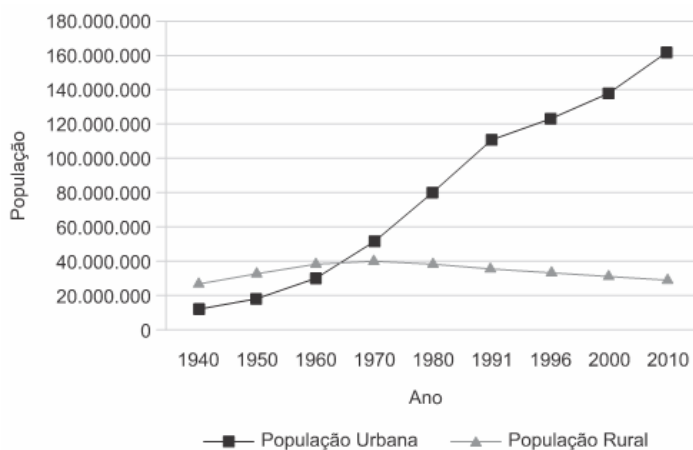
Exercício 12

(Ufrgs 2008) Em uma pesquisa realizada nos Campos de Cima da Serra, no planalto gaúcho, verificou-se que alguns produtores, na época do inverno, conduziam seus rebanhos para os vales em busca de pastagem e de abrigo contra o vento frio da estação, retornando na primavera para as áreas de campo aberto. Esse tipo de deslocamento humano que se movimenta em função de variações climáticas sazonais denomina-se

- a) migração pendular.
- b) transumância.
- c) emigração.
- d) imigração.
- e) êxodo rural.

Exercício 13

(Ucpel 2017) A urbanização no Brasil se tornou evidente na década de 1970, quando, pela primeira vez, o número de habitantes morando nas cidades passou a ser maior dos que viviam na zona rural. Esse fenômeno já havia se iniciado no século XIX, mas a partir de 1920 se intensificou, devido a uma série de fatores.



Sobre a urbanização do Brasil, é correto afirmar que teve como uma das suas causas

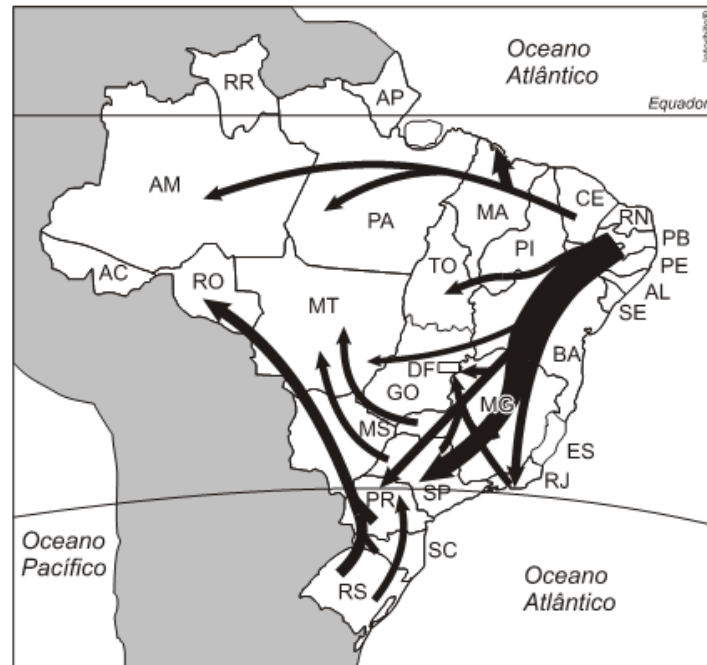
- a) a migração dos grandes proprietários de terras para as cidades em busca de trabalho assalariado nas indústrias.
- b) a implantação de máquinas nas atividades urbanas, que substituíram a mão de obra assalariada, que sem trabalho migrou para as grandes cidades.
- c) a concentração de terras nas mãos de pequenos proprietários rurais, que tinham como comprar as máquinas e produtos agrícolas aumentando a produtividade.
- d) a implantação de indústrias nas cidades brasileiras, que atraiu muitas pessoas da zona rural para a urbana em busca de trabalho

e melhores condições de vida, provocando, assim, o êxodo rural brasileiro.

e) a diminuição na taxa de mortalidade e de natalidade, o que provocou o pequeno crescimento vegetativo da população brasileira nas décadas de 1960 e 1970.

Exercício 14

(Mackenzie 2012)



Observando os fluxos migratórios destacados no mapa, é correto afirmar, a respeito da Região Nordeste, que

- a) nos primeiros séculos de ocupação europeia da Região Nordeste, desenvolveram-se as primeiras atividades de grande expressão econômica para o país, como a extração do pau-brasil, do cacau e, posteriormente, do babaçu, em que a grande quantidade de mão de obra se fazia essencial.
- b) as plantations de cana-de-açúcar, desenvolvidas nos estados de Rondônia, Pará e Goiás, nos séculos XVI e XVII, tornaram essas áreas focos de migrantes em busca de prosperidade, já que o produto visava ao mercado europeu, gerando uma decadência produtiva para a Região Nordeste.
- c) de acordo com a Divisão Política do IBGE, a Região Nordeste é composta por cerca de 47 milhões de habitantes, distribuídos em 10 estados: Alagoas, Bahia, Ceará, Paraíba, Pernambuco, Piauí, Rio Grande do Norte, Sergipe, parte do estado do Maranhão e parte do estado de Minas Gerais (Vale do Jequitinhonha).
- d) devido aos graves problemas socioeconômicos e ambientais, como as grandes desigualdades de renda, a forte concentração fundiária e as secas no Sertão nordestino durante o século XX, a região passou a representar um cenário de intenso movimento de repulsão populacional. Muitos habitantes saíram, sobretudo entre as décadas de 1940 e 1980, em busca de oportunidades de trabalho em outras regiões do país.
- e) com o abandono persistente de áreas produtivas nordestinas, o governo federal criou, na década de 1930, no governo de Getúlio Vargas, a SUDENE (Superintendência do Desenvolvimento do Nordeste). Porém, devido aos desvios de capitais que nunca chegavam aos seus verdadeiros destinos, o órgão foi desativado na década de 1990.

Exercício 15

(Uff 2007) Os textos a seguir são relacionados ao processo migratório:

POEMA DE CORDEL

O povo que antigamente
Era da zona rural
Mudou-se prá capital
Ou cidades diferentes;
Agora é fato real
Em nosso campo local
Temos muito menos gente.

Mas quem no campo ficou,
Coisa de trinta por cento,
Inda tira seu sustento
Das coisas do interior;
De carro ou de jumento,
Abrigado ou no relento,
A tarefa continuou.

NOTÍCIA DO JORNAL *FOLHA DE SÃO PAULO* (07 de fevereiro de 2006)



Saria Oliveira Amaral com a filha Maitê, 5, no ônibus que a levará para Salvador.

A administração municipal paga para famílias de sem-teto deixarem a cidade de São Paulo. Além de dinheiro, a prefeitura cede aos desabrigados passagens de ônibus para seus municípios de origem.

O poema de cordel e a notícia de jornal retratam uma realidade socioeconômica que se observa no território brasileiro. Quanto ao poema e à notícia, dois processos ligados a movimentos populacionais são identificados, respectivamente, em uma das opções a seguir. Assinale-a.

- a) Movimento pendular e êxodo rural
- b) Transumância e movimento pendular
- c) Migração intra-urbana e nomadismo
- d) Êxodo rural e migração de retorno
- e) Migração de retorno e transumância

Exercício 16

(Fgvjr 2016)



<http://g1.globo.com/mundo/noticia/2013/11/com-reforco-de-fronteiras-na-europa-imigrantes-otam-por-rotas-da-morte.html>

Com relação aos recentes fluxos migratórios para a Europa, analise as afirmações a seguir.

- I. Os imigrantes que atravessam o Mediterrâneo clandestinamente provêm, principalmente, de regiões em conflito na África, como, por exemplo a Nigéria, campo de atuação da guerrilha de Boko Haram.
- II. As motivações que mobilizam os imigrantes são a fuga das áreas de conflito, a obtenção de refúgio político e a possibilidade de ingressar no mercado de trabalho da União Europeia.
- III. Os fluxos migratórios estão associados às dinâmicas geopolíticas dos países e regiões de origem dos imigrantes, como no caso dos refugiados da guerra na Síria, agravada pela atuação do grupo Estado Islâmico na região.

Está correto o que se afirma em

- a) III, apenas.
- b) I e II, apenas.
- c) I, apenas.
- d) II, apenas.
- e) I, II e III.

Exercício 17

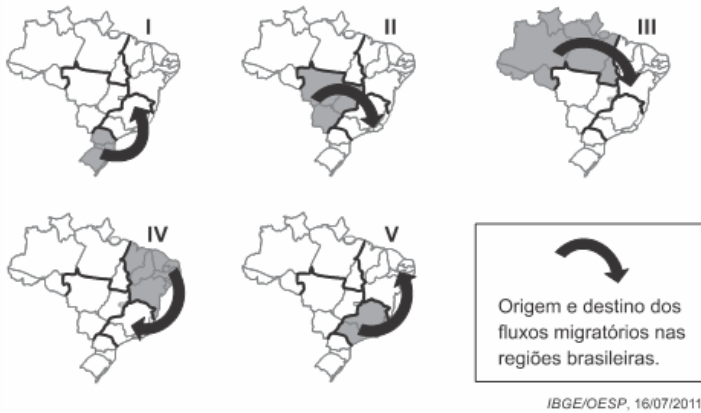
(Uern 2012) O Nordeste passa hoje por um novo processo migratório, criado por pessoas que por algum erro de avaliação do lugar de destino, tiveram uma frustração das expectativas quanto ao emprego e renda. Esse novo processo migratório denomina-se

- a) êxodo rural.
- b) transumância.
- c) movimento pendular.
- d) migração de retorno.

Exercício 18

(Fuvest 2016) Observe os mapas.

MIGRAÇÃO ENTRE AS REGIÕES BRASILEIRAS (2004-2009)



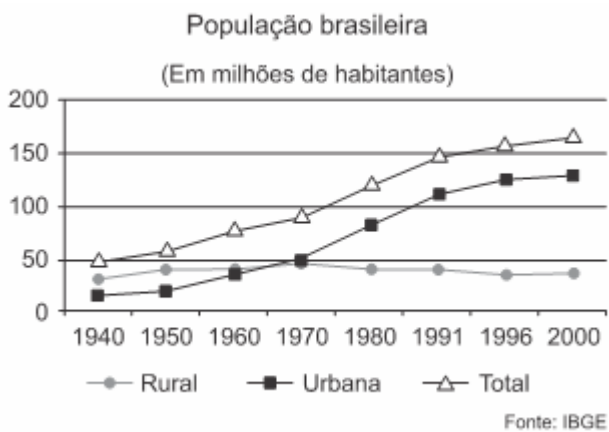
Dentre as seguintes alternativas, a única que apresenta a principal causa para o correspondente fluxo migratório é:

- a) I: procura por postos de trabalho formais no setor primário.
- b) II: necessidade de mão de obra rural, devido ao avanço do cultivo do arroz.
- c) III: necessidade de mão de obra no cultivo da soja no Ceará e em Pernambuco.
- d) IV: procura por postos de trabalho no setor aeroespacial.
- e) V: migração de retorno.

Exercício 19

(G1 - cp2 2008) O gráfico a seguir (1) retrata o comportamento da evolução da população do Brasil no campo e nas cidades. O trecho da marchinha de carnaval da década de 1950 aqui transcrito (2) caracteriza, de forma bem-humorada, os deslocamentos cotidianos de trabalhadores de suas residências aos locais de trabalho. Ambas as representações mostram, com clareza, dois tipos comuns de movimentos populacionais.

(1)



(2)

Fragmento de música

"Sete horas da manhã
Sai de casa o Zé Marmita
Pendurado na porta do trem
Zé Marmita vai e vem"

Assinale a alternativa que caracteriza as migrações identificadas no gráfico e no fragmento da música, respectivamente.

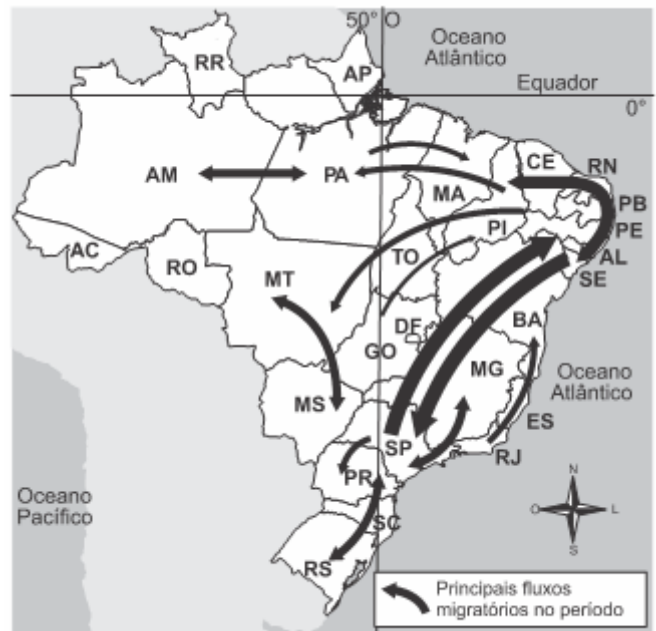
- a) Transumância e êxodo rural
- b) Êxodo rural e migrações internas

- c) Migração de retorno e migração pendular
- d) Êxodo rural e migração pendular

Exercício 20

(Espm 2018) Observe o mapa a seguir:

Brasil: migração (2000 - 2010)



No período indicado destaca-se a:

- a) forte migração para o sertão nordestino motivado por uma nova corrida do ouro.
- b) migração de nordestinos para São Paulo motivada pela expansão da soja.
- c) atração de migrantes sulistas para o sertão nordestino para atuar na fruticultura.
- d) forte migração de retorno de nordestinos.
- e) migração de vários pontos do país para a Amazônia motivada pela mineração.

Exercício 21

(Ufrgs 2004) No Brasil Central, observa-se um fenômeno migratório de trabalhadores em função da necessidade de diferentes colheitas em diferentes épocas do ano, já que o clima tropical permite cultivos perenes que podem proporcionar até duas safras ao ano. Esse tipo de movimento migratório de trabalhadores rurais (boias-frias) é conhecido como

- a) migração temporária, tipo nomadismo.
- b) migração definitiva pendular.
- c) migração temporária, tipo peregrinação.
- d) migração definitiva, tipo transumância.
- e) migração temporária sazonal.

Exercício 22

(Uece 2016) Analise o seguinte trecho da música "Fotografia 3X4" do cantor cearense Belchior:

Eu me lembro muito bem do dia em que eu cheguei
Jovem que desce do norte pra cidade grande
Os pés cansados e feridos de andar légua tirana
Lágrima nos olhos de ler o Pessoa
E de ver o verde da cana

Em cada esquina que eu passava um guarda me parava

Pedia os meus documentos e depois sorria

Examinando o 3x4 da fotografia

E estranhando o nome do lugar de onde eu vinha

Pois o que pesa no norte, pela lei da gravidade disso Newton já sabia!

Cai no sul grande cidade

São Paulo violento, corre o rio que me engana

Copacabana, zona norte e os cabarés da lapa onde eu morei [...]

A minha história é talvez

É talvez igual a tua, jovem que desceu do norte

Que no sul viveu na rua

Que ficou desnorreado, como é comum no seu tempo

Que ficou desapontado, como é comum no seu tempo

Que ficou apaixonado e violento como você

Eu sou como você

Eu sou como você

Eu sou como você que me ouve agora

Eu sou como você

Como você

Disponível em:

http://www.memoriasindical.com.br/lermais_materias.php?cdmaterias=1132

Os movimentos migratórios sempre foram realizados pelo homem por motivos diversos. Analisando-se o trecho da composição do cantor e compositor cearense Belchior, percebe-se que ele faz referência

- a) à migração de nordestinos para a região Sudeste do Brasil.
- b) aos movimentos migratórios ocasionados pelas secas sucessivas na região Nordeste do Brasil.
- c) à luta dos movimentos sociais e dos trabalhadores sem teto.
- d) ao movimento migratório realizado em decorrência do ciclo da borracha na região Norte do Brasil.

Exercício 23

(G1 - ifsul 2017) Lá onde eu nasci, não se sabe da sorte Mas muito da morte, se sabe mais cedo Mas logo se aprende, que a vida é uma só Se o homem é de pó, não se pode ter medo

Assim, aprendi e com muita clareza
Só tive a certeza, que a vida era dura
Não tive saída, nem outra opção
Viver é ação, é tudo aventura

Trechos do cordel MIGRANTE de Paulo Gondim
17/02/2008

O trecho retrata a dura vida do migrante nordestino que, em determinadas épocas, é amenizada devido ao movimento por ele

efetuado, que é periódico, reversivo e causado por fatores climáticos.

Esse movimento é conhecido por

- a) pendular.
- b) fuga de cérebros.
- c) êxodo rural.
- d) transumância.

Exercício 24

(Uepb 2012) “A MIGRAÇÃO SAZONAL DO AGRESTE do Estado da Paraíba para a *plantation* canavieira na Mata Seca do Estado de Pernambuco remonta pelo menos até princípios do século XX. Apesar desta longa tradição, tem ocorrido uma intensificação do uso de ‘trabalhadores migrantes’ localmente chamados *corumbas* desde a década de 80. [...] Durante a safra, um número maior de trabalhadores é necessário. [...] para atender esta demanda [...]” (grifo nosso)

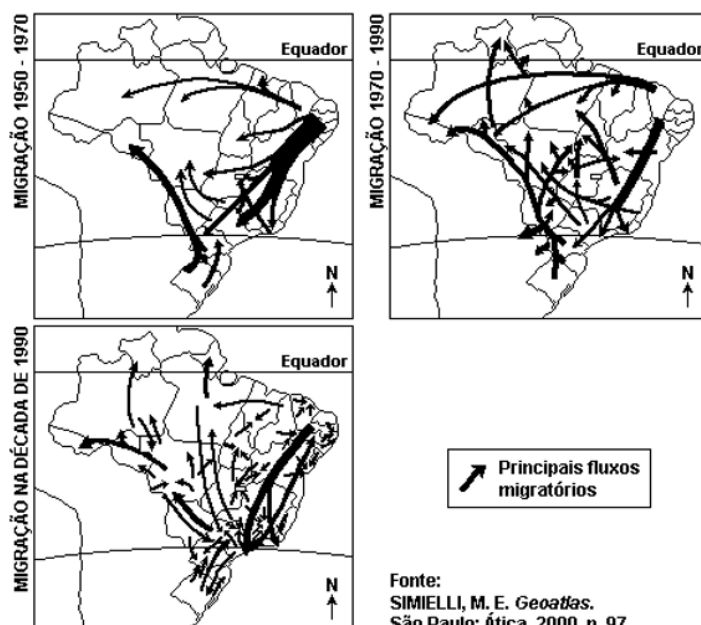
(Menezes Marilda Aparecida de. *Experiência social e identidades: trabalhadores migrantes na plantation canavieira*. p.49. História Oral, 3, 2000, p. 49-68. Disponível in: [http://revista.historiaoral.org.br/index.php?journal=rho&Page=article&op=viewFile&path\[\]=22&path\[\]=1](http://revista.historiaoral.org.br/index.php?journal=rho&Page=article&op=viewFile&path[]=22&path[]=1))

A migração abordada pela autora é do tipo:

- a) Commuting
- b) Pendular
- c) Transumância
- d) Êxodo rural
- e) Nomadismo

Exercício 25

(Ufu 2006) A mobilidade da população brasileira sempre esteve ligada ao processo de povoamento do território nacional. A sucessão dos períodos da economia do Brasil favoreceu essa mobilidade que pode ser observada nos mapas a seguir.



Fonte:
SIMIELLI, M. E. *Geotlas*.
São Paulo: Ática, 2000, p. 97.

A análise dos mapas anteriormente apresentados permite afirmar que

- a) as décadas de 1970-1990 constituem-se como os principais períodos da migração de nordestinos rumo ao Centro-Oeste, fato

que contribuiu para que essa região apresente, atualmente, o maior crescimento populacional do país.

b) as décadas de 1950-1970 foram marcadas pela migração de nordestinos para o Sudeste, motivados pela industrialização; para o Mato Grosso e Paraná; e para a Amazônia, devido à criação da Zona Franca de Manaus.

c) a década de 1990 foi marcada pela migração de moradores das periferias das grandes cidades brasileiras, atraídos pelas expectativas de trabalho nas reservas extrativas da região Amazônica.

d) nas décadas de 1970-1990, o maior fluxo de migração interna do Brasil foi o de nordestinos rumo ao Centro-Oeste, onde eles transformaram-se em empresários do extrativismo mineral.

Exercício 26

TEXTO PARA A PRÓXIMA QUESTÃO:

"Os sertanejos davam conta da metade do serviço do campo. Batiam na usina, aos bandos, contratando tarefas. Só queriam receber dinheiro corrente, nada de vales. Metiam-se assim nos partidos, nas limpas e, enquanto o eito da fazenda se mexia devagar, os sertanejos raspavam terra com uma velocidade de máquina. Tiravam as tarefas em três tempos. Agora com a falta de braços o serviço deles era estimado por toda parte. Podiam até contar com os "corumbas" até que para as bandas do sertão, os relâmpagos aclarassem, porque só ficavam por ali esperando que as chuvas caíssem pelas suas caatingas. Não havia pedidos que os contivessem. Com a chuva a terra deles era um presente do céu."

(José Lins do Rego - Usina)

(Ufpe 2001) O texto faz referência ao tipo de movimento horizontal da população denominado:

- a) migração pendular.
- b) migração sazonal.
- c) migração urbano-rural.
- d) migração microrregional.
- e) migração edáfica.

Exercício 27

(Fvest 2019) A tabela mostra o número total de refugiados no mundo em 2017, segundo relatório do Alto Comissariado das Nações Unidas Para Refugiados (UNHCR ou ACNUR em português).

Principais países de origem dos refugiados	Quantidade de pessoas (em milhões)	Principais países que abrigam refugiados	Quantidade de pessoas (em milhões)
Síria	6,3	Turquia	3,5
Afganistão	2,6	Paquistão	1,4
Sudão do Sul	2,4	Uganda	1,4
Myanmar	1,2	Líbano	0,9
Somália	0,9	República Islâmica do Irã	0,9
Sudão	0,7	Alemanha	0,9

*Nestes dados não estão computados os palestinos.

UNHCR- GLOBAL TRENDS, 2017. Adaptado.

Sobre os refugiados e sua distribuição no mundo, é correto afirmar:

- a) Os provenientes do Sudão do Sul e da Somália são acolhidos na Turquia, onde encontram oferta de empregos nas atividades comerciais, tradição econômica do país, desde o século XVII.
- b) A maioria provém da África, devido aos processos de desertificação, e tem como destino o Oriente Médio e a Europa.
- c) O Irã recebe majoritariamente refugiados de países da África Subsaariana, dentre os quais se destacam o Sudão e o Sudão do Sul.
- d) Os de origem síria são a maior população nesta condição, e estão sendo acolhidos em vários países do Extremo Oriente e da África, os quais apoiam o governo sírio na guerra civil que ocorre nesse país desde 2011.
- e) São majoritariamente provenientes do Oriente Médio, África e Ásia, deslocam-se, forçadamente, devido a longas guerras, em grande parte para países e/ou regiões fronteiriços.

Exercício 28

TEXTO PARA A PRÓXIMA QUESTÃO:

“A saúde brasileira está doente”

O médico sanitário Oswaldo Cruz revolucionou a saúde no Brasil. Foram suas pesquisas para o desenvolvimento de vacinas e seus estudos em contenção de epidemias que alçaram o setor a novos patamares de qualidade no início do século XX. À frente do Instituto Soroterápico Federal – atual Instituto Oswaldo Cruz (FIOCRUZ) –, o médico percorreu o País para erradicar pestes e doenças infecciosas. Apesar de todos os esforços, infelizmente, nos últimos anos, o País tem enveredado pelo perigoso caminho do retrocesso e começa a enfrentar epidemias e surtos de doenças que já tinham sido controladas, como o sarampo e a poliomielite.

Disponível em: <https://webcache.googleusercontent.com/search?q=cache:v3CS2acpBccj;https://secad.artmed.com.br/blog/medicina/dia-nacional-dasaude-5-temas-que-voce-precisa-saber-sobre-a-saude-no-brasil/+&cd=9&hl=pt-BR&ct=clnk&gl=br>. Acesso em: 13 out. 2020. (Parcial e adaptado.)

Nesse sentido, a(s) questão(ões) abordarão o eixo temático “A saúde brasileira está doente”.

(Ucs 2021) A volta de doenças erradicadas ou controladas há décadas marca o início de uma nova etapa no direcionamento das políticas de saúde pública. Nesse contexto, o enfrentamento não dependerá somente das estratégias de atenção básica que demonstraram sucesso, como as campanhas de vacinação e o suprimento de medicamentos.

O retorno do sarampo, por exemplo, foi impulsionado pela entrada no País de indivíduos oriundos de regiões com baixa cobertura vacinal. Esse quadro fez o Brasil perder o certificado de país livre da doença, entregue pela Organização Pan-Americana da Saúde (OPAS), em 2016. Para a perda desse reconhecimento, é preciso haver transmissão sustentada, ou seja, incidência de um mesmo surto por mais de 12 meses.

Segundo o pesquisador do Instituto de Comunicação e Informação Científica e Tecnológica em Saúde (ICICT), Christovam Barcellos, a rota da doença liga os pontos entre o Norte do País, onde ficam as localidades mais pobres, e o Sudeste, que tem o rico estado de São Paulo. Essas regiões têm em comum intensa ou repentina mobilidade humana, em que muitas pessoas circulam (locais, não locais ou estrangeiros) sem proteção vacinal. Isso é explosivo, quando elas chegam a localidades com baixo nível de imunização, explica Barcellos.

Para além disso, a disseminação de informações falsas, sobre a credibilidade da imunização oferecida pelos serviços públicos, também contribuiu para esse retrocesso e pôs em questionamento as ações realizadas pelo Sistema Único de Saúde (SUS).

Disponível em:

<https://valor.globo.com/brasil/noticia/2019/10/08/politica-de-saude-tera-que-mudar-com-volta-de-velhas-doencas.ghtml>.

Acesso em: 12 abril 2020. (Parcial e adaptado.)

Sobre o texto, é correto afirmar que

- a disseminação de informações falsas, associada a aspectos socioeconômicos e migratórios, além da baixa cobertura vacinal, contribui para que doenças erradicadas ou controladas voltem a circular.
- a migração interna desencadeia a formação de extensas periferias desassistidas, social e economicamente, dificultando, assim, o acesso a serviços de imunização.
- a reintrodução de doenças já erradicadas decorre da falta de suprimentos e dos efeitos adversos provenientes das vacinas.
- o retorno de doenças graves e evitáveis retrata uma das facetas da globalização que preconiza a fluidez das informações, das relações sociais, do capital e dos produtos.
- a perda de certificação de país livre do sarampo mostra a ineficiência dos serviços públicos especialmente aqueles relacionados ao suprimento de medicamentos e às campanhas de vacinação.

Exercício 29

<https://www.biologiatotal.com.br/medio/geografia/exercicios/migracoes/ex.-13-conceitos-migratorios>

(Unicamp 2016) Imigrantes cruzam a Macedônia para chegar ao Norte da Europa.



(Fonte: <http://internacional.estadao.com.br/noticias/geral,imigrantescruzam-a-macedonia-para-chegar-ao-norte-daeuropa,1749226.>)

Indique a afirmação correta a respeito dos grandes fluxos migratórios atuais no contexto da globalização.

- Envolvem imigrantes da América Latina, do norte da África e do Oriente Médio, atraídos pela industrialização fordista da Europa e dos Estados Unidos, que gera trabalho nas fábricas e na construção civil.
- Direcionam-se para os países ricos ou em crescimento econômico e envolvem aquelas áreas de expulsão, cujas populações de origem sempre tiveram culturalmente vocação para a realização de grandes deslocamentos.
- Resultam das diferenças entre a situação econômica dos países pobres e ricos e se direcionam para os lugares em que as populações falam a mesma língua ou possuem proximidades culturais.
- Assumem distintas direções, sendo que uma das rotas dos imigrantes para a Europa inicia-se em países do Oriente Médio e da costa oriental do norte da África, indo até a Grécia, com travessia pelo mar Mediterrâneo.

Exercício 30

(Ufpr 2019) A ONU estima que 258 milhões de pessoas morem fora de seu país de origem – o que representa 3,4% da população mundial. Com quase 50 milhões de imigrantes, legais ou não, os EUA têm 15% da população formada por estrangeiros. Em seguida, estão Arábia Saudita e Alemanha, com 12,2 milhões de estrangeiros cada – o que representa 37% da população em território saudita e 15% no país de Angela Merkel. [...] Rússia, Japão e Paquistão têm, respectivamente, 8,1%, 1,8% e 1,7% de estrangeiros. [...] Argentina tem 4,9%, Chile 2,7% e Paraguai 2,4%.

Evolução da população e de estrangeiros no Brasil									
ANO	1940	1950	1960	1970	1980	1990	2000	2010	2018
População total *(em milhões)	41	52	70	93	119	147	170	191	208
População estrangeira *(em milhões)	1,4	1,2	1,4	1,2	1,1	0,767	0,447	0,683	0,750

*Dados aproximados.

(Fonte do texto e das informações: adaptado de <<https://www.uol/noticias/especiais/imigrantes-brasil-venezuelanos-refugiados-media-mundial.htm#menos-imigrantes-do-que-argentina-e-paraguai?>>.)

Levando em consideração o texto e os dados apresentados, assinale a alternativa correta.

- a) O número de estrangeiros, no Brasil, é proporcionalmente maior que na Argentina e no Paraguai, haja vista que esses países possuem menor população.
- b) No Brasil, em razão do tamanho da sua população e da quantidade de estrangeiros, pode-se dizer há um equilíbrio entre ambos, se comparado aos EUA e à Alemanha, por exemplo.
- c) As informações do texto e os dados da tabela evidenciam que o Brasil é pouco atrativo para estrangeiros, se comparado aos outros países.
- d) O Brasil, por ser conhecido por ter boas políticas de Estado em relação à migração, tem apresentado historicamente um crescente interesse por parte dos estrangeiros migrantes.
- e) A política de incentivo à migração, integrando-os à economia, faz com que os EUA se tornem o país mais visado para estrangeiros.

Exercício 31

(Uerj 2009)

Pé na estrada, de novo

Assim, conversinha mole e a criançada que se multiplica. "Eu não vou para São Paulo", anuncia Ari Félix, 12. Mas o irmão dele foi. "Difícil ficar" é a frase mais repetida. Safras perdidas, falta de emprego, família crescendo. A soma faz os homens alternarem: seis meses lá, seis meses cá. Acostumada às despedidas, Vila São Sebastião sabe a rotina: abraços, apertos de mão e adeusinhos frenéticos que, no caso deles, sempre querem dizer "até logo".

ARIADNE ARAÚJO. Adaptado de "O Povo" (Fortaleza), 24/07/2001

O movimento populacional descrito na reportagem é classificado especificamente como:

- a) uniforme
- b) pendular
- c) compulsório
- d) de transumância

Exercício 32

(Fatec 2017) Tradicionalmente, o termo dekassegui era utilizado para designar as pessoas que moravam no norte do Japão e que, durante os invernos rigorosos, migravam para o sul do país, em busca de trabalho, regressando após algum tempo.

No fim dos anos 1980 e início dos anos 1990, o termo dekassegui passou a ser utilizado para denominar também os descendentes de japoneses que emigravam para o Japão.

No caso brasileiro, o principal fator que impulsionou o movimento migratório para o Japão foi a

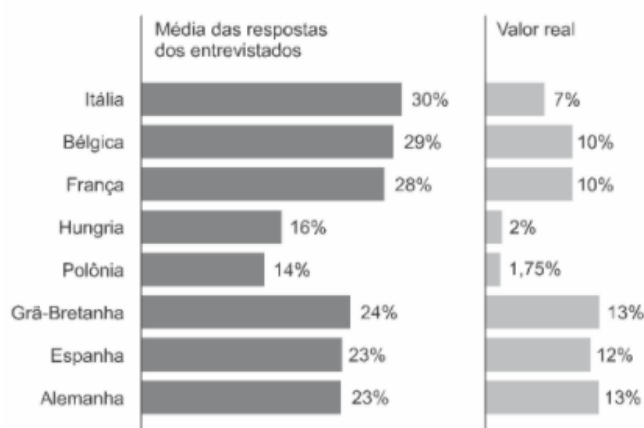
- a) ausência de direitos civis durante a transição da ditadura militar para um regime civil, em meados da década de 1980.
- b) abertura de milhares de cargos destinados aos brasileiros nos escritórios de multinacionais situadas no Japão.
- c) busca por vagas subsidiadas pelo governo brasileiro nas principais universidades japonesas.

- d) expectativa de ter um salário pago em dólares, moeda subvalorizada em relação ao iene japonês.
- e) grave crise econômica pela qual o Brasil passava nas décadas de 1980 e 1990.

Exercício 33

(Uerj 2020)

QUAL É O PERCENTUAL DE IMIGRANTES NA POPULAÇÃO EM SEU PAÍS? (2015)



Adaptado de vox.com.

Os gráficos acima são parte do resultado de uma pesquisa feita em 2015 sobre a percepção dos cidadãos de diferentes países acerca do fenômeno migratório.

A diferença entre o percentual médio estimado pelos que responderam à pergunta e o percentual real de imigrantes em cada população nacional expressa uma grande preocupação de cidadãos europeus na atualidade.

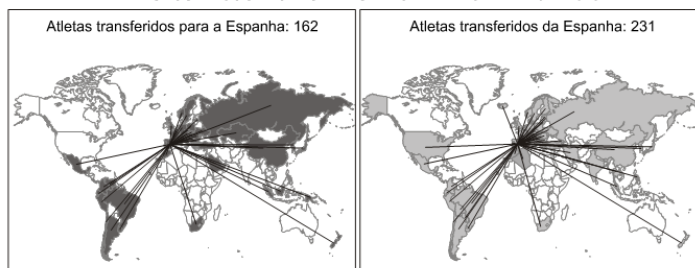
Uma consequência direta dessa preocupação é:

- a) ampliação dos programas de proteção social
- b) intensificação dos conflitos de caráter militar
- c) crescimento dos partidos de extrema-direita
- d) fortalecimento dos acordos de integração econômica

Exercício 34

(Uerj 2015)

FLUXOS DE JOGADORES DE FUTEBOL: TEMPORADA 2012-2013



slate.com. Adaptado.

Com base na análise dos mapas e dos dados, o fluxo de jogadores identifica-se com a ocorrência do seguinte tipo de deslocamento populacional:

- a) tráfico de pessoas
- b) migração de retorno
- c) transferência de refugiados
- d) movimento de transumância

Exercício 35

(Upf 2013) Com base em seus conhecimentos e utilizando o mapa que mostra os fluxos migratórios do mundo no período de

1990 a 2000, avalie as afirmativas abaixo e marque V para verdadeiras e F para falsas.



Fonte: ALMEIDA, L. M. A. de; RIGOLIN, T. B. Geografia. Geografia geral e do Brasil. São Paulo: Ática, 2008, p. 228.

- () As duas maiores zonas de atração de fluxos migratórios do mundo são a Ásia e a África.
- () Para a União Europeia convergem imigrantes da Europa Oriental, da África e da Ásia.
- () As três regiões de forte atração migratória observadas no mapa atraem muitos migrantes de diversas partes do mundo.
- () Os países desenvolvidos e os em desenvolvimento abrigam o maior número de imigrantes do planeta.
- () Atualmente, os dois principais movimentos migratórios ocorrem de países em desenvolvimento para outros países em desenvolvimento e de países desenvolvidos para outros países desenvolvidos.

A sequência correta é:

- a) V – F – V – F – V.
- b) F – V – V – V – V.
- c) F – V – F – V – F.
- d) F – F – V – F – F.
- e) V – F – F – F – F.

Exercício 36

(Uepb 2012) Observe as trajetórias estabelecidas no mapa abaixo.

BRASIL - MIGRAÇÃO - 1970-1990



Dois geógrafos se propuseram a analisar os trajetos migratórios internos nas décadas de 1970 a 1990 em várias regiões brasileiras, conforme se apresenta no mapa. A tarefa de ambos era analisar as causas que motivaram os deslocamentos de uma região para outra e apresentar um relatório final dessa investigação.

Relatório do Pesquisador 1

- I. Os vetores migratórios em direção Amazônia se explicam pela abertura de novas fronteiras agropecuárias e projetos de mineração.
- II. A desconcentração de atividades econômicas, resultantes dos deslocamentos e da implantação de indústrias em outras áreas, fora dos grandes centros industriais, somadas às dificuldades de habitação, transportes e violência urbana, tem contribuído para uma diminuição dos fluxos migratórios para a região sudeste.

Relatório do Pesquisador 2

- III. A tendência atual do processo migratório é contribuir para uma redistribuição demográfica no país. Nesse caso, as grandes cidades vêm sofrendo uma desconcentração populacional e as cidades médias e pequenas vêm crescendo, passando a oferecer opção de negócios, serviços especializados, centros de cultura e uma vida menos estressante.

Levando-se em consideração seus conhecimentos sobre o assunto em pauta, concluímos que está(ão) correto(s)

- a) todos os relatórios.
- b) apenas os relatórios I e II.
- c) apenas os relatórios I e III.
- d) apenas o relatório I.
- e) apenas o relatório II.

Exercício 37

(Uel 2013) *O surgimento da bioética coincidiu com o clamor generalizado levantado pelos horrores da Segunda Guerra Mundial, reação que culminou com a Declaração Universal dos Direitos Humanos. O objetivo primordial da bioética se baseia no princípio humanista de afirmar a primazia do ser humano e defender a dignidade e a liberdade inerentes ao mero fato de pertencer à espécie.*

(Adaptado de: BERGEL, S. Desafios da bioética. *Planeta*. ano 40, 472.ed., jan. 2012, p.70.)

No Brasil, os fluxos migratórios no século XIX e início do século XX marcaram a política de construção de uma “identidade brasileira” que se assentava na ideia de “branqueamento da raça”. Com relação à influência dos processos migratórios desse período na formação populacional brasileira, atribua V (verdadeiro) ou F (falso) às afirmativas a seguir.

- () As políticas migratórias oficiais, na segunda metade do século XIX, ressaltaram o interesse de preservar a ascendência europeia na composição étnica da população.
- () As políticas migratórias pautavam-se por um “modelo ideal de trabalhador”, no qual predominava a forma capitalista de produção.
- () As imigrações europeia e asiática tiveram como propósito a ocupação das vagas ociosas na indústria nascente, diante da ausência de qualificação dos ex-escravos.
- () A imigração japonesa no Paraná foi favorecida pela fácil adaptação dos japoneses aos costumes ocidentais e por serem habituados ao trabalho com as monoculturas.
- () O direcionamento dos fluxos migratórios fez com que existisse maior concentração de afrodescendentes nas regiões Sul e Centro-oeste.

Assinale a alternativa que contém, de cima para baixo, a sequência correta.

- a) V, V, F, F, F.
- b) V, F, V, V, F.
- c) V, F, F, F, V.
- d) F, V, F, V, V.
- e) F, F, V, V, F.

Exercício 38

(Unicamp 2017)

Distribuição da população pelas regiões brasileiras (em porcentagem)							
Regiões / Anos	1950	1960	1970	1980	1991	2000	2010
Centro-Oeste	3,0	3,8	4,9	5,8	6,4	6,9	7,4
Norte	3,9	4,1	4,4	5,6	7,0	7,6	8,3
Sul	15,1	16,8	17,7	16,0	15,1	14,8	14,4
Nordeste	34,6	31,6	30,3	29,2	28,8	28,1	27,8
Sudeste	43,4	43,7	42,7	43,4	42,7	42,6	42,1

Fonte: Instituto Brasileiro de Geografia e Estatística – IBGE.

Os sucessivos Censos Demográficos do IBGE (Instituto Brasileiro de Geografia e Estatística) buscam conhecer a distribuição da

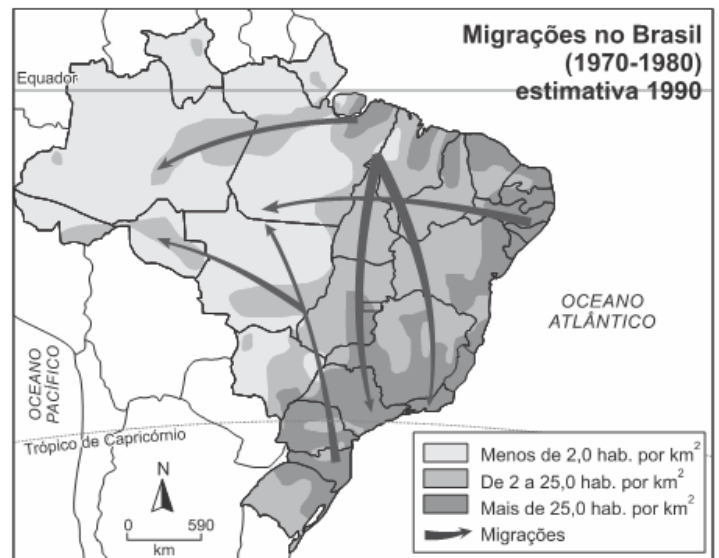
população pelo território brasileiro, conhecimento relevante para os mais diversos tipos de planejamento.

Considerando os dados da tabela acima, assinale a alternativa correta.

- a) As regiões Norte e Centro-Oeste foram as únicas com acréscimos contínuos na participação regional desde 1950, fenômeno associado aos fluxos migratórios nacionais incentivados por políticas governamentais de ocupação do território.
- b) A região Nordeste foi a única que apresentou redução contínua de participação regional, fenômeno associado às grandes secas do sertão, responsáveis pela migração da população para as outras regiões do país ao longo de todo o século XX.
- c) A região Sudeste tem maior participação regional na população do país, apresentando redução a partir de 1991, fenômeno associado ao decréscimo, em números absolutos, de sua população pela elevada queda da taxa de fecundidade.
- d) A região Sul apresentou acréscimo de participação regional até 1991, ocorrendo queda nas décadas seguintes, fenômeno associado ao regresso dos filhos de imigrantes europeus em busca de trabalho nos países de origem de seus pais.

Exercício 39

(Ufsm 2015) Observe o mapa:



Fonte: TAMDJIAN, J.O.; MENDES, I.L. *Geografia Geral e do Brasil: estudos para a compreensão do espaço - ensino médio*. São Paulo: FTD, 2005. p.97. (adaptado)

Os termos emigração, imigração e migração têm significados distintos. Emigração é o movimento de saída de população. Imigração é o movimento de chegada de população. Migração é o termo genérico para qualquer deslocamento populacional.

Fonte: TAMDJIAN, J.O.; MENDES, I.L. *Geografia Geral e do Brasil: estudos para a compreensão do espaço - ensino médio*. São Paulo: FTD, 2005. p.96.

Com base no mapa e em seus conhecimentos sobre migrações, assinale verdadeira (V) ou falsa (F) em cada afirmativa a seguir.

- () O modelo econômico brasileiro praticado entre as décadas de 1970 — 1980 induziu a população a migrar para regiões cujo

meio ambiente estava preservado, o qual agora sofre um grave processo de devastação.

() Os fluxos migratórios para o interior do território brasileiro são uma comprovação cada vez mais intensa da presença de atividades econômicas, como, por exemplo, a pecuária e a agricultura em regiões antes íntegras, como o domínio dos Cerrados e o da Amazônia.

() As migrações indicam a inserção de diversas regiões na lógica econômica brasileira como um sintoma de amadurecimento político e econômico do país.

() A ocupação do território brasileiro é muito irregular, e essa distribuição mantém uma relação direta com a dispersão das atividades econômicas pelo território.

A sequência correta é

- a) F – V – V – V.
- b) V – V – V – V.
- c) V – F – F – V.
- d) F – F – F – F.
- e) V – F – V – F.

Exercício 40

(Uefs 2017)

Décadas de 60 e de 70



Com base na análise do mapa e nos conhecimentos sobre as migrações internas brasileiras, é correto afirmar:

- a) A ida de migrantes dos estados sulinos em direção ao Mato Grosso esteve relacionada ao processo de industrialização.
- b) A migração de nordestinos para o Sudeste ocorreu devido à ampliação das fronteiras agrícolas em todos os estados dessa região.
- c) O fluxo de migrantes ao norte do Paraná coincide com a fase do plantio da *araucária angustifolia*, bastante explorada durante a colonização do Estado.
- d) O período retratado no mapa se caracterizou por apresentar as mesmas áreas de repulsão de população da década anterior, de 50, a exemplo de São Paulo, Paraná e Minas Gerais.
- e) O fluxo de migrantes nordestinos para Manaus decorreu da criação da Superintendência da Zona Franca de Manaus, ou seja, Manaus foi transformada em porto livre.

Exercício 41

(Upe-ssa 3 2016) Leia atentamente o texto a seguir:

Os desafios da imigração na Europa



O aumento da pressão migratória sobre a Europa, ano após ano, teve um pico no primeiro semestre de 2015. Isso, associado ao expressivo aumento de mortos nas rotas do Mediterrâneo, colocou em evidência o problema das migrações.

Fonte: Revista *Carta Capital*, junho de 2015.

Sobre a conjuntura geopolítica das condições imigratórias no mundo, é **CORRETO** afirmar que

- a) Organização Internacional para as Migrações (OIM), órgão intergovernamental, define a imigração como uma das questões globais determinantes do início do século XXI.
- b) os fluxos migratórios resultam da proximidade entre a riqueza dos países desenvolvidos e as condições de pobreza das populações indo-asiáticas que enfrentam diariamente guerras civis e períodos prolongados de seca.
- c) a ausência da incorporação de políticas neoliberais fragilizou as economias de países subdesenvolvidos, enfraquecendo as relações trabalhistas e expulsando grandes contingentes populacionais de seus países de origem.
- d) a evolução tecnológica globalizada diminuiu a informatização do sistema financeiro, absorvendo, cada vez menos, trabalhadores de alta qualificação e desalojando territorialmente uma grande parcela populacional do norte da África.
- e) os fluxos imigratórios dos países que fazem fronteira com o Mediterrâneo se dirigem numerosamente aos países europeus e são atraídos pelas políticas de acolhimento internacional aos migrantes irregulares.

Exercício 42

(Imed 2018) Leia o fragmento da letra de *Asa Branca*, canção de Luiz Gonzaga e Humberto Teixeira, composta em 1947.

[...] Hoje longe, muitas léguas
Numa triste solidão
Espero a chuva cair de novo
Pra “mim” voltar pro meu sertão
Espero a chuva cair de novo
Pra “mim” voltar pro meu sertão
Quando o verde dos teus olhos

Se espalhar na plantação
Eu te asseguro não chore não, viu
Que eu voltarei, viu
Meu coração
Eu te asseguro não chore não, viu
Que eu voltarei, viu
Meu coração [...]

A partir de seus conhecimentos de Geografia, marque a alternativa correta em relação ao tipo de movimento migratório descrito nos versos de Asa Branca:

- a) Êxodo Rural.
- b) Migração Pendular.
- c) Êxodo Urbano.
- d) Migração causada por perseguição étnica.
- e) Transumância.

Exercício 43

(Ufsc 2017) O demógrafo José Eustáquio falou sobre o "bônus demográfico", o melhor momento demográfico do Brasil. Segundo o especialista, isso acontece apenas uma vez na história de cada país. "A pirâmide etária é muito jovem na história toda, mas está se transformando e envelhecendo. Esse momento, em que estamos no meio, muita gente em idade produtiva de trabalho, é o que chamamos de 'bônus demográfico', porque existe mais gente em idade de trabalhar e menos pessoas dependentes", contextualizou. Ele contou que, em 1970, a cada três brasileiros, um estava trabalhando e dois não. Então uma pessoa tinha que sustentar três. Em 2010, já era uma pessoa sustentando uma só – 50% da população trabalhando. Conforme o demógrafo, esse bônus pode continuar até 2030 mais ou menos, dependendo da política adotada, visto que o bônus é passageiro. "É o momento em que a pirâmide está se transformando. Depois, ele passa e chega o envelhecimento populacional, juntamente com o aumento da razão de dependência demográfica", constatou. [...] Está quase certo que a gente terá uma década perdida. E podemos perder a próxima década também. Se isso acontecer, já não teremos mais bônus depois. E corremos o risco de ter uma situação em que o Brasil chegou ao fim do seu desenvolvimento sem resolver os problemas sociais".

Disponível em:

<<http://www.unicamp.br/unicamp/noticias/2015/10/19/o-brasil-esta-em-seu-melhor-momento-demografico-diz-especialista-do-ibgen>>. Acesso em: 30/04/2017 (Adaptado).

Diversas ações do poder público e da sociedade poderiam prolongar ainda mais o bônus demográfico no Brasil, excetuando-se

- a) Investimento em educação.
- b) Reforma na previdência, aumentando a idade mínima para se aposentar.
- c) Fomento à participação das mulheres no mercado de trabalho.
- d) Emigração da População Ativa que busca novas oportunidades.
- e) Imigração de mão de obra qualificada.

Exercício 44

<https://www.biologiatotal.com.br/medio/geografia/exercicios/migracoes/ex.-13-conceitos-migratorios>

(Cefet MG 2013) Sobre o perfil da migração interna brasileira nos últimos anos, revelada pelo Censo Demográfico do IBGE de 2010, afirma-se que:

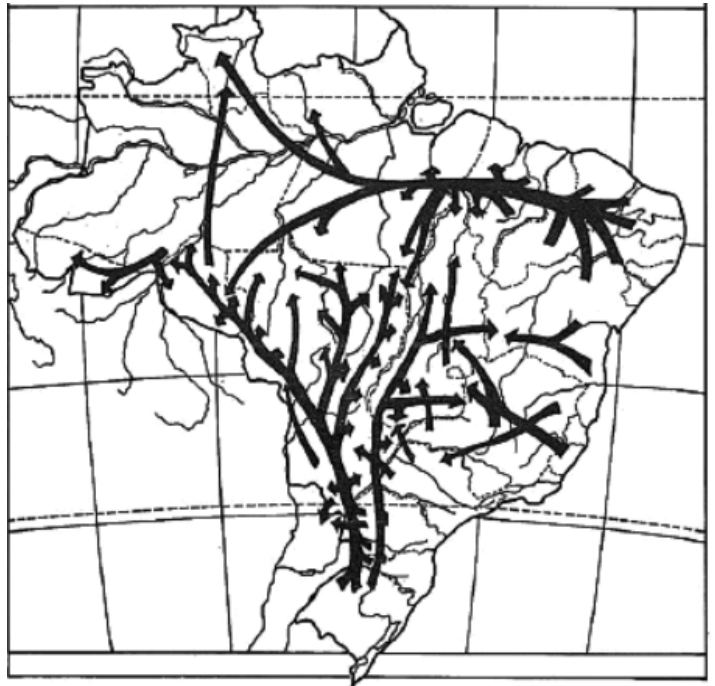
- I. O deficit migratório da Região Sudeste está relacionado à recente descentralização industrial ocorrida no Brasil nas últimas décadas.
- II. A Região Nordeste continua no topo da lista com o maior percentual de emigrantes, apesar do incremento da migração de retorno.
- III. O saldo positivo de migrantes na Região Norte deve-se às grandes obras de infraestrutura energética e às atividades primárias.
- IV. A ampliação do agronegócio no Centro-Oeste mostrou-se incapaz de reter mão de obra para essa região brasileira.
- V. O desenvolvimento industrial nos três estados da Região Sul foi responsável pelo destaque na retenção de nativos.

Estão corretas apenas as afirmativas

- a) I e IV.
- b) I e V.
- c) II e III.
- d) II e V.
- e) III e IV.

Exercício 45

(Ufpr 2014) Observe a figura abaixo, cujas setas indicam movimentos migratórios ocorridos no Brasil.



Fonte: Scarlato, Francisco Capuano. *População e Urbanização brasileira*. In: *Geografia do Brasil*. Jurandir L. Sanches Ross (org). São Paulo: Edusp, 2000.

As direções das flechas indicam um movimento migratório ocorrido por fenômenos específicos de um momento histórico da ocupação do território brasileiro. A dinâmica migratória representada ocorreu:

- a) em virtude do ciclo da borracha na Amazônia, que atraiu grandes contingentes populacionais das outras regiões brasileiras em direção ao Norte.
- b) entre os anos 30 e 50 do século XX, em virtude da integração do mercado interno e do desenvolvimento regional brasileiro.

c) nos anos 60 do século XX, em virtude da criação de Brasília e do êxodo rural, provocado pela revolução verde no Nordeste e Sul do Brasil.

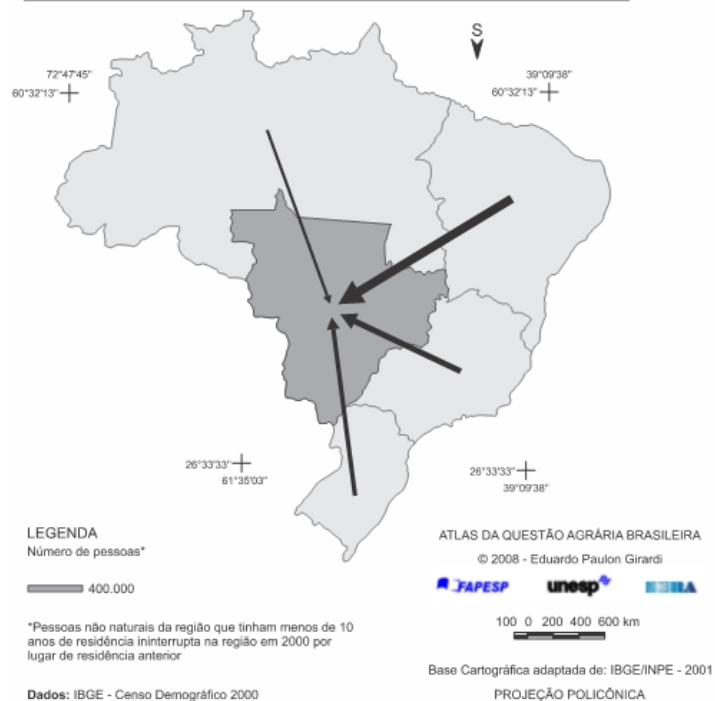
d) em função da atração exercida pelos grandes projetos de mineração e industrialização, a exemplo de Carajás e da Zona Franca de Manaus.

e) após a década de 80 do século XX, em função da incorporação de novas fronteiras agrícolas e pecuárias nas regiões Centro-oeste e Norte do Brasil.

Exercício 46

(G1 - ifpe 2019) Analise o mapa para responder à questão.

MIGRAÇÃO PARA A REGIÃO CENTRO-OESTE - 1991-2000



Disponível em: <http://www.atlasbrasilagrarario.com.br>. Acesso em: 09 out. 2018.

A ampliação dos fluxos migratórios para a região e o período, destacados no mapa, foi causada por diversos fatores, dentre os quais:

- I. programas governamentais de incentivo à modernização do campo e de integração da região ao agronegócio.
- II. maior urbanização e dinamismo nas microrregiões do Centro-Oeste.
- III. atividades industriais e de setor de serviços amplamente desenvolvidos.
- IV. substituição do principal produto agrícola, a soja, pela cultura de frutas cítricas.
- V. acentuada diminuição de crescimento demográfico nas microrregiões de Cuiabá e Alto Pantanal.

Estão CORRETAS

- a) I e II, apenas.
- b) I, IV e V, apenas.
- c) I, II e III, apenas.
- d) II, III, IV e V, apenas.
- e) I, II, III, IV e V.

Exercício 47

(Espcex (Aman) 2015) “Nas últimas décadas do século XX, o número de migrantes internacionais aumentou de forma

significativa [...] por causa das disparidades econômicas entre os países”.

TERRA, L; ARAÚJO, R; GUIMARÃES, R. Conexões- Estudos de Geografia Geral. 1.ed. São Paulo: Moderna, 2009, p. 327.

Sobre as migrações no contexto da globalização podemos afirmar que

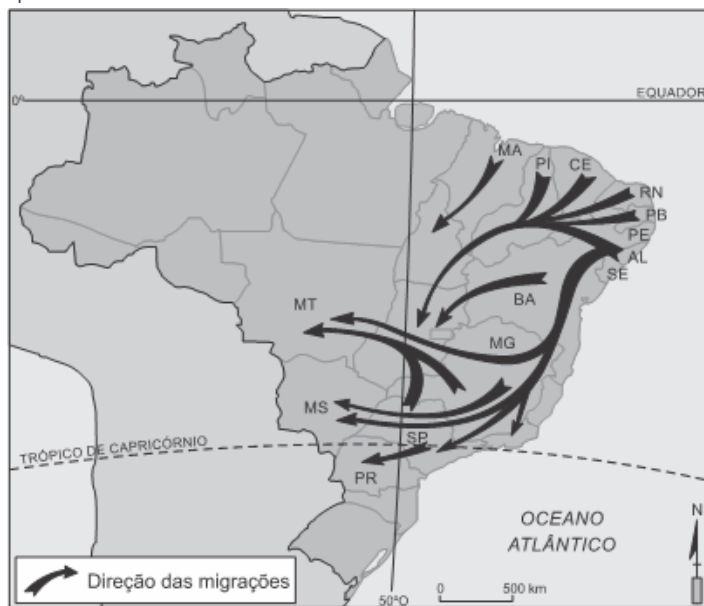
- I. a globalização tem facilitado as migrações, devido tanto à redução do custo dos transportes quanto à expansão dos meios de comunicação.
- II. embora os EUA e o núcleo mais próspero da União Europeia sejam as duas maiores zonas de atração de fluxos migratórios do mundo, países situados no Oriente Médio são os que possuem maior percentagem de imigrantes na população.
- III. a crescente necessidade de mão de obra imigrante por parte da Austrália tem levado esse País a estimular a imigração através de políticas imigratórias menos seletivas.
- IV. no México, o recebimento de remessas financeiras de seus milhares de emigrados constitui uma das maiores fontes de divisas do País.
- V. as restrições cada vez mais rígidas impostas pelos países desenvolvidos à imigração clandestina, aliada à constante vigilância de suas fronteiras, têm impedido o crescimento do número de imigrantes ilegais no mundo.

Assinale a alternativa em que todas as afirmativas estão corretas.

- a) I e III
- b) III e IV
- c) I, II e IV
- d) II, III e V
- e) I, IV e V

Exercício 48

(Uern 2015) Desde o surgimento do homem, a busca por sobrevivência foi um dos principais objetivos das pessoas que migravam. Hoje, as migrações se dão por conta de fatores econômicos, conflitos regionais, falta de recursos naturais essenciais à vida, entre outros. Considerando o espaço de deslocamento populacional no mapa a seguir, é correto afirmar que ele retrata



Fonte: Organizado pelo autor.

- a) o movimento migratório de retorno, verificado após a década de 1990, devido aos investimentos e à atração econômica exercida por outras regiões.
- b) as migrações inter-regionais, de 1960 até 1970, devido à construção da Zona Franca de Manaus, o café, no Paraná, e as terras para a agropecuária, no Mato Grosso.
- c) as migrações internas no Brasil, de 1940 a 1950, graças à expansão da fronteira agrícola para a região Sul, especialmente no Paraná, e a criação de colônias agrícolas no Centro-Oeste.
- d) as migrações intra-regionais ocorridas entre as décadas de 70 e 80, graças ao processo de industrialização que atraiu migrantes para São Paulo, Rio de Janeiro, e a construção de Brasília que intensificou a migração para Goiás.

Exercício 49

(Upf 2015) O deslocamento de pessoas entre países ou dentro de um mesmo país é um fenômeno antigo, que envolve diferentes classes sociais e é determinado por motivos diversos.

Analise as afirmações que seguem sobre deslocamentos populacionais e marque **V** para as verdadeiras e **F** para as falsas.

- () Áreas de expansão recente de fronteiras agropecuárias, como centro-oeste e norte do Brasil, são, também, áreas de atração populacional.
- () Mais da metade da população brasileira (IBGE/2010) reside em agrupamentos de municípios cuja integração populacional decorre de movimentos pendulares relacionados a trabalho ou estudo.
- () O Brasil foi um típico país de emigração no século XIX, quando recebeu levas de povos europeus que ocuparam extensas áreas do sul do Rio Grande do Sul e de Santa Catarina, dedicando-se à agricultura em pequenas propriedades.
- () França e Alemanha são os países que mais receberam fluxos migratórios na primeira década dos anos 2000.
- () É crescente o número de campos de refugiados em diversos países, os quais abrigam pessoas buscando proteção contra perseguições políticas, étnicas ou religiosas, o que tipifica deslocamentos forçados da população.

A sequência **correta** de preenchimento dos parênteses, de cima para baixo, é:

- a) V – V – F – F – V.
- b) V – F – V – F – V.
- c) V – V – F – V – V.
- d) F – F – V – V – F.
- e) F – V – V – F – F.

Exercício 50

(Fgvj 2015) Mais de três quartos dos migrantes internacionais vão para um país com um nível mais elevado de desenvolvimento humano do que o do seu país de origem. Porém, são significativamente restringidos por políticas que impõem obstáculos à sua entrada e pela escassez de recursos disponíveis que lhes permitam a deslocação. As pessoas de países pobres são as que menos se mudam: por exemplo, o número de africanos que se mudou para a Europa é inferior a

ONU/PNUD. Relatório de Desenvolvimento Humano 2009.
Ultrapassar barreiras: mobilidade e desenvolvimento humano.
Coimbra: Almedina, 2009. p. 2

Considerando o texto e os seus conhecimentos sobre os deslocamentos populacionais, assinale a alternativa correta:

- a) As desigualdades mundiais em termos de desenvolvimento econômico não afetam os fluxos migratórios, já que a taxa de emigração é praticamente nula nos países mais pobres.
- b) Ainda que não afete os países mais pobres, a migração a partir de países em desenvolvimento em direção aos países desenvolvidos constitui a quase totalidade dos deslocamentos populacionais da atualidade.
- c) Os trabalhadores com poucas qualificações têm mais facilidade em se estabelecer legalmente nos países desenvolvidos, já que os migrantes qualificados disputam, com os nativos, os melhores empregos.
- d) A taxa de migrantes internacionais entre a população mundial triplicou nos últimos 50 anos, acompanhando a intensificação dos fluxos de capitais e informações associados à globalização.
- e) Entre as razões que limitam as taxas de emigração dos países mais pobres, destacam-se os elevados custos de transporte e as restrições políticas à travessia de fronteiras internacionais.

Exercício 51

(Ufrgs 2014) Observe o quadro abaixo.

Taxa média geométrica de crescimento anual (%) da população residente Brasil em grandes regiões, 1980/1991, 1991/2000 e 2001/2005			
País/Regiões	1980/1991	1991/2000	2001/2005
Brasil	1,93	1,64	1,67
Norte	3,85	2,86	2,64
Nordeste	1,83	1,31	1,36
Sudeste	1,77	1,62	1,66
Sul	1,38	1,43	1,46
Centro-Oeste	3,01	2,39	2,31

Fonte: IBGE: Censo Demográfico 1980, 1991 e 2000 e Estimativas Demográficas 2001 e 2005.

Considere as seguintes afirmações sobre a taxa média geométrica de crescimento anual da população residente no Brasil.

- I. As regiões Nordeste, Sudeste e Sul apresentaram um pequeno aumento na taxa de crescimento; as regiões Centro-Oeste e Norte apresentaram um declínio na mesma taxa no período de 1991/2000 a 2001/2005.
- II. As regiões Norte e Centro-Oeste apresentaram os valores mais elevados nos três períodos, refletindo atividades de expansão econômica, atrativas de influxos migratórios.
- III. A região Nordeste apresentou a menor taxa de crescimento desde a década de 1980, devido à diminuição dos níveis de fecundidade e, principalmente, à diminuição da emigração para outras regiões do país.

Quais estão corretas?

- a) Apenas I.
- b) Apenas II.

- c) Apenas I e II.
- d) Apenas I e III.
- e) Apenas II e III.

Exercício 52

(Ufpr 2020) “Vou construir um grande muro – e ninguém constrói muros melhor que eu, acreditem. Para além disso, vou fazer com que o México pague esta construção”. Esta frase de Donald Trump revelou-se como uma medida que chocou milhares de pessoas e agradou a outras tantas.

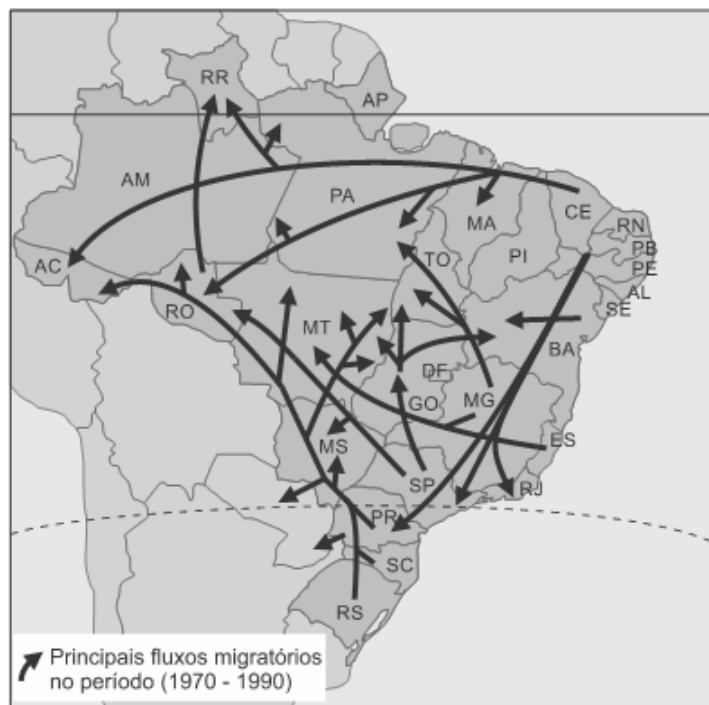
(Disponível em: <https://sol.sapo.pt/artigo/617127/como-surgiu-o-problema-das-fronteiras-entre-os-eua-e-o-mexico->)

Essa fala do presidente dos Estados Unidos remete a uma região de conflito. A respeito do assunto, assinale a alternativa correta.

- a) O Rio Grande limita os EUA e o México e se configura num tipo de fronteira, a natural, com uma significativa carga simbólica, por servir de passagem entre a cidade mais violenta do mundo – Ciudad Juárez – e a segura cidade de El Paso.
- b) Embora o maior controle da fronteira dos Estados Unidos com o México reforce tensões políticas e humanitárias na região, não reflete na capacidade de interação regional do NAFTA.
- c) O controle da fronteira com o México teve início na década de 1980, na tentativa de se combater o tráfico de drogas proveniente da Colômbia.
- d) A política migratória dos Estados Unidos é paradoxal, visto que, a um só tempo, incentiva a “importação de cérebros” e é rigorosa com os refugiados políticos provenientes da América Latina.
- e) Embora seja crescente o número de cidadãos da Guatemala, Honduras e El Salvador na fronteira, ainda persiste um maior número de cidadãos mexicanos a serem detidos.

Exercício 53

(G1 - cftmg 2015) A questão refere-se ao cartograma abaixo.



Fonte: IBGE. Atlas geográfico escolar. Rio de Janeiro: IBGE, 2007. (Adaptado)

A direção dos fluxos migratórios para a região Norte do Brasil pode ser explicada pela

- a) elaboração de projetos militares para ocupação da Amazônia.
- b) participação do INCRA na compra de terras setentrionais do país.
- c) saturação do Nordeste para reduzir o deslocamento inter-regional.
- d) construção de grandes aeroportos para consolidar o setor agropecuário.

Exercício 54

(Fuvest 2017) Leia o texto e observe a imagem.

Numa guerra não se matam milhares de pessoas. Mata-se alguém que adora espaguete, outro que é gay, outro que tem uma namorada. Uma acumulação de pequenas memórias... .

Nós que aqui estamos, por vós esperamos.

Direção de Marcelo Masagão.

Brasil, 1999.



Foto de Nilüfer Demir, Bodrum, Turquia, 02/09/2015.

A partir do texto e da imagem, pode-se afirmar corretamente que

- a) a história das guerras se resume a um teatro de combates travados no *front* por estadistas e militares.
- b) os relatos que abordam os conflitos apenas com base nos tratados e armistícios são parciais e limitados.
- c) o fim dos impérios, a xenofobia e a consolidação do projeto federativo garantiram a paz mundial.
- d) a banalização da morte e a experiência do exílio expressam a retração dos nacionalismos nos séculos XX e XXI.
- e) as políticas de inclusão foram capazes de controlar os fluxos migratórios globais.

Exercício 55

(Unesp 2014) Nos três primeiros meses de 2013, entraram no território brasileiro cerca de três mil pessoas vindas do Haiti. O aumento substancial no fluxo de entrada de haitianos no país se deu principalmente pelo pequeno município de Brasileia, no Estado do Acre. A cidade, com cerca de 20 mil habitantes, faz fronteira com a Bolívia e o Peru, e, de janeiro ao final de março, viu chegar um número estimado de 2 mil imigrantes haitianos.

(<http://brazilianpost.co.uk>. Adaptado.)

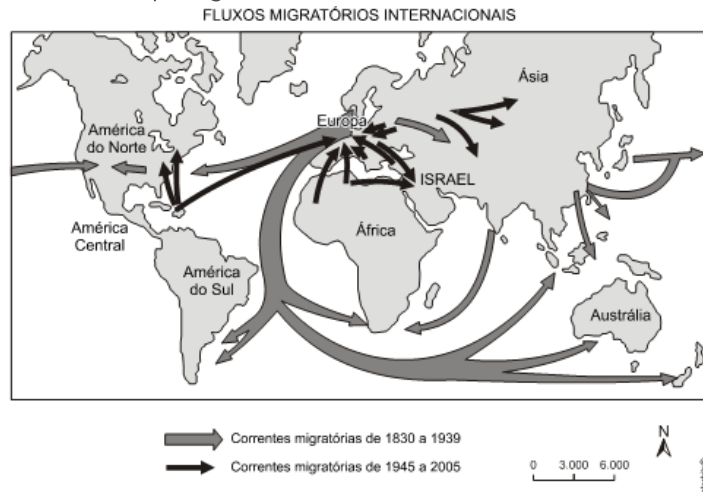
Aponte dois motivos que expliquem o aumento recente da migração de haitianos para o Brasil. Explique a diferença entre

esse fluxo migratório de haitianos para o Brasil e a maioria dos fluxos migratórios instalados no mundo na segunda metade do século XX.

Exercício 56

(Ufrn 2013) As migrações internacionais são fluxos de populações que se deslocam dos países de origem para fixar residência em outros países. A história das migrações internacionais pode ser dividida em duas fases distintas: de 1830 a 1939 e de 1945 a 2005.

Observe o mapa seguir.



Disponível em: <<http://clientes.netvisao.pt/carthern/9ano4.htm>>. Acesso em: 14 jun. 2012. [Adaptado].

a) De acordo com o mapa, explique a diferença da dinâmica dos fluxos migratórios em relação à Europa, considerando os períodos em que ocorreram.

b) Explique, do ponto de vista econômico, por que o imigrante, na Europa, tem enfrentado problemas de discriminação.

Exercício 57

(Fgv 2012) O texto abaixo menciona três fatores que movem os fluxos migratórios internacionais.

“Ao contrário do que diz o senso comum, as migrações são regulares e permanentes. E majoritariamente legais: hipermediatizadas, as migrações clandestinas são estatisticamente ínfimas. [...] Como no caso do movimento de urbanização, mesmo se fatores políticos (guerras, conflitos civis) forçam a emigração, são os fatores econômicos que continuam sendo o motor principal. A demografia propriamente dita é um terceiro fator de migração.”

Gérard-François Dumont. *Mitos da População Mundial*. 01/07/2011. Disponível em: <http://diplomatie.uol.com.br/artigo.php?id=961>

Embora a maior parte das migrações contemporâneas ocorra por uma combinação entre os fatores mencionados, eles possuem características próprias. Sintetize essas características, utilizando, pelo menos, um exemplo para cada caso.

- Fatores econômicos.
- Fatores políticos.
- Fatores demográficos.

Exercício 58

(Ufjf-pism 2 2020) Leia o trecho a seguir.

“O presidente dos EUA, Donald Trump, disse neste domingo (14) a um grupo de congressistas democratas que nasceram na América para “voltar e ajudar a consertar os lugares totalmente quebrados e infestados de crime de onde vieram”. O comentário foi condenado pelos democratas e classificado como racista. A declaração foi dada no mesmo dia no qual foi anunciado o início de uma operação para prender cerca de 2.000 imigrantes em situação irregular nos Estados Unidos. Até o início da tarde, não foram reveladas informações sobre o andamento desta ação.”

Fonte: REUTERS e AFP. Trump diz a congressistas democratas para 'voltar e consertar' países de onde vieram. *Jornal Folha de São Paulo*. 14 de jul. 2019.

Disponível em:

<https://www1.folha.uol.com.br/mundo/2019/07/trump-diz-a-congressistas-democratas-para-voltar-e-consertar-paises-de-onde-vieram.shtml>. Acesso em 19 de jul. 2019.

Casos de racismo e xenofobia têm sido recorrente desde que o processo migratório e a globalização formaram um elo inseparável desde a última metade do século passado. Crises recentes e a ascensão de governos de extrema direita ao redor do mundo têm elevado o tom das críticas.

a) Cite **DOIS** fatores responsáveis pela migração de estrangeiros para países desenvolvidos.

b) Cite **DOIS** aspectos positivos relacionados ao encontro de diferentes povos.

Exercício 59

(Uel 2018) Sobre os fenômenos da imigração, emigração e migração de retorno, no Brasil, considere as tendências de fluxos migratórios internacionais a partir de 1980, exemplifique e explique:

- 1 (um) fluxo de emigração e de migração de retorno.
- 1 (um) fluxo de imigração.

Exercício 60

(Ufg 2010) Os dados dos últimos censos demográficos do Brasil indicam aumento da migração urbano-urbano e da pendular. Com base nesta afirmação,


- apresente dois fatores que explicam a relevância atual da migração urbano-urbano;
- explique uma causa para o aumento atual da migração pendular.

Exercício 61

(Ufjf 2011) No Dia Internacional do Migrante (18 de dezembro), não temos nada a celebrar e, sim, muito que lamentar. Os governos deveriam refletir sobre os direitos humanos, liberdades fundamentais e formulação de medidas para proteger os direitos dos migrantes e construir pontes para favorecer a migração. Ao contrário, foram construídos 20 muros físicos vergonhosos e outros tantos invisíveis para detê-los.

Disponível em: <<http://alainet.org/active/11328&lang=ES>>. Acesso em: 10 out. 2010. Adaptado.

Observe a charge abaixo.



Disponível em: <http://notasaocafe.files.wordpress.com/2009/11/peray_06112009_3.jpg?w=600&h=429>. Acesso em: 17 out. 2010. Adaptado.

a) Identifique os muros contemporâneos representados na charge com o algarismo correspondente.

- Muro construído com a finalidade de impedir a entrada de terroristas: ()
- É um muro ideológico, que impede a ultrapassagem dos "subdesenvolvidos" para o mundo desenvolvido (primeiro mundo): ()
- Muro virtual que cerca todo um bloco, formado por regras de deportação dos imigrantes ilegais: ()
- 200 quilômetros de muros e cercas separam dois países. É a fronteira mais vigiada e explosiva do mundo: ()
- Muro que se tornou o símbolo maior da Guerra Fria: ()

O escritor português José Saramago criticou em seu blog a construção de muros nas favelas cariocas: [...] Cá para baixo, na Cidade Maravilhosa, a do samba e do carnaval, a situação não está melhor. A ideia, agora, é rodear as favelas com um muro de cimento armado de três metros de altura.

Disponível em:

<<http://caderno.josesaramago.org/2009/03/30/raposa-do-sol/>>

Acesso em: 20 out. 2010.

b) Segundo o governo do Estado do Rio de Janeiro, qual é a intenção de se construir muros nas favelas?

Exercício 62

(Ufes 2001) Durante algum tempo, o Brasil foi um receptor de imigrantes estrangeiros. Posteriormente, o movimento populacional foi praticamente reduzido à migração interna. Nos últimos anos, temos presenciado uma mudança nos fluxos migratórios do País.

De acordo com o assunto,

- a) caracterize o movimento migratório interno de retorno e exemplifique;
- b) apresente dois fatores que possam explicar o aumento do fluxo emigratório no Brasil a partir dos anos oitenta.

Exercício 63

(Uff 1999) Neste século, durante as décadas de 60 e 70, a migração interna no Brasil assumiu a direção campo-cidade. Entretanto, nas últimas décadas passou a ganhar destaque a

migração cidade-campo num movimento cotidiano que envolve milhares de trabalhadores.

Tendo em vista estas duas modalidades de migração apresentadas, explique:

- a) dois fatores que promoveram (e ainda promovem) a migração campo-cidade;
- b) como se realiza a migração cidade-campo.

Exercício 64

(Fuvest 1991) "Se se admite que a migração interna é um processo social, deve-se supor que ele tenha causas estruturais que impelem determinados grupos a se pôr em movimento. Estas causas são quase sempre de fundo econômico - deslocamento de atividades no espaço, crescimento diferencial da atividade em lugares distintos e assim por diante - e atingem os grupos que compõem a estrutura social do lugar de origem de um modo diferenciado."

(Paul Singer - ECONOMIA POLÍTICA DA URBANIZAÇÃO)

Analise o processo migratório do Nordeste para o Sudeste à luz das considerações do texto anterior.

Exercício 65

(Fuvest 2016) Se não conseguirmos uma distribuição justa dos refugiados, muitos vão questionar Schengen e isso é algo que não queremos. [Declaração da chanceler alemã, Angela Merkel.]

O Estado de S. Paulo, 01/09/2015.

A Europa vive uma das mais graves crises migratórias de sua história recente. Segundo a Agência das Nações Unidas para Refugiados (Acnur), são esperados ao menos 1,4 milhão de refugiados entre 2015 e 2016.

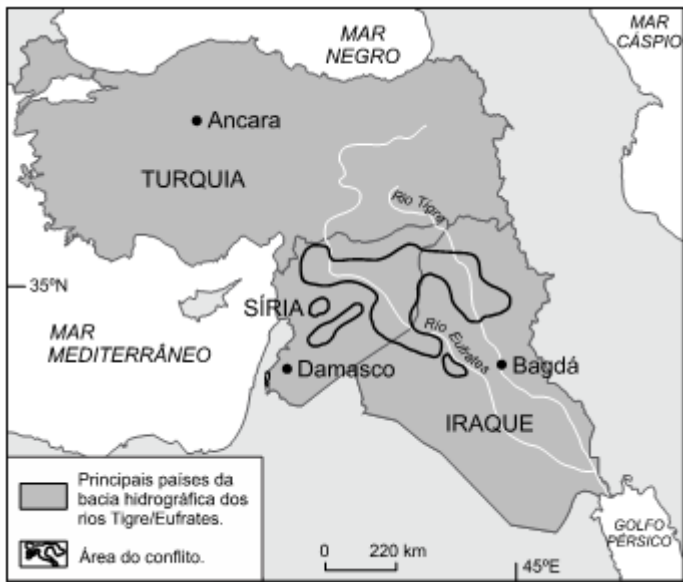
O Estado de S. Paulo, 19/10/2015.

Considerando o contexto da União Europeia (UE), as informações acima e as respectivas datas de publicação, responda:

- a) O que é o Espaço Schengen?
- b) O que é a Zona do Euro? Cite um país da UE que não faz parte dessa Zona.
- c) Explique qual foi o posicionamento da UE e o papel da Alemanha frente à intensificação desse fluxo migratório.

Exercício 66

(Fuvest 2016) Considere este mapa, que representa uma região com histórico de migrações e disputas territoriais e que já abrigou, desde antes da Era Cristã, várias civilizações.



Folha de S.Paulo, 15/11/2015. Adaptado.

- Mencione duas características da bacia hidrográfica dos rios Tigre/Eufrates, relacionando-as com sua ocupação na Antiguidade. Justifique.
- Identifique um importante conflito que, atualmente, ocorre na área indicada no mapa e apresente uma motivação político-religiosa para esse conflito.

Exercício 67

(Ufpr 2020) Segundo a agência para refugiados da ONU, em 2013, o número de pessoas forçadas a deixar suas casas devido a guerras ou perseguição superou a marca de 50 milhões pela primeira vez desde a Segunda Guerra Mundial. Em 2018, 70,8 milhões de pessoas estavam em situação de deslocamento forçado no mundo. Discorra sobre essa problemática, apontando ao menos três regiões do planeta onde a emissão de refugiados é expressiva, bem como os motivos causadores de sua saída.

Exercício 68

(Uerj 2020)

PRINCIPAIS PAÍSES PARA ONDE EMIGRAM OS ESTADUNIDENSES (2017)		PRINCIPAIS PAÍSES DE ORIGEM DOS IMIGRANTES NOS ESTADOS UNIDOS (2017)	
PAÍS DE DESTINO	QUANTIDADE	PAÍS DE ORIGEM	QUANTIDADE
México	900.000	México	12.680.000
Canadá	310.000	China	2.420.000
Reino Unido	190.000	Índia	2.310.000
Porto Rico	160.000	Filipinas	2.080.000
Alemanha	140.000	Porto Rico	1.900.000
Austrália	120.000	Vietnã	1.410.000
Israel	80.000	El Salvador	1.390.000
Coreia do Sul	70.000	Cuba	1.250.000
Itália	60.000	Coreia do Sul	1.180.000
Japão	60.000	República Dominicana	1.070.000
Total de nascidos nos Estados Unidos vivendo em outros países	3.020.000	Total de nascidos em outros países vivendo nos Estados Unidos	49.780.000

Adaptado de pewglobal.org, 2017.

Com base na análise da tabela, aponte uma diferença socioeconômica entre o conjunto dos países para onde emigram os estadunidenses e o conjunto dos países de origem dos imigrantes que vivem nos E.U.A. Explique, também, a desproporção entre o quantitativo total de emigrantes e imigrantes.

Exercício 69

(Ufpr 2017) Envolvendo trabalho, política, imaginário, saúde, cultura, redes, desejos, gênero etc., desde Marcel Mauss ([1950], 2005) e Abdelmaleck Sayad (1998) se compreende a migração como um fato social total. [...] A mobilidade do trabalho há tempos constitui um dos principais fatores das migrações. Mais recentemente, embora perceptíveis já há algum tempo, políticas migratórias transnacionais, guerras, conflitos étnicos e religiosos, mudanças climáticas e orientação sexual têm se destacado como motivações relevantes de fluxos migratórios e como chaves de análise para a sua melhor compreensão e formulação de políticas públicas voltadas a migrantes, apátridas, deslocados e refugiados.

Travessia – Revista do Migrante, n.77, jul.-dez./2015, p. 5.

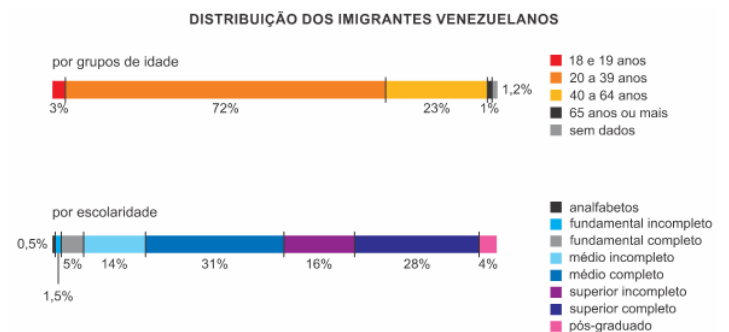
Com base no trecho acima e nos conhecimentos sobre o fenômeno da migração internacional, faça o que se pede:

- Escreva um texto explicando por que migrantes e refugiados são considerados ora como uma solução, ora como um problema para os países de destino.
- Caracterize e diferencie migrantes econômicos, refugiados e apátridas. Dê exemplos, no contexto do mundo atual, de um caso de migração econômica e de um caso de fluxo de refugiados, identificando suas causas principais.

Exercício 70

(Uerj 2019) O desafio de pensar a imigração como política pública

O conflito entre brasileiros e venezuelanos desencadeado no dia 18/08/2018 em Roraima é apenas o mais recente e dramático episódio do desafio que o tema da imigração representa hoje para o Brasil. Os registros de ataques na cidade de Pacaraima evidenciaram não apenas a falta de estratégia que tem marcado a política migratória brasileira, mas também a ameaça de crescimento de um sentimento anti-imigrante, que já se expressa na intensa politização do tema revelada nas redes sociais durante esses últimos dias.



Adaptado de nexojournal.com.br, 26/08/2018.

Apresente um efeito positivo para a economia do Brasil, decorrente do tipo de migração abordada, justificando-o com base nas informações da reportagem.

Também com base na reportagem, identifique uma alteração na estrutura populacional do estado de Roraima, resultante da entrada desse grupo específico de migrantes.

Exercício 71

(Uerj 2017) **União Europeia duplica recursos de ajuda emergencial para refugiados na Grécia**

A União Europeia anunciou que duplicará a ajuda de emergência para os refugiados na Grécia. O objetivo é melhorar as condições de vida das pessoas que estão paradas no país há meses enquanto tentam chegar aos países mais ricos da Europa, na fuga de seus países de origem. Cerca de 115 milhões de euros em ajuda de emergência estão sendo enviados pelo bloco, além dos 83 milhões de euros do início deste ano. O dinheiro será canalizado através de organizações humanitárias para melhorar os abrigos de moradia e o acesso das crianças refugiadas à educação.

Adaptado de oglobo.globo.com, 11/09/2016.

O conceito de refugiado foi elaborado em 1951 em uma convenção da ONU. São consideradas refugiadas todas as pessoas que se encontram fora de seu país de origem e que não podem ou não querem regressar a ele por causa de fundados temores de perseguição.

Aponte dois motivos de perseguição às pessoas que se tornam refugiadas. Indique, ainda, duas consequências demográficas para as áreas de origem desses refugiados.

GABARITO

Exercício 1

b) pendular.

Exercício 2

a) Migração pendular.

Exercício 3

b) migração pendular.

Exercício 4

d) migração pendular.

Exercício 5

c) pendular.

Exercício 6

b) movimento pendular.

Exercício 7

c) movimento pendular

Exercício 8

c) Migração pendular.

Exercício 9

a) migração pendular.

Exercício 10

a) V – V – V – V

Exercício 11

c) Monocultura, voltada para o mercado externo, latifúndio e mão de obra escrava.

Exercício 12

b) transumância.

Exercício 13

d) a implantação de indústrias nas cidades brasileiras, que atraiu muitas pessoas da zona rural para a urbana em busca de trabalho e melhores condições de vida, provocando, assim, o êxodo rural brasileiro.

Exercício 14

d) devido aos graves problemas socioeconômicos e ambientais, como as grandes desigualdades de renda, a forte concentração fundiária e as secas no Sertão nordestino durante o século XX, a região passou a representar um cenário de intenso movimento de repulsão populacional. Muitos habitantes saíram, sobretudo entre as décadas de 1940 e 1980, em busca de oportunidades de trabalho em outras regiões do país.

Exercício 15

d) Êxodo rural e migração de retorno

Exercício 16

e) I, II e III.

Exercício 17

d) migração de retorno.

Exercício 18

e) V: migração de retorno.

Exercício 19

d) Êxodo rural e migração pendular

Exercício 20

d) forte migração de retorno de nordestinos.

Exercício 21

e) migração temporária sazonal.

Exercício 22

a) à migração de nordestinos para a região Sudeste do Brasil.

Exercício 23

d) transumância.

Exercício 24

c) Transumância

Exercício 25

b) as décadas de 1950-1970 foram marcadas pela migração de nordestinos para o Sudeste, motivados pela industrialização; para o Mato Grosso e Paraná; e para a Amazônia, devido à criação da Zona Franca de Manaus.

Exercício 26

b) migração sazonal.

Exercício 27

e) São majoritariamente provenientes do Oriente Médio, África e Ásia, deslocam-se, forçadamente, devido a longas guerras, em grande parte para países e/ou regiões fronteiriços.

Exercício 28

a) a disseminação de informações falsas, associada a aspectos socioeconômicos e migratórios, além da baixa cobertura vacinal, contribui para que doenças erradicadas ou controladas voltem a circular.

Exercício 29

d) Assumem distintas direções, sendo que uma das rotas dos imigrantes para a Europa inicia-se em países do Oriente Médio e da costa oriental do norte da África, indo até a Grécia, com travessia pelo mar Mediterrâneo.

Exercício 30

c) As informações do texto e os dados da tabela evidenciam que o Brasil é pouco atrativo para estrangeiros, se comparado aos outros países.

Exercício 31

d) de transumância

Exercício 32

e) grave crise econômica pela qual o Brasil passava nas décadas de 1980 e 1990.

Exercício 33

c) crescimento dos partidos de extrema-direita

Exercício 34

b) migração de retorno

Exercício 35

b) F – V – V – V – V.

Exercício 36

a) todos os relatórios.

Exercício 37

a) V, V, F, F, F.

Exercício 38

a) As regiões Norte e Centro-Oeste foram as únicas com acréscimos contínuos na participação regional desde 1950, fenômeno associado aos fluxos migratórios nacionais incentivados por políticas governamentais de ocupação do território.

Exercício 39

b) V – V – V – V.

Exercício 40

e) O fluxo de migrantes nordestinos para Manaus decorreu da criação da Superintendência da Zona Franca de Manaus, ou seja, Manaus foi transformada em porto livre.

Exercício 41

a) Organização Internacional para as Migrações (OIM), órgão intergovernamental, define a imigração como uma das questões globais determinantes do início do século XXI.

Exercício 42

e) Transumância.

Exercício 43

d) Emigração da População Ativa que busca novas oportunidades.

Exercício 44

c) II e III.

Exercício 45

e) após a década de 80 do século XX, em função da incorporação de novas fronteiras agrícolas e pecuárias nas regiões Centro-oeste e Norte do Brasil.

Exercício 46

c) I, II e III, apenas.

Exercício 47

c) I, II e IV

Exercício 48

c) as migrações internas no Brasil, de 1940 a 1950, graças à expansão da fronteira agrícola para a região Sul, especialmente no Paraná, e a criação de colônias agrícolas no Centro-Oeste.

Exercício 49

a) V – V – F – F – V.

Exercício 50

e) Entre as razões que limitam as taxas de emigração dos países mais pobres, destacam-se os elevados custos de transporte e as restrições políticas à travessia de fronteiras internacionais.

Exercício 51

c) Apenas I e II.

Exercício 52

a) O Rio Grande limita os EUA e o México e se configura num tipo de fronteira, a natural, com uma significativa carga simbólica, por servir de passagem entre a cidade mais violenta do mundo – Ciudad Juárez – e a segura cidade de El Paso.

Exercício 53

b) participação do INCRA na compra de terras setentrionais do país.

Exercício 54

b) os relatos que abordam os conflitos apenas com base nos tratados e armistícios são parciais e limitados.

Exercício 55

A intensificação do fluxo de haitianos para o Brasil aconteceu devido às consequências do terremoto de 2010 (abalo sísmico de alta intensidade em zona de placas transformantes), que vitimou mais de 200 mil pessoas, destruiu moradias e devastou boa parte da infraestrutura do país. Outro fator foi o crescimento da economia brasileira, com geração de empregos a partir da década de 2000, que atraiu muitos imigrantes para o país com oportunidades de trabalho na indústria e construção civil. O bom relacionamento entre o Haiti e o Brasil, decorrente da liderança brasileira nas forças de paz da ONU, desde 2004, também favoreceu o ingresso dos haitianos. Já a maioria dos fluxos migratórios, a partir de meados do século 20, foi de imigrantes (mão de obra barata) dos países subdesenvolvidos para países desenvolvidos, a exemplo dos mexicanos em direção aos Estados Unidos e dos africanos em direção à União Europeia.

Exercício 56

a) Entre 1830 e 1939, devido a problemas socioeconômicos e guerras, a Europa era um continente de emigração, isto é, de saída de população rumo as Américas, África do Sul e Oceania. Entre 1945 e 2005, a situação se inverteu, pois a Europa tornou-se grande polo de imigração para populações provenientes da África, Caribe e Leste Europeu.

b) Durante décadas a Europa Ocidental recebeu grandes levas de imigrantes oriundos de países subdesenvolvidos. A maioria dos imigrantes é explorada através de trabalhos de menor qualificação e remuneração. A discriminação e a intolerância étnica e religiosa contra os imigrantes são frequentes em vários países europeus, como a França, a Itália e a Alemanha, mas acentuaram-se nos últimos anos com a crise financeira e a elevação do desemprego. A crise fez com que parte da população também visualizasse os imigrantes como um

“problema adicional”, já que seriam competidores por empregos e demandam gastos sociais do governo.

Exercício 57

a) Os fatores econômicos são muito importantes nas migrações internacionais. Nas últimas décadas, predominaram fluxos dos países subdesenvolvidos para os países desenvolvidos, com migrantes que procuram emprego e melhores condições de vida. Exemplo: mexicanos para os Estados Unidos.

b) Os fatores políticos, como guerras civis e perseguição política em regimes autoritários, e conflitos étnicos e religiosos, induzem o fluxo de refugiados. Geralmente, o fluxo dá-se de países subdesenvolvidos em direção aos países desenvolvidos e subdesenvolvidos vizinhos. Exemplo: sírios para a Turquia, Líbano, Iraque e Jordânia.

c) Os fatores demográficos podem incorrer em migrações, a exemplo do fluxo de regiões populosas com alto crescimento vegetativo para regiões com menos populosas e que necessitam de mão de obra. Exemplo: europeus para os Estados Unidos, Brasil e Argentina entre o fim do século XIX e início do século XX.

Exercício 58

a) Entre os fatores responsáveis pelo fluxo migratório de estrangeiros, principalmente de países subdesenvolvidos e emergentes, para países desenvolvidos temos as condições econômicas precárias como a pobreza e o desemprego. Outro fator são questões políticas e geopolíticas como perseguições políticas em ditaduras, guerras civis, conflitos étnicos, divergências religiosas e separatismos que impulsionam o fluxo de refugiados. A exemplo de países conflagrados a partir da Primavera Árabe (2010 até a atualidade) como Síria, Líbia e Iêmen.

b) Entre os aspectos positivos do encontro entre povos diferentes, o intercâmbio cultural (língua, cultura, culinária etc.) e o dinamismo econômico devido ao ingresso de novos contingentes integrantes da população economicamente ativa, geralmente mais jovem, no mercado de trabalho.

Exercício 59

a) Fluxo de emigração e migração de retorno: a partir da década de 1980, o Brasil conheceu um forte movimento de saída de brasileiros para o exterior, em busca de trabalho e melhores condições de vida. Com a posterior crise econômica mundial, os países centrais geraram a reversão das expectativas daqueles que viviam no exterior, e vários tomaram a decisão de retornar ao Brasil, caracterizando um expressivo fluxo de retorno (não há registrados dados exatos desses fluxos). No Japão e na União Europeia, por exemplo, foram criados programas de retorno voluntário assistido, oferecendo apoio àqueles que, por falta de condições financeiras, não tinham meios para retornar ao seu país.

b) Fluxo de imigração: a situação econômica privilegiada do Brasil em relação a outras nações, no início dos anos 2000, aumentou as solicitações de vistos de trabalho de estrangeiros

em empresas brasileiras, por exemplo, o que indica uma situação de “ganho de cérebros” no Brasil recente. Outro exemplo é a situação dos haitianos que buscam refúgio no Brasil, devido às catástrofes ambientais e condições de extrema pobreza no Haiti.

Exercício 60

a) Fatores que explicam a migração urbano-urbano:

- pouco dinamismo das cidades pequenas que geram fluxos dessas para as cidades médias;
- fuga dos problemas urbanos das metrópoles;
- deslocamento das indústrias para as cidades médias atraindo trabalhadores;
- deslocamento de parte da população jovem das pequenas cidades para as médias ou grandes em busca de oportunidades de emprego;
- busca de emprego e educação;
- demanda por mão de obra qualificada;
- inchaço das metrópoles.

b) Causas do aumento da migração pendular:

- crescimento das metrópoles e/ou das regiões metropolitanas;
- desenvolvimento de atividades terciárias e quaternárias nos espaços urbanos;
- distância espacial entre os locais de moradia, estudo e trabalho;
- aumento no tempo de deslocamento entre os pontos de circulação;
- deslocamento diário de trabalhadores do espaço urbano para o rural;
- menor custo de vida nas cidades pequenas próximo às cidades médias e grandes;

Exercício 61

a) - Muro construído com a finalidade de impedir a entrada de terroristas: (4)

- É um muro ideológico, que impede a ultrapassagem dos "subdesenvolvidos" para o mundo desenvolvido (primeiro mundo): (2)

- Muro virtual que cerca todo um bloco, formado por regras de deportação dos imigrantes ilegais: (1)

- 200 quilômetros de muros e cercas separam dois países. É a fronteira mais vigiada e explosiva do mundo: (5)

- Muro que se tornou o símbolo maior da Guerra Fria: (3)

b) Conter a expansão das favelas e preservar áreas de matas.

Exercício 62

a) O excesso de população nas grandes metrópoles e o desemprego perante um mercado de trabalho saturado levam muitos migrantes aos seus lugares de origem. Exemplo: de São Paulo para a região Nordeste.

b) Crise econômica e busca de oportunidades e melhores condições de trabalho fora do país.

Exercício 63

a) A concentração fundiária sob a forma de latifúndios e empresas agrícolas continua excluindo milhões de trabalhadores do acesso à terra.

A modernização da agricultura que vem substituindo o emprego de trabalhadores pela utilização de máquinas.

A expansão da agricultura comercial de exportação que promove a reconcentração de terras e a expulsão de pequenos e médios arrendadores, parceiros e proprietários.

b) Muitos trabalhadores expulsos do campo passam a residir na periferia das cidades, onde constituem bolsões de mão de obra barata que é recrutada para o trabalho agrícola sob a condição de volante ou boia-fria. Assim, se configura um movimento pendular cidade-campo.

Exercício 64

Partem do NE em busca de melhores condições de vida.

Exercício 65

a) O Espaço Schengen é produto do Acordo e Convenção de Schengen assinado por 30 países europeus representando um território onde a livre circulação das pessoas é garantida.

b) A Zona do Euro é a união monetária representada pela adoção do euro como moeda oficial, adotada por grande parte dos países que compõe a União Europeia. Dentre os países que não fazem parte da Zona do Euro pode-se citar: Dinamarca, Suécia, Inglaterra.

c) Os países da União Europeia encontram-se divididos entre os mais tolerantes como Alemanha e Suécia e os que defendem uma posição mais dura como Sérvia Croácia e Hungria perante a intensificação do fluxo migratório. Dentre os mais tolerantes, a Alemanha tem exercido com mais ênfase a defesa da realocação dos refugiados.

Exercício 66

[Resposta do ponto de vista da disciplina de História]

a) Em meio a uma região predominantemente seca e árida, os rios Tigre e Eufrates, com suas cheias periódicas que fertilizavam os solos à sua volta, proporcionaram o assentamento e a formação de vários reinos e impérios que compuseram a antiga Mesopotâmia.

b) Os conflitos mais recentes desta região ocorrem em decorrência da formação do grupo terrorista que se autodenomina Estado Islâmico, que atua entre a Síria e o Iraque. A ideia desse grupo é formar um Estado – Califado – baseado na lei islâmica, a *sharia*. Podemos dizer que o surgimento desse grupo está relacionado com dois fatores, a saber, (1) o conflito civil sírio decorrente da Primavera Árabe e (2) os conflitos entre sunitas e xiitas no Iraque, iniciados após a queda de Saddam Hussein.

[Resposta do ponto de vista da disciplina de Geografia]

a) A bacia hidrográfica dos rios Tigre/Eufrates se caracteriza por apresentar irregularidade no fluxo hídrico com regime de cheia/vazante e embora sua nascente se localize no planalto

da Anatólia na Turquia, é de planície na maior parte de seu curso. Em razão de se situar em uma região de forte aridez, foi área de origem de diversas civilizações antigas como a dos babilônios e sumérios.

b) Um importante conflito que ocorre atualmente na área indicada no mapa é a criação do Estado Islâmico do Iraque e do Levante, onde o grupo extremista Estado Islâmico tem reivindicado para si a posse do território originalmente pertencente à Síria e Iraque.

Exercício 67

Os refugiados deixam seus países em decorrência de perseguição política em regimes ditatoriais, guerras civis e conflitos étnicos, religiosos e separatistas. Entre os casos, os venezuelanos que deixam o país devido a crise econômica, social e política, muitos entram no Brasil através do estado de Roraima e recebem auxílio da Acnur (Alto Comissariado das Nações Unidas para Refugiados), das forças armadas e do governo brasileiro. A minoria rohingya (muçulmanos) que foge de Mianmar devido a repressão política governamental e conflitos com a maioria budista. Outro exemplo são os sírios que deixaram o país devido a guerra civil que ocorreu após a Primavera Árabe (movimento por democracia contra regime totalitário) e interferência de potências estrangeiras no país.

Exercício 68

A diferença socioeconômica entre o conjunto de países para onde emigram os estadunidenses e os países de onde partem os imigrantes para os EUA é o nível de desenvolvimento socioeconômico.

A desproporção entre o qualitativo de imigrantes e emigrantes pode ser explicada pelo alto nível de desenvolvimento econômico dos EUA gerando maior empregabilidade, maiores salários e melhor condição de vida aos imigrantes.

Exercício 69

a) Migrantes e refugiados são considerados como uma solução quando são recebidos em países com baixo crescimento vegetativo e cujo mercado de trabalho demanda mão de obra, o que resultará em equilíbrio populacional e dinamização da

economia, seja por meio da força produtiva ou por meio do consumo.

b) Migrantes econômicos são indivíduos que se deslocam por opção própria em busca de trabalho ou educação com vistas a uma melhor perspectiva econômica para si ou para sua família. Refugiados são indivíduos que se deslocam em busca de segurança porque seu país de origem está em guerra ou em clima de perseguição, colocando sua vida em risco. Apátrida é o indivíduo que não possui nacionalidade ou cidadania, ou seja, seu elo com o Estado é inexistente. Dentre os casos de migrações econômicas pode-se citar como exemplos o deslocamento de mexicanos para os Estados Unidos, bolivianos para o Brasil, bengalis para Arábia Saudita cuja causa é a estagnação econômica de seus países de origem. Dentre os casos de refugiados pode-se citar como exemplos: afegãos, sírios e iraquianos que se deslocam para a Europa em razão da guerra e da presença do Estado Islâmico; eritreus que se deslocam para a Europa em razão do governo ditatorial.

Exercício 70

Um efeito positivo para a economia do Brasil decorre do perfil dos imigrantes venezuelanos, grande parte integrando a população em idade ativa (acima de 15 anos) e com ensino médio e superior concluídos, portanto, trata-se de mão de obra com maior qualificação em várias áreas. Entre as alterações decorrentes da entrada de imigrantes venezuelanos, o aumento da proporção de adultos na composição etária de Roraima. Entre outras alterações na demografia de Roraima, um aumento significativo na população absoluta do estado, uma vez que Roraima é o estado menos populoso do país, além de uma elevação na proporção de homens.

Exercício 71

Dentre os motivos de perseguição às pessoas que se tornam refugiados pode-se citar: raça, religião, nacionalidade, opiniões políticas, diferenças entre grupos sociais, violação dos direitos humanos, grave perturbação da ordem pública interna. As consequências demográficas para as áreas de origem desses refugiados são: redução da população, da PEA e do mercado consumidor; queda da taxa de fecundidade; queda da longevidade.