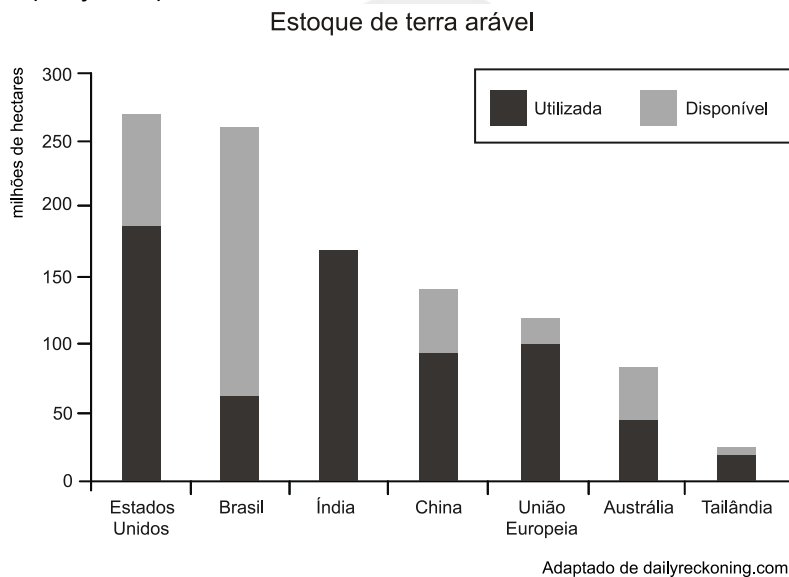


Geografia – Agricultura na Europa

1. (Udesc 2017) O processo de modernização agrícola, iniciado ainda no final do século XIX, com os avanços da energia a vapor, da mecânica, da genética vegetal, dos descobrimentos da química agrícola, tem continuidade, em âmbito mundial, nos setores agrários capitalizados. Esta Segunda Revolução Agrícola, apoiada por um conjunto de incentivos de políticas agrárias nos Estados Unidos e na Europa, e daí para os países em desenvolvimento, ficou conhecida internacionalmente como:

- a) Revolução Transgênica
- b) Revolução Verde
- c) Agricultura Biodinâmica
- d) Permacultura
- e) Agroecologia

2. (Uerj 2014)



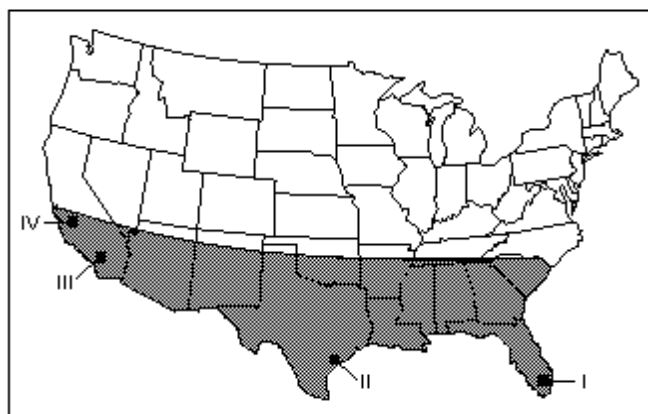
A ampliação da oferta de alimentos é um dos maiores desafios da humanidade para as próximas décadas.

Com base na disponibilidade do recurso natural representada no gráfico, o país com maior potencial para expansão do seu setor agropecuário é:

- a) Índia
- b) China
- c) Brasil
- d) Estados Unidos

3. (Mackenzie 2009)

ESTADOS UNIDOS DA AMÉRICA



No mapa dado, a área demarcada e as cidades assinaladas I, II, III e IV, de grande importância econômica, são, respectivamente,

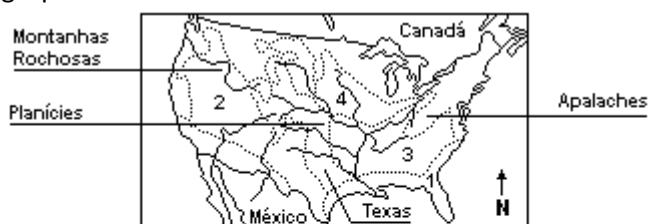
- Ranching Belt - Miami, Dallas, São Francisco e Los Angeles.
- Dry Farming - Nova Orleans, Miami, São Francisco e Seattle.
- Manufacturing Belt - Miami, Nova Orleans, Los Angeles e São Francisco.
- Sun Belt - Miami, Houston, Los Angeles e São Francisco
- Green Belt - Miami, Dallas, Seattle e São Francisco

4. (G1 - cftce 2006) As extensas áreas de agricultura mecanizada nos Estados Unidos se associam:

- aos terrenos alagados da Flórida, com climas subtropicais úmidos e solos aluviais arenosos.
- às encostas orientais das montanhas Rochosas, com clima temperado continental e solos pouco férteis.
- ao vale do Rio São Lourenço, com clima temperado oceânico e solos férteis.
- aos planaltos da bacia do Colorado com climas semiáridos e solos de baixa fertilidade.
- aos terrenos planos da bacia do Mississippi-Missouri, com clima temperado continental e solos de boa fertilidade.

5. (Pucrs 2002) Responder à questão com base no mapa e no quadro a seguir:

Agropecuária dos Estados Unidos



	Área geográfica	Características das áreas
I	1	Desértica, com produção de frutas irrigadas.
II	2	Montanhosa, com predomínio de pecuária extensiva.
III	3	Planícies com policulturas, cultivo de tabaco e algodão e pecuária.
IV	4	Clima temperado, com monoculturas de milho e soja.

O quadro anterior refere-se à distribuição da agropecuária nos Estados Unidos da América do Norte.

Pela análise do quadro, conclui-se que a relação correta entre a área geográfica e suas respectivas características encontra-se na alternativa

- I e II
- I e III

- c) I, III e IV
- d) II, III e IV
- e) II e IV

6. (Unesp 2002) Observe o mapa dos Estados Unidos.



Assinale a alternativa que indica, respectivamente, o nome do rio assinalado com o número 1 e as atividades econômicas predominantes nos espaços assinalados com os números 2 e 3.

- a) Grande; pecuária intensiva de gado leiteiro e "cotton belts".
- b) Mississipi; culturas tropicais de cana, cítricos e arroz e pecuária extensiva.
- c) Colúmbia; "corn belts" e policultura.
- d) Tennessee; pecuária extensiva em estâncias e grandes propriedades e agricultura irrigada de frutas e legumes.
- e) Colorado; agricultura irrigada de frutas e legumes e culturas tropicais de cana, cítricos e arroz.

7. (Uel 2001) Em relação à agricultura dos Estados Unidos, é INCORRETO afirmar:

- a) Caracteriza-se pela presença de cinturões agrícolas ou "belts".
- b) Apresenta um elevado grau de mecanização.
- c) Detém o maior índice de produtividade do planeta.
- d) Caracteriza-se pela agroindústria.
- e) Caracteriza-se por empregar a maior parte de sua população em atividades agrícolas.

8. (Uff 1999) Nos Estados Unidos e na Europa Ocidental, a expansão da agricultura de base familiar foi fundamental para o desenvolvimento do capitalismo, após a II Guerra Mundial.

Acerca deste tema afirma-se:

- (I) A oferta de bens agrícolas a preços estáveis permitiu reduzir o peso da alimentação nos orçamentos domésticos e consagrar parte da renda familiar urbana à aquisição de bens duráveis.
- (II) As regiões rurais tornaram-se um importante mercado consumidor de bens industriais e serviços urbanos.
- (III) A agricultura familiar ao modernizar os processos produtivos assumiu maior independência diante do capital financeiro.

Com relação a estas afirmativas conclui-se:

- a) Apenas a I e a II são corretas.
- b) Apenas a I e a III são corretas.
- c) Apenas a II e a III são corretas.
- d) Apenas a III é correta.
- e) Todas são corretas.

Lista de Exercícios

9. (Puccamp 1999) "Nos Estados Unidos, a região das Planícies Centrais tem apresentado grande evolução agrícola: no Corn Belt, o milho está cada vez mais associado à beterraba e à soja; no antigo Cotton Belt encontram-se, hoje, ao lado do algodão, a pecuária, a avicultura e cereais diversos e no sul, a irrigação introduziu produções agrícolas que associam o trigo de inverno com milho e sorgo."

A leitura do texto permite concluir que

- a) é forte a intervenção do Estado na organização espacial da agricultura norte-americana.
- b) as antigas regiões de monocultura, os belts, estão cedendo lugar a sistemas agrícolas mais complexos e diversificados.
- c) atualmente, só o Oeste montanhoso apresenta áreas de monocultura e os belts, de frutas cítricas.
- d) a produção cada vez mais voltada para o mercado interno fez desaparecer quase por completo a agricultura especializada dos belts.
- e) o crescimento de outros setores da economia tem provocado a diminuição da produção agrícola dos belts.

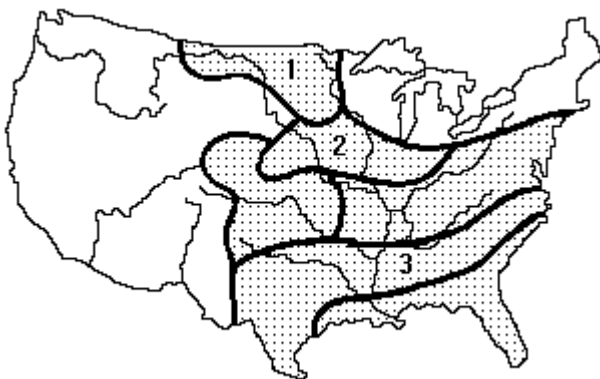
10. (Cesgranrio 1991) Qual é a afirmativa INCORRETA em relação à economia agrícola dos Estados Unidos?

- a) Graças à sua intensa mecanização, absorve atualmente menos de 3% da população economicamente ativa.
- b) O tipo de pequena e média propriedade camponesa que se estabeleceu à época da colonização ainda é o dominante na estrutura agrária.
- c) A especialização da produção não se deu apenas em cada propriedade, e sim em grandes zonas, os chamados "belts".
- d) O criatório de gado foi sendo afastado de leste para oeste, já que o chamado "ranching" se adapta a zonas mais secas.
- e) Apesar de possuírem uma lavoura bem diferenciada, o trigo, o milho e a soja representam, em valor, a metade da produção do país.

11. (Fuvest 1991) As extensas áreas de agricultura mecanizada nos Estados Unidos da América do Norte associam-se a:

- a) terrenos planos da Bacia do Mississipi-Missouri, com clima temperado continental e solos de boa fertilidade.
- b) planaltos da Bacia do Colorado com climas semiáridos e solos de baixa fertilidade.
- c) Vale do Rio São Lourenço, com clima temperado oceânico e solos férteis.
- d) contrafortes orientais das Montanhas Rochosas, com clima temperado continental e solos pouco férteis.
- e) terrenos alagados da Península da Flórida, com climas subtropicais úmidos e solos aluviais arenosos.

12. (Fuvest 1982) As regiões delimitadas no mapa constituem as principais áreas agrícolas dos Estados Unidos da América. As culturas que se destacam nas regiões numeradas são:



- a) 1. trigo de primavera - 2. milho - 3. algodão
- b) 1. cana-de-açúcar - 2. trigo de primavera - 3. milho
- c) 1. trigo de inverno - 2. trigo de primavera - 3. cana-de-açúcar
- d) 1. fumo - 2. cana-de-açúcar - 3. trigo de inverno
- e) 1. trigo de inverno - 2. arroz - 3. algodão

Lista de Exercícios

Gabarito:

Resposta da questão 1:

[B]

A Revolução Verde é a expressão utilizada para a agricultura com maior produtividade desenvolvida inicialmente em países desenvolvidos como os Estados Unidos e a Europa Ocidental. A “revolução” foi incorporada posteriormente por países emergentes como o Brasil. Caracteriza-se pela mecanização, uso de fertilizantes químicos, agrotóxicos e biotecnologia.

Resposta da questão 2:

[C]

Em razão da maior porcentagem de terras aráveis disponíveis, o Brasil, como mencionado corretamente na alternativa [C] possui o maior potencial para expansão da agropecuária.

Resposta da questão 3:

[D]

Resposta da questão 4:

[E]

Resposta da questão 5:

[D]

Resposta da questão 6:

[E]

Resposta da questão 7:

[E]

Resposta da questão 8:

[A]

Resposta da questão 9:

[B]

Resposta da questão 10:

[B]

Resposta da questão 11:

[A]

Resposta da questão 12:

[A]

