

# 2019

---

2º Semestre



Módulo Objetivo  
PROVA TIPO C  
ROSA

**VESTIBULAR**  **FGV**

---

**GRADUAÇÃO EM ADMINISTRAÇÃO**

02/06/2019

# Instruções

## Leia com atenção:

- Verifique se a informação na capa da prova (**prova tipo A - Verde, prova tipo B - Amarela, prova tipo C - Rosa ou prova tipo D - Azul**) corresponde ao cabeçalho das folhas de questões que você está recebendo.
- Verifique se o tipo de prova (**A, B, C ou D**) que você está recebendo é o mesmo marcado na **Folha de Respostas** e na **etiqueta colada na carteira**.
- Verifique também se a última folha deste caderno contém as imagens ampliadas e em cores das questões **16, 54, 56, 57, 58 e 60**.
- Não é permitido o uso de calculadora.
- Não haverá substituição da Folha de Respostas.
- A **Folha de Respostas** deverá ser preenchida a **caneta azul ou preta**; depois de marcada, a alternativa não poderá ser apagada ou rasurada, sob pena de anulação da resposta.
- A duração total do Módulo Objetivo é de **4h**.
- O candidato só poderá deixar definitivamente o local das provas a **partir de uma hora** após seu início, **não podendo levar o Caderno de Questões**; ou a **partir de duas horas** após o início da prova, **podendo levar o Caderno de Questões**.
- Este módulo consiste em **4 (quatro) provas** de múltipla escolha, com **15 questões em cada** uma das áreas do conhecimento a seguir:
  - **Matemática** - 1 a 15
  - **Língua Portuguesa, Literatura e Interpretação de Textos** - 16 a 30
  - **Língua Inglesa e Interpretação de Textos** - 31 a 45
  - **Humanas (História, Geografia e Atualidades)** - 46 a 60

- 1 No final do ano 2012, José Carlos comprou um carro 0km. Devido à depreciação, dois anos depois da compra, o valor do carro era R\$46 000,00 e, cinco anos após a compra, ele valia R\$40 000,00. Admitindo que o valor do carro decresça linearmente com o tempo, pode-se afirmar que 8 anos e 3 meses após a compra o seu valor será:

A R\$33 000,00  
B R\$34 000,00  
C R\$33 500,00  
D R\$32 500,00  
E R\$32 000,00

- 2 Em uma ilha distante, havia 1 000 pessoas trabalhando em janeiro de 2019. Todas recebiam o mesmo salário mensal.

Cada um desses trabalhadores contribuía mensalmente com 10% de seu salário para pagar a aposentadoria mensal dos 100 aposentados que lá viviam. Todos os aposentados recebiam valores iguais de aposentadoria.

Devido à queda da taxa de natalidade e ao aumento da sobrevida, estima-se que em janeiro de 2034 haja 900 trabalhadores na ativa e 110 aposentados.

Nestas condições, supondo que os salários de 2034 tenham-se mantido iguais aos de 2019 (pela ausência de inflação), para que os 110 aposentados em 2034 recebam cada um o mesmo valor de aposentadoria que era recebido por aposentado em 2019, a contribuição do salário de cada trabalhador, que era de 10%, deverá ser igual a  $x$  %.

O valor de  $x$ , aproximado para duas casas decimais, é

A 12,22  
B 11,82  
C 12,66  
D 13,06  
E 11,42

- 3 Há dois valores de  $x$  que minimizam a função de variável real

$f(x) = x^2 - 5|x| + 6$ . A soma desses valores é:

A 2  
B -3  
C 0  
D 3  
E -2

- 4 Ao depositar  $x$  reais, ao final de cada ano, em uma aplicação que rende juros compostos à taxa de 20% ao ano, um investidor consegue obter, logo após o *enésimo* depósito, um montante  $M$  dado pela fórmula

$$M = x \left[ \frac{(1,2)^n - 1}{0,2} \right].$$

Se  $x = 40\,000$ , qual o valor mínimo de  $n$  de modo que o montante seja superior a R\$1 800 000,00?

- A 15
- B 13
- C 11
- D 12
- E 14

Para resolver, utilize a tabela abaixo:

$x$	1,0	1,2	1,4	1,6	1,8	2,0
$\log x$	0	0,08	0,15	0,20	0,26	0,30

- 5 Certo departamento de uma empresa possui 50 funcionários, cujos salários mensais em reais são dados pela tabela abaixo:

Salário	Frequência
2 000,00	2
4 000,00	8
6 000,00	10
8 000,00	20
10 000,00	10

Sejam  $A$ ,  $B$  e  $C$  a média, a mediana e a moda dos salários mensais respectivamente. Então  $A + B + C$  é igual a:

- A 24 000,00
- B 23 540,00
- C 23 120,00
- D 23 380,00
- E 23 760,00

- 6 O valor de  $x$  que satisfaz a equação  $\sum_{i=1}^{20} \log(x^i) = -210$  é:

- A  $\frac{1}{80}$
- B  $\frac{1}{20}$
- C  $\frac{1}{5}$
- D  $\frac{1}{40}$
- E  $\frac{1}{10}$

- 7 Uma loteria consta de 20 bilhetes, numerados de 1 a 20, que são vendidos aos apostadores.

O sorteio é feito da seguinte forma: 20 bolinhas são numeradas de 1 a 20 e duas bolinhas são sorteadas sucessivamente e sem reposição. O portador do primeiro número sorteado ganha um prêmio de R\$5 000,00 e o do segundo, de R\$3 000,00.

Se um apostador comprar bilhetes com os números 5, 7, 12 e 18, a probabilidade dele ganhar ao menos um prêmio é um número:

- A menor que 0,2.
  - B entre 0,3 e 0,4.
  - C entre 0,2 e 0,3.
  - D entre 0,4 e 0,5.
  - E maior que 0,5.
- 8 Um empréstimo de R\$200 000,00 deve ser pago em duas parcelas anuais, daqui a um e a dois anos, sendo a segunda o dobro da primeira. Sabendo que, nos empréstimos, são cobrados juros compostos à taxa de 20% ao ano, o total de juros a serem pagos é:
- A R\$70 000,00
  - B R\$80 000,00
  - C R\$75 000,00
  - D R\$85 000,00
  - E R\$90 000,00
- 9 Uma das raízes da equação trigonométrica, na incógnita  $x$ ,

$$\sum_{i=0}^{\infty} \cos^i x = \frac{2}{2 - \sqrt{3}} \text{ é:}$$

- A  $\frac{7\pi}{6}$
- B  $\frac{3\pi}{2}$
- C  $\frac{4\pi}{3}$
- D  $\frac{11\pi}{6}$
- E  $\frac{5\pi}{3}$

**10** Uma piscina tem o formato de um paralelepípedo retângulo com as dimensões: 10m de comprimento, 4m de largura e 1,5m de altura. Inicialmente, a piscina está vazia e é preenchida com água que jorra de um tubo a uma vazão de 250 litros por minuto. Depois de duas horas e meia, qual a porcentagem do volume de água em relação ao volume total da piscina?

- A 52,5%
- B 62,5%
- C 55%
- D 57,5%
- E 60%

**11** A equação polinomial  $x^3 + x^2 + px + q = 0$  tem a raiz  $-2$  com multiplicidade 2. Pode-se afirmar que a soma  $p + q$  vale:

- A 0
- B -10
- C -15
- D -5
- E -20

**12** Um sistema linear com duas equações e três incógnitas

- A pode ser impossível.
- B pode apresentar determinante da matriz completa igual a 0.
- C é sempre indeterminado.
- D admite sempre a solução trivial.
- E pode ter solução única.

**13** No plano cartesiano, as retas  $x = a$  e  $x = b$  ( $a \neq b$  e  $a, b \in R$ ) tangenciam a circunferência de equação  $x^2 + y^2 - 8x - 6y + 21 = 0$ . A soma  $a + b$  é igual a

- A 6
- B 5
- C 7
- D 8
- E 4

14 O lugar geométrico dos pontos  $P(x, y)$  do plano cartesiano, que distam 2 da reta de equação  $3x - 4y = 0$ , intercepta o eixo das ordenadas em dois pontos cujo produto de suas ordenadas é:

- A  $-\frac{23}{4}$
- B  $-\frac{21}{4}$
- C  $-\frac{11}{2}$
- D  $-\frac{25}{4}$
- E  $-6$

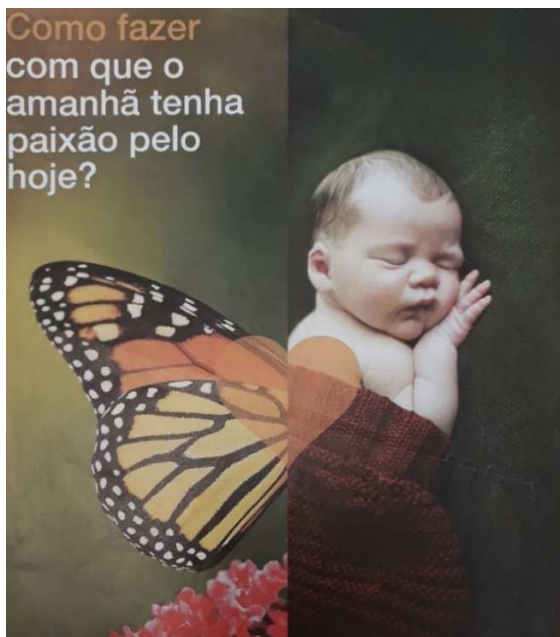
15 No plano cartesiano, considere o ponto  $P$  do primeiro quadrante que pertence à reta de equação  $3x + 2y = 12$ .

Considere também o retângulo  $OAPB$  em que  $O$  é a origem e  $A$  e  $B$  são as projeções ortogonais de  $P$  nos eixos das abscissas e das ordenadas, respectivamente.

A área máxima do retângulo  $OAPB$  é:

- A 5
- B 5,5
- C 7
- D 6,5
- E 6

16 Examine a seguinte propaganda de uma empresa do setor químico.



Valor Setorial, nov. 2015

Entendida no contexto do anúncio, a associação entre a imagem da borboleta e a do recém-nascido sugere, sobretudo, ideia de

- A leveza.
- B ecologia.
- C maternidade.
- D beleza.
- E transformação.

Para responder às questões de 17 a 19, leia o trecho de uma entrevista concedida pelo crítico e historiador americano Stephen Greenblatt, especialista na obra de Shakespeare.

- Quais são as características de um tirano nas obras de Shakespeare?  
 - Shakespeare entendia, e não só ele, mas também sua época, que um tirano era aquele que governava ilegitimamente, que fazia isso de acordo com seus próprios interesses e não com os de seu país. Shakespeare representou certos traços de personalidade como se fossem característicos do tirano. Um certo tipo de narcisismo. Um espírito de intimidação, um modo de mobilizar as pessoas contra inimigos imaginários ou contra aqueles que são de outra etnia ou religião. Uma certa rudeza. Um desprezo pela lei. Um certo tipo de comportamento sexualmente intimidante. A questão que Shakespeare levanta, insistentemente, é como alguém com essas características, alguém que se comporta assim, pode alcançar o poder. Porque as sociedades em geral se defendem contra personalidades desse tipo — normalmente, elas não sucumbem. Então Shakespeare se pergunta como é possível que aquilo que parece ser um Estado saudável ou razoavelmente saudável, no qual a maioria das pessoas tem no fim das contas o próprio interesse, possa cair nas mãos de um líder realmente catastrófico ou de um tirano.

Época, 17.12.18. Adaptado.

17 Segundo o entrevistado, constitui um traço da personalidade do tirano a

- A tendência de cultivar a vaidade e o autocentramento.
- B tentativa de obter a adesão de outras etnias para conseguir seus intentos.
- C insegurança no relacionamento com pessoas de outro sexo.
- D perseguição àqueles que aderem ao ateísmo.
- E obsessão por impor leis, mesmo as mais injustas.

18 Para atribuir um caráter atemporal à representação das características do tirano presente nas obras de Shakespeare, o entrevistado se vale do emprego

- A de várias frases nominais (sem verbo).
- B do presente do indicativo.
- C de diferentes modos verbais.
- D de formas verbais que expressam hipótese.
- E do pretérito imperfeito.

19 Das correções propostas para diferentes trechos do texto, indicadas entre colchetes, a única necessária, tendo em vista as normas da língua escrita culta, é:

- A “a maioria das pessoas tem [têm] no fim das contas o próprio interesse”.
- B “Shakespeare representou certos traços de personalidade como se fossem característicos [como se ela fosse característica] do tirano”.
- C “Shakespeare entendia, e não só ele, mas também [entendia e não só ele mas também] sua época, que um tirano era aquele que governava ilegitimamente”.
- D “Porque as sociedades em geral se defendem contra personalidades [se defendem de personalidades] desse tipo”.
- E “um Estado saudável ou razoavelmente saudável, no qual a maioria [cuja a maioria] das pessoas”.

20 A frase cuja palavra ou expressão sublinhada está corretamente empregada, considerando-se seu sentido e o contexto, é:

- A Procurando se dar bem na vida, frequentava um ciclo de pessoas influentes de sua cidade.
- B Mesmo estando em 1990, já no limiar do século XX, recusava-se a acreditar na ida do homem à lua.
- C Tendo em vista o aumento da poluição, é preciso ter bom coração, literalmente, para viver na cidade de São Paulo.
- D Sabe-se que nasceu em Berlim, em 1915, e que, em 1941, imigrou para o Estados Unidos.
- E O povo saiu às ruas para se manifestar em prol de antigos problemas do país.



**Texto para as questões de 21 a 24**

*Dizem todos, e os poetas juram e tresjuram, que o verdadeiro amor é o primeiro; temos estudado a matéria, e acreditamos hoje que não há que fiar em poetas: chegamos por nossas investigações à conclusão de que o verdadeiro amor, ou são todos ou é um só, e neste caso não é o primeiro, é o último. O último é que é o verdadeiro, porque é o único que não muda. As leitoras que não concordarem com esta doutrina convençam-me do contrário, se são disso capazes.*

*Isto tudo vem para dizermos que Maria-Regalada tinha um verdadeiro amor ao major Vidigal; o major pagava-lho na mesma moeda. Ora, D. Maria era uma das camaradas mais do coração de Maria-Regalada. Eis aí por que falando dela D. Maria e a comadre se mostraram tão esperançasadas a respeito da sorte do Leonardo.*

*Já naquele tempo (e dizem que é defeito do nosso) o empenho, o compadresco eram uma mola real de todo o movimento social.*

Manuel Antônio de Almeida, **Memórias de um sargento de milícias**.

**21** Considerando-se o excerto no contexto da obra a que pertence, verifica-se que a demanda apresentada pelas três senhoras ao major Vidigal tinha como pressuposto a prática da ingerência de interesses de caráter

- A político, na circunscrição militar.
- B popular, no círculo das elites.
- C privado, na esfera pública.
- D inovador, na ordem patriarcal.
- E literário, no âmbito judicial.

**22** Tal como é exposta no excerto, a concepção do amor apresentada pelo narrador tende a contrariar a ideia do amor como

- A afeto caracteristicamente feminino, oriunda do Romantismo francês.
- B ilusão dos sentidos, característica do Racionalismo iluminista.
- C prerrogativa juvenil, ideia arcadista remanescente no primeiro Romantismo.
- D paixão carnal, que viria a se impor no Naturalismo literário.
- E sentimento absoluto, predominante no movimento romântico.

**23** A interpelação direta do leitor, tingida de ironia, tal como praticada pelo narrador no excerto, assemelha-se sobretudo ao que fará, mais tarde, também o narrador de

- A Vidas secas, de Graciliano Ramos.
- B "A hora e vez de Augusto Matraga", de Guimarães Rosa.
- C Memórias póstumas de Brás Cubas, de Machado de Assis.
- D Iracema, de José de Alencar.
- E O cortiço, de Aluísio Azevedo.

**24** O prefixo que entra na formação do verbo "tresjuram" expressa ideia de

- A atenuação.
- B contradição.
- C precisão.
- D intensificação.
- E negação.

**Texto para as questões de 25 a 27****A tela contemplada**

*Pintor da soledade nos vestíbulos  
de mármore e losango, onde as colunas  
se deploram silentes, sem que as pombas  
venham trazer um pouco do seu rufo;*

*traça das finas torres consumidas  
no vazio mais branco e na insolvência  
de arquiteturas não arquitetadas,  
porque a plástica é vã, se não comove,*

*ó criador de mitos que sufocam,  
desperdiçando a terra, e já recuam  
para a noite, e no charco se constelam,*

*por teus condutos flui um sangue vago,  
e nas tuas pupilas, sob o tédio,  
é a vida um suspiro sem paixão.*

Carlos Drummond de Andrade, **Claro enigma**.

**25** Ao descrever e comentar aspectos da pintura que contempla, o poeta instituiu um procedimento recorrente, que permeia todo o poema e, finalmente, se revela compatível com o tom mais geral do livro como um todo. Tal procedimento é o de

- A acumular, de estrofe em estrofe, argumentos que expõem a impotência da arte moderna, de modo a criticar-lhe a incapacidade de intervir no mundo real, modificando-o.
- B fazer com que cada aspecto apresentado seja acompanhado por algo que o nega ou esvazia, no limite de anulá-lo, revelando a vacuidade de que é portador.
- C opor sistematicamente as artes plásticas e a arquitetura à literatura, reivindicando para esta última a capacidade de captar os sentidos do mundo, que escapam às duas primeiras.
- D contrapor a cada trecho descritivo um trecho narrativo, que permite enraizar o poema em um contexto histórico bem determinado.
- E alternar trechos enigmáticos, de sentido obscuro, e trechos explicativos, mais claros, de sentido unívoco, de modo a eliminar possíveis ambiguidades.

**26** Entre as diversas linhas temáticas e estilísticas que compõem Claro enigma, arroladas abaixo, apenas uma **NÃO** se encontra direta e imediatamente presente no poema. Trata-se da

- A reflexão sobre a madureza – ou experiência do envelhecimento.
- B utilização de versos dotados de regularidade métrica.
- C metalinguagem – linguagem que tem como referente a própria linguagem.
- D retomada de gêneros poéticos herdados da tradição.
- E presença de elementos classicistas.

**27** No último verso do poema (“é a vida um suspiro sem paixão”), realça-se o sujeito por meio de sua posposição ao verbo. Ocorre o mesmo recurso expressivo no trecho:

- A “por teus condutos flui um sangue vago”.
- B “sem que as pombas venham trazer um pouco do seu ruflor”.
- C “porque a plástica é vã, se não comove”.
- D “onde as colunas se deploram silentes”.
- E “ó criador de mitos que sufocam, desperdiçando a terra”.

#### Texto para as questões de 28 a 30

1 *Fabiano esfregou as mãos satisfeito e empurrou os tições com a*  
 2 *ponta da alpercata. As brasas estalaram, a cinza caiu, um círculo de luz*  
 3 *espalhou-se em redor da trempe de pedras, clareando vagamente os pés*  
 4 *do vaqueiro, os joelhos da mulher e os meninos deitados. De quando em*  
 5 *quando estes se mexiam, porque o lume era fraco e apenas aquecia*  
 6 *pedaços deles. Outros pedaços esfriavam recebendo o ar que entrava*  
 7 *pelas rachaduras das paredes e pelas gretas da janela. Por isso não*  
 8 *podiam dormir. Quando iam pegando no sono, arripiavam-se, tinham*  
 9 *precisão de virar-se, chegavam-se à trempe e ouviam a conversa dos pais.*  
 10 *Não era propriamente conversa, eram frases soltas, espaçadas, com*  
 11 *repetições e incongruências. Às vezes uma interjeição gutural dava*  
 12 *energia ao discurso ambíguo. Na verdade nenhum deles prestava atenção*  
 13 *às palavras do outro: iam exibindo as imagens que lhes vinham ao*  
 14 *espírito, e as imagens sucediam-se, deformavam-se, não havia meio de*  
 15 *dominá-las.*

Graciliano Ramos, **Vida secas**.

**28** No excerto, o narrador apresenta uma cena que contém uma conversa entre Fabiano e sinha Vitória. Entre as frases transcritas abaixo, extraídas do mesmo capítulo em que se encontra a referida cena, a que contém uma informação de maior valor explicativo em relação às características dessa conversa é a que está em:

- A “Aquele homem era assim mesmo, tinha o coração perto da goela”.
- B “Como os recursos de expressão eram minguados, tentavam remediar a deficiência falando alto.”
- C “No campo, seguindo uma rês, ele [Fabiano] se esgoelava demais. Natural. Mas ali, à beira do fogo, para que tanto grito?”
- D “O menino mais velho estava descontente. Não podendo perceber as feições do pai, cerrava os olhos para entendê-lo bem.”
- E “Fabiano contava façanhas. Começara moderadamente, mas excitara-se pouco a pouco e agora via os acontecimentos com exagero e otimismo”.

**29** Na construção da cena apresentada no excerto, a ênfase nas alternâncias de claridade e escuridão, de quente e frio, entra em correspondência mais direta com o caráter

- A natural das diferenças cognitivas que separam adultos de crianças.
- B bial da seca, que se alterna com períodos chuvosos.
- C instável da personalidade dos sertanejos apartados da civilização.
- D irredutível das diferenças entre o homem e a mulher, incapazes de se entenderem.
- E fragmentário e incongruente da conversa.

**30** Considere os seguintes pronomes empregados no texto:

- I “estes” (L. 5), “lhes” (L. 13);
- II “deles” (L. 6), “deles” (L. 12);
- III “que” (L. 13), “las” (L. 15).

Têm o mesmo referente apenas os pronomes citados em

- A I.
- B II e III.
- C I e II.
- D III.
- E II.

**THEATER OF WAR**

- 1** *On April 12<sup>th</sup> 2014 Igor Girkin, a former Russian military officer also known as “Strelkov” (“Shooter”), sneaked across the border into Ukraine’s Donbas region with a few dozen men and took control of the small town of Sloviansk, igniting Europe’s bloodiest war since the 1990s. To create the impression of strength, Mr Girkin, an aficionado of historical battlefield re-enactments, masqueraded as a member of Russia’s special forces, and had his men drive two armoured personnel carriers around every night to simulate a large build-up. In fact, his army never exceeded 600 men, mainly Cossacks and war-hungry opportunists like himself.*
- 2** *Having just lost Crimea and lacking a functioning government or military command after the Maidan revolution, Ukraine was stunned. As Russia massed its forces on the border with Ukraine, most observers (and participants such as Mr Girkin) expected a swift invasion followed by annexation. Instead, the Kremlin created an ersatz [falsificada] civil war, absurdly portraying the Kiev government as a “fascist” regime and the separatists as freedom fighters. As the Ukrainian army moved in to try to retake Donbas, Mr Girkin and his fighters took up positions in a psychiatric hospital on the outskirts of Sloviansk, using its patients as human shields.*
- 3** *Today, the ruined psychiatric hospital, resembling a scene out of the battle of Stalingrad, is a symbol of the madness of an essentially theatrical conflict that has cost 10,000 lives and displaced more than 1.7 million people. Yet officially, Russia and Ukraine are not at war. They maintain diplomatic relations and trade with each other. Ukraine has euphemistically designated the conflict zone an area of “anti-terrorist operations.” Most of the people caught up in the war do not care who started it, or what they call it.*
- 4** *“I am against everyone,” says Lyudmila Prikhodko, who lives in a restored building among the hospital’s ruins. (The names of civilians in the conflict zone have been changed.) An engineer, Ms Prikhodko was forced to flee Donetsk after refusing to support the self-proclaimed Donetsk People’s Republic (DNR). She feels equally alienated from Russia and Ukraine. “DNR treats people like me as enemies. Ukraine sees us as potential separatists.”*
- 5** *On paper, there is no border between the two parts of Ukraine. In practice, there are several frontier control points, manned by border guards and customs officials and crossed by those who live in the separatist territories but must work, receive pensions or handle bureaucratic problems on the Ukrainian side. Andrei Borisov, a smuggler who carries food, cigarettes and pesticides from Ukrainian territory across the line of control, says everyone is in on the business: customs officers, local officials and separatists on the other side.*

Adapted from *The Economist*, May 24<sup>th</sup> 2017.

**31** Which of the following is most supported by the information in the article?

- A** Most of the men in Igor Girkin’s invading army are neither Russian nor Ukrainian.
- B** Under the cover of night, Igor Girkin and a handful of Russian troops defeated 600 Ukrainian army soldiers in the first battle for control of the Donbas region.
- C** A series of accidents and coincidences turned what had been intended as a quick, surgical Russian military operation into Europe’s bloodiest war of this century.
- D** Igor Girkin resorted to tricks in an attempt to make his small armed group look more powerful than it really was.
- E** On April 12<sup>th</sup> 2014, a Russian military officer led Russian army troops in a secret invasion of Ukraine’s Donbas region.

**32** According to the information in the article,

- A** Russian massed its troops on its Ukrainian border as a means of guaranteeing the Donbas region’s recently acquired independence.
- B** Because Ukraine lost Crimea, it was unable to make an effective military response to Igor Girkin’s offensive in the Donbas region.
- C** Many people were surprised when Russia did not attempt to take the Donbas region for itself.
- D** By exposing the Ukrainian government’s fascist ideology, Russia helped the Donbas separatists gain international support.
- E** By misinterpreting the meaning of Igor Girkin’s offensive in the Donbas region, Russia’s government made a major war there inevitable.

- 33** According to the information in the article, when Ukrainian troops attempted to regain control of the Donbas region,
- A** at first they concentrated their firepower in the area around Sloviansk.
  - B** they were careful not to provoke elements of the Russian army stationed near Sloviansk.
  - C** Igor Girkin and his soldiers retaliated by destroying a psychiatric hospital near Sloviansk.
  - D** patients at a psychiatric hospital were forced into a life-threatening situation.
  - E** the only opposition came from rebels that had occupied an abandoned psychiatric hospital.
- 34** The article most likely refers to the armed conflict in the Donbas region as “essentially theatrical” for all of the following reasons **except**
- A** although Russia and Ukraine are clearly involved in some kind of potentially deadly conflict, neither has actually declared war against the other.
  - B** when Russia had a real chance to invade and annex the Donbas region, it instead promoted in that region a kind of fake “civil war”.
  - C** the man responsible for actually starting the Donbas conflict falsely presented himself as a member of a Russian military unit.
  - D** the violence that has supposedly displaced nearly 2 million people has in fact killed only 10,000 people.
  - E** Russia and Ukraine have cut off neither diplomatic nor trade relations with each other.
- 35** With respect to Lyudmila Prikhodko, the article supports all of the following **except**
- A** where she is now living was probably damaged during the fighting around Sloviansk.
  - B** because of the terrible things that happened to her, she is actively working against the Donetsk People’s Republic.
  - C** she does not actively favor any of the armed groups involved in the Donbas conflict.
  - D** Lyudmila Prikhodko is not her real name.
  - E** she feels little connection to either Russia or Ukraine.
- 36** In paragraph 5, the sentence “On paper, there is no border between the two parts of Ukraine” most likely refers to which of the following?
- A** The border between the parts of Ukraine has been deliberately kept vague and porous in order to facilitate corruption.
  - B** Because of the armed conflict in Ukraine’s Donbas region, crossing the border between that territory and the rest of Ukraine has become a bureaucratic nightmare.
  - C** Although some people are fighting to separate one part of Ukraine permanently from the other, such a separation has not yet been officially recognized.
  - D** Despite issuing propaganda to the contrary, Russia wants to make sure that Ukraine stays united.
  - E** Russia and Ukraine are still trying to reach a negotiated settlement to the armed conflict in the Donbas region.
- 37** According to Andrei Borisov in paragraph 5, what do “customs officers, local officials and separatists on the other side” all have in common?
- A** Without exception, they are all in one way or another working with contraband.
  - B** They eagerly buy his contraband goods, such as food, cigarettes and pesticides.
  - C** Andrei Borisov pays all of them so that he can bring contraband goods into the Donbas region.
  - D** Despite the armed conflict in the Donbas region, they are working together to keep the daily government bureaucracy on both sides functioning.
  - E** Although they are all working in some area of government, none of them has any loyalty to any side in the Russia-Ukraine conflict.

**PERFECT LIE**

By Anna Blundy

- 1** *It was as though he was sitting in the consulting room with us, a golden figure of male beauty, intelligent sensitivity, sparkling wit and an endless capacity for good. This was established by my patient as a stark contrast to all her multitudinous failings. "I don't deserve him," she said, twisting a tissue in her bitten fingers, legs tucked meekly under her chair. She began (again) to detail her repulsiveness and stupidity.*
- 2** *She met this Adonis at university where he excelled at everything. Strangely enough, he liked her and they began a relationship that made her feel inadequate. "He's just so good socially. Really funny and chatty," she explained. "I know people look at us and wonder why he's with me," she added.*
- 3** *I was supposed to nod and understand that it must be very painful to be so ugly and crap while he is so perfect. Did I mention that he is multilingual and that his strong eco-credentials will, sooner rather than later, save the world? Sitting there looking at this crushed girl, I really started to hate this guy. "He says he can't put up with my depression much longer. He says it's embarrassing." Our Adonis was constantly going to Norway for long stretches. "There was a girl who liked him, but nothing happened," she said, eyes pleading.*
- 4** *Two years into our once-a-week sessions, my patient looks very different. She meets my gaze, smiles, is dressed less like a five-year-old and more like a 30-year-old, and is struggling with her now husband. "He's such a show off. He dominates conversations so nobody else can say anything," she tells me, describing an excruciating evening at an Indian restaurant. She is exasperated by his bullying at home, always shouting about her incompetent recycling, her use of the central heating and her not switching lights off (when she is actually in the room). While her job in publishing is going well, he is currently out of work, the eco-start up thing that he was involved with didn't start up.*
- 5** *I won't go into detail about her psychotherapy journey, but she is a favourite in my supervision group because she is funny and insightful, desperate to get out of depression, initially to please her Adonis, but ultimately for herself. She'd chosen someone she felt was her superior in order to prove her lack of self-worth and was re-enacting a miserable childhood in which she was always ignored in favour of (and also by) a golden brother.*
- 6** *But now what? I've often heard anti-therapy types complain that therapists turn couples against each other, that if one party is in therapy the marriage is doomed. I suspect this is often true—an unhappy person is often unhappy specifically in their relationship. But this relationship was based purely on fantasy. My patient had ludicrously idealised an ordinary guy and he liked it (as it fed his narcissism). She was unable to know the real person, seeing only the glittering fantasy that revealed her own worthlessness. Once she'd recovered her reality-testing, withdrawn her colossal projections of perfection into him, and was more able to see the world as it is, the rose-coloured veil slipped away and she is left with a man as flawed as any other: as flawed as herself.*
- 7** *Since she didn't choose him clear-sightedly, she didn't choose him at all. She chose a fantasy. Though reality has allowed her to accept herself, she's now going to have to accept or reject him, without the auriferous sheen [brilho].*

Adapted from *Prospect*, June 2017.

**38** In paragraph 1, "he" in the phrase "It was as though he was sitting in the consulting room with us" most likely refers to the

- A** kind of boyfriend the therapy patient believed she would never have.
- B** boyfriend that the therapy patient had rejected because of her low self-esteem.
- C** wonderful boyfriend that was ready to abandon the therapy patient.
- D** kind of boyfriend that could truly love the therapy patient.
- E** idealized version of the therapy patient's boyfriend.

**39** In paragraph 2, when the author writes "Strangely enough, he liked her and they began a relationship that made her feel inadequate," she is most likely trying to

- A** illustrate how a bad relationship can destroy a person's self-confidence.
- B** explain how her therapy patient's low self-esteem ruined what could have been a good relationship.
- C** comment ironically on the unrealistic opinion that the therapy patient had of her boyfriend and of herself.
- D** show how destructive modern relationships can be.
- E** express her belief that the therapy patient should never have started dating her boyfriend.

- 40** According to the information in the article, the boyfriend of the therapy patient
- A** had no idea of what he was getting into when he starting dating her.
  - B** often stayed away from her for extended periods of time.
  - C** was embarrassed by her fierce devotion.
  - D** stayed with her because he knew he could manipulate and dominate her.
  - E** distorted or exaggerated the important facts about his life when he first met her.
- 41** In paragraph 4, the phrase “dressed less like a five-year-old and more like a 30-year-old” most likely refers to which of the following?
- A** The therapy patient’s new husband has been helping her to act in a more mature way.
  - B** The therapy patient now dresses to please herself rather than to please her husband.
  - C** Getting out of a destructive relationship has helped the therapy patient become a mature, responsible woman.
  - D** The therapy patient is still struggling to find her own unique sense of style.
  - E** The therapy patient’s changed way of dressing is evidence that she is responding positively to her therapy sessions.
- 42** According to the information in the article, nowadays one ironic factor in the life of the therapy patient is the fact that although
- A** she had considered her husband far superior to herself, his professional life is going badly while hers is going well.
  - B** her husband works in the environmental area, he does so for money rather than because of any strong sense of idealism.
  - C** she and her husband have been together for only a short time, she already regards him as mediocre.
  - D** her husband constantly mistreats her, she still believes he is perfect.
  - E** her husband really does dominate many conversations, most people love what he has to say.
- 43** With respect to the therapy patient, which of the following is most supported by the information in the article?
- A** If she had been happy in her childhood, she would be happy in her current marriage.
  - B** Even her decision to go into therapy could be seen as an example of her tendency to give herself little consideration.
  - C** Therapy helped her to understand that no one had ever truly loved her.
  - D** Although she had only one brother, she was never close to him but rather considered him a rival and an enemy.
  - E** She believed that making an exceptional man love her would somehow solve the problems of her childhood.
- 44** According to the information in the article,
- A** the therapy patient subconsciously believed that being involved with a truly superior man would mean that she herself was superior.
  - B** no relationship based on fantasy can ever make anyone happy.
  - C** experience teaches therapists that modern male-female relationships are inherently exploitative.
  - D** because she believed that she deserved to suffer, the therapy patient deliberately entered what she knew would be a destructive relationship.
  - E** in general, the boyfriend (now husband) of the therapy patient was happy with her unrealistic opinion of him.
- 45** According to the information in the article, which of the following is most likely a question that the therapy patient must now face?
- A** Now that she has a realistic relationship with herself, will she want to maintain a relationship with her husband?
  - B** If she terminates therapy, what will happen if she reverts to her old, self-destructive habits?
  - C** Can she survive in a relationship with a normal, imperfect human being?
  - D** Considering all of the suffering that she has endured, how can she really know the true character of her husband?
  - E** Considering that she married a perfect fantasy rather than a flawed human being, how should she deal with that fantasy?

46

Nas vésperas dos Descobrimentos e no próprio momento das viagens de Colombo, de Vasco da Gama e de Vespúcio, nenhuma das cinco representações da Terra descritas por Crates, Aristóteles, Parmênides (as zonas), Lactâncio e Ptolomeu parece prevalecer. Embora elas nos apareçam como absolutamente incompatíveis, as quatro primeiras tendem, com efeito, a conjugar-se para preservar o paradigma medieval de uma ecúmena plana, colocada sobre uma esfera “cosmográfica”.

RANDLES, RW.G.L. *Da Terra Plana ao Globo Terrestre*. Uma rápida mutação epistemológica (1450-1520). Lisboa: Gradiva, 1990, p. 35.  
ecúmena: área da Terra habitada pelos seres humanos.

Acerca das concepções sobre a Terra e da expansão marítima Europeia afirma-se:

- I À época dos Descobrimentos, não havia nenhuma teoria acerca da esfericidade da Terra, o que reforçava a posição de setores religiosos que ainda sustentavam o mito bíblico da Terra Plana.
- II A viagem de circum-navegação realizada por Fernão de Magalhães, entre 1519 e 1522, tornou-se um marco na História mundial por ter comprovado a tese da esfericidade da Terra.
- III As lendas acerca da existência de monstros e de seres fantásticos que habitariam os mares e terras desconhecidos faziam parte do imaginário europeu à época dos Descobrimentos.

Está correto o que se afirma em

- A I e III, apenas.
- B II, apenas.
- C I e II, apenas.
- D I, II e III.
- E II e III, apenas.

47 Em junho de 1979, guerrilheiros sandinistas tomavam a cidade de Manágua, capital da Nicarágua, estabelecendo o fim do governo ditatorial de Anastacio Somoza Debayle.

Acerca desse movimento, é correto afirmar:

- A O apoio dos Estados Unidos foi decisivo para a vitória dos sandinistas e, posteriormente, para a integração da economia nicaraguense aos interesses norte-americanos.
- B A Revolução Sandinista permitiu uma reaproximação entre os governos dos Estados Unidos e da União Soviética, o que resultaria no fim das tensões políticas da Guerra Fria.
- C Representou o fim dos conflitos internos na Nicarágua e deu início a um período de normalidade democrática, em sintonia ao que se estabelecia em toda a América Latina.
- D O assassinato do jornalista Pedro Joaquin Chamorro, em 1978, contribuiu para a aliança entre liberais e sandinistas contra o regime de Anastacio Somoza.
- E Marcou a introdução da tática do foquismo e da luta armada nos conflitos sociais e políticos da América Latina.

48

Costuma-se dizer que a religião deve ser separada da política e que o mundo eclesiástico não se deve imiscuir nos assuntos de Estado. Proclama-se que as altas autoridades eclesiásticas muçulmanas não devem intervir nas decisões sociais e políticas do governo. Tais afirmações só emanam dos ateus: são ditadas e espalhadas pelos imperialistas. A política estava separada da religião no tempo do Profeta (...)?

AIATOLÁ KHOMEINI, *O Livro Verde dos princípios políticos, sociais e religiosos*. Rio de Janeiro: Record, 1979, p. 27.

O Aiatolá Khomeini foi um dos líderes da Revolução Iraniana de 1979, que derrubou o regime do Xá Reza Pahlevi. A esse respeito, afirma-se:

- I A Revolução Iraniana provocou a substituição de um regime imperial democrático por um Estado republicano de caráter autoritário.
- II Dirigido pelos xiitas, o movimento instaurou um governo fundamentalista que articulava os interesses do Estado a concepções religiosas muçulmanas.
- III A ascensão do regime dos aiatolás foi patrocinada pelos governos dos Estados Unidos, interessados em estimular o conflito entre Irã e Iraque, dirigido, na época, por Saddam Hussein.

Está correto o que se afirma em

- A II, apenas.
- B I, apenas.
- C II e III, apenas.
- D I e II, apenas.
- E I e III, apenas.

49 Houve movimentos militares em 1945, 1954, 1964, uma tentativa frustrada em 1961 e um outro movimento em 1955, que precipitou um contramovimento em defesa das autoridades constitucionais. Os anos de 1945 a 1964 assinalam o período da primeira experiência do Brasil com uma política competitiva, democrática e aberta.

Stepan, A., *Os militares na política. As mudanças de padrões na vida brasileira*. Rio de Janeiro: Artenova, 1975, p. 66.

Sobre os movimentos militares citados no texto é correto afirmar:

- A Em seu conjunto, percebe-se a inexistência de correntes políticas de opiniões distintas no seio das Forças Armadas brasileiras.
- B Tais intervenções militares revelam a característica democrática e civil da história da República brasileira.
- C Em 1945 e 1964, os presidentes da República foram destituídos, marcando o início de novos períodos políticos.
- D Foram movimentos anticomunistas impulsionados pela polarização ideológica da Guerra Fria.
- E A intervenção mais aguda ocorreu em 1961 com a implementação do regime presidencialista.

**50** Leia com atenção trechos selecionados da Consolidação das Leis do Trabalho (CLT), de 1943:

TÍTULO I  
INTRODUÇÃO

Art. 1º - Esta Consolidação estatui as normas que regulam as relações individuais e coletivas de trabalho, nela previstas.

Art. 2º - Considera-se empregador a empresa, individual ou coletiva, que, assumindo os riscos da atividade econômica, admite, assalaria e dirige a prestação pessoal de serviço.

§ 1º - Equiparam-se ao empregador, para os efeitos exclusivos da relação de emprego, os profissionais liberais, as instituições de beneficência, as associações recreativas ou outras instituições sem fins lucrativos, que admitirem trabalhadores como empregados.

(...)

Art. 3º - Considera-se empregado toda pessoa física que prestar serviços de natureza não eventual a empregador, sob a dependência deste e mediante salário.

Parágrafo único - Não haverá distinções relativas à espécie de emprego e à condição de trabalhador, nem entre o trabalho intelectual, técnico e manual.

[http://www.planalto.gov.br/ccivil\\_03/Decreto-Lei/Del5452.htm](http://www.planalto.gov.br/ccivil_03/Decreto-Lei/Del5452.htm)

Acesso em 16/2/2019

A Consolidação das Leis do Trabalho (CLT) foi

- A** fruto de discussões livres e democráticas entre trabalhadores e empresários e tornou-se modelo de legislação trabalhista na América do Sul.
- B** caracterizada pela participação ativa do Estado brasileiro como mediador e árbitro das relações entre capital e trabalho.
- C** resultado da imposição dos interesses dos operários aos empresários e ao Estado em virtude da forte mobilização dos trabalhadores no governo Vargas.
- D** estabelecida durante a Assembleia Constituinte, que organizou o ordenamento jurídico do país na década de 1940.
- E** marcada pelos princípios liberais que defendiam o empreendedorismo e a livre concorrência como práticas econômicas e trabalhistas.

**51**

*Alguns países latino-americanos, a partir da década de 1980, aderiram às recomendações do Fundo Monetário Internacional (FMI) e do Banco Mundial, que preconizavam a realização de reformas estruturais como forma de restabelecer a competitividade e o crescimento econômico. Sob o rótulo de Consenso de Washington, essas medidas ganharam apoio político e ressonância pública. Esse processo de reestruturação, em que as novas tecnologias de informação desempenharam um papel fundamental, significou a incorporação desses países à dinâmica da globalização. Nesse novo cenário, houve uma reestruturação do papel das áreas metropolitanas.*

*Adaptado de Matos, Carlos A. Redes, nodos e cidades: transformação da metrópole latino-americana. São Paulo: FASE, 2004.*

Sobre as mudanças ocorridas nas metrópoles latino-americanas no contexto da globalização, analise as afirmações a seguir.

- I** As empresas produtivas e financeiras sediadas nas metrópoles foram integradas à circulação supranacional e impulsionadas a se organizar em rede.
- II** A base econômica metropolitana foi transformada, o que contribuiu para consolidar uma estrutura urbana segregada, na qual a estratificação social tem uma clara expressão territorial.
- III** As atividades produtivas foram redistribuídas para locais estratégicos, sob a crescente influência das novas tecnologias de informação, ao passo que as atividades e funções de decisão foram mantidas nas metrópoles.
- IV** A construção de prédios corporativos e de conjuntos empresariais inteligentes mudou o funcionamento e a fisionomia da metrópole, configurando uma estrutura policêntrica.

Está correto o que se afirma em

- A** I, II, III e IV.
- B** II, III e IV, apenas.
- C** I, III e IV, apenas.
- D** II e IV, apenas.
- E** I e III, apenas.



52

A emergência da consciência ambientalista, nas últimas décadas do século XX, mudou o entendimento sobre a ecologia urbana. Essa nova abordagem, denominada de metabolismo urbano, procura avaliar como as funções econômico-sociais se projetam sobre o espaço e o ambiente das cidades, envolvendo a funcionalidade do organismo urbano em todos os sentidos. Assim sendo, há que se avaliar a diversidade e o volume de tudo o que entra no organismo urbano e, a seguir, os diferentes tipos de descarga do material secundário, profundamente modificado pelos processos metabólicos.

Adaptado de Ab'Saber, Aziz Nacib. *A sociedade urbano-industrial e o metabolismo urbano*. São Paulo: EDUSP, 2004.

Sobre as diferentes etapas do *metabolismo urbano*, analise as afirmações a seguir.

- I O descarte de resíduos sólidos em lixões ou aterros sanitários a céu aberto é recomendável, porque a ação da energia solar acelera a decomposição do material degradável sem provocar danos ambientais.
- II Os processos metabólicos derivados do mundo urbano e as tecnologias que respondem pela industrialização lançam gases e particulados no espaço aéreo urbano, já saturado pelas emanações dos veículos automotores.
- III A trama de distribuição de água e de drenagem de esgotos domésticos não acompanhou a velocidade do processo de urbanização, o que impede a universalização do acesso à água tratada e ao saneamento básico.

Está correto o que se afirma em

- A I e III, apenas.
- B II, apenas.
- C I e II, apenas.
- D I, II e III.
- E II e III, apenas.

53

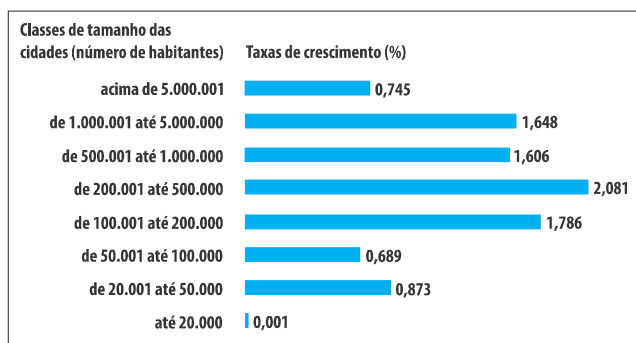
A recessão de 1973, acentuada pelo choque do petróleo, colocou em movimento processos que solaparam o fordismo e que retiraram o mundo capitalista da estagnação (estagnação da produção de bens e inflação de preços). Em razão disso, novas experiências na organização da indústria e na vida social e política começaram a tomar forma. Essas experiências representam a passagem para um regime de acumulação inteiramente novo – a acumulação flexível.

Adaptado de Harvey, David. *Condição Pós-Moderna*. Edições Loyola. São Paulo. 1990.

As opções a seguir apresentam características da *acumulação flexível*, **à exceção de uma**. Assinale-a.

- A Permitiu que os empregadores exerçam maior pressão sobre o mundo do trabalho, devido ao aumento do desemprego e do enfraquecimento dos movimentos sindicais.
- B Gerou um movimento de compressão do espaço-tempo, graças às comunicações via satélite e à queda dos custos dos transportes.
- C Desestruturou os processos de trabalho e os padrões de consumo, devido à eliminação da produção uniformizada e dos grandes estoques.
- D Regulamentou a distribuição de componentes e subcontratantes em escala mundial, devido à difusão do consumo de massa por redes eletrônicas.
- E Estimulou as mudanças tecnológicas, a automação e a busca de novas linhas de produtos, devido à valorização do conhecimento como fator estratégico para o crescimento econômico.

- 54 Analise a tabela a seguir, que representa as taxas médias de crescimento anual (%) das cidades brasileiras, segundo as classes de tamanho da população urbana, entre 2000 e 2012.



Sobre a dinâmica demográfica das cidades brasileiras, assinale **V** para a afirmação verdadeira e **F** para a falsa.

- ( ) Os centros regionais e sub-regionais – com população entre 100.001 e 500.000 habitantes – apresentaram as maiores taxas de crescimento demográfico, porque, graças a uma eficiente base logística, mantiveram-se como “ilhas de prosperidade”.
- ( ) Os centros metropolitanos globais - as cidades de São Paulo e Rio de Janeiro – apresentaram taxas de crescimento demográfico baixas em relação às décadas anteriores, o que indica um movimento de desconcentração territorial.
- ( ) As metrópoles regionais – cidades com população entre 1.000.001 e 5.000.000 de habitantes – apresentaram taxas de crescimento demográfico ainda elevadas, porque o movimento de convergência para as metrópoles se dá, agora, em escala regional.
- ( ) As cidades locais – cidades com até 20.000 habitantes – apresentaram taxas de crescimento baixas, porque o índice de natalidade tem decrescido, em função do chamado bônus demográfico.

Assinale a opção que indica a sequência correta, segundo a ordem apresentada.

- A** F, F, V e V.  
**B** V, V, V e F.  
**C** V, V, F e V.  
**D** V, F, F e V.  
**E** F, V, V e F.

- 55 Sobre o espaço urbano de São Paulo, leia os versos a seguir.

“Si o senhor não está lembrado,  
dá licença de contá,  
que aqui onde agora está  
esse adifício alto,  
era uma casa velha, um palacete assobradado.

Foi aqui seu moço,  
que eu, Mato Grosso e o Joca  
construímos nossa maloca.

Mais um dia, nem quero lembrá,  
veio os homens com as ferramentas  
o dono mandô derrubá.  
Peguemo todas nossas coisas  
e fumos pro meio da rua  
apreciar a demolição.  
Que tristeza que eu sentia,  
cada tauba que caía  
doía no coração.  
Mato Grosso quis gritá,  
mas em cima eu falei:  
os homes está 'cá razão  
nós arranja outro lugar.”

Assinale a opção que apresenta corretamente a transformação do espaço urbano referida nos versos de Adoniran Barbosa.

- A** A gentrificação da zona central.  
**B** O adensamento do centro urbano.  
**C** A verticalização do espaço urbano.  
**D** A integração de novas áreas.  
**E** O espraiamento da região metropolitana.

56



<http://www.socialnews.it/blog/2017/04/28/meme-nuovo-metodo-di-comunicazione/>  
<https://revistazum.com.br/colunistas/memes>

Meme sobre a proibição do Governo de usar imagens sem créditos para criação de memes do presidente Michel Temer.

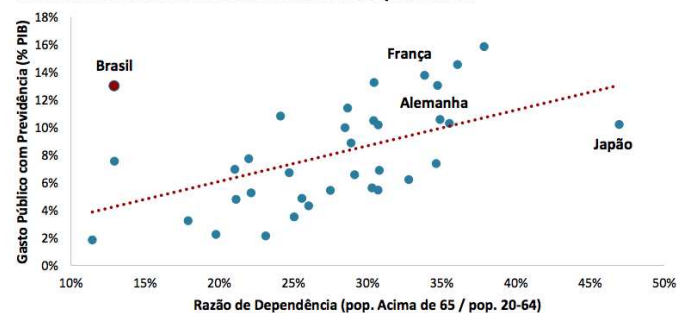
A expressão "meme da internet" é usada para se referir a uma nova forma de comunicação própria do mundo digital, disseminada em campanhas políticas, publicitárias e no âmbito das redes sociais.

Nesse sentido, os memes

- A reforçam valores politicamente corretos que, ao ironizar imagens e falas de ódio, combatem conteúdos racistas e homofóbicos.
- B propõem debates sobre questões atuais que, ao viralizar nas redes sociais, produzem conscientização e aumentam a capacidade de análise.
- C representam uma ideia em forma de conteúdo multimídia que, ao ser compartilhada, confere popularidade e visibilidade a seus autores.
- D constituem comentários de acontecimentos cotidianos que, ao reciclar resíduos de várias mídias, formam uma espécie de noticiário paralelo.
- E são instrumentos políticos digitais que, ao informar a opinião pública, servem para elevar a qualidade da comunicação de massa.

57 O gráfico a seguir mostra a relação entre a porcentagem do PIB gasto com a Previdência Social e a porcentagem da população acima de 65 anos, ou seja, economicamente dependente do sistema previdenciário, em vários países, em 2017. A linha pontilhada em vermelho representa a "razão de dependência" ideal, ou seja, a parcela da população inativa, que deveria ser sustentada pela parcela potencialmente produtiva.

Gastos Previdenciários Totais x Razão de Dependência



Fonte: OCDE, Banco Mundial, ONU

Com relação aos dados apresentados no gráfico, analise as afirmações a seguir.

- I Os gastos previdenciários do Brasil, da França e da Alemanha são equivalentes, mas a crise brasileira é mais grave em função do modelo de capitalização adotado, ao passo que os países citados utilizam o de repartição.
- II Pelo tamanho de sua população idosa, o Brasil é um "ponto fora da curva", pois deveria gastar cerca de 4% do PIB com previdência, mas suas despesas previdenciárias são mais do que o triplo desse percentual.
- III A proporção entre o número de adultos em idade economicamente ativa e de idosos é favorável no Brasil, país demograficamente jovem, mas a aceleração do ritmo de envelhecimento da população agrava a situação da seguridade social.

Está correto o que se afirma em

- A I, apenas.
- B I, II e III.
- C I e II, apenas.
- D II, apenas.
- E II e III, apenas.

58



Manifestação contra o fechamento da fábrica da Ford em Bordeaux (França), em janeiro de 2019 (<https://www.wsj.com>)



Protesto contra o fechamento da fábrica da Ford em São Bernardo do Campo (Brasil), em março de 2019 (<https://www.jornaldocomercio.com>)

A montadora norte-americana Ford anunciou o fechamento de sua fábrica em São Bernardo do Campo, no ABCD paulista, como parte de seu plano de reestruturação global, para enxugar suas operações e preparar-se para uma nova gestão de sua cadeia de produção. Segundo analistas do setor, os carros do futuro serão celulares sobre rodas e não poluentes, razão pela qual as fábricas mais antigas, que demandariam muito investimento para atualizarem sua capacidade produtiva, tendem a ser fechadas.

Com relação à reestruturação do setor automobilístico, em escala mundial e sobre seus efeitos no Brasil, analise as afirmações a seguir.

- I A reestruturação estratégica da Ford exemplifica a busca por maior eficiência e lucratividade, com corte de custos operacionais, priorizando regiões que oferecem melhor escoamento da produção, mão de obra mais barata e boas redes de fornecedores.
- II O fechamento de fábricas da Ford na França e no Brasil exemplifica a transformação global do modelo de produção de veículos, incentivada por mercados que exigem requisitos de sustentabilidade, como carros elétricos e híbridos.
- III Os protestos contra o fechamento das fábricas da Ford mostram a dificuldade de sindicatos, gestores e Estado de controlar e regulamentar o impacto regional dos fluxos de capital e tecnologia da atual globalização.

Está correto o que se afirma em

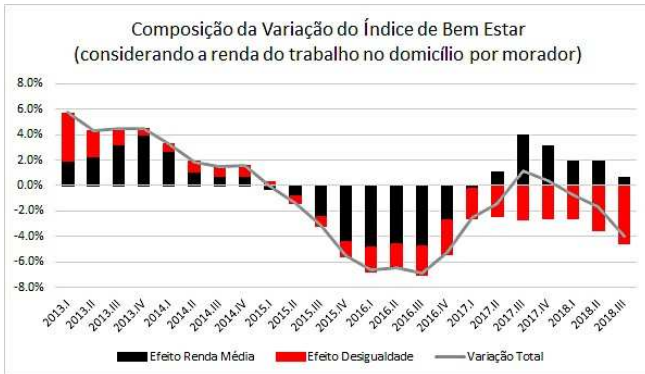
- A II, apenas.
- B I, II e III.
- C I e II, apenas.
- D II e III, apenas.
- E I, apenas.

- 59 Em janeiro de 2019, o presidente da Assembleia Nacional, Juan Guaidó, se autoproclamou presidente interino da Venezuela, desencadeando a escalada de uma crise política interna e internacional: o país possuía dois presidentes reconhecidos internacionalmente.

As afirmações a seguir caracterizam corretamente consequências dessa crise na Venezuela, **à exceção de uma**. Assinale-a.

- A Guaidó foi apoiado pela maior parte das Forças Armadas e de segurança de seu país, que sustentam o pleito para a redemocratização da Venezuela.
- B Representantes do Brasil e do Chile reconheceram a legitimidade de Juan Guaidó, em detrimento da política bolivariana do governo de Maduro.
- C A Rússia e a China apoiaram a permanência de Maduro, em função de seus interesses em salvaguardar os investimentos feitos no país.
- D Juan Guaidó buscou apoio, para sua presidência, na Organização dos Estados Americanos (OEA), solicitando que supervisione as novas eleições.
- E O presidente autoproclamado foi imediatamente apoiado pelos Estados Unidos, que pressionaram pela queda do governo de Maduro.

60 O economista Amartya Sen, preocupado em medir qualidade de vida, propôs um novo índice de bem-estar social: quanto maior a renda média e menor a desigualdade, maior o bem-estar da sociedade, e vice-versa. O gráfico a seguir mostra a variação anual desse índice por trimestre, no Brasil, desagregando-a entre “efeito renda média”, em preto, e “efeito desigualdade”, em vermelho. A variação total é representada pela curva cinza.



Daniel Duque a partir de Microdados da PNAD Contínua in <http://mercadopopular.org>

As afirmações a seguir apresentam interpretações corretas sobre a desigualdade social no Brasil, a partir do gráfico, **à exceção de uma**. Assinale-a.

- A Enquanto a renda média cresceu desde o segundo trimestre de 2017, o efeito do aumento da desigualdade foi superado apenas nos terceiro e quarto trimestres.
- B Em 2018, a desigualdade social voltou a crescer, reforçando a tendência histórica de concentração de renda no Brasil e gerando o desafio de elaborar novas políticas sociais.
- C Em 2018, o índice de bem-estar social caiu, puxado pelo aumento do trabalho informal e dos preços da cesta básica, em função do retorno das altas taxas de inflação e juros.
- D Entre 2015 e 2017, as rendas advindas do trabalho tiveram uma diminuição acentuada, em função da crise econômica, caracterizada por queda do PIB, aumento do desemprego e perda salarial no setor privado.
- E A emenda constitucional do teto de gastos, aprovada em 2016, impactou negativamente os investimentos sociais do governo federal, refletindo um retrocesso no combate à desigualdade.

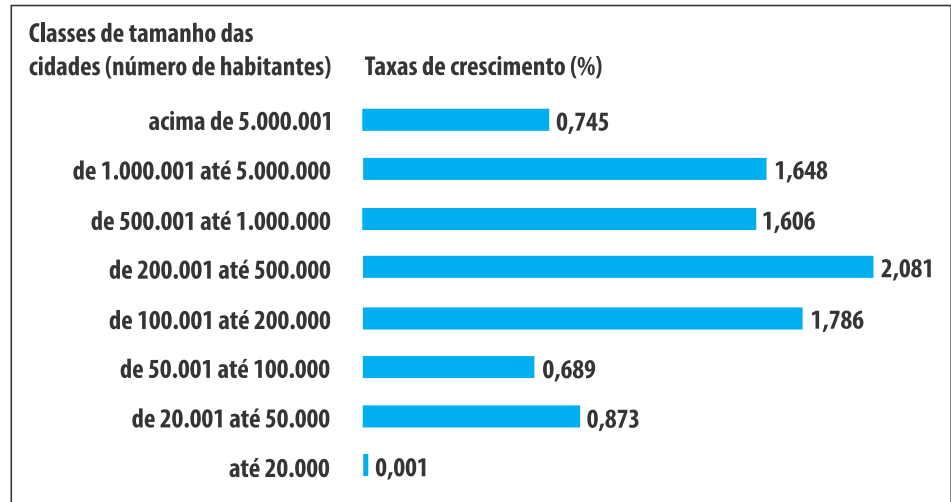


**QUESTÃO 16**



Valor Setorial, nov. 2015.

**QUESTÃO 54**

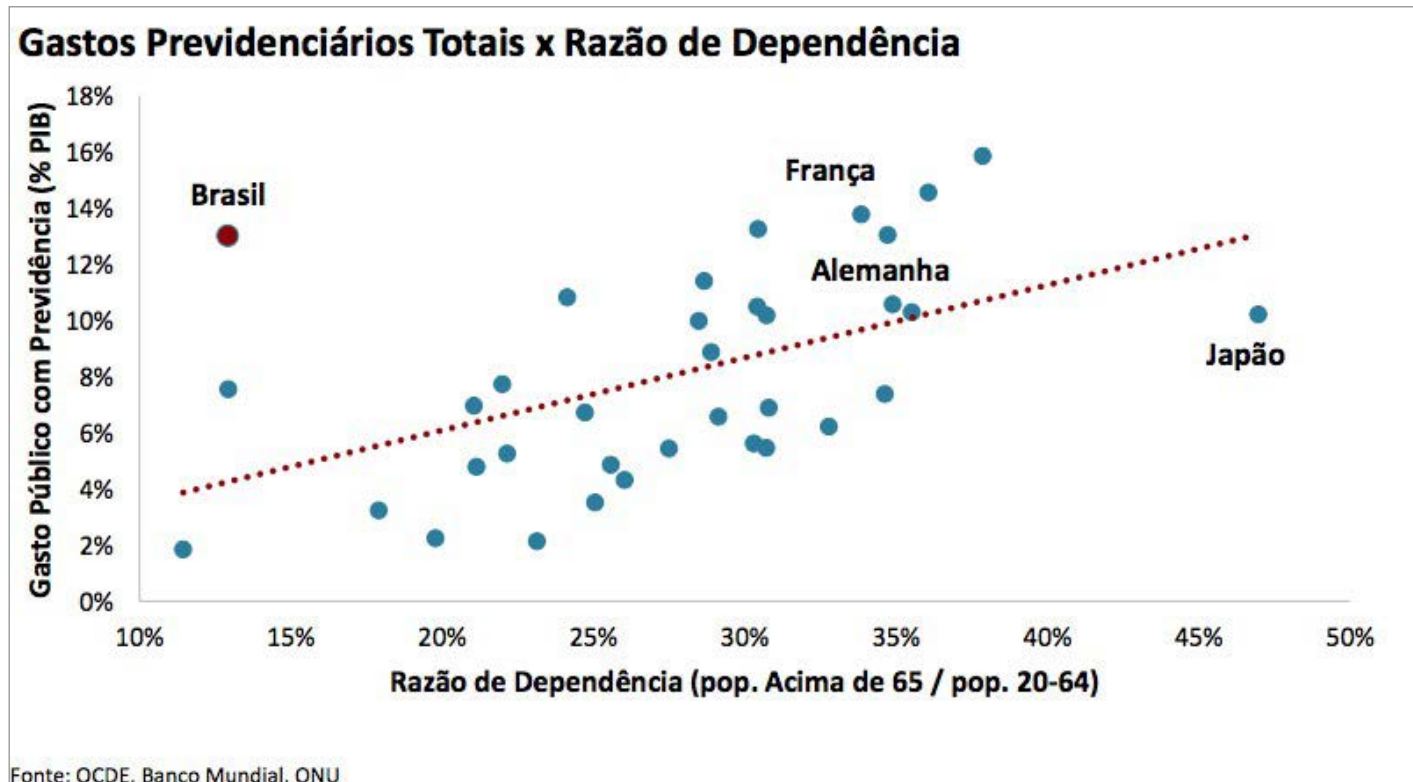


**QUESTÃO 56**




<http://www.socialnews.it/blog/2017/04/28/meme-nuovo-metodo-di-comunicazione/>  
<https://revistazum.com.br/colunistas/memes>

**QUESTÃO 57**



## QUESTÃO 58

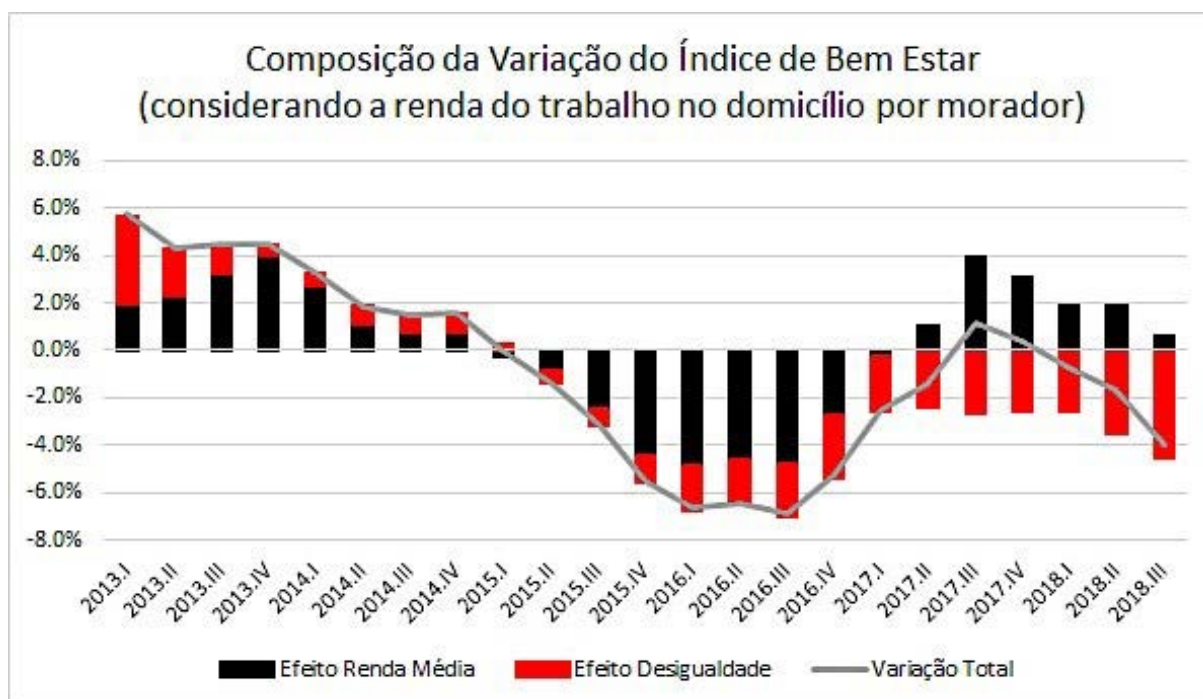


Manifestação contra o fechamento da fábrica da Ford em Bordeaux (França), em janeiro de 2019 (<https://www.wsj.com>)



Protesto contra o fechamento da fábrica da Ford em São Bernardo do Campo (Brasil), em março de 2019 (<https://www.jornaldocomercio.com>)

## QUESTÃO 60



Daniel Duque a partir de Microdados da PNAD Contínua in <http://mercadopopular.org>.