

## Exercícios com Gabarito de Geografia Ásia - China

1) (Fuvest-1995)



"A controversa represa de Três Gargantas, na China, poderá levar até 15 anos para ficar pronta. O nível de água se elevará dezenas de metros no estreito vale, entre as cadeias de montanhas ao longo do rio, destruindo praticamente toda a beleza de Três Gargantas. Será a maior hidrelétrica do mundo."

[O Estado de S. Paulo, 30/10/94]

Considerando-se a direção geral do Yang-Tsé Kiang, temos a leste e a oeste da represa regiões geo-econômicas bastante distintas. Caracterize-as.

2) (UFPR-2001) "O desempenho econômico da China mostrou-se excepcional nos últimos 20 anos: esse país foi um dos maiores receptores mundiais de investimento direto estrangeiro (IDE), o PIB mais do que quintuplicou e 270 milhões de pessoas saíram da pobreza. Já Cuba enfrentou uma crise profunda nos anos 90, quando houve redução do PIB e forte elevação do desemprego. Apesar disso, economistas cubanos avaliam que esse país pode estar iniciando um ciclo de crescimento semelhante ao chinês, pois vem também realizando reformas para atrair capital privado e aumentar a eficiência econômica. No entanto, as reformas cubanas são menos radicais que as chinesas." (Adaptado de TEIXEIRA DA COSTA, J.; VELOSO, F. Cuba, reinserida na economia mundial. (Disponível em: <<http://economia.no.com.br>> Acesso em: 25 jun. 2001.)

Assinale a(s) afirmação(ões) que reproduz(em) corretamente as características dos processos de transição em curso nos dois países mencionados.

A economia de Cuba entrou em crise devido ao colapso da URSS, já que a economia soviética subsidiava fortemente as importações e exportações cubanas, por razões geopolíticas.

O embargo econômico norte-americano é um dos maiores empecilhos à inserção internacional de Cuba.

A reestruturação chinesa se baseia na privatização de empresas estatais e na atração de investimentos privados externos que foram aplicados sobretudo nos setores de calçados e de vestuário.

Em Cuba, a entrada de IDE tem sido condicionada à formação de *joint-ventures* entre empresas multinacionais e estatais (com controle acionário estatal) e se concentra principalmente na indústria do fumo e no turismo.

A orientação política do movimento reformista implementado na China e em Cuba nas últimas décadas é a democratização.

China e Cuba apresentam indicadores sociais muito melhores que os de países subdesenvolvidos em geral, mas, em termos estritamente econômicos, exibem perfis típicos do subdesenvolvimento, posto que dependem de setores de baixo conteúdo tecnológico e intensivos em mão-de-obra barata e em recursos naturais.

3) (Fuvest-2005)



"O Brasil e a China acabam de ficar mais próximos".

- Explique as características econômicas da China atual.
- Quais os interesses do Brasil em se aproximar da China?

4) (UFMG-2005) A aceleração do crescimento econômico da China, nos últimos anos, reflete-se na economia mundial por razões diversas. Considerando-se essa afirmação, é INCORRETO afirmar que tal aceleração

- é autônoma em relação ao capital internacional, pois estabelece um sistema financeiro paralelo, que vem se firmando como modelo para as economias regionais.
- interfere na balança comercial de países emergentes, uma vez que reduz a taxa de exportações desse grupo para os países mais industrializados.

C) provoca aumento da demanda de matérias-primas e de produtos agrícolas no mercado internacional, afetando os preços praticados nesses itens.

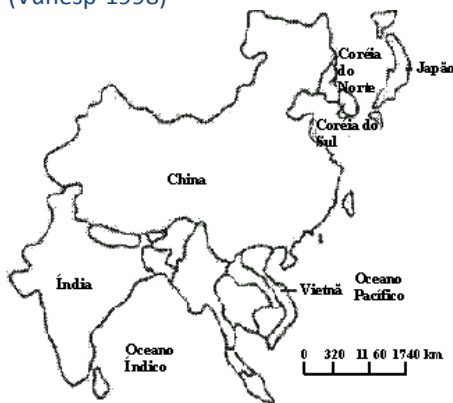
D) resulta em um consumo maior de petróleo, o que contribui para a alta do preço da energia e, conseqüentemente, para a elevação dos custos de produção nos processos industriais.

5) (UFMG-2005) A aceleração do crescimento econômico da China, nos últimos anos, reflete-se na economia mundial por razões diversas. Considerando-se essa afirmação, é INCORRETO afirmar que tal aceleração A) é autônoma em relação ao capital internacional, pois estabelece um sistema financeiro paralelo, que vem se firmando como modelo para as economias regionais. B) interfere na balança comercial de países emergentes, uma vez que reduz a taxa de exportações desse grupo para os países mais industrializados.

C) provoca aumento da demanda de matérias-primas e de produtos agrícolas no mercado internacional, afetando os preços praticados nesses itens.

D) resulta em um consumo maior de petróleo, o que contribui para a alta do preço da energia e, conseqüentemente, para a elevação dos custos de produção nos processos industriais.

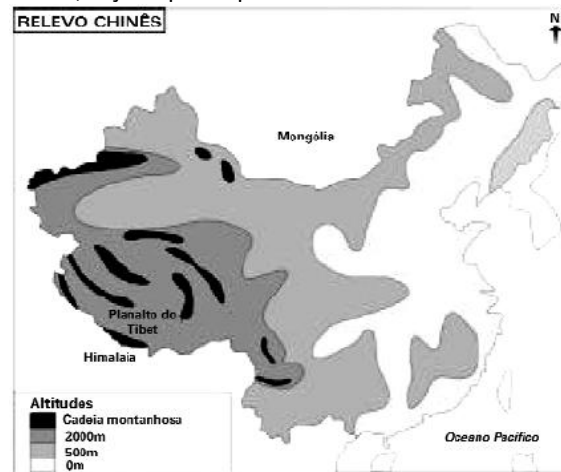
6) (Vunesp-1998)



A cidade asiática, assinalada no mapa com o número 1, foi recentemente incorporada à China e era administrada, até julho de 1997, por um país europeu, tornando-se um grande centro financeiro do mundo capitalista. Assinale a alternativa que apresenta os nomes desta cidade e do país europeu envolvido com o seu desenvolvimento econômico:

- Cingapura; França.
- Seul; Holanda.
- Pequim; Bélgica.
- Hong Kong; Inglaterra.
- Taiwan; Espanha.

7) (UNICAMP-2005) A República Popular da China está situada na porção centro-oriental da Ásia Oriental e o seu relevo caracteriza-se por grandes contrastes altimétricos, diversidade climática e grandes bacias hidrográficas, como as dos rios Yang-tsé-Kiang ou rio Azul e do rio Hoang-Ho ou rio Amarelo. A partir dessas informações e do mapa abaixo, faça o que se pede:



Adaptado de Paulo Roberto Moraes, Geografia Geral e do Brasil. São Paulo: Harbra, p. 664.

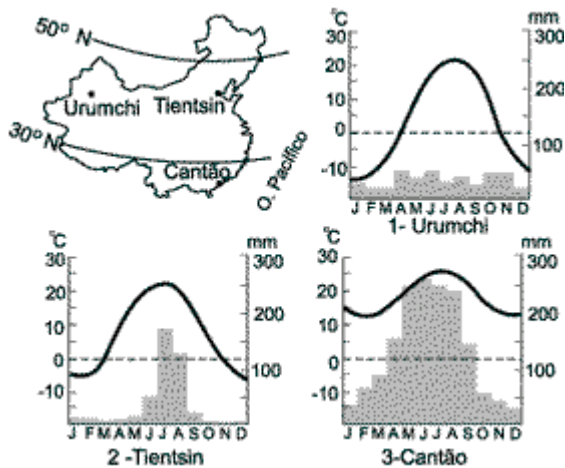
- Uma das unidades morfológicas da China é o Planalto do Tibet, um dos mais altos do mundo, com cotas altimétricas superiores a 4.000m de altitude. Por que o Planalto do Tibet é um dos mais altos do mundo?
- Por que o tipo climático predominante no norte e noroeste chinês é diferente do tipo climático que ocorre no sul da China?
- Por que o rio Hoang-Ho é chamado de rio Amarelo?

8) (FGV-2005) A viagem do presidente à China, no primeiro semestre de 2004, aumentou a atenção sobre esse país, que é a mais evidente das potências em ascensão, com um crescimento da ordem de 9% ao ano. Há, inclusive, uma expectativa de que a economia chinesa possa atingir o dobro do tamanho da alemã na próxima década. Mesmo assim, o país tem de administrar uma série de problemas causados pelo rápido crescimento, dentre os quais citam-se:

- a concorrência acirrada com a Coreia do Sul, também emergente, e a eliminação do protecionismo estatal às indústrias de ponta.
- a redução dos investimentos estrangeiros no setor produtivo e a forte flutuação do câmbio, o que tem afetado as exportações.
- as questões geopolíticas com a Coreia do Norte, equipada com armas nucleares, e a diminuição dos subsídios estatais às indústrias de base.
- a crescente mobilização dos trabalhadores, no sentido de reivindicar melhores salários, e as pressões da OMC sobre as políticas de dumping.

E) o inchaço das cidades, provocado pelo êxodo rural, e a crescente escassez de recursos fundamentais como petróleo e eletricidade.

9) (Fuvest-1999)



Analisando-se o mapa da China e os gráficos de temperatura e pluviosidade, é possível inferir-se os seguintes tipos de clima:

- |                     |                      |                     |
|---------------------|----------------------|---------------------|
| 1 - Urumchi         | 2 - Tientsin         | 3 - Cantão          |
| a) Frio de Montanha | Tropical de Altitude | Temperado           |
| b) Desértico        | Temperado            | Tropical de Monções |
| c) Desértico        | Tropical de Monções  | Subtropical         |
| d) Frio de Montanha | Tropical de Monções  | Tropical Úmido      |
| e) Frio de Montanha | Tropical de Altitude | Temperado           |

10) (Vunesp-2000) Apesar do intenso crescimento industrial, a agricultura ainda é importante para a economia chinesa. Indique a alternativa que caracteriza o tipo de clima da China Meridional e o principal produto agrícola ali cultivado.

- A) Equatorial; arroz.
- B) Temperado continental; café.
- C) Subtropical; cana-de-açúcar.
- D) Tropical monçônico; arroz.
- E) Semi-árido; chá.

11) (UFRJ-1999)



Aproximadamente 20% da população mundial vive na China sob o regime comunista.

- . No entanto, no território do Estado chinês existem regiões e cidades que adotam práticas capitalistas.
- . Em meados de 1997, Hong Kong, um dos maiores centros financeiros mundiais, voltou ao controle do Estado chinês, sem alterar sua condição econômica anterior.

Apresente duas razões para que a China mantenha práticas capitalistas em algumas áreas do seu território.

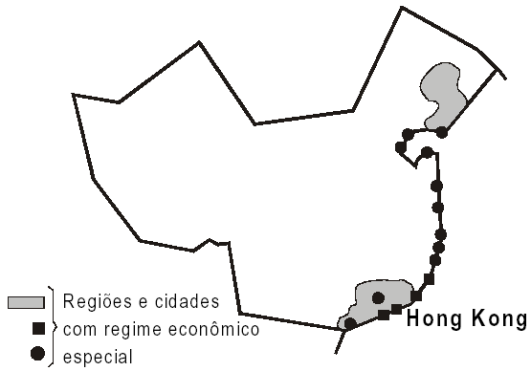
12) (UNIFESP-2003) Assinale a alternativa que relaciona corretamente a tabela com alterações verificadas na China.

Exportação (%)	1974	1986	2000
Agricultura	42,4	16,2	7,8
Energia	16,3	8,4	2,8
Manufatura	47,5	71,4	87,3

(L'État du Monde, 2001)

- Nas últimas décadas, o país
- (A) transformou-se em uma plataforma de exportação de produtos industrializados, com participação de capital externo.
  - (B) passou por uma abertura comercial que resultou no incremento do mercado interno, em detrimento das exportações.
  - (C) democratizou-se, a ponto de garantir o acesso a bens manufaturados à população chinesa.
  - (D) diminuiu as vendas de produtos agrícolas, em função da maciça migração do campo para suas principais cidades.
  - (E) baixou suas vendas de produtos energéticos para fornecer energia a Taiwan, que considera seu território.

13) (UFRJ-1999) China - um país, dois sistemas



Aproximadamente 20% da população mundial vive na China sob o regime comunista. No entanto, no território do Estado chinês existem regiões e cidades que adotam práticas capitalistas. Em meados de 1997, Hong Kong, um dos maiores centros financeiros mundiais, voltou ao controle do Estado chinês, sem alterar sua condição econômica anterior.

Apresente duas razões para que a China mantenha práticas capitalistas em algumas áreas do seu território.

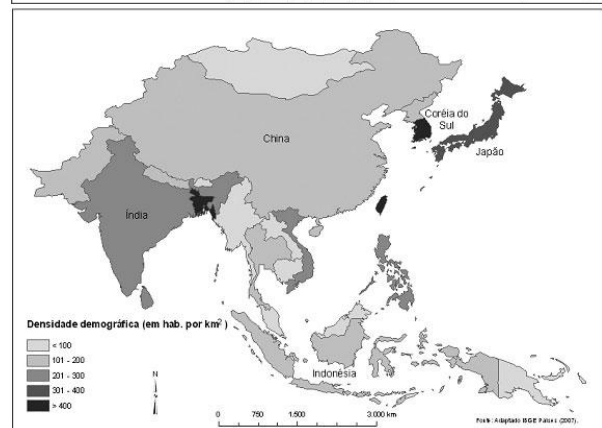
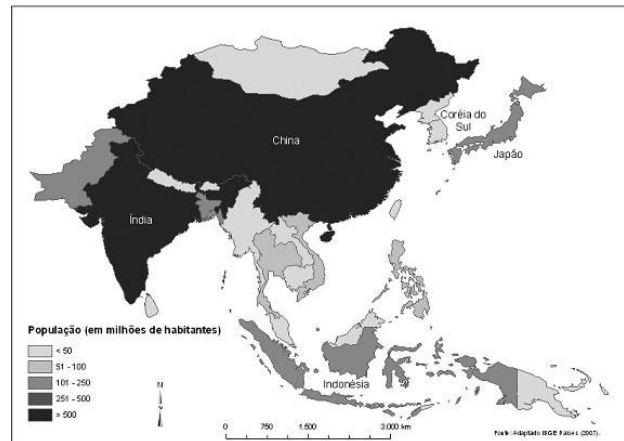
**14) (UEL-2006)** Com base nos conhecimentos sobre a China e a Índia, os dois países mais populosos do mundo, considere as afirmativas a seguir.

- I. Os dois países enfrentam conflitos territoriais, com potencial para desestabilizar as relações internacionais na região, e, no caso indiano, o problema tem fundamento religioso.
- II. Quanto ao controle do crescimento populacional, China e Índia desenvolvem programas de controle da natalidade semelhantes, limitando dois filhos por casal.
- III. Na última década, China e Índia apresentaram taxas de crescimento de seus respectivos Produtos Internos Brutos (PIB) acima da média mundial.
- IV. Dentre os dois países, apenas a Índia tem tido sucesso em atrair investimentos diretos de capital, pois a China enfrenta problemas nesse setor, devido às características particulares de seu regime político.

Estão corretas apenas as afirmativas:

- a) I e II.
- b) I e III.
- c) II e IV.
- d) I, III e IV.
- e) II, III e IV.

**15) (UNICAMP-2008)** Com base nos mapas apresentados a seguir,



- a) analise a informação representada em cada mapa, considerando a situação da China e da Coréia do Sul;
- b) justifique as diferenças encontradas na comparação entre as informações representadas em cada mapa.

**16) (Vunesp-2000)** Com relação às características populacionais do Japão, é verdadeiro afirmar que apresenta

- A) alta taxa de natalidade, alta densidade demográfica e baixa expectativa de vida.
- B) alta taxa de crescimento vegetativo, baixa densidade demográfica e predomínio de população rural.
- C) baixa taxa de crescimento vegetativo, alta expectativa de vida e predomínio de população urbana.
- D) grande fluxo emigratório, predomínio de população urbana e baixa densidade demográfica.
- E) alta taxa de mortalidade, predomínio de população rural e alta expectativa de vida.

**17) (FGV-2005)** Considerando dois cursos fluviais hipotéticos, o rio Amarelo (de planície) e o rio Azul (de planalto) e, considerando as seguintes características e/ou usos a eles relacionados, como:

- 1) maior gradiente fluvial
- 2) maior potencial hidroviário
- 3) erosibilidade mais acentuada
- 4) acúmulo maior de sedimentos
- 5) maior potencial hidroelétrico

6) ocorrência de meandros abandonados, escolha a alternativa que apresente as características e/ou usos mais adequados a cada um deles, comparativamente, a despeito de intervenções humanas:

- A) Rio Amarelo: 1, 2 e 6; Rio Azul: 3, 4 e 5.
- B) Rio Amarelo: 2, 5 e 6; Rio Azul: 1, 3 e 4.
- C) Rio Amarelo: 3, 4 e 6; Rio Azul: 1, 2 e 5.
- D) Rio Amarelo: 2, 4 e 6; Rio Azul: 1, 3 e 5.
- E) Rio Amarelo: 1, 2 e 3; Rio Azul: 4, 5 e 6.

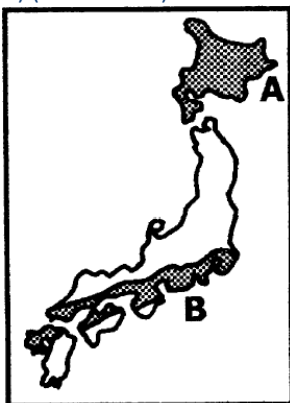
18) (UFSCar-2004) Considerando-se a China atual, avalie os cinco itens seguintes.

- I. Existência de grande mercado consumidor e potencial aumento do consumo per capita.
- II. Predomínio da população urbana, elevando a oferta de trabalhadores e diminuindo os custos da mão-de-obra.
- III. Expansão industrial em zonas econômicas especiais, com a presença de investimentos estrangeiros.
- IV. Controle total do Estado sobre a agricultura e crescente expansão da mecanização no campo.
- V. Localização privilegiada junto às economias de crescimento acelerado do sudeste asiático.

Assinale a alternativa que contém as três características que melhor representam a situação da economia chinesa, na atualidade.

- A) I, II e III.
- B) I, III e V.
- C) III, IV e V.
- D) II, III e V.
- E) I, II e IV.

19) (Mack-2002)



Considere as seguintes afirmações sobre as áreas A e B destacadas no mapa do Japão.

- I — A área A caracteriza-se pelo clima frio, provocado pela alta latitude e pela influência de correntes marítimas frias.
- II — A área B apresenta climas que variam dos temperados úmidos aos subtropicais.
- III — A área A é constituída por planícies aproveitadas para o cultivo de cereais, como o arroz.

IV — A área B corresponde à principal concentração urbano-industrial do país.

V — A área A apresenta baixas densidades demográficas.

VI — Apesar dos marcantes contrastes naturais, A e B não se diferenciam do ponto de vista demográfico.

Assinale:

- a) se apenas I, II e VI forem verdadeiras.
- b) se apenas I, II, III, IV e V forem verdadeiras.
- c) se apenas II, IV e VI forem verdadeiras.
- d) se apenas I, III e V forem verdadeiras.
- e) se apenas I, II, IV e V forem verdadeiras.

20) (PASUSP-2009) Em maio de 2008, um grande terremoto abalou a região central da China, provocando a morte de mais de 80.000 pessoas. Sua ocorrência foi motivada pelo movimento das placas tectônicas. Além da destruição e das mortes provocadas pelo terremoto, também foram postos em destaque aspectos da política de planejamento familiar da China que resultou na redução acentuada das taxas de natalidade. Tal política de controle da natalidade, em vigor há mais de 30 anos, apresenta como uma de suas principais medidas a proibição de os casais terem mais de um filho, estabelecendo pesadas penalidades para quem não o cumpre a lei. Como muitos casais perderam o seu único filho com o terremoto, as autoridades governamentais decidiram flexibilizar a política, permitindo que as famílias atingidas tenham outro filho.

Com base nos seus conhecimentos e nas informações acima, assinale a alternativa correta:

- a) A China adotou há décadas um planejamento rígido de controle familiar, limitando a quantidade de filhos a um por família.
- b) Os terremotos são raros na China, pois as placas tectônicas estão situadas em áreas muito distantes do território chinês.
- c) O terremoto foi causado por uma atividade vulcânica e, apesar de ter fraca intensidade, provocou sérios danos e atingiu grande número de pessoas.
- d) A política de controle familiar na China não tem apresentado resultados significativos referentes à redução das taxas de natalidade.
- e) O terremoto ocorrido na China foi um evento de ordem natural e não motivou a flexibilização da política de controle da natalidade.

21) (Simulado Enem-2009) Figuram no atual quadro econômico mundial países considerados economias emergentes, também chamados de novos países industrializados. Apresentam nível considerável de industrialização e alto grau de investimentos externos, no entanto as populações desses países convivem com estruturas sociais e econômicas arcaicas e com o agravamento das condições de vida nas cidades. As principais economias emergentes que despertam o interesse dos empresários do mundo são: Brasil, Rússia,

Índia e China (BRIC). Tais países apresentam características comuns, como mão-de-obra abundante e significativas reservas de recursos minerais.

Diante do quadro apresentado, é possível inferir que a reunião desses países, sob a sigla BRIC, aponta para a) um novo sistema socioeconômico baseado na superação das desigualdades que conferiam sentido à ideia de Terceiro Mundo.

b) a razoabilidade do pleito de participarem do Conselho de Segurança da Organização das Nações Unidas (ONU).

c) a melhoria natural das condições sociais em decorrência da aceleração econômica e da redução dos níveis de desemprego.

d) a perspectiva de que se tornem, a médio prazo, economias desenvolvidas com uma série de desafios comuns.

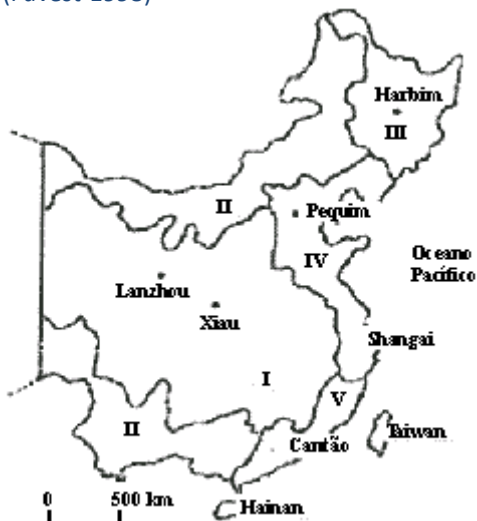
e) a formação de uma frente diplomática com o objetivo de defender os interesses dos países menos desenvolvidos.

**22) (Fuvest-2001)** Grandes eventos esportivos atraem a atenção de muita gente e por isso acabam sendo palco de manifestações políticas. Nos Jogos Olímpicos de Sidney (2000), não foi diferente quando a Coreia do Norte e a Coreia do Sul desfilaram juntas na abertura, gerando um dos momentos de maior emoção do espetáculo.

a) Compare os dois países quanto à economia e à política.

b) Explique o significado do desfile conjunto desses 2 países no contexto político atual.

**23) (Fuvest-1998)**



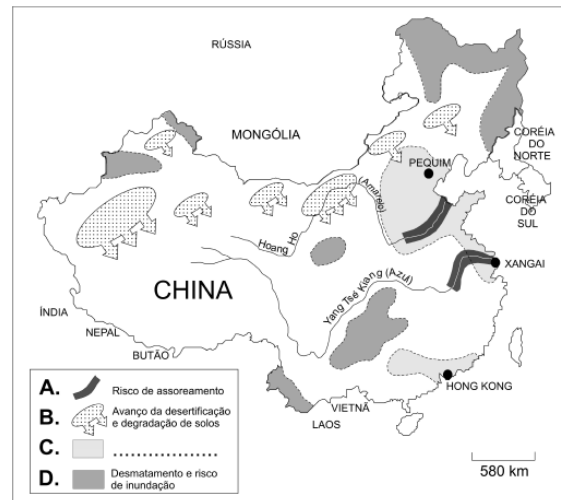
Identifique a região industrial que antes de 1997 já era responsável por 30% das exportações do país. Atualmente, com a passagem de Hong Kong para a administração chinesa a importância dessa região aumentou consideravelmente. Trata-se da região:

- a) I
- b) II
- c) III
- d) IV

e) V

**24) (FUVEST-2007)** Leia o mapa.

**PRINCIPAIS PROBLEMAS AMBIENTAIS DA CHINA**

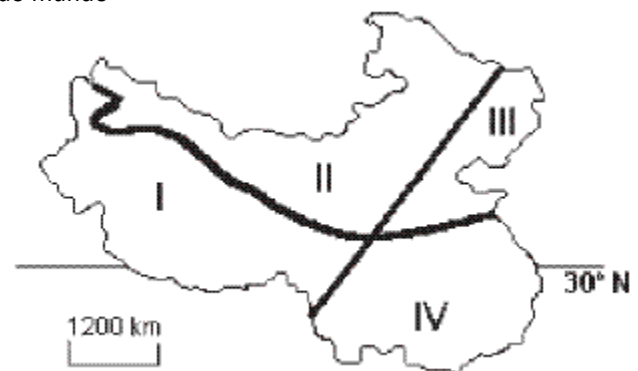


Fonte: **Journal of Environment** (2003 e 2004).

a) Indique a legenda correta para o problema ambiental representado em C.

b) Desenvolva uma análise que relacione características básicas da atual economia da China ao problema ambiental representado em C.

**25) (Fuvest-2003)** Na década de 1990, a China, segundo país em extensão territorial e com cerca de 20% da população do mundo



a) representou uma parcela importante do mercado mundial, embora seu mercado interno não tenha incorporado nem 1/3 da sua população, majoritariamente urbana, na região I, de clima tropical.

b) incrementou o comércio internacional, atraindo investimentos estrangeiros, extinguindo o controle migratório e desenvolvendo produção de trigo nas terras altas da região II.

c) passou por graves crises de crescimento econômico que afetaram, sobretudo, as áreas altas e secas, assinaladas em

III, onde se localizam as minorias nacionais, como tibetanos e chineses muçulmanos.

d) revelou expressivo crescimento econômico e taxa baixa de crescimento demográfico, apresentando clima subtropical com grandes áreas de agricultura irrigada, na região IV.

e) coletivizou as atividades econômicas, reafirmando os valores de sua revolução, desenvolvendo a agricultura irrigada na região III, de clima continental e de baixa densidade demográfica.

#### 26) (UFRJ-2006)



Na Zona Econômica Especial (ZEE) de Pudong, que ocupa 500 km<sup>2</sup> na costa chinesa, está sendo construído o maior centro financeiro, industrial e comercial do Extremo Oriente. Antes do fim do ano, cerca de cem entidades financeiras da Europa e dos Estados Unidos se somarão às 200 que já operam na ZEE, considerada uma das maiores captadoras de investimentos na Ásia.

Apresente uma vantagem oferecida pelo Estado chinês para atrair capitais transnacionais para Pudong.

#### 27) (UEPB-2006)



National Geographic, set. 2003. - Crianças tibetanas brincando com jogos eletrônicos.

A primeira leitura da foto nos remete ao seu aspecto mais evidente, ou seja, que a globalização chega a todos os lugares.

Porém, podemos também destacar:

- a) A forte influência que o Dalai Lama ainda exerce sobre o povo tibetano.
- b) O papel desempenhado pela informação no meio atual, capaz de exercer pressão à invasão chinesa, através da mobilização mundial da opinião pública.
- c) O destaque dado à informática na formação dos jovens orientais.
- d) O papel que a cultura exerce na vida dos povos, a qual, mesmo sofrendo os efeitos da globalização, constitui um importante elemento de resistência à completa massificação.
- e) A força da ideologia e da disciplina budista como mecanismo de resistência ao exército chinês.

28) (VUNESP-2009) No ano de 2006, a China, com 6,2 bilhões de t/ano, tornou-se o principal emissor mundial de gases-estufa, superando os Estados Unidos (5,8 bilhões de t/ano), segundo dados divulgados pela ONU em 2008. Assinale a alternativa que contém um dos fatores do aumento chinês de emissões de gases-estufa.

- a) Desmatamento acelerado em todo o país para o cultivo de arroz irrigado.
- b) Geração de energia, principalmente por queima de carvão mineral, o mais poluente dos combustíveis fósseis.
- c) Matriz energética baseada apenas no petróleo, por ser um dos principais produtores mundiais.
- d) Maior frota mundial de veículos agrícolas, o que a coloca como uma das agriculturas mais mecanizadas da Ásia.
- e) Grande aumento da área de pastagens em todo o país, para atender ao mercado asiático de carne.

29) (Vunesp-1996) No mundo, cerca de 430 usinas nucleares estão em operação e 100 estão sendo construídas. Na ex-Alemanha Ocidental, novas usinas estão severamente proibidas. Na Suécia, como resultado de um plebiscito nacional, todas serão fechadas até o ano 2010. Em setembro de 1993, firmou-se em Genebra um acordo entre os países que utilizam energia atômica, para banir definitivamente todos os testes nucleares. Assinale a alternativa que indica países que ainda continuam realizando os referidos testes.

- a) Canadá e Estados Unidos.
- b) Lituânia e Rússia.
- c) Noruega e Reino Unido.
- d) China e França.
- e) Austrália e Japão.

30) (VUNESP-2010) Nunca na história da humanidade houve tão grande concentração de poder nuns poucos

lugares nem tamanha separação e diferença no interior da comunidade humana. Formou-se um mundo quase totalmente integrado — um sistema mundo — evidentemente controlado a partir de alguns centros de poderes econômicos e políticos.  
(Olivier Dollfus, 1994. Adaptado.)

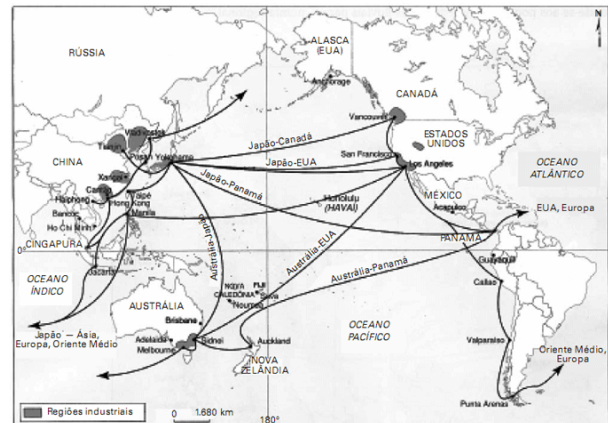
Neste sistema mundo contemporâneo pode-se identificar que

- a) as maiores potências nucleares do século XXI são: Estados Unidos, França, Canadá, Japão, Alemanha, Índia e Paquistão.
- b) o Ocidente não tem medo da proliferação de armas nucleares principalmente em regimes hostis aos Estados Unidos.
- c) o Irã, a Síria e o Mianmar formam um grupo de países que abrem mão de seus projetos voltados à proliferação da tecnologia de armas nucleares.
- d) a Coreia do Norte tem grande dependência da China, por ser esta a maior exportadora de alimentos e energia aos norte-coreanos.
- e) a paz entre os palestinos e Israel depende apenas de acordos com os EUA.

**31) (UFPR-2002)** O desempenho econômico da China mostrou-se excepcional nos últimos 20 anos: esse país foi um dos maiores receptores mundiais de investimento direto estrangeiro (IDE), o PIB mais do que quintuplicou e 270 milhões de pessoas saíram da pobreza. Já Cuba enfrentou uma crise profunda Assinale a(s) afirmação(ões) que reproduz(em) corretamente as características dos processos de transição em curso nos dois países mencionados.

- ( ) A economia de Cuba entrou em crise devido ao colapso da URSS, já que a economia soviética subsidiava fortemente as importações e exportações cubanas, por razões geopolíticas.
- ( ) O embargo econômico norte-americano é um dos maiores empecilhos à inserção internacional de Cuba.
- ( ) A reestruturação chinesa se baseia na privatização de empresas estatais e na atração de investimentos privados externos que foram aplicados sobretudo nos setores de calçados e de vestuário.
- ( ) Em Cuba, a entrada de IDE tem sido condicionada à formação de joint-ventures entre empresas multinacionais e estatais (com controle acionário estatal) e se concentra principalmente na indústria do fumo e no turismo.
- ( ) A orientação política do movimento reformista implementado na China e em Cuba nas últimas décadas é a democratização.
- ( ) China e Cuba apresentam indicadores sociais muito melhores que os de países subdesenvolvidos em geral, mas, em termos estritamente econômicos, exibem perfis típicos do subdesenvolvimento, posto que dependem de setores de baixo conteúdo tecnológico e intensivos em mão-de-obra barata e em recursos naturais.

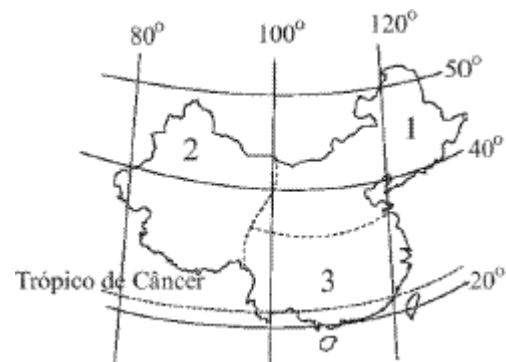
**32) (FGV - SP-2010)** O mapa a seguir apresenta as principais regiões industriais e as rotas comerciais da Bacia do Pacífico.



Fonte: CHALIAND, Gérard e RAGEAU, Jean-Pierre. Atlas strategique. Paris: Complexe, 1994

- a) Avalie a importância dessas rotas comerciais na estruturação geoeconômica do mundo atual.
- b) Diferencie o perfil produtivo das zonas industriais situadas no litoral chinês (Zonas Econômicas Especiais - ZEE) em relação às localizadas na região de São Francisco a Los Angeles, nos Estados Unidos.
- c) O que o Brasil tem feito para neutralizar seu relativo isolamento em relação às rotas comerciais da Bacia do Pacífico?

**33) (Vunesp-2004)** Observe a posição geográfica da China com relação às coordenadas geográficas e a três representações climato-botânicas, a, b e c.







- a) Considerando os extremos do país, qual é a amplitude latitudinal? Qual a consequência dessa amplitude sobre as características do clima, do solo e da vegetação do país?
- b) Faça a correspondência correta entre as características climato-botânicas, representadas nas figuras a, b e c, e as regiões 1, 2 e 3 assinaladas no mapa, indicando as diferenças sazonais em cada uma delas.

34) (UFSCar-2000) Observe a tabela.

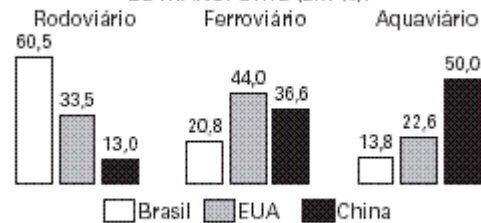
	1949	1999
População	540 milhões	1,230 bilhão
Expectativa de vida	35 anos	71 anos
População urbana	12,4%	30%
Analfabetismo de jovens	50%	5,5%
Produção de aço	15.000 ton	11.559.000 ton
Petróleo cru	—	16.100.000 ton
Carvão	3.200 ton	125.000 ton

As transformações socioeconômicas e populacionais expressas na tabela ocorreram

- A) no Japão.  
 B) nos Estados Unidos.  
 C) na Índia.  
 D) na China.  
 E) na Indonésia.

35) (Vunesp-2004) Observe o gráfico, que contém a distribuição das cargas entre diversas modalidades de transporte em três países com grande extensão territorial.

DISTRIBUIÇÃO DAS CARGAS ENTRE AS MODALIDADES DE TRANSPORTE (EM %).



(Ministério dos Transportes, Empresa Brasileira de Planejamento de Transporte – Geipot, Confederação Nacional dos Transportes – CNT.)

- a) Identifique a principal modalidade de transporte utilizada em cada um dos países, analisando-as em termos de custos.
- b) Como cada país complementa sua principal opção de transporte? Considerando os custos de cada um dos meios de transporte, em qual dos três países a opção é mais adequada?

36) (FUVEST-2010) Sobre os muçulmanos que vivem na África e Ásia é correto afirmar:

	África	Ásia
a)	A grande concentração está no norte do continente, mas tem ocorrido aumento dessa população nos países subsaarianos.	No oeste da China, centenas de muçulmanos, da etnia uigur, foram mortos em conflitos ocorridos em julho deste ano.
b)	Após a eliminação do apartheid, na África do Sul, os muçulmanos deixaram de ser marginalizados nesse país.	As peregrinações anuais a Meca foram suspensas, nos últimos cinco anos, devido a ataques terroristas.
c)	A grande concentração está no norte do continente, mas tem ocorrido aumento dessa população nos países subsaarianos.	Em agosto deste ano, os muçulmanos do grupo Taleban assumiram o governo no Afeganistão, desestruturando outros grupos políticos, não muçulmanos.
d)	Após a eliminação do apartheid, na África do Sul, os muçulmanos deixaram de ser marginalizados nesse país.	No oeste da China, centenas de muçulmanos da etnia uigur, foram mortos em conflitos ocorridos em julho deste ano.
e)	Os conflitos de Darfur, no Sudão, com milhares de refugiados, são consequência de embates tribais entre muçulmanos.	Em agosto deste ano, os muçulmanos do grupo Taleban assumiram o governo no Afeganistão, desestruturando outros grupos políticos, não muçulmanos.

## GABARITO

1) A leste da represa temos o predomínio das planícies do clima úmido, de grandes concentrações populacionais e a maior parte da produção agrícola e industrial do país, já na porção situada a oeste da usina o relevo é montanhoso com grandes altitudes, o clima é frio e seco e as densidades demográficas são baixas.

2) V-V-V-V-F-V

3) a) Atualmente a China ocupa uma posição de grande destaque na economia mundial graças ao seu intenso crescimento verificado nas últimas duas décadas. Convém citar que esse ritmo de crescimento pode ser ameaçado pelas limitações da infra-estrutura, com destaque para a questão energética, e pela escassez de matérias-primas. Sua economia é marcada pela forte presença de indústrias estrangeiras nas Zonas Econômicas Especiais (ZEEs), atraídas pela abertura econômica da década de 1980, pela mão-de-obra barata e pelo grande potencial do mercado consumidor. No setor agropecuário, o país se destaca entre os maiores produtores mundiais de grãos, aves e suínos, atividades que absorvem a maior parte da População Economicamente Ativa. Em 2001 a China foi admitida na OMC, reforçando a sua intenção de ser vista como economia de mercado; isso a levou a reduzir o protecionismo e os subsídios, a abrir seu enorme mercado às importações e a permitir investimentos estrangeiros em vários setores como telecomunicações e bancos.  
b) Os interesses do Brasil, ao se aproximar da China, estão relacionados ao fato de aquele país representar um grande mercado consumidor para as suas exportações de *matérias-primas*, como a soja e o ferro.

4) Alternativa: A

5) Alternativa: A

6) Alternativa: D

7) a) O Planalto do Tibet está localizado em áreas de dobramentos modernos. Essa origem recente determina a pouca ação dos agentes modeladores do relevo, justificando as cotas altimétricas superiores a 4.000m.  
b) O sul da China está submetido à ação dos ventos de monções (chuvas de verão e de secas no inverno) e se encontra em baixas latitudes (maiores temperaturas), sendo cortado pelo trópico de Câncer. Os climas do norte e do noroeste se diferenciam dos encontrados no sul devido à maior latitude (invernos mais rigorosos) e, no caso o interior (noroeste), também à ação da continentalidade, que determina redução acentuada das precipitações.  
c) O rio Hoang-Ho corta uma região coberta por solos de *loess*, que têm cor amarelada. A presença de sedimentos

provenientes desse solo torna o rio barrento, assumindo a cor amarelada.

8) Alternativa: E

9) Alternativa: B

10) Alternativa: D

11) Necessidade de manter relações comerciais com países capitalistas e a oportunidade de fazer experiências com uma economia de mercado.

12) Alternativa: A

13) Dentre as razões para a adoção de práticas capitalistas em territórios especiais encontramos: atrair capitais, adotar tecnologias avançadas, modernizar a gestão empresarial e qualificar a mão-de-obra.

14) Alternativa: B

15) Resposta:

a) Observando-se a legenda do mapa de distribuição da população verifica-se que a China possui uma população maior que 500 milhões de habitantes. Trata-se do país de maior população no mundo (1.315.844.000 hab. em 2005), enquanto a Coréia do Sul apresenta uma população menor que 50 milhões de habitantes (47.817.000 hab. em 2005). Já no mapa de densidade demográfica, observa-se que a China apresenta densidade entre 101 e 200 habitantes por  $\text{km}^2$  (137 hab./ $\text{km}^2$ ). No caso da Coréia do Sul, a densidade demográfica (482 hab./ $\text{km}^2$ ) verificada é acima de 400 habitantes por  $\text{km}^2$ .

b) No caso do mapa de distribuição da população, considera-se a população absoluta, ou seja, o número total de habitantes do país. Já na densidade demográfica, considera-se a divisão do valor de população absoluta pela área do país, o que significa que, embora a China apresente uma expressiva população absoluta, sua dimensão territorial (9.596.961  $\text{km}^2$ ) também é significativa, fazendo com que a densidade demográfica não seja comparativamente tão alta. A Coréia do Sul, embora não apresente uma população absoluta tão elevada, tem um território relativamente pequeno (99.016  $\text{km}^2$ ), o que faz com que a densidade demográfica registrada seja elevada.

16) Alternativa: C

17) Alternativa: D

18) Alternativa: B

19) Alternativa: E

20) Alternativa: A

21) Alternativa: D

22) a) Com o final da Segunda Guerra Mundial em 1945, a Coreia foi dividida em duas zonas de ocupação, uma americana (ao sul) e outra soviética (ao norte). Com o fracasso das negociações para a reunificação do país, em 1948 foram criados dois novos Estados: ao sul, a República da Coreia, e, ao norte, a República Democrática Parlamentarista da Coreia. Nos dias atuais, a Coreia do Sul e de regime capitalista de produção, com alta produtividade. Já na Coreia do Norte, a economia segue o modelo socialista, sendo totalmente estatizada e se definindo a partir da planificação imposta pelo partido comunista.

b) Demonstrem uma real vontade política de aproximação e melhoria de suas relações.

23) Alternativa: E

24) a) O problema ambiental representado pela letra C é a **poluição atmosférica**.

O que nos leva a essa conclusão é o fato de as áreas hachuradas abrangerem grandes centros industriais, onde se destacam cidades como Pequim, Xangai e Hong Kong.

b) Nas duas últimas décadas, a economia chinesa alavancada sobretudo pelo desenvolvimento industrial, apresentou resultados de destaque.

A partir dos anos de 1980, o país adotou uma política de abertura econômica, atraindo investidores externos, e priorizou a instalação das multinacionais nas áreas próximas do litoral.

No entanto, o crescimento industrial gera problemas ambientais, devido ao elevado consumo de fontes energéticas (carvão e petróleo) e à elevada emissão de dióxido de carbono — um dos gases que mais colaboram para o efeito estufa. Além disso, as fracas leis de proteção ambiental chinesas permitem que as indústrias lancem na natureza grande quantidade de outros gases nocivos aos seres humanos.

25) Alternativa: D

26) Entre as vantagens oferecidas pelo governo chinês aos empreendimentos estrangeiros encontram-se:

rendimentos livres de impostos, terrenos públicos e construções de qualidade a baixo custo, liberdade para remessa de lucros para o exterior e facilidades para associações entre o capital estatal e os investimentos privados globais; moeda desvalorizada que permite a exportação de produtos baratos para o mercado global; mão-de-obra local qualificada, com salários relativamente mais baixos; infra-estrutura de transportes e telecomunicações moderna e promovida pelo Estado.

27) Alternativa: D

28) Alternativa: B

29) Alternativa: D

30) Alternativa: D

31) V V V V F V

32) a) Nas rotas comerciais apontadas no mapa realiza-se mais da metade das transações comerciais do mundo atual, que envolvem duas das grandes potências (Estados Unidos e Japão) e alguns dos mais importantes países emergentes. Só rivalizam com elas as rotas comerciais que cortam o

Atlântico Norte, interligando a Europa à América do Norte e essas duas regiões ao Oriente Médio. O crescimento das transações comerciais entre os países da Bacia do Pacífico fez com que alguns estrategistas afirmassem que o século XXI seria o século do Pacífico. Dentro da estrutura geoeconômica do mundo atual, em que países emergentes como a China, Índia e Tigres Asiáticos têm uma participação crescente no comércio internacional, a importância dessas rotas tende a aumentar rapidamente.

b) As zonas industriais situadas no litoral da China (ZEEs) surgiram e se desenvolveram nas três últimas décadas como parte do programa de inserção do país no cenário internacional. Com a abertura a investimentos internacionais, essas regiões assistiram a um acelerado crescimento de empresas estatais e transnacionais que, usando a abundante mão de obra local, transformaram o país em uma plataforma de exportação. Nos últimos anos, como fruto do acúmulo de capitais e dos investimentos em tecnologia, a China está ingressando em uma nova etapa do processo produtivo, procurando espaço no mercado mundial de produtos de maior valor agregado. As zonas industriais de São Francisco e Los Angeles são muito mais antigas. Após a Segunda Guerra Mundial tiveram a sua produção acelerada e foram transformadas em áreas de indústrias estratégicas, com elevado uso de tecnologia de ponta, como a aeronáutica, informática, naval e bélica. Ao contrário do que ocorre na China, essas regiões cresceram assentadas no mercado interno, embora na última década as exportações regionais estejam crescendo de forma significativa.

c) Dentre as medidas que visam neutralizar o relativo isolamento do Brasil das rotas comerciais da Bacia do Pacífico, destacam-se a adoção política externa voltada para o estreitamento das relações comerciais com países dessa região, especialmente com a China, e investimentos na criação de novas rotas terrestres que facilitem o escoamento de suas produções para o Pacífico, por meio da construção de vias de circulação em parceria com seus vizinhos sul-americanos, como o Peru e o Chile. Essas medidas do governo brasileiro devem-se em parte ao fato

de o Canal do Panamá estar saturado pelo excesso de circulação de navios e à dificuldade de navegação pelo Canal de Beagle.

33) a) A China tem o extremo sul cortado pela latitude 20º e o extremo norte acima da latitude 50º, possuindo, portanto, uma amplitude latitudinal superior a 30º. Essa grande variação latitudinal influencia diretamente o clima chinês. O sul do país é caracterizado por latitudes mais baixas, com maior insolação ao longo do ano e, conseqüentemente, médias térmicas mais elevadas. O norte tem latitudes mais elevadas, com menor insolação e, assim, média térmica menor. O clima temperado domina o norte da China, marcado pelos contrastes sazonais de temperatura que influenciam diretamente o solo. As oscilações da temperatura na região causam o intemperismo físico, gerando um solo mais granuloso. Já o sul, sob influência do clima tropical úmido e/ou monçônico, sofre maior intemperismo químico (causado principalmente pela ação das águas); também é freqüente o processo de lixiviação. A vegetação que melhor se adapta às características latitudinais do norte chinês é a floresta temperada, geralmente aberta, permitindo boa insolação, o que garante o desenvolvimento de formações arbustivas e herbáceas. O sul é marcado pela floresta tropical, com espécies latifoliadas e grande diversidade biológica. Vale lembrar que a latitude é apenas um dos fatores que determinam a composição, o clima, o solo e a vegetação de uma região, que também sofre influência da pluviosidade, da altitude, das massas de ar, dentre outros fatores.

b) A correspondência correta entre as regiões do mapa e as figuras que representam as características climato-botânicas são: 3-a; 1-b; 2-c. A região 1, caracterizada por inverno frio e seco e por verão quente e chuvoso, é influenciada pela menor insolação, típica de latitudes mais elevadas, e pela ação dos ventos monçônicos, úmidos no verão e secos no inverno. A região 2, com inverno rigoroso e verão quente e seco, não sofre influência dos ventos de monções durante o verão, pois eles são barrados pela cordilheira do Himalaia, localizada mais ao sul. A região 3 tem inverno suave e verão quente e chuvoso, com latitudes mais baixas e maior insolação, com forte influência dos ventos monçônicos de verão.

34) Alternativa: D

35) a) As principais modalidades de transportes usadas no Brasil, nos Estados Unidos e na China são, respectivamente, a rodoviária (60,5%), a ferroviária (44%) e a aquaviária-hidroviária (50%). Em termos de custos, o que deve ser analisado é a relação entre peso da carga, distância percorrida e consumo de combustível. De acordo com essa relação, o meio de transporte mais eficiente é o aquaviário, seguido do ferroviário e do rodoviário.

b) O Brasil complementa sua principal opção de transporte com uso de ferrovias (20,8%). Os Estados Unidos, com rodovias (33,5%), e a China, com ferrovias (36,6%). Considerando os custos dos meios de transportes, a opção mais adequada é a da China, que tem metade de sua carga transportada pelo meio mais barato (aquaviário), seguido pelo intenso uso de ferrovias, o segundo melhor em preço.

36) Alternativa: A