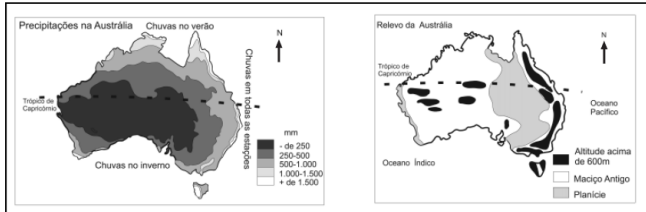


Exercícios com Gabarito de Geografia Oceania

1) (UNICAMP-2007) A Oceania é um continente formado por um conjunto de ilhas e pela Austrália. Com base no texto e observando os mapas abaixo, responda:



Fonte: adaptado de Dottori, C. B.; Rua, J.; Ribeiro, L.A.M. Geografia 2º- Grau. São Paulo: Editora Francisco Alves, 1984, p. 143,147.

- Sabe-se que a Oceania pode ser compartimentada em três grandes conjuntos de ilhas, cuja importância estratégica ainda hoje é muito grande. Quais são esses três conjuntos?
- Com relação à Austrália, quais são as características do relevo australiano?
- Ainda sobre a Austrália, por que na zona norte as chuvas ocorrem no verão e, na zona sul, apenas no inverno?

2) (Unirio-1998) Assinale a afirmação INCORRETA sobre a OCEANIA e os países que formam esse continente:

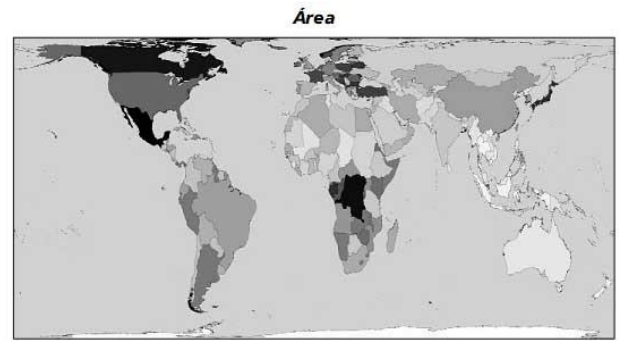
- O setor agropecuário na Austrália apresenta uma elevada participação nas exportações, e a pecuária constitui uma das principais fontes de riquezas.
- A Austrália possui uma das mais baixas densidades demográficas do mundo e sua população concentra-se no litoral e nas regiões mais úmidas.
- A agropecuária na Nova Zelândia ocupa grande parte de seu território; é uma atividade muito importante economicamente, responsável por grande parte das exportações de produtos industriais.
- Ao todo, a Oceania é formada por 4 grandes ilhas; a maior que representa o território australiano, e 3 ilhas menores, que formam o arquipélago da Nova Zelândia e a ilha da Tasmânia, que constitui um país independente.
- Durante o processo de ocupação da Nova Zelândia pelos ingleses, a população nativa teve suas terras usurpadas e grande parte de sua população dizimada. Hoje, a população é predominantemente branca.

3) (Vunesp-1997) Assinale a alternativa que indica corretamente as principais características da população australiana.

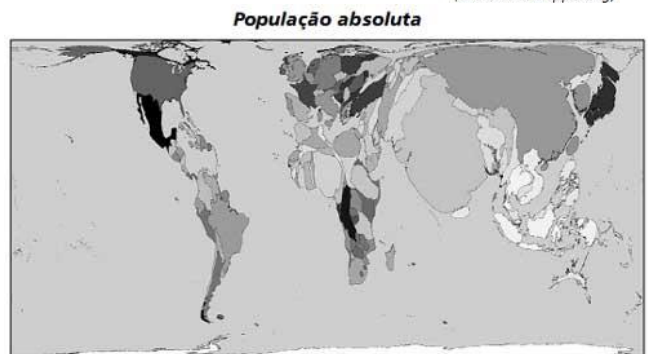
- Predominantemente branca, numerosa e bem distribuída no espaço.
- De origem ameríndia, rural, com altas taxas de natalidade.

- Predominantemente branca, urbana, com elevada esperança de vida.
- De origem britânica, urbana, com altas taxas de mortalidade infantil.
- De origem americana, numerosa e concentrada na porção centro-norte do país.

4) (VUNESP-2010) Compare o mapa que representa os maiores países do mundo em área com o mapa anamórfico da população absoluta de cada país.



(www.worldmapper.org)



(www.worldmapper.org)

A partir da comparação, pode-se afirmar que os principais países que possuem as menores densidades demográficas são:

- Rússia, Canadá e Austrália.
- China, Índia e Canadá.
- Estados Unidos, China e Austrália.
- Argentina, Brasil e Índia.
- Estados Unidos, Índia e Brasil.

5) (FGV-2000) O termo Oceania costuma ser usado para identificar as terras emersas localizadas entre os oceanos Índico e Pacífico. Sobre elas pode-se afirmar que:

- As ilhas da Polinésia, Melanésia e Micronésia são constituídas, predominantemente, por países que completaram sua independência política na década de 1950.
- A Polinésia tem sido a área mais utilizada pelos EUA para a realização de testes atômicos, como os da década de 1970, que destruíram o Atol de Mururoa.
- Um traço cultural comum na Oceania é a completa adaptação das comunidades nativas aos padrões europeus e norte-americanos estabelecidos com a ocupação colonial, a partir do século XVI.

d) Austrália, Nova Zelândia e Papua-Nova Guiné são consideradas países independentes, apesar de terem como chefe de Estado a rainha Elisabeth II, do Reino Unido, ou alguém indicado por ela.

e) Em comparação aos outros continentes, a Oceania apresenta o maior número de possessões do tipo colonial, a exemplo do Havaí, Taiti e Tonga, controladas pelos Estados Unidos.

GABARITO

1) a) A compartimentação da Oceania é determinada por três grandes arquipélagos: A Polinésia, a Micronésia e a Melanésia.
b) Três compartimentos são destaques: um deles a oeste, dominado pelos maciços antigos, com um grande planalto cristalino; no centro-leste temos uma área de bacias sedimentares, com planícies e no extremo leste, os Alpes Australianos, originados de dobramentos antigos.
c) A inversão sazonal da precipitação pluviométrica australiana é determinada pela intertropicalidade da área norte, com chuvas concentradas no verão, oriundas do aumento da temperatura e da maior convecção proporcionada pelo deslocamento do centro de baixa pressão. Na área sul, por sua vez, as chuvas frontais concentram-se no inverno, como resultado do encontro de uma frente fria polar com uma frente quente subtropical.

2) Alternativa: C

3) Alternativa: C

4) Alternativa: A

5) Alternativa: D