

## 1. UFRN 2003

Inúmeros conflitos têm ocorrido no mundo como resultado do processo histórico de ocupação e invasão de territórios. Sobre esses conflitos, é correto afirmar que

- os palestinos lutam, desde a criação do Estado de Israel pela ONU, em 1948, pelo reconhecimento e pela demarcação de fronteiras que configurem um Estado palestino independente.
- os curdos, menor dos grupos étnicos do Globo, que ocupavam territórios do Iraque, da Síria e do Irã, conseguiram recentemente a formação de um Estado independente.
- o povo basco tem procurado uma solução pacífica para seus conflitos territoriais, ao abandonar a luta armada, após o acordo de paz assinado, em 1980, com o governo espanhol.
- a diversidade étnica e cultural é apontada como o principal motivo dos conflitos territoriais na Iugoslávia, sendo a guerra da Bósnia-Herzegovina o mais recente na região dos Balcãs.

## 2. ENEM 2016



SATRAPI, M. Persépolis. São Paulo: Cia. das Letras, 2007 (adaptado).

A memória recuperada pela autora apresenta a relação entre

- conflito trabalhista e engajamento sindical.
- organização familiar e proteção à infância.

- c. centralização econômica e pregação religiosa.
- d. estrutura educacional e desigualdade de renda.
- e. transformação política e modificação de costumes.

### 3. UNESP 2004

Em classificação da Unesco (2003) sobre a disponibilidade mundial de água per capita, dentre as áreas mais pobres figuram o Kuwait com 10 m<sup>3</sup>/habitante e Emirados Arabes Unidos com 58 m<sup>3</sup>/habitante. Assinale a alternativa que contém o tipo climático e as características da precipitação responsáveis pela disponibilidade de água nesses países.

- a. Árido frio e seco; precipitação escassa e concentrada.
- b. Tropical quente e seco; precipitação baixa e bem distribuída.
- c. Equatorial quente e seco; precipitação elevada e mal distribuída.
- d. Desértico quente e seco; precipitação escassa e mal distribuída.
- e. Monçônico frio e seco; precipitação escassa e concentrada.

### 4. UNESP 2011



No Oriente Médio, a água é um recurso precioso e uma fonte de conflito. A escassez de recursos hídricos está aumentando as tensões políticas entre países e dentro deles, e entre as comunidades e os interesses comerciais. A Guerra dos Seis Dias, em 1967, foi, em parte, a resposta de Israel à proposta da Jordânia de desviar o rio Jordão para seu próprio uso. A terra tomada na guerra deu-lhe acesso não apenas às águas das cabeceiras do Jordão, como também o controle do aquífero que há por baixo da Cisjordânia, aumentando assim os recursos hídricos em quase 50%. (Robin Clarke e Jannet King. O Atlas da Água, 2005. Adaptado.)

A partir da leitura do mapa e do texto, pode-se afirmar que a água é uma questão importante nas negociações entre

- a. o Iraque e os turcos.

- b. os palestinos e a Síria.
- c. o Líbano e a Síria.
- d. os iranianos e o Iraque.
- e. Israel e os palestinos.

### 5. UEG 2011

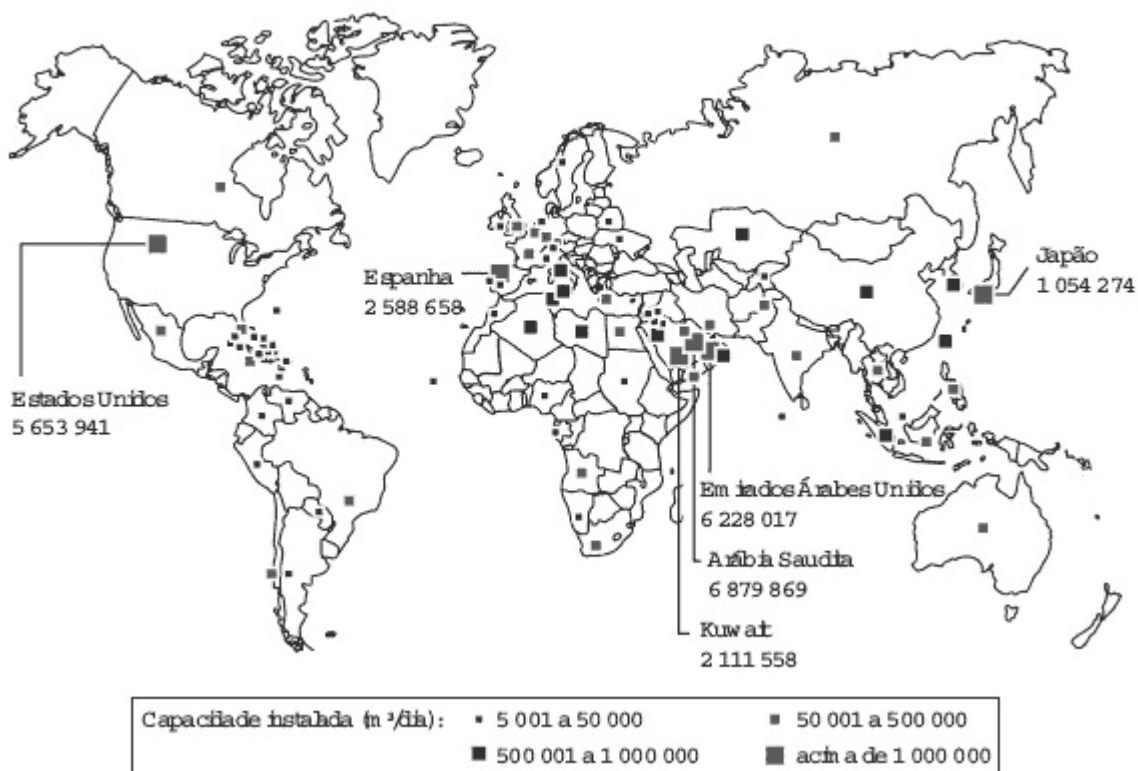
A complexa geografia política e a grande diversidade cultural do Oriente Médio, palco de conflitos diversos, suscitam um olhar mais atento para os problemas da região. Sobre esse assunto, é correto afirmar

- a. trata-se de uma área de confluência de três grandes religiões (Islamismo, Judaísmo e Cristianismo), sendo marcada pela disputa do petróleo; além de ser ponto estratégico que liga três continentes, é a região onde vivem os curdos, a maior etnia sem território.
- b. os acordos assinados pelos líderes palestinos e israelenses contaram com o apoio de grupos ativistas, como o Hezbollah, o Hamas e o Jihad.
- c. as disputas entre Israel e Palestina favoreceram a aproximação do Egito, da Jordânia e da Síria, levando a paz à região, e desarticulando, assim, o poderio econômico e ideológico das potências ocidentais sobre a região.
- d. a cidade de Jerusalém, localizada na Cisjordânia, é o ponto de concórdia entre palestinos e israelenses porque abriga as principais mesquitas e o Muro das Lamentações.

### 6. ENEM 2016

#### Dessalinização das águas

Capacidade total de dessalinização das águas salobras ou salinas (por país em metros cúbicos por dia)

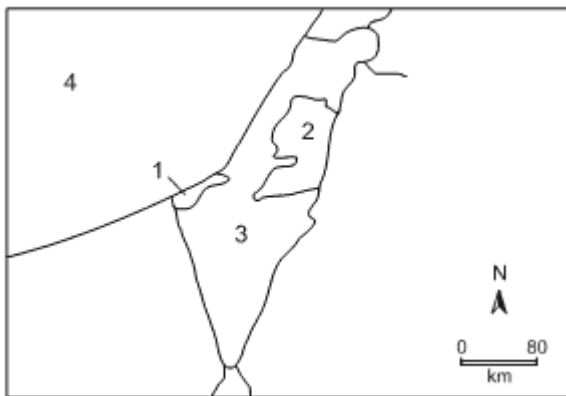


Conforme a análise do documento cartográfico, a área de concentração das usinas de dessalinização : explicada pelo(a)

- a. pioneirismo tecnológico.
- b. condição hidropedológica.
- c. escassez de água potável.
- d. efeito das mudanças climáticas.
- e. efeito das mudanças climáticas.

## 7. UNIOESTE 2012

A figura abaixo apresenta a atual distribuição territorial de um espaço historicamente conflituoso no Oriente Médio.



Considerando as áreas numeradas na figura, assinale a alternativa correta.

- a. A figura representa o espaço de conflito entre o Iraque e o Kuwait e as áreas 1, 2, 3 e 4 correspondem, respectivamente ao Kuwait, à Síria, ao Iraque e à Arábia Saudita.
- b. A figura representa o espaço de conflito entre palestinos e israelenses e as áreas 1, 2, 3 e 4 correspondem, respectivamente ao Líbano, à Palestina, à Israel e ao Mar Mediterrâneo.
- c. A figura representa o espaço de conflito entre palestinos e israelenses e as áreas 1, 2, 3 e 4 correspondem, respectivamente a Faixa de Gaza, à Cisjordânia, à Israel e ao Mar Mediterrâneo.
- d. A figura representa o espaço de conflito entre o Iraque e o Kuwait e as áreas 1, 2, 3 e 4 correspondem, respectivamente ao Kuwait, ao Irã, ao Iraque e ao Golfo Árábico.
- e. A figura representa o espaço de conflito entre Índia e Paquistão e as áreas 1, 2, 3 e 4 correspondem, respectivamente à Caxemira, ao Afeganistão, ao Paquistão e à Índia.

## 8. UFRGS 1998

A chamada Ásia Ocidental é uma importante área de encontro de culturas asiáticas, europeias e africanas, marcada por graves conflitos geopolíticos e rivalidades étnicas, culturais e religiosas. Assinale a alternativa que indica corretamente as grandes religiões monoteístas possuidoras de contingentes de seguidores na área citada e as "cidades santas" correspondentes a essas regiões.

- a. o islamismo, o judaísmo e o cristianismo, sendo Meca uma cidade santa para o islamismo, Istambul, para o judaísmo, e Jerusalém, para o cristianismo.
- b. o islamismo, o judaísmo e o cristianismo, sendo Meca uma cidade santa para as três, e Jerusalém, apenas para o judaísmo.
- c. o budismo, o judaísmo e o cristianismo, sendo Meca uma cidade santa para as três.

d. o islamismo, o budismo e o cristianismo, sendo Jerusalém uma cidade santa para o cristianismo, Meca, para o budismo, e Istambul, para o islamismo.

e. o islamismo, o judaísmo e o cristianismo, sendo Jerusalém uma cidade santa para as três.

## 9. ENEM 2013

Um gigante da indústria da internet, em gesto simbólico, mudou o tratamento que conferia a sua página palestina. O site de buscas alterou sua página quando acessada da Cisjordânia. Em vez de 'territórios palestinos', a empresa escreve agora 'Palestina' logo abaixo do logotipo.

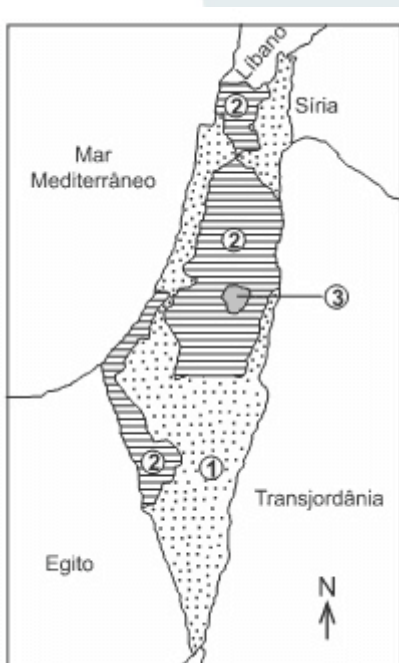
BERCITO. D. 'Google muda tratamento de territórios palestinos'. Folha de S. Paulo, 4 maio 2013 (adaptado).

O gesto simbólico sinalizado pela mudança no status dos territórios palestinos significa o

- a. surgimento de um país binacional.
- b. fortalecimento de movimentos antissemitas.
- c. esvaziamento de assentamentos judaicos.
- d. reconhecimento de uma autoridade jurídica.
- e. estabelecimento de fronteiras nacionais.

## 10. PUCRS 2015

Leia o texto e observe o mapa abaixo.



O Oriente Médio é uma região de grande instabilidade política, onde encontramos um emaranhado de culturas diferenciadas, antagonismos religiosos, múltiplas formas de organização política e econômica. Nesse contexto, merecem uma análise mais cuidadosa, por sua gravidade e persistência, os conflitos entre árabes e judeus, mesmo após a resolução da ONU (Organização das Nações Unidas) que, em 1947, dividiu o território em dois Estados - Israel e Palestina. Contemporaneamente, os conflitos armados têm se intensificado, sem levar em conta os limites territoriais estabelecidos na criação dos dois Estados.

Considerando a proposta original de organização territorial promulgada pela ONU em 1947, a legenda correta para o mapa é:

- a. (1) Estado judeu - (2) Estado palestino - (3) Zona Internacional
- b. (1) Estado judeu - (2) Estado palestino - (3) Telavive
- c. (1) Estado palestino - (2) Estado judeu - (3) Jerusalém
- d. (1) Zona Internacional - (2) Estado palestino - (3) Estado judeu
- e. (1) Jerusalém - (2) Telavive - (3) Zona Internacional

## 11. UNIFESP 2003

Leia as frases seguintes, sobre as dificuldades para a paz entre Israel e a Palestina.

- I. Destino de 3 milhões de refugiados palestinos dispersos pelos países vizinhos.
- II. Controle do Rio Jordão a partir das colinas de Golan, que estão sob domínio da Síria.
- III. Fim da Intifada, movimento de judeus pela aceitação do acordo de Oslo.
- IV. Definição da situação de Jerusalém, apontada como capital por judeus e considerada sagrada pelos palestinos.
- V. Presença de colônias judaicas em áreas destinadas ao estado Palestino.

Está correto o que se afirma em:

- a. I, II e IV, apenas.
- b. I, III e V, apenas.
- c. I, IV e V, apenas.
- d. II, III e IV, apenas.
- e. II, III e V, apenas.

## 12. UFSCAR 2007

O Oriente Médio é, historicamente, zona de tensões entre povos, nações e países. Em 2006, ocorreram conflitos armados nas fronteiras de Israel, Palestina e Líbano, envolvendo exército e grupos armados. Sobre os conflitos, analise as afirmações seguintes.

- I. O grupo Hamas, acusado por Israel pela morte e sequestro de soldados na região da Faixa de Gaza, é um movimento que luta pela formação do Estado Independente da Palestina e se opõe a existência do Estado de Israel.
- II. O grupo Hezbollah luta pela desocupação israelense nos territórios de Gaza e Golã e pela demarcação de Jerusalém como território independente, devido a sua importância religiosa para católicos, judeus e muçulmanos.
- III. Além dos conflitos de ordem histórica, religiosa e política, a região apresenta tensões decorrentes da escassez de recursos hídricos, como o interesse no controle das nascentes do rio Jordão.
- IV. Uma das zonas de tensão é a fronteira do Líbano, onde se encontram as nascentes do rio Jordão, área estratégica para o acesso e controle da água doce disponível na região.

Estão corretas as afirmações:

- a. I e III, apenas.
- b. I e IV, apenas.
- c. II e III, apenas.
- d. III e IV, apenas.
- e. II e IV, apenas.

### 13. UFPEL 2007



[http://resistir.info/iraque/acabou\\_a\\_guerra.html](http://resistir.info/iraque/acabou_a_guerra.html)

O Iraque, no Oriente Médio, conta com uma população de cerca de 30 milhões de habitantes e é dono de uma das maiores reservas de petróleo do planeta e de um dos mais ricos patrimônios arqueológicos do mundo. Mergulhado em um conflito que se arrasta desde a ocupação militar ocorrida em março de 2003, a população vive um dia de atentados terroristas, mortes e violência que parece não ter fim.

Leia as afirmativas seguintes.

- I. Dentre os fatos que geram maior insegurança no Iraque na atualidade, estão os constantes atentados. O alvo desses ataques é sempre a população islâmica sunita, que é a maioria e vive sob a perseguição da minoria xiita. Os xiitas estão no poder desde que o Iraque foi criado pelo Império Britânico.
- II. Um dos motivos para o agravamento constante da situação no Iraque é que a presença de forças de ocupação estrangeiras reforça o nacionalismo e acirra a ação dos fundamentalistas contra o invasor.
- III. O medo de que a Revolução Islâmica se alastrasse para outras nações do Oriente Médio fez com que os EUA apoiassem Saddam Hussein na invasão ao Irã, em 1980. A condenação de Saddam, em 2006, ocorreu por crimes que cometeu quando era importante aliado estadunidense.
- IV. Nos EUA, o alto custo da guerra não inibe o déficit orçamentário do país, entretanto a eleição para o Congresso demonstrou a rejeição ao Partido Democrata, do presidente Bush. O resultado foi influenciado pela insatisfação do eleitorado com a permanência das tropas na guerra.

Estão corretas apenas as alternativas

- a. I e II.
- b. III e IV.
- c. I e III.
- d. II e IV.
- e. II e III.

**GABARITO:** 1) a, 2) e, 3) d, 4) e, 5) a, 6) c, 7) c, 8) e, 9) d, 10) a, 11) c, 12) a, 13) e.