

1. G1 - CFTCE 2007

A indústria de celulose e papel é muito desenvolvida no Canadá, tanto em Quebec quanto na Colúmbia Britânica, isto em virtude da facilidade de obtenção de madeira proveniente da (o):

- a. taiga canadense
- b. taiga siberiana
- c. importação dos EUA
- d. importação da África
- e. domínio da tundra

2. UFES 2000

Sobre a economia do Canadá, podemos afirmar

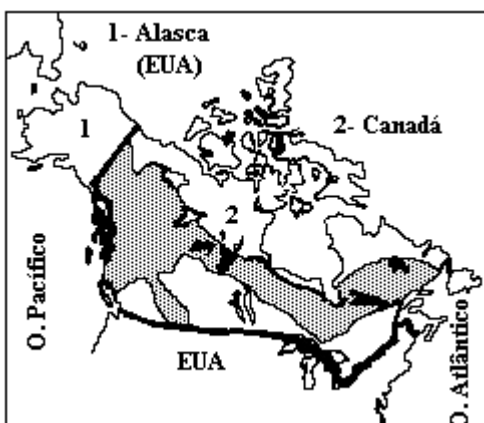
- I - É fortemente dependente dos Estados Unidos em relação aos fluxos de capitais, tecnologia e mercadorias.
- II - Muito prejudicada pela Segunda Guerra Mundial e fracamente industrializada, equilibra na sua balança comercial com exportações de gêneros alimentícios.
- III - Dinâmica e forte, tem na produção de papel e celulose uma posição de destaque que coloca o Canadá como o maior produtor mundial do gênero.
- IV - Tem no alumínio seu grande destaque na área metalúrgica, embora a matéria-prima (a bauxita) necessite ser quase que totalmente importada da Jamaica e do Suriname.
- V - Não utiliza técnicas modernas na agropecuária, o que faz com que essa atividade se torne altamente improdutiva.

São CORRETAS as afirmativas

- a. I, II e IV.
- b. I, III e IV.
- c. I, IV e V.
- d. II, IV e V.
- e. III, IV e V.

3. UNIRIO 1995

O espaço natural é formado por um conjunto de elementos que, ao serem aproveitados pelas sociedades, transformam-se em recursos. Assim sendo, em relação à região do Canadá em destaque no mapa a seguir, pode-se afirmar corretamente que:








- a. se refere as grandes florestas homogêneas da taiga canadense, cujo aproveitamento favorece o desenvolvimento da indústria de papel e celulose nesse país.
- b. é a zona por excelência das pradarias centrais, tradicionalmente ocupada pela pecuária de corte e pela pecuária leiteira.
- c. representa o grande domínio da floresta temperada, já bastante devastada, como resultado da grande expansão urbana nessa região, principalmente em sua parte central.
- d. abrange a região de tundra que, apesar de refletir o rigor do clima local, favorece, por ser rasteira, a formação de amplas pastagens naturais.
- e. abrange a faixa de tundra que, ao favorecer a produção de papel, contribuiu para transformar o Canadá num dos maiores exportadores desse produto.

4. UEL 1998

Considere o texto apresentado a seguir.

"O domínio da Taiga, formado por um número relativamente reduzido de espécies coníferas adaptadas às grandes amplitudes térmicas, é particularmente importante para a economia do Canadá, pois abastece um dos mais importantes complexos industriais de madeira, papel e celulose do mundo, responsável por mais de 10% das exportações do país e por cerca de 50% de todo o papel jornal utilizado no mundo."

A correta localização do domínio da Taiga do Canadá esta representada em

- a. 
- b. 
- c. 
- d. 
- e. 

5. UFPE 2008

O Canadá teve forjadas a Geografia e a História, basicamente, ao longo dos 570 km do vale do rio São Lourenço, onde se situam algumas das mais importantes cidades daquele país, como Quebec, Ottawa, Toronto e Montreal. Com relação a este país da América do Norte, é correto afirmar que seu principal problema geopolítico:

- a. são os conflitos étnicos verificados na parte meridional do país.
- b. são os conflitos de migrantes canadenses com autoridades de fronteira dos Estados Unidos, ao sul.
- c. são as tentativas de separatismo, por parte de uma das mais importantes regiões, a província de Quebec.
- d. é a diferença de idiomas e de etnias existentes no país.
- e. é a ocorrência de grandes depósitos de ferro e carvão mineral, que despertaram a cobiça de grandes multinacionais dos Estados Unidos e da Europa.

6. UFLAVRAS 1997

Sobre os aspectos populacionais do Canadá. Marque:

- I - O Canadá é um país muito povoado, ou seja, apresenta uma grande população relativa.
- II - As áreas mais densamente povoadas do Canadá são as regiões dos Grandes Lagos e do Vale do Rio São Lourenço.
- III - Nos dias atuais o crescimento da população é lento como resultado das baixas taxas de natalidade e da adoção de uma política de restrição a imigração.

- a. Apenas I é correta;
- b. Apenas II é correta;
- c. Apenas I e II são corretas;
- d. Apenas I e III são corretas;
- e. Apenas II e III são corretas.

7. UFSM 2002

Observe o mapa:



GARCIA, H. C. e GARAVELLO, T. M. 'Geografia Geral - Ensino Médio'. São Paulo: Scipione, 2000. p. 16.

A região em destaque no mapa apresenta

- a. clima temperado continental, com relevo de planícies originalmente cobertas de pradarias, onde aparecem extensas áreas agrícolas conhecidas como cinturões do trigo e do milho.
- b. clima frio subpolar, com relevo de planícies e montanhas cobertas por pradarias e por floresta homogênea (taiga), o que favorece a pecuária e a indústria de celulose e papel.
- c. clima temperado oceânico, com relevo montanhoso e de planícies, está coberta por floresta temperada já bastante devastada pela expansão urbana e exploração da madeira.
- d. clima subtropical, com relevo dominado pelos Montes Apalaches e pela floresta temperada, sendo a mineração a atividade principal.
- e. clima semiárido, com relevo montanhoso e vegetação de estepes e xenófilos, destacando-se na produção de petróleo e sendo considerada cinturão industrial (sun-belt).

8. MACKENZIE 1999

Nesta região, favorecida pela presença da floresta, de reservas minerais e do grande potencial hidrelétrico, concentra-se a maior parte da população e da atividade industrial do Canadá. Trata-se:

- a. da Colúmbia Britânica.
- b. das Províncias Atlânticas.
- c. do Sudeste.
- d. das Pradarias.
- e. do Grande Norte.

9. FUVEST 2005

Leia os itens a seguir:

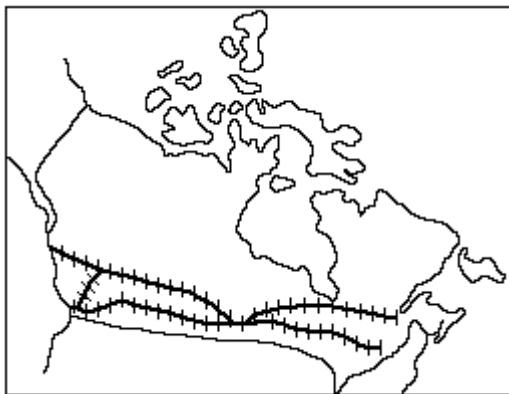
- I. vegetação de tundra
- II. vegetação de taiga
- III. recursos hídricos
- IV. latossolos
- V. petróleo
- VI. carvão

Assinale a alternativa que destaca corretamente recursos naturais importantes para o fortalecimento da economia do Canadá no século XX.

- a. I, II, III e V.
- b. I, II, IV e V.
- c. I, III, IV e VI.
- d. II, III, V e VI.
- e. III, IV, V e VI.

10. MACKENZIE 2001

Considere as afirmativas sobre o mapa ferroviário do Canadá:



I - As ferrovias aproveitaram as áreas de planícies, e localizam-se nas áreas onde o clima é menos rigoroso.

II - A localização das ferrovias reflete a distribuição populacional.

III - As ferrovias atravessam as áreas onde se concentram as atividades agrícolas e industriais.

Assinale:

- a. se I, II e III forem verdadeiros.
- b. se apenas I e II forem verdadeiros.
- c. se apenas I e III forem verdadeiros.
- d. se apenas II e III forem verdadeiros.
- e. se apenas I for verdadeiro.

GABARITO: 1) a, 2) b, 3) a, 4) b, 5) c, 6) b, 7) a, 8) c, 9) d, 10) d.