

+ DE 1000
EXERCÍCIOS DE
GEOGRAFIA
DO ENEM
E VESTIBULARES



LOBÃO



ROCHA

PARTE 02



+GEO

AGRICULTURA GERAL
AGRICULTURA DO BRASIL
INDÚSTRIA GERAL
INDÚSTRIA DO BRASIL

Questão 01 - (FUVEST SP/2017)

Um elemento essencial para a evolução da dieta humana foi a transição para a agricultura como o modo primordial de subsistência. A Revolução Neolítica estreitou dramaticamente o nicho alimentar ao diminuir a variedade de mantimentos disponíveis; com a virada para a agricultura intensiva, houve um claro declínio na nutrição humana. Por sua vez, a industrialização recente do sistema alimentar mundial resultou em uma outra transição nutricional, na qual as nações em desenvolvimento estão experimentando, simultaneamente, subnutrição e obesidade.

George J. Armelagos, "Brain Evolution, the Determinates of Food Choice, and the Omnivore's Dilemma", **Critical Reviews in Food Science and Nutrition**, 2014. Adaptado.

A respeito dos resultados das transformações nos sistemas alimentares descritas pelo autor, é correto afirmar:

- A quantidade absoluta de mantimentos disponíveis para as sociedades humanas diminuiu após a Revolução Neolítica.
- A invenção da agricultura, ao diversificar a cesta de mantimentos, melhorou o balanço nutricional das sociedades sedentárias.
- Os ganhos de produtividade agrícola obtidos com as revoluções Neolítica e Industrial trouxeram simplificação das dietas alimentares.
- As populações das nações em desenvolvimento estão sofrendo com a obesidade, por consumirem alimentos de melhor qualidade nutricional.
- A dieta humana pouco variou ao longo do tempo, mantendo-se inalterada da Revolução Neolítica à Revolução Industrial.

Questão 02 - (PUC SP/2017)

Veja essa notícia:

FONTE DE CONHECIMENTO

Grupo desenvolve iniciativas de pesquisa, ensino e extensão para colaborar na proteção de manancial que abastece Presidente Prudente

"No dia 27 de fevereiro, dezenas de produtores rurais da região de Presidente Prudente (SP) compareceram ao centro comunitário da pequena cidade de Anhumas para apresentação do Programa Produtor de Água. A proposta, entre outras iniciativas, remunera agricultores que realizam serviços ambientais em suas terras."

(Jornal Unesp - Universidade Estadual Paulista, número 309. Abril de 2015. p. 8)

As ideias de "produção de água" e de serviços são bastante interessantes e inovadoras. Sobre elas é possível afirmar que

- serviços ambientais e "produção da água" são as clássicas ações de represamento da água e de seu tratamento, algo que está sendo proposto para ser feito descentralizadamente pelos agricultores, e isso é inovador.
- as atividades agrícolas são realizadas com água disponível nos sítios e fazendas, e o que se propõe como serviços ambientais e "produção de água" é que cada agricultor trate de economizar água, investindo em lavouras menos consumidoras desse bem.
- elas investem na necessidade de formas individuais de gestão dos mananciais, daí remunerar cada agricultor que atuar nessa direção. Isso se dá em virtude do fracasso da gestão coletiva vinculada aos Comitês de Bacias Hidrográficas.
- a água é um bem natural, mas mantê-la em quantidade e condições adequadas para o uso, exige que se "produzam" as

condições para tal, atuando para a manutenção dos mananciais, das nascentes, mantendo vegetação, por exemplo.

Questão 03 - (FCM MG/2017)

Buscar a autossuficiência é um instinto natural do ser humano e esse sentimento também se reflete muitas vezes nos países. Mas essa busca traz um impedimento que pode contrariar conceitos básicos da economia tradicional: países podem obter vantagens se comercializarem bens entre si, privilegiando o que sabem fazer melhor em vez de tentar produzir tudo. A verdade, segundo especialistas, é que nenhuma das duas estratégias deve ser levada ao extremo: países podem buscar elementos de autossuficiência sem deixar de suprir necessidades mais básicas com outras nações.

No que diz respeito ao que as nações devem considerar sobre o desafio de sua subsistência alimentar e suas relações com o restante do planeta, assinale, nas alternativas abaixo, aquela que está **INCORRETA**:

- Poucos países no mundo fecham suas fronteiras a todo tipo de comércio ou dependem completamente do comércio para seu consumo de alimentos. A maioria está em um ponto intermediário.
- O livre comércio é a maneira menos eficiente de se gerenciar demandas de abastecimento interno dos países; manter a autossuficiência na produção de alimentos é sempre possível e imprescindível a todas as nações.
- A autossuficiência alimentar, classificada como uma atitude extrema, ineficiente e até perigosa, se dá quando um país fecha suas fronteiras e se recusa a participar de qualquer transação comercial, buscando produzir todos os alimentos de que necessita.
- A autossuficiência alimentar está longe de poder ser alcançada por todos os países, pois os investimentos são muito elevados, não estando ao alcance da maioria; além disso, nem todas as nações possuem condições climáticas para a produção dos alimentos.

Questão 04 - (Mackenzie SP/2017)

A figura abaixo retrata um tipo de agricultura muito comum em determinada região do mundo. Analise-a e assinale a alternativa que indique corretamente a região mais provável a que ela se relaciona.



Fonte: www.educol.net

- Planícies Centrais do EUA com cultivos de trigo.
- Prairie no Centro-sul canadense, ao longo da fronteira com os EUA.
- Oeste da Rússia, nos solos negros e muito férteis conhecidos como Tchernozion.
- Na região agrícola entre a Argentina e o Uruguai, conhecida como Pampa.
- No sul e sudeste da Ásia com o máximo de aproveitamento possível dos solos.

Questão 05 - (UEA AM/2017)

A agroecologia adota princípios sustentáveis nas relações de produção no campo, constituindo-se uma alternativa ao modelo de agricultura definido pela

- a) economia informal.
- b) revolução verde.
- c) rotação de culturas.
- d) especulação financeira.
- e) teoria do desenvolvimento.

Questão 06 - (Famerp SP/2016)

Analise a charge.



(www.abrasco.org.br)

A charge ironiza

- a) a tentativa de produzir alternativas ao uso de herbicidas na produção agrícola.
- b) a baixa exigência de equipamentos de proteção individual para manipular a produção agrícola.
- c) o manejo retrógrado estipulado pelos órgãos de controle do setor agrícola.
- d) o uso exacerbado de defensivos agrícolas no modelo de agricultura contemporâneo.
- e) o comprometimento da produção agrícola pela resistência ao uso de insumos agrícolas.

Questão 07 - (IFPE/2016)

A agricultura é uma das atividades mais estratégicas, seja para a produção de alimentos para o mercado interno, seja para a geração de energia ou ainda para alavancar as exportações. Com base nesse assunto, considere as afirmações abaixo.

- I. Desde a Revolução Industrial, a agricultura tem aumentado a produtividade e, nas últimas décadas, o desenvolvimento da biotecnologia tem impulsionado a produção agrícola, isso garantirá o fim da fome no mundo em poucas décadas.
- II. Por meio da engenharia genética, traços genéticos naturais indesejáveis podem ser eliminados e outros implantados artificialmente para aprimorar a qualidade dos produtos agrícolas manipulados, com isso a natureza se torna cada vez mais artificializada.
- III. A agricultura brasileira é predominantemente tropical, portanto grande parte dos seus produtos agrícolas são adaptados a clima quente e úmido, como laranja, café, cana-de-açúcar e algodão. Já a agricultura da Argentina e da Europa é de clima temperado, com destaque para a produção dos cereais.
- IV. A estrutura fundiária muito concentrada nos países subdesenvolvidos é resultado, em grande parte, da implantação do sistema agrícola de *plantation* no período colonial e, mais recentemente, da modernização que inviabilizou pequenas propriedades.
- V. Devido ao seu foco na produção industrial e no setor de serviços de alta tecnologia, a agricultura dos Estados Unidos é pouco desenvolvida, pois a importação de produtos primários é muito mais barata e não compromete o saldo positivo da balança comercial.

Estão corretas APENAS as alternativas:

- a) I, II e IV.
- b) III, IV e V.

- c) II, III e IV.
- d) I, III e V.
- e) II e IV.

Questão 08 - (UEG GO/2016)

A produção agropecuária na atualidade requer a adoção de sistemas de produção (intensivos e extensivos) rural, que dependem principalmente

- a) do tamanho da propriedade e da presença de recursos hídricos abundantes para a implantação de pivôs centrais.
- b) da existência de fatores naturais como clima úmido, solos férteis, relevo plano e proximidade das vias de transportes.
- c) das condições físico-geográficas de uma região, da cultura e do nível de desenvolvimento econômico de uma dada sociedade.
- d) do uso de agrotóxicos e sementes transgênicas, da utilização de mão de obra barata e de técnicas tradicionais de produção.

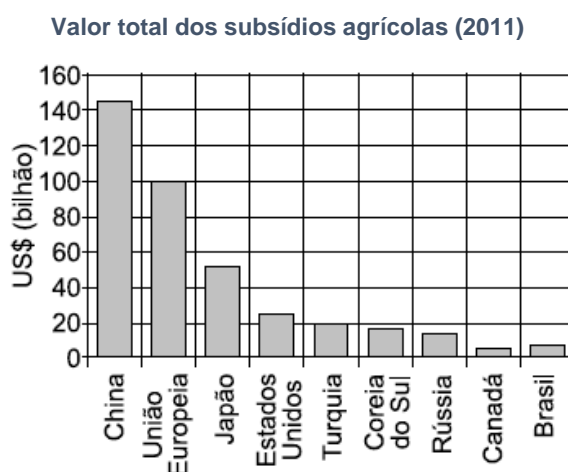
Questão 09 - (UEPG PR/2016)

Sobre atividades agrárias, assinale o que for correto.

- 01. A agricultura foi inserida na economia industrial, passou a ser fornecedora de matérias-primas e alimentos, além de ser consumidora da indústria (máquinas, pesticidas, adubos químicos, etc).
- 02. O agronegócio é uma característica da agricultura moderna, que recebe investimentos intensivos de capitais e tecnologia, e a produção em grande escala visa, principalmente, a exportação de produtos agrícolas.
- 04. Os produtos agrícolas transgênicos têm grande aceitação no mundo atual constituindo-se na maior parte dos produtos exportados por todos os países.
- 08. A chamada agricultura de precisão se utiliza de sensores conectados a satélites que permitem ge-rar o mapeamento da área plantada, indicando, entre outros itens, onde é preciso efetuar a correção do solo, fazendo, portanto, um levantamento da situação da lavoura.
- 16. Plantation é o sistema agrícola típico dos países desenvolvidos e compreende o latifúndio, a mono-cultura e a mão de obra barata.

Questão 10 - (UNESP SP/2016)

Observe o gráfico.



(ocde.org)

A política de proteção agrícola entre os países não mais se circunscreve aos desenvolvidos. Atualmente, países considerados em desenvolvimento ou emergentes oferecem subsídios agrícolas significativos a seus produtores. De acordo com o conhecimento geográfico sobre o assunto e com a leitura do gráfico, pode-se afirmar que

- a) os países membros do BRICS encabeçam a lista dos principais fornecedores de crédito agrícola.

- b) os produtores agrícolas dos países desenvolvidos pagam taxas abusivas de impostos aos seus governos.
 c) o governo chinês aumentou os subsídios aos produtores para evitar a intensificação de seu já expressivo êxodo rural.
 d) a carência relativa de terras agrícolas no Brasil torna-o um país de fraco apoio a seus produtores.
 e) os principais países protetores de suas economias agrícolas exibem modelos semelhantes de agricultura empresarial.

Questão 11 - (UNESP SP/2016)

Leia o trecho a seguir.

“No cotidiano, esse termo é usado para se referir a alimentos produzidos sem a adição de adubos químicos e de agrotóxicos. É uma expressão muito empregada pela mídia e seu uso teve início com a ideia de produzir alface e verduras sem esses aditivos químicos, para evitar produtos contaminados e envenenamento. Com o tempo, porém, essa prática se estendeu a outros produtos, como legumes, frutas, café, vinho, etc. Existem até mesmo produtos orgânicos industrializados”.

(brasil.escola.com. Adaptado)

O texto faz referência a um tipo de produção isenta de

- a) mão de obra familiar, como os manufaturados.
 b) insumos artificiais, como os orgânicos.
 c) impostos sobre a terra, como as *commodities*.
 d) máquinas agrícolas, como as matérias-primas.
 e) recursos não renováveis, como os de química fina.

Questão 12 - (UFPEL RS/2016)

A agricultura familiar, na América Latina, aponta um elenco de elementos que evidencia sua heterogeneidade. Dentre eles são destacados alguns, que refletem, presumidamente, a realidade gaúcha.

- I. Terras muito iguais, com solos de boa qualidade, relevos planos ou montanhosos, de difícil acesso.
 II. Disparidades na capacidade de ocupação da mão de obra familiar e de satisfação das necessidades básicas do grupo familiar.
 III. Capacidade de reprodução semelhante às unidades de produção, ou seja, as propriedades alcançam desenvolvimento e reproduzem na mesma escala de produção.
 IV. Graus diferenciados de integração aos mercados, isto é, agricultores total ou parcialmente integrados frequentemente com a agroindústria e os que só logram produzir para o autoconsumo.

Das afirmações acima, estão corretas

- a) apenas I e III.
 b) apenas II e IV.
 c) apenas III e IV.
 d) apenas I, II e IV.
 e) apenas I, II e III.
 f) I.R.

Questão 13 - (UECE/2016)

A prática de agricultura ecológica que aproveita as facilidades e os produtos da natureza sem lhe causar dano, baseada na observação do ambiente natural e no uso de técnicas sustentáveis é conhecida como

- a) permacultura.
 b) carcinicultura.
 c) maricultura.
 d) algacultura.

TEXTO: 1 - Comum à questão: 14

A dinâmica do crescimento populacional no mundo está sendo alterada nas últimas décadas, principalmente pelas conquistas técnico-científicas. As grandes consequências dessas mudanças são a desaceleração do crescimento populacional e o aumento da expectativa de vida. Acompanhando tendência mundial, o crescimento demográfico brasileiro vem diminuindo nas últimas quatro décadas. Esse processo é decorrente principalmente da queda constante da taxa de fecundidade (que representa a quantidade de filhos que cada mulher tem na vida). (A DINÂMICA... 2015. p. 120-125).

ALMANAQUE ABRIL. São Paulo: Abril, ano 41, 2015. Adaptado.

Questão 14 - (UEFS BA/2016)

Assinale **V** nas afirmativas verdadeiras e **F**, nas falsas.

Entre os vários aspectos que caracterizam a estrutura da população mundial, encontra-se

- () o fato de a maioria dos países da América Latina apresentar uma pirâmide etária com base estreita e topo largo.
 () o envelhecimento do planeta, incluindo o Brasil, que se torna mais velho em ritmo cada vez mais acelerado.
 () a representação da estrutura populacional feita por meio das pirâmides etárias.
 () os limites entre os grupos de idade, que variam de acordo com o país, a exemplo do Brasil, onde os jovens compreendem a faixa de 0 a 25 anos de idade.
 () a de a maior longevidade dos homens na quase totalidade dos países ser explicada por diferenças biológicas.

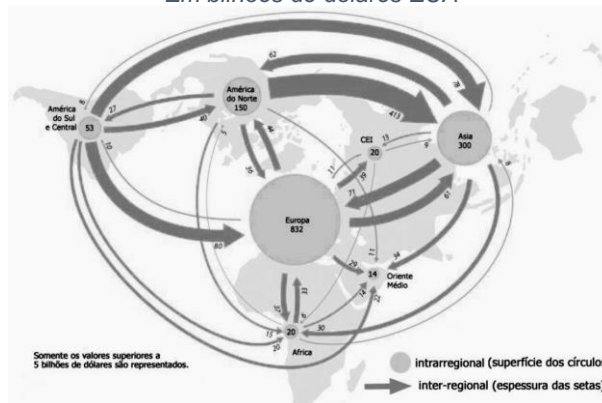
A alternativa que indica a sequência correta, de cima para baixo, é a

- a) F V V F F
 b) V V F F V
 c) V F V F V
 d) F V V V F
 e) V F F V V

TEXTO: 2 - Comum à questão: 15

Exportação de produtos agrícolas e alimentícios no mundo, 2010

Em bilhões de dólares EUA



Fonte: Organização Mundial do Comércio (OMC), International Trade Statistics, www.wto.org.

Questão 15 - (UFRGS/2016)

Considere as afirmações abaixo, sobre o mapa.

- I. Os países industrializados costumam exportar grandes volumes de produtos agrícolas e alimentícios.
 II. As trocas comerciais intrarregionais ainda são maiores do que as trocas inter-regionais do mundo.
 III. A África tem saldo positivo com as demais regiões quanto ao comércio de produtos agrícolas e alimentícios, pois exporta mais do que importa.

Quais estão corretas?

- a) Apenas I.
- b) Apenas II.
- c) Apenas I e II.
- d) Apenas II e III.
- e) I, II e III.

Questão 16 - (UNESP SP/2016)

Na agricultura moderna, os cultivos transgênicos foram adotados para

- a) eliminar o uso de agrotóxicos e garantir a segurança alimentar da população.
- b) aumentar a produtividade e proporcionar maior rentabilidade ao produtor.
- c) preservar a função social da terra e diminuir os custos de produção.
- d) superar deficiências das áreas agricultáveis e expandir as práticas orgânicas.
- e) oferecer novos alimentos ao mercado e gerar renda às pequenas comunidades rurais.

Questão 17 - (IFMT/2016)

Segundo a Companhia Nacional de Abastecimento (Conab), MT ofertará 51,203 milhões de toneladas de grãos, especialmente soja e milho, na temporada 2014/2015 (Jornal A Gazeta.01/09/2015.p3C). O agronegócio é o setor de peso na economia brasileira, com destaque para o estado do Mato Grosso. Sobre esse setor no Brasil, é **INCORRETO** afirmar que

- a) envolve vários setores como agricultura de precisão, biotecnologia com investimentos e presença de transnacionais nos ramos de produção de alimentos, maquinários e insumos para a agricultura.
- b) o processo de modernização produtiva voltada para inserção no mercado mundial de commodities agrícolas, vem marcando a economia da região Centro-Oeste.
- c) entre os principais produtos do agronegócio de exportação estão soja, carnes, produtos florestais, café, fumo e seus derivados, couro, cereais, suco de frutas, fibras e produtos têxteis.
- d) com o avanço da biotecnologia no setor agropecuário, o planejamento, a produção, a comercialização e a exploração comercial transformam todo o setor em agronegócio.
- e) os principais destinos da produção brasileira do setor são China, União Europeia, Venezuela, Arábia Saudita, Argentina, Estados Unidos, Rússia, e Japão.

Questão 18 - (IFMT/2016)

Graça á revolução industrial, evoluíram também as técnicas agrícolas, o que possibilitou o aumento da produtividade, sem ser necessário ampliar a área de cultivo.

Esse desenvolvimento tecnológico aplicado à agricultura, ficou conhecido como:

- a) Agricultura de precisão.
- b) Pacote tecnológico.
- c) Engenharia genética.
- d) Revolução verde.
- e) Revolução agrícola.

Questão 19 - (UNIT AL/2016)

As atividades agrárias, sendo atividades dinâmicas, estão sempre em transformação.

A alternativa que indica a correspondência correta entre o tipo de atividade agrária e suas características e finalidades é a

- a) De subsistência — com a produção voltada para o mercado interno, uso de mão de obra abundante, baixa produtividade e monocultora.
- b) Especulativa — destinada à exportação, não atendendo aos interesses da economia produtora.
- c) Científica — não usa defensivos agrícolas nem fertilizantes, é produzida em larga escala, objetivando a produção de alimentos transgênicos.
- d) Coletivista — utiliza pequenas propriedades, técnicas tradicionais, sendo praticada unicamente na América Central, com produção destinada ao consumo interno.
- e) Comercial — constitui um sistema policultor, sendo que sua produção atende exclusivamente aos interesses do mercado interno.

Questão 20 - (UNIT SE/2016)

É um exemplo de agrossistema tradicional, que consiste principalmente na rizicultura (cultivo do arroz) associada à plantação de outros cereais e de hortaliças. Esse tipo de agricultura é praticado há séculos ou milênios em várias regiões do sul, sudeste e leste da Ásia.

Suas principais características são predomínio de pequenas propriedades agrárias, frequentemente menores que um hectare; utilização de técnicas de cultivo minuciosas, em geral com o uso das mãos e de um sistema de irrigação e produção destinada preferencialmente ao consumo da população local ou, às vezes, regional.

Esse tipo de agricultura intensiva ocorre em áreas densamente povoadas, nas quais há uma carência de terras e uma elevada proporção de pessoas disponíveis para o trabalho, que, em geral, é mal remunerado, tendo-se em vista as condições econômicas médias de cada sociedade nacional.

VESENTINI, José William. **Geografia**: série brasil. 1. ed. 3. impr. São Paulo: Ática, 2005. Adaptado.

O texto identifica o sistema agrícola de

- a) plantation.
- b) rotação de culturas.
- c) agricultura itinerante.
- d) agricultura orgânica.
- e) agricultura de jardinagem.

Questão 21 - (CEFET MG/2015)

A ciência, tecnologia e informação fazem parte dos afazeres cotidianos do campo modernizado. É aí que se instalam as atividades hegemônicas, aquelas que têm relações mais longínquas e participam do comércio internacional, fazendo com que determinados lugares se tornem mundiais.

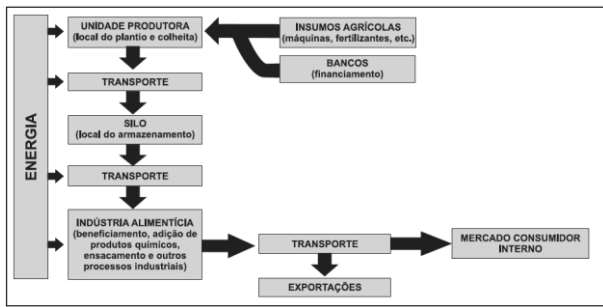
SANTOS, M. *Técnica, espaço, tempo: globalização e meio técnico-científico-informacional*. São Paulo: Hucitec, 1994. (Adaptado).

Nesse contexto, um dos elementos que contribui para a classificação de um espaço agrário como um meio técnico-científico-informacional é a(o)

- a) emprego de adubos orgânicos.
- b) utilização de sementes híbridas.
- c) prática do destocamento do solo.
- d) predomínio de sistemas extensivos.

Questão 22 - (FM Petrópolis RJ/2015)

Organização produtiva do agronegócio



MAGNOLI, D. **Geografia para o ensino médio**. São Paulo: Atual, 2012. p. 317

Os velhos complexos rurais do modelo agroexportador foram substituídos pelos complexos agroindustriais que, conforme apresentado no esquema acima, estão claramente

- a) influenciados por um forte modelo regulatório do Estado
- b) integrados com o setor industrial e com o setor financeiro
- c) representados pelo papel de crescente importância no PIB
- d) marcados pela sofisticação técnica de numerosa mão de obra
- e) subordinados ao capital estatal em detrimento do capital privado

Questão 23 - (UNIMONTES MG/2015)

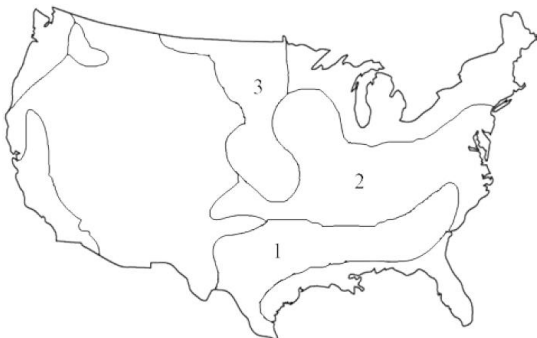
A partir da década de 1950, um modelo de desenvolvimento agrícola exportado para países subdesenvolvidos ficou conhecido como Revolução Verde que provocou profundas transformações no espaço agrário desses países. Considerando os efeitos da Revolução Verde, é possível inferir, EXCETO

- a) O uso de agrotóxicos e de máquinas agrícolas não adaptadas aos tipos de solos em que foram usados acarretou uma série de impactos ambientais nos ecossistemas dos países que buscaram investir na Revolução Verde.
- b) A concessão de financiamentos bancários subsidiados pelos governos dos países subdesenvolvidos tornou-se uma medida emergencial devido aos altos custos dos pacotes que os produtores assumiram com a adesão da Revolução Verde.
- c) Na organização do espaço, as monoculturas avançaram sobre regiões ambientalmente preservadas, criando áreas de fronteira agrícola em áreas de florestas e cerrados, etc., que cederam, assim, lugar para pastagens e plantações.
- d) O aumento da produção de cereais nos países que aderiram à Revolução Verde desde a década de 1960 conseguiu atingir a meta básica da Revolução Verde que era a de assegurar produção de alimentos suficientes para combater a fome.

Questão 24 - (Mackenzie SP/2015)

Observe o mapa a seguir.

Cinturões Agrícolas nos Estados Unidos



Assinale a alternativa que indica, respectivamente, as atividades agrícolas tradicionalmente praticadas nos espaços assinalados no mapa com os números 1, 2 e 3.

- a) 1- Cotton Belt (algodão), 2- Corn Belt (milho), 3- Wheat Belt (trigo).

- b) 1- Wheat Belt (trigo), 2- Cotton Belt (algodão), 3- Sun Belt (frutas).
- c) 1- Corn Belt (milho), 2- Dairy Belt (sorgo), 3- Wheat Belt (trigo).
- d) 1- Dairy Belt (sorgo), 2- Corn Belt (milho), 3- Cotton Belt (algodão).
- e) 1- Rice Belt (arroz), 2- Dairy Belt (sorgo), 3- Corn Belt (milho).

TEXTO: 3 - Comum à questão: 25

AS TÉCNICAS, O TEMPO E O ESPAÇO GEOGRÁFICO

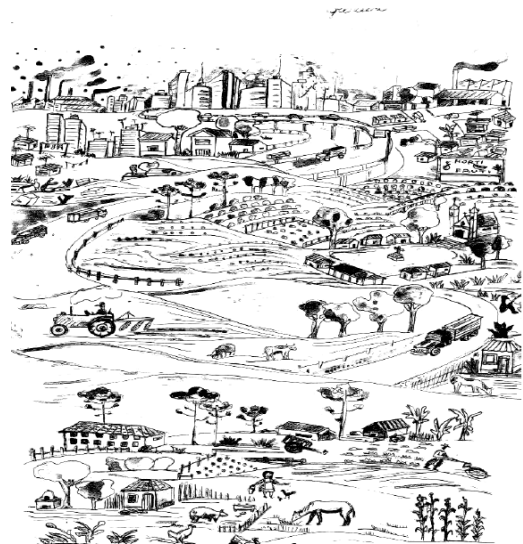
“É por demais sabido que a principal forma de relação entre o homem e a natureza, ou melhor, entre o homem e o meio, é dada pela técnica. As técnicas são um conjunto de meios instrumentais e sociais, com os quais o homem realiza sua vida, produz e, ao mesmo tempo, cria espaço [...]”

Sem dúvida, o espaço é formado de objetos [...] o espaço visto como um conjunto de objetos organizados segundo uma lógica e utilizados (acionados) segundo uma lógica.

[...] Na realidade, toda técnica é história embutida. Através dos objetos, a técnica é história no momento da sua criação e no de sua instalação e revela o encontro, em cada lugar, das condições históricas (econômicas, socioculturais, políticas, geográficas) que permitiram a chegada desses objetos e presidiram à sua operação.

O uso dos objetos através do tempo mostra histórias sucessivas desenroladas no lugar e fora dele”

SANTOS, Milton. A natureza do espaço: técnica e tempo/razão e emoção. São Paulo: EDUSP, 2004 – p. 29-48



Questão 25 - (UEPA/2015)

As técnicas são um conjunto de meios instrumentais e sociais, com os quais o homem realiza sua vida, produz e, ao mesmo tempo, cria espaço [...]. Acerca da dinâmica de produção e formas de apropriação do espaço agrário na lógica capitalista, é correto afirmar que:

- a) no agronegócio a policultura, o trabalho assalariado e a produção em pequena escala são algumas das principais referências, enquanto no campesinato é caracterizado pela biodiversidade, monocultura, trabalho familiar e produção em larga escala.
- b) os camponeses citricultores são produtores familiares que usam predominantemente o trabalho assalariado; já os citricultores capitalistas utilizam predominantemente o trabalho dos membros da família, cujo número tem que ser maior que o de trabalhadores assalariados, exceto no período da colheita.
- c) o campesinato não promove a concentração de terra, trabalho, poder; ao contrário do produtor capitalista que, ao realizar sua produção, ultrapassa os limites de tempo e espaço, devido à necessidade dessa concentração para sua expansão.

d) a predominância do trabalho familiar no agronegócio valoriza a relação social não capitalista que determina o uso do território, já a predominância do trabalho familiar no campesinato determina a área de produção, o tempo de trabalho, a renda e a quantidade produzida.

e) o campesinato é parte do agronegócio e é o camponês que controla a tecnologia, o conhecimento, o mercado e as políticas agrícolas, haja vista que estes são autônomos em relação ao capital, mesmo quando produzem a partir do sistema do agronegócio.

Questão 26 - (UFAM/2015)

A Assembléia Geral da Organização das Nações Unidas (ONU) declarou 2014 o “**Ano Internacional da Agricultura Familiar**”. Com referência à estrutura produtiva da agricultura familiar brasileira (Censo Agropecuário 2006), assinale a alternativa **INCORRETA**:

- a) 84,4% dos estabelecimentos rurais brasileiros pertencem à agricultura familiar, empregando quase 75% da mão de obra do setor agropecuário.
- b) A agricultura familiar produz mais de 70% dos alimentos consumidos pela população brasileira, mesmo com pouca terra e poucos incentivos de financiamento e crédito para produzir.
- c) Apesar de cultivar uma área menor em lavouras e pastagens, a agricultura familiar é uma importante fornecedora de alimentos para o mercado interno.
- d) A agricultura familiar é responsável pela produção de mandioca, do feijão, do milho, do arroz e do café.
- e) O cultivo com menor participação da agricultura familiar foi a soja (16% da produção) que hoje representa um dos grandes monocultivos brasileiros voltados à exportação

Questão 27 - (FPS PE/2015)

A agricultura moderna tem um impacto ambiental mais nocivo do que qualquer outra atividade humana e esses efeitos podem limitar a produção de alimentos no futuro. Modernamente, algumas práticas agrícolas podem causar efeitos nocivos ao meio ambiente, com repercussões negativas para a saúde humana. Analise, nesse sentido, os efeitos negativos referidos abaixo.

- 1) A emissão de gases de efeito estufa pelo emprego de combustíveis fósseis.
- 2) A emissão de gases de óxido nitroso pelo uso de fertilizantes inorgânicos.
- 3) A morte de peixes em razão do escoamento de pesticidas.
- 4) O decréscimo da erosão em face do emprego da mecanização da lavoura.
- 5) O assoreamento de canais fluviais.
- 6) O aumento da recarga dos aquíferos.

Estão corretas as alternativas:

- a) 1 e 5, apenas.
- b) 1 e 3, apenas.
- c) 3, 4 e 6, apenas.
- d) 1, 2, 3 e 5, apenas.
- e) 1, 2, 3, 4, 5 e 6.

Questão 28 - (PUC RS/2015)

Considere o texto sobre a produção agrícola e os itens que seguem.

Os estudos sobre o sistema de produção agrícola envolvem a análise de aspectos naturais e de fatores socioeconômicos, tais como os apresentados, respectivamente, em:

- 1. estrutura fundiária – perfil do solo
- 2. relações de trabalho – perfil geomorfológico
- 3. condições climáticas – capitalização
- 4. perfil étnico – estrutura etária

5. perfil higrométrico – aporte tecnológico

Estão corretos, na ordem em que se apresentam, apenas os itens

- a) 1 e 2.
- b) 2 e 4.
- c) 3 e 5.
- d) 1, 3 e 4.
- e) 2, 3 e 5.

Questão 29 - (UEFS BA/2015)

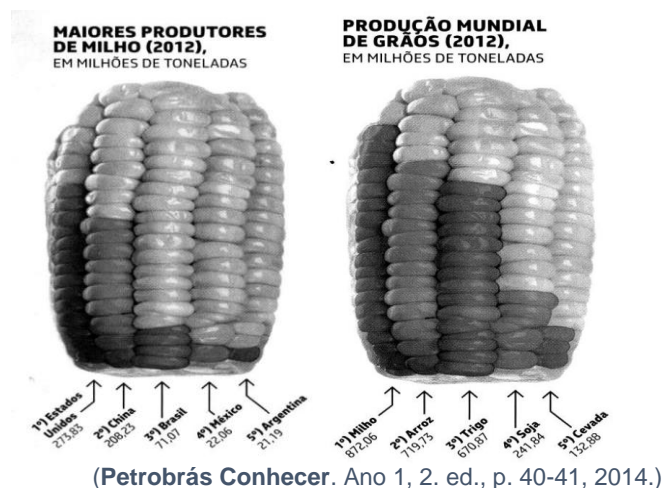
Este tipo de agricultura foi introduzido pelos europeus em suas colônias tropicais a partir do século XVI. Com as transformações na agricultura, passou a ser um sistema intensivo de capitais, mas continua a ser um sistema latifundiário e monocultor de produtos tropicais, voltados para a exportação.

O texto se refere ao sistema agrícola

- a) rotação de terras.
- b) agricultura familiar.
- c) plantation.
- d) rotação de culturas.
- e) agricultura de jardinagem.

Questão 30 - (UFV MG/2015)

O milho é o cereal mais cultivado em todo o planeta. A cada ano, são colhidas quase 900 milhões de toneladas.



A partir da análise das imagens, assinale a afirmativa **INCORRETA**:

- a) Os Estados Unidos são grandes produtores de grãos, e sua agricultura se destaca pela produção em faixas agrícolas denominadas “belts”.
- b) O milho representa um importante produto na balança de exportação de muitos países, e dele se extraem substâncias que são utilizadas em várias indústrias.
- c) O milho, plantado e cultivado em vários países, é o responsável pela alimentação de várias famílias e constitui uma prática da agricultura de subsistência.
- d) As imagens demonstram que os maiores produtores de milho estão no continente americano, sendo sua produção superada pela de arroz.

AGRICULTURA DO BRASIL

Questão 31 - (UEG GO/2017)

A modernização da agricultura brasileira, que no início do século XXI está presente em quase todas as regiões do país, ainda é tratada na literatura como sendo de cunho “conservadora”, uma vez que essa modernização

- a) reduziu o crescimento desordenado das cidades.
- b) restringiu a capacidade produtiva do campo.
- c) limitou a quantidade de áreas destinadas ao desmatamento.
- d) distribuiu alimentos à população de baixa renda.
- e) manteve inalterada a estrutura fundiária do campo.

TEXTO: 4 - Comuns às questões: 32, 52

O domínio do fogo pelos primeiros hominídeos foi de fundamental importância para a sobrevivência da espécie uma vez que o homem conseguiu produzir diversos materiais (metálicos, cerâmicos) que impulsionaram o desenvolvimento de ferramentas e outros artefatos úteis. Além disso, a invenção da roda, há mais de 6.000 anos, promoveu uma revolução, não só no campo dos transportes, como também da comunicação.

Assim, além do fogo e da roda, a máquina a vapor e a eletricidade, dentre outros, foram alguns dos elementos que marcaram os caminhos que a humanidade trilhou para chegar ao seu atual estágio de desenvolvimento, calcado na busca permanente por novas tecnologias e nas revoluções que elas causam.

Nesse contexto, será abordado o eixo temático “Revoluções Tecnológicas” a serviço da humanidade.

Questão 32 - (UCS RS/2017)

A biotecnologia está, a cada dia, propondo novos rumos para a indústria farmacêutica. Uma pesquisa realizada recentemente em parceria entre a Empresa Brasileira de Pesquisa Agropecuária (Embrapa – Recursos Genéticos e Biotecnologia), o Instituto Nacional de Saúde dos Estados Unidos e a Universidade de Londres conseguiu comprovar que sementes de soja geneticamente modificadas constituem, até o momento, a biofábrica mais eficiente e uma opção viável para a produção em larga escala da cianovirina – uma proteína extraída de algas – capaz de impedir a multiplicação do vírus HIV no corpo humano. O resultado inédito foi tema de artigo da *Science*, uma das mais prestigiadas revistas de divulgação científica do mundo.

O trabalho intenso com soja tem uma razão: além de a planta possuir um sistema de produção consolidado no Brasil, biologicamente é excelente, pois aproximadamente 40% (em massa) da semente é proteína e o restante é composto por óleos, carboidratos e minerais.

Disponível em: <<http://agenciabrasil.ebc.com.br/pesquisa-e-inovacao/noticia/2015-03/pesquisadores-extraem-compostocontra-aids-de-soja-transgenica>>.

Acesso em: 12 set. 15. (Adaptado.)

Tendo como referência as informações apresentadas no texto, assinale a alternativa correta.

- a) O recente avanço da cultura da soja sobre grandes porções do território brasileiro gerou uma série de impactos ambientais, como o desmatamento de significativas extensões de vegetação natural. Entre os biomas mais atingidos pela substituição de suas espécies por esse cultivo estão os campos, no Sul; o cerrado, na parte central; e parte da Amazônia, no Norte do País.
- b) A economia brasileira, baseada na monocultura da soja voltada para a exportação, sofreu forte queda com a crise de 1929. Por isso, o governo agiu em defesa dos fazendeiros, proibindo o plantio de novas mudas e ordenando a queima de

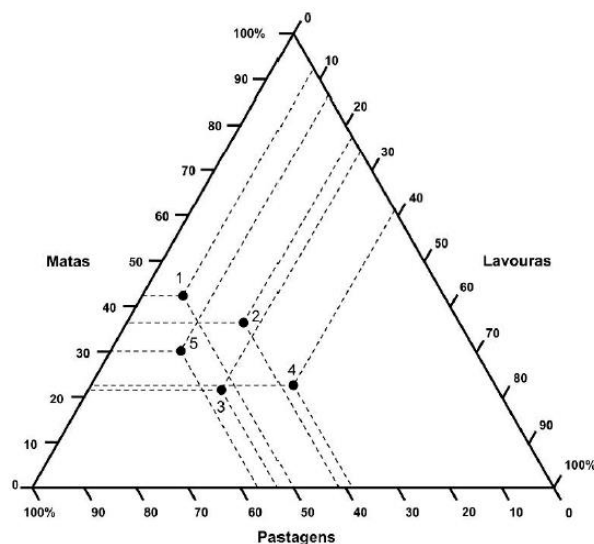
milhões de sacos desse grão que estavam estocados em depósitos do governo à espera de melhores preços.

c) Brasil, Estados Unidos e Inglaterra, juntamente com Rússia e Sri-Lanka, apesar de estarem em Continentes diferentes, integram o Agrupamento Econômico denominado BRICS.

d) As proteínas, formadas pela união de peptídeos, são substâncias químicas fundamentais na fisiologia e na estrutura celular dos organismos, e sua síntese ocorre por intermédio de enzimas presentes nas membranas do complexo de Golgi.

e) Uma indústria alimentícia, ao beneficiar 1,5 toneladas de grãos de soja, irá produzir aproximadamente 80 kg de proteína.

Questão 33 - (UNICAMP SP/2017)



O gráfico triangular acima apresenta a estrutura de utilização das terras dos estabelecimentos agropecuários em cada região brasileira (dados do último Censo Agropecuário do IBGE, Instituto Brasileiro de Geografia e Estatística, de 2006).

(Adaptado de Marcelo Martinelli, *Mapas, gráficos e redes*. Elabore você mesmo. São Paulo: Oficina de Textos, 2014, p. 56.)

Cada ponto representa uma região brasileira. Identifique cada região:

- a) 1 Norte; 2 Nordeste; 3 Sudeste; 4 Sul; 5 Centro-Oeste.
- b) 1 Sudeste; 2 Centro-Oeste; 3 Sul; 4 Norte; 5 Nordeste.
- c) 1 Nordeste; 2 Sul; 3 Centro-Oeste; 4 Sudeste; 5 Norte.
- d) 1 Centro-Oeste; 2 Sudeste; 3 Norte; 4 Nordeste; 5 Sul.

Questão 34 - (Uni-FaceF SP/2017)

O déficit de abastecimento de feijão neste ano é superior a 500 mil toneladas. O consumo estimado pelo governo é de 3 350 milhões de toneladas e a produção nacional das três safras deve chegar a 2 750 milhões de toneladas. Além disso, os estoques reguladores do governo estão nos níveis mais baixos dos últimos anos: 108 mil toneladas.

(economia.estadao.com.br)

Considerando o espaço agrário brasileiro e os sistemas de produção nele praticados, é correto afirmar que um dos motivos do desabastecimento retratado no excerto foi

- a) o avanço da urbanização no território, como a criação de cidades nas regiões Norte e Centro-Oeste, que alteraram os espaços em que havia cultivos de produtos agrícolas.
- b) a prática de barreiras tarifárias, como os impostos municipais e estaduais, que prejudicaram a produção nacional de feijão perante os concorrentes internacionais.

c) o baixo investimento nacional no setor agrícola, como pesquisas e desenvolvimento de sementes, que prejudicaram a produtividade no cultivo de feijão.

d) a elevação dos preços de outros produtos agrícolas, como o da soja e o do milho, que absorveram áreas de cultivo antes destinadas ao feijão.

e) a inserção no país de espécies invasoras, como pulgões e traças, que comprometeram a qualidade esperada no cultivo de feijão.

Questão 35 - (FGV/2017)

O gráfico a seguir apresenta a evolução das exportações brasileiras de carne bovina, a partir de 2000.

EVOLUÇÃO DAS EXPORTAÇÕES BRASILEIRAS DE CARNE BOVINA

Exportações Brasileiras de Carne Bovina - 2000 a 2013
Em mil. ton. (equiv. carcaça) e US\$ Milhões



Com relação às exportações brasileiras de carne bovina, assinale V para a afirmação verdadeira e F para a falsa.

() A criação do “boi verde”, com rebanhos soltos e alimentados em pastagens naturais, atende aos mercados mais seletivos e estimula as exportações.

() As melhorias genéticas, a certificação sanitária pelo uso de vacinas e o rastreamento de origem dos animais garantem uma qualidade que torna competitiva a produção brasileira.

() Restrições éticas e ambientais, como o uso de mão de obra escrava e o desmatamento da Floresta Amazônica para formação de pastagens, explicam a queda das exportações entre 2008 e 2011.

As afirmações são, respectivamente,

- a) V – V – F.
- b) V – F – F.
- c) F – V – V.
- d) F – V – F.
- e) F – F – V.

Questão 36 - (FGV/2017)

Evolução do índice de Gini da propriedade da terra

Grandes Regiões	1967	1972	1978	1992	1998	2000
Norte	0,882	0,889	0,898	0,878	0,871	0,714
Nordeste	0,809	0,799	0,819	0,792	0,811	0,780
Sudeste	0,763	0,754	0,765	0,749	0,757	0,750
Sul	0,722	0,706	0,701	0,705	0,712	0,707
Centro-oeste	0,833	0,842	0,831	0,797	0,798	0,802
Brasil	0,836	0,837	0,854	0,831	0,843	0,802


(DIEESE. Estatísticas do meio rural 2010-2011, 2011. Adaptado)

A operacionalização do Índice de Gini e sua expressão na tabela manifestam

- a) o acesso igualitário às terras, resultado da reforma agrária.
- b) a concentração de terras, decorrente da herança latifundiária.
- c) a valorização dos imóveis rurais, fruto da especulação imobiliária.
- d) o aumento das terras improdutivas, provocado pelo êxodo rural.
- e) a modernização do campo, incentivada por associações regionais.

Questão 37 - (Fac. Israelita de C. da Saãde Albert Einstein SP/2017)

Observe esta famosa pintura:



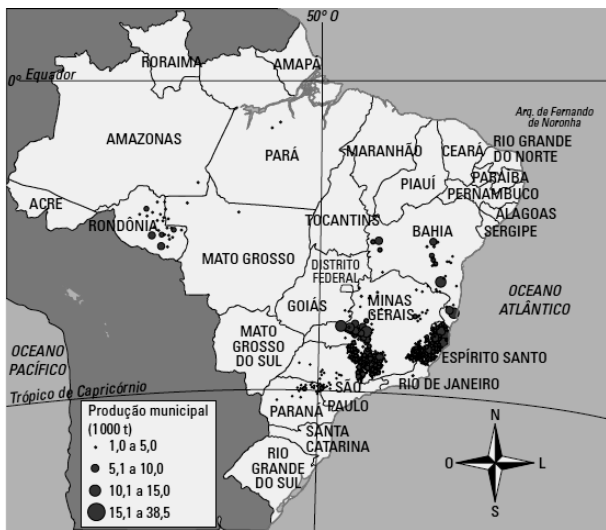
O Lavrador de Café (1934) - Candido Portinari

Na tela o pintor retrata, além do personagem do lavrador, uma paisagem de fundo integralmente tomada pela lavoura do café. Sobre a prática agrícola, tal como está expressa, é correto dizer que

- a) com o café plantado em linha, inclusive no morro, preservaram-se os solos, o que facilitou a recuperação do ambiente depois que a onda cafeeira passou.
- b) no primeiro plano, o lavrador lavra o morro, cujo destino será o do morro de fundo com plantações no seu topo, algo condenável nos dias de hoje.
- c) a ausência de curvas de nível na lavoura, tal como se percebe no morro, impedia o processo erosivo, pois, exposta a isso, a plantação seria prejudicada.
- d) lavouras a perder de vista como a retratada, sem nenhuma mancha de mata anterior, de fato não ocorreram; trata-se de uma liberdade do artista.

Questão 38 - (ESPM SP/2017)

Observe o mapa e indique a qual gênero agrícola ele está associado.



Fonte: <http://www.editoradobrasil.com.br/jimboe/galeria/imagens/index.aspx?d=geografia&a=4&u=2&t=mapa>. Acesso: 23/08/2012.

- a) Cana-de-açúcar.
- b) Café.
- c) Soja.
- d) Cacau.
- e) Algodão.

TEXTO: 5 - Comuns às questões: 39, 40

Pecuaristas perdem gado e produção de leite

O gado é o mais afetado pela seca. Na região de Itapetinga, no sudoeste da Bahia, onde está 40% do rebanho do estado, mais de 30 mil cabeças de gado morreram em 14 municípios da região, segundo a Agência de Defesa Agropecuária do estado. Nos últimos 11 meses, só choveu forte em duas semanas de janeiro. Nos outros meses, os índices ficaram muito abaixo da média. [...] A estiagem atingiu até mesmo o litoral sul, lugar de mata atlântica, onde normalmente chove por ano 2 mil milímetros bem distribuídos. Porém, no primeiro semestre de 2016 só choveu 500 mil milímetros.

Fonte: G1 Notícias – Globo Rural (Edição do dia 31/07/2016)

Questão 39 - (IFBA/2017)

De acordo com a reportagem citada pode se entender que:

- a) O aumento do preço do leite, como ocorreu no final do primeiro semestre de 2016, tem a ver com as condições climáticas e de produção agropecuária.
- b) A atividade agropecuária desenvolve-se em pequenas porções de terra e nada tem a ver com estrutura fundiária do país.
- c) A pequena propriedade e a agricultura familiar são as atividades agrícolas que encontram menores dificuldades, pois envolvem pequenas áreas de produção.
- d) A pecuária extensiva não influi no clima, apenas depende dessas condições, assim os preços dos produtos agrícolas dependem apenas do interesse do agricultor.
- e) As atividades agrícolas geram apenas alimentos e matéria-prima sem nenhum beneficiamento, por isso não tem impacto nas condições sociais e econômicas.

Questão 40 - (IFBA/2017)

Sobre as condições ambientais da agropecuária pode-se afirmar que:

- a) Fenômenos climáticos, como o El Niño, não afetam a produção, pois todos os produtores estão preparados para seus leves efeitos.
- b) O relevo e o clima devem ser observados na distribuição dos tipos de cultivo, manejo e escoamento dos produtos.

- c) No Brasil, devido à extensão do território e sua variedade climática, não se percebe o impacto de fenômenos atmosféricos.
- d) A tecnologia e o uso de insumos agrícolas eliminam a influência do clima sobre as lavouras e a pecuária.
- e) A região da Mata Atlântica é uma paisagem isolada no Sul da Bahia, onde não há possibilidades para o desenvolvimento da agricultura.

Questão 41 - (IFPE/2017)

Entre as décadas de 1940 e 1960, as lutas por reformas sociais fizeram parte dos movimentos políticos na América Latina e tiveram como umas das questões centrais o problema do latifúndio. No Brasil, uma das reivindicações dos movimentos sociais ligados a trabalhadores rurais foi inserida nas posturas de reformas de base do governo João Goulart (1961-1964) e correspondia

- a) à extensão do direito de voto aos analfabetos.
- b) à reforma urbana.
- c) à reforma fiscal.
- d) à reforma agrária.
- e) à reforma tributária.

Questão 42 - (Mackenzie SP/2017)

O Estatuto da Terra é a lei federal 4.504, criada em novembro de 1964, que trata da questão fundiária no Brasil. Sobre a complexa configuração atual que envolve a propriedade rural no país, analise as afirmações a seguir.

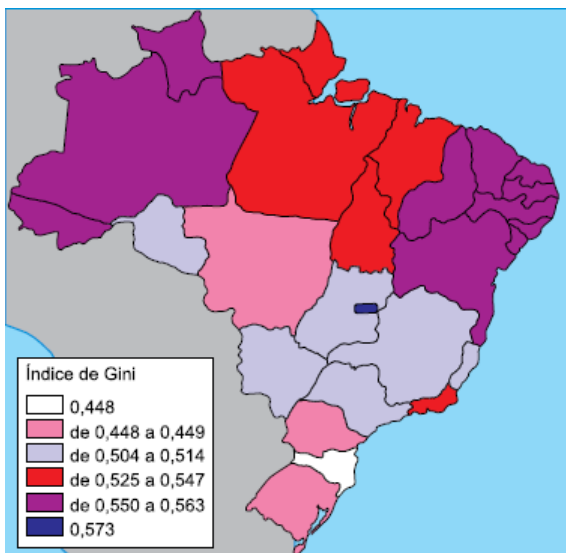
- I. Caracteriza-se como estrutura fundiária o número de propriedades rurais em relação à área que ocupam, como também sua distribuição em território nacional.
- II. No caso do Brasil, a configuração atual da estrutura fundiária é compreendida a partir do modelo de ocupação e desenvolvimento histórico do seu espaço rural, voltado para as grandes propriedades agroexportadoras de produtos tropicais do período colonial.
- III. A estrutura fundiária brasileira é calcada nas grandes propriedades (latifúndios). Extensas áreas rurais de um único proprietário, mesmo sendo consideradas improdutivas, assim permanecem, aguardando pela valorização imobiliária ou, ainda, para confirmar o poder político de gerações.
- IV. A Constituição de 1988 estabeleceu um novo regramento jurídico para viabilizar a reforma agrária no país. Mesmo com fortes intenções de mudanças, os processos de desapropriação de terras improdutivas vêm ocorrendo de forma bastante lenta no país.

Estão corretas,

- a) I e II, apenas.
- b) II e III, apenas.
- c) I, II e III, apenas.
- d) II, III e IV, apenas.
- e) I, II, III e IV.

Questão 43 - (UEA AM/2017)

Índice de Gini no Brasil



(Graça M. L. Ferreira. Atlas geográfico, 2013.)

A partir do mapa, é correto afirmar que

- os estados do Acre, do Amazonas e de Roraima apresentam alta taxa de concentração de renda.
- os estados da região Nordeste apresentam alto nível de desenvolvimento humano.
- os estados da região Sul apresentam baixo rendimento *per capita*.
- os estados do Tocantins e de Goiás apresentam altas taxas de escolarização.
- os estados da região Sudeste apresentam baixas taxas de expectativa de vida.

Questão 44 - (UECE/2017)

Assinalar a extemporaneidade da expressão *agrobusiness*, comumente atrelada a esse modelo de exploração, não deixa de ser pertinente, já que parece bastante impróprio utilizá-la para referendar a comparação a que se propõe. [...] flagra-se a realidade em que foi originalmente forjado e a brasileira. Portanto é inegável a sua descontextualização, ainda que se queira destacar setores do campo tido como modernos.

Paulino, E. T. Por uma geografia dos camponeses. Unesp. 2006. p. 104.

O pensamento da autora em relação à questão agrária brasileira demonstra que o setor agrário

- é linear e homogêneo em todo o país.
- é mais desenvolvido nas regiões Sul, Sudeste e Nordeste.
- apresenta diferenças sociais, culturais e econômicas.
- tem experimentado um crescimento igual ao dos países desenvolvidos.

Questão 45 - (UECE/2017)

A soja brasileira representa um dos mais importantes produtos para a economia nacional. Analise as seguintes afirmações sobre esse grão:

- A soja é uma planta originalmente nativa do Brasil. Contudo, durante a colonização do território foi levada para a Europa, sendo introduzida mais tarde na Ásia e EUA.
- A partir da década de 1960 surgem as primeiras lavouras comerciais no Brasil, que se integraram rapidamente no sistema de rotação com milho e em sucessão às culturas do trigo, cevada e aveia.
- Dentre os fatores responsáveis pela difusão da soja no Brasil, está a política de incentivo ao plantio do grão visando à autossuficiência nacional, estabelecendo a soja como cultura economicamente importante para o Brasil.

Está correto o que se afirma em

- I e II apenas.
- II e III apenas.
- I e III apenas.
- I, II e III.

Questão 46 - (UFPR/2017)

Os processos industriais não imitam a natureza; a agroecologia, sim, o faz. Substitui os insumos externos, como o fertilizante, por saberes de como combinar plantas, árvores e animais, de tal forma que se reforce a produtividade da terra. [...] a produtividade aumentou até 214% em 44 projetos em 20 países da África Subsaariana mediante técnicas de agroecologia em um período de 3-10 anos [...] muito mais do que qualquer cultivo geneticamente modificado alguma vez já tenha conseguido [...]. Outras avaliações científicas recentes mostraram que os camponeses de 57 países que utilizam técnicas agroecológicas obtiveram aumento de até 80% na produtividade. O aumento médio dos africanos é de 116% [...]. Hoje, a evidência científica demonstra que os métodos agroecológicos são muito melhores do que os fertilizantes químicos para aumentar a produção de alimentos em regiões onde vivem os famintos.

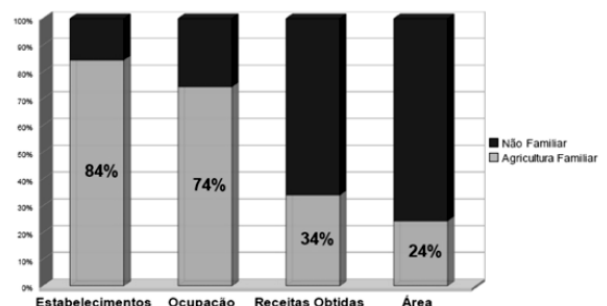
(Fontes: Stephen Leahy, Mudança climática e cultivos ecológicos, 20 dec. 2011. Disponível em <<https://www.grain.org/article/entries/4439-mudanca-climatica-e-cultivos-ecologicos>>.

Olivier de Schutter: "La agroecología y el derecho a la alimentación", relatório apresentado no Conselho de Direitos Humanos, 8 de mar. 2011.)

Com base nas informações do texto e nos conhecimentos de geografia agrária, assinale a alternativa correta.

- A agroecologia é uma técnica agrícola própria dos agricultores africanos, motivo pelo qual aquele continente é sempre usado como exemplo nesse tipo de produção.
- A integração de práticas produtivas locais com cultivos geneticamente modificados faz com que a agroecologia tenha uma visão ecológica do meio ambiente.
- A agroecologia está se revelando como uma opção para a produção de alimentos saudáveis, mas sua produção ainda é inferior à produção convencional.
- A forma agroecológica de produzir foi introduzida no Brasil na década de 70 do sec. XX, quando a modernização da agricultura promoveu o que se denominou de "revolução verde".
- Um dos aspectos negativos da produção agroecológica são os problemas sociais e ambientais, pois esse modelo de produção ocupa pouca mão de obra em grandes extensões e consome muitos recursos naturais.

Questão 47 - (UNCISAL AL/2017)



Disponível em: <http://www.mma.gov.br/estruturas/educamb/_imagens/grafico2_20.jpg>. Acesso em: 22 nov. 2016.

A partir do gráfico, os aspectos comparados dos dois modelos de agricultura revelam a

- baixa representação dos estabelecimentos de minifúndios.
- concentração de terras e receitas pela agricultura não familiar.
- correlação proporcional entre os índices de ocupação e receita.

- d) distribuição maior de receitas obtidas para a agricultura familiar.
- e) predominância estatística de estabelecimentos não familiares.

Questão 48 - (UNCISAL AL/2017)

No Brasil colônia, o responsável pela produção açucareira – o senhor de engenho – tinha enorme prestígio social. Era um tipo de “nobre da terra”, um membro da “açucarocracia”, que produzia a partir de um modelo centrado nos princípios capitalistas de produção da época. A agricultura assentava-se sobre o latifúndio monocultor, escravista e exportador.

VAINFAS, Ronaldo (Dir.). *Dicionário do Brasil colonial*. Rio de Janeiro: Objetiva, 2000 (adaptado).

O modo de produção descrito no texto é conhecido como

- a) roça.
- b) plantation.
- c) agrofeudal.
- d) rotação de cultivo.
- e) agricultura coletiva.

Questão 49 - (UEM PR/2017)

A propósito das atividades agropecuárias e da dinâmica do espaço rural no Brasil, assinale o que for **correto**.

01. À medida que a indústria se tornava o eixo central da economia nacional, a partir da década de 1950, a agricultura tornava-se mais dependente das atividades do setor secundário.

02. O Censo Agropecuário de 2006 indica que as propriedades rurais com mais de 1.000 hectares representavam menos de 1% dos estabelecimentos e ocupavam 44% da área agrícola total do País.

04. A soja e seus derivados, a cana-de-açúcar, a laranja e o café são os principais produtos agrícolas cultivados para o abastecimento do mercado interno brasileiro.

08. A expansão da cultura do trigo tem levado à intensificação de seu cultivo na faixa litorânea úmida nordestina.

16. A crise de 1929 impulsionou a produção cafeeira nacional, resultando no início do cultivo de cafezais nas regiões do Vale do Paraíba fluminense e paulista.

Questão 50 - (Fac. Direito de Sorocaba SP/2016)

Afetado por cenários econômicos adversos tanto no plano nacional quanto internacional, o rebanho bovino fechou 2014 com crescimento de 0,3% em relação a 2013, informou o Instituto Brasileiro de Geografia e Estatística (IBGE). O rebanho alcançou 212,3 milhões de cabeças, acréscimo de 569 mil animais em relação a 2013.

(<http://www.ebc.com.br/noticias/economia/2015/10/rebanho-bovino-do-brasil--cresce-03-em-2014-diz-ibge>)

Sobre a pecuária bovina no Brasil, é correto afirmar que

- a) a redução das exportações de carne tem afetado a criação de gado do sul do Brasil.
- b) os longos períodos de seca na Amazônia afetaram a pecuária regional.
- c) a região Centro-Oeste concentra os maiores rebanhos de bovinos do país.
- d) os estados de São Paulo, Rio de Janeiro e Goiás apresentam os maiores rebanhos do país.
- e) as maiores criações de gado do país ocupam áreas antes cobertas pela mata atlântica.

Questão 51 - (FGV/2017)

Analise a tirinha a seguir.



A partir da tirinha, é correto afirmar que a linha de montagem fordista

- estabelece tarefas específicas para cada operário, o que restringe sua percepção sobre o bem final produzido.
- permite que o operário realize funções variadas, o que elimina o sobretabalho e garante um salário justo.
- exige uma qualificação diversificada do operário, o que permite sua participação nas várias etapas do processo produtivo.
- aumenta a velocidade do processo produtivo, o que estimula a produtividade e a cogestão dos operários.
- intensifica a participação do fator trabalho, o que garante a inclusão dos trabalhadores nas decisões do processo produtivo.

TEXTO: 6 - Comuns às questões: 32, 52

O domínio do fogo pelos primeiros hominídeos foi de fundamental importância para a sobrevivência da espécie uma vez que o homem conseguiu produzir diversos materiais (metálicos, cerâmicos) que impulsionaram o desenvolvimento de ferramentas e outros artefatos úteis. Além disso, a invenção da roda, há mais de 6.000 anos, promoveu uma revolução, não só no campo dos transportes, como também da comunicação.

Assim, além do fogo e da roda, a máquina a vapor e a eletricidade, dentre outros, foram alguns dos elementos que marcaram os caminhos que a humanidade trilhou para chegar ao seu atual estágio de desenvolvimento, calcado na busca permanente por novas tecnologias e nas revoluções que elas causam.

Nesse contexto, será abordado o eixo temático “Revoluções Tecnológicas” a serviço da humanidade.

Questão 52 - (UCS RS/2017)

Em 2015, o sueco Felix Kjellber, 25 anos, mais conhecido na internet como *PewDiePie*, atingiu, no dia 6 de setembro, a marca de 10 bilhões de visualizações no seu canal do *YouTube*, especializado em games. Por esse feito, hoje ele é apontado como o “YouTuber” mais popular do mundo. Somente no ano de 2014, Felix faturou 7,4 milhões de dólares por essa atividade. Esses números tornam-se ainda mais interessantes considerando que, há dez anos, tal profissão sequer existia. O progresso tecnológico está intimamente ligado aos processos de criação e extinção de profissões. Se, por um lado, empresas de tendências apontam para as profissões do futuro, como por exemplo, o produtor de aplicativos para celular (já uma realidade), o condutor de drone, o consultor de carreira via *Skype*; por outro, apenas na memória dos mais velhos ou nas páginas dos livros de história há o acendedor de lâmpadas a querosene, o datilógrafo, o leitor para entreter trabalhadores na indústria, o leiteiro de porta em porta, o telegrafista.

Baseado nesse contexto, é correto afirmar que

- o telégrafo (baseado na transmissão de pulsos de ondas sonoras em cabos condutores) foi substituído quando se passou

a utilizar o fenômeno da convecção para comunicação por fibra ótica.

b) o cenário do “YouTuber” em que uma pessoa fisicamente sozinha em casa comunica-se com milhões de pessoas ao redor do mundo, pode ser comparado à obra “O Mito da Caverna”, do filósofo grego Platão, em que um personagem, vivendo isolado em uma caverna, tem contato com todos os eventos do mundo exterior através da mítica presença do *Aleph*.

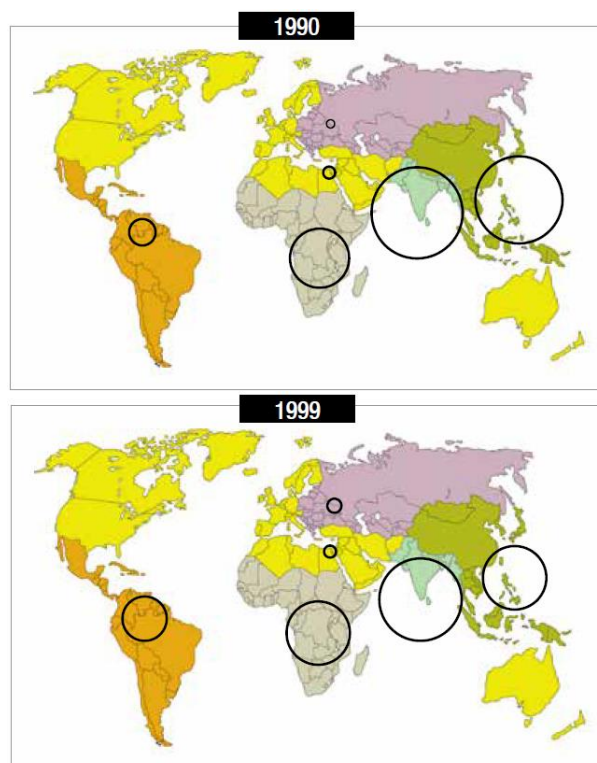
c) a suposição de que o *YouTube* paga 1.000 dólares a cada 50.000 visualizações implica que, só em 2014, *PewDiePie* atingiu 940 milhões de visualizações.

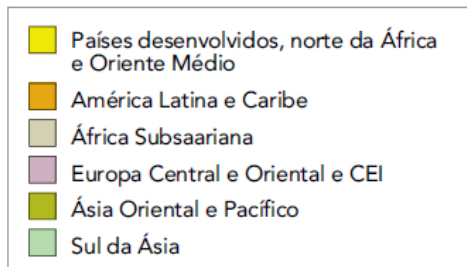
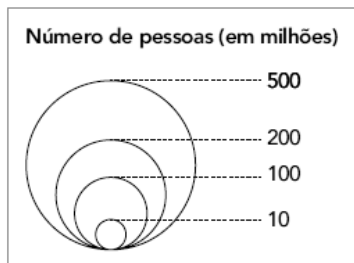
d) as primeiras indústrias do estado de São Paulo, criadas no início do século XIX, contratavam pessoas para lerem aos funcionários romances populares da época, como *Iracema*, de José de Alencar. Por isso, a região onde elas se instalaram ficou conhecida como ABC.

e) a produção do querosene, uma fração típica do petróleo e cujo ponto de ebulição é menor do que o do óleo diesel, levou à decadência da indústria baleeira devido à substituição do óleo de baleia utilizado na iluminação pública.

Questão 53 - (UERJ/2017)

Distribuição das pessoas que vivem com menos de um dólar por dia






Adaptado de TERRA, L. e outros. **Conexões: Estudos de Geografia Geral e do Brasil. São Paulo: Moderna, 2008.**

A partir da análise dos mapas, identifica-se que a diminuição da pobreza, entre 1990 e 1999, foi mais acentuada em determinada região do mundo.

Um processo socioeconômico que explica o desempenho alcançado por essa região é:

- a) tecnificação agrícola
- b) redistribuição fundiária
- c) industrialização periférica
- d) reformulação previdenciária

Questão 54 - (UNESP SP/2017)



(Caulos. *Só dói quando eu respiro*, 2012.)

O processo ironizado na charge, em que cada participante da reunião acrescenta um item à imagem do operário, refere-se

- a) à tomada de decisões no âmbito coletivo, que integra os operários no planejamento fabril e valoriza o trabalho.

- b) à alienação do trabalho, que fragmenta as etapas produtivas e controla os movimentos dos trabalhadores.
- c) ao aumento das exigências contratuais, que elevam o desemprego estrutural e alimentam as instituições de qualificação profissional.
- d) à substituição do trabalhador na linha de montagem, que mecaniza as fábricas e evita a especialização produtiva.
- e) ao desenvolvimento de novas técnicas, que complexificam a produção e selecionam os profissionais com domínio global sobre o produto.

Questão 55 - (UNICAMP SP/2017)

A presença de empresas globais que dominam o mercado de tecnologia no mundo costuma gerar atritos com os governos nacionais e impactos de diferentes dimensões em sua indústria cultural e na privacidade dos indivíduos. Diante do poder dessas grandes empresas, os Estados nacionais buscam estabelecer regras antitrustes para o setor.

(Adaptado de Farhad Manjoo, *The New York Times/Folha de São Paulo*, 11/06/2016, p. 1 e 2.)

Com relação ao poder econômico e político das empresas globais de tecnologia digital e as ações dos governos nacionais, é correto afirmar que:

- a) A tecnologia digital representou uma expressiva reestruturação da ordem global. Houve maior democratização da circulação de informações pela internet e os Estados nacionais perderam totalmente o controle do conteúdo transmitido pelas redes digitais.
- b) O poder das grandes empresas de tecnologia predomina apenas nos países pobres, cujos Estados dispõem de limitadas legislações para o controle desses grupos econômicos em seus territórios, sobretudo no que diz respeito às mídias globais.
- c) As leis antitrustes surgiram no final do século XX e foram criadas pelos Estados nacionais para o controle do poder econômico das empresas globais do mercado de tecnologia digital, setor que costuma desenvolver práticas de mercado anticompetitivas.
- d) As empresas de tecnologia digital formam verdadeiros oligopólios e controlam diversas redes informacionais; apesar disso, elas ainda dependem das legislações dos Estados nacionais para a atuação nos territórios e comercialização dos seus produtos.

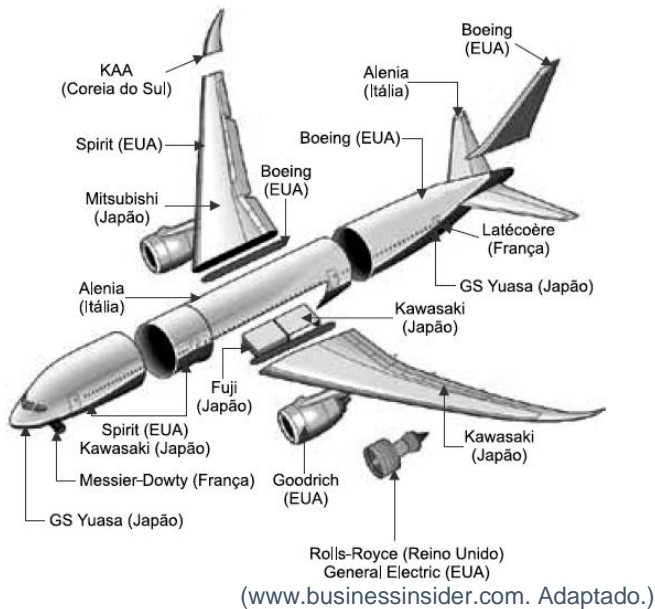
Questão 56 - (UEFS BA/2017)

Considerando-se os conhecimentos sobre o espaço da produção industrial mundial, é correto afirmar:

- 01. Uma estratégia própria do capitalismo pós-fordista está relacionada à formação de estoques com o consequente aumento dos lucros empresariais.
- 02. A industrialização tardia, realizada recentemente pelos países emergentes, só foi possível por causa da conquista da emancipação econômica por parte desses países.
- 03. O modelo flexível de produção leva, de modo geral, à concentração de trabalhadores nas áreas metropolitanas, com hipertrofia do setor secundário.
- 04. O crescimento do setor secundário chinês foi e continua sendo, mesmo após a abertura para o capital estrangeiro, fortemente marcado pela presença e controle do Estado, o qual intensifica *joint ventures* entre empresas estrangeiras e indústrias nacionais.
- 05. Os países de industrialização clássica se desenvolveram tecnologicamente ao longo da primeira metade do século XX, sendo que somente a Inglaterra se desenvolveu nesse sentido, durante a primeira Revolução Industrial

Questão 57 - (UNESP SP/2017)

Origem das peças do Boeing 787 – Empresa (país)



Considerando o exemplo apresentado e a expansão das multinacionais no contexto da globalização, identifique e caracterize o que ocorre com o processo produtivo das multinacionais. Cite dois fatores que levam as empresas a adotar essa nova estratégia.

Questão 58 - (FGV/2017)

A organização da produção industrial inaugurada na segunda metade do século XX procurou superar os gargalos do modelo fordista em momentos de crise. Nesse novo paradigma, as indústrias implantaram a economia de escopo, caracterizada pela

- produção descentralizada em plantas fabris reduzidas e flexíveis.
- organização fabril intensiva em mão de obra e atividades manuais.
- produção centralizada em grandes fábricas com estruturação rígida.
- organização de grandes estoques em áreas com maior mercado consumidor.
- produção racionalizada em linhas de montagem repetitivas e insalubres.

Questão 59 - (ESPM SP/2017)

O empresário Henry Ford (1863-1947) foi um gênio e também um homem cheio de contradições: abriu as portas de suas fábricas para homens de diversas partes do mundo. Foi capaz de dobrar o salário mínimo na sua fábrica, atraindo a fúria de seus rivais, mas colocou um capanga para liderar, a base do medo, sua indústria; contratou um navio para levar pacifistas à Europa para tentar acabar com a Primeira Guerra, mas apresentava um antissemitismo que lhe rendeu elogios de Adolf Hitler.

(Richard Snow. Ford – **O homem que transformou o consumo e inventou a Era Moderna**)

O texto trata de Henry Ford, empresário responsável pelo fordismo, termo este que pode ser definido como:

- sistema produtivo que consiste na divisão do trabalho e especialização do operário em uma só tarefa;
- um processo industrial em que há produção em série, linhas de montagem, produção em massa;
- um processo industrial que adota a utilização de pequenos e altos índices de terceirização;
- um processo de produção caracterizado pelo altíssimo grau de informatização e automação, forte presença dos sindicatos trabalhistas e mão de obra altamente qualificada;
- sistema de administração da produção que determina que nada deve ser produzido, transportado ou comprado antes da hora certa.

Questão 60 - (IFPE/2017)

Um dos marcos iniciais da Idade Contemporânea é a Revolução Industrial, a partir da qual a produção tornou-se mecanizada (realizada a partir de máquinas), reduzindo o tempo de fabricação e aumentando, assim, os lucros. Analise as seguintes proposições sobre esse tema.

- As primeiras máquinas surgidas eram bastante simples e baratas e foram empregadas nas atividades da nascente indústria têxtil.
- A industrialização iniciou-se, simultaneamente, em todos os países da Europa, sempre a partir de um maquinário leve e barato.
- A rotina das fábricas era marcada por longas jornadas de trabalho e condições desfavoráveis de higiene e segurança para os trabalhadores.
- A Revolução Industrial ocorreu primeiramente na Inglaterra devido a fatores como a disponibilidade de recursos financeiros e mão de obra.
- Com a industrialização, surgiu, também, a organização do movimento operário, que lutava por direitos dos trabalhadores e melhores condições de vida.

Estão CORRETAS apenas as proposições

- I, II, III e V.
- I, III, IV e V.
- I, III e V.
- III, IV e V.
- II, IV e V.

Questão 61 - (IFRS/2017)

Observe a charge a seguir.



Disponível em: https://2.bp.blogspot.com/-5TO_2g3OdPY/V4C4XcoJxul/AAAAAAAAAe8k/fJbRmMKrtQsm_givFMMA33_9yEx7z0AFwClcB/s1600/00000000000.jpg Acesso em: 28 ago. 2016.

Em reunião com o presidente interino Michel Temer, ocorrida no mês de julho de 2016, o presidente da Confederação Nacional da Indústria (CNI), Robson Andrade, levantou a hipótese de um aumento de carga de trabalho semanal, inspirado em mudanças em debate na França. O tema surgiu em decorrência da perda de competitividade das empresas de ambos os países no sistema internacional, o que tem provocado o aumento dos gastos e a perda de lucratividade das empresas. Curiosamente, tais alterações sugeridas guardam semelhanças com práticas desenvolvidas séculos atrás.

Assinale a alternativa que indica corretamente o contexto em que essas ditas circunstâncias ocorriam.

- O trabalho compulsório imposto aos felás para a construção das pirâmides egípcias nos períodos de maior fartura do império.
- A corveia prestada pelos camponeses para os senhores feudais durante três ou mais dias por semana.
- A prestação de serviços pelo vassalo em relação ao suserano em virtude da dívida de honra que o primeiro tinha para com o segundo.

d) As jornadas de trabalho existentes durante as décadas que se sucederam ao desenvolvimento e à expansão da Revolução Industrial pela Europa.

e) Os serviços domésticos executados no Brasil Colônia pelos escravos de origem africana nas fazendas.

Questão 62 - (UEM PR/2017)

A respeito das atividades produtivas econômicas e da organização do espaço mundial, assinale o que for **correto**.

01. Por intermédio do trabalho, a sociedade estabelece relações entre si e com a natureza. Desse modo, ao produzir o necessário para viver (moradias, fábricas, plantações), a sociedade também produz o que se chama de "espaço geográfico".

02. "Industrialização planejada" é o termo que designa um conjunto específico de atividades do setor secundário nos países capitalistas.

04. "Industrialização periférica" é o termo que define uma industrialização historicamente atrasada em relação ao surgimento desse tipo de atividade, tendo ocorrido em muitos países do Terceiro Mundo.

08. Durante a Primeira Revolução Industrial, a procura por mão de obra qualificada era elevada, ao passo que as matérias-primas tinham menor importância no processo de produção.

16. O acréscimo de ciência e tecnologia às bases da produção tem conferido à educação um papel primordial no cenário econômico mundial, na atualidade, muito embora investimentos em educação não sejam prioridade em vários países do globo.

Questão 63 - (FGV/2016)

A partir da década de 1970, a informática e a eletrônica "diminuíram" o tempo e a distância e, graças à eficiência das novas tecnologias, tornaram possível a flexibilização da produção.

Sobre o modelo de produção flexível, assinale a afirmação correta.

- a) A participação dos funcionários nas decisões possibilita a uniformização do processo produtivo.
- b) A eliminação de estoques permite a redução dos custos e o aumento da produtividade.
- c) A renovação da linha de montagem exige a contratação de numerosa mão de obra.
- d) A adoção das novas tecnologias mantém a produção massificada e uniforme.
- e) A valorização do trabalho individual garante o controle de qualidade.

Questão 64 - (Fac. Direito de São Bernardo do Campo SP/2016)

Leia:

"Carros que dirigem sozinhos, serviços de entregas feitos por robôs, *softwares* cuidadores de idosos e "serpentes" cirurgiãs. A automação promete ganhos milionários para as empresas do setor, mas o que acontece com as pessoas que executam as mesmas tarefas que esses robôs? A nova tecnologia vai ajudá-los a trabalhar de forma mais eficiente ou vai colocar seus empregos em risco?"

(Rob Crossley. Robôs x empregos: a automação vai fechar mais vagas do que criar? In BBC Brasil, http://www.bbc.com/portuguese/noticias/2014/06/140630_robos_empregos_lab, acesso 27/10/2015)

A discussão sobre as repercussões do desenvolvimento tecnológico são sempre muito controversas. No que diz respeito aos impactos na geografia econômica dos países, é certo afirmar que

a) a automação na produção agrícola brasileira significou uma perda inicial de empregos, mas houve crescimento posterior em

razão do aumento da produção, e o mundo rural permaneceu mais ou menos com a mesma população.

b) a automação industrial que foi intensa em certos países não implicou que esses fossem os maiores produtores industriais do mundo, visto que alguns países possuem uma indústria muito vigorosa, fazendo uso intensivo de mão de obra.

c) a questão do desemprego afeta mesmo os países mais industrializados, visto que nos outros setores econômicos as possibilidades de automação são ainda promessas. Assim, países menos industrializados têm menos desemprego.

d) a automação acelerada no setor de serviços está gerando um grande desemprego especialmente nas aglomerações urbanas. Como nesses espaços os serviços são o mercado dominante, as taxas de crescimento urbano estão refluindo.

Questão 65 - (PUCCAMP/2016)

Com base numa ideia central de Lucien Goldmann, o crítico e historiador Alfredo Bosi propõe, para a moderna ficção brasileira, enquadramentos como estes:

I. **romances de tensão mínima:** as personagens não se destacam visceralmente da estrutura social e da paisagem que as condicionam. Exemplos, as histórias populistas de Jorge Amado.

II. **romances de tensão crítica:** o herói opõe-se e resiste agonicamente às pressões da natureza e da exploração social. Exemplos, os romances de Graciliano Ramos.

III. **romances de tensão transfigurada:** o herói procura ultrapassar o conflito que o constitui existencialmente pela transmutação mítica ou metafísica da realidade: Exemplos, Guimarães Rosa e Clarice Lispector.

(Apud **História concisa da literatura brasileira**. São Paulo: Cultrix, 1970)

Durante o processo de industrialização na Europa, a *exploração social* foi intensa devido às duras condições de trabalho impostas, contra as quais emergiram movimentos operários significativos no século XIX, caso do

- a) Bolchevismo, que aglutinou trabalhadores urbanos em uma entidade Internacional que pregava a aliança operário-camponês.
- b) Cartismo, que reivindicava o sufrágio universal e teve origem na Carta ao Povo, manifesto enviado ao parlamento inglês com apoio de diversos setores sociais.
- c) Taylorismo, que defendia a atuação de um conselheiro operários no gerenciamento das fábricas, a fim de assegurar sua participação nos lucros.
- d) Ludismo, que promovia a destruição de máquinas, a implantação do socialismo e a anulação dos cercamentos para que os operários retornassem ao campo.
- e) Anarcossindicalismo, que defendia o livre coletivismo em substituição aos sindicatos e corporações de trabalhadores.

Questão 66 - (PUCCAMP/2016)

Durante o século XVIII, a Revolução Industrial constituiu um fenômeno predominantemente inglês. Mas a partir do século seguinte, começou a se expandir para vários países, provocando grandes transformações na vida das pessoas, uma vez que, com

- a) a redução das jornadas de trabalho nas fábricas de tecidos, a organização do mercado de trabalho se desenvolveu de maneira a assegurar emprego a todos os assalariados das grandes cidades industriais inglesas.
- b) a introdução das máquinas nas indústrias, aumentou a taxa de acumulação e do lucro das empresas, possibilitando uma maior distribuição de renda por meio da elevação do valor dos salários dos trabalhadores.
- c) a ascensão social dos artesãos, que reuniram seus capitais e ferramentas em oficinas ou em fábricas, aumentou os núcleos domésticos de produção e possibilitou a acumulação primitiva de capital ao operariado.
- d) o aumento da interferência do Estado na regulamentação da jornada de trabalho, salário e na criação de sindicatos, deixou o

trabalhador sem espaço de manobra na luta por melhores condições de trabalho.

e) máquinas cada vez mais sofisticadas, a fábrica tornou-se o local adequado para a produção, favorecendo a divisão do trabalho, a imposição do horário, da disciplina ao trabalhador e o aumento da produtividade.

Questão 67 - (UECE/2016)

A partir dos anos 1980, quando gradativamente espalharam-se pelo mundo as grandes empresas e as novas tecnologias, como a internet, os satélites e os meios digitais, ocorreu um fenômeno global que favoreceu o aumento da produtividade econômica e a aceleração dos fluxos de capitais, mercadorias, informações e pessoas. Este processo, predominante em países desenvolvidos e alguns países emergentes, formou, nos territórios, um meio conhecido como

- a) científico-agrário.
- b) técnico-científico-informacional.
- c) técnico-informacional-agroindustrial.
- d) acadêmico-industrial.

Questão 68 - (UECE/2016)

Considerando a classificação industrial segundo a tecnologia, as indústrias ditas germinativas são aquelas que

- a) acompanham a produção mundial.
- b) empregam os maiores recursos em sua força de trabalho.
- c) geram o aparecimento de outras indústrias.
- d) utilizam muita tecnologia e pouca força de trabalho.

Questão 69 - (UNCISAL AL/2016)

Banco de horas

O chamado banco de horas é uma possibilidade admissível de compensação de horas, vigente a partir da Lei nº 9.601/1998. Trata-se de um sistema de compensação de horas extras mais flexível, mas que exige autorização por convenção ou acordo coletivo, possibilitando à empresa adequar a jornada de trabalho dos empregados às suas necessidades de produção e demanda de serviços.

Esse sistema de banco de horas pode ser utilizado, por exemplo, nos momentos de pouca atividade da empresa para reduzir a jornada normal dos empregados durante um período, sem redução do salário, permanecendo um crédito de horas para utilização quando a produção crescer ou a atividade acelerar.

Se o sistema começar em um momento de grande atividade da empresa, a jornada de trabalho poderá ser estendida além da jornada normal (até o limite máximo da décima hora diária) durante o período em que o alto volume de atividade permanecer e deverá ser compensada posteriormente com a redução da jornada de trabalho.

Disponível em:

<http://www.guiatrabalhista.com.br/guia/banco_horas.htm>.

Acesso em: 03 nov. 2015.

O banco de horas é uma inovação que surgiu no modelo de produção

- a) fordista, buscando diminuir a formação de estoques.
- b) toyotista, com o objetivo de adequar a produção à demanda.
- c) taylorista, que tenta aumentar a produção sem aumentar os custos.
- d) keynesiano, objetivando aumentar a influência do estado na economia.
- e) socialista, buscando garantir os empregos e a continuidade da produção.

Questão 70 - (UNEMAT MT/2016)

No filme **Tempos Modernos**, estrelado e dirigido por Charles Chaplin, há uma brilhante crítica ao modo de produção capitalista

emergido da Revolução Industrial, em que a produção em série e o controle do tempo são fundamentais para a obtenção de mais lucro e competitividade.

Indique o modelo de produção a que o texto se refere.

- a) Círculos de Qualidade Total (CQT).
- b) Toyotismo.
- c) Fordismo-taylorismo.
- d) Niponismo.
- e) Sistema de Produção Flexível.

Questão 71 - (UNESP SP/2016)

A divisão capitalista do trabalho – caracterizada pelo célebre exemplo da manufatura de alfinetes, analisada por Adam Smith – foi adotada não pela sua superioridade tecnológica, mas porque garantia ao empresário um papel essencial no processo de produção: o de coordenador que, combinando os esforços separados dos seus operários, obtém *um* produto mercante.

(Stephen Marglin. *In: André Gorz (org.). Crítica da divisão do trabalho*, 1980.)

Ao analisar o surgimento do sistema de fábrica, o texto destaca

- a) o maior equilíbrio social provocado pelas melhorias nos salários e nas condições de trabalho.
- b) o melhor aproveitamento do tempo de trabalho e a autogestão da empresa pelos trabalhadores.
- c) o desenvolvimento tecnológico como fator determinante para o aumento da capacidade produtiva.
- d) a ampliação da capacidade produtiva como justificativa para a supressão de cargos diretivos na organização do trabalho.
- e) a importância do parcelamento de tarefas e o estabelecimento de uma hierarquia no processo produtivo.

Questão 72 - (UEM PR/2016)

Assinale o que for correto a propósito das atividades industriais e de sua organização espacial.

01. Economias de aglomeração designam os processos jurídicos de aquisições e fusões de empresas no intuito de dominar a produção dos mercados locais.

02. Em termos de teoria da localização industrial, a regra básica sugere que localização e rentabilidade são diametralmente opostos.

04. Desconcentração espacial das indústrias diz respeito à busca de novas áreas de localização e à emergência de novos polos produtivos em relação às áreas de produção industrial tradicionais.

08. Quanto mais industrializada e moderna for a economia de um país, maior será a participação do setor de serviços na composição do Produto Interno Bruto (PIB) desse país, e menor será a participação da agricultura.

16. Tecnopolos são centros de tecnologia avançada localizados nas extremidades polares do planeta para fins de experimentos de produção e armazenamento de bens materiais a baixas temperaturas.

Questão 73 - (UNIFOR CE/2016)

A Segunda Revolução Industrial, ocorrida no século XIX, determinou mudanças significativas em relação à Primeira Revolução Industrial, ocorrida em meados do século XVIII. Foram mudanças tecnológicas, organizacionais e sociais que reorganizaram as forças políticas e econômicas internacionais.

Sobre este acontecimento histórico, pode-se afirmar que, do ponto de vista

- a) tecnológico, a máquina a vapor e o tear hidráulico representam a Segunda revolução Industrial.

- b) organizacional, houve uma desconcentração do capital e a aumento da concorrência entre um grande número de pequenas empresas.
- c) social, os trabalhadores passaram a se organizar em corporações de ofício, o que aumentou, desde o início, os salários médios.
- d) organizacional, as empresas formaram trustes e cartéis. Os trustes, mais comum nos Estados Unidos, e os cartéis, mais característicos na Alemanha.
- e) tecnológico, houve uma diversificação de inovações, como o aço, a energia elétrica e o tear mecânico.

Questão 74 - (UniRV GO/2016)

A Terceira Revolução Industrial teve início em meados da década de 1940, logo após o término da Segunda Guerra Mundial, vindo até os dias de hoje. Como reflexo direto desse processo, nota-se a geração de mudanças profundas na configuração espacial do mundo, a qual alguns autores denominam de meio *técnico-científico-informacional*. Sobre essas mudanças, julgue as sentenças abaixo, assinalando V (verdadeiro) ou F (falso) para cada uma das alternativas.

- a) O avanço do sistema de comunicações e de informática permitiu uma organização do espaço geográfico através de redes, que ampliam os fluxos possíveis, mesmo sem a fixação concreta das atividades produtivas em muitos pontos do espaço.
- b) Embora a ampliação das relações internacionais entre países da economia capitalista, tenha se iniciado há alguns séculos, essas mudanças alteraram o ritmo das interações espaciais, aumentando as trocas de mercadorias e a difusão de hábitos de consumo.
- c) Apesar da ciência, da técnica e da produção estarem irregularmente distribuídas no espaço geográfico, as inovações tecnológicas estão disponíveis para todos, visto que elas transitam em fluxos que circulam por todo o mundo.
- d) A organização do espaço, através de redes, permitiu uma distribuição multiterritorial das atividades produtivas, gerando maior equilíbrio entre nações ricas e pobres, na divisão internacional do trabalho.

Questão 75 - (IFCE/2016)

Sobre as principais características da Terceira Revolução Industrial, leia os itens a seguir.

- I. Uso crescente de recursos da informática nos processos de produção industrial.
- II. Ampliação crescente do emprego de mão de obra humana substituindo máquinas, sistemas automatizados, computadores e robôs industriais.
- III. Uso de tecnologias no processo de produção, visando diminuir os custos e o tempo de produção.
- IV. Massificação dos produtos tecnológicos ligados aos meios de comunicação e internet no começo do século XXI. Exemplos: telefones celulares, computadores pessoais, *notebooks*, *tablets* e *smartphones*.

São **verdadeiros**

- a) II, III e IV somente.
 b) I e III somente.
 c) II e III somente.
 d) I, III e IV somente.
 e) I, II, III e IV.

Questão 76 - (ENEM/2016)

Quanto mais complicada se tornou a produção industrial, mais numerosos passaram a ser os elementos da indústria que exigiam garantia de fornecimento. Três deles eram de importância fundamental: o trabalho, a terra e o dinheiro. Numa sociedade comercial, esse fornecimento só poderia ser organizado de uma forma: tornando-os disponíveis à compra. Agora eles tinham que ser organizados para a venda no

mercado. Isso estava de acordo com a exigência de um sistema de mercado. Sabemos que em um sistema como esse, os lucros só podem ser assegurados se se garante a autorregulação por meio de mercados competitivos interdependentes.

POLANYI, K. **A grande transformação**: as origens de nossa época.

Rio de Janeiro: Campus, 2000 (adaptado).

A consequência do processo de transformação socioeconômica abordado no texto é a

- a) expansão das terras comunais.
 b) limitação do mercado como meio de especulação.
 c) consolidação da força de trabalho como mercadoria.
 d) diminuição do comércio como efeito da industrialização.
 e) adequação do dinheiro como elemento padrão das transações.

Questão 77 - (ENEM/2016)

Parceria Transpacífica



Disponível em: <http://portuguese.brazil.usembassy.gov>. Acesso em: 11 maio 2016 (adaptado).

Dentro das atuais redes produtivas, o referido bloco apresenta composição estratégica por se tratar de um conjunto de países com

- a) elevado padrão social.
 b) sistema monetário integrado.
 c) alto desenvolvimento tecnológico.
 d) identidades culturais semelhantes.
 e) vantagens locais complementares.

Questão 78 - (ENEM/2016)

Em virtude da importância dos grandes volumes de matérias-primas na indústria química — eram necessárias dez a doze toneladas de ingredientes para fabricar uma tonelada de soda —, a indústria teve uma localização bem definida quase que desde o início. Os três centros principais eram a área de Glasgow e as margens do Mersey e do Tyne.

LANDES, D. S. **Prometeu desacorrentado**: transformação tecnológica e desenvolvimento industrial na Europa ocidental, desde 1750 até a nossa época. Rio de Janeiro: Nova Fronteira, 1994.

A relação entre a localização das indústrias químicas e das matérias-primas nos primórdios da Revolução Industrial provocou a

- a) busca pela isenção de impostos.
 b) intensa qualificação da mão de obra.
 c) diminuição da distância dos mercados consumidores.
 d) concentração da produção em determinadas regiões do país.
 e) necessidade do desenvolvimento de sistemas de comunicação.

Questão 79 - (ENEM/2016)

FRANK E ERNEST



THAVES. *Jornal do Brasil*, 19 fev. 1997 (adaptado).

A forma de organização interna da indústria citada gera a seguinte consequência para a mão de obra nela inserida:

- a) Ampliação da jornada diária.
- b) Melhoria da qualidade do trabalho.
- c) Instabilidade nos cargos ocupados.
- d) Eficiência na prevenção de acidentes.
- e) Desconhecimento das etapas produtivas.

Questão 80 - (Faculdade Baiana de Direito BA/2016)

John Davison Rockefeller, fundador da Standard Oil Company, em 1870, foi o responsável por revolucionar o setor petrolífero e dominar a indústria; fundou, também, a Universidade de Chicago e a Universidade Rockefeller. Sua fortuna total foi estimada, em 1937 (ano de sua morte), em 1,4 bilhão de dólares. A Standard Oil teve início com uma parceria de John com seu irmão, William Rockefeller, além de Henry Fagner, Jabez Bostwick, o químico Samuel Andrews e Stephen V. Harkness. A crescente demanda por querosene e gasolina, nesse período, favoreceu o aumento da riqueza de Rockefeller, que se tornou o homem mais rico do mundo e, ainda, o primeiro americano a ter mais de um bilhão de dólares. A Standard Oil se tornou, em pouco tempo, uma das maiores transportadoras de petróleo e querosene dos Estados Unidos e obteve o controle quase total do refino e comercialização de petróleo nesse país. John Rockefeller pode ser considerado, sem dúvida, como o homem mais rico da história, segundo parte dos especialistas. Isso porque, ajustando o valor de sua fortuna, na época, o montante chega a 664 bilhões de dólares.

JOHN Davison Rockefeller....Mbcursos Coppe/UFRJ. Disponível em: <http://www.petroleo.coppe.ufrj.br/historia-do-petroleo/>. Acesso em: 10 set. 2015. Adaptado.

Para controlar o crescimento de grandes empresas, em 1890, foi criada a lei Sherman nos Estados Unidos que via no grupo Rockefeller um perigo para o funcionamento livre dos mercados.

A análise do texto permite concluir que o grupo Rockefeller pode ser caracterizado como responsável pela formação de

- 1) *truste*.
- 2) oligopólio.
- 3) *dumping*.
- 4) fusão.
- 5) *joint venture*.

INDÚSTRIA DO BRASIL

Questão 81 - (FM Petr polis RJ/2017)

A Companhia Sider rgica Nacional – Usina Presidente Vargas – e a cidade de Volta Redonda formam desde os anos 1940 um s  complexo. A cidade foi constru da pelo Estado   imagem e semelhança da usina, que traçou para o complexo a funç o de espaço disciplinar da massa trabalhadora nele empregada, extensiva como exemplo a toda a classe trabalhadora brasileira. De uma certa forma, o complexo vem para atuar como um grande laborat rio de experi ncias necess rias   constituic o da moderna sociedade brasileira como uma sociedade do trabalho avançada.

MOREIRA, R. **Formaç o espacial brasileira**. Rio de Janeiro: Consequ ncia, 2012, p. 213. Adaptado.

A formaç o desse complexo urbano-industrial expressa uma pol tica territorial que

- a) aplica preceitos do neoliberalismo econ mico.
- b) antecipa a es do nacional-desenvolvimentismo.
- c) reforça valores da descentralizaç o democr tica.
- d) refuta decis es de planejamento do governo central.
- e) privilegia intervenç es de expans o das exportaç es.

Quest o 82 - (PUCCAMP/2017)

O setor fabril j  se fazia notar, n o s o em S o Paulo, como tamb m em Campinas e Piracicaba, produzindo tecidos, chap us e calçados. As casas de fundiç o colocavam   disposiç o serras, bombas, sinos, prensas e ventiladores (...). As narrativas de viagem, g nero de escrita muito apreciado por autores e leitores, registravam dessa nova sociedade as impress es colhidas em tr nsito e dispostas em painel.

(FERREIRA, Antonio Celso. **A epop ia bandeirante. Letrados, instituiç es e invenç o hist rica (1870-1940)**. S o Paulo: Editora Unesp, 2002, p. 78-79)

As cidades mencionadas, que assistem ao surgimento de pequenas ind strias nas  ltimas d cadas do s culo XIX, apresentavam em comum

- a) grandes concentraç es urbanas provenientes da intensa imigraç o europeia, que as transformou nas tr s maiores cidades da regi o e contribuiu para a instalaç o de comerciantes e empreendedores respons veis pelas primeiras ind strias paulistas.
- b) oligarquias rurais endinheiradas, que compartilhavam ideais republicanos, abolicionistas, nacionalistas e que investiam parte substantiva de seu capital em ind strias voltadas para seu pr prio consumo de artigos de luxo.
- c) r pido desenvolvimento econ mico proveniente do ac mulo de dividendos gerado pela produç o cafeeira baseada no latif ndio e no trabalho escravo, que despontara nessas e em outras cidades do Vale do Para ba, repercutindo no desenvolvimento fabril.
- d) ousados investimentos do empres rio Bar o de Mau , que, juntamente com negociantes ingleses, fundou in meras ind strias fabris e construiu ferrovias, modernizando a regi o e garantindo o r pido escoamento da produç o.
- e) ricos agricultores latifundi rios e o acesso facilitado por linhas f rreas que se expandiram vigorosamente a partir de 1860, no oeste do Estado, momento em que a regi o se consolida como polo cafeeiro ap s o decl nio das fazendas situadas no sudoeste do Rio de Janeiro.

Quest o 83 - (PUCCAMP/2017)

Os modernistas produziram manifestos e profiss es de f , fundaram revistas, formaram grupos, mesmo depois de estarem evidentes as diferenças dentro do grande grupo inicial. Os

escritores de 30 n o produziram um  nico manifesto est tico. (...) Para entender essas diferenças pode ser  til voltar um pouco a algo apenas esboçado acima: aquela diferença entre as geraç es formadas antes e depois da Primeira Guerra, articulada   din mica do funcionamento dos projetos de vanguarda. (...) O modernismo nasceu em S o Paulo e n o h  quem deixe de apontar o quanto do desenvolvimento industrial da cidade alimentou a esperança de que a modernizaç o do pa s, quando generalizada, poderia at  mesmo tirar da marginalidade as massas miser veis.

(BUENO, Lu s. **Uma hist ria do Romance de 30**. S o Paulo: Edusp.

Campinas: Editora da Unicamp, 2006, p. 66-67)

O conhecimento hist rico permite afirmar que a eclos o da *Primeira Guerra Mundial* deu grande impulso ao desenvolvimento industrial brasileiro, na medida em que

- a) a ampliaç o do mercado externo impulsionou a produç o de bens de consumo e de m quinas e equipamentos, contribuindo para a consolidaç o do capitalismo industrial no pa s, ap s a guerra.
- b) a convers o da ind stria europeia   produç o b lica levou a uma diminuiç o gradual das importaç es brasileiras de produtos industrializados, com o conseq ente est mulo   produç o nacional.
- c) a ind stria passou a desenvolver-se a passos largos e novos produtos começaram a ser produzidos no pa s, como bens de consumo dur veis, para atender   demanda dos pa ses em guerra.
- d) o Estado passou a intervir fortemente na economia, possibilitando a criaç o e desenvolvimento de ind strias de base e de produç o de bens de consumo para atender  s necessidades do mercado.
- e) o empresariado estrangeiro, com sua t cnica e capital, prestou grande ajuda na construç o do parque industrial brasileiro e no desenvolvimento da produç o voltada para os pa ses em guerra.

Quest o 84 - (PUCCAMP/2017)

  principalmente a partir de *Get lio Vargas* (1930-45 e 1950-54) que o fen meno entendido como industrializaç o passa a ser uma preocupaç o incentivada e sistematizada pelo Estado. Num segundo momento   Juscelino Kubitschek – JK (1956-61) que retoma e acelera o processo.

Estabelecendo uma comparaç o entre os processos de industrializaç o desenvolvidos por Vargas e JK   correto afirmar que

- a) ambos se utilizaram do endividamento externo como fonte b sica para desenvolver o processo, fortemente concentrado no eixo S o Paulo-Rio de Janeiro no per odo Vargas, mas desconcentrado com JK.
- b) ambos privilegiaram as ind strias de bens de consumo; no entanto, Vargas encarava as importaç es de produtos industriais como necess rias, fato que JK combatia com pol ticas protecionistas.
- c) enquanto Vargas adotou como prioridades os capitais nacionais, os estatais e as ind strias de base, JK promoveu a organizaç o do espaço industrial   custa da internacionalizaç o da economia.
- d) tanto Vargas como JK apoiaram-se no empresariado nacional que defendia a substituiç o das importaç es; no entanto, JK, com seu Plano de Metas, atrelou a industrializaç o   reduç o das desigualdades regionais.
- e) enquanto Vargas se utilizou de uma tripla base de capitais estatais, nacionais e internacionais, JK, refletindo o momento

mundial de expansão das multinacionais, apoiou-se somente nos capitais internacionais.

Questão 85 - (FUVEST SP/2017)

O período que vai de 1956 a 1967 é considerado como a primeira fase da industrialização pesada no Brasil.

Barjas Negri. **Concentração e desconcentração industrial em São Paulo – 1880-1990**. Campinas: Unicamp, 1996.

Sobre as características da industrialização brasileira no período de 1956 a 1967, é correto afirmar que

- a) houve uma associação entre investimentos no setor estatal e a entrada de capital estrangeiro, que propiciaram a instalação de plantas produtoras de bens de capital.
- b) a instituição do Plano de Metas, que teve como principal finalidade incrementar a incipiente industrialização do Rio de Janeiro e de São Paulo, marcou politicamente esse momento do processo.
- c) partiu do Estado Brasileiro, de caráter fortemente centralizador e nacionalista, a criação das condições para a nascente indústria têxtil que se instalava no país, por meio de diversos incentivos e isenções fiscais.
- d) ocorreu a implantação de multinacionais do setor automobilístico, que se concentraram em São Paulo, principalmente ao longo do eixo da Estrada de Ferro Santos-Jundiaí, em direção a Ribeirão Preto.
- e) se trata de uma fase marcada pela política de “substituição de importações”, uma vez que se deu um incremento da indústria nacional, pela abundância de mão de obra.

TEXTO: 7 - Comuns às questões: 86, 87

A industrialização contemporânea requer investimentos vultosos. No Brasil, esses investimentos não podiam ser feitos pelo setor privado, devido à escassez de capital que caracteriza as nações em desenvolvimento. Além disso, o crescimento econômico do Brasil, um recém-chegado ao processo de modernização, processou-se em condições socioeconômicas diferentes. Um efeito internacional de demonstração, na forma de imitação de padrões de vida, entre países ricos e pobres, e entre classes ricas e pobres dentro das nações, resultou em pressões significativas sobre as taxas de crescimento para diminuir a diferença entre nações desenvolvidas e em desenvolvimento. Em vista das aspirações de melhores padrões de vida, o governo desempenhou um papel importante no crescimento econômico recente do Brasil.

(Carlos Manuel Peláez e Wilson Suzigan.
História monetária do Brasil, 1981. Adaptado.)

Questão 86 - (UNESP SP/2017)

De acordo com o texto, uma das particularidades do processo de industrialização brasileira é

- a) o controle das matérias-primas industriais pelas nações imperialistas do planeta.
- b) a escassez de mão de obra devido à sobrevivência da pequena propriedade rural.
- c) o domínio da política por setores sociais ligados aos padrões da economia colonial.
- d) a emergência da industrialização em meio a economias internacionais já industrializadas.
- e) a existência prévia de um amplo mercado consumidor de produtos de luxo.

Questão 87 - (UNESP SP/2017)

Os impasses do desenvolvimento industrial brasileiro, apontados pelo texto, foram enfrentados no governo Juscelino Kubitschek (1956-1961) com o Plano de Metas, cujo objetivo era promover a industrialização por meio

- a) da associação de esforços econômicos entre o Estado, o capital estrangeiro e as empresas nacionais.
- b) da valorização da moeda nacional, da estatização de fábricas falidas e da contenção de salários.
- c) da criação de indústrias têxteis estatais e do aumento de impostos sobre o grande capital nacional.
- d) do emprego de empresas multinacionais submetidas à severa lei da remessa de lucros, juros e dividendos para o exterior.
- e) do combate à seca no Nordeste e do aumento do salário mínimo, com controle da inflação.

Questão 88 - (Uni-FaceF SP/2017)

A abertura do mercado brasileiro para a entrada de bens de consumo e de capital estrangeiros, iniciada na década de 1990, ocasionou

- a) o desprestígio e o preconceito dos produtos brasileiros que deixaram de ser consumidos pela população.
- b) a elevação no número de postos de trabalho como reflexo da modernização do parque industrial e do aumento da produtividade.
- c) a valorização dos produtos nacionais perante a oferta de itens estranhos ao dia a dia e à cultura da população.
- d) o aumento da arrecadação fiscal através da elevação dos impostos federais com a entrada de produtos importados.
- e) a falência de indústrias nacionais que não conseguiam concorrer com os produtos que recebiam elevados subsídios no exterior.

Questão 89 - (PUC RS/2017)

A modernização do parque industrial brasileiro e da produção agropecuária, além dos investimentos em infraestrutura nos setores de transportes, comunicações e energia, tem alterado a estrutura do mercado de trabalho no País. Nesse sentido, é **INCORRETO** afirmar:

- a) A informatização pode provocar desemprego no setor bancário, mas gera novos postos de trabalho em fábricas de equipamentos (*hardware*) e programas (*software*), bem como na área de *marketing*.
- b) A mecanização no corte de cana-de-açúcar provoca desemprego para muitos boias-frias, mas aumenta a produtividade e torna a indústria mais competitiva, permitindo a criação de novos postos de trabalho em fábricas de máquinas e equipamentos.
- c) Ao longo do processo de modernização, houve mudança da estrutura produtiva, fusão de empresas e nova configuração dos setores da economia nacional, dinamizando a alternância de postos de trabalho.
- d) A iniciativa privada, através da concessão de exploração em diversos setores de infraestrutura, libera contingentes de trabalhadores, que são absorvidos pelo setor público.
- e) O setor de robótica da indústria automobilística no Brasil restringe postos de trabalho e exige uma maior qualificação da mão de obra empregada na linha de montagem.

Questão 90 - (UEMG/2017)

As indústrias modernas surgem a partir da Primeira Revolução Industrial e vem evoluindo tecnologicamente ao longo dos anos. Sobre os principais centros industriais brasileiros, é **INCORRETO** afirmar que

- a) a Zona Franca de Manaus é um polo da produção industrial no norte do país.
- b) a concentração industrial no Sudeste corresponde à área da megalópole brasileira.
- c) o estado de Mato Grosso agrega o maior número de indústrias da Região Centro-Oeste.
- d) o estado da Bahia concentra aproximadamente metade da produção industrial do Nordeste.

Questão 91 - (UEPG PR/2017)

Sobre o processo de industrialização brasileira, assinale o que for correto.

01. Nos anos 1990, os governos social-democratas, no Brasil, foram marcados por políticas de Fernando Collor de Mello e FHC que visavam fortalecer as estatais brasileiras ligadas às comunicações e energia.

02. No governo Getúlio Vargas houve um processo de criação de empresas ligadas à mineração, caso da Companhia Siderúrgica Nacional e da Companhia Vale do Rio Doce, da empresa de energia, a Petrobras, além da legislação trabalhista, a CLT.

04. O governo de Juscelino Kubitschek (1956-1961) contribuiu para internacionalizar mais a indústria nacional, atraindo capital estrangeiro e tendo como carro chefe dessa política montadoras de automóveis multinacionais.

08. Apesar do período conhecido como Milagre Econômico (1968-1973), onde o Brasil cresceu a altas taxas, porém com endividamento externo em expansão, a ditadura militar no país teve que conviver com a "década perdida" nos anos 1980, com alta inflação e até retração da atividade industrial o que contribuiu com o fim do regime militar.

16. A Crise de 1929, que como desdobramento no Brasil gerou a Crise do Café, gerou sérios problemas ao modelo agrário-exportador brasileiro. Diante disso, inicia-se um período mais organizado de industrialização do país, pois até então, as fábricas eram incipientes em território nacional.

Questão 92 - (UFRR/2017)

A industrialização brasileira passou por várias etapas, influenciadas pelos fatores econômicos e políticos do país. Entender como se deu esse processo é de fundamental importância para se compreender a dinâmica atual que este setor apresenta e sua importância para o desenvolvimento econômico do país.

As sentenças abaixo referem-se ao processo de industrialização brasileira.

I. Embora tenha passado por importantes períodos de crescimento, a industrialização brasileira sofreu seu maior impulso a partir de 1929, em função da quebra da Bolsa de Valores de Nova York;

II. Os investimentos públicos durante o Regime Militar (1964 - 1985) foram descentralizados, o que refletiu em uma distribuição homogênea de indústrias no território brasileiro;

III. O ciclo do café permitiu a acumulação de capitais que serviram para a implantação da infraestrutura necessária para a atividade industrial;

IV. Até o início da década de 1990 existiam indústrias automobilísticas somente nos estados de São Paulo e Minas Gerais.

Estão **CORRETAS** as afirmativas:

- a) Apenas a I;
- b) Apenas a III;
- c) II e III;
- d) I, III e IV;
- e) I e IV, apenas.

Questão 93 - (UFRR/2017)

A industrialização brasileira passou por várias etapas, influenciadas pelos fatores econômicos e políticos do país. Entender como se deu esse processo é de fundamental importância para se compreender a dinâmica atual que este setor apresenta e sua importância para o desenvolvimento econômico do país.

As sentenças abaixo referem-se ao processo de industrialização brasileira.

I. Embora tenha passado por importantes períodos de crescimento, a industrialização brasileira sofreu seu maior impulso a partir de 1929, em função da quebra da Bolsa de Valores de Nova York;

II. Os investimentos públicos durante o Regime Militar (1964 - 1985) foram descentralizados, o que refletiu em uma distribuição homogênea de indústrias no território brasileiro;

III. O ciclo do café permitiu a acumulação de capitais que serviram para a implantação da infraestrutura necessária para a atividade industrial;

IV. Até o início da década de 1990 existiam indústrias automobilísticas somente nos estados de São Paulo e Minas Gerais.

Estão **CORRETAS** as afirmativas:

- a) Apenas a III;
- b) I, III e IV;
- c) II e III;
- d) Apenas a I;
- e) I e IV, apenas.

Questão 94 - (ESPM SP/2017)

Observe a tabela:

Posição	Unidade da Federação	% da produção nacional
1	MG	35,4
2	RJ	21,6
3	ES	19,3
4	SP	17,6

Fonte: DNPM, Brasília, 2011.

Ela refere-se à:

- a) Produção cafeeira.
- b) Produção da citricultura.
- c) Produção automobilística.
- d) Produção naval.
- e) Produção siderúrgica.

Questão 95 - (IFPE/2017)

Na década de 1950, o Brasil vivenciou um período de desenvolvimento econômico e social, devido a um plano do governo de Juscelino Kubitschek (JK), que estabeleceu, entre suas metas, que o país deveria crescer "50 anos em 5". Qual alternativa refere-se a outra meta proposta por JK?

- a) Reforma agrária, com expropriação e redistribuição de terras.
- b) Elaboração de Leis Trabalhistas.
- c) Desenvolvimento industrial e abertura para indústrias multinacionais.
- d) Instalação das primeiras universidades federais.
- e) Mudança da capital da república, para a cidade do Rio de Janeiro.

Questão 96 - (UEA AM/2017)

No estudo da estrutura da indústria brasileira, observam-se elementos que dificultam sua participação no mercado global, tal como

- a) o alto investimento público em tecnologia.
- b) a alta qualificação da força de trabalho.
- c) o pequeno potencial de expansão do mercado interno.
- d) a elevada carga tributária.
- e) a melhora na qualidade dos produtos.

Questão 97 - (Centro Universitário de Franca SP/2016)

No Brasil, as dificuldades econômicas da década de 1930, e, mais tarde, as advindas da Segunda Guerra Mundial, levaram a um rápido esgotamento da capacidade ociosa gerada na década anterior, ao mesmo tempo que elevava o esforço interno da produção de bens de produção. Com isso, o mercado interno tornou-se cativo para a indústria nacional.

(Barjas Negri. *Concentração e desconcentração industrial em São Paulo (1880-1990)*, 1994. Adaptado.)

O processo indicado pelo excerto caracterizou-se pela

- a) substituição de exportações.
- b) especulação de capitais estrangeiros.
- c) estagnação da produção industrial.
- d) substituição de importações.
- e) redução dos investimentos em infraestrutura.

Questão 98 - (Fac. Direito de Sorocaba SP/2016)

Sobre o processo de industrialização brasileiro ocorrido a partir das décadas de 1960/70, é correto afirmar que

- a) a Superintendência de Desenvolvimento do Nordeste (SUDENE) teve influência decisiva sobre a implantação de parques industriais no Nordeste.
- b) a reativação da exploração de urânio nos estados do sul promoveu a expansão do setor metalúrgico na região.
- c) o Sudeste sofreu forte desindustrialização quando as políticas de planejamento do período militar tornaram-se mais vigorosas.
- d) as regiões Sul e o Nordeste receberam fortes investimentos internacionais e passaram a concentrar metade do parque industrial brasileiro.
- e) a criação da Zona Franca de Manaus representou um fator positivo para a região Norte, mas um entrave à industrialização do Centro-Oeste.

Questão 99 - (FGV/2016)

No Brasil, o processo de reestruturação RO produtiva tem gerado um debate sobre terceirização das atividades industriais e suas repercussões na legislação trabalhista. A esse respeito, analise as afirmações a seguir.

- I. Em geral, as grandes empresas adotam a terceirização para se concentrar em sua atividade-fim, destinando as tarefas secundárias e suplementares para as pequenas e médias empresas.
- II. Os movimentos sindicais denunciam que o processo de terceirização, entre outros problemas, ameaça direitos trabalhistas já conquistados.
- III. Os empresários afirmam que a terceirização garante maior competitividade, porque aumenta a produtividade e reduz os custos.

Está correto o que se afirma em

- a) II, apenas.
- b) III, apenas.
- c) I e II, apenas.
- d) II e III, apenas.
- e) I, II e III.

Questão 100 - (PUCCAMP/2016)

Também no Brasil o século XVIII é momento da maior importância, fase de transição e preparação para a Independência. Demarcada, povoada, defendida, dilatada a terra, o século vai lhe dar prosperidade econômica, organização política e administrativa, ambiente para a vida cultural, terreno fecundo para a semente da liberdade. (...) A literatura produzida nos fins do século XVIII reflete, de modo geral, esse espírito, podendo-se apontar a obra de Tomás Antônio Gonzaga como a sua expressão máxima.

(COUTINHO, Afrânio. *Introdução à Literatura no Brasil*. Rio de Janeiro: EDLE, 1972, 7. Ed. p. 127 e p. 138)

É correto afirmar que, no *século* a que o texto de Afrânio Coutinho se refere, a mineração, ao atuar como polo de atração econômica,

- a) foi responsável pela entrada no país de uma grande quantidade de produtos sofisticados que incentivou a criação de uma estrutura para o desenvolvimento da indústria nacional.
- b) reforçou os laços de dependência e monopólio do sistema colonial ao garantir aos comerciantes portugueses o comércio de importação e exportação e impedir a concorrência nacional.
- c) promoveu a descentralização administrativa colonial para facilitar o controle da produção pela metrópole e fez surgir o movimento de interiorização conhecido como bandeirismo de contrato.
- d) iniciou o processo de integração das várias regiões até então dispersas e desarticuladas e fez surgir um fenômeno antes desconhecido na colônia: a formação de um mercado interno.
- e) alterou qualitativamente o sistema social pois, ao estimular a entrada de imigrantes, promoveu a transformação dos antigos senhores de terras e minas em capitães de indústria brasileira.

GABARITO

- 1) Gab: C 2) Gab: D 3) Gab: B 4) Gab: E
5) Gab: B 6) Gab: D 7) Gab: C 8) Gab: C
9) Gab: 11 10) Gab: C 11) Gab: B 12) Gab: B
13) Gab: A 14) Gab: A 15) Gab: C 16) Gab: B
17) Gab: D 18) Gab: E 19) Gab: B 20) Gab: E
21) Gab: B 22) Gab: B 23) Gab: D 24) Gab: A
25) Gab: C 26) Gab: D 27) Gab: D 28) Gab: C
29) Gab: C 30) Gab: D 31) Gab: E 32) Gab: A
33) Gab: A 34) Gab: D 35) Gab: A 36) Gab: B
37) Gab: B 38) Gab: B 39) Gab: A 40) Gab: B
41) Gab: D 42) Gab: E 43) Gab: A 44) Gab: C
45) Gab: B 46) Gab: C 47) Gab: B 48) Gab: B
49) Gab: 03 50) Gab: C 51) Gab: A 52) Gab: E
53) Gab: C 54) Gab: B 55) Gab: D 56) Gab: 04
57) Gab:

A fabricação das peças do avião por inúmeras empresas, que é o exemplo citado, se intensificou com o processo de globalização e internacionalização da economia, tornado mais evidente a partir da década de 1990. A globalização intensificou também uma característica própria da Terceira Revolução Industrial: a produção flexível, na qual há uma descentralização espacial do processo produtivo (as empresas mantêm sedes separadas das fábricas propriamente ditas) e também ocorre a terceirização da produção (quando uma empresa cede para outra a confecção de partes de um produto que ela, originalmente, produzia). Entre os fatores que levam as empresas a adotar essa estratégia, podem-se citar: (1) a redução dos custos (como, por exemplo, a isenção fiscal, ou a presença de mão de obra mais barata); e (2) a otimização da produção, quando as empresas buscam uma especialização produtiva por meio da presença de polos que desenvolvem tecnologias específicas para determinados produtos.

- 58) Gab: A 59) Gab: B 60) Gab: B 61) Gab: D
62) Gab: 21 63) Gab: B 64) Gab: B 65) Gab: B
66) Gab: E 67) Gab: B 68) Gab: C 69) Gab: B
70) Gab: C 71) Gab: E 72) Gab: 12 73) Gab: D
74) VVFF 75) Gab: D 76) Gab: C 77) Gab: E
78) Gab: D 79) Gab: E 80) Gab: 1 81) Gab: B
82) Gab: E 83) Gab: B 84) Gab: C 85) Gab: A
86) Gab: D 87) Gab: A 88) Gab: E 89) Gab: D
90) Gab: C 91) Gab: 30 92) Gab: D 93) Gab: B
94) Gab: E 95) Gab: C 96) Gab: D 97) Gab: D
98) Gab: A 99) Gab: E 100) Gab: D