

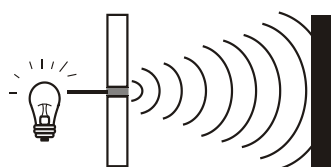
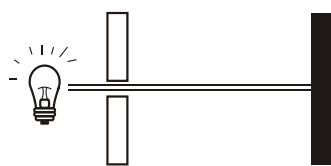
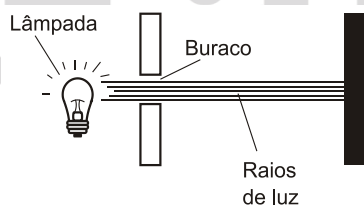
1. As ondas eletromagnéticas geradas pela fonte de um forno de micro-ondas têm uma frequência bem característica, e, ao serem refletidas pelas paredes internas do forno, criam um ambiente de ondas estacionárias. O cozimento (ou esquentamento) ocorre devido ao fato de as moléculas constituintes do alimento, sendo a de água a principal delas, absorverem energia dessas ondas e passarem a vibrar com a mesma frequência das ondas emitidas pelo tubo gerador do forno. O fenômeno físico que explica o funcionamento do forno de micro-ondas é a

- a) ressonância.
- b) interferência.
- c) difração.
- d) polarização.
- e) absorção.

2. Ao sintonizarmos uma estação de rádio ou um canal de TV em um aparelho, estamos alterando algumas características elétricas de seu circuito receptor. Das inúmeras ondas eletromagnéticas que chegam simultaneamente ao receptor, somente aquelas que oscilam com determinada frequência resultarão em máxima absorção de energia. O fenômeno descrito é a

- a) difração.
- b) refração.
- c) polarização.
- d) interferência.
- e) ressonância.

3. Ao diminuir o tamanho de um orifício atravessado por um feixe de luz, passa menos luz por intervalo de tempo, e próximo da situação de completo fechamento do orifício, verifica-se que a luz apresenta um comportamento como o ilustrado nas figuras. Sabe-se que o som, dentro de suas particularidades, também pode se comportar dessa forma.



FIOLHAIS, C. Física divertida. Brasília: UnB, 2000 (adaptado).

Em qual das situações a seguir está representado o fenômeno descrito no texto?

- a) Ao se esconder atrás de um muro, um menino ouve a conversa de seus colegas.
- b) Ao gritar diante de um desfiladeiro, uma pessoa ouve a repetição do seu próprio grito.

- c) Ao encostar o ouvido no chão, um homem percebe o som de uma locomotiva antes de ouvi-lo pelo ar.
- d) Ao ouvir uma ambulância se aproximando, uma pessoa percebe o som mais agudo do que quando aquela se afasta.
- e) Ao emitir uma nota musical muito aguda, uma cantora de ópera faz com que uma taça de cristal se despedace.

4. Alguns sistemas de segurança incluem detectores de movimento. Nesses sensores, existe uma substância que se polariza na presença de radiação eletromagnética de certa região de frequência, gerando uma tensão que pode ser amplificada e empregada para efeito de controle. Quando uma pessoa se aproxima do sistema, a radiação emitida por seu corpo é detectada por esse tipo de sensor.

WENDLING, M. *Sensores*. Disponível em: www2.feg.unesp.br. Acesso em: 7 maio 2014 (adaptado).

A radiação captada por esse detector encontra-se na região de frequência

- a) da luz visível.
- b) do ultravioleta.
- c) do infravermelho.
- d) das micro-ondas.
- e) das ondas longas de rádio.

5. Nossa pele possui células que reagem à incidência de luz ultravioleta e produzem uma substância chamada melanina, responsável pela pigmentação da pele. Pensando em se bronzear, uma garota vestiu um biquíni, acendeu a luz de seu quarto e deitou-se exatamente abaixo da lâmpada incandescente. Após várias horas ela percebeu que não conseguiu resultado algum.

O bronzeamento não ocorreu porque a luz emitida pela lâmpada incandescente é de

- a) baixa intensidade.
- b) baixa frequência.
- c) um espectro contínuo.
- d) amplitude inadequada.
- e) curto comprimento de onda.

6. (Enem 2011) Para que uma substância seja colorida ela deve absorver luz na região do visível. Quando uma amostra absorve luz visível, a cor que percebemos é a soma das cores restantes que são refletidas ou transmitidas pelo objeto. A Figura 1 mostra o espectro de absorção para uma substância e é possível observar que há um comprimento de onda em que a intensidade de absorção é máxima. Um observador pode prever a cor dessa substância pelo uso da roda de cores (Figura 2): o comprimento de onda correspondente à cor do objeto é encontrado no lado oposto ao comprimento de onda da absorção máxima.

Figura 1

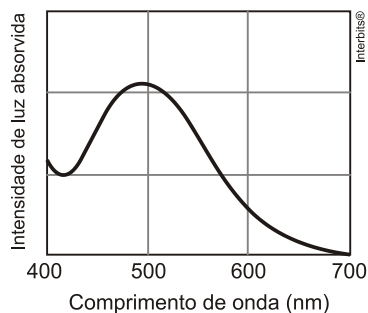
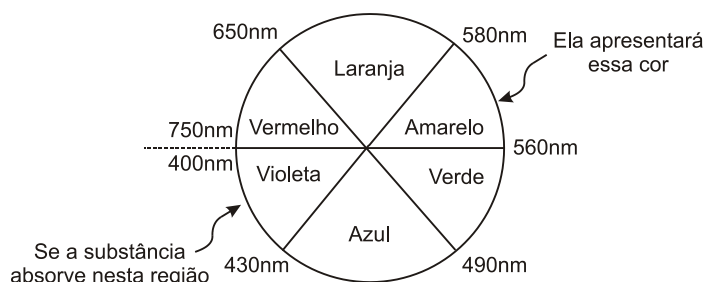


Figura 2

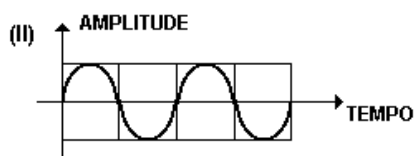
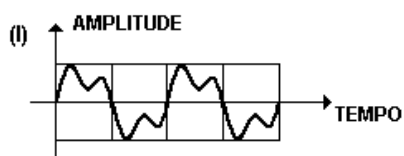


Brown, T. Química e Ciência Central. 2005 (adaptado).

Qual a cor da substância que deu origem ao espectro da Figura 1?

- a) Azul.
- b) Verde.
- c) Violeta.
- d) Laranja.
- e) Vermelho.

7. Ondas sonoras emitidas no ar por dois instrumentos musicais distintos, I e II, têm suas amplitudes representadas em função do tempo pelos gráficos a seguir.



A propriedade que permite distinguir o som dos dois instrumentos é:

- a) o comprimento de onda
- b) a amplitude
- c) o timbre
- d) a velocidade de propagação
- e) a frequência

8. Quando adolescente, as nossas tardes, após as aulas, consistiam em tomar às mãos o violão e o dicionário de acordes de Almir Chediak e desafiar nosso amigo Hamilton a descobrir, apenas ouvindo o acorde, quais notas eram escolhidas. Sempre perdíamos a aposta, ele possui o ouvido absoluto. O ouvido absoluto é uma característica perceptual de poucos indivíduos capazes de identificar notas isoladas sem outras referências, isto é, sem precisar relacioná-las com outras notas de uma melodia.

LENT, R. *O cérebro do meu professor de acordeão*. Disponível em: <http://cienciahoje.uol.com.br>. Acesso em: 15 ago. 2012 (adaptado).

No contexto apresentado, a propriedade física das ondas que permite essa distinção entre as notas é

- a) frequência.
- b) intensidade.
- c) forma da onda.
- d) amplitude da onda.
- e) velocidade de propagação.

GABARITO

Resposta da questão 1:

[A]

Resposta da questão 2:

[E]

Resposta da questão 3:

[A]

Resposta da questão 4:

[C]

Resposta da questão 5:

[B]

Resposta da questão 6:

[E]

Resposta da questão 7:

[C]

Resposta da questão 8:

[A]

