

GABARITAGEO.COM.BR



REVISÃO UNESP GEOGRAFIA

RESOLUÇÃO COMENTADA
PROF. JEANGRAFIA

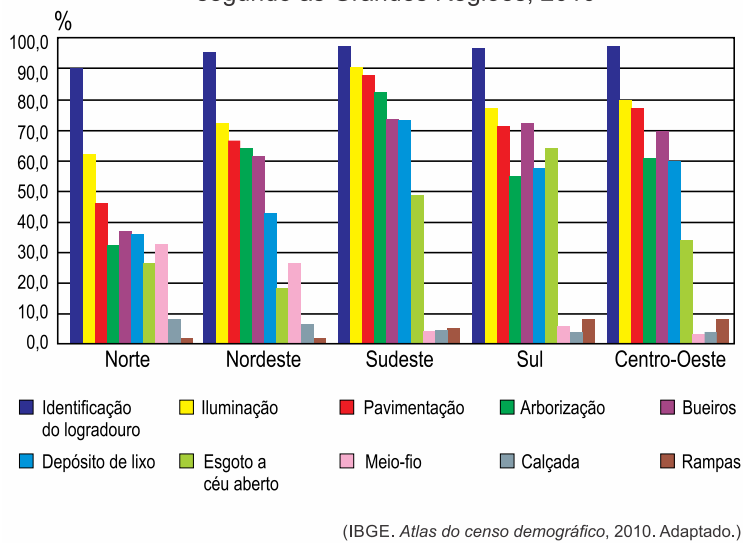
Lista de Exercícios

Considerando o processo de ocupação do espaço brasileiro, os vetores que propiciaram uma nova fronteira e o estabelecimento de pequenos aglomerados no interior do território foram

- a borracha e as rotas de procura por matéria-prima.
- a *plantation* e a construção de entrepostos para o transporte.
- a mineração e o comércio informal de ouro.
- as expedições bandeirantes e as trilhas do gado.
- as missões jesuíticas e a instalação de núcleos comerciais.

4. (Unesp)

Percentual de domicílios particulares permanentes, por características presentes no entorno, segundo as Grandes Regiões, 2010



A síntese dos dados apresentados pelo gráfico permite afirmar que:

- o índice de esgoto a céu aberto na região Sudeste, em contraste com os resultados superiores a 70% de atendimento em identificação do logradouro, iluminação, pavimentação, arborização, bueiros e depósitos de lixo, indica grandes disparidades socioeconômicas entre seus habitantes.
- os menores índices nacionais em calçada e rampas na região Sul, contrastantes com os maiores parâmetros em iluminação, pavimentação, arborização e esgoto a céu aberto, expressam as piores condições de vida para pedestres e deficientes físicos.
- mesmo apresentando os menores índices nacionais para a identificação do logradouro, iluminação, pavimentação, arborização, bueiros e depósitos de lixo, a região Norte não enfrenta deficiências em saneamento básico e na circulação de pedestres.
- ainda que tenha apresentado os maiores índices nacionais em identificação do logradouro, iluminação, pavimentação, arborização, bueiros e depósitos de lixo, a região Nordeste enfrenta problemas com infraestruturas básicas em tratamento de esgoto e vias adaptadas a deficientes físicos.
- os resultados encontrados na região Centro-Oeste para os índices de esgoto a céu aberto, meio-fio, calçada e rampas são acompanhados pelos menores percentuais nacionais na identificação do logradouro, iluminação e pavimentação, fundamentais para garantir melhores condições de vida.

5. (Unesp)



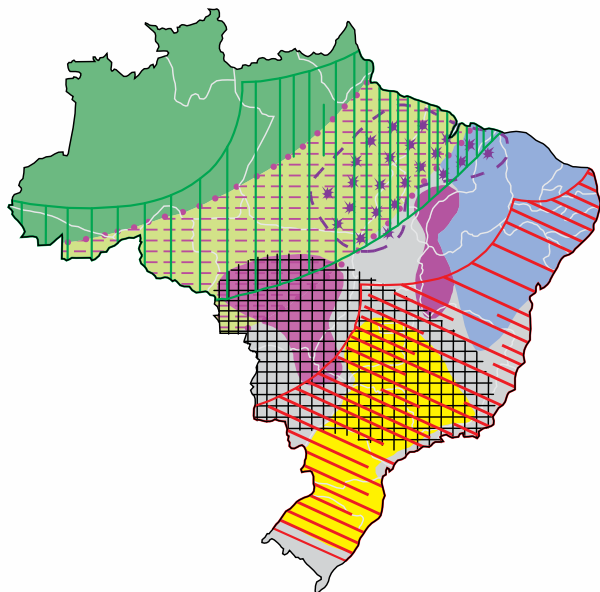
(www.ensp.fiocruz.br/radis)










É correto afirmar que a charge denuncia

- a) a retração das cidades pelo avanço desregulado das habitações em áreas periféricas.
- b) a reabilitação da periferia com o abrigo da população em novas áreas construídas.
- c) a desapropriação de áreas periféricas como estratégia para aquecer o mercado imobiliário.
- d) a função das operações urbanas de degradar as áreas periféricas indesejadas ao crescimento das cidades.
- e) a expulsão da população periférica no processo de expansão das grandes cidades.

6. (Unesp)

A configuração da questão agrária brasileira



-  Concentração das ocupações de terra realizadas pelos movimentos socioterritoriais camponeses
-  Concentração das famílias assentadas pelos governos por meio da política de assentamentos rurais
-  _____
-  Principal região agropecuária do país: agropecuária diversificada, alta produtividade, responsável por grande parte da quantidade produzida no país e PEA¹ agropecuária com altas rendas
-  Alto grau de especialização no agronegócio da soja, milho e algodão
-  O Nordeste: grande população rural, alto grau de ruralização, baixo rendimento da PEA agropecuária, predominância de mão de obra familiar nos estabelecimentos agropecuários, baixa tecnologia na agropecuária e produção diversificada, em especial de gêneros da dieta alimentar regional
-  Altas proporções de mão de obra assalariada nos estabelecimentos agropecuários e de PEA agropecuária residente em zonas urbanas
-  Áreas da Amazônia brasileira com graus mais elevados de antropização. Intenso processo de incorporação de novas áreas à estrutura fundiária e abertura de novas áreas para a formação de pastagens
-  Região da Amazônia brasileira que apresenta menor grau de ação antrópica, grande parte das terras indígenas e das unidades de conservação

(www.fct.unesp.br. Adaptado.)

¹ PEA: População Economicamente Ativa.

Considerando a questão agrária no Brasil, é correto afirmar que a lacuna presente na legenda corresponde a áreas de

- a) resgate e valorização de antigas práticas de cultivo.
- b) concentração da violência contra trabalhadores rurais e camponeses.
- c) cultivo experimental orgânico e sustentável.
- d) reflorestamento e recuperação da biodiversidade.
- e) implantação de núcleos urbanos planejados.

7. (Unesp) Em 1995, emendas constitucionais de ordem econômica puseram fim nos monopólios de empresas estatais e abriram vários setores da infraestrutura ao capital privado sob o regime de concessão. A aprovação das emendas expressava o fato de que se havia formado um relativo consenso de opinião pública sobre a necessidade de atualizar o Estado e a economia do país à luz do que vinha acontecendo no mundo desenvolvido. Aprovadas as emendas constitucionais, tiveram início as privatizações de empresas estatais e concessões de serviços ao setor privado.

(Boris Fausto. *História do Brasil*, 2015. Adaptado.)

A prática econômica que fundamentou as medidas do governo brasileiro apresentadas no excerto denomina-se doutrina

- a) neoliberal.
- b) keynesiana.
- c) neocolonial.
- d) liberal.
- e) mercantilista.

8. (Unesp) Pertinente às ações de controle dos impactos da atividade humana e à preservação do meio ambiente, a compensação ambiental caracteriza-se como

- a) um fundo privado utilizado para suprir as obrigações financeiras legais, respondendo aos registros, cadastros, serviços, infrações e multas em órgãos ambientais.
- b) um inventário que antecede a realização das construções, focado em identificar, quantificar e minimizar as consequências negativas ao meio ambiente.
- c) uma metodologia para identificar, averiguar e avaliar problemas ambientais, produzindo documentos sobre a operação e a manutenção de um agente poluidor.

Lista de Exercícios

- d) um instrumento financeiro associado ao processo de licenciamento ambiental de construções, empregado para amenizar os impactos irreversíveis sofridos pelo meio ambiente.
- e) uma garantia econômica perante a ocorrência de imprevistos, utilizada para custear o reparo de danos materiais, pessoais ou ambientais ocorridos em um empreendimento.

9. (Unesp) O Sistema Nacional de Unidades de Conservação estimulou a criação de áreas de proteção ambiental integral com o controle unilateral do Estado sobre o seu território e os seus recursos. A implantação do referido sistema foi criticada

- a) pelas populações urbanas, por interromper o crescimento natural da mancha urbana em regiões periféricas.
- b) pelos governos locais, por minar a autonomia municipal no parcelamento do solo para a utilização em políticas de habitação.
- c) pelas populações tradicionais, que defendiam uma maior participação no processo de demarcação das unidades de conservação.
- d) por organizações ambientalistas internacionais, que se opunham às grandes dimensões das áreas adotadas pelo Estado.
- e) pelo capital especulativo, por desvalorizar as áreas do entorno que seriam vendidas no mercado imobiliário.

10. (Unesp) Base da formação, há 35 anos, do Polo Industrial de Camaçari, considerado o maior do gênero no Hemisfério Sul, na região metropolitana de Salvador (BA), a indústria química e petroquímica pode estar em via de extinção no local, onde seguidos fechamentos de fábricas do setor no polo ilustram a situação. Apenas na última década, a Braskem – maior indústria do setor no local – fechou três de suas oito unidades. Além dela, deixaram o polo ou reduziram bastante a atividade, nos últimos cinco anos, grandes empresas internacionais, como Dow, DuPont, Air Products e Taminco, entre outras.

(www.estadao.com.br. Adaptado.)

Constituem motivos para a saída das indústrias do ramo químico e petroquímico do Polo Industrial de Camaçari:

- a) o fim dos incentivos fiscais, os elevados gastos com segurança e o aumento dos impostos.
- b) as frágeis redes de transporte, a dificuldade de comunicação e a falta de matérias-primas.
- c) a queda na demanda do consumo local, a baixa qualificação da mão de obra e o sucateamento dos maquinários.
- d) o término das concessões, a falta de manutenção das infraestruturas e o desmembramento dos terrenos.
- e) as plantas industriais rígidas, a logística precária e os elevados custos de produção.

11. (Unesp) Caracteriza-se como o maior vetor de ocupação territorial no Brasil a partir de meados do século XIX, sendo explicativa da gênese da concentração produtiva e populacional ainda existente na atual conformação do território nacional. Estabeleceu-se no vale do Rio Paraíba, avançando por décadas sobre áreas de floresta Atlântica. Cabe assinalar que tal avanço ocasionou um surto urbanizador na região Sudeste do Brasil, no qual as ferrovias ganharam peso fundamental como agente modernizador e indutor da ocupação de novas áreas.

(Antonio C. R. Moraes. *Geografia histórica do Brasil*, 2011. Adaptado.)

A atividade econômica associada à formação territorial do Brasil a qual o excerto se refere é

- a) a industrialização.
- b) a cafeicultura.
- c) a mineração.
- d) a pecuária.
- e) a silvicultura.

12. (Unesp) No estudo do crescimento demográfico mundial, a teoria que considera a sociedade de consumo e os impactos do consumismo denomina-se
- teoria antinatalista, ponderando o aumento populacional atrelado à lentidão na recomposição do meio ambiente.
 - teoria neomalthusiana, relacionando o crescimento populacional às políticas de recuperação do meio ambiente.
 - teoria ecomalthusiana, avaliando a pressão do crescimento populacional sobre os recursos naturais.
 - teoria malthusiana, associando o número de pessoas no planeta ao custo do passivo ambiental esperado.
 - teoria reformista, analisando as populações dos países a partir da gestão de seus recursos naturais.

13. (Unesp)

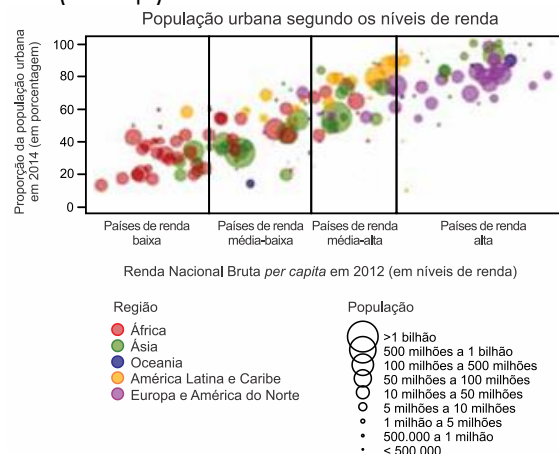


(www.pelicanocartum.net)

A charge ironiza uma das variáveis que compõem o cálculo do Índice de Desenvolvimento Humano proposto pela Organização das Nações Unidas, a saber,

- a renda, pela referência ao dia em que as personagens almoçaram.
- a expectativa de vida, pela alusão ao condicionamento físico da personagem que move o carrinho.
- a renda, pela referência aos objetos de alto valor agregado que as personagens carregam.
- a escolaridade, pela alusão à língua portuguesa empregada em sua forma padrão pelas personagens.
- a mobilidade, pela referência ao meio de transporte utilizado pelas personagens.

14. (Unesp)



(Department of Economic and Social Affairs. *World urbanization prospects, 2015*. Adaptado.)

Lista de Exercícios

Avaliando o gráfico e considerando os conhecimentos acerca do espaço urbano no mundo contemporâneo, é correto afirmar que

- o nível de urbanização tende a se estabilizar com o aumento da renda.
- o desenvolvimento econômico não constitui uma condição necessária para a urbanização.
- os países com pequena população tendem a se localizar entre aqueles com baixa urbanização.
- o aumento na taxa de urbanização de um país ocorre atrelada à mudança em seu nível de renda.
- as taxas de urbanização entre países com mesma renda apresentam baixa variação.

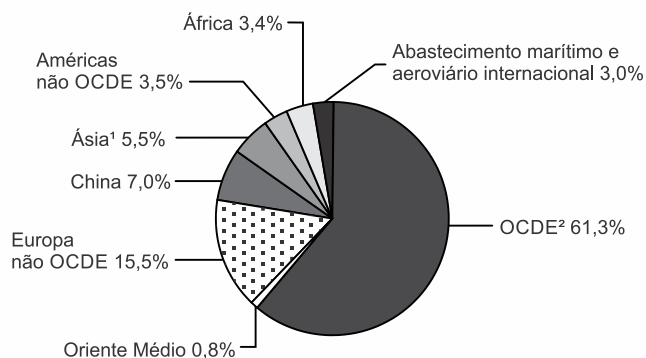
15. (Unesp) Na agricultura moderna, os cultivos transgênicos foram adotados para

- eliminar o uso de agrotóxicos e garantir a segurança alimentar da população.
- aumentar a produtividade e proporcionar maior rentabilidade ao produtor.
- preservar a função social da terra e diminuir os custos de produção.
- superar deficiências das áreas agricultáveis e expandir as práticas orgânicas.
- oferecer novos alimentos ao mercado e gerar renda às pequenas comunidades rurais.

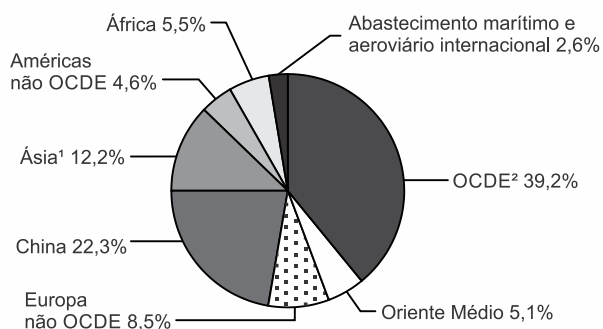
16. (Unesp)

Consumo mundial de energia primária,
em toneladas equivalentes de petróleo (TEP)

1973



2013



1. Ásia, exceto China.

2. Organização para a Cooperação e Desenvolvimento Econômico.

(www.iea.org. Adaptado.)

Considerando os cenários encontrados nos gráficos e os conhecimentos sobre o consumo mundial de energia primária, é correto afirmar que

- os países membros da OCDE diminuíram sua participação percentual no consumo mundial de energia primária em resposta ao aumento em seu padrão de consumo.
- o consumo mundial de energia primária entre os países desenvolvidos aumentou em razão da crise econômica no período.
- a China aumentou sua participação percentual no consumo mundial de energia primária devido ao seu desligamento do bloco dos Tigres Asiáticos.

Lista de Exercícios

- d) os países subdesenvolvidos aumentaram sua participação percentual no consumo mundial de energia primária em função do aumento em seu dinamismo econômico.
- e) o Oriente Médio registrou o maior aumento percentual no consumo mundial de energia primária devido ao crescimento de sua produção industrial.

17. (Unesp) Imagine que você entrou numa loja de eletrodomésticos e em instantes um vendedor lhe oferece uma geladeira exatamente como a que você pesquisou na internet pouco tempo antes. Ou uma empresa que aumentou a previsão de demanda de um determinado produto com base em dados estatísticos coletados em tempo real, elevando sua participação de mercado. Essas situações são possíveis com um fenômeno que vem ganhando cada vez mais força no mundo dos negócios: o *big data*. Com um volume cada vez maior de dados disponibilizados na internet, as empresas de tecnologia desenvolveram sistemas capazes de capturar esses dados e analisá-los.

(www.folha.com.br. Adaptado.)

A operação de sistemas inteligentes, como o apresentado pelo excerto, é possibilitada pelo desenvolvimento de redes técnicas que modificam as relações sociais e o modo de vida das pessoas. O meio geográfico correspondente a essa condição é chamado

- a) meio comercial-informacional.
b) meio informacional.
c) meio técnico-científico.
d) meio técnico-científico-informacional.
e) meio técnico-comercial-informacional.

18. (Unesp) O BRICS – Brasil, Rússia, Índia, China e África do Sul – vem negociando cuidadosamente o estabelecimento de mecanismos independentes de financiamento e estabilização, como o Arranjo Contingente de Reservas (Contingent Reserve Arrangement – CRA) e o Novo Banco de Desenvolvimento (New Development Bank – NDB). O primeiro será um fundo de estabilização entre os cinco países; o segundo, um banco para financiamento de projetos de investimento no BRICS e outros países em desenvolvimento.

(www.cartamaior.com.br. Adaptado.)

O Arranjo Contingente de Reservas e o Novo Banco de Desenvolvimento procuram suprir a escassez de recursos nas economias emergentes. Tais iniciativas constituem uma alternativa

- a) às instituições de crédito privadas, encerrando a sujeição econômica dos países emergentes e evitando a assinatura de termos regulatórios coercitivos sobre as práticas de produção.
- b) aos bancos centrais dos países do BRICS, reduzindo os problemas econômicos de curto prazo e maximizando o poder de negociação do grupo.
- c) às instituições criadas na Conferência de Bretton Woods, definindo novos mecanismos de autodefesa e estimulando o crescimento econômico.
- d) ao norte-americano Plano Marshall, elegendo com autonomia o destino da ajuda econômica e os investimentos públicos em áreas estratégicas.
- e) à hegemonia do Banco Mundial, deslocando o centro do sistema capitalista e os fluxos de informação para os países em desenvolvimento.

19. (Unesp) Uma das consequências da retirada de coberturas vegetais florestadas é

- a) a redução das temperaturas médias locais.
b) o empobrecimento do solo.
c) o aumento da evapotranspiração.
d) a elevação do lençol freático.
e) a eliminação de pragas.

20. (Unesp) É necessário adotar estratégias globais que visem a um aprimoramento técnico-científico, educacional e do desenvolvimento econômico-social, tendo como ponto de convergência os interesses maiores da humanidade, quais sejam, a melhoria geral da qualidade de vida e a recuperação e a preservação da natureza. Nesse sentido, há a necessidade crescente de utilizar os resíduos sólidos, líquidos e gasosos como recursos que devem ser reaproveitados.

(Jurandyr L. S. Ross. *Geografia do Brasil*, 2005. Adaptado.)

De acordo com o texto, uma razão para o reaproveitamento dos resíduos seria

- a) a implantação de novos aterros sanitários.
- b) a superação de infraestruturas de tratamento.
- c) o aumento do mercado informal de coleta e armazenagem de lixo.
- d) o fim da dependência de matérias-primas importadas.
- e) a economia de matéria-prima.

21. (Unesp) Ao promover a livre circulação de mercadorias e serviços entre Estados Unidos, Canadá e México, o Acordo de Livre – Comércio da América do Norte ratificou as chamadas maquiladoras, caracterizadas como

- a) indústrias estadunidenses em território mexicano, que realizam a montagem de produtos através da exploração de mão de obra.
- b) parques tecnológicos estadunidenses em regiões de fronteira mexicana, que priorizam o desenvolvimento industrial regional via compartilhamento dos meios de produção.
- c) indústrias mexicanas em território estadunidense, que produzem bens de consumo por meio de parcerias para o desenvolvimento produtivo.
- d) universidades técnicas mexicanas em território canadense, que investem na qualificação profissional via intercâmbio de trabalhadores.
- e) empresas canadenses em território estadunidense, que objetivam a prestação solidária de serviços essenciais às cidades mexicanas.

22. (Unesp) Os espaços à margem da economia mundial são igualmente pouco integrados regionalmente, e a desintegração nacional limita a integração. O comércio intrarregional africano se situa em torno de 10% do que é movimentado e é polarizado em alguns países. Fora a África do Sul, cinco países representam três quartos das exportações intra-africanas.

(Philippe Hugon. *Geopolítica da África*, 2009.)

A inexpressividade do comércio intrarregional africano deve-se, em parte,

- a) ao acesso exclusivo a matérias-primas importadas e ao baixo mercado consumidor.
- b) à pouca diversificação das estruturas produtivas e às divergências socioculturais.
- c) à manutenção das colônias europeias e à obrigatoriedade da exportação.
- d) às fronteiras flexíveis e à generalização de economias não monetarizadas.
- e) aos altos custos no transporte de mercadorias e à ausência de centros urbanos.

23. (Unesp) Há grande diversidade entre aqueles que procuram inspiração em sua fé no Islã. A monarquia vaabita da Arábia Saudita e os líderes religiosos xiitas do Irã têm profundas discordâncias políticas e divergem igualmente em questões socioeconômicas. Em termos mais amplos, ocorre nos movimentos islamitas um debate sobre se a meta correta é mesmo chegar ao poder estatal, assim como sobre a democracia, a diversidade social, o papel das mulheres e da educação e sobre a maneira de interpretar o Corão. E, embora a maioria dos islamitas aceite a realidade da existência dos atuais Estados e suas fronteiras, uma minoria mais radical procura destruir todo o sistema e estabelecer um califado que abarque a região inteira [do Oriente Médio].

(Dan Smith. *O atlas do Oriente Médio*, 2008.)

O argumento principal do texto pode ser ilustrado por meio da comparação entre

- o respeito a todas as orientações sexuais nos países que vivem sob regime islâmico e a perseguição a homossexuais no Paquistão e na Índia.
- o apoio unânime dos grupos islâmicos ao atentado ao World Trade Center, em Nova Iorque, e a invasão militar norte-americana no Iraque.
- a situação e os direitos das mulheres nos países do Ocidente e nas áreas em que prevalecem regimes políticos islâmicos.
- a invasão norte-americana no Afeganistão e o apoio soviético ao regime liderado pelo Talibã naquele país.
- os islâmicos que protestaram contra o atentado à redação do jornal Charlie Hebdo, em Paris, e a ação militar do Estado Islâmico.

TEXTO PARA AS PRÓXIMAS 2 QUESTÕES:

Leia o texto para responder às questões.

O comércio internacional tem sido marcado por uma proliferação sem precedentes de acordos preferenciais de comércio regionais, sub-regionais, inter-regionais e, em especial, bilaterais (denominados Acordos Preferenciais de Comércio – APC). Atualmente, são poucos os países que ainda não fazem parte desses acordos. Com o impasse nas negociações da Rodada Doha da OMC, a alternativa das principais economias do mundo, como Estados Unidos, União Europeia e China, foi buscar a celebração de APC como forma de consolidar e ter acesso a novos mercados. O receio de boa parte dos países desenvolvidos, de economias em transição e em desenvolvimento de perderem espaço em suas exportações levou-os a aderir maciçamente aos APC.

(Umberto Celli Junior e Belisa E. Eleoterio. "O Brasil, o Mercosul e os acordos preferenciais de comércio". In: Enrique Iglesias *et al.* (orgs.). *Os desafios da América Latina no século XXI*, 2015.)

24. (Unesp) Considerando o contexto dinâmico apresentado pelo excerto, compreende-se a proliferação dos acordos preferenciais de comércio como resultado

- dos pactos internacionais de mútuo desenvolvimento econômico, o que leva a investimentos na qualificação da mão de obra em países periféricos.
- do endividamento interno dos países subdesenvolvidos, o que provoca forte pressão internacional pela comercialização de seus produtos primários.
- da crise de superprodução dos antigos centros industriais, o que demanda rápidos acordos para evitar fechamentos de empresas e demissões em massa.
- do enfraquecimento dos antigos blocos econômicos, o que provoca divergências políticas e econômicas em setores produtivos estratégicos de cada país.
- da globalização da economia, o que alimenta uma crescente integração e uma relativa uniformização das condições de existência das sociedades.

25. (Unesp) É correto afirmar que a Rodada Doha, iniciada pela Organização Mundial do Comércio em 2001, constitui

- um encontro multipolar que procura orientar o modo de produção e as questões relativas à organização, distribuição e consumo nos países centrais e periféricos.
- uma reunião eletiva que busca regularizar os fluxos comerciais entre blocos econômicos e o seu período de duração.
- um conjunto normativo que procura regularizar a exportação de produtos desenvolvidos pelas economias periféricas sem o pagamento de *royalties*.

Lista de Exercícios

- d) uma cartilha de diretrizes que busca padronizar os custos de produção e os preços finais de produtos agrícolas básicos.
- e) um fórum internacional que objetiva solucionar impasses em questões tarifárias, sobre patentes e ações protecionistas entre países desenvolvidos e em desenvolvimento.

26. (Unesp) Analise o trecho da canção "Tempo rei", de Gilberto Gil.

Não me iludo
Tudo permanecerá do jeito que tem sido
Transcorrendo
Transformando
Tempo e espaço navegando todos os sentidos
Pães de Açúcar
Corcovados
Fustigados pela chuva e pelo eterno vento
Água mole
Pedra dura
Tanto bate que não restará nem pensamento
Tempo rei, ó, tempo rei, ó, tempo rei
Transformai as velhas formas do viver

(www.gilbertogil.com.br)

O trecho faz alusão direta a dois processos geomorfológicos:

- a) meteorização e subsidência.
- b) assoreamento e fraturamento.
- c) erosão e esculpimento.
- d) lixiviação e escarpamento.
- e) abrasão e soerguimento.

27. (Unesp) A escassez de recursos hídricos pode ser vista como resultado de um conjunto de fatores naturais e humanos que variam em cada região. No caso da região Sudeste, em especial da região metropolitana de São Paulo, entre os fatores humanos que contribuem diretamente para a restrição da disponibilidade de água estão:

- a) a transposição de bacias hidrográficas e o grande consumo agrícola de recursos hídricos.
- b) a intensa poluição de rios e lençóis freáticos e o grande consumo urbano e industrial de recursos hídricos.
- c) o grande consumo urbano e agrícola de recursos hídricos e a inexistência de infraestruturas de captação, tratamento e distribuição de água.
- d) a preservação de vastas extensões de floresta nativa e a transposição de bacias hidrográficas.
- e) a inexistência de infraestruturas de captação, tratamento e distribuição de água e a intensa poluição de rios e lençóis freáticos.

28. (Unesp) Florestas tropicais recobrimo níveis de morros costeiros, escarpas terminais tipo "Serra do Mar" e setores serranos mamelonizados dos planaltos compartimentados e acidentados do Brasil de Sudeste. Florestas biodiversas, dotadas de diferentes biotas primariamente recobrimo mais de 85% do espaço total. O domínio tem mostrado ser o meio físico, ecológico e paisagístico mais complexo e difícil do país em relação às ações antrópicas.

Aziz Nacib Ab'Sáber. *Os domínios de natureza no Brasil*, 2003. Adaptado.

O domínio paisagístico brasileiro descrito no texto é o de

- a) Planaltos das Araucárias.
- b) Depressões interplanálticas semiáridas do Nordeste.

- c) Chapadões recobertos por Cerrados.
- d) Terras Baixas Florestadas da Amazônia.
- e) Mares de Morros Florestados.

29. (Unesp) Analise a tabela.

Variação do percentual de posições de atendimento das empresas de teleatendimento, por região brasileira, 2000-2011

Região	Percentual de posições de atendimento	
	2000	2011
Sudeste	71%	78,1%
Nordeste	5,3%	16%
Sul	16,4%	3,4%
Centro-Oeste	4,6%	2%
Norte	2,7%	0,5%
Brasil	100%	100%

(Marina Castro de Almeida. "Em outros pontos da rede". *Estudos Geográficos*, janeiro/julho de 2014.)

A partir dos dados apresentados na tabela e considerando as especificidades dos serviços de teleatendimento, é correto afirmar que, no período analisado, houve

- a) redução na representatividade da região Sudeste, explicada pela baixa dinâmica econômica e pela parca disponibilidade de mão de obra qualificada.
- b) redução na representatividade da região Sul, entendida pelo colapso de suas redes informacionais e pelos altos impostos cobrados pela administração pública.
- c) aumento na representatividade da região Nordeste, associado à disponibilidade de redes técnico-informacionais e aos menores custos de operação.
- d) aumento na representatividade da região Centro-Oeste, devido ao incremento do agronegócio e à ampliação dos serviços terceirizados.
- e) redução na representatividade da região Norte, explicada pela raridade de centros urbanos e pelo interesse privado em oferecer serviços ligados ao campo.

30. (Unesp) Se, até a década de 1980, o conjunto da agropecuária nordestina permaneceu quase inalterado, a partir de então se vislumbra a ocupação de novas fronteiras pelo agronegócio globalizado, tomando alguns lugares específicos dessa região, que passam a receber vultosos investimentos de algumas importantes empresas do setor, difundindo-se a agricultura científica e o agronegócio. Existe hoje no Nordeste, assim como de resto em todo o país, uma dicotomia entre uma agricultura tradicional e uma agricultura científica, apresentando-se esta em algumas partes bem delimitadas do território nordestino, constituindo verdadeiros *pontos luminosos*.

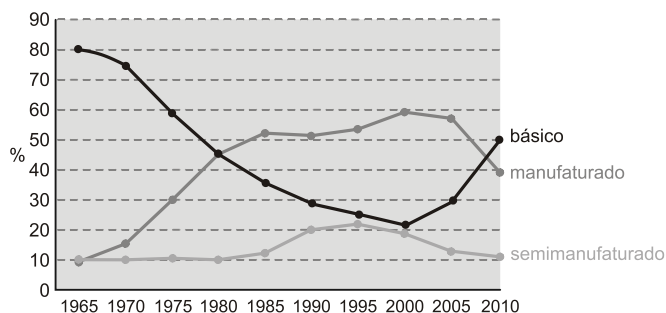
(Denise Elias. "Globalização e fragmentação do espaço agrícola do Brasil". *Scripta Nova*, agosto de 2006. Adaptado.)

É exemplo de espaço nordestino "luminoso", incorporado aos circuitos produtivos globalizados do agronegócio, a região produtora de

- soja, na Zona da Mata.
- mandioca, na Chapada Diamantina.
- cacau, no Agreste.
- cana-de-açúcar, no Sertão.
- frutas, no vale do São Francisco.

31. (Unesp) Analise o gráfico.

Evolução das exportações brasileiras por tipo de produto,
1965-2010



(Samuel Frederico, *Revista Geografia*, v. 37, 2012. Adaptado.)

A partir da análise do gráfico e de conhecimentos sobre as características qualitativas do comércio exterior brasileiro, o termo que exprime corretamente a orientação assumida pela pauta de exportações brasileiras a partir do século XXI é o de

- sofisticação.
- industrialização.
- estagnação.
- reprimarização.
- crescimento.

32. (Unesp) No território brasileiro, petróleo e gás são mais extraídos em áreas de

- rifteamento, sobretudo na depressão sertaneja do Nordeste.
- núcleos cristalinos, sobretudo nas planícies costeiras.
- cinturões orogenéticos, especialmente nos planaltos residuais da Amazônia.
- bacias sedimentares, sobretudo na plataforma continental.
- dobramentos modernos, especialmente nos planaltos e serras do Sudeste.

33. (Unesp) A incorporação de grande parcela da população ao sistema bancário, a difusão generalizada das operações de crédito individual, a dispersão de agências bancárias e pontos de autoatendimento em escala nacional e a difusão de formas de compra por meio de cartão de crédito são expressões de um fenômeno que pode ser denominado de "financeirização da sociedade e do território brasileiro". A forma como este processo ocorreu no Brasil esteve associada

- à integração do território nacional através dos sistemas técnicos de comunicação e informação; à centralização de capitais e articulação dos agentes do sistema financeiro; à difusão de um modelo de consumo de massa; e à flexibilização do acesso ao crédito pessoal.
- à desarticulação das regiões brasileiras em termos de sistemas de transportes e comunicação; à centralização de capitais pelos agentes do sistema financeiro; à difusão de diferentes modelos de produção e consumo; e à flexibilização do acesso ao crédito pessoal.
- à integração do território nacional através dos sistemas técnicos de comunicação e informação; à multiplicidade e desarticulação dos agentes do sistema financeiro; à difusão de diferentes modelos de consumo; e à restrição do acesso ao crédito pessoal.

- d) à integração interna das regiões brasileiras e sua desarticulação em escala nacional; à centralização de capitais pelos agentes do sistema financeiro; à difusão de um modelo de consumo de massa; e à flexibilização do acesso ao crédito pessoal.
- e) à fragmentação do território nacional em termos de sistemas de transporte e comunicação; à multiplicidade e desarticulação dos agentes dos sistemas financeiros regionais; à difusão de um modelo de consumo de massa; e à restrição do acesso ao crédito pessoal.

34. (Unesp) Analise a tabela.

Relação crédito/depósito entre as regiões brasileiras, 2007

Região	Crédito concedido (bilhões de R\$)	Capacitação de Depósitos (bilhões de R\$)
Concentrada	712.683	618.578
Nordeste	51.164	73.230
Centro-Oeste	69.220	78.007
Amazônia	12.250	15.344

O volume de recursos concedidos por crédito e coletados por depósito em cada região do Brasil constitui um importante indicativo das finanças e da forma de atuação dos agentes do sistema financeiro no território nacional. A partir da análise da tabela e considerando regiões “ganhadoras” as regiões em que o volume de recursos concedidos por crédito é superior ao volume de recursos captados por depósito, é correto afirmar que em 2007 prevaleceu uma situação de

- a) equilíbrios regionais: o volume de recursos captados por depósito em cada região brasileira foi inferior ao volume de crédito oferecido, portanto, todas as regiões podem ser caracterizadas como “perdedoras” de recursos.
- b) desigualdades regionais: as regiões Amazônia, Nordeste e Centro-Oeste caracterizam-se como “ganhadoras” de recursos, enquanto a região Concentrada pode ser caracterizada como “perdedora”.
- c) equilíbrios regionais: não existiam diferenças significativas entre o volume de recursos concedidos e o volume de recursos captados por depósito entre as regiões brasileiras, não havendo, portanto regiões “ganhadoras” ou “perdedoras” de recursos.
- d) desigualdades regionais: apesar de todas as regiões se caracterizarem como “ganhadoras” de recursos, a região Concentrada possuía um montante de recursos muito superior ao total devido pelas demais regiões.
- e) desigualdades regionais: a região Concentrada caracteriza-se como “ganhadora” de recursos, enquanto as demais regiões do país podem ser caracterizadas como “perdedoras”.

35. (Unesp) Observado de um ângulo distinto, o desenvolvimento da primeira metade do século XX apresenta-se basicamente como um processo de articulação das distintas regiões do país em um sistema com um mínimo de integração.

Celso Furtado. *Formação econômica do Brasil*, 2013.

Considerando o processo histórico de desenvolvimento econômico e territorial brasileiro, ao longo da primeira metade do século XX, é correto afirmar que

- a) estabelecimento de redes comerciais protecionistas estimulou a produção cafeeira, a partir deste momento, voltada ao sólido mercado consumidor nacional.
- b) o fortalecimento do mercado interno reforçou o movimento de substituição das importações, fomentado na região Sudeste pela ação do Estado e do capital estrangeiro.

Lista de Exercícios

- c) a adoção de superintendências locais financiou a modernização da economia açucareira do litoral nordestino, reinserindo-a no mercado internacional.
- d) a implantação de um sistema nacional integrado solidificou os empreendimentos agroindustriais da região Centro-Oeste, agora protegidos pelo planejamento desenvolvimentista nacional.
- e) a articulação regional garantiu o crescimento da exploração aurífera em Minas Gerais, fornecendo subsídios técnicos e amplo mercado consumidor.



Lista de Exercícios

Gabarito:

Resposta da questão 1:

[E]

Com o aquecimento da superfície, o ar quente e úmido, com baixa pressão, ascende e esfria, podendo até levar a condensação, formação de nuvens e chuvas de convecção. Posteriormente, o ar resfriado e com maior pressão desce até a superfície. Este processo favorece o maior tempo de voo para a asa delta.

Resposta da questão 2:

[D]

Como mencionado corretamente na alternativa [D], o contrabando, o mercado negro ou ilegal é um exemplo clássico dos problemas associados às fronteiras. Estão incorretas as alternativas: [A], porque financiamentos internacionais não se configuram como um problema; [B], porque a desarticulação político-institucional não é um problema inerente à fronteira; [C], porque a subsistência não é inerente à fronteira e o país não tem movimentos separatistas; [E], porque a ação dos grileiros não se limita às fronteiras.

Resposta da questão 3:

[D]

No processo histórico de constituição do território brasileiro, as expedições dos bandeirantes e as trilhas (ligadas à pecuária e à mineração) no período colonial foram muito importantes para ampliar a área para além dos limites do Tratado de Tordesilhas, forçando o Tratado de Madri (1750).

Resposta da questão 4:

[A]

A região Sudeste é a mais rica, industrializada e urbanizada do Brasil, porém apresenta muitas disparidades regionais e sociais internas. No quesito saneamento básico, grande parte dos domicílios não tem acesso a rede coletora do esgoto, fator que leva à proliferação de doenças.

Resposta da questão 5:

[E]

Como mencionado corretamente na alternativa [E], a charge representa a incorporação de áreas periféricas pelo mercado imobiliário para a expansão urbana, deslocando a população de menor renda para áreas mais marginais ou limítrofes das cidades. Estão incorretas as alternativas: [A], porque a charge sugere expansão e não retração; [B], porque o indivíduo de terno sugere o grande capital eliminando a moradia de baixo padrão e não a reabilitando; [C], porque ocorre incorporação e não desapropriação; [D], porque a charge sugere a ocupação e não a degradação da periferia.

Resposta da questão 6:

[B]

O mapa destaca a região do Bico do Papagaio (sul do Pará, Maranhão, parte do Piauí e norte do Tocantins), área com concentração de conflitos pela posse da terra, trabalho análogo à escravidão e violência (assassinatos de posseiros, sindicalistas, ambientalistas e lideranças de movimentos por reforma agrária a mando de latifundiários e grileiros).

Resposta da questão 7:

[A]

Lista de Exercícios

Como mencionado corretamente na alternativa [A], a doutrina econômica que se baseia em um Estado não interventor é o neoliberalismo, adotado na década de 1990 no Brasil segundo as recomendações do Consenso de Washington. Estão incorretas as alternativas: [B], porque a doutrina Keynesiana reforça o papel interventor do Estado na economia; [C], porque o neocolonialismo é o processo de domínio territorial por uma metrópole; [D], porque o liberalismo é a doutrina desenvolvida por Adam Smith no século XIX; [E], porque o mercantilismo foi a prática econômica desenvolvida no século XVI.

Resposta da questão 8:

[D]

A compensação financeira é importante no licenciamento ambiental para compensar os impactos ambientais de um determinado empreendimento. Porém, os recursos devem ser utilizados em atividades mitigadoras dos impactos ou para conservação ambiental em outros locais.

Resposta da questão 9:

[C]

A criação de unidades de conservação com proteção integral, ou seja, preservação total dos recursos (biológicos e minerais) é, por vezes, criticada por populações tradicionais como indígenas, quilombolas e comunidades extrativistas, uma vez que impede a retirada sustentável de recursos naturais das reservas. Também é comum as populações tradicionais não participarem do processo de criação e delimitação das unidades.

Resposta da questão 10:

[E]

O polo petroquímico de Camaçari (BA) foi resultante de uma política de desenvolvimento regional baseada em incentivos fiscais para as empresas, a exemplo da atuação da SUDENE (Superintendência para o Desenvolvimento do Nordeste). Nos anos 2000, a concentração da produção de petróleo e gás natural em outros estados, além de problemas de logística de transportes e portos tem desestimulado as empresas.

Resposta da questão 11:

[B]

Como mencionado corretamente na alternativa [B], a partir do segundo meado do século XIX a produção cafeeira no Vale do Paraíba resulta na transformação do espaço econômico e social, cujos benefícios serão posteriormente usados para o embasamento da produção industrial. Estão incorretas as alternativas: [A], porque a industrialização foi um processo que se seguiu à cafeicultura; [C], porque a mineração destacou-se no século XVIII no interior do território; [D] e [E], porque não correspondem às atividades de destaque na região do século XIX.

Resposta da questão 12:

[C]

Como mencionado corretamente na alternativa [C], a teoria que estabelece relação entre o crescimento demográfico e o consumo é a ecomalthusiana, cuja premissa baseia-se no aumento da população em um ritmo acima do que os recursos naturais podem suprir. Estão incorretas as alternativas: [A], porque as teorias malthusiana e neomalthusiana são consideradas antinatalistas por proporem controle populacional; [B], porque a teoria neomalthusiana concebe que a pobreza gera aumento populacional; [D], porque a teoria malthusiana concebe que o aumento da população ocorrerá acima do ritmo de produção de alimentos; [E], porque a teoria reformista concebe que com a elevação da qualidade de vida, o ritmo de crescimento populacional se reduz.

Lista de Exercícios

Resposta da questão 13:

[A]

O IDH (Índice de Desenvolvimento Humano) é integrado pela expectativa de vida, média de anos de estudo e renda per capita. A renda per capita constitui a divisão do PIB (Produto Interno Bruto) pela população absoluta. Como é uma média, não afere a distribuição social da renda dos países.

Resposta da questão 14:

[B]

Como mencionado corretamente na alternativa [B], o processo de urbanização estende-se por todos os continentes, independente do nível econômico da população de seus países. Estão incorretas as alternativas: [A], porque tende a crescer; [C], porque países com pequena renda tem menor urbanização; [D], porque independente do nível econômico, ocorre urbanização; [E], porque em todas as categorias de renda do gráfico ocorrem grandes variações.

Resposta da questão 15:

[B]

Como mencionado corretamente na alternativa [B], os transgênicos ou OGM's (Organismos Geneticamente Modificados) foram desenvolvidos para selecionar plantas mais resistentes à doenças e pragas, além de maior adaptabilidade à diferentes meios, garantindo maior lucro ao produtor. Estão incorretas as alternativas: [A], porque as plantas transgênicas usam agrotóxicos; [C], porque transgênicos estão associados ao grande investimento eliminando a questão da função social; [D], porque com a transgenia, a pratica orgânica foi reduzida; [E], porque a transgenia é associada ao grande investidor.

Resposta da questão 16:

[D]

Como mencionado corretamente na alternativa [D], no intervalo mostrado pelos gráficos, ocorreu o aumento da participação de países subdesenvolvidos no consumo mundial de petróleo, resultado dentre outros fatores, do crescimento de suas economias. Estão incorretas as alternativas: [A] e [B], porque a redução da participação dos países desenvolvidos ou da OCDE ocorreu em razão da maior porcentagem dos subdesenvolvidos no consumo mundial total; [C], porque a China não compõe o grupo denominado Tigres Asiáticos; [E], porque o Oriente Médio não registrou aumento da produção industrial.

Resposta da questão 17:

[D]

Como mencionado corretamente na alternativa [D], o meio geográfico descrito no texto é o meio técnico-científico-informacional, ou seja, a forma como a sociedade se relaciona com ela própria e com o meio natural construindo o espaço geográfico é apoiada pelas inovações tecnológicas permitindo uma nova relação lugar-mundo. Estão incorretas as demais alternativas porque não correspondem ao conceito pedido pelo enunciado.

Resposta da questão 18:

[C]

O grupo de cooperação diplomática e econômica BRICS (Brasil, Rússia, Índia, China e África do Sul) criou o Novo Banco de Desenvolvimento para financiar projetos de infraestrutura em países emergentes e subdesenvolvidos. Assim, a iniciativa pode levar a uma concorrência com o Banco Mundial, instituição criada após a Conferência de Bretton Woods (EUA, 1944), que também possibilitou a criação do FMI e impôs o dólar americano como moeda de reserva no mundo. Do ponto de vista geopolítico, significa que

Lista de Exercícios

as potências emergentes querem maior autonomia em relação ao FMI e Banco Mundial, organismos cujo maior poder é conferido aos países desenvolvidos.

Resposta da questão 19:

[B]

Como mencionado corretamente na alternativa [B], a retirada da cobertura arbórea resulta no empobrecimento do solo em razão do aumento da lixiviação. Estão incorretas as alternativas: [A], porque ocorre aumento da temperatura média local; [C], porque reduz a evapotranspiração; [D], porque aumenta o escoamento superficial rebaixando o lençol freático; [E], porque ocorre redução da biodiversidade, não a eliminação de pragas.

Resposta da questão 20:

[E]

Como mencionado corretamente na alternativa [E], o texto indica a recuperação e preservação da natureza como justificativa do reaproveitamento dos resíduos indicando, portanto, a redução ou economia de matéria-prima. Estão incorretas as demais alternativas, porque não são mencionadas ou indicadas no texto como uma razão para o reaproveitamento dos resíduos.

Resposta da questão 21:

[A]

Como mencionado corretamente na alternativa [A], as maquiladoras são indústrias estadunidenses que ao se instalarem no México, se desobrigam a cumprir a totalidade das legislações trabalhistas aproveitando farta mão de obra barata para montar ou embalar produtos já fabricados em outros países e que, ao entrar nos EUA como sendo de origem mexicana, em razão dos acordos do NAFTA, escapam das sobretaxas de importação. Estão incorretas as demais alternativas, porque não correspondem à definição do enunciado.

Resposta da questão 22:

[B]

A pouca integração comercial entre os países da África deve-se a uma série de fatores: subdesenvolvimento, dependência em relação às exportações de commodities para países desenvolvidos (União Europeia, Estados Unidos e Japão) e emergentes (China), infraestrutura precária (poucas rodovias, hidrovias e ferrovias integrando os países), baixa diversificação da economia e diferenças culturais (religiosas e étnicas).

Resposta da questão 23:

[E]

A maioria dos muçulmanos é moderada, entre os quais os que criticam atos como o atentado contra o jornal satírico francês *Charlie Hebdo* (2015). Os muçulmanos são divididos entre xiitas e sunitas (com subdivisões como os vaabitas na Arábia Saudita). Os grupos fundamentalistas ou islamitas são minoritários. Aqueles que fazem parte de organizações terroristas também são agrupamentos minoritários, a exemplo do Estado Islâmico (sunita) que ocupa parte da Síria e Iraque.

Resposta da questão 24:

[E]

A globalização caracteriza-se pela aceleração dos fluxos de mercadorias, pessoas e informações no espaço mundial através da modernização dos transportes, telecomunicações e informática. Assim, a

criação da OMC e de diversos blocos econômicos a partir da década de 1990 é fundamental na dinâmica do capitalismo globalizado.

Resposta da questão 25:

[E]

Na OMC (Organização Mundial do Comércio), a Rodada de Doha foi uma negociação comercial iniciada em 2001. Nas negociações, os países desenvolvidos (EUA e União Europeia) queriam maior abertura dos mercados dos países subdesenvolvidos e emergentes para produtos industrializados e serviços. O G20 (países emergentes e subdesenvolvidos) propôs maior abertura dos mercados dos países desenvolvidos para produtos agropecuários. Ambos os lados cederam pouco, em razão do protecionismo, e a Rodada de Doha não avançou, chegando a um impasse.

Resposta da questão 26:

[C]

A erosão é o desgaste da superfície com remoção de partículas minerais e matéria orgânica. Pode ser pluvial (água da chuva), abrasão (marinha), fluvial (rios), eólica (vento), etc.

Ao longo do tempo geológico, a erosão modela ou realiza o esculpimento do relevo, a exemplo de formas em regiões cristalinas como o Pão de Açúcar e o Corcovado no Rio de Janeiro.

Resposta da questão 27:

[B]

Como mencionado corretamente na alternativa [B], dentre os fatores humanos que contribuem para a escassez de água pode-se citar a grande demanda para atender a crescente população de uma metrópole já populosa, além do consumo do setor produtivo, e a degeneração dos recursos hídricos, seja por meio da contaminação, poluição, ou a extensa cobertura asfáltica reduzindo a infiltração. Estão incorretas as alternativas: [A], porque a obra de transposição está associada ao Rio São Francisco; [C] e [E], porque existe infraestrutura de captação, tratamento e distribuição; [D], porque a Mata Atlântica, vegetação típica da região, foi fortemente devastada.

Resposta da questão 28:

[E]

Como mencionado corretamente na alternativa [E], o texto descreve o domínio de mares de morros, cujo traço marcante são as formas mamelonares ou policonvexas, consequência da constituição de rochas mais resistentes submetidas à ação da umidade do oceano. Estão incorretas as alternativas: [A], porque o domínio citado corresponde à formação das cuestas; [B], porque o domínio citado corresponde à presença de *inselbergs*; [C], porque o domínio citado corresponde às chapadas e chapadões; [D], porque o domínio citado corresponde à formação de planícies.

Resposta da questão 29:

[C]

Entre 2000 e 2011, houve um grande crescimento do Nordeste em decorrência da expansão das redes de telecomunicações e de informática, crescimento econômico da região, aumento da classe média e do consumo, além do maior contingente de mão de obra com salários mais baixos.

Resposta da questão 30:

[E]

O Médio Vale do São Francisco com destaque para Petrolina (PE) e Juazeiro (BA) são importantes polos de desenvolvimento do agronegócio no semiárido voltado para o mercado interno e exportações

Lista de Exercícios

facilitadas pelos modais de transporte. A região é importante em fruticultura que utiliza técnicas modernas de irrigação e biotecnologia. Destacam-se as produções de manga, goiaba, uva e vinho de boa qualidade.

Resposta da questão 31:

[D]

Como mencionado corretamente na alternativa [D], a tendência da pauta de exportações no século XXI é a reprimarização, ou seja, a especialização da produção de commodities agrícolas e minerais em detrimento da produção industrial (processo que pode ser associado à desindustrialização). Estão incorretas as alternativas: [A], porque a sofisticação refere-se ao processo de exportações de produtos com tecnologia agregada, o que não é indicado na tabela; [B], porque a tendência de exportação de commodities invalida o destaque da industrialização; [C], porque não está ocorrendo estagnação, e sim o redirecionamento da pauta de exportação; [E], porque o gráfico não indica crescimento.

Resposta da questão 32:

[D]

Recursos energéticos de origem orgânica como petróleo e gás natural são encontrados apenas em bacias sedimentares terrestres ou recobertas pelo mar. No Brasil, grande parte do petróleo e gás natural pós-sal e pré-sal localiza-se em bacias como a de Campos e a de Santos. As unidades de relevo submarino associadas são a plataforma continental e o talude.

Resposta da questão 33:

[A]

O sistema financeiro é hegemônico no capitalismo contemporâneo. Assim, a ampliação das redes de informática e telecomunicações no território é fundamental para manter esta influência sobre a sociedade. Isto permite, que os principais centros financeiros e de gestão fiquem centralizados em metrópoles como São Paulo, mas com ramificações em todo o espaço nacional. A partir da década de 2000, com o maior crescimento da classe média e do consumo, aumentou o número de brasileiros com acesso a contas bancárias e crédito, permitindo elevar a lucratividade do setor, já beneficiado pelas taxas elevadas de juros praticadas no país.

Resposta da questão 34:

[E]

A tabela indica a concentração de recursos concedidos à região Concentrada e, portanto, como mencionado corretamente na alternativa [E], ocorre desigualdade na distribuição de recursos entre as regiões. Estão incorretas as alternativas: [A] e [C], porque não ocorre equilíbrio regional; [B], porque Amazônia, Nordeste e Centro-Oeste são “perdedoras” e a região Concentrada é “ganhadora”; [D], porque somente a região Concentrada é “ganhadora”.

Resposta da questão 35:

[B]

Como mencionado corretamente na alternativa [B], com a decadência da cultura cafeeira em razão do crash de 1929, Vargas redireciona os investimentos da então “economia de arquipélago” do Brasil para a região sudeste, investindo particularmente em indústrias de base e infraestrutura. Estão incorretas as alternativas: [A], porque o período marca a decadência da cultura cafeeira no sudeste; [C], porque a adoção de superintendências se inicia no governo JK com a SUDENE e se posterga no período dos governos militares; [D], porque a agroindústria no centro-oeste está associada ao agrobusiness na década de 1990; [E], porque a exploração aurífera em Minas Gerais se deu no século XVIII.