

IDH – Índice de Desenvolvimento Humano

G0467 - (Enem) Procuramos demonstrar que o desenvolvimento pode ser visto como um processo de expansão das liberdades reais que as pessoas desfrutam. O enfoque nas liberdades humanas contrasta com visões mais restritas de desenvolvimento, como as que identificam desenvolvimento com crescimento do Produto Nacional Bruto, ou industrialização. O crescimento do PNB pode ser muito importante como um meio de expandir as liberdades. Mas as liberdades dependem também de outros determinantes, como os serviços de educação e saúde e os direitos civis.

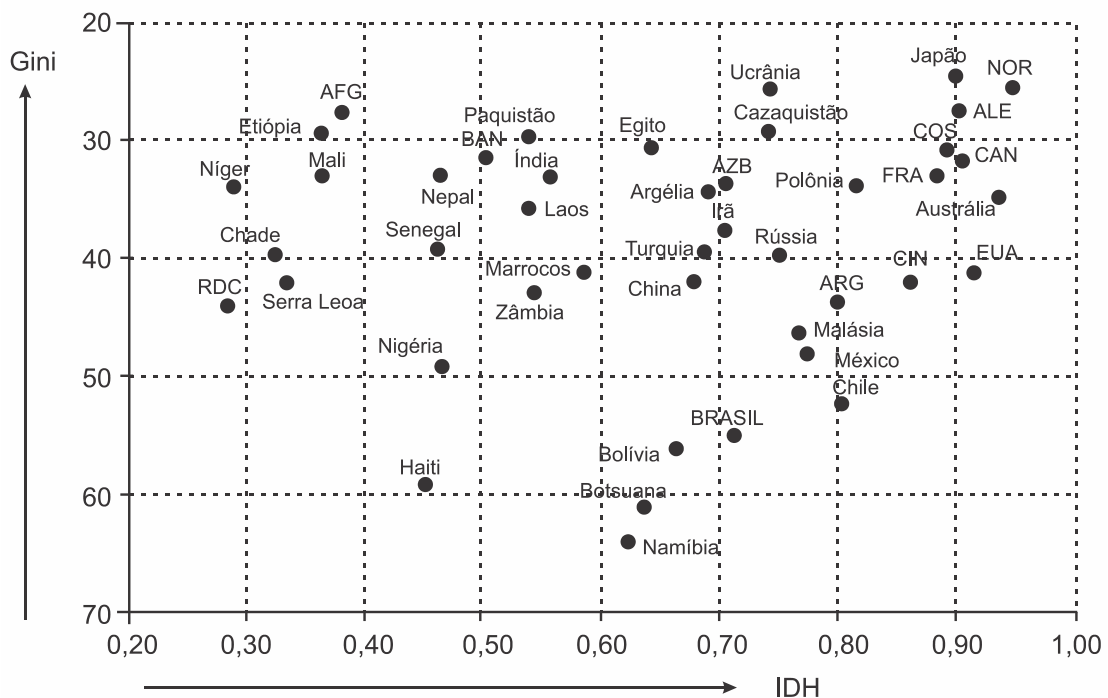
SEN, A. *Desenvolvimento como liberdade*. São Paulo: Cia. das Letras, 2010.

A concepção de desenvolvimento proposta no texto fundamenta-se no vínculo entre

- incremento da indústria e atuação no mercado financeiro.
- criação de programas assistencialistas e controle de preços.
- elevação da renda média e arrecadação de impostos.
- garantia da cidadania e ascensão econômica.
- ajuste de políticas econômicas e incentivos fiscais.

G0468 - (Cftmg) Analise o gráfico a seguir:

DESENVOLVIMENTO E DESIGUALDADE



Fonte: FERREIRA, Graça M. L. *Atlas geográfico: espaço mundial*. São Paulo: Moderna, 2013. p. 36 (adaptado)

A partir da análise dos dados do gráfico, afirma-se que:

- I. O Brasil, apesar de possuir um baixo Índice de Desenvolvimento Humano, possui um nível de desigualdade social similar ao dos países desenvolvidos.
- II. A posição dos países emergentes no gráfico confirma a heterogeneidade socioeconômica desse grupo.
- III. O conjunto de países representados na parte superior do gráfico apresenta melhores índices sociais.
- IV. Para a definição do desenvolvimento social dos países, é necessário avaliar a relação inversa dos índices representados.

Estão corretas apenas as afirmativas:

- a) I e II.
- b) I e III.
- c) II e IV.
- d) III e IV.

G0469 - (Espcex) O IDH (Índice de Desenvolvimento Humano) é usado pelo Programa das Nações Unidas para o Desenvolvimento (PNUD) para avaliar o nível de bem-estar social de um país. Sobre o IDH, podemos afirmar que

I. o cálculo desse índice é feito com base nos seguintes indicadores socioeconômicos: longevidade, nível de instrução e *PIB per capita*.

II. tal como o coeficiente de Gini, os valores do IDH variam entre 0 e 1, e quanto mais próximos a zero, mais elevado será o IDH, isto é, melhores serão as condições de vida de um país.

III. o Brasil possui um IDH que o classifica acima da média de muitos países em desenvolvimento, porém encontra-se ainda atrás de países como a Argentina e o Uruguai.

IV. os IDHs apresentados pelos estados do Maranhão e de Alagoas, no Nordeste brasileiro, estão entre os piores do mundo, inferiores aos de países africanos, como Zimbábue e Lesoto.

Assinale a alternativa que apresenta todas as afirmativas corretas.

- a) I e III
- b) II e IV
- c) III e IV
- d) I, II e III
- e) I, II e IV

G0470 - (Uepg) (Adaptada) Sobre Índice de Desenvolvimento Humano (IDH), que é uma medida comparativa para determinar o grau de desenvolvimento humano dos países componentes da ONU, e estabelecida por esta através do PNUD – Programa das Nações Unidas para o Desenvolvimento, assinale o que for INCORRETO.

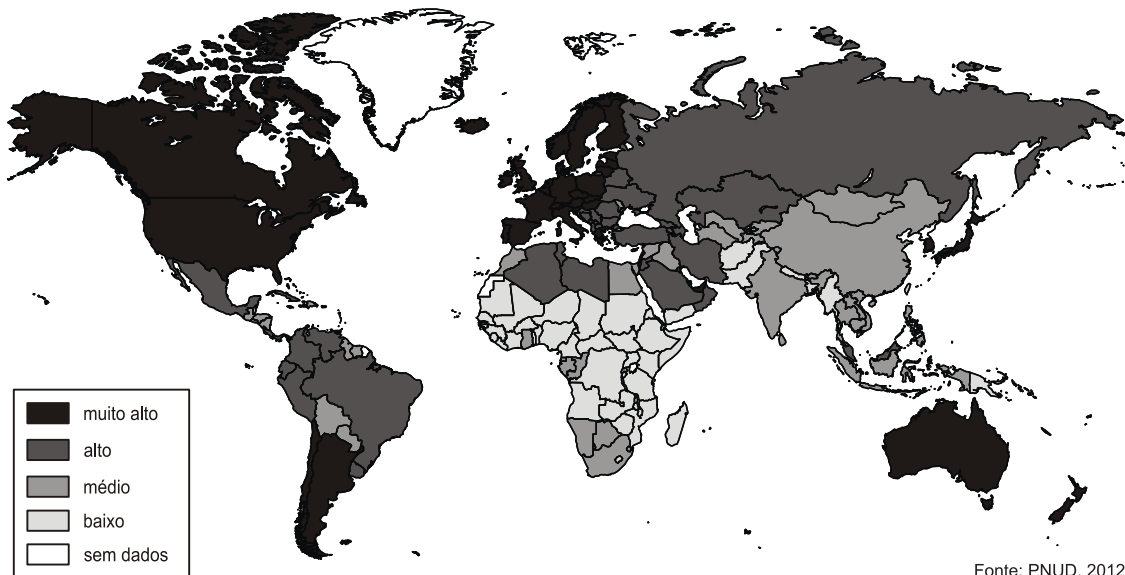
a) Nos últimos dados divulgados pela ONU em 2020, o Brasil ficou com um IDH de 0,765 que o colocou na 84ª posição. Os índices vão de 0 a 1, sendo que quanto mais próximo de 1 melhor é a avaliação do país.

b) Os índices determinam países com IDH muito alto, IDH alto, IDH médio e IDH baixo. Entre os países com IDH muito alto e alto estão Islândia, Suécia, Uganda, Tanzânia, Etiópia, Indonésia, Tailândia, Haiti e Quênia.

c) Os dados servem para determinar o grau de desenvolvimento de um país, classificando-o como desenvolvido, em desenvolvimento ou subdesenvolvido.

d) O IDH leva em conta vários fatores como renda per capita, educação, esperança de vida, natalidade e outros. Nas melhores classificações, ou seja, IDH muito alto, estão países como Noruega, Austrália, Suíça, Holanda, Estados Unidos, Alemanha, Canadá, Cingapura e outros.

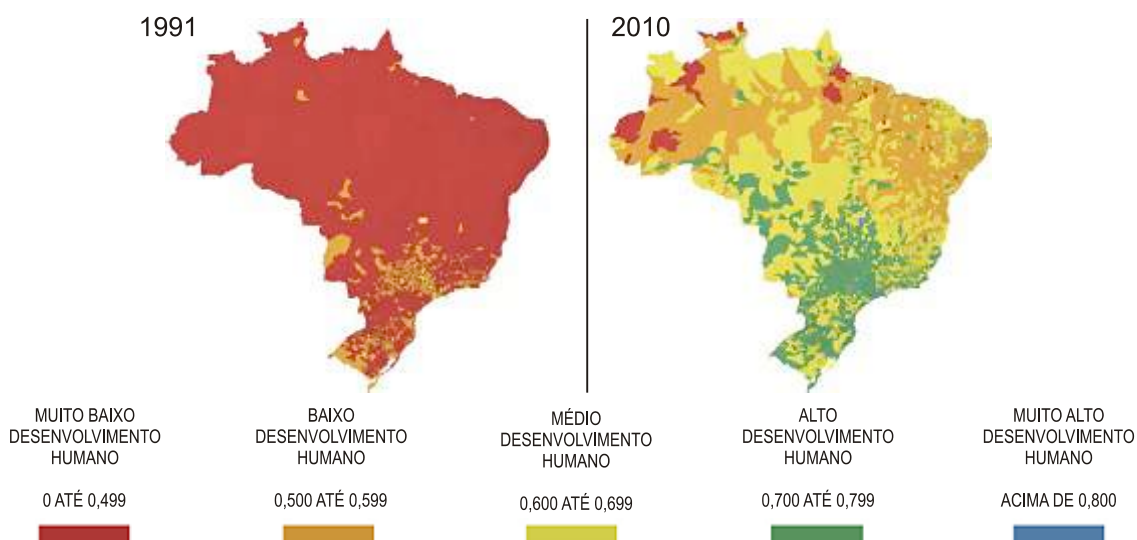
G0471 - (Espm) Observe o mapa:



Ele está representando:

- a) A densidade demográfica mundial.
- b) O PIB mundial.
- c) O IDH.
- d) Os países mais populosos.
- e) Emissão de CO₂.

G0472 - (Upe) De acordo com os resultados dos mapas apresentados abaixo, sobre o Índice de Desenvolvimento Humano Municipal (IDHM) do Brasil, analise os itens a seguir:



I. O IDHM é um índice divulgado pelo Programa das Nações Unidas para o Desenvolvimento (PNUD), composto pelo conjunto de três indicadores de desenvolvimento humano: a longevidade, a educação e a renda dos municípios.

II. Apesar da evolução do IDHM no Brasil, o Nordeste ainda tem 95% dos municípios na faixa de “muito baixo” desenvolvimento humano, e a região Norte já apresenta 80% das cidades na classificação “alto” e “muito alto”.

III. Em 20 anos, 85% dos municípios do Brasil saíram da faixa de “alto para o desenvolvimento humano” para “muito alto”, segundo a classificação criada pelo PNUD. A categoria que mais encolheu entre as décadas de 1990 e 2010 foi a de “médio desenvolvimento”.

IV. Os municípios das regiões brasileiras Sul e Sudeste estão concentrados, em sua maioria, na faixa de “alto desenvolvimento humano”. No Centro-Oeste, os resultados ainda apresentam a maioria dos municípios na categoria “médio desenvolvimento”.

Está **CORRETO** o que se afirma em

- a) I, apenas.
- b) II, apenas.
- c) III e IV, apenas.
- d) I e IV, apenas.
- e) I, II, III e IV.

G0473 - (Upf) O Atlas Brasil 2013, divulgado recentemente pelo Programa das Nações Unidas para o Desenvolvimento (PNUD), apresenta o Índice de Desenvolvimento Humano (IDH) e publica dados referentes às condições de vida dos brasileiros nos últimos 20 anos, considerando longevidade, educação e renda.

O IDH é expresso por um número, que varia entre 0 e 1 e compreende as seguintes faixas:

0 – 0,499	Muito Baixo
0,500 – 0,599	Baixo
0,600 – 0,699	Médio
0,700 – 0,799	Alto
0,800 – 1	Muito Alto

Sobre os dados publicados, é **correto** afirmar:

- a) A maioria dos municípios das regiões Sul, Sudeste e Norte é classificada com o índice “Alto” e “Muito Alto Desenvolvimento Humano”, demonstrando redução da desigualdade.
- b) A maior concentração de municípios com índice “Muito Alto Desenvolvimento Humano” está nas regiões Sudeste e Sul e na capital federal.
- c) Os municípios da região Nordeste apresentaram o maior crescimento do IDH referente à longevidade da sua população, colocando-se no mesmo nível da região Sul nesse quesito.
- d) A renda *per capita* do brasileiro cresceu 14,2% no período, elevando para a categoria de “Alto Desenvolvimento Humano” 90% dos municípios brasileiros.
- e) O indicador educação é o que menos contribui para o IDH nacional, embora apresente um crescimento contínuo, impulsionado pelo avanço da escolaridade da população adulta e pelo aumento de ingresso e de permanência de jovens no ensino médio.

G0474 - (Espcex) Sobre os indicadores socioeconômicos podemos afirmar que:

- I. O IDH do Brasil não reflete as condições de vida vigentes no País como um todo, em virtude de este apresentar fortes desigualdades regionais.
- II. O PIB *per capita* é, por si só, um dado suficiente para se avaliar as condições socioeconômicas de um país.

III. Tanto a taxa de analfabetismo como o nível de instrução possuem estreita relação com o rendimento (renda) da população.

IV. O cálculo do IDH baseia-se em três indicadores socioeconômicos: a expectativa de vida, o nível de instrução e a taxa de mortalidade infantil.

Assinale a alternativa que apresenta todas as afirmativas corretas:

- a) I e II
- b) I e III
- c) I, II e IV
- d) II, III e IV
- e) III e IV

G0475 - (Espm) O Índice de Desenvolvimento Humano (IDH) é uma medida resumida do progresso a longo prazo em três dimensões básicas do desenvolvimento humano: renda, educação e saúde. O objetivo da criação do IDH foi o de oferecer um contraponto a outro indicador muito utilizado, o Produto Interno Bruto (PIB) per capita, que considera apenas a dimensão econômica do desenvolvimento.

Fonte: PNUD, 2018. Disponível em: <http://www.br.undp.org/content/brazil/pt/home/idh0.html>.

Em seu Relatório de Desenvolvimento Humano divulgado em setembro de 2018, o PNUD demonstrou que no Ranking dos **dez** países mais bem colocados, em relação ao indicador mencionado no texto, verifica-se uma hegemonia dos países da:

- a) Ásia.
- b) América do Norte.
- c) Europa.
- d) Oceania.
- e) América Latina.

G0476 - (Espcex) O IDH (Índice de Desenvolvimento Humano) é usado pelo Programa das Nações Unidas para o Desenvolvimento (PNUD) para avaliar o nível de bem-estar social de um país. Sobre o IDH, podemos afirmar que

I. o cálculo desse índice é feito com base nos seguintes indicadores socioeconômicos: longevidade, nível de instrução e PIB *per capita*.

II. tal como o coeficiente de Gini, os valores do IDH variam entre 0 e 1, e quanto mais próximos a zero, mais elevado será o IDH, isto é, melhores serão as condições de vida de um país.

III. o Brasil possui um IDH que o classifica acima da média de muitos países em desenvolvimento, porém encontra-se ainda atrás de países como a Argentina e o Uruguai.

IV. os IDHs apresentados pelos estados do Maranhão e de Alagoas, no Nordeste brasileiro, estão entre os piores do mundo, inferiores aos de países africanos, como Zimbábue e Lesoto.

Assinale a alternativa que apresenta todas as afirmativas corretas.

- a) I e III
- b) II e IV
- c) III e IV
- d) I, II e III
- e) I, II e IV

G0477 - (Espm) As classificações do IDH têm por base limiares fixos para os IDH, que derivam dos quartis da distribuição dos indicadores componentes. Os limiares são:

- Grupo que registra um desenvolvimento humano muito elevado – IDH superior ou igual a 0,800;
- Grupo que registra um desenvolvimento humano elevado – Valores de IDH entre 0,700 e 0,799;
- Grupo que registra um desenvolvimento humano médio – Valores de IDH entre 0,550 e 0,699; e
- Grupo que registra um desenvolvimento humano baixo – Valores de IDH inferiores a 0,550.

Fonte: IBGE, 2015.

Em relação ao texto é correto afirmar:

- a) O órgão responsável pelo estudo é o PNUD e o Brasil encontra-se no grupo de desenvolvimento humano médio.
- b) O órgão responsável pelo estudo é o Banco Mundial e o Brasil encontra-se no grupo de desenvolvimento humano elevado.
- c) O órgão responsável pela elaboração do estudo é o PNUD e o Brasil encontra-se no grupo de desenvolvimento humano elevado.
- d) O órgão responsável pelo estudo é o UNICEF e o Brasil encontra-se no grupo de desenvolvimento humano médio.
- e) O órgão responsável pelo estudo é o Banco Mundial e o Brasil encontra-se no grupo de desenvolvimento humano muito elevado.

G0478 - (Unesp)



(www.pelicanocartum.net)

A charge ironiza uma das variáveis que compõem o cálculo do Índice de Desenvolvimento Humano proposto pela Organização das Nações Unidas, a saber,

- a) a renda, pela referência ao dia em que as personagens almoçaram.
- b) a expectativa de vida, pela alusão ao condicionamento físico da personagem que move o carrinho.
- c) a renda, pela referência aos objetos de alto valor agregado que as personagens carregam.
- d) a escolaridade, pela alusão à língua portuguesa empregada em sua forma padrão pelas personagens.
- e) a mobilidade, pela referência ao meio de transporte utilizado pelas personagens.

G0479 - (Utfpr) O Índice de Desenvolvimento Humano considera três indicadores (escolaridade, saúde e renda per capita) na elaboração do ranking de qualidade de vida entre regiões da Terra. Aplicado ao Brasil, somente podemos afirmar que:

- a) os estados com menores IDH têm as melhores condições de vida como Amapá, Mato Grosso e Alagoas.
- b) o IDH da região Nordeste é o único sem disparidades regionais entre as regiões brasileiras.
- c) o IDH decresce do Sul em direção a Amazônia e do litoral do Sudeste em direção ao litoral da região Nordeste.
- d) o sul de Minas Gerais vai registrar os piores índices sociais, pois faz parte do Cinturão da Seca.
- e) geralmente as regiões com menores IDH são as consideradas áreas de atração populacional.

G0480 - (Ufrgs) Considere a tabela abaixo, sobre o Índice de Desenvolvimento Humano (IDH) que é uma medida comparativa usada para classificar a qualidade de vida oferecida por um país aos seus habitantes.

Classificação do IDH	País	IDH Valor	Expectativa de Vida (anos)	Média de anos de escolaridade (anos)	Rendimento Nacional Bruto (RNB) per capita (em dólar)
1°	Noruega	0,943	81,1	12,6	47.557
4°	EUA	0,910	78,5	12,4	43.557
45°	Argentina	0,797	75,9	9,3	14.527
51°	Cuba	0,776	79,1	9,9	5.416
84°	Brasil	0,718	73,5	7,2	10.162
173°	Zimbábue	0,376	51,4	7,2	376
174°	Etiópia	0,363	59,3	1,5	971

Disponível em: <http://www.pnud.org.br/atlas/ranking/IDH_global_2011.aspx>. Acesso em: 8 set. 2014.

Com base na tabela, considere as seguintes afirmações.

- I. Cuba apresenta expectativa de vida, média de anos de escolaridade e rendimento *per capita* superiores aos do Brasil.
- II. Brasil e Zimbábue apresentam, em média, a mesma escolaridade.
- III. Zimbábue apresenta maior IDH em relação à Etiópia, devido à média de anos de escolaridade.

Quais estão corretas?

- a) Apenas I.
- b) Apenas II.
- c) Apenas III.
- d) Apenas II e III.
- e) I, II e III.

notas