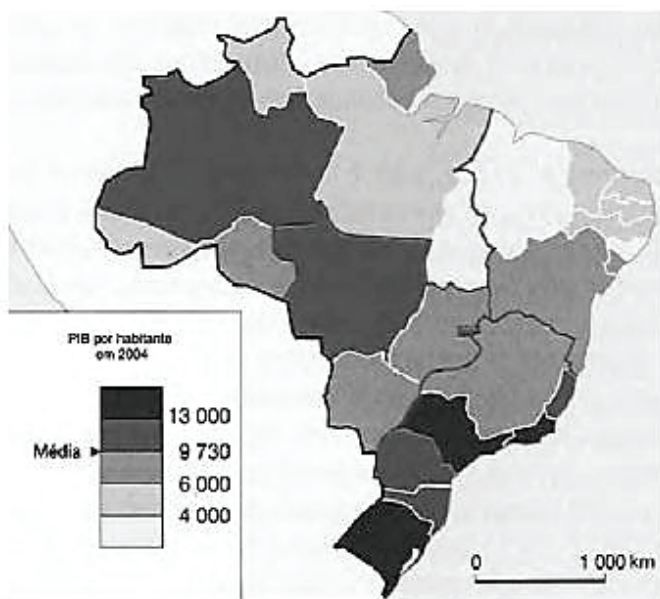




AULAS	EXERCÍCIOS	ORIENTADOS	FÁCIL	MÉDIO	DIFÍCIL	ENEM
13		00	00	00	00	10

QUESTÃO 01

(ENEM 2009 1ª APLICAÇÃO)



A partir do mapa apresentado, é possível inferir que nas últimas décadas do século XX, registraram-se processos que resultaram em transformações na distribuição das atividades econômicas e da população sobre o território brasileiro, com reflexos no PIB por habitante. Assim,

- A** o Nordeste tem vivido, ao contrário do restante do país, um período de retração econômica, como consequência da falta de investimentos no setor industrial com base na moderna tecnologia.
- B** os novos fluxos migratórios instaurados em direção ao Norte e ao Centro-Oeste do país prejudicaram o desenvolvimento socioeconômico dessas regiões, incapazes de atender ao crescimento da demanda por postos de trabalho.
- C** o Sudeste brasileiro deixou de ser a região com o maior PIB industrial a partir do processo de desconcentração espacial do setor, em direção a outras regiões do país.
- D** o avanço da fronteira econômica sobre os estados da região Norte e do Centro-Oeste resultou no desenvolvimento e na introdução de novas atividades econômicas, tanto nos setores primário e secundário, como no terciário.
- E** as desigualdades econômicas existentes entre regiões brasileiras desapareceram, tendo em vista a modernização tecnológica e o crescimento vivido pelo país.

QUESTÃO 02

(ENEM 2009 2ª APLICAÇÃO) O Banco Mundial classifica os países de acordo com a renda média *per capita*. Em 2005, 2,4 bilhões de pessoas receberam 580 dólares anuais, em média, nos países considerados em desenvolvimento, ao passo que 1 bilhão de pessoas em países de alta renda receberam 35.130 dólares anuais *per capita*.

Atlas of Global Development. Washington/DC, Collins, 2002, p. 8 (com adaptações).

A classificação utilizada pelo Banco Mundial, em relação ao nível de desenvolvimento dos países, permite concluir que

- A** o baixo nível de renda verificado nos países em desenvolvimento é determinado pela estagnação em sua economia.
- B** a desigualdade de renda existente é desconsiderável, pois a população dos países em desenvolvimento é mais numerosa que a dos países de renda elevada.
- C** a disparidade de renda entre os países em desenvolvimento e os desenvolvidos foi superada.
- D** as diferenças no valor da moeda utilizada em cada país impossibilitam a comparação entre os níveis de qualidade de vida em cada grupo de países.
- E** a diferença de nível de renda *per capita* entre os países em desenvolvimento e os desenvolvidos também está relacionada com o padrão de qualidade de vida existente em cada grupo de países.

QUESTÃO 03

(ENEM 2012 2ª APLICAÇÃO)



SATRAPI, M. *Persépolis*. São Paulo: Cia. Das Letras, 2007 (adaptado)

Cada uma das personagens adota uma forma diferente de designar os países "não desenvolvidos", porém, atualmente tem-se adotado a terminologia "países em desenvolvimento" porque

- A** indica que os países estão em processo de desenvolvimento, reduzindo o estigma inerente ao termo "subdesenvolvidos".
- B** demonstra o crescimento econômico desses países, que vem sendo maior ao longo dos anos, erradicando as desigualdades.
- C** representa melhor a ausência de desigualdades econômicas que se observa hoje entre essas nações.

- D** reafirma que durante a Guerra Fria os países que eram subdesenvolvidos alcançaram estágios avançados de desenvolvimento.
- E** facilita as relações comerciais no mercado globalizado, ao aproximar países mais e menos desenvolvidos.

QUESTÃO 04

(ENEM 2012 2ª APLICAÇÃO) A integração do espaço amazônico ao espaço nacional se deu no contexto das questões de fronteiras de políticas, no sentido do dinamismo pioneiro da integração. Essas fronteiras foram elementos fundamentais para a compreensão da geopolítica dos militares, que não apenas objetivavam a posse do vazio demográfico, mas representavam os interesses do governo brasileiro em manter sob sua influência uma grande área no interior do continente.

MELLO, N. A. Políticas territoriais na Amazônia. São Paulo: Annablume, 2006.

No texto, são apresentados fundamentos da política de colonização de uma importante região brasileira, ao longo do período dos governos militares. Uma estratégia estatal para a ocupação desse espaço foi:

- A** Adoção de estímulos para expansão de grupos econômicos privados.
- B** Demarcação de reservas para preservação da floresta.
- C** Criação de restrições para exploração de recursos minerais.
- D** Construção de uma densa rede de transporte para escoamento da produção agrícola.
- E** Concessão de incentivos fiscais para instalação da indústria automobilística.

QUESTÃO 05

(ENEM 2012 2ª APLICAÇÃO)

Texto I

Em março de 2004, o Brasil reconheceu na Organização das Nações Unidas a existência, no país, de pelo menos 25 mil pessoas em condição análoga à escravidão – e esse é um índice considerado otimista. De 1995 a agosto de 2009, cerca de 35 mil pessoas foram libertadas em ações dos grupos móveis de fiscalização do Ministério do Trabalho e Emprego.

Mentiras mais contadas sobre trabalho escravo. www.reporterbrasil.com.br.

Texto II

O Brasil subiu quatro posições entre 2009 e 2010 no ranking do Índice de Desenvolvimento Humano (IDH) divulgado pelo Programa das Nações Unidas para Desenvolvimento. Mas, se o IDH levasse em conta apenas a questão da escolaridade, a posição do Brasil no ranking mundial ficaria pior, passando de 73 para 93.

UCHINAKA, F.; CHAVES-SCARELLI, T. Brasil é o país que mais avança, apesar da variável "educação" puxar IDH para baixo. <http://noticias.uol.com.br>.


Estão sugeridas nos textos duas situações de exclusão social, cuja superação exige, respectivamente, medidas de

- A** fiscalização do Estado e incremento da educação nacional.
- B** nacionalização de empresas e aumento da distribuição de renda.

- C** sindicalização dos trabalhadores e contenção da migração interna.
- D** redução de impostos e políticas de ações afirmativas.
- E** geração de empregos e aprimoramento do poder judiciário.

QUESTÃO 06

(ENEM 2014 1ª APLICAÇÃO)



Em breve, já poderá o Brazil esticar as canellas sem receio de não ser ouvido dos pés á cabeça.

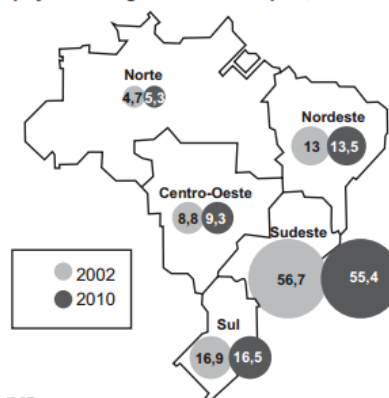
A charge, datada de 1910, ao retratar a implantação da rede telefônica no Brasil, indica que esta

- A** restringiria a sua área de atendimento aos estados do norte do país.
- B** permitiria aos índios se apropriarem da telefonia móvel.
- C** ampliaria o contato entre a diversidade de povos indígenas.
- D** possibilitaria a integração das diferentes regiões do território nacional.
- E** faria a comunicação sem ruídos entre grupos sociais distintos.

QUESTÃO 07

(ENEM 2014 2ª APLICAÇÃO)

Participação das regiões no PIB do país, em %



Fonte: IBGE.

Disponível em: www.acervo.folha.com.br. Acesso em: 7 dez. 2012 (fragmento).

As trajetórias de participação das regiões Sudeste e Nordeste, apresentadas no mapa, estão, respectivamente, associadas ao(à)

- A** diminuição da participação do setor de serviços e à ampliação do agronegócio.
- B** aumento do fluxo migratório inter-regional e à descoberta de novas jazidas de carvão mineral.
- C** encarecimento da mão de obra e à política de incentivos fiscais.
- D** expansão da malha rodoviária e à instalação de grandes projetos hidrelétricos.
- E** redução da renda média e à flexibilização das leis ambientais.

QUESTÃO 08

(ENEM 2016 2ª APLICAÇÃO) Em 1967, o geógrafo brasileiro Pedro Pinchas Geiger propôs uma divisão regional do país em regiões geoeconômicas ou complexos regionais. Essa divisão baseia-se no processo histórico de formação do território brasileiro, levando em conta, especialmente, os efeitos da industrialização. Dessa forma, busca-se refletir a realidade do país e compreender seus mais profundos contrastes.

<http://educacao.uol.com.br>. Acesso em: 23 ago. 2012 (adaptado).

A divisão em regiões geoeconômicas ou complexos regionais encontra-se na seguinte representação:



QUESTÃO 09

(ENEM 2018 2ª APLICAÇÃO)

Figura 1



<http://atlascolar.ibge.gov.br>. Acesso em: 2 out. 2015 (adaptado).

Figura 2



<http://imgms.almanaque.abril.com.br>. Acesso em: 2 out. 2015.

No planejamento das ações governamentais, a segunda forma de regionalização apresenta a vantagem de

- A** respeitar a divisão político-administrativa.
- B** reconhecer as desigualdades sociais.
- C** considerar as identidades culturais.
- D** valorizar a dinâmica econômica.
- E** incorporar os critérios naturais.

QUESTÃO 10

(ENEM 2019 2ª APLICAÇÃO) Tal como foi concebido, o desenvolvimento da Amazônia pressupunha o desmatamento. Muitas forças foram envolvidas e constituíram uma teia de múltiplos interesses: as instituições financeiras internacionais, a tecnocracia militar e civil, as elites regionais e nacionais, as corporações transnacionais, os madeireiros, os colonos sem terra e os garimpeiros.

SANTOS, L. G. Politizar as novas tecnologias: o impacto sociotécnico da informação digital e genética. São Paulo: Editora 34, 2003 (adaptado).

O modo de exploração descrito opõe-se a um modelo de desenvolvimento que

- A** gera empregos formais.
- B** possibilita lucros imediatos.
- C** maximiza atividades de extração.
- D** reitera a dependência econômica.
- E** promove a conservação de recursos.

**GABARITO**

01	D	02	E	03	A	04	A	05	A
06	D	07	C	08	B	09	A	10	E