

+ DE 1000
EXERCÍCIOS DE
GEOGRAFIA
DO ENEM
E VESTIBULARES



LOBÃO



ROCHA

PARTE 06



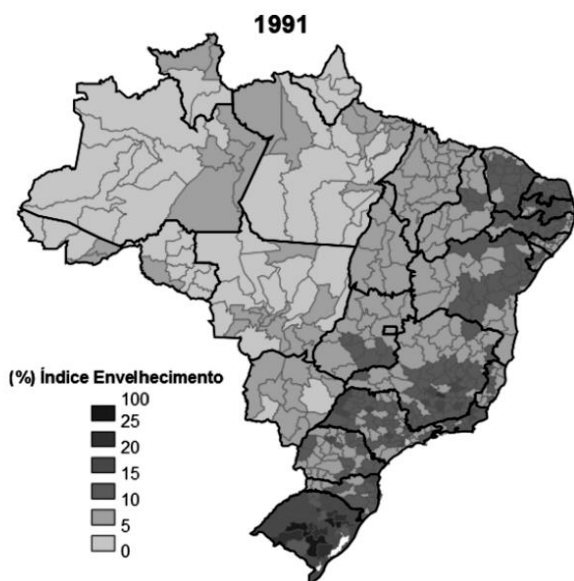
+GEO

POPULAÇÃO DO BRASIL
POPULAÇÃO GERAL

POPULAÇÃO DO BRASIL

Questão 01 - (FM Petrópolis RJ/2017)

No mapa abaixo, é exibido o índice de envelhecimento no Brasil.



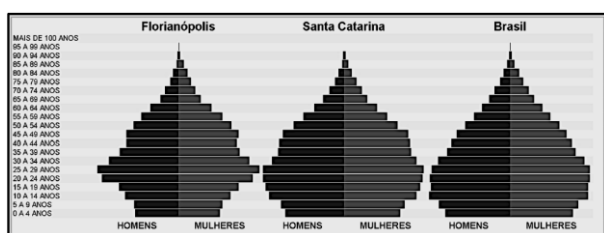
Disponível em: <<https://confins.revues.org/docannexe/image/10548/img-8.png>>. Acesso em: 2 jul. 2016.

A unidade da federação com o menor índice de envelhecimento exclusivamente em todo o seu território é o estado do

- a) Pará
- b) Paraná
- c) Amapá
- d) Tocantins
- e) Maranhão

Questão 02 - (IFSC/2017)

As pirâmides etárias a seguir representam, respectivamente, as populações de Florianópolis, de Santa Catarina e do Brasil em 2010.



Adaptado de IBGE Cidades, 2010. <http://goo.gl/RJWGSJ>

Com base nos seus conhecimentos e na análise das pirâmides etárias, assinale no cartão-resposta a soma da(s) proposição(ões) CORRETA(S).

- 01. Há distúrbios visíveis nas pirâmides etárias indicando que houve uma queda acentuada no nascimento de homens em 1985.
- 02. A expectativa de vida é maior na população feminina.
- 04. As pirâmides etárias servem como complemento aos estudos da qualidade de vida, já que, por meio delas, pode-se inferir aspectos populacionais ao longo do tempo.
- 08. Nesse tipo de gráfico, cada uma das metades representa um sexo e, do ponto de vista etário, a base representa o grupo jovem, o corpo representa o grupo adulto e o topo representa a população idosa.
- 16. Estudos em demografia apontam que, no futuro, teremos um estreitamento das bases das pirâmides, indicando que haverá uma diminuição na taxa de natalidade.

Questão 03 - (PUCCAMP/2017)

É interessante notar como, em Machado de Assis, se aliavam e se irmanavam a superioridade de espírito, a maior liberdade interior e um marcado convencionalismo. Dois termos que se repelem, pensador e burocrata, são os que melhor o exprimem. Entre *Memórias póstumas de Brás Cubas* e *Quincas Borba*, a vida nacional passara pelas profundas modificações da Abolição e da República.

– Que pensa de tudo isso Machado de Assis? indagava Eça de Queirós.

À queda da Monarquia, disse Machado no seu gabinete de burocrata, diante da conveniência de tirar da parede o retrato do imperador:

– Entrou aqui por uma portaria, só sairá por outra portaria.

Era o que tinha a dizer aos republicanos, atônitos com esse acatamento ao ato de um regime findo.

(Adaptado de: PEREIRA, Lúcia Miguel. **Machado de Assis**. 6. ed. rev.,

Belo Horizonte: Itatiaia; São Paulo: EDUSP, 1988, p. 208)

De acordo com o texto, na segunda metade do século XIX, ocorreram profundas transformações econômicas e sociais no Brasil. Sobre este tema é correto afirmar que

- a) o abolicionismo, a imigração e o processo de transformações proporcionadas pela cafeicultura, num contexto mundial de expansão capitalista, selaram a sorte da escravidão.
- b) a abolição alterou profundamente as formas de produção agrícola, uma vez que possibilitou o estabelecimento das bases do trabalho livre e assalariado em todo o país.
- c) os movimentos abolicionistas receberam apoio da Igreja Católica, em especial dos padres templários, e foram idealizados por homens livres, desvinculados de tradições locais.
- d) a incipiente industrialização, a exigência de indenização pelos proprietários e a ineficiente política brasileira de substituição da mão de obra retardaram o fim da escravidão.
- e) a abolição progressiva da escravidão e o movimento republicano contribuíram para a instalação da indústria de bens de consumo e para a urbanização da região Sudeste.

Questão 04 - (UEL PR/2017)

Os movimentos migratórios existentes no Brasil, a partir de 2001, mostram que 41% dos habitantes do país não eram naturais do município de residência e cerca de 16% deles não eram procedentes da Unidade Federativa em que moravam. Considerando a realidade exposta, assinale a alternativa que apresenta, corretamente, motivos que estimularam fluxos migratórios nesse período.

- a) A ausência de ciclos econômicos e de investimentos produtivos, públicos ou privados.
- b) A contínua e crescente desintegração dos espaços urbanos e rurais.
- c) A migração pendular, que provoca um estado de crise permanente de repulsão da população.
- d) A saída do campo para a cidade devido às precárias condições de trabalho lá existentes.
- e) O desenvolvimento dos sistemas de transportes, energia e comunicações.

Questão 05 - (UEL PR/2017)

Leia o texto a seguir.

Uma parte considerável dos novos ativistas já compareceu a protestos e a encontros presenciais, mas há muitos que se manifestam exclusivamente na Internet sob a forma de textos, hashtags e vídeos. E o volume de informação produzido por eles

sinaliza a centralidade que a política assumiu no dia a dia dos brasileiros.

(Adaptado de: CIRNE, S. Somos todos ativistas. Galileu. abr. 2016. p.41.)

As formas de ativismo *on-line* e *off-line*, no Brasil, demonstram a emergência, na sociedade civil, de novos atores políticos, que se articulam por meio de ações coletivas em rede.

Com base no texto e nos conhecimentos sobre as recentes formas de mobilização dos atores da sociedade civil, assinale a alternativa correta.

- a) As ações coletivas em rede podem ser comparadas aos movimentos sindicais brasileiros da década de 1970, por adotarem práticas de organização e de mobilização em defesa da esfera privada contra a opressão estatal.
- b) As manifestações políticas organizadas em redes de movimentos caracterizam-se pela participação de diversos grupos e de múltiplos atores imersos na vida cotidiana, com militância parcial e efêmera.
- c) O atual ativismo político no Brasil, a exemplo do mundo, mobiliza entidades e organizações ideologicamente unificadas e com práticas comuns no mercado, a fim de obter vantagens coletivas trabalhistas e salariais.
- d) O ciberativismo, na contemporaneidade, envolve, como no passado, a mobilização das grandes classes e a afirmação do movimento operário como principal protagonista das transformações socioeconômicas.
- e) Os sujeitos dos movimentos favoráveis às políticas neoliberais, na atualidade brasileira, organizam-se em rede para a defesa da intervenção e da regulação da economia e das relações de trabalho, pelo Estado.

Questão 06 - (UNIFOR CE/2017)

A formação de um mercado de trabalho livre no Brasil, a partir de meados do século XIX, é considerada por muitos estudiosos como o acontecimento mais importante da história econômica daquele período, pois possibilitou a criação e consolidação de um mercado interno.

Sobre o problema da mão de obra no país pode-se afirmar que:

- a) A abolição da escravidão em 1888 em nada contribuiu para o desenvolvimento do mercado interno.
- b) As condições de vida dos escravos eram relativamente boas, com a taxa de natalidade superando a taxa de mortalidade.
- c) A imigração de europeus para o Brasil no século XIX foi feita na base do regime de trabalho servil.
- d) O crescimento da economia cafeeira, especialmente na segunda metade do século XIX, determinou vasta imigração de trabalhadores livres para o Brasil.
- e) Durante a segunda metade do século XIX, parte da população escrava foi transferida para o Norte do país devido à economia da borracha.

Questão 07 - (FGV/2017)

Desde o início de 2016, os analistas econômicos têm noticiado que o Brasil apresenta um PIB (Produto Interno Bruto) negativo, traçando um cenário pessimista para a economia nacional.

A expressão "PIB negativo" se refere


- a) à desaceleração do sistema produtivo que, quando combinada com um crescimento demográfico acelerado, gera um resultado negativo no cálculo do PIB per capita.
- b) à queda da produção por vários meses seguidos, configurando um cenário econômico recessivo, com desaceleração do processo produtivo, desemprego e falência de empresas.
- c) ao déficit na balança comercial, uma vez que o país exporta menos produtos e serviços do que importa em função dos altos custos logísticos e da taxa de câmbio desfavorável.

d) ao saldo negativo entre o ritmo crescente da renda per capita e a piora dos índices de bem-estar social, como o nível de educação e o acesso à saúde dos indivíduos.

e) ao endividamento gerado pela administração pública ao gastar mais do que arrecada em tributos e ao não conseguir saldar seus empréstimos.

Questão 08 - (UERJ/2017)

Conferência Sinistra



Charge da *Revista Tagarela*, publicada em agosto de 1904, em que três doenças – febre amarela, peste bubônica e varíola – realizam conferência na cidade do Rio de Janeiro.

A capital da República não pode continuar a ser apontada como sede de vida difícil, quando tem fartos elementos para constituir o mais notável centro de atração de braços, de atividade e de capitais nesta parte do mundo.

RODRIGUES ALVES, presidente da República, 1902-1906.

Adaptado de FIDÉLIS, C.; FALLEIROS, I. (Org.). *Na corda bamba de sombrinha: a saúde no fio da história*. Rio de Janeiro: Fiocruz/COC; Fiocruz/EPSJV, 2010.

No início do século XX, enquanto a charge ironizava um dos graves problemas que afetava a população da cidade do Rio de Janeiro, o pronunciamento do então presidente Rodrigues Alves enfatizava a preocupação com o que poderia comprometer o desenvolvimento da capital da República.

Naquele contexto, uma ação governamental para promover tal desenvolvimento e um resultado obtido, foram, respectivamente:

- a) reforma urbana – qualificação da mão de obra
- b) combate à insalubridade – incremento da imigração
- c) ampliação da rede hospitalar – controle da natalidade
- d) expansão do saneamento básico – erradicação da pobreza

Questão 09 - (UNESP SP/2017)

Em maio deste ano, a divulgação do vídeo de uma moça desacordada, vítima de um estupro coletivo, provocou grande indignação na população. Num primeiro momento, prevaleceu a revolta diante da barbárie e a percepção de que o machismo, base da chamada “cultura do estupro”, persiste na sociedade. Passado o primeiro momento, as opiniões divergentes começaram a surgir. Entre os que não veem o machismo como propulsor de crimes desse tipo estão aqueles (e aquelas!) que consideraram os autores do ato uns “monstros”, o que faz do episódio um caso isolado, perpetrado por pessoas más. Houve quem analisasse o fato do ponto de vista da psicologia, sugerindo que, num estupro coletivo, o que importa é o grupo, não a mulher (como ocorre nos trotes contra calouros e na agressão entre torcidas de futebol). Mais uma vez, temos uma reflexão que se propõe explicar os fatos à luz do indivíduo e seu psiquismo. Outros deslocam o problema para as classes sociais menos favorecidas. São os que costumam ficar horrorizados com a existência de favelas, ambientes onde meninas dançam com pouca roupa ao som das letras machistas do funk.

(Thais Nicoletti. "Discursos em torno da 'cultura do estupro'".
www.uol.com.br, 09.06.2016. Adaptado.)

Considerando o conjunto dos argumentos mobilizados no texto para explicar a violência contra a mulher na sociedade atual, é correto afirmar que

- a "cultura do estupro" é um conceito educacional relacionado sobretudo com o baixo nível de escolarização da população.
- as origens e responsabilidades por tais acontecimentos devem ser atribuídas tanto aos agentes quanto às vítimas da agressão.
- a "cultura do estupro" é um conceito científico, relacionado com desvios comportamentais de natureza psiquiátrica.
- os episódios de barbárie social são provocados exclusivamente pelas desigualdades materiais geradas pelo capitalismo.
- a abordagem opõe um enfoque antropológico, baseado em questões de gênero, a argumentos de natureza moral, psicológica e social.

Questão 10 - (UNICAMP SP/2017)

O estudo *Arranjos Populacionais e Concentrações Urbanas do Brasil* (IBGE, 2015) identificou 294 arranjos populacionais no País, de diferentes escalas e naturezas. O Arranjo Populacional da Região Metropolitana de São Paulo (SP) é caracterizado pela extensão e intensidade de seus fluxos: aproximadamente 1.750.000 pessoas deslocam-se cotidianamente entre os municípios que compõem o Arranjo para estudar e trabalhar.

Essa dinâmica espacial é melhor explicada pelo conceito de

- migração interna.
- movimento pendular.
- migração urbano-urbano.
- movimento sazonal.

Questão 11 - (UNICAMP SP/2017)

Distribuição da população pelas regiões brasileiras (em porcentagem)							
Regiões / Anos	1950	1960	1970	1980	1991	2000	2010
Centro-Oeste	3,0	3,8	4,9	5,8	6,4	6,9	7,4
Norte	3,9	4,1	4,4	5,6	7,0	7,6	8,3
Sul	15,1	16,8	17,7	16,0	15,1	14,8	14,4
Nordeste	34,6	31,6	30,3	29,2	28,8	28,1	27,8
Sudeste	43,4	43,7	42,7	43,4	42,7	42,6	42,1

(Fonte: Instituto Brasileiro de Geografia e Estatística - IBGE.)

Os sucessivos Censos Demográficos do IBGE (Instituto Brasileiro de Geografia e Estatística) buscam conhecer a distribuição da população pelo território brasileiro, conhecimento relevante para os mais diversos tipos de planejamento.

Considerando os dados da tabela acima, assinale a alternativa correta.

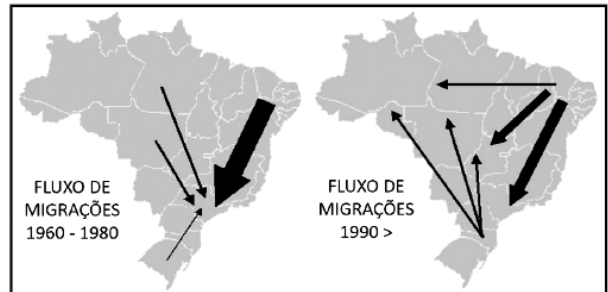
- As regiões Norte e Centro-Oeste foram as únicas com acréscimos contínuos na participação regional desde 1950, fenômeno associado aos fluxos migratórios nacionais incentivados por políticas governamentais de ocupação do território.
- A região Nordeste foi a única que apresentou redução contínua de participação regional, fenômeno associado às grandes secas do sertão, responsáveis pela migração da população para as outras regiões do país ao longo de todo o século XX.
- A região Sudeste tem maior participação regional na população do país, apresentando redução a partir de 1991,

fenômeno associado ao decréscimo, em números absolutos, de sua população pela elevada queda da taxa de fecundidade.

d) A região Sul apresentou acréscimo de participação regional até 1991, ocorrendo queda nas décadas seguintes, fenômeno associado ao regresso dos filhos de imigrantes europeus em busca de trabalho nos países de origem de seus pais.

Questão 12 - (UNIRG TO/2017)

Observe a figura.



Fonte: SANTOS, Regina Bega. *Migrações no Brasil*. São Paulo: Scipione, 1994.

Os movimentos migratórios do Brasil entre os anos de 1960 e 1980, apresentados na figura, evidenciam um fluxo maior em direção ao Sudeste. A partir da década de 1990,

- o Centro-Oeste e o Norte passam a atrair migrantes, enquanto o fluxo para o Sudeste continua intenso.
- o Nordeste passa a receber população do Sudeste e, no Sul, o fluxo de migrantes aumenta.
- o Norte passa a receber população de todas as regiões e o Sul recebe fluxo do Centro-Oeste.
- o Sul passa a ser a região com maior atração de migrantes e o fluxo para o Norte registra diminuição.

Questão 13 - (UCS RS/2017)

“Os economistas do mercado financeiro baixaram sua estimativa de inflação para este ano, mas também previram uma contração maior do Produto Interno Bruto (PIB) tanto em 2015 quanto em 2016, segundo o Relatório de Mercado, documento que é fruto de pesquisa do Banco Central com mais de 100 instituições financeiras. Para o comportamento da economia neste ano, os analistas passaram a estimar uma retração de 2,26%. Foi a sétima queda seguida deste indicador. Até então, a expectativa do mercado era de um recuo de 2,06% para o PIB de 2015. Se confirmado, será o pior resultado em 25 anos, ou seja, desde 1990 – quando foi registrada uma queda de 4,35%”.

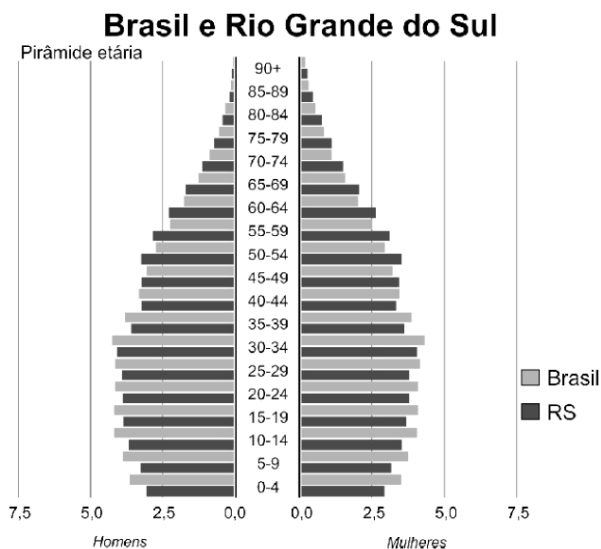
Disponível em: <http://g1.globo.com>. Acesso em: 4 set. 15. (Adaptado.)

Sobre a economia brasileira, assinale a alternativa correta.

- A região Sul, seguida pela Sudeste, a partir dos anos 90, consolidou-se como a região de maior PIB do território nacional.
- O PIB de cada estado não é um dado definitivo, os avanços ou a estagnação da indústria ou agropecuária podem acarretar mudanças na economia dos estados e alterar o PIB.
- Um estado que possui um PIB elevado apresenta melhores índices de desenvolvimento humano, visto que o PIB minimiza as diferenças sociais entre as classes mais ricas e mais pobres da população.
- O baixo índice do PIB da região Norte do Brasil se dá devido à baixa densidade demográfica de seus estados.
- A renda per capita mede quanto, do total produzido, cada cidadão teria se todos tivessem partes iguais. Portanto, um estado com uma grande densidade populacional tende a ter um elevado PIB.

Questão 14 - (UCS RS/2017)

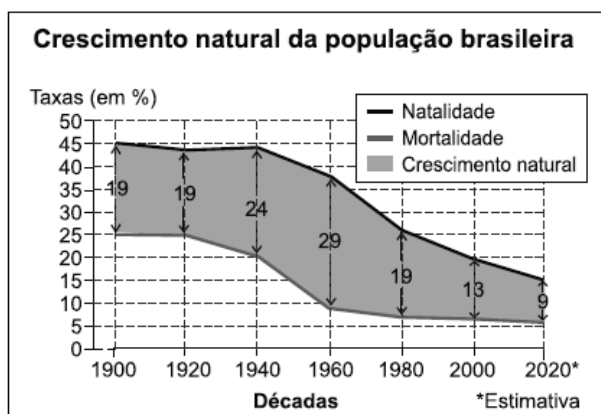
Observe as pirâmides etárias da população do Brasil e do Rio Grande do Sul para o ano de 2015, produzidas pelo Instituto Brasileiro de Geografia e Estatística (IBGE).



Assinale a alternativa correta.

- A pirâmide etária da população do Rio Grande do Sul, em geral, é mais jovem do que a população apresentada na pirâmide etária brasileira.
- 5% da população brasileira encontra-se na faixa abaixo dos 4 anos de idade.
- 3% da população do Rio Grande do Sul encontra-se na faixa acima dos 90 anos de idade.
- O percentual da população gaúcha com menos de 39 anos é superior ao percentual da mesma faixa etária apresentada na pirâmide brasileira.
- O percentual da população gaúcha acima dos 50 anos é superior ao percentual da mesma faixa etária apresentada na pirâmide brasileira.

Questão 15 - (UEFS BA/2017)



Alceu V.W. de Carvalho. *A população brasileira: estudo e interpretação*. Rio de Janeiro, IBGE, 1960/Anuário Estatístico do Brasil. Rio de Janeiro, IBGE, 1998.

A análise do gráfico, aliada aos conhecimentos sobre o crescimento da população brasileira, permite afirmar corretamente:

- O elevado crescimento vegetativo da década de 60 do século passado é atribuído à redução da mortalidade, em razão, entre outros, da melhoria nas condições médico-sanitárias.
- O crescimento demográfico no período anterior a 1940 era baixíssimo, devido às altas taxas de natalidade e de mortalidade infantil.
- O estágio de transição demográfica se concluiu a partir do momento em que a fecundidade começou a declinar numa razão de quatro filhos por mulher.

04. Entre 1890 e 1930, o crescimento natural da população esteve diretamente e exclusivamente relacionado ao processo migratório para o país.

05. A queda rápida da natalidade e da mortalidade, a partir de 2000, é explicada pelo intenso processo de urbanização, sobretudo na Região Sudeste.

Questão 16 - (UEFS BA/2017)



Com base na análise do mapa e nos conhecimentos sobre as migrações internas brasileiras, é correto afirmar:

- A ida de migrantes dos estados sulinos em direção ao Mato Grosso esteve relacionada ao processo de industrialização.
- A migração de nordestinos para o Sudeste ocorreu devido à ampliação das fronteiras agrícolas em todos os estados dessa região.
- O fluxo de migrantes ao norte do Paraná coincide com a fase do plantio da *araucária angustifolia*, bastante explorada durante a colonização do Estado.
- O período retratado no mapa se caracterizou por apresentar as mesmas áreas de repulsão de população da década anterior, de 50, a exemplo de São Paulo, Paraná e Minas Gerais.
- O fluxo de migrantes nordestinos para Manaus decorreu da criação da Superintendência da Zona Franca de Manaus, ou seja, Manaus foi transformada em porto livre.

Questão 17 - (UFRR/2017)

De acordo com os dados levantados pelo Censo Demográfico, elaborado pelo Instituto Brasileiro de Geografia e Estatística - IBGE, a população brasileira totalizava 190.755.799 habitantes em 2010.

Com relação às fases do crescimento demográfico brasileiro podemos afirmar, **EXCETO**:

- Projeções demográficas apontam que em 2050 a população brasileira apresentará declínio;
- A partir da década de 1990 nota-se um menor crescimento e maior envelhecimento da população;
- Entre 1940 e 1980 observa-se um maior crescimento da população, em função da elevada taxa de natalidade e baixa taxa de mortalidade;
- Entre 1900 e 1940 o crescimento da população brasileira ocorreu em função da queda na taxa de mortalidade, devido às melhorias nas condições sanitárias do país;
- Entre 1872 e 1940 houve um crescimento lento, em função das altas taxas de mortalidade.

Questão 18 - (UFRR/2017)

De acordo com os dados levantados pelo Censo Demográfico, elaborado pelo Instituto Brasileiro de Geografia e Estatística - IBGE, a população brasileira totalizava 190.755.799 habitantes em 2010.

Com relação às fases do crescimento demográfico brasileiro podemos afirmar, **EXCETO**:

- a) Entre 1900 e 1940 o crescimento da população brasileira ocorreu em função da queda na taxa de mortalidade, devido às melhorias nas condições sanitárias do país;
- b) A partir da década de 1990 nota-se um menor crescimento e maior envelhecimento da população;
- c) Entre 1940 e 1980 observa-se um maior crescimento da população, em função da elevada taxa de natalidade e baixa taxa de mortalidade;
- d) Projeções demográficas apontam que em 2050 a população brasileira apresentará declínio;
- e) Entre 1872 e 1940 houve um crescimento lento, em função das altas taxas de mortalidade.

Questão 19 - (UFRR/2017)



Fonte: <http://www2.planalto.gov.br/noticias/2015/05/fiscalizacao-liberta-mais-de-10-mil-trabalhadores-em-situacao-de-escravidao-em-4-anos>

Leia atentamente o texto e observe a figura acima sobre o combate ao trabalho escravo no Brasil:

Segundo os dados apresentados pelo Ministério do Trabalho, entre os trabalhadores resgatados desde 1995, 955 são homens, 83% tem entre 18 e 44 anos de idade, 33% são analfabetos e 39% chegaram até a quarta série.

A maioria dos trabalhadores libertados são migrantes provenientes do Maranhão (23,6%), Bahia (9,4), Pará (8,9%), Minas Gerais (8,9%), Tocantins (5,6%), Piauí (5,5%) e Mato Grosso (5,5).

Entre 2003 e 2014, o trabalho escravo foi verificado, em sua maioria, em atividades como pecuária (29%), no plantio de cana de açúcar (25%) e em outras lavouras (19%).

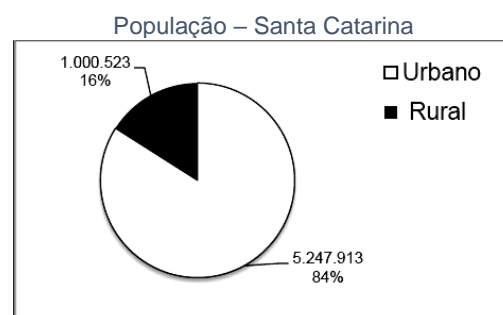
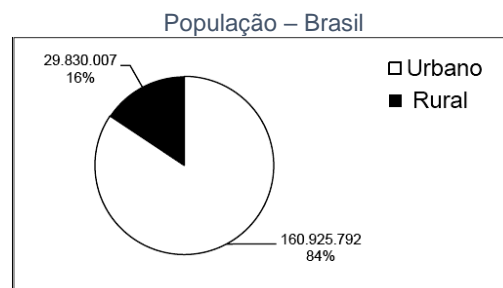
Considerando as informações do texto e do mapa, assinale a alternativa **CORRETA**:

- a) A Região Sudeste possui o maior número de trabalhadores resgatados;

- b) A maioria dos trabalhadores resgatados é formada por migrantes provenientes da Região Sul;
- c) A atividade com o maior número de trabalhadores resgatados é a agricultura;
- d) Na Região Norte, a presença da floresta faz dela a região com o menor número de fiscalizações;
- e) 83% dos trabalhadores resgatados são crianças.

Questão 20 - (UFSC/2017)

Gráfico – População urbana x População rural: Brasil e Santa Catarina (2010)



Fonte: IBGE, Censo Demográfico 2010.

Disponível em:

<http://www.censo2010.ibge.gov.br/sinopse/websevice/default.php?cod1=0&cod2=&cod3=0&frm=urb_rur>. [Adaptado]. Acesso em: 27 jul. 2016.

Com base na leitura do gráfico e sobre a população brasileira, é correto afirmar que:

01. parcela significativa da mão de obra rural migrou para as cidades em busca de melhores condições de vida como consequência das políticas de estímulo à industrialização, principalmente a partir da década de 1950.

02. no presente, a diferenciação entre população rural e população urbana é mais complexa, pois há grande número de trabalhadores em atividades rurais vivendo nas cidades bem como habitantes da área rural trabalhando no meio urbano.

04. o estado de Santa Catarina sempre teve população urbana maior que população rural desde o início da ocupação de seu território.

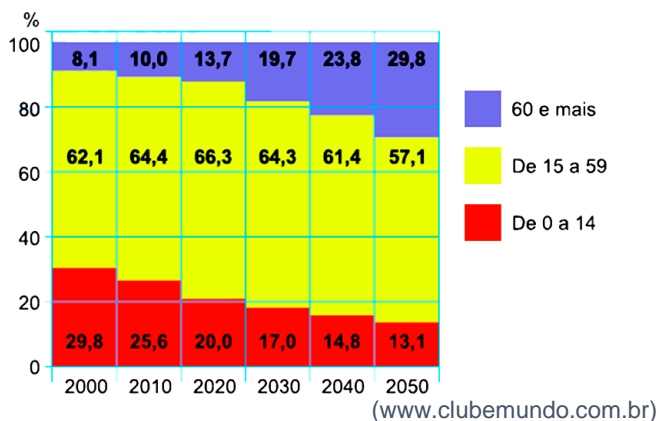
08. a população catarinense que vive no campo pratica técnicas tradicionais de agricultura, o que a afasta das principais modificações ocorridas na estrutura agrícola brasileira nas últimas décadas.

16. entre outras variáveis, mesmo que sua população urbana seja maior que a rural, o Brasil ainda apresenta características de um país subdesenvolvido industrializado.

32. Florianópolis, capital de Santa Catarina, é a cidade mais populosa e mais povoada do estado.

Questão 21 - (FGV/2017)

Participação dos grupos etários no conjunto da população brasileira



O cenário apresentado pelo gráfico demonstra, na dinâmica demográfica brasileira, um processo de

- aumento da taxa de crescimento natural, derivado da entrada de imigrantes e da diminuição da mortalidade infantil.
- crescimento demográfico, devido às melhores condições de saneamento básico e ao desenvolvimento de medicamentos.
- aumento da taxa de fecundidade, compreendido por programas de planejamento familiar e pela difusão de método contraceptivos.
- implosão demográfica, promovido pela estabilização das taxas de crescimento e pelo envelhecimento da população.
- transição demográfica, possibilitado pela revolução médico-sanitária e pelo incremento da urbanização.

Questão 22 - (ESPM SP/2017)

Associada à geografia de gênero, o feminismo brasileiro intensificou-se:

- na primeira metade do século XIX durante a luta pela independência.
- na segunda metade do século XIX durante o processo abolicionista.
- na metade do século XX durante a Segunda Guerra Mundial e na luta contra a tirania de Hitler.
- a partir dos anos 1970 para combater o quadro de exclusão e opressão.
- apenas no século XXI com a ascensão de partidos de esquerda.

Questão 23 - (ACAFE SC/2017)

Observe atentamente o mapa do Brasil.



Considerando os conhecimentos sobre o mapa é correto afirmar, exceto:

- Os números 1 e 2 correspondem, respectivamente, aos estados de São Paulo e Rio de Janeiro, cujas capitais, na

hierarquia urbana, são metrópoles nacionais influenciadoras do território brasileiro.

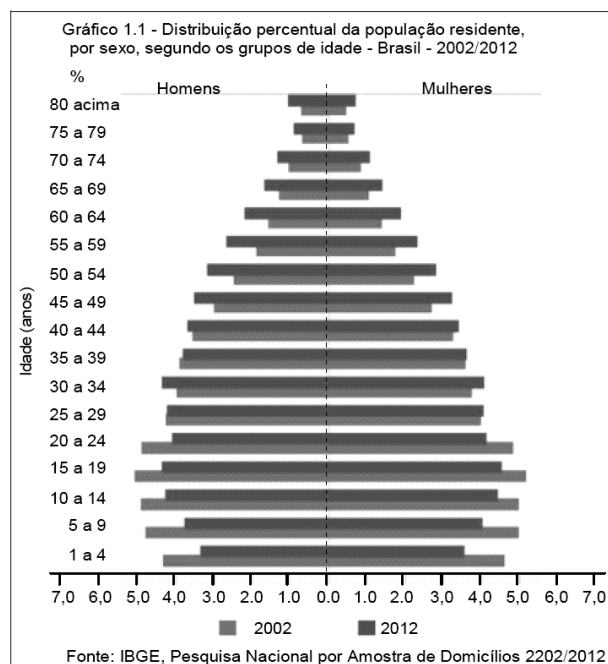
b) O estado escurecido no Sul do Brasil correspondente a Santa Catarina e está localizado entre os estados do Paraná, ao norte, e Rio Grande do Sul, ao Sul, apresentando destaque nos aspectos naturais, culturais e socioeconômicos.

c) O estado de Santa Catarina ressaltado no mapa indica o fato de ser a única unidade federativa do Brasil a apresentar um Índice de Desenvolvimento Humano elevado (0,800 a 1), podendo se colocar entre os 20 países com maior índice.

d) As letras A e B indicam, respectivamente, os estados do Amazonas e do Pará, que são cortados por rios da bacia do rio Amazonas, região de clima quente e úmido, com pequena amplitude térmica anual e possuidora de uma floresta heterogênea, com rica biodiversidade.

Questão 24 - (FPS PE/2017)

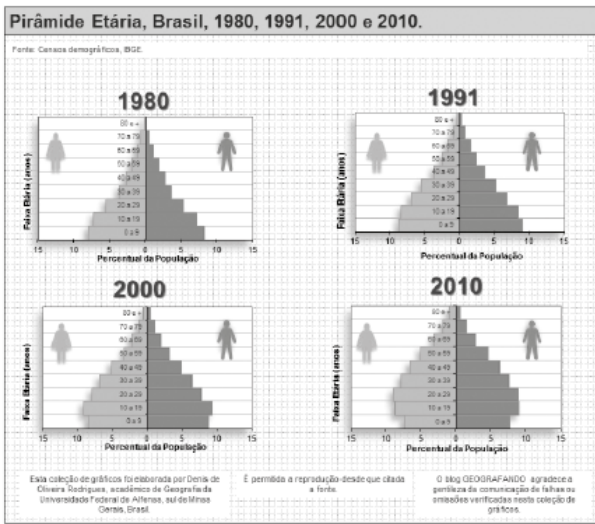
Ao analisar a pirâmide etária do Brasil, relativa ao período de 2002 a 2012, pode-se concluir que:



- A taxa de natalidade teve um aumento no período referido.
- O aumento da expectativa de vida é uma das causas da preocupação com a reforma da Previdência.
- O aumento da taxa de fecundidade aponta para a necessidade do aumento de vagas nas creches.
- O aumento da população idosa do Brasil é proporcional ao aumento da natalidade.
- No período de 2002 a 2012, nasceram mais homens que mulheres no Brasil.

Questão 25 - (IFBA/2017)

Sobre a estrutura da população brasileira, com base na figura abaixo, é correto afirmar que:



- A figura apresenta pirâmides etárias, que correspondem às migrações populacionais no Brasil.
- As pirâmides etárias da figura revelam uma tendência de crescimento das taxas de natalidade.
- As pirâmides etárias acima revelam uma tendência de crescimento da taxa de fecundidade.
- Comparando o ano de 1980 ao ano de 2010, pode-se afirmar que houve um aumento na expectativa de vida da população.
- A diminuição da natalidade verificada em 2010 é provocada pelo aumento da mortalidade infantil.

Questão 26 - (IFBA/2017)

De acordo com o gráfico a seguir, e com base nos estudos da geografia urbana brasileira, marque a assertiva verdadeira:



- A taxa de urbanização representa a extinção da habitação no campo, revelando que a totalidade da população brasileira vive em cidades.
- A tendência de queda na população urbana revela baixas taxas de urbanização no Brasil, devido à melhoria da qualidade de vida na zona rural.
- A tendência decrescente da população rural é uma característica específica do Brasil, pois, na maioria dos países desenvolvidos há um equilíbrio entre a população rural e a urbana.
- A tendência ascendente da população urbana é chamada de taxa de urbanização e tem relação direta com a industrialização.
- A tendência decrescente da população rural não tem relação com a modernização agrícola, mas somente com a melhoria da qualidade de vida nas cidades.

Questão 27 - (IFMG/2017)

Leia este texto:

“O Brasil está investindo na Amazônia e oferecendo lucros para quem quiser participar desse empreendimento. A Transamazônica está aí: a pista da mina de ouro. Comece agora. Faça sua opção pela SUDAM. Aplique a dedução do seu imposto de renda num dos 464 projetos econômicos já aprovados pela SUDAM. Ou então apresente o seu próprio projeto (seja ele industrial, agropecuário, ou de serviços). Você terá todo o apoio do Governo Federal (...) Aproveite. Fature. Enriqueça junto com o Brasil”

Veja e Leia, 30 de dezembro de 1970, p. 19.

O anúncio acima está relacionado à política governamental brasileira que levava em conta os pressupostos do desenvolvimentismo no contexto da Ditadura Civil-Militar brasileira.

Com base no modo como essa política econômica visualizava os recursos naturais, é **CORRETO** afirmar que:

- O processo de povoamento da Amazônia visava proteger as populações indígenas, garantindo a conservação das práticas tradicionais em articulação com os arranjos produtivos locais através da indústria e da agropecuária.
- O crescimento brasileiro foi embasado em um planejamento sustentável, que assimilava as discussões sobre os problemas ambientais, assegurando a Amazônia como região estratégica para a geopolítica nacional.
- A política de ocupação da região amazônica daquele período histórico não se preocupou com a questão ambiental, pois a ecologia não era um termo presente no discurso político promovido pela ditadura brasileira.
- A região da chamada Amazônia Legal era fundamental para o investimento industrial, que atuava como elemento capaz de eliminar os conflitos agrários decorrentes do surgimento do Movimento dos Trabalhadores Sem-Terra.

Questão 28 - (IFMG/2017)

Texto 1

Nova temporada de ‘Malhação’ terá primeira protagonista negra. “Na história escrita por Emanuel Jacobina e com direção-geral de Leonardo Nogueira (a mesma dupla das duas últimas temporadas), Joana, de 19 anos, tem uma briga familiar e decide sair de casa, em Fortaleza, onde mora com o padrasto e com a avó. Ela chega ao Rio sem lenço e sem documento disposta a conhecer o pai biológico e acaba conseguindo emprego como faxineira na academia Forma, um dos cenários principais da história. No meio dessas idas e vindas, esbarra em vários momentos com Gabriel (Felipe Roque), seu futuro par romântico.” <http://oglobo.globo.com/cultura/revista-da-tv/nova-temporada-de-malhacao-tera-primeira-protagonista-negra-19818278#ixzz4MM9lpx0>

Texto 2

Relembre os protagonistas das 20 temporadas de Malhação “Com temperamentos diferentes, o esportista Pedro Rodrigues (Henri Castelli) e a estudiosa Júlia Miranda (Juliana Silveira) vivem uma relação de amor e ódio. Quando as coisas começam a dar certo, surge em cena Taíssa (Bárbara Borges), que se apaixona por Pedro. Maumau (Cauã Raymond) e Cabeção reformam um carro velho, o famoso Ogomóvel.”

<http://oglobo.globo.com/cultura/revista-da-tv/nova-temporada-de-malhacao-tera-primeira-protagonista-negra-19818278#ixzz4MMCpdx0>

Texto 3

“Embora alguns autores contratados pela Tv Globo nos anos 1970 tenham criado alguns personagens para atores e atrizes negras, desenvolvidos de forma não estereotipada, mesmo que representando pessoas das classes subalternas, todos os atores negros, que integraram os elencos das novelas que buscaram ser fiéis à realidade do Brasil rural e urbano do século XX,

interpretaram os estereótipos clássicos sobre o negro como o moleque negro, a criadinha fiel, o jagunço e o malandro carioca.”
(Adaptado de ARAÚJO, Joel Zito. *A negação do Brasil. O negro na telenovela brasileira*. São Paulo: Editora Senac, 2000. P. 138).

A partir da leitura dos textos é **CORRETO** afirmar que:

- As telenovelas brasileiras refletem com exatidão a possibilidade de mobilidade social historicamente determinada na sociedade brasileira.
- A telenovela *Malhação*, ao apostar em uma protagonista negra, reforça seus vínculos com uma tradição da teledramaturgia brasileira.
- A telenovela no Brasil é apenas um produto da indústria cultural e, portanto, não permite nenhum tipo de análise mais aprofundada.
- A telenovela brasileira repercute e reforça padrões de comportamento da sociedade em que é produzida, como no caso da protagonista negra de *Malhação*.

Questão 29 - (IFMG/2017)

Ano	População	Crescimento (%)
1872	9.930.478	-
1890	14.333.915	44,3
1900	17.438.434	21,6
1920	30.635.605	75,6
1940	41.236.315	34,6
1950	51.944.397	25,9
1960	70.191.370	35,1
1970	93.139.037	32,7
1980	119.002.706	27,8
1991	146.825.475	23,4
2000	169.799.170	15,6
2010*	195.040.966	13,0
2020*	209.705.328	9,1

Fonte: IBGE, Anuário Estatístico do Brasil, 2000

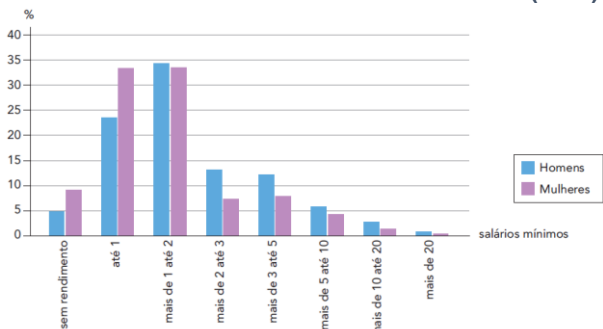
Observe a tabela e resolva.

A partir da análise da tabela e das principais características do crescimento vegetativo brasileiro assinale o que for correto.

- Em função do aumento da taxa de natalidade o Brasil apresenta crescimento vegetativo cada vez mais elevado, ou seja, uma aceleração demográfica.
- O aumento anual da população brasileira acompanha a elevação da expectativa de vida, por isso o país vive uma aceleração constante das taxas de crescimento.
- A redução da proporção de crescimento populacional no Brasil nos últimos anos tem como principal fator a diminuição do número de filhos por mulher.
- As taxas demográficas brasileiras em 2010 são idênticas às da maioria dos países europeus que sofrem com a redução da participação de jovens no total da população.

Questão 30 - (UERJ/2017)

BRASIL: DISTRIBUIÇÃO DA POPULAÇÃO OCUPADA POR CLASSES DE RENDIMENTO MÉDIO MENSAL (2012)



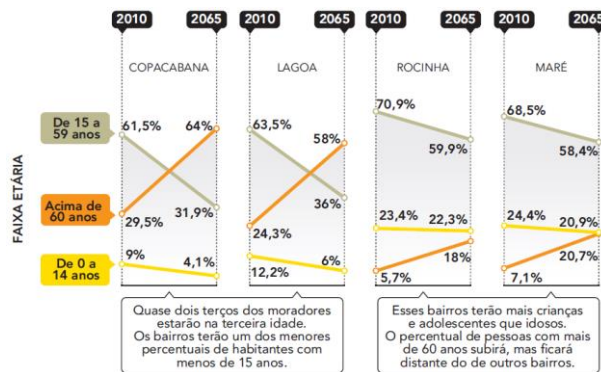
Adaptado de ibge.gov.br.

A participação da mulher na População Economicamente Ativa do Brasil é cada vez maior, apesar de ainda ser inferior ao total de trabalhadores do sexo masculino.

A partir do gráfico, compare a distribuição da população ocupada por classes de rendimento e de acordo com o gênero, masculino ou feminino. Em seguida, cite uma causa do aumento crescente das mulheres no mercado de trabalho.

Questão 31 - (UERJ/2017)

FAIXAS ETÁRIAS DA POPULAÇÃO EM QUATRO BAIROS DA CIDADE DO RIO DE JANEIRO ATÉ 2065



Adaptado de O Globo, 21/02/2016.

Comparando as projeções para Copacabana e Lagoa com aquelas para Rocinha e Maré, no ano de 2065, aponte dois indicadores demográficos relevantes para explicar o contraste verificado. Justifique sua resposta.

Questão 32 - (PUC GO/2017)

O mistério dos hippies desaparecidos

Ide ao Mercado da Travessa do Carmo. Que vereis? O alegre, o pitoresco, o colorido. Admirai a excelente organização: cada artesão em seu quadrado, exibindo belos trabalhos. Mas... Nada vos chama a atenção? Não? Neste caso, pergunto-vos: onde estão os hippies da Praça Dom Feliciano? Isso mesmo, aqueles que ficavam na frente da Santa Casa. Onde estão? Não sabeis? O homem de cinza sabe. O homem de cinza vinha todos os dias à Praça Dom Feliciano. Ficava muito tempo olhando os hippies, que não lhe davam maior atenção. O homem, ao contrário, parecia muito interessado neles: examinava os objetos expostos, indagava por preços, por detalhes da manufatura. E anotava tudo numa caderneta de capa preta. Um dia perguntou aos hippies onde moravam. Por aí, respondeu um rapaz. Numa comuna? — perguntou o homem. Não, não era em nenhuma comuna; na realidade, estavam ao relento. O homem então disse que eles deveriam morar juntos numa comuna. Ficaria mais fácil, mais prático. O rapaz concordou. Não estava com muita vontade de falar; contudo, acrescentou, depois de uma pausa, que o problema era encontrar o lugar para a comuna. Não é problema, disse o homem; eu tenho uma chácara lá na Vila Nova, com uma boa casa, gramados, árvores frutíferas. Se vocês quiserem, podem ficar lá. No amor? — perguntou o rapaz. — No amor, bicho — respondeu o homem, rindo. Só quero que vocês tomem conta da casa. Os hippies confabularam entre si e resolveram aceitar. O homem levou-os — eram doze, entre rapazes e moças — à chácara, numa camioneta Veraneio. Deixou-os lá. Durante algum tempo não apareceu. Mas, num domingo, deu as caras. Conversou com os jovens sobre a chácara, contou histórias interessantes. Finalmente, pediu para ver o que tinham feito de artesanato. Examinou as peças atentamente e disse: — Posso dar uma sugestão?

Eles concordaram. Como não haveriam de concordar? Mas foi assim que começou. O homem organizou-os em equipes: a equipe dos cintos, a equipe das pulseiras, a equipe das bolsas. Ensinou-os a trabalhar pelo sistema de linha de montagem; racionalizou cada tarefa, cada atividade.

Disciplinou a vida deles, também. Centralizou todo o consumo de tóxicos. Fornecia drogas mediante vales, resgatados ao fim do mês, conforme a produção. Permiteu que se vestissem como desejavam, mas era rígido na escala de trabalho. Seis dias por semana, folga às quartas — nos domingos tinham de trabalhar. Nestes dias, o homem de cinza admitia visitantes na chácara, mediante o pagamento de ingressos. Um guia especialmente treinado acompanhava-os, explicando todos os detalhes acerca dos *hippies*, estes seres curiosos.

O homem de cinza já era muito rico, mas agora está multimilionário. É que organizou uma firma, e exporta para os Estados Unidos e para o Mercado Comum Europeu cintos, pulseiras e bolsas.

Parece que, para esses artigos, não há sobretaxa de exportações. Escreveu um livro — *Minha Vida Entre os Híppies* — que tem se constituído em autêntico êxito de livraria; uma adaptação para a televisão, sob forma de novela, está quase pronta. E quem ouviu a trilha sonora, garante que é um estouro. Tem apenas um temor, este homem. É que um dos *hippies*, de uma hora para outra, cortou o cabelo, passou a tomar banho — e usa agora um decente terno cinza. Por enquanto ainda não se manifestou; mas trata-se — o homem de cinza está convencido disto — de um autêntico contestador.

(SCLiar, Moacyr. **Melhores contos**. São Paulo: Global, 2003. p. 130-132.)

O texto, faz menção a *hippies*, pessoas que, em geral, vivem do trabalho informal, comercializam produtos artesanais, especialmente em ambiente urbano. Acerca da estrutura e do funcionamento do mercado de trabalho, analise as afirmativas a seguir:

- I. As taxas de desemprego eventualmente divulgadas pelo IBGE incluem também pessoas que trabalham na economia informal.
- II. O aumento do desemprego tem impacto direto no poder de consumo da população, ainda que os demitidos possam contar com o Seguro Desemprego.
- III. O Seguro Desemprego funciona como uma zona de transição entre a situação da pessoa como empregada até que ela consiga outra colocação.
- IV. Ao longo da história, uma das grandes causas para o aumento do desemprego tem sido o processo de substituição da mão de obra operária pelos inventos tecnológicos.

Em relação às proposições analisadas, assinale a única alternativa cujos itens estão todos corretos:

- a) I e II.
- b) I e IV.
- c) II e III.
- d) II e IV.

Questão 33 - (UECE/2017)

Entre 2000 e 2014, o crescimento médio da América Latina foi de 3,3%. O Brasil, representando cerca de 38% do Produto Interno Bruto - PIB – da região em 2014, teve o mesmo crescimento médio. Observando as taxas de crescimento desde o início dos anos 2000, após baixo crescimento no início do período, houve anos de crescimento relativamente alto[...].

IBGE. Síntese dos indicadores sociais. Uma análise das condições de vida da população brasileira. Rio de Janeiro. 2015. p. 80.

Quando há condição de crescimento econômico dos países, geralmente, também há variação dos índices econômicos e sociais desses países. Considerando o trecho do documento do IBGE, acima, pode-se concluir acertadamente que entre os anos 2000 e 2014

- a) a economia de alguns países da América Latina cresceu, mas no Brasil houve um significativo aumento do desemprego.
- b) a desigualdade de rendimentos mostrou queda com diminuição do índice de Gini.
- c) ocorreu um processo de desindustrialização no Brasil, com o fechamento de indústrias e fábricas.
- d) a instabilidade política e as oscilações da economia global levaram o Brasil a uma das maiores recessões de sua história.

Questão 34 - (UFPR/2017)

O Brasil tem 206,08 milhões de habitantes, segundo dados divulgados nesta terça-feira (30) [agosto, 2016] pelo Instituto Brasileiro de Geografia e Estatística (IBGE). Estimativas publicadas no Diário Oficial da União indicam que o país tinha, em 1º de julho deste ano, 206.081.432 habitantes. No ano passado, a população era de 204.450.649, ou seja, o crescimento da população foi de 0,8%.

(Disponível em: <<http://noticias.uol.com.br/ultimas-noticias/agencia-brasil/2016/08/30/ibge-brasil-ja-tem-206-milhoes-de-habitantes.htm>>. Acessado em 31.08.2016.)

Com base nas informações do texto e nos conhecimentos em geografia da população, assinale a alternativa correta.

- a) O percentual de crescimento populacional indicado mostra que a teoria malthusiana tinha razão, isto é, que a população está crescendo em progressão geométrica e a de alimentos, em ritmo aritmético.
- b) A taxa de natalidade caiu de forma significativa nas últimas duas décadas e a percentagem de crescimento atual é explicada pela vinda de migrantes e refugiados de outros países.
- c) Em termos absolutos, a expressiva diferença no montante da população entre um ano e outro indica que as políticas públicas de controle de natalidade da última década não conseguiram diminuir o crescimento populacional.
- d) O aumento da densidade demográfica nas regiões Norte e Centro-Oeste, que equilibrou a distribuição da população nacional, tem sido um fator relevante no crescimento populacional.
- e) Embora apresente essa taxa de crescimento, há uma tendência de diminuição da representatividade da população jovem no Brasil em relação à população em processo de envelhecimento, confirmando a mudança da estrutura etária brasileira.

Questão 35 - (UNCISAL AL/2017)

A desagregação do regime escravocrata e senhorial operou-se, no Brasil, sem que se cercasse a destituição dos antigos agentes de trabalho escravo de assistência e garantias que os protegessem na transição para o sistema de trabalho livre. Os senhores foram eximidos da responsabilidade pela manutenção e segurança dos libertos, sem que o estado, a igreja ou outra qualquer instituição assumissem encargos especiais para prepará-los para o novo regime de organização da vida e do trabalho. [...]

Em suma, a sociedade brasileira largou o negro ao seu próprio destino, deitando sobre seus ombros a responsabilidade de reeducar-se e de transformar-se para corresponder aos novos padrões de ideais de homem criados pelo advento do trabalho livre, do regime republicano e do capitalismo.

FERNANDES, Florestan. *A integração do negro na sociedade de classes*.

5. ed. São Paulo: Globo, 2008.

O abandono e o descuido para com esse grupo étnico, descrito por Florestan Fernandes, podem ser apontados nos dias atuais como responsáveis

- a) pelo baixo índice de escolaridade, preconceito e exclusão social do negro no Brasil.
- b) pelo aumento do sentimento de pertencimento nacional dos grupos afrodescendentes.

c) pela separação entre brancos e negros nos espaços públicos e no mercado de trabalho brasileiro.

d) por um dinamismo cultural que integrou a população brasileira em torno de valores oriundos da África.

e) pela integração do negro na sociedade brasileira, independentemente de ações afirmativas e políticas públicas.

Questão 36 - (UEM PR/2017)

Sobre aspectos demográficos relacionados à estrutura da população brasileira, e a assuntos correlatos, assinale a(s) alternativa(s) **correta(s)**.

01. As mortes de adolescentes e de jovens do sexo masculino, na faixa etária entre 15 e 35 anos, por causas externas, tais como por acidentes automobilísticos e assassinatos, têm diminuído no Brasil.

02. Do ponto de vista da saúde pública, atualmente a desnutrição e a fome são problemas que afetam mais pessoas do que a obesidade no Brasil.

04. Em geral, as mulheres apresentam melhores indicadores na área de educação, mas, apesar da menor escolaridade, o salário dos homens é maior, conforme dados da Pesquisa Nacional por Amostra de Domicílios (Pnad).

08. Segundo o Instituto Brasileiro de Geografia e Estatística (IBGE), a diferença na taxa de frequência escolar dos adolescentes brancos e pretos, na faixa dos 15 aos 17 anos de idade, ampliou-se de 3% para 13% entre 1992 e 2009.

16. Entre os anos de 2000 e 2010, as maiores quedas nos índices de mortalidade infantil ocorreram no nordeste e no norte, mas essas duas regiões continuam apresentando, neste particular, os piores índices dentre as regiões brasileiras.

Questão 37 - (UEM PR/2017)

A população brasileira é constituída por várias etnias. Em relação à formação e às características da população brasileira, e a aspectos relacionados, assinale o que for **correto**.

01. A imigração ilegal cresceu no Brasil a partir dos anos de 1980, com a entrada de coreanos, chineses e bolivianos, especialmente pela fronteira com o Paraguai.

02. Pesquisadores do Instituto Brasileiro de Geografia e Estatística (IBGE) identificaram correspondência entre a alta concentração de população negra (pretos e pardos autodeclarados) e a localização dos portos receptores de escravos: São Luís, Salvador, Recife e Rio de Janeiro.

04. Visando satisfazer as demandas por mão de obra em razão do acelerado crescimento econômico do País, em 1934, por meio da Lei de Cota de Imigração, o governo brasileiro criou incentivos para atração de imigrantes.

08. No Censo Demográfico de 2010, realizado pelo Instituto Brasileiro de Geografia e Estatística (IBGE), foram constatadas 305 etnias e identificadas 274 línguas indígenas no Brasil.

16. A primeira embarcação de japoneses que imigraram para o Brasil aportou em Belém-PA. O principal destino desses imigrantes eram as áreas de extração mineral da floresta amazônica.

Questão 38 - (UEM PR/2017)

Sobre a dinâmica demográfica e territorial do estado do Paraná, assinale a(s) alternativa(s) **correta(s)**.

01. Dadas as condições e hábitos de vida da população, a taxa de fecundidade diminuiu bruscamente no estado do Paraná entre os anos de 1930 e 1970.

02. A partir da década de 1970 ocorreram mudanças significativas no que diz respeito à configuração da malha territorial do Estado.

04. De acordo com o Instituto Brasileiro de Geografia e Estatística (IBGE), no Paraná, foi na passagem dos anos de 1960 para 1970 que a proporção de pessoas em situação de domicílio urbano superou a proporção de pessoas em situação de domicílio rural.

08. Com a efetiva ocupação do território paranaense, durante as décadas de 1940 e de 1950, constatou-se crescimento tanto da população residente nas áreas rurais quanto daquela que residia nas cidades, em ritmo superior à média do país.

16. As áreas rurais passaram a perder população em ritmo acelerado a partir do final dos anos de 1960 e início da década de 1970.

Questão 39 - (FGV/2016)



<http://g1.globo.com/mundo/noticia/2013/11/com-reforco-de-fronteiras-na-europa-imigrantes-optam-por-rotas-da-morte.html>

Com relação aos recentes fluxos migratórios para a Europa, analise as afirmações a seguir.

I. Os imigrantes que atravessam o Mediterrâneo clandestinamente provêm, principalmente, de regiões em conflito na África, como, por exemplo a Nigéria, campo de atuação da guerrilha de Boko Haram.

II. As motivações que mobilizam os imigrantes são a fuga das áreas de conflito, a obtenção de refúgio político e a possibilidade de ingressar no mercado de trabalho da União Europeia.

III. Os fluxos migratórios estão associados às dinâmicas geopolíticas dos países e regiões de origem dos imigrantes, como no caso dos refugiados da guerra na Síria, agravada pela atuação do grupo Estado Islâmico na região.

Está correto o que se afirma em

- a) III, apenas.
- b) I e II, apenas.
- c) I, apenas.
- d) II, apenas.
- e) I, II e III.

Questão 40 - (UERJ/2016)

No mapa abaixo, o território brasileiro foi redividido em apenas cinco unidades federativas, todas com população equivalente, em torno de 40 milhões de pessoas.



Considerando a realidade atual do Brasil, essa redivisão territorial também igualaria a seguinte característica socioespacial:

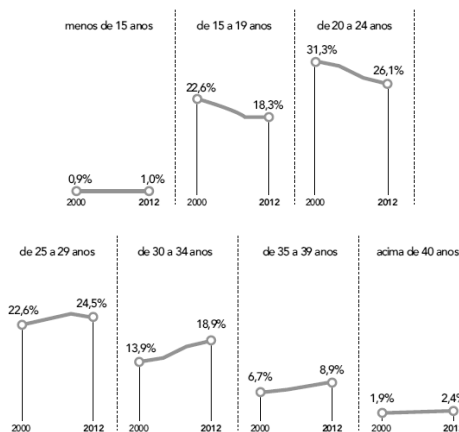
- a) nível de renda por habitante

- b) oferta de água por domicílio
- c) produção de alimentos por área
- d) proporção de eleitores por senador

Questão 41 - (UERJ/2016)

Existe uma relação direta entre o dinamismo das práticas sociais e as transformações nos indicadores demográficos das sociedades. Observe, nos gráficos, um exemplo de alteração de comportamento social no Brasil.

Proporção de nascidos por idade da mãe no Brasil entre 2000 e 2012



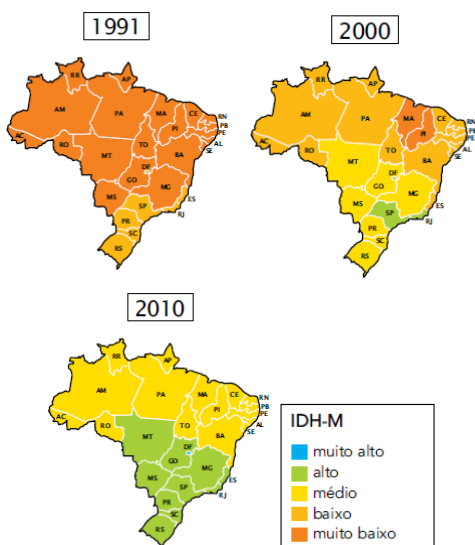
Adaptado de *O Globo*, 30/10/2014.

As mudanças verificadas entre os anos de 2000 e 2012 ocasionam o seguinte comportamento demográfico:

- a) elevação da expectativa de vida
- b) ampliação da população escolar
- c) redução da taxa de fecundidade
- d) diminuição da mortalidade infantil

Questão 42 - (UERJ/2016)

O Índice de Desenvolvimento Humano Municipal (IDH-M) é composto por três indicadores: longevidade, educação e renda. No Brasil, o IDH-M cresceu 47,5% entre 1991 e 2010, conforme os mapas.



Adaptado de *O Globo*, 15/03/2015.

Geograficamente, o desenvolvimento humano no Brasil apresenta mudanças decorrentes dos seguintes fatores principais:

- a) erradicação do analfabetismo – elevação do PIB
- b) desaceleração do desemprego – incremento da industrialização

- c) decréscimo da natalidade – crescimento da qualificação profissional
- d) diminuição da mortalidade infantil – aumento da expectativa de vida

Questão 43 - (ACAFE SC/2016)

A população, seja mundial ou brasileira, necessita ser estudada e analisada quanto ao seu crescimento, estrutura, deslocamentos, urbanização e desenvolvimento sustentável. Para um conhecimento mais profundo de sua população, um governo deve conhecer as tendências acima para melhor planejar a vida dos seus cidadãos. Sobre a população mundial e brasileira, **todas** as alternativas estão corretas, **exceto** a:

- a) O Brasil, país urbano, tem nas cidades de São Paulo e Rio de Janeiro duas metrópoles nacionais, cuja área de influência é o território brasileiro, sendo que a primeira, além de ser considerada uma megacidade, é citada como cidade global.
- b) O crescimento populacional ou demográfico pode ser explicado por dois fatores: o crescimento vegetativo – diferença entre o número de nascimentos e o de mortes – e o saldo das migrações. O conhecimento desses dados é fundamental para se adequar os investimentos ao perfil da população.
- c) As mulheres, maioria no Brasil e também em idade ativa, são minoria na população ocupada e ainda sofrem preconceitos, salários mais baixos e têm dupla jornada de trabalho.
- d) Na atualidade, as correntes imigratórias têm direção Sul-Sul e ocorrem sobretudo por motivos relacionados aos fenômenos da natureza. Quando chegam nos lugares de destino, os imigrantes sofrem perseguições e ameaças, não podendo contar com a proteção dos seus países de origem.

Questão 44 - (Fac. Direito de Sorocaba SP/2016)

Na Amazônia brasileira, os povos indígenas detêm uma parcela significativa das florestas da região. O conjunto das Terras Indígenas (TIs) cobre cerca de 110 milhões de hectares e desempenha um papel fundamental na contenção do avanço do desmatamento na região.

(Ipam.org.br Adaptado)

A partir da leitura do texto, é correto afirmar que as TIs

- a) contribuem para manter o Brasil na liderança mundial da preservação ambiental.
- b) têm um papel relevante para a conservação da biodiversidade da Amazônia.
- c) garantem ao Brasil cumprir as metas de redução de emissões de gases de efeito estufa.
- d) são prestigiadas pelos poderes públicos como “guardiãs das matas brasileiras”.
- e) servem de inspiração para os grupos preservacionistas nacionais e internacionais.

Questão 45 - (Fac. Direito de Sorocaba SP/2016)

Leia a tabela a seguir.

Distribuição da população brasileira segundo a situação dos domicílios (em %)

	1960	1970	1980	1991	2000	2010
Urbana	45,1	56	67,7	75,5	81,2	84,4
Rural	54,9	44	32,3	24,5	18,8	15,6

(<http://www.censo2010.ibge.gov.br/sinopse/index.php?dados=9&uf=00>)

A leitura da tabela e os conhecimentos sobre a urbanização brasileira permitem afirmar que

- a) o crescimento da população urbana foi concentrado nas metrópoles, fato que aumentou o hiato entre as metrópoles e as pequenas e médias cidades.

b) a população urbana concentrou-se principalmente nas capitais litorâneas, mas, a partir da década de 1980, cresceu também em Brasília e Belo Horizonte.

c) o processo foi seletivo e, até os anos de 2000, regiões como o Norte e o Nordeste apresentavam predomínio de população rural.

d) o aumento da população urbana ocorreu de modo sistemático a partir das últimas décadas do século XX e fez ampliar o número e o tamanho das cidades.

e) a população urbana teve maior aumento entre as décadas de 1970 e 1991, devido ao forte crescimento vegetativo observado.

Questão 46 - (FM Petrópolis RJ/2016)

Terras indígenas

Os grupos indígenas terão importante papel na integração da Amazônia sul-americana, dada sua presença maciça na faixa de fronteira e suas práticas já em curso. Na medida em que uma mesma etnia é encontrada tanto no Brasil como em países vizinhos, é comum a transposição dos limites políticos para visita a parentes e trocas comerciais complementares. É o que se verifica com maior intensidade no alto Solimões e na fronteira com a Guiana Francesa.

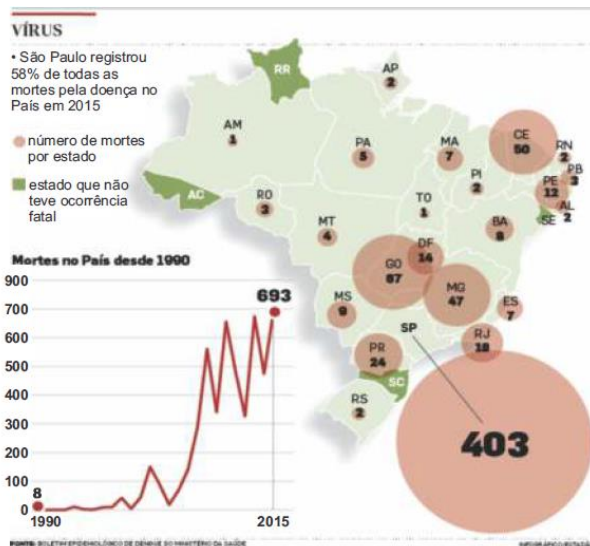
BECKER, B.; STENNER, C. **Um futuro para a Amazônia**. São Paulo: Oficina de Textos, 2008. p. 135.

A presença e as práticas indígenas mencionadas são um fator geográfico de formação e intensificação de

- a) reservas extrativistas
- b) metrópoles regionais
- c) tecnopolos
- d) cidades gêmeas
- e) zonas francas

Questão 47 - (Fac. Direito de Franca SP/2016)

A imagem abaixo oferece dados sobre as mortes por dengue, no Brasil, entre 1990 e 2015. Analise esses dados e, a partir deles, assinale a alternativa correta.



- a) O maior número de mortes por dengue, no Brasil, em 2015, ocorreu nas regiões Centro- Oeste e Nordeste.
- b) O menor número de mortes por dengue no Brasil, desde 1990, ocorreu entre os anos de 2012 e 2013.
- c) O estado de São Paulo registrou metade do total de mortes por dengue, no Brasil, em 2015.
- d) A região Norte do Brasil foi a única, em 2015, a ter dois estados que não tiveram registro de mortes por dengue.

Questão 48 - (Famerp SP/2016)

Em 1950, cada mulher em idade fértil tinha, em média, 6,4 filhos. Hoje, essa taxa de fecundidade está em 1,7, ou seja, abaixo da

taxa de reposição, que é de 2,1. Essa taxa de fecundidade significa dizer que, em 2035, a população do Brasil vai diminuir porque não haverá reposição das perdas.

(www.desafios.ipea.gov.br. Adaptado.)

Em longo prazo, uma consequência do cenário apresentado pelo excerto será

- a) o aumento da pressão sobre os recursos naturais.
- b) a redução da produtividade em alguns setores da economia.
- c) a diminuição dos postos de trabalho ofertados.
- d) a estabilidade no sistema público de seguridade social.
- e) o incremento da população economicamente ativa.

Questão 49 - (FATEC SP/2016)

O Brasil vem recebendo uma quantidade significativa de imigrantes haitianos à procura de trabalho e de melhores condições de vida. A entrada de haitianos cresceu bastante depois do terremoto que devastou o Haiti, em 2010.

A principal porta de entrada desses imigrantes no Brasil é a cidade de

- a) Belém, no Pará, uma vez que a maioria desses imigrantes faz o percurso por via marítima.
- b) Assis Brasil, no Acre, pois grande parte dos imigrantes haitianos segue uma rota pelo Peru para chegar ao território brasileiro.
- c) Santos, em São Paulo, em razão de ter o maior porto do mundo e apresentar facilidades para a entrada clandestina de imigrantes.
- d) Natal, no Rio Grande do Norte, haja vista que, cartograficamente, essa é a cidade brasileira mais próxima da América Central Insular.
- e) Foz do Iguaçu, no Paraná, onde, em função da grande quantidade de turistas, os imigrantes têm maiores facilidades de ultrapassar a fronteira.

Questão 50 - (FGV/2016)

No Brasil, desde 1997, o sistema previdenciário é deficitário, o que obriga o Tesouro Nacional a cobrir o rombo. A respeito da origem do contínuo déficit da Previdência Social, assinale a afirmação correta.

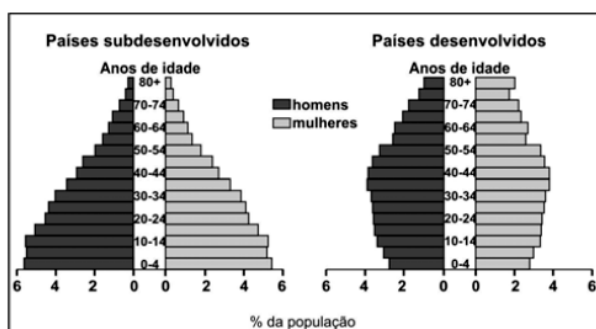
- a) O aumento do emprego informal, procedimento adotado para estimular a retomada do crescimento econômico, desonera a folha de pagamento, o que diminui a arrecadação.
- b) O crescimento do desemprego leva o governo a suspender o seguro-desemprego e o abono salarial, o que deteriora a contabilidade previdenciária.
- c) A Constituição Federal de 1988 obrigou os trabalhadores rurais a contribuir para a Previdência, o que compensa o déficit previdenciário gerado pelos trabalhadores urbanos.
- d) O Brasil desfruta do bônus demográfico, ou seja, tem mais pessoas aposentadas do que em idade ativa, o que deverá agravar o déficit do sistema previdenciário nos próximos anos.
- e) A população em idade ativa, majoritária hoje, está envelhecendo, sem que haja um contingente equivalente de jovens no mercado de trabalho para arcar com o aumento futuro dos custos da aposentadoria.

POPULAÇÃO GERAL

Questão 51 - (UEL PR/2017)

Leia o texto e analise os gráficos, a seguir, que representam as pirâmides etárias da população (em %) de países subdesenvolvidos e desenvolvidos, em 2000.

A estrutura etária da população tem reflexos importantes na economia de um país. A população economicamente ativa (PEA), ou seja, aquela que trabalha e produz riquezas, é composta, em sua maioria, de adultos (de 20 a 59 anos de idade). É essa população que, por meio do recolhimento de impostos, ajuda o Estado a sustentar a economia nacional. Uma defasagem muito grande no número de ativos em relação aos inativos desequilibra essa equação.



(Adaptado de: MOREIRA, J. C.; SENE, E. *Geografia*. São Paulo: Scipione, 2005. p.440.)

Com base no texto, nos gráficos e nos conhecimentos sobre estrutura etária da população, atribua V (verdadeiro) ou F (falso) às afirmativas a seguir.

- () A pirâmide etária dos países subdesenvolvidos apresenta uma base larga e um topo estreito, em virtude da baixa expectativa de vida da população.
- () O estudo sobre pirâmides etárias possibilita compreender, entre outros fatores, a dinâmica populacional e econômica de um país e sua história recente.
- () O aumento da expectativa de vida da população, acompanhado da queda das taxas de natalidade e mortalidade, provoca mudanças na pirâmide etária.
- () O aumento da população economicamente ativa em relação aos inativos desequilibra a produção de riquezas e diminui o recolhimento de impostos.
- () Nos países subdesenvolvidos, a combinação entre baixa natalidade e alta expectativa de vida tem levado ao progressivo envelhecimento da população e à recessão econômica.

Assinale a alternativa que contém, de cima para baixo, a sequência correta.

- a) V, V, V, F, F.
- b) V, F, V, F, V.
- c) V, F, F, V, V.
- d) F, V, V, F, F.
- e) F, F, F, V, V.

Questão 52 - (UNICAMP SP/2017)

A dona de casa entre as classes populares urbanas é uma personagem maior e majoritária. A dona de casa não tem muitas papas na língua. Muitas vezes é uma rebelde, tanto na vida privada quanto na vida pública. E não raro paga um alto preço por isso, como alvo principal de violências que podem chegar ao crime "passional".

(Adaptado de Michelle Perrot, "Figuras e papéis", em Philippe Ariès (org.),

História da vida privada. São Paulo: Companhia das Letras, 1991. v. 4, p. 146.)

A mulher das classes populares nas sociedades urbanas do século XIX na Europa

- a) tinha múltiplas funções, como educar os filhos, cuidar da casa e administrar as finanças, mas vivia restrita ao espaço doméstico e por isso sua rebeldia era punida com violência.
- b) era responsável pelo trabalho doméstico e muitas vezes tinha uma jornada dupla, pelo trabalho externo que realizava em fábricas, pequenos comércios e outros serviços.
- c) sofreu estigma e violência por revolucionar os costumes e liderar o movimento de conquista do voto feminino.
- d) contrariava o senso comum de ser cordata e obediente, pois sua condição social indicava que não tinha referencial de uma boa educação.

Questão 53 - (UNICAMP SP/2017)

De acordo com a Organização das Nações Unidas, a população global submetida a deslocamentos forçados cresceu substancialmente durante os últimos decênios, passando de 37,3 milhões para 65,3 milhões em 2015. Desse total, os refugiados representam 16,1 milhões de pessoas, 1,7 milhão a mais que o total registrado 12 meses antes. Mais da metade dos atuais refugiados do mundo (54%) procede de três países afetados por conflitos armados.

(Adaptado de Agência da ONU para Refugiados – ACNUR – Documento *Tendências Globales*, 2015.)

Indique quais são esses três países.

- a) Myanmar, Síria, Somália.
- b) Afeganistão, Síria, Somália.
- c) Afeganistão, Grécia, Macedônia.
- d) Grécia, Macedônia, Myanmar.

TEXTO: 1 - Comum à questão: 54

O domínio do fogo pelos primeiros homínídeos foi de fundamental importância para a sobrevivência da espécie uma vez que o homem conseguiu produzir diversos materiais (metálicos, cerâmicos) que impulsionaram o desenvolvimento de ferramentas e outros artefatos úteis. Além disso, a invenção da roda, há mais de 6.000 anos, promoveu uma revolução, não só no campo dos transportes, como também da comunicação.

Assim, além do fogo e da roda, a máquina a vapor e a eletricidade, dentre outros, foram alguns dos elementos que marcaram os caminhos que a humanidade trilhou para chegar ao seu atual estágio de desenvolvimento, calcado na busca permanente por novas tecnologias e nas revoluções que elas causam.

Nesse contexto, será abordado o eixo temático "Revoluções Tecnológicas" a serviço da humanidade.

Questão 54 - (UCS RS/2017)

Tecnologia assistiva é a área de pesquisa que tem como objetivo melhorar a vida de pessoas com deficiência física e que, por isso, vem evoluindo e contribuindo cada vez mais com seu propósito. Em 2013, uma Fundação Americana, a e-NABLE, lançou uma rede filantrópica que coloca em contato pessoas que têm impressoras 3D e famílias com filhos que não possuem algum dedo ou mão. Já foram produzidas mais de 1.500 próteses através dessa plataforma. Outro bom exemplo de produto é a HandsFree, que foi lançado em 23 de julho de 2015, durante a *Campus Party*. Ele permite que pessoas com paraplegia e tetraplegia consigam, a distância, através de ondas de rádio,

acionar equipamentos como televisão e computador, e a um custo 70 vezes menor do que seus equivalentes já comercializados. Mas, o melhor exemplo vem da própria UCS: que tem o depósito de Patente de uma cadeira de rodas elétrica, controlada por movimentos de pescoço, destinada a usuários com tetraplegia.

Disponível em:

<<http://zh.clicrbs.com.br/rs/noticias/noticia/2015/08/impresao-3d-a-servico-das-criancas-com-deficienciafisica-4826823.html>>.

Acesso em: 18 ago. 15. (Adaptado.)

Disponível em: <<http://www.folhape.com.br/cms/opencms/folhape/pt/cotidiano/noticias/arqs/2015/07/0382.html>>.

Acesso em: 31 ago. 15. (Adaptado.)

Tendo como referência as informações apresentadas, assinale a alternativa correta.

- A melhora da qualidade de vida de pessoas com deficiência utilizando a tecnologia assistiva pode influenciar positivamente na economia de uma nação, pois as capacitam a ingressarem no mercado de trabalho, competirem por melhores salários e elevarem sua capacidade de consumo, contribuindo para o aumento do PIB.
- Uma criança que utiliza 4 próteses por ano, a um custo de 75 euros cada, gastará, ao final de 15 anos de vida, o equivalente a 30 mil euros.
- A cadeira de rodas desenvolvida pela UCS baseia-se na medição das acelerações dos movimentos de cabeça através de acelerômetros, componentes eletrônicos que utilizam o silício, um elemento químico do segundo período da Tabela Periódica e que apresenta propriedades químicas semelhantes ao selênio e ao telúrio.
- A medula espinal é a porção alongada do sistema nervoso periférico; é a continuação do bulbo, que se aloja no interior da coluna em seu canal vertebral, ao longo do seu eixo crânio-caudal. Nela, residem todos os neurônios motores que enervam os músculos e também os eferentes autônomos.
- As ondas de rádio são utilizadas em sistemas de comando de voz na tecnologia assistiva por serem uma classe especial de ondas eletromagnéticas que sofrem interferência construtiva com ondas sonoras.

Questão 55 - (UERJ/2017)

O governo chinês anunciou, nesta quinta-feira, que decidiu pôr fim à política do filho único. Por mais de três décadas, impediu-se que casais tivessem mais de uma criança, o que causou impacto na sociedade e na economia do país. Segundo a agência de notícias estatal Xinhua, o Partido Comunista determinou que, agora, os casais poderão ter dois filhos.

Adaptado de bbc.com, 29/10/2015.

A principal justificativa para a decisão do governo chinês está apontada em:

- ampliar o poder de consumo do mercado
- reduzir o custo da mão de obra da indústria
- viabilizar a proposta de democratização do estado
- retardar o processo de envelhecimento da população

Questão 56 - (UERJ/2017)

O século XXI tem assistido à ampliação do debate acerca das uniões homoafetivas, o que possibilitou algumas mudanças, como a observada no quadro.

LEGALIZAÇÃO DE UNIÕES HOMOAFETIVAS	
Ano	
2000	Países Baixos
2003	Bélgica
2005	Canadá Espanha
2006	África do Sul
2009	Noruega Suécia
2010	Argentina Portugal Islândia
2012	Dinamarca
2013	Brasil França Inglaterra Nova Zelândia País de Gales Uruguai
2014	Escócia Luxemburgo
2015	Estados Unidos Finlândia Irlanda México

Adaptado de hypescience.com.

Essa mudança de costumes expressa principalmente o reconhecimento do seguinte princípio entre os direitos humanos:

- inclusão política
- diversidade cultural
- uniformidade jurídica
- igualdade econômica

Questão 57 - (UERJ/2017)

Os jogos olímpicos mundiais, desde sua criação em finais do século XIX, revelam particularidades tanto nacionais quanto internacionais relacionadas aos locais onde ocorrem. Observe os cartazes de divulgação abaixo.

BERLIM, 1936



esportes.terra.com.br

TÓQUIO, 1964



www.tutoriart.com.br

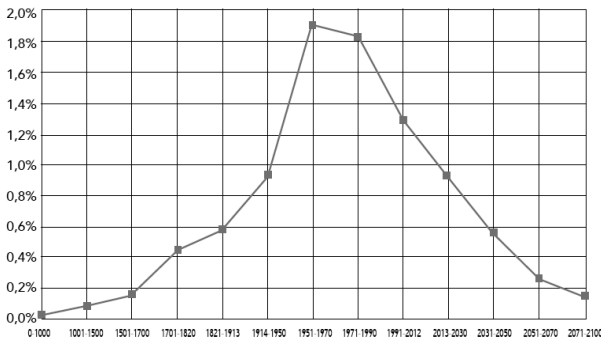
A partir da análise desses cartazes, pode-se concluir que as olimpíadas de Berlim, em 1936, e de

Tóquio, em 1964, enfatizaram, respectivamente, as seguintes ideias:

- defesa do militarismo – hierarquização dos povos
- culto do arianismo – valorização das diferenças raciais
- hegemonia da cultura ocidental – unificação dos países
- exaltação do patriotismo – evidência da igualdade social

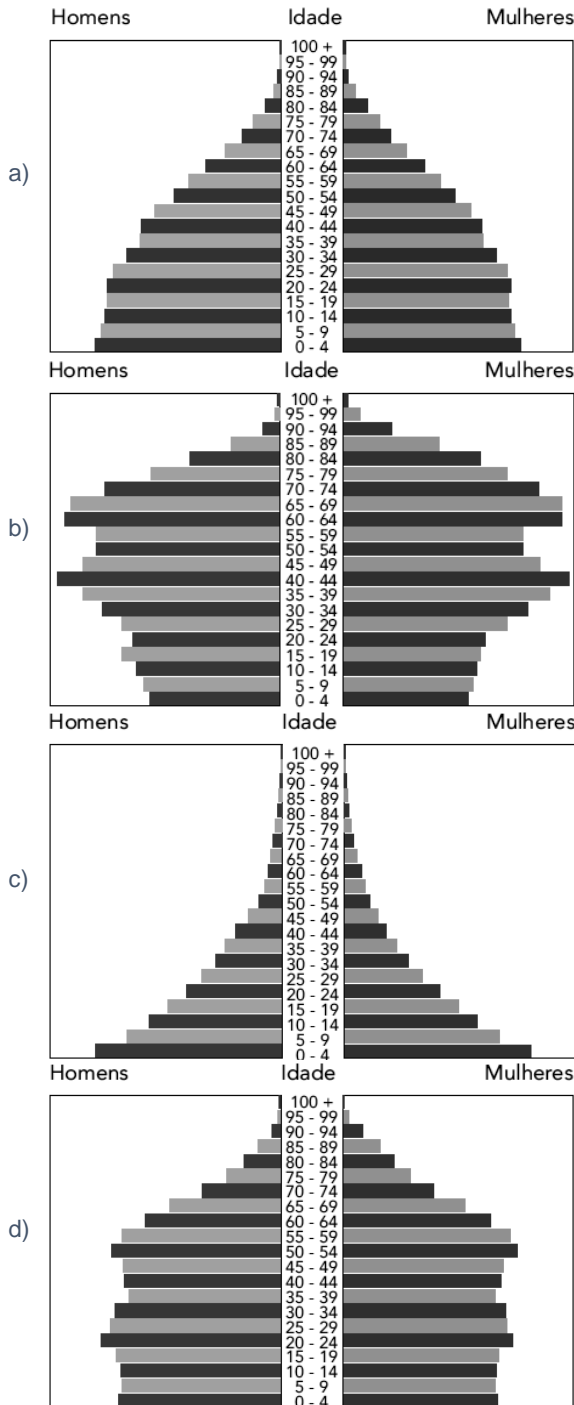
Questão 58 - (UERJ/2017)

Taxa de Crescimento Populacional do Mundo da Antiguidade até 2100



Adaptado de huffingtonpost.com.

Com base nas informações do gráfico, a pirâmide etária que representa a população mundial no ano de 2016 é:



Questão 59 - (UERJ/2017)

Um dos fatores que impulsionaram a tecnologia da informação foi o sucesso dos profissionais indianos nos Estados Unidos, principalmente no Vale do Silício. A saída de estudantes indianos gerou um intenso debate dentro da Índia: emigrantes eram

acusados de usarem a excelente educação recebida gratuitamente do governo para impulsionar suas carreiras sem dar nada de volta ao país. O grosso da emigração indiana hoje vai para os E.U.A., Austrália, Canadá e Nova Zelândia.

Adaptado de COSTA, F. *Os indianos*. São Paulo: Contexto, 2015.

Apesar da crítica relatada no texto, a economia indiana também se beneficiou com a emigração de profissionais indianos qualificados.

Para a Índia, uma consequência positiva desse processo demográfico tem sido:

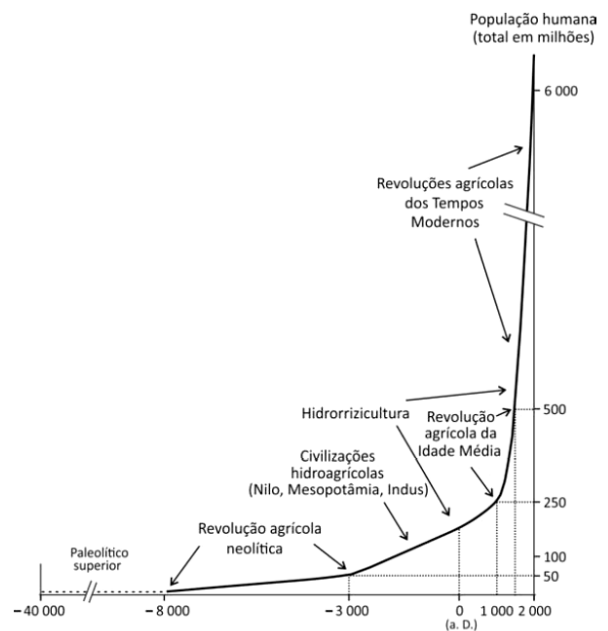
- a) barateamento da mão de obra local
- b) recebimento de remessas financeiras
- c) diminuição dos índices de desemprego
- d) ampliação das exportações da indústria

Questão 60 - (FUVEST SP/2017)

O gráfico mostra a progressão da população humana ao longo do tempo em relação aos sistemas agrários no mundo.

A partir do gráfico,

- a) compare o crescimento demográfico ocorrido após a Revolução agrícola neolítica com o crescimento demográfico da Revolução agrícola da Idade Média e explique a diferença entre ambos;
- b) comente os dados do gráfico segundo os princípios da teoria demográfica malthusiana.



Marcel Mazoyer & Laurence Roudart, *História das agriculturas no mundo. Do Neolítico à crise contemporânea*. São Paulo, 2010. Adaptado.

Questão 61 - (PUC SP/2017)

"Atualmente, os imigrantes marroquinos são um pouco menos de 700.000 na França. A França não é mais o país de predileção dos marroquinos, que se dirigem principalmente para a Espanha e a Itália. Uma imigração qualificada se desenvolve igualmente em direção aos Estados Unidos e ao Canadá."

(Le monde - Hors-série. *L'Atlas de la France et des Français*. Paris: Le Monde, 2014. p. 144)

Alguns traços da imigração contemporânea revelam-se nesse texto. A esse respeito pode ser dito que

- a) as migrações voltam-se aos países mais próximos, tendo em vista as maiores facilidades existentes com as novas políticas de vizinhança que avançam no mundo atual.

- b) elas adquirem escala planetária para além do regional e o foco deixa de ser apenas os antigos colonizadores, quer dizer, ganham um maior desembaraço geográfico.
- c) as migrações deixam de ser focadas nos países ricos e hoje elas são multidirecionais e praticadas principalmente por imigrantes com formação profissional sólida.
- d) são imigrações predominantemente legais e crescentes, visto que, no mundo global, elas são incentivadas por vários países como ação de desenvolvimento econômico.

TEXTO: 2 - Comum à questão: 62

Leia este trecho de entrevista.

"Nada pode justificar os atentados, mas temos que entender por que esses franceses se tornaram terroristas, para não deixar outros de nossos filhos caírem nessa barbaridade. Estamos colocando R\$ 1,5 trilhão na segurança antiterrorista, que é necessária, mas deveríamos investir também nos guetos, que abrigam quase só imigrantes e filhos de imigrantes nascidos na França. Há guetos com quatro mil apartamentos, onde se vive em condições horríveis. Essas construções foram um erro e temos que assumir isso."

(Revista BRASILEIROS. Uma consulesa além dos brioches. São Paulo: Brasileiros Editora, no 91, fevereiro/2015. p. 38)

Questão 62 - (PUC SP/2017)

A entrevista é de uma consulesa da França no Brasil. O tema são os atentados terroristas na França perpetrados por franceses filhos de imigrantes. Sobre esse tema e a inserção dos imigrantes na França é correto dizer que

- a) essa nação, que teve vasta ação colonizadora, se beneficia com a migração de ex-colonizados, os quais são integrados com algum grau de conflito na sociedade francesa, porém conflitos que estão sendo dissipados.
- b) migrações de ex-colonizados para a França geram conflitos porque esses migrantes, assim como seus descendentes não têm direitos de cidadania no país, não são considerados franceses, e nem têm acesso aos serviços públicos.
- c) dificuldades de integração na sociedade francesa, isolamento do conjunto das relações sociais, acirram o estranhamento cultural, os preconceitos de lado a lado e se transformam num contexto cujo maior risco é a desumanização do outro.
- d) trata-se de um caso especificamente francês, pois noutros países europeus, também colonizadores, a inserção de imigrantes de várias partes do mundo se dá em clima de relativa harmonia.

Questão 63 - (UEMG/2017)

O aproveitamento do "bônus demográfico", em países que passam atualmente pelo processo de transição demográfica, **NÃO** será eficaz se

- a) os índices de qualidade de ensino permanecerem inalterados.
- b) os anos de contribuição previdenciária forem estendidos.
- c) os impostos diretos tiverem seus valores ampliados.
- d) as taxas de natalidade forem reduzidas.

Questão 64 - (FGV/2017)

No mundo contemporâneo, as conexões econômicas entre os países constituem um importante fator condicionante dos fluxos migratórios. De acordo com o relatório do Programa das Nações Unidas para o Desenvolvimento (PNUD), existiam, em 2010, 215 milhões de migrantes no mundo.

Sobre o fenômeno das migrações no mundo contemporâneo, analise as afirmações a seguir.

- I. O processo de globalização adotou uma ideologia liberalizante que flexibilizou as barreiras nacionais à circulação de informações, mercadorias e capitais, mas que não alcança as que restringem a circulação de pessoas.
- II. Os imigrantes de baixa qualificação e pertencentes a etnias diferentes têm sido alvo de crescente hostilidade por parte da população dos países receptores, aumentando a vulnerabilidade dos imigrantes.
- III. A expressão "drenagem de cérebros" ("drain brain") está relacionada às políticas adotadas por numerosos países desenvolvidos de atrair profissionais com alta qualificação acadêmica, o que provoca a perda da capacidade de inovação nos países de origem dos migrantes.

Está correto o que se afirma em

- a) I, II e III.
- b) I e III, apenas.
- c) II, apenas.
- d) II e III, apenas.
- e) I, apenas.

Questão 65 - (Fac. Israelita de C. da Saãºde Albert Einstein SP/2017)

"Um bilhão de seres humanos [...] dispõem, no começo do século XXI, de menos de um dólar por dia para viver; esse número figura no documento intitulado *Objetivos do milênio para o desenvolvimento* (OMD), adotado por 180 nações e assinado por 147 chefes de Estado na Assembleia do milênio reunida na ONU em setembro de 2000."

(Alain RENAUT. *Um mundo justo é possível?* [traduzido de Un monde juste est-il possible?], Paris:Stock, 2013, p. 19)

Agora, em meados da segunda década do século XXI, pode ser afirmado que

- a) nos países em desenvolvimento, generalizam-se ações estratégicas de desenvolvimento, dando proeminência ao Estado como ordenador dos mercados.
- b) os objetivos para o desenvolvimento social são o centro das políticas econômicas de austeridade fiscal, hoje compreendidas como a chave para controlar o Estado.
- c) objetivos para o desenvolvimento implicam projetos de futuro, que podem ser projetos nacionais ou de outra escala; isso mantém a importância do papel do Estado.
- d) os países signatários do documento se comprometeram a implantar projetos de desenvolvimento, e por isso vemos proliferar no mundo políticas de combate à desigualdade social.

Questão 66 - (FCM MG/2017)

Em 25 de julho é comemorado o Dia Internacional da Mulher Negra Latino-Americana e do Caribe. O Brasil, como os demais países latino-americanos de tradição escravocrata e colonialista, segue enfrentando as mazelas do racismo estrutural e estruturante de nossa sociedade. Em razão dos frágeis regimes democráticos instaurados no continente americano após o período escravocrata, nunca se assegurou aos negros condições de igualdade com os não negros.

Com relação à luta da mulher negra brasileira, em condições desiguais para sobreviver e conquistar sua cidadania, assinale a alternativa **INCORRETA**:

- a) O recrudescimento do racismo e o modelo de desenvolvimento social e econômico no Brasil não impactam profundamente a vida das mulheres negras, indígenas e afroindígenas, imigrantes e refugiadas. Dessa forma, o racismo, como tal, não é um elemento estruturante da sociedade e da população brasileira.
- b) Apesar do empenho nas últimas décadas em ações de diminuição das desigualdades sociais e de enfrentamento da violência contra a mulher, essas não impediram o aumento de assassinatos de mulheres negras, o aumento do

encarceramento feminino e a continuidade das violações de direitos das mulheres negras.

- c) Entre as consequências do racismo, estão mortes evitáveis de mulheres, por falta de acesso à assistência de saúde pública e adequada, a falta de procedimentos no combate à violência contra a mulher pelo machismo patriarcal, pelas manifestações de discriminação por raça, etnia e/ou nacionalidade, de gênero e/ou orientação sexual e intolerância religiosa.
- d) No quadro social brasileiro, ainda temos uma baixa qualidade de vida da mulher negra, verificada em cada indicador econômico ou social produzido pelo Estado brasileiro, situação que provoca o êxodo de mulheres negras, indígenas e afroindígenas, imigrantes e refugiadas.

Questão 67 - (IFBA/2017)

A geografia da população corresponde à constituição histórica, distribuição, dinâmica e distribuição dos habitantes do globo. Sabendo desta complexidade de fatores e características, é correta a alternativa que afirma que:

- a) A distribuição e as condições sociais da população dependem da localização e do tamanho dos países, de modo que sempre nos países menores encontra-se baixa densidade demográfica.
- b) A estrutura da população no mundo é caracterizada pelo conflito entre o crescimento do número de idosos e as altas taxas de natalidade, que são características dos países mais desenvolvidos no cenário mundial.
- c) O Neomalthusianismo traz elementos da teoria Malthusiana para justificar a desigualdade econômica entre os países, e atribuir responsabilidade pelo desenvolvimento precário ou retardatário dos países a suas taxas de natalidade.
- d) As teorias populacionais buscam explicar a relação entre o crescimento da população e o desenvolvimento social, de modo que a Teoria Malthusiana aponta para a real escassez de alimentos para a população atual.
- e) A estrutura etária populacional tende ao equilíbrio entre natalidade, população jovem e adulta e longevidade.

Questão 68 - (IFBA/2017)

Com base no texto a seguir marque a resposta correta:

**'Se for negro, não entra':
Polícia italiana impede refugiados de
embarcar em trem para Alemanha**



Segundo declarou um policial italiano que pediu para ficar no anonimato, a cor da pele identifica quem são os refugiados sem documentos. "Se for negro, não entra. E se já está dentro [do vagão] deve ser controlado porque é quase certo que não tem documento", diz o oficial, relatando qual foi a ordem recebida de seus superiores. "Sei que não é correto, mas é o modo mais fácil de identificá-los. Sabemos que nenhum deles possui visto ou passaporte e por isso não os deixamos entrar no trem internacional."

Fonte: Opera Mundi Uol, 2015. Disponível em: <http://operamundi.uol.com.br/conteudo/reportagens/41136/>

[se+for+negro+nao+entra+policia+italiana+impede+refugiados+de+embarcar+em+trem+para+alemanha.shtml](#) (Acesso em: 13/09/2016.)

- a) Os refugiados da atualidade são exclusivamente a população de origem africana.
- b) O fluxo de refugiados do Oriente Médio e da África à Europa decorre dos conflitos religiosos, disputas políticas, guerras civis e pobreza.
- c) Os refugiados na atualidade fogem principalmente dos desastres ambientais como o recente terremoto na Itália.
- d) Os refugiados negros, ou não, têm dificuldades de se adaptar nos novos países, mas sua entrada nos novos lugares não envolve conflitos.
- e) Em geral, os países ricos estão abertos à receber populações imigrantes, pois o racismo e a xenofobia ocorrem apenas em países pobres.

Questão 69 - (IFMG/2017)

Novo estudo da ONU indica que mundo terá 11 bilhões de habitantes em 2100

Publicado em 29/07/2015 Atualizado em 30/07/2015

Brasil segue na contramão da tendência mundial em consequência do baixo índice de fecundidade no país. Segundo o estudo, comparado ao patamar atual, número de população do país será inferior em 2100.

Estima-se que a população mundial alcançará 8,5 bilhões em 2030, 9,7 bilhões em 2050 e passará os 11 bilhões em 2100. Segundo as novas projeções, a Índia ultrapassará a China como o país mais populoso do mundo em apenas sete anos e a Nigéria tomará o lugar dos Estados Unidos como o terceiro maior país do mundo em 35 anos, revelou o relatório da ONU.

Disponível em: <https://nacoesunidas.org/novo-estudo-da-onu-indica-que-mundo-tera-11-bilhoes-de-habitantes-em-2100/> (Acessado em 05/10/2016).

Com base nos conhecimentos geográficos em população, assinale a alternativa adequada.

- a) A população mundial chegará perto dos 10 bilhões de habitantes em 2050, contra 7,3 bilhões em 2015, segundo análise da Organização das Nações Unidas e seu relatório sobre crescimento da população mundial, e o Brasil seguirá esta tendência.
- b) Atualmente listado como quinto país mais populoso do mundo, as projeções para o Brasil são de crescimento populacional cada vez menor como consequência da baixa taxa de fecundidade do país, uma das menores, junto à China, Estados Unidos, Rússia, Japão e Vietnã.
- c) O crescimento demográfico do Brasil acelera. Após uma baixa de mais de 2% ao ano há cinquenta anos, ela aumentará a partir de então (1,2% em 2015) e deve continuar a aumentar até a quase estabilização da população mundial em dois séculos.
- d) Uma pessoa em cada seis vive hoje no Continente Americano. No Brasil, a população pode passar de pouco mais de 200 milhões de habitantes em 2015 para quase 500 milhões em 2100, registrando um aumento preocupante.

Questão 70 - (IFMG/2017)

O Índice de Desenvolvimento Humano (IDH) é um indicador criado pela ONU que avalia as condições de vida em praticamente todos os países do mundo. Em 2011, o país de mais elevado IDH do mundo foi a Noruega, na Europa, e o país com mais baixo IDH foi a República Democrática do Congo, na África.

Num mesmo país, como no Brasil, pode haver alguns lugares onde o IDH é elevado, como no sul do Brasil, e outros lugares com IDH bastante baixos como no Vale do Jequitinhonha em Minas Gerais.

Marque abaixo, a opção que **NÃO** caracteriza um aspecto de medida do IDH:

- a) Expectativa de vida ao nascer;
- b) Renda nacional bruta *per capita*;
- c) Média de anos de estudos dos adultos;
- d) Forte industrialização de base.

Questão 71 - (IFPE/2017)

HÁ UM SÉCULO, ACORDO FRANCO-BRITÂNICO PARTILHAVA ORIENTE MÉDIO E SEMEAVA CONFLITOS

No contexto do centenário da Primeira Guerra Mundial, a mídia europeia evocou os 100 anos do acordo Sykes-Picot. Secretamente assinado em 16 de maio de 1916, o acordo decidiu a partilha das províncias árabes dos otomanos entre a França e o Reino Unido. [...].

Em 1916, os Estados Unidos ainda estavam fora da Primeira Guerra. Por isso, Paris e Londres davam as cartas na Europa, na África e no Oriente Médio, preparando a divisão dos territórios do campo adverso, formado notadamente pela Alemanha, a Áustria-Hungria e o Império Otomano. Terminada a guerra, a Conferência de San Remo (1920), detalhou o acordo Sykes-Picot. Londres ficou com autoridade colonial sobre a Palestina, a Transjordânia e a Mesopotâmia. Paris ganhou a Síria e o Líbano. No pano de fundo da partilha, havia um dado novo na economia mundial: a mecanização da guerra atizara a cobiça franco-inglesa sobre o petróleo do Oriente Médio. Desde o começo, houve traçaças europeias. A mais conhecida foi a enganagem dos árabes, aos quais os ingleses e os franceses haviam prometido a independência caso lutassem contra os otomanos. Pior ainda foi [...] a divisão, com fronteiras internacionais em linhas retas traçadas pelos colonizadores, de territórios povoados por comunidades unidas há séculos (como os curdos, cuja autonomia foi também combatida pelos nacionalistas turcos) ou a amarração num só país de gente desde sempre dividida por antagonismos religiosos (caso do Iraque). Sem contar as desastrosas manipulações francesas na Síria e inglesas na Palestina. [...].

ALENCASTRO, Luiz Felipe de. **Há um século, acordo franco-britânico partilhava Oriente Médio e semeava conflitos** (Adaptado). Portal UOL Notícias. Disponível em:

<<http://noticias.uol.com.br/blogs-ecolunas/coluna/luiz-felipe-alencastro/2016/05/23/ha-um-seculo-acordo-franco-britanico-partilhava-oriente-medio-e-semeava-conflitos.htm>>. Acesso: 04 dez. 2016.

Em relação aos conflitos étnico-nacionalistas, é **CORRETO** afirmar que

- a) provocam acentuado movimento de emigração com destino a locais que possam oferecer melhores condições de vida a exemplo da Europa.
- b) a permanência de diversas etnias num mesmo território não tem relação com o início dos conflitos, estes sempre têm causas religiosas.
- c) o processo de delimitação das fronteiras foi sempre pensado para evitar conflitos entre diferentes etnias que ocupavam mesma porção do território.
- d) os ideais econômicos e nacionais próprios dos países dominantes nunca foram relevantes na delimitação da fronteira de outras nações.
- e) a separação de uma mesma etnia em diferentes territórios não tem causado conflitos, visto que, por serem territórios vizinhos, os cidadãos têm garantida a livre circulação entre as nações.

Questão 72 - (UERJ/2017)

UNIÃO EUROPEIA DUPLICA RECURSOS DE AJUDA EMERGENCIAL PARA REFUGIADOS NA GRÉCIA

A União Europeia anunciou que duplicará a ajuda de emergência para os refugiados na Grécia. O objetivo é melhorar as condições

de vida das pessoas que estão paradas no país há meses enquanto tentam chegar aos países mais ricos da Europa, na fuga de seus países de origem. Cerca de 115 milhões de euros em ajuda de emergência estão sendo enviados pelo bloco, além dos 83 milhões de euros do início deste ano. O dinheiro será canalizado através de organizações humanitárias para melhorar os abrigos de moradia e o acesso das crianças refugiadas à educação.

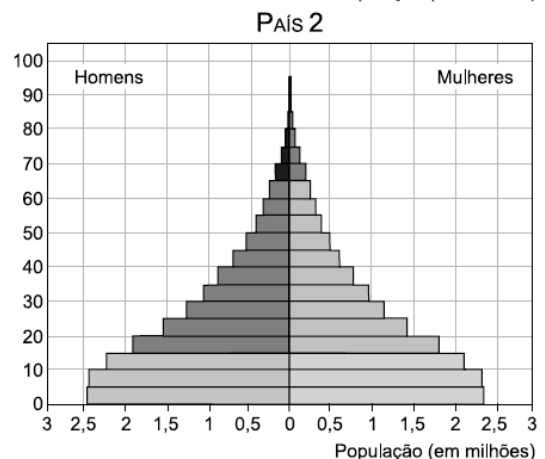
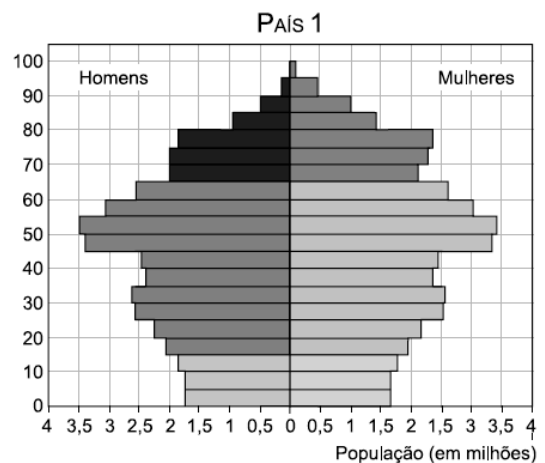
Adaptado de oglobo.globo.com, 11/09/2016.

O conceito de refugiado foi elaborado em 1951 em uma convenção da ONU. São consideradas refugiadas todas as pessoas que se encontram fora de seu país de origem e que não podem ou não querem regressar a ele por causa de fundados temores de perseguição.

Aponte dois motivos de perseguição às pessoas que se tornam refugiadas. Indique, ainda, duas consequências demográficas para as áreas de origem desses refugiados.

Questão 73 - (UEA AM/2017)

As pirâmides etárias expressam o número de habitantes de um país, distribuídos de acordo com o sexo e a idade. Analise as pirâmides etárias dos países 1 e 2.



(United Nations. *World population prospects*, 2015. Adaptado.)

Com base nas pirâmides etárias apresentadas, é correto afirmar que

- a) o país 1 é subdesenvolvido, haja vista o elevado número de jovens.
- b) o país 2 é desenvolvido, haja vista o elevado número de idosos.
- c) o país 1 é desenvolvido, haja vista o predomínio de população adulta.
- d) o país 2 é subdesenvolvido, haja vista a menor taxa de natalidade.
- e) o país 1 é desenvolvido, haja vista a menor expectativa de vida.

Questão 74 - (UEA AM/2017)

O multiculturalismo é uma denominação para políticas sociais em voga. O mundo, já interligado, continuará a aproximar ainda mais as culturas, colocando-as lado a lado ou mesclando-as. Se, apesar das recaídas correntes, as maiorias em quase todas as sociedades entenderem que a diversidade é algo bom, e muitos Estados vêm declarando que reconhecem o pluralismo cultural como riqueza, não como defeito, o mundo pode também, algum dia, dar seguimento a isso.

(José A. L. Alves. "Coexistência cultural e 'guerras de religião'". *Revista Brasileira de Ciências Sociais*, fevereiro de 2010. Adaptado.)

A ampliação do multiculturalismo enfrenta a intolerância, a aversão ao outro ou ao externo. As "recaídas correntes", mencionadas no excerto, apontam para a questão da

- a) transgenia.
- b) emancipação.
- c) multiétnia.
- d) xenofobia.
- e) ressurgência.

Questão 75 - (UEM PR/2017)

Tendo em vista a quantidade de pessoas que têm dificuldades em obter renda suficiente para satisfação de suas necessidades básicas, inclusive alimentares, a desigualdade socioeconômica e a pobreza se apresentam como temas importantes da agenda política mundial. A respeito dessa temática, assinale o que for **correto**.

01. O Produto Interno Bruto (PIB) *per capita* é um expressivo indicador da desigualdade da distribuição de renda de um país ou de um determinado recorte espacial.

02. A Declaração do Milênio, elaborada pela Organização das Nações Unidas (ONU), estabeleceu metas e objetivos que deveriam ser cumpridos até 2015 para assegurar a redução da pobreza extrema e o desenvolvimento sustentável em países não desenvolvidos.

04. No documento intitulado Relatório do Desenvolvimento Humano 1990, o Programa das Nações Unidas para o Desenvolvimento Humano (Pnud) estabeleceu que a situação de pobreza manifesta-se em relação às pessoas que vivem com menos de 1,25 dólar por dia.

08. O Índice de Desenvolvimento Humano (IDH) é considerado um dos indicadores mais amplos e mais completos de que se dispõe para analisar as condições socioeconômicas de uma população, porque leva em consideração aspectos relacionados à saúde, à educação e à renda.

16. Considera-se que a desigualdade socioeconômica seja mais abrangente que a distribuição de bens materiais em razão de essa desigualdade envolver, além do acesso ao capital, o acesso aos recursos naturais, à tecnologia, à educação de qualidade, à água potável, aos serviços de saúde e ao saneamento básico.

Questão 76 - (PUC GO/2016)

Mulher proletária

Mulher proletária — única fábrica que o operário tem (fábrica de filhos), tu

na tua superprodução de máquina humana forneces anjos para o Senhor Jesus, forneces braços para o senhor burguês.

Mulher proletária, o operário, teu proprietário há de ver, há de ver: a tua produção, a tua superprodução, ao contrário das máquinas burguesas salvar teu proprietário.

(LIMA, Jorge de. *Melhores poemas*. 3. ed. São Paulo: Global, 2006. p. 69.)

O texto, ao discorrer sobre a mulher proletária, remete à dupla função da mulher, como produtora de filhos e também como trabalhadora em fábrica. Acerca dessa temática, vale ressaltar que essa situação vem mudando nas últimas décadas, tendo em vista a maior participação da mulher no mercado de trabalho e a consequente redução das taxas de fecundidade e natalidade. Acerca dessa temática, analise as assertivas a seguir:

I. A redução das taxas de fecundidade e natalidade é um fenômeno tipicamente urbano e decorre do fato de a mulher passar a trabalhar.

II. O crescimento do setor terciário possui estreita relação com a maior profissionalização e participação da mulher no mercado de trabalho.

III. Atualmente, além de geradora de filhos, a mulher vem arcando, cada vez mais com a função de prover o sustento da família.

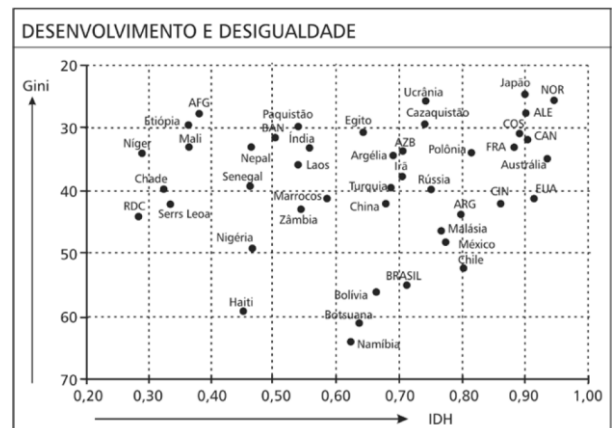
IV. Dada a importância da mulher como geradora de filhos, nas últimas décadas têm-se intensificado os cuidados com a saúde da gestante.

Em relação às proposições analisadas, assinale a única alternativa que contém todos os itens corretos:

- a) I, II e IV.
- b) II e III.
- c) II, III e IV.
- d) II e IV.

Questão 77 - (CEFET MG/2016)

Analisar o gráfico a seguir:



Fonte: FERREIRA, Graça M. L. *Atlas geográfico: espaço mundial*. São Paulo: Moderna, 2013. p. 36 (adaptado)

A partir da análise dos dados do gráfico, afirma-se que:

- I. O Brasil, apesar de possuir um baixo Índice de Desenvolvimento Humano, possui um nível de desigualdade social similar ao dos países desenvolvidos.
- II. A posição dos países emergentes no gráfico confirma a heterogeneidade socioeconômica desse grupo.
- III. O conjunto de países representados na parte superior do gráfico apresenta melhores índices sociais.
- IV. Para a definição do desenvolvimento social dos países, é necessário avaliar a relação inversa dos índices representados.

Estão corretas apenas as afirmativas:

- a) I e II.
- b) I e III.
- c) II e IV.
- d) III e IV.

Questão 78 - (Fac. Direito de SÃO Bernardo do Campo SP/2016)

“A chegada em massa de refugiados à Europa, o maior fluxo migratório registrado desde a Segunda Guerra Mundial, confrontou as autoridades europeias com a realidade de uma tragédia de dimensões astronômicas. Apenas entre 1º de janeiro e 1º de setembro de 2015, ao menos 351.314 pessoas chegaram às costas europeias, principalmente à Grécia (234.778 pessoas) e Itália (114.276), seguidas muito de longe pela Espanha (2.166) e Malta (94). Segundo a Organização Internacional para as Migrações (OIM), pelo menos 2.643 pessoas que tentavam chegar à Europa perderam a vida no Mediterrâneo, embora o órgão não descarte que esse número seja muito maior.”

“Por que os refugiados agora emigram em massa para a Europa”.

El País, 02.09.2015.

http://brasil.elpais.com/brasil/2015/09/02/internacional/1441203464_243164.html. Adaptado.

A partir do texto e de seus conhecimentos, pode-se considerar que um dos motivos que explicam a onda migratória em direção à Europa é

- a) o crescimento das perseguições políticas e étnicas no Tibete e a sucessão de conflitos armados no Paquistão e no Afeganistão.
- b) a crise econômica na América Latina, que leva muitos descendentes de imigrantes a retornarem à terra de seus antepassados.
- c) a atração exercida pelo ciclo de crescimento econômico vivido pela Grécia e pela Itália desde o início do século.
- d) a guerra na Síria e a fragmentação política da Líbia, iniciadas após os episódios da chamada Primavera Árabe.

Questão 79 - (FATEC SP/2016)

No final do século XVIII, o economista inglês Thomas Malthus escreveu um livro, no qual trabalhou a ideia de que a fome e a miséria são decorrentes do descompasso entre o crescimento populacional e a produção de alimentos.

Segundo Malthus,

- a) o ritmo do crescimento populacional tende a diminuir à medida que os investimentos em educação aumentam.
- b) o crescimento demográfico acelera a retirada dos recursos naturais, causando danos irreversíveis ao meio ambiente.
- c) o crescimento acelerado da população nos países subdesenvolvidos é consequência e não a causa da miséria e da pobreza.
- d) o aumento da população ocorre em progressão geométrica e a produção de alimentos aumenta em progressão aritmética.
- e) o aumento da população faz com que os governos invistam cada vez mais em saúde, deixando de lado os investimentos produtivos.

Questão 80 - (UNIFICADO RJ/2016)

Levando nos braços um bebê de apenas dez dias, a refugiada síria Amina Asmani abriu caminho com o marido entre os agentes da polícia armados com bastões, conseguiu subir num trem em Gevgelija, cidade macedônia que faz fronteira com a Grécia, e ficou mais perto de seu destino sonhado: a Alemanha. Ontem, no entanto, cerca de mil imigrantes viram igual sonho se esvaír no mesmo local; impedidos de cruzar a fronteira onde, na véspera, fora decretado estado de emergência pelas autoridades macedônias. Já na Eslováquia, após uma série de declarações contraditórias, o primeiro-ministro aceitou receber até 200 refugiados.

CRISE MIGRATÓRIA: Caminho barrado. **O Globo**. Mundo, 22 ago. 2015, p.33.

Essa dinâmica migratória é condicionada pela situação estratégica da:

- a) Alemanha, país europeu de redistribuição de refugiados
- b) Síria, Estado muçulmano pactuado com o povo macedônio
- c) Eslováquia, território acolhedor de imigrantes muçulmanos
- d) Macedônia, ponto de trânsito na rota balcânica da migração
- e) Grécia, território de origem da maioria dos refugiados

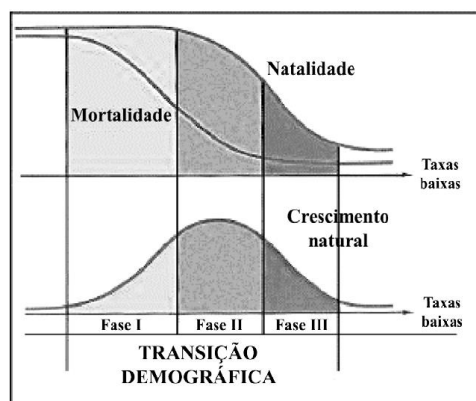
Questão 81 - (UNIRG TO/2016)

A crescente onda migratória de países do Oriente Médio em direção à Europa despertou a atenção de analistas internacionais acerca do real interesse da Alemanha em receber e conceder asilo a cerca de 800 mil refugiados. A razão seria o fato de a Alemanha ser um dos países com maior taxa de envelhecimento, apesar do fluxo de migrantes nos últimos anos. Acerca da estrutura populacional de um país e sua respectiva pirâmide etária, assinale a alternativa correta.

- a) Pirâmides etárias de países com população envelhecida apresentam base larga e topo estreito, em decorrência da elevada taxa de natalidade.
- b) Pirâmides etárias de países com elevada taxa de natalidade possuem meio mais alargado que a base em decorrência do grande número de filhos por casal.
- c) Países em processo de rejuvenescimento populacional apresentam pirâmide com base larga, meio estreito e topo também largo.
- d) Países com elevada taxa de natalidade e baixa expectativa de vida tendem a apresentar pirâmide com base larga e topo estreito.

Questão 82 - (Mackenzie SP/2016)

Observe os gráficos:



De acordo com os gráficos acima apresentados, considere as afirmações a seguir.

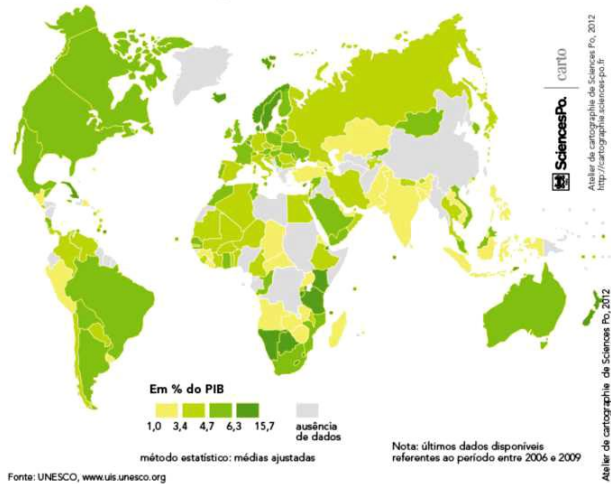
- I. O Brasil tem sua evolução demográfica melhor representada na fase II a partir da década de 1980.
- II. A fase I do gráfico superior representa com maior fidelidade o Brasil na década de 1920.
- III. A fase III representa de um modo aproximado o que tem ocorrido nas duas últimas décadas no Brasil.
- IV. A fase I, de ambos os gráficos, ocorreu de modo uniforme em todos os países que se urbanizaram independentemente de suas condições políticas e econômicas.

Estão corretas as afirmações

- a) I, II, III e IV.
- b) I e II, apenas.
- c) I e III, apenas.
- d) II e IV, apenas.
- e) I e IV, apenas.

TEXTO: 3 - Comuns às questões: 83, 84

Gastos públicos em educação, 2009



Questão 83 - (PUC SP/2016)

Tendo em vista a distribuição geográfica e as características demográficas dos países, é correto dizer que

- a) os países mais populosos, em razão das infinitas demandas econômicas e sociais, não conseguem investir parcelas expressivas do seu PIB em educação.
- b) descontada a China, os países mais populosos estão entre os maiores percentuais do PIB investidos em educação.
- c) os países de maior território têm que despender maiores percentuais do seu PIB, pois custa mais caro estruturar sistemas de ensino em vastas extensões.
- d) não há uma correspondência entre as classes de percentuais maiores e menores de investimento e a divisão entre países mais ricos e países mais pobres (divisão N/S).

Questão 84 - (PUC SP/2016)

Agora, considerando as condições socioeconômicas e suas relações com o investimento em educação, é adequado dizer que

- a) o mapa nos indica uma nítida relação entre o crescimento econômico dos chamados países emergentes e o investimento em educação.
- b) nem todos os países que aparecem com os percentuais mais elevados de investimentos são desenvolvidos, aliás, alguns são tidos como subdesenvolvidos.
- c) o continente com os maiores Índices de Desenvolvimento Humano (IDH) é aquele no qual a totalidade dos países tem os maiores percentuais do PIB de investimentos.
- d) o mapa mostra o esperado, uma relação bem clara entre a falta de investimentos em educação e os baixos níveis de desenvolvimento.

Questão 85 - (PUCCAMP/2016)

Somente o relógio de ponto controla a presença do trabalhador? O trabalhador sempre encontrará trabalho? Que tipo de tarefa exercerá no futuro? Há muitas questões... Nem todas têm respostas...

Sobre a questão do emprego/trabalho no mundo são feitas as seguintes afirmações:

- I. Desde meados da década de 1990, os níveis de emprego têm se mantido estáveis nos países do Sul e em forte crescimento nos países tradicionalmente industrializados.
- II. A revolução tecnocientífica promoveu forte impacto sobre os empregos industriais tanto nos países do Norte como nos do Sul industrializados.
- III. Tem-se observado forte migração de atividades industriais dos países desenvolvidos para os países recentemente industrializados.

IV. A partir da década de 2000 os países europeus passaram a apresentar baixas taxas de desemprego entre a população jovem.

Está correto o que se afirma APENAS em

- a) II e III.
- b) I e II.
- c) I e III.
- d) I e IV.
- e) II e IV.

Questão 86 - (UEG GO/2016)

Leia o texto a seguir.

Quatro, cinco milhões de mortos em alguns meses do verão: os sobreviventes, estarrecidos após semanas de medo, partilham as heranças e veem-se, por consequência, metade menos pobres do que eram antes.

DUBY, George. A Europa Medieval na Idade Média. São Paulo: Martins Fontes, 1988. p. 113.

Após a extrema mortandade provocada pela Peste Negra, no período subsequente ao ápice da praga, registrou-se

- a) diminuição das taxas gerais de fertilidade, como resultado das sequelas observadas entre as sobreviventes do sexo feminino.
- b) aumento no número de casamentos e nascimentos, promovido pelo enriquecimento experimentado pelos herdeiros das vítimas.
- c) equilíbrio entre natalidade e mortalidade, uma vez que os números de nascimentos e mortes ficaram praticamente iguais.
- d) estabilidade nos níveis de emprego e renda, uma vez que a diminuição populacional fez aumentar o valor da mão de obra.

Questão 87 - (UEL PR/2016)

O aumento populacional acentuado, após a Segunda Guerra Mundial, despertou a preocupação no mundo científico, principalmente com a questão da alimentação dessa população, o que geraria o caos em um futuro próximo. Dessa forma, várias teorias demográficas foram formuladas, como a malthusiana, a neomalthusiana e a reformista. Em relação a essas teorias, atribua V (verdadeiro) ou F (falso) às afirmativas a seguir.

- () Na teoria malthusiana, os casamentos deveriam ser cada vez mais tardios e condicionados à capacidade econômica para sustentar as famílias; a relação sexual seria praticada exclusivamente com fins de procriação.
- () Na teoria malthusiana, há a pregação de um alerta para os riscos ambientais decorrentes do crescimento exagerado da população, a qual exercerá cada vez mais pressão sobre os recursos naturais, particularmente nos ecossistemas equatoriais e tropicais, colocando em prática a ideia de desenvolvimento sustentável.
- () Na teoria neomalthusiana, houve defesa de programas rígidos e oficiais de controle de natalidade, os quais foram chamados de planejamento familiar. Por meio de campanhas, que perduram até os dias atuais, os governantes incentivaram o uso de métodos contraceptivos.
- () Na teoria reformista, houve a sustentação de que a população cresce em progressão geométrica e a produção de alimentos cresce em progressão aritmética; dessa forma, a humanidade estaria condenada a um grande ciclo de miséria devido à falta de alimentos para todos.
- () Na teoria reformista, as famílias dos países subdesenvolvidos iriam aderir espontaneamente ao controle de natalidade devido à elevação dos níveis educacionais e da qualidade de vida decorrentes de transformações socioeconômicas.

Assinale a alternativa que contém, de cima para baixo, a sequência correta.

- a) V, V, F, V, F.
- b) V, F, V, F, V.
- c) V, F, F, V, V.
- d) F, V, F, F, V.
- e) F, F, V, V, F.

Questão 88 - (UEPG PR/2016)

Sobre migrações, refugiados e minorias étnicas e religiosas, assinale o que for correto.

- 01. A Europa tem enfrentado sérios problemas para dar destino às levadas de imigrantes ilegais que chegam até à Itália, cruzando o mar Mediterrâneo, em busca de melhores condições de vida, fugindo de perseguições políticas e religiosas, como em conflitos entre muçulmanos e cristãos. São provenientes do norte da África e do Oriente Médio.
- 02. Grande número de pessoas fogem de países como Iraque e Síria devido às condições políticas e pelos ataques constantes do chamado Estado Islâmico, refugiando-se em outros países da região.
- 04. O temor de ataques terroristas tem levado muitos países a se posicionarem contra a entrada de imigrantes muçulmanos em países da Europa e nos Estados Unidos, criando atitudes de xenofobia.
- 08. Muitos europeus tentam atravessar clandestinamente a fronteira da Rússia, através da Ucrânia, em busca de melhores condições econômicas naquele país.
- 16. O Brasil tem facilitado, ultimamente, a entrada de imigrantes provenientes de países das Américas do Sul e Central, principalmente haitianos, além de imigrantes provenientes de países africanos.

Questão 89 - (UFES/2016)

A União Europeia deve se preocupar com o tráfico de pessoas, já que a forma organizada como os migrantes chegam à Europa e principalmente como se movimentam, orientados, organizados e com destino aos países com maiores benefícios sociais e que melhor apoiam os emigrantes e refugiados, aponta claramente para a existência de redes de tráfico de pessoas, perfeitamente organizadas e implantadas, tanto nos países de origem dos migrantes como nos países de destino. Isso, que era já perceptível há muito tempo, nunca foi devidamente investigado e combatido, por pura incapacidade dos líderes europeus. É por isso que, com o agravar da situação, rapidamente os verdadeiros líderes da Europa terão que pensar no problema de forma a resolvê-lo, algo que não é nada fácil. A resolução da catástrofe migrante passa também por criar condições de vida nos locais de origem, para que as pessoas queiram lá ficar.

(Disponível em: <http://www.cmjornal.xl.pt/domingo/detalhe/migrantes_a_longa_marcha_para_a_europa.html>. Acesso em: 17 ago. 2015. Adaptado).

Em relação ao processo de migração atualmente em curso em direção à Europa, indique e explique uma consequência para os países de destino e uma consequência para os países de origem.

Questão 90 - (UFPR/2016)

No total, 442.440 homens, mulheres e crianças chegaram ao continente [Europeu] através do Mediterrâneo e 2.921 morreram durante a travessia. Outros 4 mil chegam diariamente às ilhas gregas, agravando essa situação. Com o fechamento de vários pontos fronteiriços entre a Croácia e a Sérvia, além das violações ocorridas na Hungria durante essa semana, as Nações Unidas cobraram uma resposta única e coerente da União Europeia para a crise. [...] Enquanto isso, o Fundo da ONU para a Infância (UNICEF) divulgou um comunicado pedindo que as crianças refugiadas e migrantes na Hungria sejam “tratadas com dignidade”.

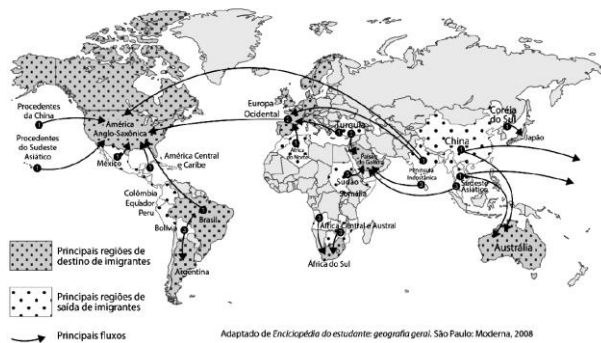
O fenômeno expresso na notícia acima tem chamado a atenção da sociedade, haja vista a escala em que tem se manifestado,

desafiando estados nacionais e organismos internacionais. Sobre os conceitos que envolvem essa problemática, assinale a alternativa INCORRETA.

- a) Migração diz respeito a um fenômeno de deslocamento populacional, não importando a escala em que ocorre: desde o campo para cidade, dentro de um mesmo município, à escala internacional.
- b) Os variados tipos de deslocamento populacional podem ser classificados segundo suas motivações, que podem ser de ordem política, econômica, cultural e até mesmo ambiental.
- c) A comunidade internacional, representada pela ONU, e os países diretamente envolvidos com as migrações noticiadas no texto têm buscado uma política internacional de segurança baseada no fechamento das fronteiras, como forma de diminuir esse problema.
- d) O reconhecimento do status de refugiado concede, ao indivíduo, um conjunto de direitos assegurados por Convenção Internacional, desde que o país de destino seja signatário desse documento.
- e) Ainda não há um consenso, entre todos os países, sobre como definir o que são migrações voluntárias, forçadas ou obrigatórias, o que dificulta a prática de políticas internacionais para o estabelecimento de padrões humanitários mínimos aos migrantes.

Questão 91 - (UFSC/2016)

Principais fluxos migratórios no final do século XX e início do século XXI

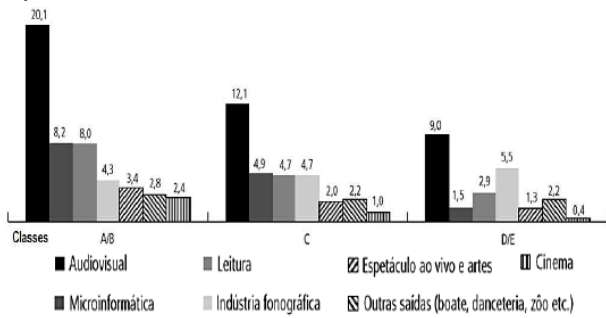


Sobre as questões demográficas na atualidade, é CORRETO afirmar que:

- 01. as migrações da Europa e para a Europa são processos recentes, que se intensificaram a partir das décadas de 1980 e 1990, quando da dissolução da União das Repúblicas Socialistas Soviéticas e da unificação alemã com a queda do muro de Berlim.
- 02. os problemas migratórios atuais têm diferentes motivações e fluxos entre regiões da África, do Oriente Médio e da América Latina.
- 04. depois de atingir um alto grau de desenvolvimento econômico e humano, os países que compõem a União Europeia têm criado políticas de estímulo à entrada de imigrantes, principalmente de cidadãos de origem sul-americana, que representam mão de obra com elevada qualificação.
- 08. a União Europeia criou condições para o livre trânsito de capitais e mercadorias entre os Estados-membros, entretanto há ainda sérias restrições ao movimento de trabalhadores.
- 16. um problema a ser enfrentado por autoridades europeias é o fluxo migratório de alguns países do noroeste e do leste europeu, embora estes países apresentem desempenho econômico muito semelhante ao dos países do lado ocidental.
- 32. estudos mostram que o principal motivo que intensifica os processos de migração internacional são as alterações no clima global.
- 64. uma das principais causas da imigração para a Europa são os problemas advindos da desestruturação de vários países da África e do Oriente Médio.

Questão 92 - (UNCISAL AL/2016)

Composição do consumo cultural por estrato de renda (Em%)

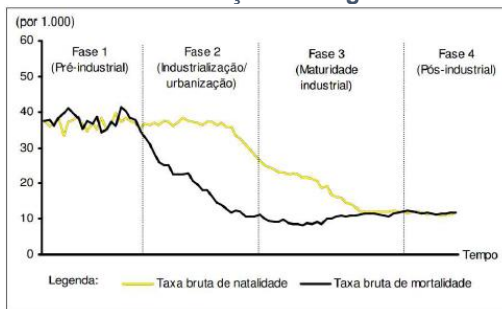


Os bens culturais estão relacionados a necessidades materiais e culturais e são úteis para proporcionar informação e entretenimento. Segundo dados do Instituto de Pesquisas Econômicas Aplicadas (IPEA – 2007), eles são valorizados por todos os segmentos sociais, independentemente da renda, do gênero e da cor. Nenhuma classe social vê os bens culturais como algo supérfluo; no entanto, como pode ser visto no gráfico,

- as atividades voltadas para o trabalho e a obtenção de renda são priorizadas.
- há uma uniformidade no consumo de bens eletrônicos e de informática.
- algumas atividades são exclusivas das classes de maior rendimento.
- o consumo desses bens é fortemente impactado pelo nível de renda.
- as classes D e E dão preferência às atividades extra lar.

Questão 93 - (UNCISAL AL/2016)

Fases do Modelo de Transição Demográfica



A análise do modelo de transição demográfica permite afirmar que na

- fase 1 os altos índices de natalidade são determinados pelo processo acelerado de urbanização.
- fase 2 há uma significativa queda nas taxas de mortalidade, devido ao que ficou conhecido como revolução sanitária.
- fase 3 o crescimento vegetativo se torna alto, provocando o fenômeno da explosão demográfica.
- fase 3 a diminuição da natalidade está ligada ao incremento de jovens no mercado de trabalho e à manutenção de um modelo familiar patriarcal.
- fase 4 o crescimento vegetativo se torna negativo, obrigando o país a adotar medidas de controle de natalidade.

Questão 94 - (UNESP SP/2016)



(www.pelicanocartum.net)

A charge ironiza uma das variáveis que compõem o cálculo do Índice de Desenvolvimento Humano proposto pela Organização das Nações Unidas, a saber,

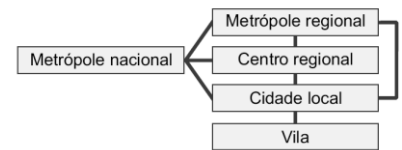
- a renda, pela referência ao dia em que as personagens almoçaram.
- a expectativa de vida, pela alusão ao condicionamento físico da personagem que move o carrinho.
- a renda, pela referência aos objetos de alto valor agregado que as personagens carregam.
- a escolaridade, pela alusão à língua portuguesa empregada em sua forma padrão pelas personagens.
- a mobilidade, pela referência ao meio de transporte utilizado pelas personagens.

Questão 95 - (UNESP SP/2016)

Relações entre as aglomerações na rede urbana

Esquema clássico

Esquema atual



Os esquemas apresentam redes urbanas com diferentes hierarquias. Explique a diferença entre rede urbana e hierarquia urbana e como se dão as relações entre as aglomerações urbanas nos esquemas apresentados.

Questão 96 - (IFSC/2016)

Solicitações de refúgio concedidas*

Brasil – 2.077

Argentina – 233

Uruguai – 117

Chile – 10

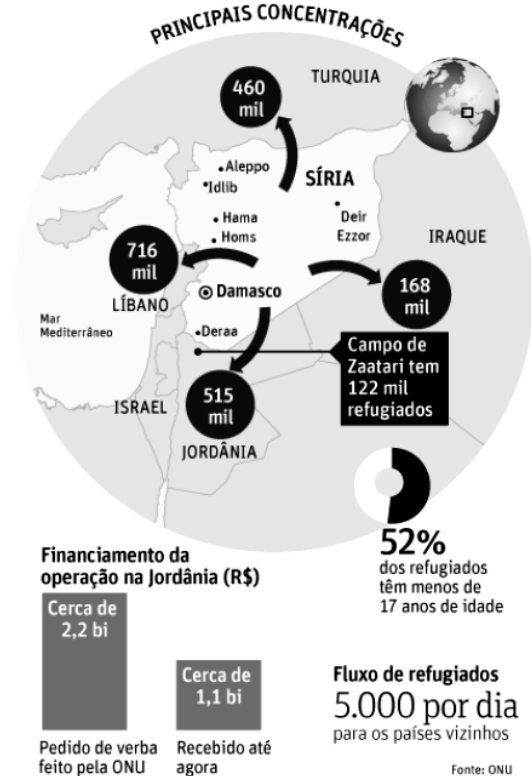
EUA – 1.243

Canadá – 2.374

*Estimativas até o 2º trimestre de 2015.

FUGA EM MASSA

Guerra já fez 2 milhões de pessoas deixarem a Síria



(Imagem disponível em: <http://www1.folha.uol.com.br/mundo/2013/09/1338749->

refugiados-sirios-vivem-cotidiano-de-tedio-e-ansiedade-em-campo-na-jordania.shtml. Acesso em: 10 set. 2015.)

(Dados disponíveis em:

http://www.bbc.com/portuguese/noticias/2015/09/150904_brasil_r_efugiados_sirios_comparacao_internacional_lgb. Acesso em: 10 set. 2015.)

Assinale a alternativa CORRETA.

- a) Nenhum país membro do Mercosul acolheu refugiados sírios.
- b) As adversidades naturais foram as maiores responsáveis pela busca de refúgio dos sírios em outros países.
- c) O Mar Morto tem sido a principal rota de travessia em direção à Europa Ocidental.
- d) O Brasil também é o país que mais concedeu asilo a refugiados sírios na América Latina. No continente americano, só perde para o Canadá – que recebeu 2.374 refugiados entre janeiro de 2014 e janeiro deste ano, segundo as estimativas.
- e) Infer-se, a partir das informações fornecidas acima, que a maioria dos refugiados são adultos.

Questão 97 - (UECE/2016)

Atente ao excerto a seguir: “Duzentos e cinquenta milhões de habitantes na época da Antiguidade Clássica, meio bilhão pelos meados do século XVII, um bilhão em 1850, dois bilhões em 1940, mais quatro bilhões antes de 1980. [...] A mais inelutável das razões de desigualdade entre os homens é hoje a sua origem geográfica, isto é, o lugar onde nascem”.

George, 1986, p.7-8. In. Moreira, Ruy. Para onde vai o pensamento geográfico.

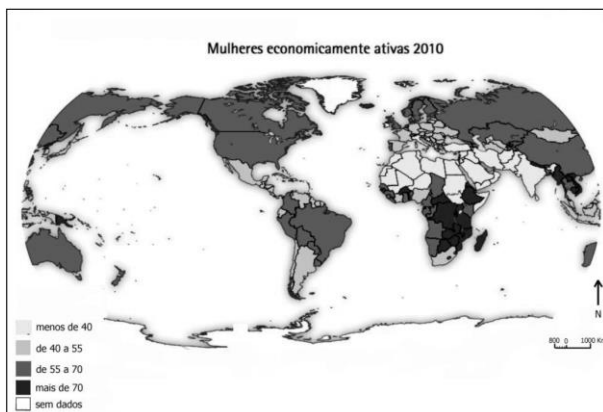
Por uma epistemologia crítica. Contexto, São Paulo, 2011. p.78-79.

As reflexões históricas, sociais e espaciais sobre a distribuição do homem na Terra podem ser as mais diversas. Dentre as causas da explosão demográfica, pode-se apontar corretamente

- a) a revolução na higiene, que acompanhou a Revolução Industrial, principalmente nas áreas da medicina e do saneamento básico.
- b) o acesso de toda a população mundial a remédios e tratamento de saúde mais modernos e eficazes.
- c) o aumento global da produção de alimentos que eliminou a fome e a desnutrição em todos os continentes.
- d) o aumento do número de cidades no mundo, fato que elevou drasticamente a população global.

Questão 98 - (UFRGS/2016)

Observe o mapa abaixo.



Considere as informações abaixo, contidas no mapa, sobre Mulheres Economicamente Ativas em 2010 no mundo.

- I. Os países mais ricos têm, proporcionalmente, maior quantidade de mulheres que participam do mercado de trabalho.
- II. O mapa mostra que a participação da mulher nas atividades econômicas está presente na maior parte dos países.

III. Os países considerados menos desenvolvidos possuem a maior participação relativa das mulheres na população economicamente ativa.

Quais estão corretas?

- a) Apenas I.
- b) Apenas II.
- c) Apenas I e III.
- d) Apenas II e III.
- e) I, II e III.

Questão 99 - (UFRGS/2016)

Observe o mapa abaixo.



Considere as afirmações abaixo, sobre a questão dos refugiados.

- I. Os refugiados procuram principalmente países considerados ricos e desenvolvidos.
- II. Estados Unidos, Alemanha e França são os países que mais recebem refugiados.
- III. O maior número de refugiados localiza-se em países da África e da Ásia.

Quais estão corretas?

- a) Apenas I.
- b) Apenas II.
- c) Apenas III.
- d) Apenas I e II.
- e) I, II e III.

Questão 100 - (UFU MG/2016)

Algumas das muitas rotas migratórias do mundo



O mundo nunca teve tanta gente morando fora do país de origem. A ONU (Organização das Nações Unidas) avalia que existem atualmente 160 milhões de migrantes, pessoas vivendo fora do seu país [...].

Excetuando-se os casos de guerras e(ou) perseguições políticas, a dinâmica populacional descrita tem como origem predominante as nações

- a) cuja economia é incapaz de absorver a força de trabalho.
- b) que passaram por grandes catástrofes naturais.
- c) cujo crescimento populacional é descontrolado.
- d) que possuem baixa produção agrícola.

GABARITO

- | | | | |
|------------|------------|-------------|-------------|
| 1) Gab: C | 2) Gab: 30 | 3) Gab: A | 4) Gab: E |
| 5) Gab: B | 6) Gab: D | 7) Gab: B | 8) Gab: B |
| 9) Gab: E | 10) Gab: B | 11) Gab: A | 12) Gab: A |
| 13) Gab: B | 14) Gab: E | 15) Gab: 01 | 16) Gab: 05 |
| 17) Gab: D | 18) Gab: A | 19) Gab: A | 20) Gab: 19 |
| 21) Gab: E | 22) Gab: D | 23) Gab: C | 24) Gab: B |
| 25) Gab: D | 26) Gab: D | 27) Gab: C | 28) Gab: D |
| 29) Gab: C | | | |
| 30) Gab: | | | |

Comparação: as mulheres só são maioria nas faixas salariais até um salário mínimo; nas demais, os homens são maioria.

Uma das respostas:

- Complementação de renda familiar
- Aumento do grau de escolarização das mulheres
- Crescente reivindicação / aceitação da igualdade de gênero no mercado de trabalho e em outras esferas sociais, em função dos movimentos feministas

31) Gab:

Indicadores demográficos e respectivas justificativas:

- Taxa de natalidade / índice de fecundidade

Esse índice justifica a expressiva proporção de jovens e a menor queda da população adulta nos bairros da Rocinha e da Maré. O número médio de filhos por mulher é mais elevado nesses bairros em função do menor nível socioeconômico dos seus habitantes, em relação à Lagoa e a Copacabana. Fatores como menor custo de formação do indivíduo, nível mais baixo de escolaridade da mãe e o próprio perfil prévio de uma população mais jovem, com elevada taxa de natalidade, favorecem essa desigualdade demográfica.

- Expectativa de vida

A maior expectativa de vida nos bairros da Lagoa e de Copacabana resulta em proporção muito elevada de idosos, em contraste com o verificado na Rocinha e na Maré. Isso pode ser explicado pelo nível socioeconômico mais elevado dos bairros da Lagoa e de Copacabana, nos quais fatores cruciais para a longevidade como saneamento básico, acesso a rede de saúde de qualidade, alimentação saudável, entre outros, são mais favoráveis.

- | | | | |
|-------------|-------------|-------------|------------|
| 32) Gab: D | 33) Gab: B | 34) Gab: E | 35) Gab: A |
| 36) Gab: 20 | 37) Gab: 11 | 38) Gab: 26 | 39) Gab: E |
| 40) Gab: D | 41) Gab: C | 42) Gab: D | 43) Gab: D |
| 44) Gab: B | 45) Gab: D | 46) Gab: D | 47) Gab: D |
| 48) Gab: B | 49) Gab: B | 50) Gab: E | 51) Gab: A |
| 52) Gab: B | 53) Gab: B | 54) Gab: A | 55) Gab: D |
| 56) Gab: B | 57) Gab: B | 58) Gab: A | 59) Gab: B |
| 60) Gab: | | | |

a) No decorrer da Revolução Agrícola Neolítica, o ritmo do crescimento populacional – se comparado ao que se verificou em épocas ulteriores – foi moderado, pois as técnicas agrícolas encontravam-se em sua fase inicial: utilização de instrumentos de pedra polida, início da agricultura e da seleção de grãos (“domesticação vegetal”) e sedentarização, com parte da população se dedicando a atividades complementares; outrossim, o processo da Revolução Neolítica não foi nem uniforme nem simultâneo, caracterizando-se por uma irregularidade que afetou o crescimento populacional. A Revolução Agrícola da Baixa Idade Média (a partir do século XI), alicerçou-se em uma estrutura de produção com técnicas já consolidadas, cujos aperfeiçoamentos se processaram de forma mais rápida, até pelo fato de coincidirem com o crescimento populacional proporcionado pelo Renascimento Urbano; tais aperfeiçoamentos apresentaram, como aspectos principais, a expansão das áreas cultiváveis por meio da derrubada de florestas e drenagem de pântanos, pela prática da tração pesada (atrelagem peitoral e o novo tipo de arado) e o método de pousio ou rotação trienal dos campos de cultivo. Essas circunstâncias permitiram a aceleração da produtividade agrícola, o que, somado a fatores como melhoria das condições alimentares e de padrões de saúde, explicam o grande aumento populacional do período.

b) Analisado pela perspectiva malthusiana – de que o autor do gráfico discorda –, segundo a qual a produção de alimentos é sempre inferior ao crescimento populacional, poder-se-ia concluir que, mesmo com o aumento expressivo da produção agrícola a partir do século XII, o crescimento demográfico mais acelerado levaria a uma situação de crise nos séculos subsequentes.

- | | | | |
|------------|------------|------------|------------|
| 61) Gab: B | 62) Gab: C | 63) Gab: A | 64) Gab: A |
| 65) Gab: C | 66) Gab: A | 67) Gab: C | 68) Gab: B |
| 69) Gab: B | 70) Gab: D | 71) Gab: A | |

72) Gab:

Dois dos motivos:

- raça

Duas das consequências:

- envelhecimento da

- | | |
|---|--|
| • religião | população |
| • nacionalidade | • diminuição da taxa de natalidade |
| • fatores étnicos | • redução do crescimento demográfico |
| • associação a determinado grupo social | • diminuição da população economicamente ativa |
| • associação a determinada ideologia política | |
- | | | | |
|------------|------------|-------------|-------------|
| 73) Gab: C | 74) Gab: D | 75) Gab: 30 | 76) Gab: C |
| 77) Gab: C | 78) Gab: D | 79) Gab: D | 80) Gab: D |
| 81) Gab: D | 82) Gab: C | 83) Gab: D | 84) Gab: B |
| 85) Gab: A | 86) Gab: B | 87) Gab: B | 88) Gab: 23 |
| 89) Gab: | | | |

Nos países de destino, podem-se citar como consequências do processo de migração, entre outras:

- a intensificação dos fluxos financeiros e a evasão de recursos, principalmente quando se trata de migrações externas, já que os emigrantes têm por norma enviar as suas poupanças para os países de origem e investir uma parte significativa dessas remessas na construção de uma habitação e na aquisição de propriedades.
- a alteração nas relações pessoais devido à dificuldade de integração, resultando em aumento das tensões sociais e em “xenofobia” (termo derivado do grego – xénon: “estrangeiro”; e phóbos: “medo”), quando os nativos passam a não aceitar os imigrantes, e gerando um grave problema social. A xenofobia, portanto, caracteriza-se como racismo, preconceito cultural, discriminação racial, econômica e social ao estrangeiro.
- a adoção de ações seletivas, permitindo a entrada de profissionais qualificados e provocando a “fuga de cérebro” dos países em desenvolvimento; ou seja, pessoas com aptidões técnicas e dotadas de conhecimentos são bem-vindas.

Nos países de origem, podem-se citar como consequências desses processos, entre outras

- a diminuição no crescimento absoluto da população, uma vez que esse crescimento passa a depender do saldo migratório, além de outros fatores;
- o impacto na estrutura demográfica, por serem gerados, frequentemente, desequilíbrios entre grupos etários e entre as populações masculina e feminina;
- a alteração da população ativa, uma vez que se verifica uma redução do número de trabalhadores, em resultado da saída majoritária de jovens e adultos;
- a redistribuição da população, já que o fluxo migratório altera o número de habitantes dos países envolvidos nesse processo, perdendo o país de origem do migrante parte de sua população, enquanto o país de destino cresce em número de habitantes.

- | | | | |
|------------|-------------|------------|------------|
| 90) Gab: C | 91) Gab: 66 | 92) Gab: D | 93) Gab: B |
|------------|-------------|------------|------------|

94) Gab: A

95) Gab:

Rede urbana é um conjunto articulado de cidades e seus centros urbanos, com relação de dependência entre os diferentes tamanhos das localidades, as quais estão conectadas no dia a dia da sua população por um fluxo de serviços, informações, mercadorias e capital. Essa rede estrutura-se por meio de uma hierarquia urbana, em que as cidades menores costumam ser relativamente dependentes e subordinadas às cidades maiores e economicamente mais desenvolvidas, influenciando essa conhecida como grau de polarização.

No esquema clássico, observa-se uma relação vertical, na qual a hierarquia é rigidamente respeitada, a metrópole nacional exerce numa hierarquia fechada seu poder de influência até a menor localidade, que é a vila. No esquema atual, há uma inter-relação complexa na qual a metrópole nacional se relaciona, ao mesmo tempo e nos mais variados graus, com toda a estrutura hierárquica, sendo que os elementos intermediários da hierarquia também mantêm um relacionamento entre si.

- | | | | |
|------------|------------|------------|------------|
| 96) Gab: D | 97) Gab: A | 98) Gab: D | 99) Gab: C |
|------------|------------|------------|------------|

100) Gab: A