

Exercícios com Gabarito de Geografia Ásia - Oriente Médio

1) (Fuvest-1997)

	PIB/ hab.	IDH
Emirados Árabes Unidos	16°	62°
Qatar	22°	56°
Kuwait	26°	51°
Arábia Saudita	31°	67°
Omã	35°	92°

O Indicador de Desenvolvimento Humano (IDH) vem substituindo o Produto Interno Bruto por habitante (PIB/hab) como parâmetro mais adequado para avaliar o nível médio de prosperidade e bem-estar da população de um país. O IDH leva em conta a diferença de poder de compra em cada país, e os respectivos níveis médios de instrução e saúde. A tabela mostra, para alguns países da OPEP, sua posição na classificação, feita em ordem decrescente, de cada um desses indicadores. (ver imagem).

Analisando-a e usando conhecimentos gerais sobre a geografia desses países, é possível afirmar que as diferenças sistemáticas entre as duas classificações têm como origem comum

- o fracasso da OPEP em conseguir um preço justo para o petróleo bruto no mercado internacional.
- uma elevada densidade demográfica que dificulta um atendimento satisfatório aos problemas de saúde e instrução.
- a submissão ao poder dos grupos transnacionais que controlam a comercialização do petróleo.
- uma estrutura socioeconômica arcaica que, privilegiando a concentração de renda, agrava as desigualdades sociais.
- a ocorrência de grandes extensões desérticas, impróprias para a agricultura e pecuária

2) (UFES-1996) "Existem áreas com características similares do ponto de vista natural, [por exemplo] na África e nos EUA (os desertos). Porém, se analisarmos os respectivos espaços geográficos, verificaremos que são muito diferentes. Foi a ação humana, subordinada à cultura e às relações sociais, que os diferenciou." (OLIVA, 1995). Tomando por base a citação, trace um paralelo entre as alterações introduzidas e os resultados obtidos pelas sociedades na região do Aral e no deserto de Neguev em Israel.

3) (UFGO-2002) "O Oriente Médio é um dos principais focos de tensões geopolíticas em nível internacional. A

complexidade das disputas regionais decorre de uma multiplicidade de realidades que se superpõem: nacionais, religiosas, estratégicas. (...)

(MAGNOLI, Demétrio. *O mundo contemporâneo*. São Paulo: Moderna 1996)

Assinale as afirmativas corretas.

- () um dos eixos das tensões regionais é a questão árabe-israelense, que atualmente se subordina e se confunde com a questão israelo-palestina;
- () o agravamento permanente das condições de pobreza nos países muçulmanos vem provocando a descrença na ordem política e econômica modelada pelo Ocidente ou pelo nacionalismo árabe, reacendendo o fanatismo religioso em suas populações;
- () na geopolítica, a questão da posse de Jerusalém constitui-se em ponto controverso, pois Jerusalém que é reivindicada como capital tanto por israelenses quanto por palestinos, é sede de três significativas religiões monoteístas, além de sua importância estratégico-militar;
- () para o Ocidente, o integrismo islâmico representa um dos riscos de instabilidade geopolítica que pode abalar o conjunto das relações internacionais;
- () nos países muçulmanos, verifica-se a formação ou fortalecimento de grupos fundamentalistas radicais, intimamente vinculados a Teerã, que se opõem aos regimes laicos estabelecidos;
- () o atentado ao World Trade Center e ao Pentágono mostrou ao mundo a periculosidade de ações terroristas, levando a todos governantes a, incondicionalmente, apoiarem toda e qualquer ação dos norte-americanos no sentido de punirem os povos responsáveis pelo ato, na tentativa de evitar que, no futuro, essa prática se propague.

4) (UFSCar-2000) A descoberta de uma grande reserva de petróleo estimada em 26 bilhões de barris, no sudoeste do Irã, coloca em destaque nos noticiários a maior região produtora-exportadora de petróleo conhecida como

- bacia Caspiana.
- Mar do Norte.
- Golfo Pérsico.
- bacia de Maracaibo e Orenoco.
- delta do Níger.

5) (Vunesp-2002) A região da Ásia conhecida por Mesopotâmia foi importante área agrícola. Atualmente reduzida às zonas ribeirinhas irrigáveis, constitui uma planície drenada pelos rios

- Indo e Ganges, no Paquistão e Índia.
- Tigre e Jordão, em Israel.
- Ganges e Bramaputra, na Índia e Bangladesh.
- Tigre e Eufrates, no Iraque.
- Hoang-Ho e Yang-Tzé-Chiang, na China.

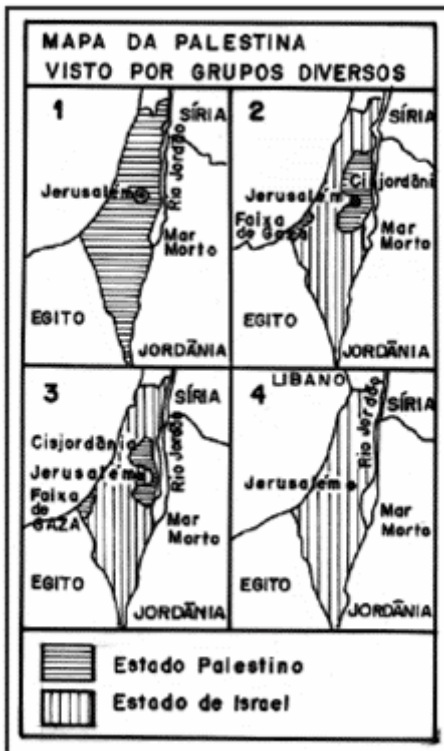
6) (UFSCar-2001) A relação água — população deve-se colocar de forma inquietante nas próximas décadas. Se nestas regiões eclodirem as guerras pela água, elas não terão sido iniciadas por fatalidade, mas por decisão política.

(Adaptado de Magnoli, D., Arbex, J. & Olic, N. Panorama do mundo 2.)

Uma das regiões a que se refere o texto é

- A) Oriente Médio.
- B) América Central.
- C) Europa Oriental.
- D) África Central.
- E) Extremo Oriente.

7) (UEPB-2006) A seqüência de mapas define a territorialização proposta por opiniões divergentes sobre os Estados palestino e israelense. A partir da observação dos mapas, identifique as proposições corretas.



- I. O mapa 1 mostra o resultado da proposta dos radicais palestinos, que não reconhecem a determinação da ONU da existência de um Estado de Israel.
- II. O mapa 2 mostra a divisão do território aceitável pelo governo palestino e próxima da proposta dos moderados, que tem Jerusalém dividida e como capital da Palestina.
- III. O mapa 3 mostra a divisão aceitável sob o ponto de vista do governo israelense, que se nega a dividir Jerusalém e avança na Cisjordânia, pela margem do rio Jordão. Percebe-se que, além de questões político-religiosas, há também questões estratégicas, a exemplo do controle da escassa água numa região árida.

IV. O mapa 4 mostra uma proposta dos israelenses moderados, pela qual o território não precisa ser dividido, havendo o convívio dos dois povos no mesmo espaço. Está(ão) correta(s) apenas as proposição(ões):

- a) II e IV
- b) II, III e IV
- c) II e III
- d) I, II e III
- e) IV

8) (UEL-2006) Analise a imagem a seguir.



Fonte: Folha de S. Paulo, São Paulo, 19 ago. 2005. Mundo, p. A 15.

Depois de 38 anos, em agosto de 2005, chegou ao fim a ocupação israelense na Faixa de Gaza.

Com base no mapa e nos conhecimentos sobre o tema, considere as afirmativas a seguir.

- I. A retirada da população judia dos assentamentos da faixa de Gaza está relacionada ao Plano de Paz, elaborado com o objetivo de mitigar os ataques terroristas a Israel.
 - II. Apesar da forte oposição de grupos radicais religiosos à retirada da população israelense da faixa de Gaza, a maioria da população daquele país foi a favor do ato.
 - III. Compõe um dos focos das estratégias do Plano de Paz a retirada da população judia da cidade de Jerusalém.
 - IV. Ao longo do tempo, a permanência da minoria judaica na faixa de Gaza tornou-se problemática em decorrência da presença de mais de um milhão de palestinos na região.
- Estão corretas apenas as afirmativas:
- a) I e II.
 - b) II e III.
 - c) III e IV.
 - d) I, II e IV.
 - e) I, III e IV.

9) (Fuvest-2003) Analise o mapa.



a) Por que Israel recebeu um grande volume de investimentos militares dos Estados Unidos neste período?

b) Aponte e explique uma característica atual das relações entre os Estados Unidos e Israel.

10) (VUNESP-2007) As expressões “selvagens”, “bárbaros” ou “inferiores”, em um mundo interligado por comunicações instantâneas e pela intensificação do comércio global, têm sido utilizadas para justificar a intolerância étnico-cultural e religiosa e como pretexto para intervenções bélicas dominadoras. Observe o mapa.



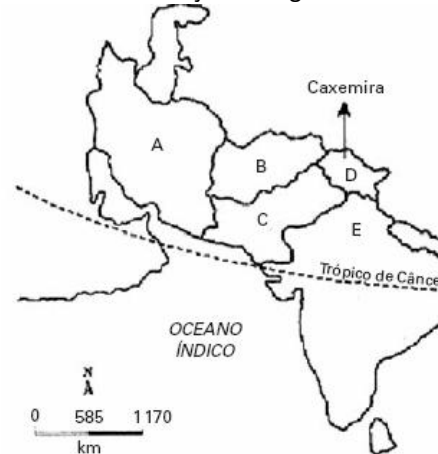
Identifique a questão geopolítica que perdura por seis décadas, discorrendo sobre suas causas.

11) (FMTM-2005) Ataques coordenados contra 20 oleodutos no sul do país fizeram com que a exportação de petróleo da região fosse reduzida à metade. Os dutos que ligam os poços petrolíferos de Rumeila a Berjasiya foram incendiados por rebeldes para prejudicar os esforços de reconstrução do país. As ameaças contra a infra-estrutura petrolífera aumentaram recentemente em meio ao violento levante de militantes xiitas no sul do país. (O Estado de S.Paulo, 27.08.2004)

A partir de seus conhecimentos geográficos e das informações contidas no texto, pode-se afirmar que essa série de problemas estão ocorrendo

- (A) no Afeganistão.
- (B) na Rússia.
- (C) na Nigéria.
- (D) no Iraque.
- (E) na Argélia.

12) (Mack-2006) Com base no mapa abaixo, faça uma análise das afirmações a seguir.



- I. O país **A**, em 2002, foi nominalmente acusado de ser integrante do **eixo do mal** (em conjunto com Coreia do Norte e Iraque), pelo governo dos Estados Unidos, devido à desconfiança de ter realizado investimentos em projetos para produção de armas nucleares.
- II. Com os atentados de 11 de setembro, os Estados Unidos exigiram que o país **B**, por intermédio do Taliban, entregasse Osama Bin Laden, acusado de ser o grande mentor e mandante dos ataques.
- III. Com a independência em 1947 e a saída das tropas francesas, os antigos conflitos entre muçulmanos e hindus vieram à tona. Dessa forma, a Índia colonial foi dividida em dois países: Paquistão (país **C**), com população predominantemente muçulmana, e Índia (país **E**), de maioria hinduísta. Na região fronteiriça do norte, encontramos uma grande tensão entre os dois países pela disputa da Caxemira.

É correto o que se afirma em:

- a) I, apenas.
- b) I e II, apenas.
- c) II, apenas.
- d) III, apenas.
- e) I, II e III.

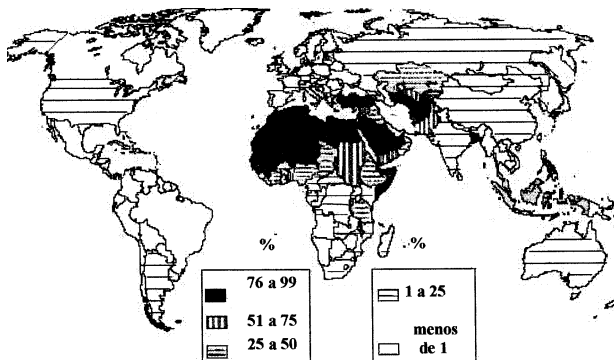
13) (Mack-2001) Com certeza não existe outro ícone maior da dificuldade de convivência humana do que a cidade de Jerusalém. Fundada há 3.000 anos, era um projeto. Seu nome o revelava: “cidade da plenitude” ou “cidade da paz”. E o projeto deu certo. Não exatamente por ter trazido a paz em sua história, muito pelo contrário, mas por ter sintetizado a dificuldade humana em obtê-la. Jerusalém se transformou em símbolo de triunfo, e se há algo que a paz não é, é ser fruto do triunfo.

(Folha de São Paulo — 07/08/2000)

Sobre o assunto é INCORRETO afirmar que:

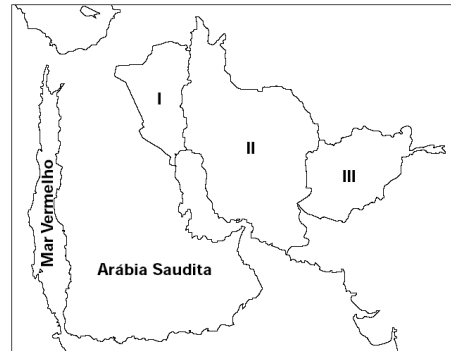
- o “triunfo” referido no texto diz respeito às vitórias militares que resultaram na supremacia de Israel, que inviabilizou a instalação de um Estado Palestino na região.
- a “dificuldade de convivência humana” refere-se aos constantes conflitos entre as populações de origem árabe e judaica que habitam a região.
- a afirmação “o projeto deu certo” refere-se convivência pacífica e harmônica em Jerusalém entre os praticantes das três grandes religiões monoteístas: o Judaísmo, o Cristianismo e o Islamismo.
- “Se há algo que a paz não é, é ser fruto do triunfo”, significa que a hegemonia israelense na região gerou frustrações na população de origem árabe, provocando atos terroristas.
- o texto todo reflete a preocupação provocada pelas dificuldades de se encontrar uma solução pacífica para o problema palestino.

14) (FGV-2003) Considerando os conhecimentos sobre a distribuição dos grupos políticos e religiosos pode-se afirmar que a população representada no mapa corresponde aos:



- muçulmanos do grupo sunita, concentrados predominantemente em países da África do Norte e do Oriente Médio.
- curdos, repartidos em diferentes países do mundo e identificados como povo pela cultura, história, ancestralidade e língua.
- muçulmanos do grupo xiita, radicais defensores do sistema de eleição contra a hereditariedade do poder político no Oriente Médio.
- curdos e drusos, povos indo-europeus concentrados no Oriente Médio, com pequena expressão nos países africanos do Magreb.
- islâmicos animistas, grupos religiosos concentrados na África Negra, que atribuem a existência de espíritos a todos os seres da natureza

15) (Mack-2000) Considere as afirmações abaixo, sobre os países I, II e III identificados no mapa.



- Dominado por uma ditadura pessoal, sofre bloqueio econômico que dificulta suas exportações de petróleo.
- Controlado politicamente pelo clero islâmico, atravessa um momento de disputa política entre “fundamentalistas” e “liberais”.
- Antes vinculado politicamente à ex-URSS, hoje é dominado por grupos islâmicos ultra-radicais.

I, II e III correspondem, respectivamente, a:

- Iraque, Irã e Afeganistão.
- Arábia Saudita, Turquia e Jordânia.
- Iraque, Arábia Saudita e Paquistão.
- Kwait, Irã e Iraque.
- Iraque, Arábia Saudita e Irã.

16) (ENEM-2007) Em 1947, a Organização das Nações Unidas (ONU) aprovou um plano de partilha da Palestina que previa a criação de dois Estados: um judeu e outro palestino. A recusa árabe em aceitar a decisão conduziu ao primeiro conflito entre Israel e países árabes. A segunda guerra (Suez, 1956) decorreu da decisão egípcia de nacionalizar o canal, ato que atingia interesses anglofranceses e israelenses. Vitorioso, Israel passou a controlar a Península do Sinai. O terceiro conflito árabe-israelense (1967) ficou conhecido como Guerra dos Seis Dias, tal a rapidez da vitória de Israel.

Em 6 de outubro de 1973, quando os judeus comemoravam o Yom Kippur (Dia do Perdão), forças egípcias e sírias atacaram de surpresa Israel, que revidou de forma arrasadora. A intervenção americano-soviética impôs o cessar-fogo, concluído em 22 de outubro.

A partir do texto acima, assinale a opção correta.

- A primeira guerra árabe-israelense foi determinada pela ação bélica de tradicionais potências européias no Oriente Médio.
- Na segunda metade dos anos 1960, quando explodiu a terceira guerra árabe-israelense, Israel obteve rápida vitória.
- A guerra do Yom Kippur ocorreu no momento em que, a partir de decisão da ONU, foi oficialmente instalado o Estado de Israel.
- A ação dos governos de Washington e de Moscou foi decisiva para o cessar-fogo que pôs fim ao primeiro conflito árabe-israelense.

e) Apesar das sucessivas vitórias militares, Israel mantém suas dimensões territoriais tal como estabelecido pela resolução de 1947 aprovada pela ONU.

17) (UnB-1998) Em 1955, a crise de Suez foi precipitada por dois problemas relativos à água: a exploração do no Jordão e a construção da barragem de Assuã. Hoje em dia, a explosão demográfica e o desenvolvimento fazem com que as obras hidráulicas e a partilha das águas sejam um assunto vital nesta região constantemente ameaçada de seca. Desde 1953, israelenses e árabes se confrontam acerca da partilha das águas do Jordão, que em seu trecho Norte corresponde à linha de armistício. Daqui até o ano 2000 o déficit hídrico de Israel poderá crescer em 30%; ora, o país obtém 40% de seus recursos de água potável nos territórios ocupados (Cisjordânia, Golan e Gaza). Parece, portanto, que a restituição desses territórios será problemática, considerando as dificuldades de abastecimento de água já enfrentadas atualmente pelo Estado judaico. O Sul do Líbano, visando controlar as águas do Litani, também entra no quadro desta hidropolítica. O Egito tem um déficit hídrico de quase 20 bilhões de metros cúbicos. A Península Arábica, que também sofre de seca crônica, produz 90% de toda a água dessalinizada do mundo. As barragens turcas do sudoeste da Anatólia acumulam água confiscada ao Tigre e ao Eufrates, para grande indignação da Síria e do Iraque, obedecendo também a considerações geopolíticas: as barragens devem favorecer o controle dessa região curda, graças à implantação maciça de camponeses turcos.

Françóis Massoulié Os conflitos do Oriente Médio SP. Ática 1996 (com adaptações).

Julgue os itens que se seguem, referentes ao tema abordado no texto, colocando VERDADEIRO ou FALSO:

- A) Os conflitos no Oriente Médio são causados principalmente pelos problemas hídricos.
- B) A disputa pela água está restrita apenas a Israel e aos países árabes a ele limítrofes.
- C) A "água dessalinizada" é água que originalmente possuía um alto conteúdo de sais e que foi tratada, de forma a eliminá-los e torná-la potável.
- D) O controle dos recursos naturais constitui uma estratégia geopolítica.

18) (IBMEC-2006) Em 2006, o grupo Hamas venceu as eleições na Palestina. Sobre esse grupo é **correto** afirmar que:

- a) foi criado por Iasser Arafat na primeira Intifada, sempre esteve dividido entre um braço político e outro armado. Enquanto o braço armado foi responsável por atentados contra Israel, o braço político disputa eleições parlamentares.
- b) surgiu em 1987, no início da primeira Intifada, com o objetivo de combater a ocupação israelense. Ao longo de sua história cometeu uma série de atentados suicidas

contra alvos israelenses, sendo considerado um grupo terrorista.

- c) foi grande fiador político dos Acordos de Oslo entre os palestinos. Seu fundador, o Sheikh Yassin, empenhou-se pelas conversações com Israel e Estados Unidos, opondo-se ao grupo Fatah.
- d) surgiu na segunda Intifada como um movimento de resistência islâmica para lutar contra a existência do estado de Israel. Atentados suicidas foram cometidos pelo braço armado do grupo, as brigadas de Al-Aqsa.
- e) surgiu como um grupo armado de resistência à ocupação israelense, mas abandonou os atentados suicidas após a retirada de colonos israelenses da Faixa de Gaza, voltando-se para a ação política.

- 19) (PUC - SP-2006)** Em 25 de janeiro de 2006, o Hamas, grupo político palestino de posições e ações mais extremas, venceu as eleições para o parlamento Palestino derrotando o Fatah (considerado mais moderado), ligado à OLP e a Yasser Arafat, líder que faleceu em 2004. Essa vitória levou, entre outras coisas, à interrupção da ajuda financeira à região por parte de alguns países e organizações, entre os quais a União Européia. Essa reação se deve, sobretudo, ao fato de que o Hamas
- A) firmou tratados de paz e de cooperação econômica com Israel, dispensando, portanto, ajuda humanitária do ocidente.
 - B) ascendeu como um movimento que tem práticas terroristas, cujo principal objetivo é a eliminação do Estado de Israel.
 - C) tem íntimas relações com o Irã e a Arábia Saudita, os quais passaram a fornecer vultosos empréstimos financeiros e apoio militar e energético para a Palestina.
 - D) recusa qualquer ajuda financeira que tenha origem no ocidente cristão, por ser um partido de ex esquerda islâmico.
 - E) organizou vários atentados terroristas na Europa e nos EUA, segundo a União Européia.

20) (Vunesp-2004) Em classificação da Unesco (2003) sobre a disponibilidade mundial de água per capita, dentre as áreas mais pobres figuram o Kuwait com 10m³/habitante e Emirados Árabes Unidos com 58m³/habitante. Assinale a alternativa que contém o tipo climático e as características da precipitação responsáveis pela disponibilidade de água nesses países.

- A) Árido frio e seco; precipitação escassa e concentrada.
- B) Tropical quente e seco; precipitação baixa e bem distribuída.
- C) Equatorial quente e seco; precipitação elevada e mal distribuída.
- D) Desértico quente e seco; precipitação escassa e mal distribuída.

E) Monçônico frio e seco; precipitação escassa e concentrada.

21) (PUC-MG-2002) Islamismo e fundamentalismo islâmico têm sido utilizados como expressões sinônimas, com certa frequência, nos meios de comunicação. Entretanto, estão longe de constituir exatamente a mesma coisa. Dentre as afirmações abaixo, aquela que **NÃO** apresenta análise correta da questão islâmica é:

- a) o islamismo tem sido utilizado como uma resposta às políticas imperialistas internacionais na região do Oriente Médio.
- b) o islamismo é uma religião exclusiva de povos árabes do Oriente Médio e norte da África.
- c) o fundamentalismo islâmico se relaciona à leitura literal do Corão, aplicando-a, inclusive, às questões políticas.
- d) o fundamentalismo islâmico surge como uma resposta à ausência de possibilidades de negociação para as questões políticas e sociais regionais.

22) (FMTM-2005) Leia as afirmações.

- I. Em fevereiro de 2005, ocorreu a chamada Revolução dos Cedros, quando milhares de pessoas – cristãos maronitas, drusos, sunitas – tomaram as ruas centrais da capital para exigir a renúncia do governo imposto pela Síria e a própria retirada das tropas sírias estabelecidas no país desde 1976.
- II. Em março de 2005, houve uma contra-revolução, ou seja, outra passeata tomou as ruas da capital, mas desta vez para demonstrar apoio à Síria e detratar Israel e os EUA.

As afirmações referem-se ao seguinte país:

- (A) Turquia.
- (B) Iraque.
- (C) Afeganistão.
- (D) Egito.
- (E) Líbano.

23) (UNIFESP-2003) Leia as frases seguintes, sobre as dificuldades para a paz entre Israel e a Palestina.

- I. Destino de 3 milhões de refugiados palestinos dispersos pelos países vizinhos.
- II. Controle do Rio Jordão a partir das colinas de Golã, que estão sob domínio da Síria.
- III. Fim da Intifada, movimento de judeus pela aceitação do acordo de Oslo.
- IV. Definição da situação de Jerusalém, apontada como capital por judeus e considerada sagrada pelos palestinos.
- V. Presença de colônias judaicas em áreas destinadas ao estado Palestino.

Está correto o que se afirma em:

- (A) I, II e IV, apenas.
- (B) I, III e V, apenas.
- (C) I, IV e V, apenas.
- (D) II, III e IV, apenas.
- (E) II, III e V, apenas.

24) (Fatec-1995) Leia com atenção as afirmações a seguir.

- I. Localização das maiores reservas petrolíferas do planeta.
- II. Homogeneidade de línguas e religiões.
- III. Existência de povos sem territórios nacionais.
- IV. Predomínio de estruturas políticas arcaicas e tradicionais.

Caracterizam a atual situação do Oriente Médio a(s) assertiva(s):

- a) I, apenas.
- b) II e III.
- c) I, III e IV
- d) I, II e IV.
- e) III, apenas.

25) (UEPB-2006) Mahmoud Ahmadinejad, presidente eleito do Irã no segundo turno, quando “prefeito (de Teerã), mandou fechar lanchonetes de fast-food e obrigou todos os funcionários homens da prefeitura a usar barba e vestir camisas de mangas compridas. [...] Também defende o programa nuclear...”
BBCBRASIL.com, em 25/06/2005.

As eleições realizadas no Irã, com a vitória de Mahmoud Ahmadinejad, confirmam:

- I. Que a democratização do país encerra a era dos aiatolás e inicia para as mulheres uma efetiva participação na política e nos demais setores da sociedade iraniana.
- II. Que, após três décadas de regime conservador, a população iraniana decidiu eleger um candidato moderado e buscar uma aproximação com o governo americano.
- III. Que a postura conservadora do presidente iraniano e seu empenho em continuar com o programa nuclear provavelmente dificultarão ainda mais uma reaproximação do Irã com o Ocidente, sobretudo com os EUA.

IV. Que o desejo de manter as conquistas sociais e estabilidade econômica foi o principal motivo que levou a população iraniana a eleger um presidente moderado.

Está(ão) correta(s) apenas a(s) proposição(ões):

- a) I, III e IV
- b) II
- c) I e II
- d) III e IV
- e) III

26) (Mack-2004) No ano 2.000, o Primeiro Ministro de Israel, Ehud Barak, propôs aos palestinos o controle integral da Faixa de Gaza e 90% da Cisjordânia, mas se

recusou a entregar Jerusalém Oriental, área que os palestinos reivindicam como capital, o que criou um impasse. Em setembro do mesmo ano, o então general Ariel Sharon entrou ostensivamente na Esplanada das Mesquitas em Jerusalém, afirmando a soberania israelense sobre o terceiro local mais sagrado do Islã e promovendo a segunda Intifada entre os muçulmanos.

Dentre as medidas propostas por Israel para resolver o problema palestino, destaca-se:

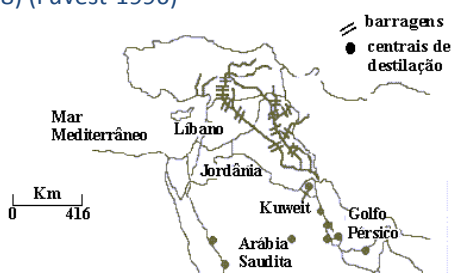
- a) a construção de um muro que separaria as áreas ocupadas pelos palestinos do território israelense, visando dificultar ações terroristas.
- b) a remoção total dos colonos judeus assentados em territórios palestinos.
- c) o cumprimento integral das resoluções da ONU sobre a área.
- d) a aceitação da existência de um Estado Palestino, com a capital em Thaifa.
- e) a formação, pela Síria, Líbano e Egito, de uma comissão internacional formada para traçar as fronteiras de um futuro Estado Palestino.

27) (Fuvest-2004) No livro Xogun (James Clavel, 1986), ficção ambientada no século XVI, existe uma passagem na qual o navegador inglês Blackthorne, recém-chegado ao Japão, fez um mapa-mundi na areia, tentando explicar ao líder Toranaga o lugar de onde veio, o caminho que percorreu, cruzando o Oceano Atlântico, passando pelo extremo sul do continente americano, cruzando o Oceano Pacífico, até chegar à ilha do Japão. Blackthorne conta a Toranaga que conseguiu um **portulano** português, uma espécie de **mapa secreto**, para poder passar pelo estreito de Magalhães. Toranaga quis continuar a conversa, pois ficou impressionado com a importância dos portulanos e com o tamanho diminuto do Japão. Percebeu imediatamente que Blackthorne tinha informações interessantes a ele.

Inspirando-se na passagem relatada,

- a) explique como a localização geográfica continua sendo conhecimento estratégico para a geopolítica contemporânea.
- b) associe o texto e a explicação à situação atual da Palestina.

28) (Fuvest-1996)



No Oriente Médio, a água é uma fonte da vida e de conflitos. Alguns países têm condições de obtê-la de fontes naturais outros precisam destilar a água do mar para poder usá-la.

O mapa permite a análise de várias relações, dentre as quais apenas é correto dizer que

- a) a Turquia tem o "controle" da água por ter em seu território as nascentes dos rios Tigre e Eufrates.
- b) as lutas mais sangrentas na região visam ao domínio do Mar Morto, principal fonte de água potável para Israel e Líbano.
- c) os curdos, dominando a região entre Turquia, Síria e Iraque, são os que mantêm o real controle das águas.
- d) o Irã e Omã, situados na foz do Tigre e do Eufrates, são privilegiados por disporem de grande volume de água doce.
- e) as barragens do Tigre construídas no Iraque anulam a importância de sua nascente se situar na Síria

29) (UNIFESP-2005) Nos Jogos Olímpicos de Atenas de 2004, um judoca iraniano se recusou a lutar com um atleta israelense, apesar de ser um dos favoritos à medalha de ouro. Com essa atitude, ele reafirmou

- A) o Alcorão, que proíbe o contato físico com seguidores de outra religião.
- B) o fair-play, princípio olímpico definido pelo Barão de Coubertin.
- C) a política externa iraniana, que é contra a manutenção do estado de Israel.
- D) o espírito olímpico, que proíbe guerra entre países durante os jogos.
- E) a decisão do Conselho de Segurança da ONU, que aprovou um embargo à Israel.

30) (Fuvest-2004) O aumento do número de mortes de soldados das forças de ocupação do Iraque, mesmo após o anúncio do final da guerra pelo governo dos Estados Unidos, deve-se à:

- a) participação tardia da Rússia, que procurou salvaguardar seus interesses geopolíticos na região.
- b) reação da população iraquiana, que não aceita a presença de estrangeiros no país.
- c) redução do efetivo militar norte-americano para cortar as despesas com a ocupação.
- d) ação da inteligência norte-americana, que conseguiu isolar os dirigentes procurados, sem destruir as cidades.
- e) maior vulnerabilidade da população em função da ausência de governo local.

31) (FGV-2004) O Azerbaijão é conhecido atualmente como o novo Kuwait. Com o Cazaquistão e o Turcomenistão, possui mais petróleo que o Golfo Pérsico.

A fronteira das regiões produtoras de petróleo está se deslocando para a Ásia Central.

Nelson Bacic Olic. In www.comciencia.br/reportagens/petroleo.

Na Ásia Central, as cobiçadas reservas de petróleo estão concentradas no(s):

- Lago Baikal.
- Mar Cáspio.
- Montes Urais.
- Balcãs.
- Mar Negro.

32) (ESPM-2006) O cenário político no Oriente Médio foi afetado no primeiro semestre de 2006 com o resultado de duas eleições:

entre os palestinos e em Israel. Quanto aos resultados do pleito na Palestina em janeiro e em Israel em março é correto afirmar que:

- Entre os palestinos saiu vitorioso o Hamas, considerado um grupo terrorista pelos Estados Unidos e por Israel; já em Israel venceu o Kadima, partido há pouco criado pelo ex-premiê Ariel Sharon.
- Entre os palestinos venceu o Fatah, consolidando a hegemonia dos partidários do falecido Iasser Arafat; em Israel a vitória pertenceu ao Likud de Benjamin Netanyahu.
- Entre os palestinos venceu o Jihad Islâmico, o que intensificou as ações de homens bombas e os ataques contra alvos israelenses; em Israel a vitória foi do Partido Trabalhista liderado por Amir Peretz.
- Entre os palestinos, a vitória foi do Fatah liderado por Mahmoud Abbas; em Israel a vitória foi do Kadima, novo partido liderado por Ehud Olmert.
- Entre os palestinos a vitória foi do Hamas, apoiado por sírios e iranianos; em Israel a vitória foi do Partido Trabalhista liderado por Shimon Peres, Nobel da Paz de 1993.

33) (ENEM-2009) O clima é um dos elementos fundamentais não só na caracterização das paisagens naturais, mas também no histórico de ocupação do espaço geográfico.

Tendo em vista determinada restrição climática, a figura que representa o uso de tecnologia voltada para a produção é:



Exploração vinícola no Chile




Pequena agricultura praticada em região andina



Parque de engorda de bovinos nos EUA



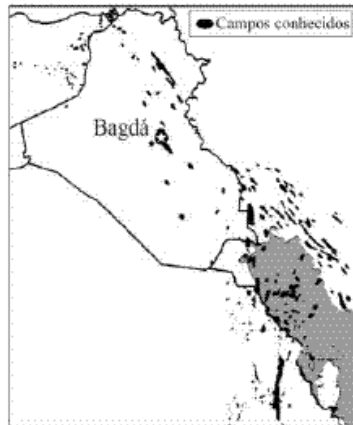
Zonas irrigadas por aspersão na Arábia Saudita



Parque eólico na Califórnia

34) (Vunesp-2004) O mapa representa a área que contém cerca de 60% de todo o petróleo mundial (mais de 600 bilhões de barris), com uma produção de 21 milhões de barris/dia, em território composto por cinco países islâmicos.

PETRÓLEO: CAMPOS CONHECIDOS.



Assinale a alternativa que contém tais países e a denominação dada a esta área do globo.

- A) Catar, Kuwait, Arábia Saudita, Irã, Iraque: Golfo Pérsico.
- B) México, Venezuela, Costa Rica, Estados Unidos, Guatemala: Golfo do México.
- C) Índia, Paquistão, Afeganistão, Kuwait, Iraque: Golfo de Bengala.
- D) Nigéria, Marrocos, Gana, Iraque, Kuwait: Golfo da Guiné.
- E) Birmânia, Tailândia, Nepal, Arábia Saudita, Irã: Golfo de Aden.

35) (UNICAMP-1996) O nome do francês Ferdinand de Lesseps está intimamente ligado à construção de dois canais oceânicos artificiais.

- a) Quais são esses canais?
- b) Qual é a importância geo-estratégica desses canais?

36) (Vunesp-1997) O Oriente Médio é uma área estratégica do mundo atual, não só por ser uma região de passagem entre a Europa, a Ásia e a África, mas também por possuir mais da metade das reservas de petróleo do mundo. Esta riqueza não está igualmente distribuída pelos países que o constituem. Considere estas informações e responda.

- a) Quais os países do Oriente Médio que possuem as maiores reservas de petróleo? Por que a maioria de suas populações não se beneficia igualmente das divisas geradas por este importante recurso?
- b) Por que Arábia Saudita e Irã disputam a soberania sobre o Estreito de Ormuz?

37) (UFSCar-2007) O Oriente Médio é, historicamente, zona de tensões entre povos, nações e países. Em 2006, ocorreram conflitos armados nas fronteiras de Israel, Palestina e Líbano, envolvendo exército e grupos armados. Sobre os conflitos, analise as afirmações seguintes.

I. O grupo Hamas, acusado por Israel pela morte e seqüestro de soldados na região da Faixa de Gaza, é um movimento que luta pela formação do Estado

Independente da Palestina e se opõe à existência do Estado de Israel.

II. O grupo Hezbollah luta pela desocupação israelense nos territórios de Gaza e Golã e pela demarcação de Jerusalém como território independente, devido à sua importância religiosa para católicos, judeus e muçulmanos.

III. Além dos conflitos de ordem histórica, religiosa e política, a região apresenta tensões decorrentes da escassez de recursos hídricos, como o interesse no controle das nascentes do rio Jordão.

IV. Uma das zonas de tensão é a fronteira do Líbano, onde se encontram as nascentes do rio Jordão, área estratégica para o acesso e controle da água doce disponível na região.

Estão corretas as afirmações:

- a) I e III, apenas.
- b) I e IV, apenas.
- c) II e III, apenas.
- d) III e IV, apenas.
- e) II e IV, apenas.

38) (UFMG-1998)



O processo de paz no Oriente Médio entre palestinos e judeus, nos últimos dois anos, tem encontrado obstáculos. Além daqueles decorrentes da linha política do atual governo de Israel e que dizem respeito a toda a região, há os localizados em áreas específicas do país.

- a) Cite um obstáculo às negociações de paz decorrentes da política do atual governo de Israel. Observe as áreas 1 e 2 assinaladas no mapa.
- b) Explique a natureza do problema específico das mesmas.

39) (IBMEC-2006) O Tratado de Não-Proliferação Nuclear, TNP, foi assinado em 1968 e enfrenta agora um teste difícil. O Irã tornou-se o centro das preocupações mundiais ao decidir retomar seu programa nuclear. Sobre o TNP e o contexto da crise do Irã, é **correto** afirmar que:

- a) O Irã retirou-se do Tratado de Não-Proliferação Nuclear em 1993 e, desde então, manteve-se afastado de qualquer tipo de pesquisa nuclear. Em 2006 retomou esse processo

afrontando os signatários do tratado e por isso foi denunciado ao Conselho de Segurança da ONU.

b) O Irã alega que tem o direito de fazer sua bomba citando os casos de Israel, Paquistão e Índia. Esses países são signatários do Tratado de Não-Proliferação Nuclear e conseguiram desenvolver suas bombas atômicas porque fizeram isso antes da existência do tratado.

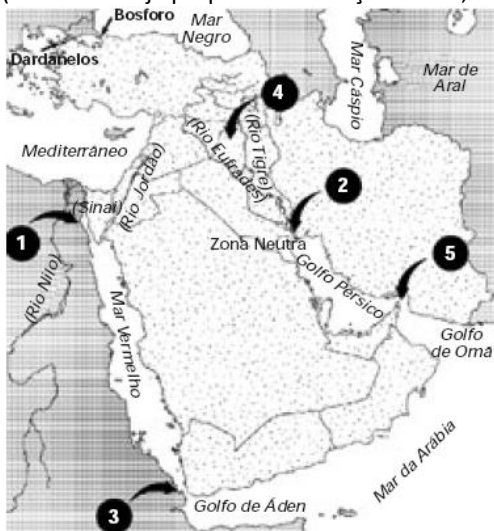
c) Ao contrário do Irã, a Coreia do Norte nunca assinou o Tratado de Não-Proliferação Nuclear, e nada indicava que dominasse essa tecnologia. No entanto, em 2003, a Agência Internacional de Energia Atômica, AIEA, descobriu que o país tinha instalações nucleares.

d) O Brasil é signatário do Tratado de Não-Proliferação Nuclear desde a sua criação em 1968. Na década de 1970, no entanto, assinou um acordo nuclear com a Alemanha que foi supervisionado pela Agência Internacional de Energia Atômica.

e) O Irã alega que tem o direito de produzir um ciclo de combustível para energia nuclear, mas, como escondeu seu programa de enriquecimento de urânio, foi levado ao Conselho de Segurança da ONU pela Agência Internacional de Energia Atômica.

40) (ESPM-2006) Observe a afirmação e o mapa a seguir: 40% da produção de petróleo passa pelo estreito de, controlado pelo Irã.


(Casa Branca já prepara intervenção no Irã, FSP, 16/04/06)



De acordo com o mapa e seus conhecimentos, o nome e a localidade do estreito em questão é:

- Canal de Suez
- Chat el arab
- Gibraltar
- Bab el Mandeb
- Ormuz

41) (FGV-2003) Observe com atenção a seguinte figura:



Sobre a região representada na figura acima, apenas **não** está correta a afirmação contida na alternativa:

região da Mesopotâmia atualmente seca em razão da drenagem de seus pântanos, efetuada pelo governo iraquiano.

região alagada da Palestina, que servia de rota para os iranianos chegarem ao Mar Cáspio.

região entre os rios Tigre e Eufrates, habitada pelos "árabes dos pântanos" até a década de 1990, quando foram atacados com bombas e expulsos pelo governo do Iraque.

região ao sul do Iraque, onde descendentes dos sumérios, uma das culturas mais antigas da Mesopotâmia, viviam uma vida primitiva, parecida com a dos seus ancestrais.

região de pântanos milenares da Mesopotâmia, cuja recente drenagem foi condenada internacionalmente, como um dos maiores crimes ecológicos da atualidade.

42) (UFSCar-2002) Observe o mapa e a legenda

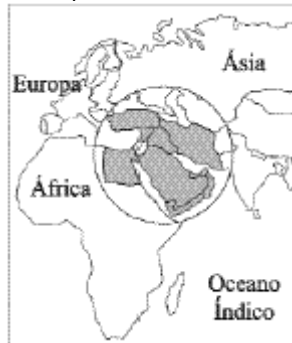


Fonte: IBGE, Censo de 1980 e resultados preliminares do Censo de 2000.

Explique o que é uma civilização.

Qual é a civilização que mais vem se expandindo nas últimas décadas? Mencione dois traços característicos dessa civilização

43) (UFSCar-2004) Observe o mapa.



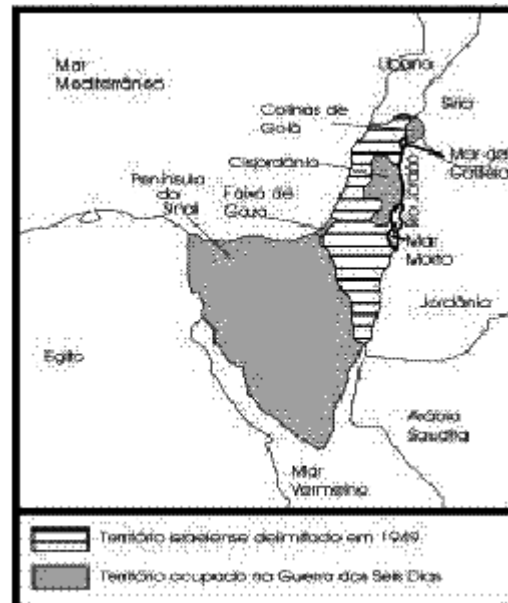
A área em destaque:

	é banhada	tem ocorrência	possui
	predomínio	de clima	
	pelos mares		
	de população de		
A)	Vermelho, Negro e religião islâmica Cáspio	árido	
B)	da Arábia, Báltico e hábitos monoteístas Negro	semi-árido	
C)	Cáspio, Tirreno e semidesértico origem árabe Mediterrâneo		
D)	Mediterrâneo, tradição xiita Vermelho e Aral	desértico	
E)	Amarelo, de Barents maioria turca e Cáspio	seco	

44) (UNICAMP-2004) Para responder a esta questão, leia o trecho abaixo e observe também o mapa:

Indispensável à vida, a água é fonte de poder. O controle dos poços, dos oásis e dos cursos de água tem sido objeto de conflitos políticos e militares na região da bacia do rio Jordão, desde a antiguidade.
(Adaptado de Philippe Le Preste. Eopolítica Internacional. São Paulo: SENAC, 2000, p. 444).

Israel, Países Vizinhos e os Territórios Ocupados na Guerra dos Seis Dias (1967)



Adaptado de www.mw.pro.br/mw/mw.php

- Qual a vantagem obtida pelo Estado de Israel na Guerra dos Seis Dias (1967) no que diz respeito à disputa pelo controle das águas do rio Jordão frente aos países vizinhos?
- Quais são os fatores que explicam a escassez de água na bacia do rio Jordão?
- Dentre os territórios ocupados por Israel na Guerra dos Seis Dias, quais são aqueles que ainda **não** foram total ou parcialmente devolvidos?

- 45) (Fameca-2006) Resultado de acordos entre palestinos e israelenses, determinou que, em agosto de 2005, uma região ocupada por colonos judeus, fosse devolvida aos árabes. Trata-se
- da Cisjordânia.
 - da Faixa de Gaza.
 - das Colinas de Golã.
 - da Península do Sinai.
 - de Jerusalém.

GABARITO

1) Alternativa: D

2) No Mar de Aral, o cultivo do algodão em larga escala acabou por provocar a salinização do solo e a desertificação, pois a prática agrícola foi feita de forma desordenada e sem uma análise criteriosa das condições naturais da região. Já junto ao deserto de Neguev, temos uma exploração racional, minimizando os impactos ao meio ambiente.

3)

4) Alternativa: C

5) Alternativa: D

6) Alternativa: A

7) Alternativa: D

8) Alternativa: D

9) a) A década de 1980 iniciou-se com o conflito Irã-Iraque e a invasão do Afeganistão pela URSS, que só terminaria em 1989. Também neste período houve a consolidação de uma República Islâmica no Irã, apoiada na figura do então Ayatolá Komeini – fato que ameaçou os interesses norte-americanos na região, além de representar um risco para a estabilidade do Estado de Israel. Vale também destacar a questão do petróleo, controlado em grande parte pelos países do Golfo Pérsico.

b) Esses países são aliados na luta contra o terrorismo internacional. E nos últimos anos, o apoio dos EUA não se demonstrou irrestrito e várias foram as tentativas de reconciliação e acordos para a paz entre israelenses e árabes palestinos, intermediados pelos norte-americanos.

10) A QUESTÃO PALESTINA, consiste na disputa iniciada há décadas entre judeus e palestinos pelo mesmo território, no Oriente Médio.

Entre as principais causas desse conflito estão:

EXPANSÃO TERRITORIAL — em 1967, durante a Guerra dos Seis dias, Israel ocupou terras sírias (Colinas do Golã), egípcias (Faixa de Gaza e Península do Sinai) e jordanianas (Cisjordânia). Essa expansão territorial aumentou as rivalidades entre Israel e os povos circunvizinhos;

ATENTADOS TERRORISTAS — palestinos participaram da criação de organizações consideradas terroristas, como Hamas e Hezbollah, que promovem ataques contra alvos israelenses

DIVISÃO TERRITORIAL — em 1947, a ONU dividiu a Palestina em dois novos países: Israel e Palestina. Essa divisão, rejeitada pelos palestinos, resultou numa guerra

que terminou com a vitória israelense e a ocupação total do território palestino por Israel, Egito e Jordânia;

OPRESSÃO CONTRA OS PALESTINOS — reagindo aos ataques terroristas, o governo israelense aumenta a opressão contra palestinos que habitam seu território, submetendo-os a toque de recolher e diminuindo seus direitos civis;

11) Alternativa: D

12) Alternativa: B

13) Alternativa: C

14) Alternativa: A

15) Alternativa: A

16) Alternativa: B

A partir do texto sobre o conflito árabe-israelense, o aluno deveria fazer uma simples interpretação para assinalar o item correto. Dos colocados para a análise, a única correta diz respeito à Guerra dos Seis Dias, conflito que completou quarenta anos em 2007, e que significou a ocupação de diversas áreas árabes pelo exército israelense.

17) V-F-V-V

18) Alternativa: B

19) Alternativa: B

20) Alternativa: D

21) Alternativa: B

22) Alternativa: E

23) Alternativa: C

24) Alternativa: C

25) Alternativa: E

26) Alternativa: A

27) a) O conhecimento da localização geográfica das diferentes áreas de um território funciona como instrumento de planejamento para a sua defesa ou ocupação. Entre essas áreas, podem-se citar alguns estreitos com intensos fluxos comerciais, rios, locais ricos em recursos minerais e energéticos, cidades, estradas, pontes, hidroelétricas, etc.

b) O texto retrata a importância do conhecimento do espaço geográfico estratégico e de seu mapeamento preciso. No caso da Palestina, há uma desigual capacidade de reconhecimento do espaço geográfico e de seu mapeamento, já que Israel tem acesso a tecnologia cartográfica de qualidade superior à de que dispõem os palestinos. A falta de limites precisos para a Palestina é um dos fatores que alimenta a discórdia entre israelenses e palestinos. Na atualidade a Palestina é uma região com delimitações determinadas de diferentes formas, segundo os grupos que a cartografam, o que contribui para o agravamento dos conflitos na região.

28) Alternativa: A

29) Alternativa: C

30) Alternativa: B

31) Alternativa: B

32) Alternativa: A

33) Alternativa: D

34) Alternativa: A

35) Canal de Suez e do Panamá.

O canal de Suez é importante pois facilita o contato entre o Mediterrâneo e o Mar Vermelho, Já o canal do Panamá conecta o oceano Pacífico ao Atlântico.

36) Arábia Saudita, Irã, Iraque e Kuwait. A maioria da população não tem acesso às riquezas geradas pelo petróleo, pois as reservas estão nas mãos de poucas famílias árabes.

O Estreito de Ormuz é uma região estratégica, pois pelo estreito temos a passagem de grande parte do petróleo produzido no Oriente Médio.

37) Alternativa: A

38) a) Dentre as principais dificuldades podemos citar a desocupação de territórios que foram utilizados para a fixação de colonos judeus e a demarcação de novas fronteiras.

b) Nessas regiões temos discórdias pois nelas encontramos tanto judeus como árabes e na Cisjordânia encontramos a cidade de Jerusalém que é sagrada tanto para os judeus, muçulmanos como para os cristãos.

39) Alternativa: E

40) Alternativa: E

41) Alternativa: B

42) a) O conceito de civilização procura retratar uma comunidade onde encontramos uma identidade cultural, social e política entre os seus membros.

b) A civilização que vem apresentando os maiores índices de crescimento é a civilização islâmica. E como características desta civilização podemos citar a reza obrigatória cinco vezes ao dia, a peregrinação pelo menos uma vez na vida a Meca, o jejum obrigatório e o dízimo.

43) Alternativa: A

44) a) Na Guerra dos Seis Dias de 1967, Israel ocupou, entre outros territórios, as colinas de Golã, a nordeste, pertencentes à Síria, e a Cisjordânia, a leste, pertencente à Jordânia. Com isso, passou a controlar, respectivamente, as nascentes e a maior parte da margem direita do Rio Jordão, privando a Síria e a Jordânia de importantes recursos hídricos e de áreas relativamente férteis às suas antigas fronteiras. A disponibilidade de água nessas regiões tornou possível sua ocupação efetiva e colonização, tornando as fronteiras israelenses, nesses pontos, defensáveis.

b) A Bacia do Rio Jordão drena uma área relativamente pequena, onde predomina o clima árido. O Jordão, com curso perene, corre numa falha geológica, região com chuvas escassas, sendo considerado estratégico.

c) Desde 1967, Israel mantém a ocupação

- das **Colinas de Golã**, que pertenceram à Síria.
- da **Cisjordânia**, que deixou de ser reivindicada pela Jordânia em 1988, e foi parcialmente entregue ao controle da ANP, porém reivindicada pelos palestinos árabes.
- **Faixa de Gaza** que, apesar da transferência formal para o controle da ANP em 1994, ainda tem parcial controle israelense.

45) Alternativa: B