



# Estratégia

Militares



# Estratégia

Militares



# AULA 08 – POPULAÇÃO



prof.sauloteruotakami



# CONCEITOS, CRESCIMENTO E DISTRIBUIÇÃO

*Primeira Parte*



prof.sauloteruotakami

# Conceitos

- População Absoluta (População Total)
- População Relativa (Densidade Demográfica)
- Taxa de Natalidade
  - $\text{Número de Nascimentos} \times 1.000 / \text{População Absoluta} = \text{Taxa de Natalidade (\%)}$
- Taxa de Mortalidade
  - $\text{Número de Óbitos} \times 1.000 / \text{População Absoluta} = \text{Taxa de Mortalidade (\%)}$
- Crescimento Vegetativo (Crescimento Natural)
  - $CV = TN - TM$
- Imigração X Emigração
- Crescimento Demográfico (Crescimento Total)
  - $CD = TN - TM + \text{imigração} - \text{emigração}$
- Taxa Geométrica de Crescimento Populacional
- Taxa de Fecundidade
- Taxa de Reposição
- Expectativa de Vida

# Crescimento da População

- Ano 1 d.C.
- I Revolução Industrial
- II Guerra Mundial
- Década de 1980
- A população mundial ainda cresce
- Impactos Ambientais Negativos
- Aumento do número de idosos
- Migrações

Ano	População	Tempo para o próximo bilhão (em anos)
1802	1 bilhão	126
1928	2 bilhões	33
1961	3 bilhões	13
1974	4 bilhões	13
1987	5 bilhões	12
1999	6 bilhões	12
2011	7 bilhões	15
2026	8 bilhões	24
2050	9 bilhões	20
2070	10 bilhões	26

# Distribuição da População

- Ecúmenas
- Anecúmenas

## 01 – (ESA/2014)

As migrações \_\_\_\_\_ são realizadas temporariamente, em uma determinada época do ano. É o caso de trabalhadores rurais que se deslocam em certas épocas do ano (por exemplo na colheita de algum produto) e retornam após alguns meses, com o término do trabalho. O termo (deslocamento populacional) que completa corretamente o texto acima é:

- A) pendulares
- B) sazonais
- C) de êxodo rural
- D) intrarregionais
- E) interregionais



## **01 – (ESA/2014)**

As migrações \_\_\_\_\_ são realizadas temporariamente, em uma determinada época do ano. É o caso de trabalhadores rurais que se deslocam em certas épocas do ano (por exemplo na colheita de algum produto) e retornam após alguns meses, com o término do trabalho. O termo (deslocamento populacional) que completa corretamente o texto acima é:

A) pendulares

**B) sazonais**

C) de êxodo rural

D) intrarregionais

E) interregionais



# TEORIAS DA POPULAÇÃO

*Segunda Parte*



prof.sauloteruotakami

# Principais

- Teoria Malthusiana
- Teoria Neomalthusiana (Alarmista)
- Teoria Reformista (Marxista)
- Ecomalthusiana

<b>Teoria Malthusiana e Neomalthusiana</b>	<b>Teoria Reformista</b>
O crescimento populacional é o responsável pela pobreza	A pobreza é a responsável pelo crescimento populacional

## 02 – (EsPCEEx/2011)

“(…) uma população jovem e numerosa, em virtude de elevadas taxas de natalidade, não é causa, mas consequência do subdesenvolvimento.(…) Foi constatado que quanto maior a escolaridade da mulher, menor é o número de filhos e a taxa de mortalidade infantil.”

<http://www.brasilecola.com> consulta em 05/04/2010

O trecho acima reflete aspectos defendidos pela teoria

- [A] Reformista.
- [B] Malthusiana.
- [C] Neomalthusiana.
- [D] Ecomalthusiana.
- [E] da Explosão Demográfica.

## 02 – (EsPCEEx/2011)

“(…) uma população jovem e numerosa, em virtude de elevadas taxas de natalidade, não é causa, mas consequência do subdesenvolvimento.(…) Foi constatado que quanto maior a escolaridade da mulher, menor é o número de filhos e a taxa de mortalidade infantil.”

<http://www.brasilecola.com> consulta em 05/04/2010

O trecho acima reflete aspectos defendidos pela teoria

**[A] Reformista.**

[B] Malthusiana.

[C] Neomalthusiana.

[D] Ecomalthusiana.

[E] da Explosão Demográfica.



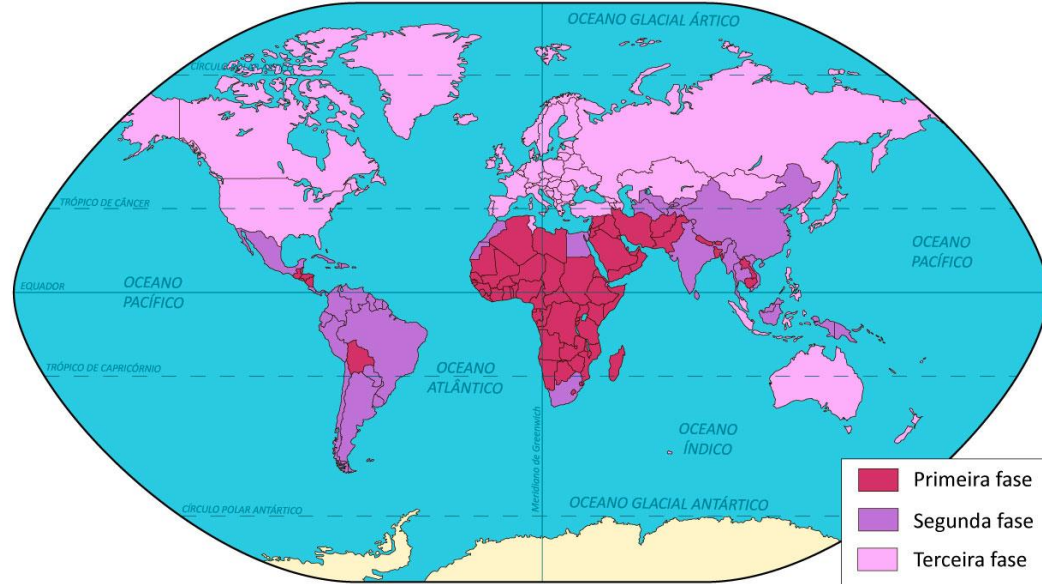
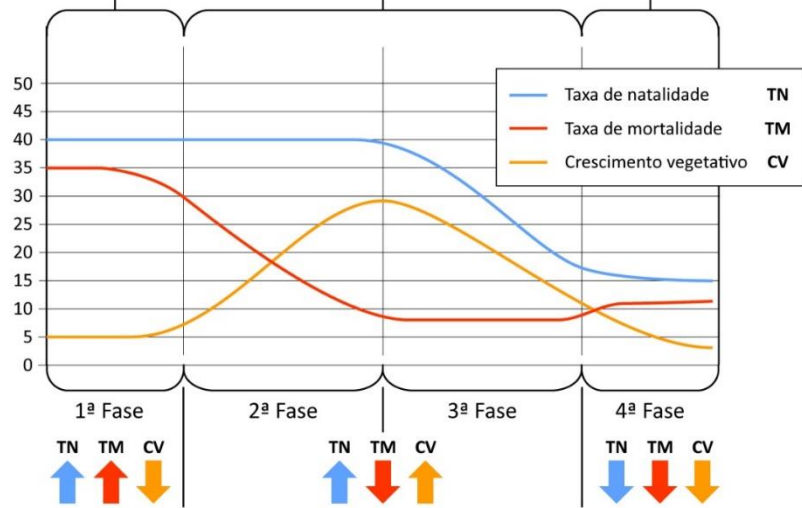
# TRANSIÇÃO DEMOGRÁFICA

*Terceira Parte*



prof.sauloteruotakami

Equilíbrio primitivo      Expansão populacional      Envelhecimento



### 03 – (EsPCEx/2017)

No Brasil observa-se nítido processo de transição demográfica, especialmente nas duas últimas décadas, cujos censos demográficos realizados pelo IBGE revelam

I- aumento da taxa de mortalidade infantil associado à carência dos serviços públicos essenciais no País.

II- estreitamento do corpo da pirâmide etária como resultado da significativa redução do número de jovens.

III- o ingresso do Brasil no período de passagem da chamada “janela demográfica” devido ao significativo aumento percentual da população em idade ativa no País.

IV- aumento do número de óbitos associado ao crescimento absoluto da população e ao aumento da participação percentual de idosos no conjunto total dela.

V- redução da fecundidade, para nível inferior ao preconizado pela Organização das Nações Unidas como taxa de reposição da população, e aumento da esperança de vida da população.

Assinale a alternativa que apresenta todas as afirmativas corretas.

[A] I, II e IV

[B] I, III e IV

[C] I, II e V

[D] II, III e V

[E] III, IV e V



### 03 – (EsPCEx/2017)

No Brasil observa-se nítido processo de transição demográfica, especialmente nas duas últimas décadas, cujos censos demográficos realizados pelo IBGE revelam

I- aumento da taxa de mortalidade infantil associado à carência dos serviços públicos essenciais no País.

II- estreitamento do corpo da pirâmide etária como resultado da significativa redução do número de jovens.

III- o ingresso do Brasil no período de passagem da chamada “janela demográfica” devido ao significativo aumento percentual da população em idade ativa no País.

IV- aumento do número de óbitos associado ao crescimento absoluto da população e ao aumento da participação percentual de idosos no conjunto total dela.

V- redução da fecundidade, para nível inferior ao preconizado pela Organização das Nações Unidas como taxa de reposição da população, e aumento da esperança de vida da população.

Assinale a alternativa que apresenta todas as afirmativas corretas.

[A] I, II e IV

[B] I, III e IV

[C] I, II e V

[D] II, III e V

**[E] III, IV e V**



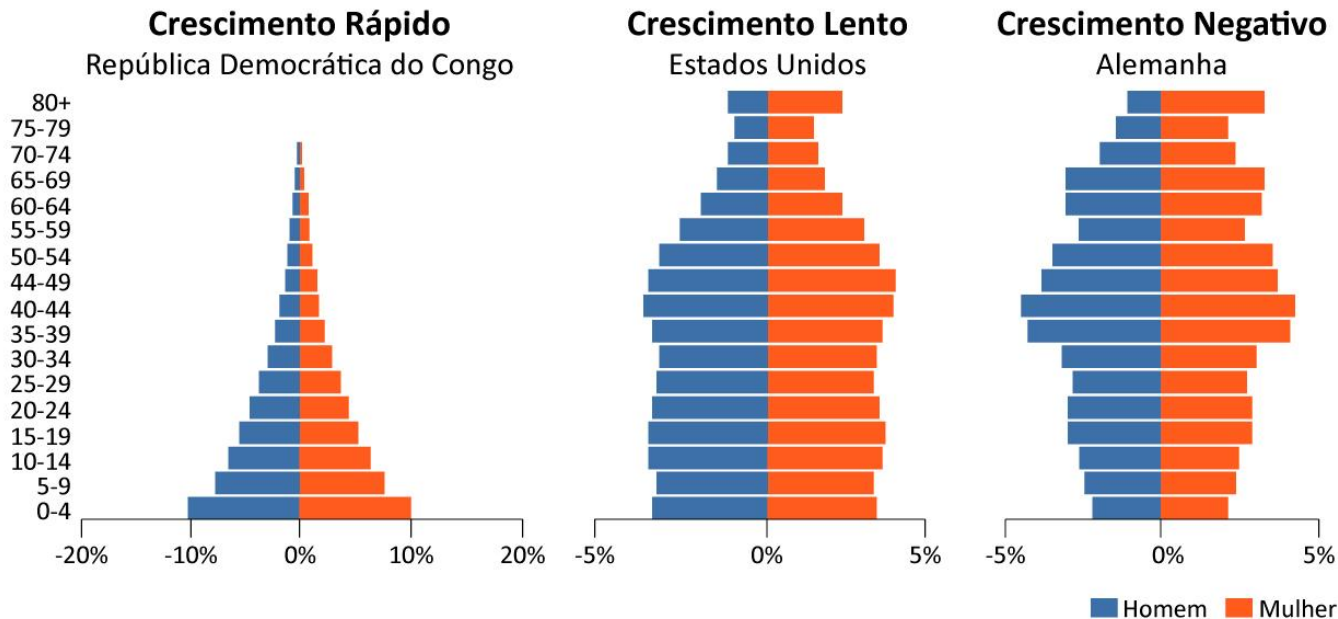
# ESTRUTURA DA POPULAÇÃO

*Quarta Parte*



prof.sauloteruotakami

# Pirâmide Etária



# Setores de Atividades Econômicas

País	Primário	Secundário	Terciário
Estados Unidos	1.12%	19.1%	79.7%
China	6.9%	40.1%	52.9%
Japão	1.2%	27.5%	71.4%
Alemanha	0.8%	28.1%	71.1%
Reino Unido	0.7%	21%	78.3%
França	1.9%	18.3%	79.8%
Índia	17.4%	25.8%	56.9%
Itália	2%	24.2%	73.8%
Brasil	5.4%	27.4%	67.2%
Canadá	1.8%	28.6%	69.6%
Coreia do Sul	2.7%	39.8%	57.5%
Rússia	3.9%	36%	60.1%
Austrália	4%	26.6%	69.4%
Espanha	3.3%	24.2%	72.6%
México	3.7%	34.2%	62.1%
Indonésia	14.3%	46.9%	38.8%
Holanda	2.8%	24.1%	73.2%
Turquia	8.9%	28.1%	63%
Suíça	1.3%	27.7%	71%
Arábia Saudita	2%	66.9%	31.1%

# Estrutura Setorial

- População em Idade Ativa (PIA)
- População em Idade Economicamente Não Ativa (PINA)
- $PIA > PINA$  = Janela Demográfica (Bônus Demográfico)
- População Economicamente Ativa (PEA)
- População Economicamente Inativa (PEI)
  - Desalentado
  - Inativo
- Desemprego Estrutural
- Desemprego Conjuntural (Cíclico)

## 04 – (CN/2017)

Observe a imagem a seguir.

### ÉRAMOS SEIS, SEREMOS TRÊS

A fecundidade da brasileira despencou — em total de filhos por mulher

Em 1960, a brasileira tinha em média 6 filhos      Em 1980, passou para 4 crianças      Em 2000, eram 2 filhos      Em 2020, a média será 1,5



Fonte: <http://3.bp.blogspot.com/-gHbJlpgiD0E/UE5tBDpJM1/AAAAAAAAAC24/fk0jKY5jc00/s1600/fecundidade+brasileira.bmp>

A dinâmica do crescimento da população brasileira se alterou substancialmente ao longo do século XX.

Sobre a transição demográfica brasileira, assinale a opção correta.

- (A) A queda na taxa de fecundidade brasileira está relacionada à crise econômica e às altas taxas de desemprego que atingiram o país durante as décadas de 1980 e 1990.
- (B) A população brasileira aumentou significativamente durante o século XX em virtude da entrada maciça de imigrantes que vieram atender à expansão da demanda de mão de obra industrial.
- (C) O incremento populacional no país durante o século XX pode ser explicado pelo predomínio de políticas de controle de natalidade por parte do governo federal, reconhecidamente neomalthusiano.
- (D) A redução do número de filhos é uma mudança demográfica característica dos países em processo de industrialização devido, essencialmente, aos movimentos nacionais de emancipação feminina.
- (E) A vida urbana apresenta maior custo, um número crescente de mulheres no mercado de trabalho, além da disponibilidade de métodos contraceptivos, o que resulta na redução da taxa de fecundidade.

## 04 – (CN/2017)

Observe a imagem a seguir.

### ÉRAMOS SEIS, SEREMOS TRÊS

A fecundidade da brasileira despencou — em total de filhos por mulher

Em 1960, a brasileira tinha em média 6 filhos      Em 1980, passou para 4 crianças      Em 2000, eram 2 filhos      Em 2020, a média será 1,5



Fonte: <http://3.bp.blogspot.com/-gHbJIpgiD0E/UE5IBDpJM1/AAAAAAAAAC24/fk0jKY5jc00/s1600/fecundidade+brasileira.bmp>

A dinâmica do crescimento da população brasileira se alterou substancialmente ao longo do século XX.

Sobre a transição demográfica brasileira, assinale a opção correta.

- (A) A queda na taxa de fecundidade brasileira está relacionada à crise econômica e às altas taxas de desemprego que atingiram o país durante as décadas de 1980 e 1990.
- (B) A população brasileira aumentou significativamente durante o século XX em virtude da entrada maciça de imigrantes que vieram atender à expansão da demanda de mão de obra industrial.
- (C) O incremento populacional no país durante o século XX pode ser explicado pelo predomínio de políticas de controle de natalidade por parte do governo federal, reconhecidamente neomalthusiano.
- (D) A redução do número de filhos é uma mudança demográfica característica dos países em processo de industrialização devido, essencialmente, aos movimentos nacionais de emancipação feminina. A vida urbana apresenta maior custo, um número crescente de mulheres no mercado de trabalho, além da disponibilidade de métodos contraceptivos, o que resulta na redução da taxa de fecundidade.



# INDICADORES SOCIOECONÔMICOS

*Quinta Parte*



prof.sauloteruotakami

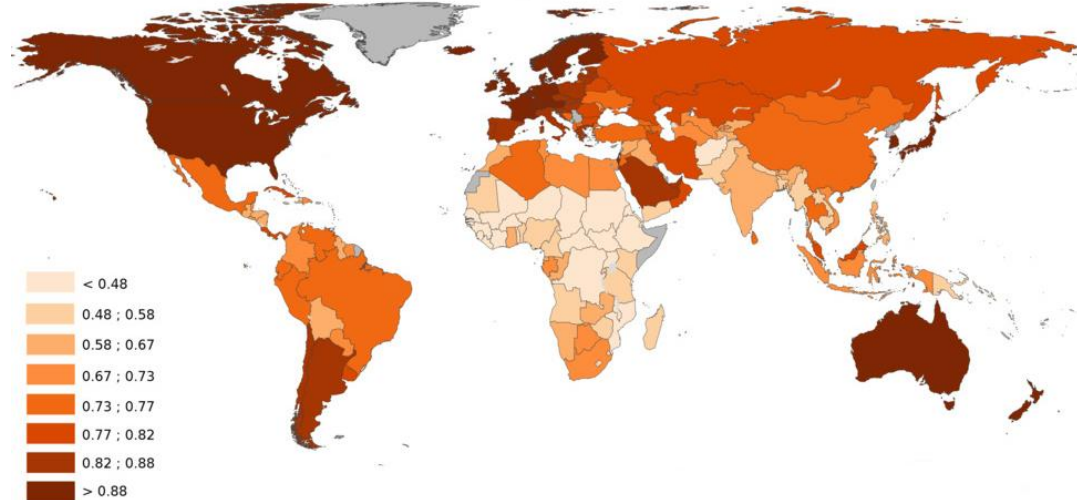


# Índice de Desenvolvimento Humano (IDH)

- Economia
- Saúde
- Educação

País	IDH
Noruega	0,953
Suíça	0,944
Austrália	0,939
Irlanda	0,938
Alemanha	0,936
Islândia	0,935
Hong Kong	0,933
Suécia	0,933
Singapura	0,932
Holanda	0,931

País	IDH
Moçambique	0,437
Libéria	0,435
Mali	0,427
Burkina Faso	0,423
Serra Leoa	0,419
Burundi	0,417
Chade	0,404
Sudão do Sul	0,388
República Centro-Africana	0,367
Níger	0,354



# Coeficiente (Índice) Gini

- Mede o grau de concentração de renda em determinado lugar

País	Gini
África do Sul	0,634
Namíbia	0,610
Botsuana	0,605
Suriname	0,576
Zâmbia	0,571
República Centro Africana	0,562
Lesoto	0,542
Belize	0,533
Suazilândia	0,515
Brasil	0,513

País	Gini
Ucrânia	0,255
Islândia	0,256
Eslovênia	0,257
República Tcheca	0,259
Eslováquia	0,261
Cazaquistão	0,265
Belarus	0,267
Noruega	0,268
Finlândia	0,268
Moldávia	0,270

# Felicidade Interna Bruta (FIB)

- Indica o crescimento de um país por meio dos aspectos familiares, culturais, psicológicos, espirituais, ambientais etc.

Posição	País
1	Finlândia
2	Noruega
3	Dinamarca
4	Islândia
5	Suíça
6	Holanda
7	Canadá
8	Suécia
9	Nova Zelândia
10	Austrália

Posição	País
156	Burundi
155	República Centro Africana
154	Sudão do Sul
153	Tanzânia
152	Iêmen
151	Ruanda
150	Síria
149	Libéria
148	Haiti
147	Malawi

## 05 – (ESA/2014)

O Índice de Desenvolvimento Humano (IDH) é utilizado como referência em estudos comparativos das condições de vida das populações. Seus três grandes indicadores são:

- A) Expectativa de vida ao nascer, nível de instrução e quantidade de trabalhadores abaixo da linha da pobreza.
- B) Nível de instrução, PIB per capita e número de empregos com carteira assinada.
- C) Expectativa de vida ao nascer, PIB per capita e a quantidade de trabalhadores domésticos.
- D) PIB per capita, nível de instrução e taxa de fecundidade.
- E) Expectativa de vida ao nascer, nível de instrução e PIB per capita.

## **05 – (ESA/2014)**

O Índice de Desenvolvimento Humano (IDH) é utilizado como referência em estudos comparativos das condições de vida das populações. Seus três grandes indicadores são:

A) Expectativa de vida ao nascer, nível de instrução e quantidade de trabalhadores abaixo da linha da pobreza.

B) Nível de instrução, PIB per capita e número de empregos com carteira assinada.

C) Expectativa de vida ao nascer, PIB per capita e a quantidade de trabalhadores domésticos.

D) PIB per capita, nível de instrução e taxa de fecundidade.

**E) Expectativa de vida ao nascer, nível de instrução e PIB per capita.**



# MIGRAÇÕES

*Sexta Parte*



prof.sauloteruotakami

# Classificação

- Voluntário (Espontâneo)
- Forçado
- Controlado

# Migrações Internacionais

- Até a década de 1970, a mão de obra barata emigrou
- Nos anos 1990, muitas nações começaram a restringir a entrada de estrangeiros
- Fronteiras cada vez mais militarizadas
- Sul-Norte
- Sul-Sul
- Fuga de Cérebros

País	Imigrantes (número total)
Estados Unidos	46.627.102
Alemanha	12.005.690
Rússia	11.643.276
Arábia Saudita	10.185.945
Reino Unido	8.543.120
Emirados Árabes Unidos	8.095.126
Canadá	7.835.502
Austrália	7.787.057
França	7.784.418
Espanha	6.332.428
<b>Brasil</b>	713.568

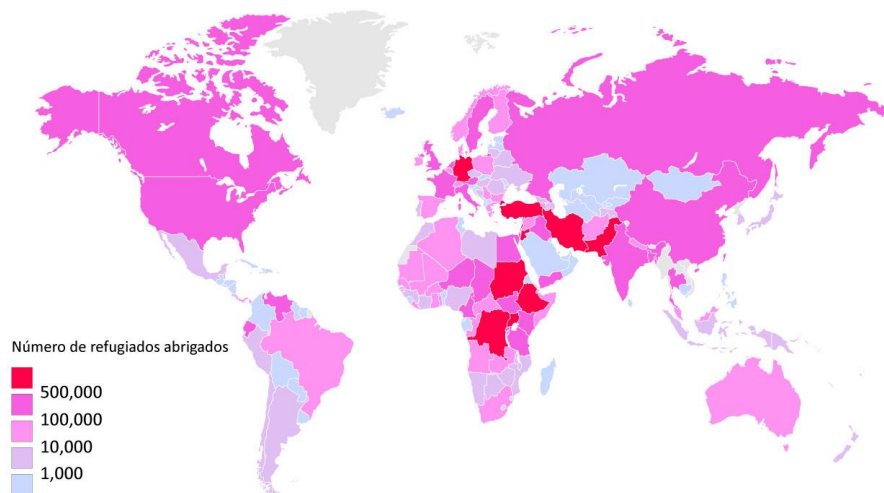
País	Emigrantes (número total)
Índia	25.575.724
México	12.339.062
Rússia	10.576.766
China	9.546.065
Bangladesh	7.205.410
Paquistão	5.935.193
Ucrânia	5.825.745
Filipinas	5.316.320
Síria	5.011.509
Reino Unido	4.917.460
<b>Brasil</b>	1.544.024



# Refugiados

País de Asilo	Nº de Refugiados
Turquia	3.681.685
Jordânia	2.950.529
Faixa de Gaza	2.271.102
Líbano	1.424.592
Paquistão	1.404.019
Uganda	1.165.653
Sudão	1.078.287
Alemanha	1.063.837
Irã	979.435
Bangladesh	906.645

País de Origem	Nº de Refugiados
Síria	3.869.626
Afganistão	2.596.270
Somália	1.106.434
Sudão	659.408
Sudão do Sul	616.143
República Democrática do Congo	516.563
República Centro Africana	410.787
Iraque	369.954
Eritreia	330.541
Paquistão	315.805



# Migrações Internas

- Êxodo Rural
- Transumância
- Pendularidade

## 06 – (ESA/2011)

A população brasileira sempre teve um histórico de grande mobilidade desde a colonização. Cerca de um terço da população brasileira não reside onde nasceu. Entre as características da mobilidade da população nacional na década de 90, está a(o)

- A) queda do movimento migratório interno em direção ao Sudeste.
- B) aumento do crescimento populacional de São Paulo, principal região atratora.
- C) redução drástica da corrente migratória em direção à Amazônia.
- D) involução dos municípios de médio e pequeno porte que tiveram suas populações atraídas pelas metrópoles.
- E) grande onda migratória de sulistas em direção ao Nordeste.

## 06 – (ESA/2011)

A população brasileira sempre teve um histórico de grande mobilidade desde a colonização. Cerca de um terço da população brasileira não reside onde nasceu. Entre as características da mobilidade da população nacional na década de 90, está a(o)

- A) queda do movimento migratório interno em direção ao Sudeste.**
- B) aumento do crescimento populacional de São Paulo, principal região atratora.
- C) redução drástica da corrente migratória em direção à Amazônia.
- D) involução dos municípios de médio e pequeno porte que tiveram suas populações atraídas pelas metrópoles.
- E) grande onda migratória de sulistas em direção ao Nordeste.

Sobre a dinâmica migratória brasileira é correto afirmar que:

- (A) o período mais importante de migrações internas no país se inicia na década de 1930, quando ocorreu o início da aceleração do deslocamento populacional da região Nordeste para o Sudeste, aumentando a concentração urbana.
- (B) entre as décadas de 1950 e 1970, os fluxos migratórios se intensificaram em direção a região Sul, condicionados pelo crescimento do agronegócio ligado a expansão das lavouras de soja.
- (C) a partir dos anos 1970 observou-se um aumento do fluxo populacional da região Norte em direção à região Nordeste, uma vez que a desconcentração industrial nacional promoveu um crescimento vertiginoso em direção a Zona da Mata Nordestina.
- (D) Em função do elevado crescimento industrial da região Sudeste, nos anos 1980, ocorreram intensos fluxos migratórios da região Sul para aquela região, motivados pelas fortes isenções fiscais oferecidas pelos Estados de São Paulo e Rio de Janeiro.
- (E) atualmente a região Norte é aquela que recebe a maioria dos migrantes no país, resultado de políticas oficiais cuja intenção é barrar os contrabandos e o comércio de drogas que vem crescendo na região.

Sobre a dinâmica migratória brasileira é correto afirmar que:

- o período mais importante de migrações internas no país se inicia na década de 1930, quando ocorreu o início da aceleração do deslocamento populacional da região Nordeste para o Sudeste, aumentando a concentração urbana.
- (B) entre as décadas de 1950 e 1970, os fluxos migratórios se intensificaram em direção a região Sul, condicionados pelo crescimento do agronegócio ligado a expansão das lavouras de soja.
- (C) a partir dos anos 1970 observou-se um aumento do fluxo populacional da região Norte em direção à região Nordeste, uma vez que a desconcentração industrial nacional promoveu um crescimento vertiginoso em direção a Zona da Mata Nordestina.
- (D) Em função do elevado crescimento industrial da região Sudeste, nos anos 1980, ocorreram intensos fluxos migratórios da região Sul para aquela região, motivados pelas fortes isenções fiscais oferecidas pelos Estados de São Paulo e Rio de Janeiro.
- (E) atualmente a região Norte é aquela que recebe a maioria dos migrantes no país, resultado de políticas oficiais cuja intenção é barrar os contrabandos e o comércio de drogas que vem crescendo na região.

## 08 – (EsPCEEx/2019)

“O deslocamento de pessoas entre países, regiões, cidades etc. é um fenômeno antigo, amplo e complexo, pois envolve as mais variadas classes sociais, culturas e religiões”.

SENE, Eustáquio & MOREIRA, J.C. - Geografia Geral e do Brasil: Espaço Geográfico e Globalização (3). 2ª ed. S Paulo: Moderna, 2012.

Sobre os fluxos migratórios contemporâneos, considere as seguintes afirmações:

I – Em termos quantitativos, a maior parte dos deslocamentos humanos se refere à saída de migrantes dos países pobres e emergentes em direção aos desenvolvidos.

II – Na última década, a América Latina e o Caribe contribuíram com o maior contingente de emigrantes, seguidos pela África setentrional.

III – Países do Oriente Médio, como Catar, Emirados Árabes Unidos, Arábia Saudita e Kuwait recebem muitos migrantes oriundos do sul da Ásia (Paquistão, Índia e Filipinas).

IV – A “drenagem de cérebros” é um grande problema para os países de origem desses fluxos, pois afeta a sua capacidade tecnológica, comprometendo o seu desenvolvimento.

Assinale a alternativa que apresenta todas as afirmativas corretas, dentre as listadas acima.

[A] I e II

[B] I e III

[C] II e III

[D] II e IV

[E] III e IV

## 08 – (EsPCEEx/2019)

“O deslocamento de pessoas entre países, regiões, cidades etc. é um fenômeno antigo, amplo e complexo, pois envolve as mais variadas classes sociais, culturas e religiões”.

SENE, Eustáquio & MOREIRA, J.C. - Geografia Geral e do Brasil: Espaço Geográfico e Globalização (3). 2ª ed. S Paulo: Moderna, 2012.

Sobre os fluxos migratórios contemporâneos, considere as seguintes afirmações:

I – Em termos quantitativos, a maior parte dos deslocamentos humanos se refere à saída de migrantes dos países pobres e emergentes em direção aos desenvolvidos.

II – Na última década, a América Latina e o Caribe contribuíram com o maior contingente de emigrantes, seguidos pela África setentrional.

III – Países do Oriente Médio, como Catar, Emirados Árabes Unidos, Arábia Saudita e Kuwait recebem muitos migrantes oriundos do sul da Ásia (Paquistão, Índia e Filipinas).

IV – A “drenagem de cérebros” é um grande problema para os países de origem desses fluxos, pois afeta a sua capacidade tecnológica, comprometendo o seu desenvolvimento.

Assinale a alternativa que apresenta todas as afirmativas corretas, dentre as listadas acima.

[A] I e II

[B] I e III

[C] II e III

[D] II e IV

**[E] III e IV**



Sabe-se que o número de pessoas vivendo fora de seu estado de origem é crescente no Brasil e que o principal objetivo do deslocamento dessas pessoas é a busca de trabalho e, conseqüentemente, melhores condições de vida. Sendo assim, sobre os principais fluxos migratórios inter-regionais brasileiros ocorridos, pode-se afirmar que, entre os anos de

- (A) 1930 e 1940, deram-se do Nordeste para o Sudeste, em função da decadência econômica daquela região, agravada pela falta de projetos que atendessem as populações oriundas de áreas mais pobres, como as do semiárido.
- (B) 1950 a 1970, ocorreram grandes deslocamentos de trabalhadores das regiões metropolitanas de São Paulo e Rio de Janeiro para a Amazônia Ocidental, atraídos pelo garimpo de ouro e diamante, amplamente subsidiados pelo governo federal.
- (C) 1970 a 1990, verificou-se um crescimento populacional expressivo no Sul, especialmente por parte daquela população proveniente do Nordeste, a qual passou a se fixar em pequenas propriedades, produzindo gêneros de subsistência.
- (D) 1900 a 1920, presenciou-se no Centro-Oeste forte participação de grupos provenientes do Norte, os quais se dedicaram às atividades ligadas à pecuária intensiva e ao cultivo da soja, cuja produção estaria voltada para o consumo interno do país.
- (E) 1990 a 2000, deu-se do Sul para o Sudeste, especialmente para as atividades ligadas ao cultivo de cana-de-açúcar, uma vez que essa cultura agrícola necessita de grande número de trabalhadores especializados para a execução do seu plantio.

Sabe-se que o número de pessoas vivendo fora de seu estado de origem é crescente no Brasil e que o principal objetivo do deslocamento dessas pessoas é a busca de trabalho e, conseqüentemente, melhores condições de vida. Sendo assim, sobre os principais fluxos migratórios inter-regionais brasileiros ocorridos, pode-se afirmar que, entre os anos de

- 1930 e 1940, deram-se do Nordeste para o Sudeste, em função da decadência econômica daquela região, agravada pela falta de projetos que atendessem as populações oriundas de áreas mais pobres, como as do semiárido.
- (B) 1950 a 1970, ocorreram grandes deslocamentos de trabalhadores das regiões metropolitanas de São Paulo e Rio de Janeiro para a Amazônia Ocidental, atraídos pelo garimpo de ouro e diamante, amplamente subsidiados pelo governo federal.
- (C) 1970 a 1990, verificou-se um crescimento populacional expressivo no Sul, especialmente por parte daquela população proveniente do Nordeste, a qual passou a se fixar em pequenas propriedades, produzindo gêneros de subsistência.
- (D) 1900 a 1920, presenciou-se no Centro-Oeste forte participação de grupos provenientes do Norte, os quais se dedicaram às atividades ligadas à pecuária intensiva e ao cultivo da soja, cuja produção estaria voltada para o consumo interno do país.
- (E) 1990 a 2000, deu-se do Sul para o Sudeste, especialmente para as atividades ligadas ao cultivo de cana-de-açúcar, uma vez que essa cultura agrícola necessita de grande número de trabalhadores especializados para a execução do seu plantio.



# POPULAÇÃO DO BRASIL

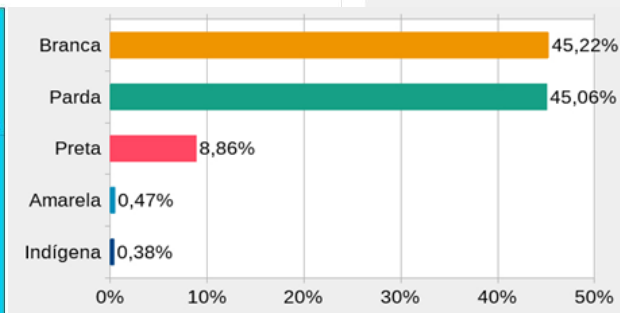
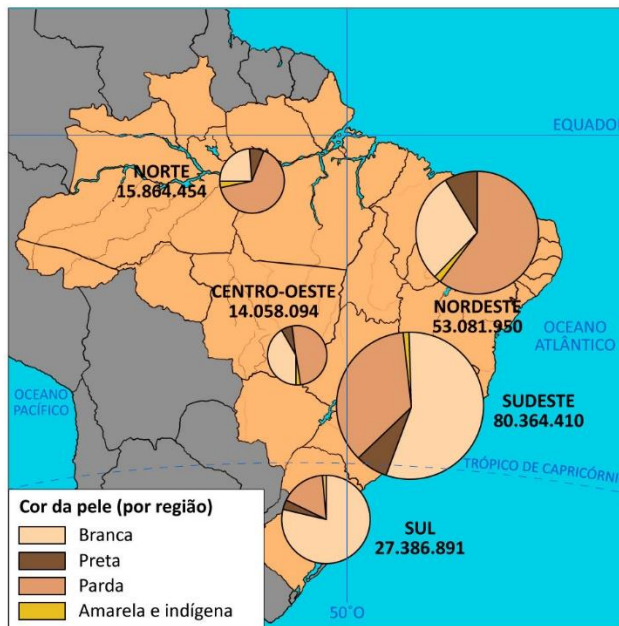
*Sétima Parte*



prof.sauloteruotakami

# Composição Étnica

- Indígena
- Regime Escravocrata
- Imigrantes
- Miscigenação



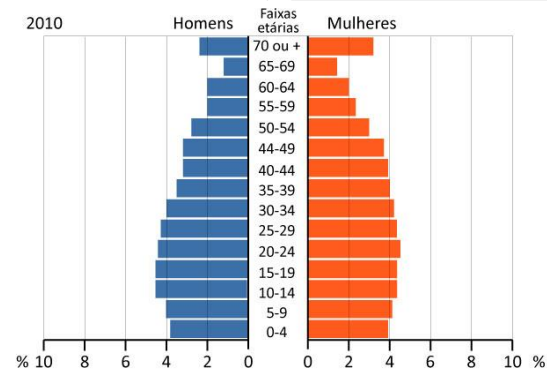
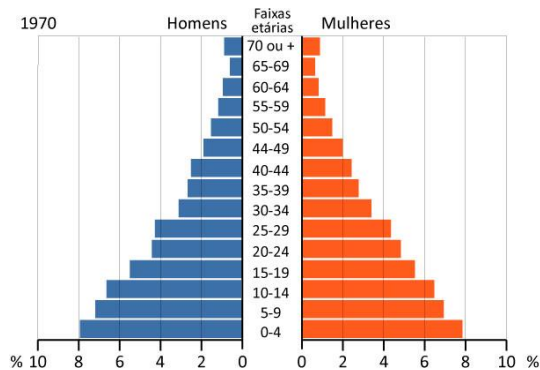
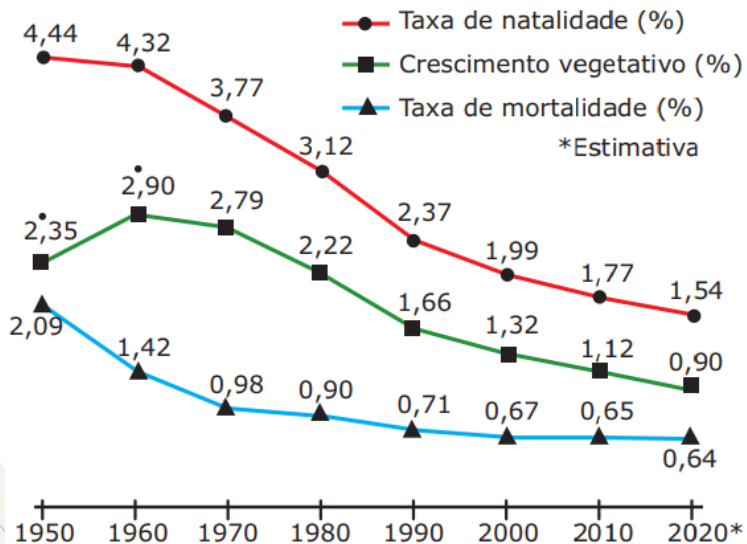
# Histórico da População

- Primeira Fase (1872-1940)
- Segunda Fase (1940-1980)
- Terceira Fase (1980-Atualmente)

# Distribuição Regional da População



# Estrutura da População



## 10 – (ESA/2014)

Sobre a atual dinâmica demográfica brasileira, assinale a afirmativa correta:

- A) O Brasil está deixando de ser um país jovem.
- B) A participação relativa dos idosos vem declinando desde a década de 1980.
- C) O crescimento vegetativo compreendido entre 1940 e 1970, não foi afetado pela redução da mortalidade.
- D) A migração é um dos fatores de maior impacto na composição atual da estrutura etária do Brasil.
- E) A Taxa de mortalidade infantil equipara-se a dos padrões do conjunto dos países desenvolvidos.



## 10 – (ESA/2014)

Sobre a atual dinâmica demográfica brasileira, assinale a afirmativa correta:

**A) O Brasil está deixando de ser um país jovem.**

B) A participação relativa dos idosos vem declinando desde a década de 1980.

C) O crescimento vegetativo compreendido entre 1940 e 1970, não foi afetado pela redução da mortalidade.

D) A migração é um dos fatores de maior impacto na composição atual da estrutura etária do Brasil.

E) A Taxa de mortalidade infantil equipara-se a dos padrões do conjunto dos países desenvolvidos.

A Característica mais marcante da população brasileira é seu alto grau de diversidade étnica. Isso é resultado da nossa história, pois recebemos povos de todos os continentes.

Com relação à diversidade étnica brasileira e ao contexto socioeconômico que a envolve, analise as afirmativas a seguir.

- I - Pela Constituição brasileira de 1988, os povos indígenas têm direito de viver em suas terras, falar sua língua e praticar livremente sua cultura, o que, na prática, os isenta de se envolverem em lutas pela demarcação de suas terras e pelo respeito aos seus direitos.
- II - Segundo o IBGE, pelo seu censo demográfico de 2010, mais da metade da população brasileira se declarou "preta" ou "parda", sendo a presença de descendentes africanos mais forte nas regiões Nordeste e Sudeste.
- III- A partir da segunda metade do século XVIII, o Brasil recebeu muitos imigrantes, sobretudo portugueses, italianos, alemães, chineses e coreanos, os quais se fixaram na Região Sul do país, pelo fato de a mesma ter facilitado a reprodução de seus costumes.
- IV - O mameluco, miscigenação entre o índio e o negro, sofreu muito com a discriminação imposta pela sociedade brasileira, a qual era majoritariamente composta por brancos, até o início do século XX.

Assinale a opção correta.

- (A) Apenas a afirmativa I é verdadeira.
- (B) Apenas a afirmativa II é verdadeira.
- (C) Apenas a afirmativa III é verdadeira.
- (D) Apenas as afirmativas II e III são verdadeiras.
- (E) Apenas as afirmativas I e IV são verdadeiras.

A Característica mais marcante da população brasileira é seu alto grau de diversidade étnica. Isso é resultado da nossa história, pois recebemos povos de todos os continentes.

Com relação à diversidade étnica brasileira e ao contexto socioeconômico que a envolve, analise as afirmativas a seguir.

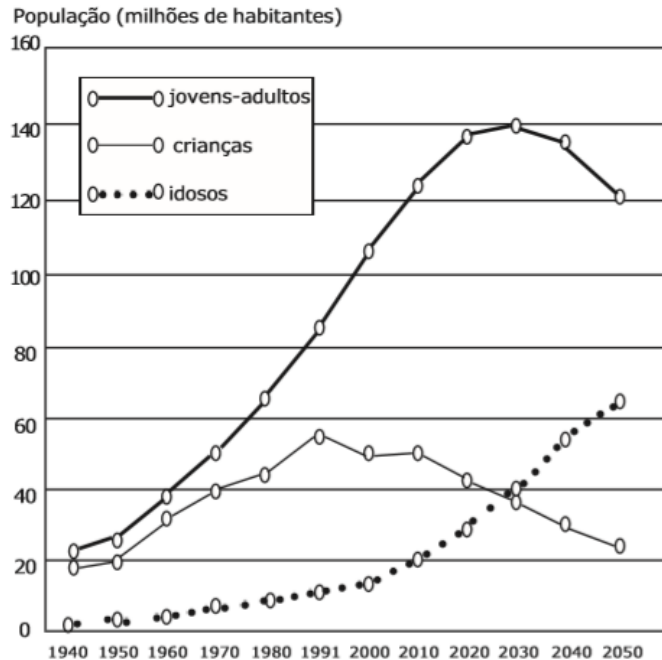
- I - Pela Constituição brasileira de 1988, os povos indígenas têm direito de viver em suas terras, falar sua língua e praticar livremente sua cultura, o que, na prática, os isenta de se envolverem em lutas pela demarcação de suas terras e pelo respeito aos seus direitos.
- II - Segundo o IBGE, pelo seu censo demográfico de 2010, mais da metade da população brasileira se declarou "preta" ou "parda", sendo a presença de descendentes africanos mais forte nas regiões Nordeste e Sudeste.
- III- A partir da segunda metade do século XVIII, o Brasil recebeu muitos imigrantes, sobretudo portugueses, italianos, alemães, chineses e coreanos, os quais se fixaram na Região Sul do país, pelo fato de a mesma ter facilitado a reprodução de seus costumes.
- IV - O mameluco, miscigenação entre o índio e o negro, sofreu muito com a discriminação imposta pela sociedade brasileira, a qual era majoritariamente composta por brancos, até o início do século XX.

Assinale a opção correta.

- (A) Apenas a afirmativa I é verdadeira.
- (B) Apenas a afirmativa II é verdadeira.
- (C) Apenas a afirmativa III é verdadeira.
- (D) Apenas as afirmativas II e III são verdadeiras.
- (E) Apenas as afirmativas I e IV são verdadeiras.

## 12 – (EsPCEx/2018)

Observe o gráfico a seguir, que mostra a evolução da participação dos grupos de idade na população brasileira no período de 1940 a 2050. Com base no gráfico e nos conhecimentos sobre a demografia brasileira, pode-se afirmar que:



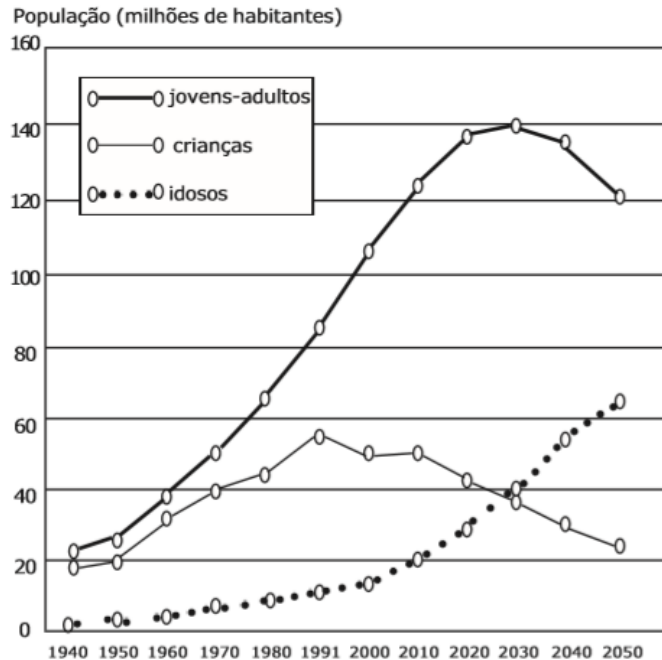
IBGE Indicadores sociodemográficos e de saúde no Brasil. Disponível em <[www.ibge.gov.br](http://www.ibge.gov.br)>. Acesso em 12 fevereiro de 2012.

- I- o aumento da participação de adultos e idosos no conjunto total da população é fruto da redução do número de óbitos.
  - II- a queda da proporção de crianças no conjunto total da população brasileira está fortemente relacionada às elevadas taxas de mortalidade infantil que assolam o País.
  - III- do ponto de vista demográfico, o Brasil vive uma fase favorável ao crescimento econômico, pois, com a redução das taxas de natalidade, houve uma redução da razão de dependência, isto é, do peso econômico das crianças e dos idosos sobre a população economicamente ativa do País.
  - IV- ao final da década de 2030, a população brasileira deverá parar de crescer e logo sofrer redução, pois o número de óbitos tenderá a ser maior do que o número de nascimentos.
  - V- a pressão demográfica observada atualmente no crescimento populacional revela a necessidade de aumento do número de vagas nas escolas e de leitos hospitalares.
- Assinale a alternativa em que todas as afirmativas estão corretas

- [A] I e III
- [B] I e II
- [C] III e IV
- [D] III e V
- [E] II, IV e V

## 12 – (EsPCEx/2018)

Observe o gráfico a seguir, que mostra a evolução da participação dos grupos de idade na população brasileira no período de 1940 a 2050. Com base no gráfico e nos conhecimentos sobre a demografia brasileira, pode-se afirmar que:



IBGE Indicadores sociodemográficos e de saúde no Brasil. Disponível em <[www.ibge.gov.br](http://www.ibge.gov.br)>. Acesso em 12 fevereiro de 2012.

- I- o aumento da participação de adultos e idosos no conjunto total da população é fruto da redução do número de óbitos.
  - II- a queda da proporção de crianças no conjunto total da população brasileira está fortemente relacionada às elevadas taxas de mortalidade infantil que assolam o País.
  - III- do ponto de vista demográfico, o Brasil vive uma fase favorável ao crescimento econômico, pois, com a redução das taxas de natalidade, houve uma redução da razão de dependência, isto é, do peso econômico das crianças e dos idosos sobre a população economicamente ativa do País.
  - IV- ao final da década de 2030, a população brasileira deverá parar de crescer e logo sofrer redução, pois o número de óbitos tenderá a ser maior do que o número de nascimentos.
  - V- a pressão demográfica observada atualmente no crescimento populacional revela a necessidade de aumento do número de vagas nas escolas e de leitos hospitalares.
- Assinale a alternativa em que todas as afirmativas estão corretas

[A] I e III

[B] I e II

[C] III e IV

[D] III e V

[E] II, IV e V



# Obrigado



[prof.sauloteruotakami](https://www.instagram.com/prof.sauloteruotakami)



# Estratégia

Militares